



MINISTÉRIO DO DESENVOLVIMENTO, INDÚSTRIA E COMÉRCIO EXTERIOR
INSTITUTO NACIONAL DE METROLOGIA, NORMALIZAÇÃO
E QUALIDADE INDUSTRIAL – INMETRO
Concurso Público (Aplicação: 2/12/2001)

CARGO: ANALISTA JÚNIOR / CONTADOR

Nas questões de 1 a 45, marque, em cada uma, a única opção correta, de acordo com o respectivo comando. Na Folha de Respostas, a indicação do campo **SR** é facultativa e não contará para efeito de avaliação; servirá somente para caracterizar que o candidato desconhece a resposta correta. Use a Folha de Rascunho para as devidas marcações e, posteriormente, a **Folha de Respostas**.

LÍNGUA PORTUGUESA

Texto LP-I – questões 1 e 2

1 A revolução da informação, o fim da guerra fria — com a decorrente hegemonia de uma superpotência única — e a internacionalização da economia impuseram um novo equilíbrio de
4 forças nas relações humanas e sociais que parece jogar por terra as antigas aspirações de solidariedade e justiça distributiva entre os homens, tão presentes nos sonhos, utopias e projetos políticos nos
7 últimos dois séculos. Ao contrário: o novo modelo — cuja arrogância chegou ao extremo de considerar-se o ponto final, senão culminante, da História — promove uma brutal reconcentração
10 de renda em âmbito mundial, multiplicando a desigualdade e banalizando de maneira assustadora a perversão social.

Ari Roitman. In: **O desafio ético**. Rio de Janeiro: Garamond, 2000, p. 10 (com adaptações).

QUESTÃO 1

Assinale a opção correta a respeito do emprego das palavras e expressões do texto LP-I.

- A Pelo sentido textual, as palavras “forças” e “relações”, na linha 4, podem ser interpretadas como sinônimas.
- B A locução verbal “parece jogar” (R.4) está no singular porque empregada em função impessoal.
- C Na linha 6, o adjetivo “presentes” qualifica “homens”.
- D Na linha 7, o pronome relativo “cuja” indica que, ao seu antecedente — “novo modelo” —, é atribuída a característica introduzida por esse pronome.
- E Mantêm-se a correção gramatical e o mesmo sujeito da oração, acrescentando-se o pronome **se** às formas verbais da última oração: **multiplicando-se** e **banalizando-se**.

QUESTÃO 2

Julgue os itens a seguir, a respeito do emprego dos sinais de pontuação no texto LP-I.

- I Os travessões nas linhas 1 e 2 marcam a inserção de uma observação adicional e, por isso, podem ser substituídos por sinais de parênteses.
- II Os dois-pontos depois de “contrário” (R.7) introduzem uma enumeração; por isso, os sentidos textuais permitem a sua supressão.
- III Embora os travessões correspondam ao emprego de vírgulas, é recomendável o uso dos travessões nas linhas 7 e 9 porque a inserção que aí ocorre já inclui vírgulas.
- IV A vírgula depois de “mundial” (R.10) marca o fim de um raciocínio; por isso, admite ser substituída por ponto final.

A quantidade de itens certos é igual a

- A 0. B 1. C 2. D 3. E 4.

Texto LP-II – questões 3 e 4

1 A discussão acerca dos direitos da propriedade intelectual e da preservação do conhecimento deixou a tribuna acadêmica e invadiu a selva. Os cientistas uniram-se
4 aos líderes indígenas para reagir contra uma prática cada vez mais corriqueira entre empresas estrangeiras de biotecnologia e farmacêutica. Elas saem do Brasil com
7 amostras de plantas, frutos e animais para produzir novas drogas e encher os bolsos de dinheiro com matéria-prima nacional. Curandeiro e líder espiritual, o pajé evita sair da
10 tribo para não perder seus poderes. Na semana passada, porém, representantes indígenas decidiram reunir os pajés de vinte tribos e elaborar um banco de dados dos saberes
13 nativos.

Estratégias para aproveitar esse conhecimento são tão importantes quanto os investimentos. Dados da
16 Organização para a Cooperação e Desenvolvimento Econômico (OCDE), bloco dos países mais ricos do mundo, revelam que mais da metade da riqueza mundial
19 já advém do conhecimento e dos bens ou produtos intangíveis. O primeiro passo é valorizar a prata da casa: os cérebros brasileiros. Não importa se usam beca ou ostentam
22 um cocar na cabeça.

Darlene Menconi e Sônia Filgueiras. In: **Istoé**, 19/9/2001, p. 93-5 (com adaptações).

QUESTÃO 3

Julgue os itens subseqüentes, com relação à organização das idéias do texto LP-II.

- I De acordo com o texto, o Brasil deve valorizar os cérebros que produzem conhecimento, independentemente de escolaridade ou condição social.
- II Depreende-se do texto que os saberes nativos perdem seu valor ao saírem de seu contexto.
- III Conclui-se do texto que há, no mínimo, três tipos de fontes de riqueza.
- IV O texto sugere que a associação entre cientistas e pajés pode trazer bons resultados para a biotecnologia brasileira.
- V A OCDE vai desistir de produzir novas drogas a partir de plantas brasileiras.

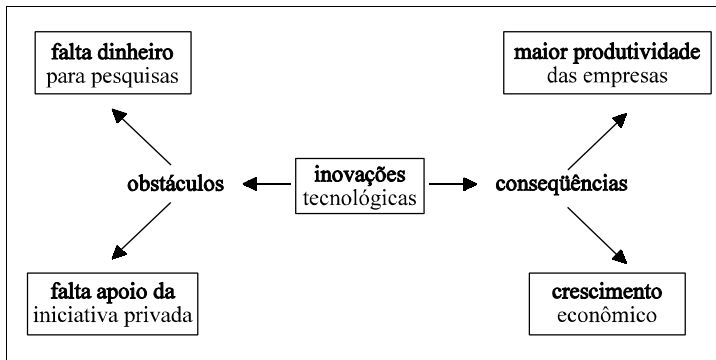
Estão certos apenas os itens

- A I, II e V. D II, III e IV.
- B I, III e IV. E II, III e V.
- C I, IV e V.

QUESTÃO 4

Assinale a opção **incorreta** com referência ao emprego das palavras e expressões no texto LP-II.

- A Mantêm-se as relações semânticas de passividade ao se substituir a forma passiva pronominal “uniram-se” (R.3) pela correspondente forma passiva analítica **foram unidos**.
- B O período “Elas saem do Brasil com amostras de plantas, frutos e animais para produzir novas drogas e encher os bolsos de dinheiro com matéria-prima nacional” (R.6-9) explicita a expressão “uma prática” (R.4).
- C A substituição da conjunção adversativa “porém” (R.11) por seu sinônimo **mas** provocaria erro na estrutura sintática.
- D As expressões “saberes nativos” (R.12-13) e “esse conhecimento” (R.14) correspondem ao mesmo referente.
- E Mantém-se a correção gramatical ao se substituir a expressão “mais da metade” (R.18) por seu equivalente semântico **mais de 50%**.

QUESTÃO 5

Assinale a opção que, em apenas um período sintático, dá redação textualmente coerente e gramaticalmente correta ao desenvolvimento e à relação de idéias sintetizadas no esquema acima, adaptado de **Istoé**, 19/9/2001, p. 94.

- A A falta de dinheiro para pesquisas, decorrente da falta de apoio por parte da iniciativa privada, tem como obstáculo que as inovações tecnológicas decorrentes da maior produtividade das empresas se acresce ao crescimento econômico.
- B Investir em inovações tecnológicas traz maior produtividade às empresas e acarreta crescimento econômico; no entanto, falta dinheiro para pesquisas e o apoio da iniciativa privada ainda não é suficiente.
- C Sem dinheiro para pesquisas, no entanto, a falta de apoio à iniciativa privada tem por obstáculos que as inovações tecnológicas são conseqüência do aumento da produtividade das empresas e do crescimento econômico.
- D Apesar da falta de dinheiro e da carência de apoio da iniciativa privada, os obstáculos são superáveis. Inovações tecnológicas têm como conseqüência crescimento econômico e — é claro — aumento da produtividade das empresas.
- E Inovações tecnológicas provocam crescimento econômico como conseqüência do aumento da produtividade das empresas. Os obstáculos, no entanto, vêm da iniciativa privada, que não têm verba.

QUESTÃO 6

- 1 O relatório da ONU é categórico: a nação que falhar no uso da tecnologia tende a ficar à margem da economia mundial. Na prática, o acesso às inovações tecnológicas
- 4 traduz-se com remédios mais eficientes, melhores meios de transporte, mais acesso à informação, aos telefones e à Internet, além da superação dos obstáculos de isolamento
- 7 social, econômico e geográfico.

Adaptado de Darlene Menconi e Sônia Filgueiras. In: **Istoé**, 19/9/2001, p. 93-5.

Para que o texto acima torne-se gramaticalmente correto e textualmente coerente, é obrigatória a substituição de

- A “a” (R.2) por **de**.
- B “Na” (R.3) por **Com**.
- C “às” (R.3) por **pelas**.
- D “com” (R.4) por **em**.
- E “dos” (R.6) por **pelos**.

QUESTÃO 7

- 1 Fiscais da Rede Nacional de Metrologia Legal estão vasculhando o comércio em todo o país em busca de produtos elétricos de baixa tensão fora das normas do
- 4 INMETRO. No Maranhão, os fiscais apreenderam mais de 1.000 produtos com irregularidades só em 30 de julho, primeiro dia da Operação Eficiência Energética.

Internet: <www.inmetro.gov.br>. Acesso em 30/7/2001 (com adaptações).

Julgue os itens que se seguem, acerca das estruturas linguísticas do texto acima.

- I Para que o texto seja coerente e respeite as regras gramaticais da norma culta, é necessário o uso do artigo definido no início da oração: **Os fiscais**.
- II A expressão “fora das normas do INMETRO” (R.3-4) qualifica uma determinada parte do conjunto de “produtos elétricos” (R.3) e a expressão “de baixa tensão” (R.3) qualifica outra parte.
- III Na linha 4, feitos os necessários ajustes de grafia e pontuação, preservam-se o sentido e a correção gramatical do texto ao se deslocar a expressão “No Maranhão” para imediatamente após “apreenderam”.
- IV Os verbos flexionados no texto estão todos no plural por se referirem ao mesmo sujeito sintático.

Estão certos apenas os itens

- A I e II.
- B I e III.
- C II e III.
- D II e IV.
- E III e IV.

Texto LP-III – questões 8 e 9

1 Para os países em desenvolvimento, como é o caso do
Brasil, reuniões ministeriais da Organização Mundial do
Comércio (OMC) são sempre cercadas de muita expectativa e boa
4 dose de otimismo. É nesse fórum, criado para arbitrar e
regulamentar as relações comerciais entre os países, que se
travam as batalhas realmente capazes de alterar a ordem mundial.

7 Nesse contexto, a nova reunião, que acontecerá entre os
dias 9 e 13 deste mês e poderá dar início a uma longa rodada
de negociações, tem como desafio corrigir erros do passado.

10 O Brasil e outros países em desenvolvimento ainda sofrem as
conseqüências da rodada anterior. Vários itens de interesse desse
grupo de países foram deixados de lado ou tratados de forma a
13 favorecer os países desenvolvidos, ávidos por ampliar seu
quinhão no comércio exterior.

Um dos pontos importantes da agenda da OMC diz
16 respeito à agricultura. Há anos, os países emergentes reivindicam
tratamento mais justo aos seus produtos de exportação. É uma
reivindicação procedente porque os itens agrícolas enfrentam
19 barreiras intransponíveis para ganhar o mercado das potências
econômicas. Estados Unidos e Europa, principalmente, resistem
a mudanças. Subsídios de forma pesada os produtores internos
22 e, assim, eliminam a capacidade competitiva das economias
carentes. Na prática, os países ricos exigem mercados abertos
para os produtos de setores nos quais são competitivos, enquanto
25 fecham as suas fronteiras aos produtos competitivos das nações
subdesenvolvidas.

Visão do Correio – A reunião da OMC. “Opinião”.
In: Correio Braziliense, 6/11/2001, p. 4 (com adaptações).

QUESTÃO 8

Considerando as relações de sentido textuais, assinale a opção cujos
períodos sintáticos indicados, se fossem ligados pela conjunção
porque, mesmo com as necessárias adaptações de grafia e pontuação,
provocariam **erro** gramatical ou desvirtuariam os sentidos do texto
LP-III.

	linha	período terminado por	período iniciado por
A	4	“otimismo”	“É”
B	11	“anterior”	“Vários”
C	16	“agricultura”	“Há”
D	17	“exportação”	“É”
E	21	“mudanças”	“Subsídios”

QUESTÃO 9

Entre as opções abaixo, assinale aquela cuja reescritura de trecho
do texto LP-III, destacada em negrito, preserva a correção
sintática e semântica do trecho original.

- A “são (...) otimismo” (R.3-4): **são sempre cercadas por boa dose de otimismo e muitas expectativas.**
- B “É nesse (...) mundial” (R.4-6): **Trava-se, nesse fórum, batalhas realmente capazes de alterar a ordem mundial, criada para arbitrar e regulamentar as relações comerciais entre países.**
- C “a nova (...) passado” (R.7-9): **a nova reunião acontecerá entre os dias 9 e 13 deste mês e poderá iniciar uma longa rodada de negociações que têm como desafio corrigir erros do passado.**
- D “Há anos (...) exportação” (R.16-17): **Fazem anos, os países emergentes reivindicam tratamento mais justo para os seus produtos de exportação.**
- E “É uma (...) econômicas” (R.17-20): **Por que os itens agrícolas enfrentando barreiras intransponíveis ganhando o mercado das potências econômicas, essa é uma reivindicação procedente.**

QUESTÃO 10

1 A operação especial coordenada pelo INMETRO em
todo o país para verificar a qualidade dos brinquedos
comercializados por ocasião do Dia da Criança acaba de
4 liberar seu balanço final. Foram fiscalizados 1.408.821
produtos e, desse total, 36.880 foi interditado ou apreendido.
A principal irregularidade foi a falta do selo de garantia
7 INMETRO. Os produtos que não apresentavam esse selo não
ofereciam condições de segurança adequadas para as crianças,
ou seja, não tinham sido previamente testados em laboratório.
10 Foram visitados 511 estabelecimentos comerciais em todos os
estados.

Internet: <www.inmetro.gov.br>. Acesso em 30/7/2001 (com adaptações).

De acordo com o Manual de Redação da Presidência da
República, todo texto oficial deve caracterizar-se por
impessoalidade, clareza, concisão, formalidade, uniformidade e
uso do padrão culto da linguagem. A respeito do trecho de
relatório acima, é correto inferir que, para o texto respeitar

- A a característica de impessoalidade, deverá ser produzido na perspectiva de primeira pessoa do plural — representada por **nós** —, não na de terceira pessoa.
- B as características de clareza e concisão, é obrigatória a transformação dos períodos sintáticos compostos por subordinação em períodos simples e orações absolutas, sem subordinação.
- C a característica de formalidade, deve-se inverter a ordem na oração das linhas 6 e 7 e usar vocábulos de língua culta: **A ausência do selo de garantia INMETRO foi a crucial irregularidade.**
- D a característica de uniformidade, é necessário escrever os números por extenso no lugar dos algarismos arábicos.
- E as regras de norma culta, deve-se reescrever o trecho “foi interditado ou apreendido” (R.5) no plural: **foram interditados ou apreendidos.**

CONHECIMENTOS ESPECÍFICOS

Texto CE-I – questões 11 e 12

Os quadros abaixo são demonstrações contábeis de uma empresa, realizadas no período compreendido entre 31/12/2000 e 31/3/2001.

balanço patrimonial (em R\$)			
ativo	31/12/2000	movimento 1.º trimestre	31/3/2001
circulante	361.500	10.000	371.500
disponibilidades	15.500	2.500	18.000
contas a receber de vendas	215.000	20.000	235.000
estoque de mercadorias	125.000	(12.000)	113.000
despesas do período seguinte	6.000	(500)	5.500
realizável a longo prazo	8.000	160	8.160
empréstimos	8.000	160	8.160
permanente	90.000	127.000	217.000
investimentos	10.000	0	10.000
imobilizado	75.000	125.000	200.000
diferido	5.000	2.000	7.000
total	459.500	137.160	596.660

balanço patrimonial (em R\$)			
passivo	31/12/2000	movimento 1.º trimestre	31/3/2001
circulante	240.300	101.800	342.100
fornecedores	120.000	12.000	132.000
pessoal e encargos a pagar	35.000	3.000	38.000
tributos a pagar	45.000	12.000	57.000
aluguéis e seguros a pagar	7.800	(1.200)	6.600
dividendos	12.500	0	12.500
empréstimos	20.000	76.000	96.000
patrimônio líquido	219.200	35.360	254.560
capital social	80.000	0	80.000
reservas de capital	40.000	0	40.000
reservas de lucros	30.000	0	30.000
lucros acumulados	69.200	35.360	104.560
total	459.500	137.160	596.660

QUESTÃO 11

Assinale a opção correta, considerando as informações do texto CE-I.

- A De 31/12/2000 a 31/3/2001 houve elevação do capital circulante líquido.
- B No primeiro trimestre de 2001, houve aumento do grau de endividamento.
- C O acréscimo na conta de empréstimos teve destinação principal para o capital de giro.
- D Caso essa empresa, que não possui item não-depreciável, tivesse orçado investir R\$ 125.000,00 no acréscimo do imobilizado, ela teria realizado a sua meta sem qualquer variação.
- E Essa empresa operou com prejuízo no primeiro trimestre de 2001.

QUESTÃO 12

Com relação às demonstrações contábeis apresentadas no texto CE-I, assinale a opção correta.

- A O balanço em apreciação é consolidado, haja vista não possuir valor de participação acionária relevante.
- B O índice de liquidez geral em 31/3/2001 é menor que 1,10.
- C O balanço de 31/3/2001 apresenta evidências de distribuição de lucros no primeiro trimestre de 2001.
- D O quociente de imobilização (ativo permanente) do capital próprio passou de 0,41 para 0,85 de 31/12/2000 a 31/3/2001.
- E Pelos saldos das contas no passivo, pode-se concluir que o balanço foi preparado no regime de caixa.

RASCUNHO

QUESTÃO 13

Acerca de consolidação de demonstrações contábeis, assinale a opção correta.

- A Poderão ser excluídas das demonstrações contábeis consolidadas, sem prévia autorização da CVM, as sociedades controladas com efetivas e claras evidências de perda de continuidade e cujo patrimônio seja avaliado, ou não, a valores de liquidação.
- B No balanço patrimonial consolidado, o valor contábil do investimento na sociedade controlada excluída da consolidação deverá ser avaliado pelo método de custo.
- C Nas demonstrações contábeis consolidadas, será também considerada justificável a exclusão de sociedade controlada cujas operações sejam de natureza diversa das operações da investidora ou das demais controladas.
- D Para a elaboração das demonstrações contábeis consolidadas, a investidora deverá excluir os saldos de quaisquer contas ativas e passivas, decorrentes de transações entre as sociedades excluídas na consolidação.
- E No processo de consolidação das demonstrações contábeis, poderá ser efetuada a compensação de quaisquer ativos ou passivos pela dedução de outros passivos ou ativos, mesmo que não exista direito de compensação.

QUESTÃO 14

A respeito de fusão, incorporação e cisão de empresas e equivalência patrimonial, assinale a opção correta.

- A Incorporação é a operação pela qual se unem duas ou mais sociedades para formar sociedade nova, que lhes sucederá em todos os direitos e obrigações.
- B Fusão é a operação pela qual uma ou mais sociedades são absorvidas por outra, que lhe sucede em todos os direitos e obrigações.
- C Cisão é a operação pela qual a companhia transfere parcelas do seu patrimônio para uma ou mais sociedades, constituídas para esse fim ou já existentes, extinguindo-se a companhia cindida, se houver versão de todo o seu patrimônio, ou dividindo-se o seu capital, se parcial a versão.
- D Consideram-se coligadas apenas as sociedades quando uma participa com 20% ou mais do capital social da outra, sem controlá-la.
- E Considera-se relevante o investimento somente quando o valor contábil do investimento em cada coligada for igual ou superior a 20% do patrimônio líquido da investidora.

QUESTÃO 15

Com referência ao PIS/PASEP, COFINS, IRRF, imposto de renda das pessoas jurídicas e contribuição social sobre o lucro líquido, julgue os itens abaixo.

- I O PIS/PASEP e COFINS incidem sobre a receita de vendas das empresas, depois de deduzidos os valores de IPI e ICMS.
- II O IRRF sobre aplicações financeiras pago pelas empresas só pode ser utilizado para dedução do imposto devido em cada mês no exercício seguinte ao de sua retenção.
- III A provisão para devedores duvidosos contabilizada em determinado período pode ser deduzida imediatamente para fins de cálculo do lucro real, mesmo antes do reconhecimento da perda efetiva do recebível.
- IV A provisão para contingências só será dedutível na apuração do lucro real e constituirá base de cálculo da contribuição social sobre o lucro líquido no pagamento ou na liquidação do passivo.
- V O ganho de equivalência patrimonial não-operacional, por variação do percentual de participação, é uma receita não-tributável para fins de imposto de renda e contribuição social sobre o lucro líquido.

Estão certos apenas os itens

- A I e II.
- B I e IV.
- C II e III.
- D III e V.
- E IV e V.

QUESTÃO 16

empresa M	
preço de venda unitário	500,00
custos mais despesas variáveis unitários	350,00
custos mais despesas fixos mensais	600.000,00

Com relação a custos, ponto de equilíbrio, alavancagem operacional e considerando o quadro acima, julgue os itens a seguir.

- I No caso da empresa M, o seu ponto de equilíbrio encontra-se entre 2.000 e 3.000 unidades mensais.
- II De acordo com o conceito de custo, volume e lucro, a empresa maximizará o seu lucro aproveitando ao máximo os custos fixos, ou seja, aproveitando da melhor forma a capacidade instalada.
- III Depois de atingir o ponto de equilíbrio, o lucro antes dos tributos sobre o resultado crescerá na proporção da margem de contribuição de cada unidade extra vendida.
- IV A alavancagem operacional aumenta na medida em que diminui a margem de contribuição unitária da companhia e reduz a capacidade instalada.
- V O conceito de ponto de equilíbrio econômico é igual ao contábil quando o capital aplicado no negócio for muito expressivo.

Estão certos apenas os itens

- A I e II.
- B I e V.
- C II e III.
- D III e IV.
- E IV e V.

RASCUNHO

QUESTÃO 17

A respeito de contabilidade, assinale a opção correta.

- A De acordo com a Lei das S.A., os estoques devem ser avaliados pelo custo ou mercado, dos dois o menor.
- B Será objeto de ressalva por parte do auditor independente, em seu parecer, a classificação inadequada de determinado bem em estoque, quando deveria ser imobilizado, mesmo que o valor seja imaterial.
- C A importação de mercadorias para revenda, com pagamento antecipado, será registrada em despesas do período seguinte, até a chegada no porto, desembaraço e entrega na empresa, quando o valor correspondente deverá ser transferido para a conta de estoque.
- D Em um período inflacionário, a receita financeira real só será conhecida após a adição do ganho com a inflação sobre o valor do ativo financeiro que produziu a receita.
- E Em uma operação de *leasing* operacional, o bem objeto do arrendamento deve ser contabilizado no ativo imobilizado pela empresa arrendatária.

QUESTÃO 18

Julgue os itens que se seguem.

- I Na conversão de demonstrações contábeis para moeda estrangeira, em período de inflação elevada (maior que 100% nos últimos três anos) o reconhecimento de perdas na conversão tende a aumentar na medida em que se eleva o valor dos ativos monetários em relação aos passivos monetários.
- II Na conversão de demonstrações contábeis para moeda estrangeira, se os registros da companhia não são mantidos em uma moeda funcional, eles precisam ser convertidos para uma moeda funcional antes do processo de tradução para moeda estrangeira.
- III De acordo com as normas do FASB, a demonstração de fluxo de recursos utilizada nos Estados Unidos da América é a demonstração do fluxo de caixa, enquanto no Brasil ainda se utiliza a demonstração das origens e aplicações de recursos.
- IV Em uma operação de *joint venture* que implique o controle conjunto de uma empresa por duas empresas, sendo uma nacional e outra estrangeira, cada uma deve ter 50% do capital votante da controlada em conjunto.
- V Na emissão pública de títulos de dívida ou de capital, para captação de poupança pública, por uma empresa, não é requerido registro da operação junto à Comissão de Valores Mobiliários (CVM), mas apenas junto ao Banco Central do Brasil.

A quantidade de itens certos é igual a

- A 1. B 2. C 3. D 4. E 5.

QUESTÃO 19

Acerca das regras que balizam a organização do plano de contas único para os órgãos da administração direta, assinale a opção **incorreta**.

- A As contas do ativo circulante são aquelas que serão transformadas em dinheiro até o término do exercício social subsequente.
- B As contas de receitas de exercícios futuros são classificadas como resultado de exercícios futuros, desconsiderados os custos e as despesas a elas correspondentes, que serão apropriados às contas de despesa.
- C As contas de despesas representam os recursos gastos na gestão a serem computados na apuração do resultado e são registradas no momento de sua liquidação.
- D O resultado diminutivo do exercício é composto pelas contas representativas das variações patrimoniais negativas, resultantes ou independentes da execução orçamentária, a serem consideradas na apuração do resultado.
- E A conta de resultado apurado é uma conta transitória utilizada no encerramento do exercício, para onde são transferidas todas as receitas e despesas a serem confrontadas, apurando-se o resultado patrimonial do exercício.

QUESTÃO 20

Na contabilidade pública do governo federal, os lançamentos não são determinados pelos operadores: estes devem escolher o evento apropriado à operação que se está realizando em uma tabela, à qual está associado o respectivo roteiro contábil, incluindo todos os lançamentos a serem realizados nas unidades envolvidas. A tabela de eventos é organizada consoante as etapas da execução orçamentária e financeira do governo federal. Assim, no INMETRO, para se efetuar a apropriação de um direito, deve-se utilizar um evento da classe

- A 20. C 40. E 60.
B 30. D 50.

QUESTÃO 21

No âmbito de auditoria realizada pelo órgão de controle interno, um servidor foi encarregado de realizar o inventário da unidade gestora em que ele trabalha. Em face dessa situação, assinale a opção correta.

- A A incumbência atribuída ao servidor é denominada inventário inicial.
- B O inventário mencionado só pode ser demandado pelo controle interno quando da mudança do dirigente da unidade gestora.
- C Por tratar-se de inventário destinado a atender às exigências de órgão fiscalizador, os bens móveis deverão ser agrupados segundo as categorias patrimoniais constantes do plano de contas único.
- D Caso não se conheça o valor de aquisição ou o custo de produção de determinado bem móvel, este deverá ser avaliado tomando-se como referência o valor de outro, semelhante ou sucedâneo, no mesmo estado de conservação e a preço de mercado, diminuído do valor dos tributos que sobre ele incidam direta ou indiretamente.
- E Esse tipo de inventário só pode ser solicitado pelo controle interno para colaboração com trabalho desenvolvido por órgão de controle externo.

QUESTÃO 22

Constitui operação típica da administração pública que envolve lançamentos em todos os quatro sistemas da contabilidade pública (financeiro, patrimonial, orçamentário e de compensação) o(a)

- A apropriação de despesas com a aquisição de material de consumo vinculada a contrato.
- B realização da receita própria de serviços.
- C recebimento da receita da dívida ativa.
- D apropriação de despesas com a aquisição de serviços vinculada a contrato.
- E inscrição de restos a pagar.

QUESTÃO 23

No setor público, o resultado do orçamento corrente e o resultado financeiro são apurados, respectivamente,

- A na demonstração das variações patrimoniais e no balanço patrimonial.
- B no balanço financeiro e na demonstração das variações patrimoniais.
- C nos balanços financeiro e patrimonial.
- D nos balanços orçamentário e financeiro.
- E nos balanços orçamentário e patrimonial.

QUESTÃO 24

A auditoria operacional, consoante a Secretaria Federal de Controle Interno, consiste em avaliar as ações gerenciais e os procedimentos relacionados ao processo operacional, ou parte dele, dos órgãos ou entidades da administração pública federal, programas de governo, atividades, ou segmentos destes, com a finalidade de emitir uma opinião acerca da gestão quanto aos aspectos da eficiência, eficácia, economicidade, efetividade e qualidade, procurando auxiliar a administração na gerência e nos resultados, por meio de recomendações que visem aprimorar os procedimentos, melhorar os controles e aumentar a responsabilidade gerencial. Os objetivos desse gênero de auditoria incluem a

- I comprovação de conformidade às diretrizes, às políticas, às estratégias e ao universo normativo.
- II melhora do desempenho e o aumento do êxito das organizações por meio de recomendações oportunas e factíveis.
- III identificação de procedimentos desnecessários ou em duplicidade e a recomendação para a sua correção.
- IV avaliação do desempenho operacional da organização auditada sob os parâmetros da eficiência, da eficácia e da efetividade.

A quantidade de itens certos é igual a

- A 0. B 1. C 2. D 3. E 4.

QUESTÃO 25

Determinado órgão público pretende solicitar ao seu controle interno auditoria com a finalidade de atuar em tempo real sobre os atos efetivos e os efeitos potenciais positivos e negativos de sua atuação, evidenciando melhorias e economias existentes no processo ou prevenindo gargalos no desempenho da sua missão institucional. Nessa situação, de acordo com a Instrução Normativa n.º 1/2001, que define diretrizes, princípios, conceitos e aprova normas técnicas para atuação do sistema de controle interno do Poder Executivo federal, a auditoria pretendida é classificada como auditoria

- A de avaliação da gestão.
- B de acompanhamento da gestão.
- C contábil.
- D operacional.
- E especial.

QUESTÃO 26

Recentemente, órgãos de defesa do consumidor veicularam informações na imprensa a respeito de produtos que tiveram suas embalagens modificadas, com uma diminuição do conteúdo líquido, o que disfarçaria um aumento de preços.

Ao realizar essa prática, uma fábrica que vendia sabão em pó em caixas de 1.000 g do produto passou a vender, pelo mesmo preço, caixas de 900 g em substituição àquelas. Nessa situação, o aumento nominal no preço do quilograma de sabão em pó dessa fábrica foi

- A inferior a 9%.
- B superior a 9% e inferior a 9,5%.
- C superior a 9,5% e inferior a 10,5%.
- D superior a 10,5% e inferior a 11,5%.
- E superior a 11,5%.

QUESTÃO 27

Com o objetivo de obter um aumento no preço de seu produto superior à inflação do período, uma fábrica que vendia biscoitos de chocolate em embalagens de 200 g substituiu essas embalagens por outras de 180 g, e passou a vender o produto com redução de 4% do preço original. Assumindo que a taxa de inflação do período tenha sido constante e igual a 0,5% ao mês, ao final do primeiro mês do início dessa prática, o aumento real no preço do quilograma desse produto foi

- A inferior a 5%.
- B superior a 5% e inferior a 6%.
- C superior a 6% e inferior a 7%.
- D superior a 7% e inferior a 8%.
- E superior a 8%.

Texto CE-II – questões de 28 a 30

Um banco oferece aos seus clientes uma opção de investimento em um fundo conservador cujo objetivo é superar o desempenho de uma carteira teórica composta por 90% em depósito interfinanceiro (DI) e 10% em IBOVESPA. Algumas das características básicas desse fundo são:

- Ø imposto de renda (IR) de 20% sobre os rendimentos, descontados no ato do resgate, anteriormente à incidência de qualquer outro imposto;
- Û os cálculos de rentabilidade mensal do fundo são realizados na forma de juros compostos;
- Ú a data-base de cálculo da rentabilidade mensal do fundo é sempre o 1.º dia útil de cada mês;
- Ũ a rentabilidade desse fundo e da carteira teórica em vários períodos é mostrada na tabela abaixo, que foi divulgada no 1.º dia útil de outubro de 2001.

	julho	agosto	setembro	últimos 12 meses	2001
fundo conservador	0,69%	0,77%	! 0,44%	7,45%	5,27%
carteira teórica	0,81%	! 0,58%	! 0,59%	9,28%	7,58%

Os valores contidos nessa tabela representam rendimentos líquidos após deduzida a taxa de administração, não considerando movimentações (aplicações e resgates) efetuadas nem despesas com impostos.

QUESTÃO 28

Com base no texto CE-II, considere que um investidor tenha aplicado R\$ 1.000,00 no fundo conservador e uma quantia igual na carteira teórica no 1.º dia útil de julho de 2001. Nessas condições, assinale a opção correta a respeito da rentabilidade acumulada nos meses de julho e agosto de 2001.

- A A rentabilidade da carteira foi superior à do fundo.
- B A rentabilidade do fundo foi superior a R\$ 14,40.
- C A rentabilidade do fundo foi inferior a R\$ 6,90.
- D A rentabilidade da carteira foi superior a R\$ 8,10.
- E A rentabilidade da carteira foi negativa, gerando prejuízo para o investidor.

QUESTÃO 29

A taxa trimestral relativa ao período de julho a setembro de 2001 equivalente às taxas de rendimento do fundo de investimento conservador descrito no texto CE-II é igual a

- A $1,0069 \times 1,0077 \times 0,9956$! 1.
- B $1,0069 \times 1,0077 \times 1,0044$! 1.
- C $1,0069 \times 1,0077 \times (! 1,0044)$! 1.
- D $0,69 \times 0,77 \times 0,56$.
- E $0,69 \times 0,77 \times (! 0,44)$.

QUESTÃO 30

Ainda com base no texto CE-II, caso um cliente tenha investido R\$ 1.000,00 no fundo conservador, no 1.º dia útil de outubro de 2000, e tenha resgatado todo o montante ao completar 12 meses de rentabilidade, considerando que a contribuição provisória sobre movimentação financeira (CPMF) de 0,38% seja cobrada sobre o valor total a ser resgatado, então, em reais, a quantia resgatada foi igual a

- A $[1.074,50 \times 0,80] \times (1 ! 0,0038)$.
- B $1.000,00 + (74,50 \times 0,80) \times (1 ! 0,0038)$.
- C $(1.000,00 + 74,50) \times 0,80 \times (1 ! 0,0038)$.
- D $(1.000,00 + 74,50) \times (1 ! 0,0038)$.
- E $[1.000,00 + 74,50 \times 0,80] \times (1 ! 0,0038)$.

RASCUNHO

CONHECIMENTOS GERAIS

QUESTÃO 31

Além de defender a criação do Estado palestino e de apelar por uma “globalização solidária”, o presidente Fernando Henrique Cardoso enfatizou, em seu discurso pronunciado na abertura da 56.^a Assembléia Geral da Organização das Nações Unidas (ONU), a necessidade de mudança no Conselho de Segurança da ONU, que “não pode continuar a refletir o arranjo entre os vencedores de um conflito ocorrido há mais de 50 anos”. A propósito desses temas abordados pelo dirigente brasileiro, assinale a opção **incorreta**.

- A A criação do Estado palestino é idéia antiga, presente na resolução da ONU que determinou a partilha da região em dois Estados; entretanto, apenas o de Israel materializou-se, enquanto os palestinos ainda lutam pela autonomia e soberania no âmbito de um território que lhes pertença.
- B A questão palestina permanece sendo o grande elemento desestabilizador no Oriente Médio: os analistas concordam ser impossível a paz na região enquanto a existência de Israel for contestada e a do Estado palestino não se concretizar.
- C Ao situar a criação e a atuação do Conselho de Segurança da ONU no contexto histórico engendrado ao fim da Segunda Guerra Mundial, o presidente brasileiro critica a manutenção de sua estrutura na atualidade, tendo em vista a profunda transformação pela qual passou a ordem internacional.
- D Defender uma “globalização solidária”, como fez Fernando Henrique na ONU, significa, entre muitas outras possibilidades de interpretação, uma espécie de endosso ao chamado “espírito de Seattle”, ou seja, ao crescente movimento internacional que contesta os rumos da economia mundializada em padrões visivelmente assimétricos.
- E O Conselho de Segurança da ONU é formado por quinze Estados, eleitos a cada dois anos, sem qualquer distinção entre eles; o direito de veto existiu enquanto o Conselho contava com cinco países permanentes — China, Estados Unidos da América (EUA), Rússia, França e Reino Unido —, o que não mais ocorre desde o fim da União das Repúblicas Socialistas Soviéticas.

QUESTÃO 32

No último mês de outubro, a maior metrópole chinesa, Xangai, sediou o encontro da *Pacific Economic Cooperation* (APEC). Foi a mais importante reunião de estadistas em território chinês desde a revolução socialista de 1949. Relativamente à estratégica presença chinesa no mundo atual e ao sentido de uma reunião como essa, assinale a opção correta.

- A A APEC é uma associação de 21 países dedicada à cooperação econômica na região em que se insere (Ásia-Pacífico), identificada com o modelo atual da economia mundial, fortemente marcado pela atuação de blocos regionais.
- B O terrorismo não chegou a ser discutido na reunião, cujo temário era fundamentalmente econômico, mesmo porque o continente asiático é o único que ainda se mantém imune à ação de grupos terroristas.
- C Na área da APEC, destacam-se quatro países — China, Rússia, Paquistão e Índia —, embora os dois últimos, desprovidos de armas nucleares, despontem apenas pela dimensão do território e pela gigantesca população.
- D Embora com interesses no Pacífico, os EUA optaram pelo NAFTA e pela intenção de concretizar a ALCA, ambas no continente americano, razão pela qual não integram a APEC nem participaram da reunião de Xangai.
- E Ao contrário do que previam os observadores internacionais, a China retrocede a olhos vistos na abertura de sua economia, nela reduzindo a participação da iniciativa privada, desiste de integrar a Organização Mundial de Comércio (OMC) e opta pelo isolacionismo.

QUESTÃO 33

Situado na Ásia Central, com uma cultura multissecular, o Afeganistão ganhou as manchetes mundiais nos últimos tempos. Inicialmente, com a presença de tropas soviéticas em seu território; na atualidade, em função dos ataques da coalizão antiterror liderada pelos EUA. No momento em que o regime talibã se vê acuado militarmente, pela ação externa e de seus opositores internos, o país caminha para a reconstrução, o que implica um governo de transição. A respeito do quadro geral afegão, assinale a opção correta.

- A A preservação da “multissecular cultura afegã” somente foi possível pela homogeneidade étnica e religiosa do país, além dos princípios democráticos — aos moldes ocidentais — que conduziram sua história.
- B O regime talibã, conhecido pela violência, também se notabilizou pela absoluta intolerância com que tratou de garantir, segundo suas concepções, a “pureza” cultural do Afeganistão. Exemplo disso, que chocou a opinião pública mundial, foi a destruição de imensas esculturas de Buda existentes no país.
- C A Aliança do Norte é um grupo que se opõe ao Talibã e, após os atentados de 11 de setembro, recebeu apoio maciço dos EUA; diferentemente dos fundamentalistas talibãs, a Aliança é reconhecida por seus métodos pacíficos e por sua identificação com o regime democrático.
- D Os atuais ataques ao Afeganistão, liderados pelos EUA e apoiados pela União Européia, com a significativa exceção do Reino Unido, foram decididos a partir do momento em que o governo do Paquistão reconheceu sua incapacidade de, sozinho, derrotar as milícias talibãs.
- E Independentemente da opinião que se tenha a respeito do presidente George W. Bush, forçoso é reconhecer como politicamente corajosa sua decisão de determinar o ataque ao Afeganistão, quando a opinião pública norte-americana era frontalmente contrária a qualquer tipo de revide aos atos terroristas que atingiram seu país.

QUESTÃO 34

Desenvolvimento sustentável, meio ambiente, biodiversidade, ciência e tecnologia são expressões que se vão tornando cada vez mais comuns no mundo contemporâneo. Esses temas refletem o grau de desenvolvimento a que se chegou e, simultaneamente, preocupações com o futuro da vida no planeta, suscitadas pelos efeitos que a exploração desordenada e irracional dos recursos disponíveis na natureza podem ocasionar. Em relação a esse quadro complexo, julgue os itens que se seguem.

- I A emissão desenfreada de gases causadores do efeito estufa na atmosfera pode acarretar mudanças climáticas globais de grande magnitude, como o aumento da temperatura, além de alterações nos padrões de chuva e na distribuição de extremos climáticos, como secas e inundações.
- II Pelo nível de conhecimento hoje existente, pode-se supor ser provável que a intensificação da variação do clima, associada a fenômenos como El Niño e La Niña, decorra do aumento do efeito estufa.
- III Os movimentos ecológicos tidos como radicais, que defendem a intocabilidade da Amazônia, sentem-se com fôlego redobrado com a recente confirmação científica de que a Floresta Amazônica é o “pulmão do mundo”, responsável por mais da metade do oxigênio na Terra.
- IV No Brasil, a pesquisa científica, geradora de novos processos tecnológicos, é majoritariamente feita por instituições públicas; exemplos significativos de vitória do país nesse setor são encontrados na agricultura tropical (EMBRAPA) e na exploração de petróleo em águas profundas (PETROBRAS).
- V Entendendo o termo biodiversidade como a existência, em dada região, de uma grande variedade de espécies, ou de outras categorias taxonômicas, de plantas ou de animais, conclui-se que a Floresta Amazônica é a região de maior diversidade biológica do planeta.

A quantidade de itens certos é igual a

- A 1. B 2. C 3. D 4. E 5.

QUESTÃO 35

A Constituição de 1988 é o marco jurídico da redemocratização brasileira, após duas décadas de regime militar. Fruto de processo constituinte, ela esmerou-se na valorização da cidadania e, nesse sentido, seus primeiros artigos voltam-se para a definição dos direitos sociais e individuais. O espírito que norteou sua elaboração e promulgação também se manifesta na legislação que se seguiu, a exemplo daquela destinada à proteção da infância e do consumidor. Com relação aos direitos consagrados pelas normas legais brasileiras, assinale a opção **incorreta**.

- A A casa é asilo inviolável do indivíduo, ninguém nela podendo penetrar sem consentimento do morador, salvo em determinadas situações.
- B Haverá igualdade de direitos e obrigações entre homens e mulheres.
- C Não se admite censura à expressão da atividade intelectual, artística, científica e de comunicação, mesmo que se trate de propaganda enganosa.
- D É garantido o sigilo da correspondência e das comunicações telegráficas, de dados e telefônicas, que só poderá ser quebrado por decisão judicial.
- E É inviolável a liberdade de consciência e de crença, assegurando-se o livre exercício de cultos religiosos.

LÍNGUA INGLESA**Text LI – questions 36 to 40**

1 Brazil announces measures to control imports: in the middle of another record monthly trade deficit (US\$801 million in September), Brazil announced a series of measures aimed at
4 curbing imports late last month. Most of the measures will enter into effect this month pending small adjustments and final coordination among the ministries and agencies involved
7 (Ministry of Finance; Ministry of Commerce, Industry and Tourism; Ministry of Agriculture; Ministry of Health; and the Internal Revenue Service). The extra workload will pose
10 additional challenges to an already stretched customs bureaucracy. Most of these measures, however, are not new. Brazil just never enforced them. The distinction may be
13 relevant, as the International Monetary Fund (IMF) would likely react negatively if Brazil decided to impose new non-tariff barriers while the IMF is negotiating a financial
16 package with Brazil.

The main measures are:

- Certificate of quality: all imported goods will be
19 subject to the same quality standards that are applied to Brazilian products as established by the Brazilian Standards Institute INMETRO. As there has been a surge in low quality
22 imports that compete with Brazilian products, the government has decided to first ensure compliance¹ by all products that currently must undergo quality certification under INMETRO
25 guidelines.

- Antidumping measures: the antidumping² process has been streamlined³. It will now take 15 days (before was 30)
28 to begin an investigation. Safeguard measures may be applied as early as 60 days after the beginning of the investigation, instead of 90 to 120 days as before.

- Rules of origin: if Brazil initiates an antidumping case against a certain product from a certain country, imports of this product from any country can only enter Brazil
34 accompanied by a certificate of origin. The goal is to prohibit countries under investigation from exporting to Brazil through an intermediate country.

¹ **compliance** – obedience

² **dump** – sell abroad at a very low price goods that are not wanted in the home market

³ **streamline** – make more efficient and effective

Internet: <<http://www.brazilcouncil.org/memberarea/periodicalview2.asp?ID=15>>. (with adaptations).

QUESTÃO 36

Based on text LI, choose the **incorrect** option.

- A Imports demand further controls in Brazil.
- B In September, Brazilian monthly trade deficit was superior to any other previous one.
- C All the announced measures to control imports are old measures that were never enforced.
- D In September, the Brazilian monthly trade deficit was greater than half a million dollars.
- E Small adjustments in the measures announced are yet to be made.

QUESTÃO 37

According to text LI, it can be concluded that

- A six ministries will be involved in the coordination of the new measures implementation.
- B Brazilian bureaucracy can easily deal with the new measures.
- C hundreds of measures had already been put into force last year.
- D Brazil is currently seeking financial aid from abroad.
- E the IMF will be pleased with Brazilian new measures.

QUESTÃO 38

From text LI, it can be deduced that

- I new non-tariff barriers imposed by Brazil may affect IMF financial loan.
- II quality standards will no longer be considered as far as imported products are concerned.
- III before the introduction of the certificate of quality, imported goods did not have to be tested for the same quality standards as Brazilian products.
- IV imported products are far superior to Brazilian goods.
- V low quality imports will now be able to compete with Brazilian products.

The only true items are

- A I and II.
- B I and III.
- C II and IV.
- D III and V.
- E IV and V.

QUESTÃO 39

From text LI, it can be inferred that

- A if there is a case against an imported product from a certain country, this product cannot at all enter Brazil, regardless of its origin.
- B countries under investigation will be allowed to export to Brazil through an intermediate country.
- C safeguard measures used to take more than four months to be applied.
- D beginning an antidumping investigation process used to take two months.
- E antidumping measures have been made quicker.

QUESTÃO 40

In text LI,

- I “curbing” (R.4) can be correctly replaced by **controlling**.
- II “pose” (R.9) means **present**.
- III “however” (R.11) is synonymous with **forever**.
- IV “ensure” (R.23) can be correctly replaced by **beg**.
- V “as early as” (R.29) means **whenever**.

The only true items are

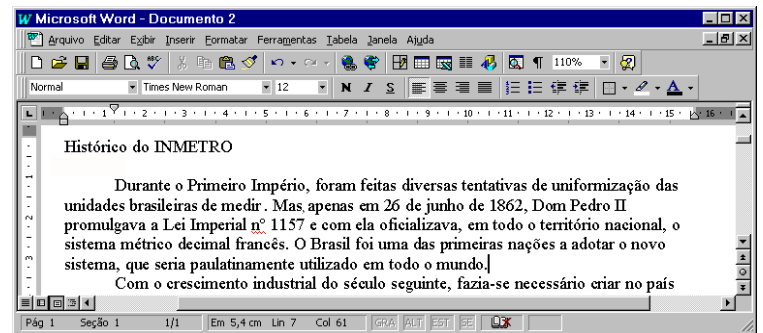
- A I and II.
- B I and V.
- C II e III.
- D III and IV.
- E IV and V.

CONHECIMENTOS DE INFORMÁTICA








Nas questões de 41 a 45, considere que todos os programas mencionados estão em configuração-padrão, em português, e que o *mouse* está configurado para pessoas destras. Assim, a menos que seja explicitamente informado o contrário, expressões como clicar, clique simples e clique duplo referem-se a cliques com o botão esquerdo do *mouse*. Considere também que não há restrições de proteção e de uso em relação aos programas, arquivos, diretórios e *hardware* mencionados.

Texto CI – questões 41 e 42

A figura a seguir mostra um fragmento de texto editado por um usuário no Word 97.






**QUESTÃO 41**

No fragmento de texto mostrado na figura do texto CI, caso o usuário selecione o trecho “Durante o Primeiro Império” e deseje copiar esse trecho para a Área de transferência, será suficiente que ele

- A clique no botão .
- B clique no botão .
- C pressione a tecla  e, mantendo-a pressionada, tecle .
- D clique no *menu*  e, em seguida, na opção Colar.
- E pressione a tecla  e, mantendo-a pressionada, tecle .

QUESTÃO 42

Ainda com referência ao texto CI e ao Word 97, julgue os itens a seguir.

- I O usuário terá aplicado negrito ao termo “INMETRO” após executar a seguinte seqüência de ações: selecionar esse termo; pressionar a tecla  e, mantendo-a pressionada, teclar ; liberar a tecla .
- II Para o usuário centralizar o título, “Histórico do INMETRO”, é suficiente que ele selecione esse título e clique uma vez em .
- III Se o ponto de inserção for posicionado imediatamente à esquerda da palavra “Durante”, e o usuário acionar duas vezes a tecla de tabulação, após essa ação, o ponto de inserção estará posicionado imediatamente à esquerda da palavra “Primeiro”.
- IV Caso o usuário deseje selecionar a palavra “Império”, ele poderá fazê-lo, aplicando um clique duplo entre duas letras quaisquer dessa palavra.
- V Para o usuário realizar a verificação ortográfica automática do texto mostrado na figura, é suficiente que ele clique em .







Estão certos apenas os itens

- A I e II.
- B I e IV.
- C II e III.
- D III e V.
- E IV e V.

QUESTÃO 43

Um técnico elaborou, no Excel 97, a planilha mostrada na figura ao lado, contendo várias medidas de tensão elétrica, realizadas por meio de um instrumento eletrônico. Devido à imprecisão do instrumento, foram feitas 5 medidas de cada tensão, que estão incluídas na planilha. Nessa situação, caso o técnico





	A	B	C	D	E	F	G
1		Tensão 1	Tensão 2	Tensão 3			
2	Medida 1	1,06	1,96	3,01			
3	Medida 2	1,05	2,04	3,10			
4	Medida 3	0,96	1,96	3,00			
5	Medida 4	1,01	2,13	2,98			
6	Medida 5	1,00	1,99	2,91			

- A deseje determinar a média aritmética das 5 medidas da tensão 1, pondo o resultado na célula B7, será suficiente que ele execute a seguinte seqüência de ações: clicar na célula B7; digitar =média(B2:B6) e, em seguida, teclar << .
- B deseje calcular a soma dos conteúdos das células B2, C2 e D2, pondo o resultado na célula E2, será suficiente que ele clique na célula E2 e, em seguida, em  .
- C deseje aumentar a largura da coluna B, será suficiente que ele execute a seguinte seqüência de ações: clicar no cabeçalho  B da coluna B e, em seguida, pressionar a tecla  .
- D deseje apagar apenas os conteúdos da linha 2, mantendo os demais dados, será suficiente que ele execute a seguinte seqüência de ações: selecionar a linha 2, clicar em  2 , e clicar em  .
- E clique na célula B2 e, em seguida, clique em  , o conteúdo dessa célula será alterado de 1,06 para 10,6.

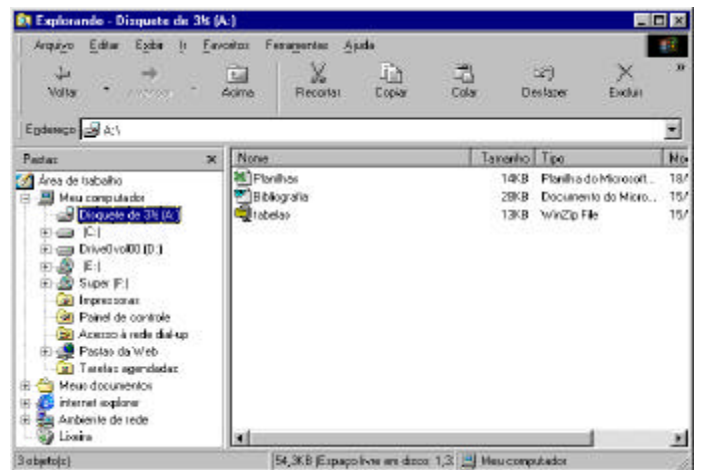
QUESTÃO 44










A figura acima mostra uma janela do Internet Explorer 5, que está sendo utilizado por um usuário para acessar um *site*. A respeito dessa figura, assinale a opção correta.

- A Caso o usuário clique no botão  Parar , o Internet Explorer 5 será fechado.
- B Caso o usuário clique no botão  Avançar , a região oculta mais à direita da página *web* atual será mostrada na tela.
- C A seqüência de caracteres “http://www.inmetro.gov.br/” é um exemplo de URL.
- D Ao clicar em **Sites de Interesse** , será aberta uma lista de *sites* favoritos do usuário, que foram anexados à lista por meio do botão  Favos .
- E Qualquer que seja o usuário, caso este clique em  Página inicial , será exibida a página principal do INMETRO.

QUESTÃO 45



A figura acima mostra uma janela do Windows Explorer, executado em um computador com o sistema operacional Windows 98. Com relação a essa figura e ao Windows Explorer, assinale a opção correta.

- A Caso o usuário clique no botão  Acima , serão mostrados na janela todos os conteúdos da Área de trabalho do Windows 98.
- B O arquivo  tabelas certamente corresponde a uma planilha editada no Excel 97.
- C Caso o usuário aplique um clique duplo em  Bibliografia , esse arquivo será apagado.
- D O arquivo  Bibliografia está gravado em disquete.
- E Para o usuário imprimir o arquivo  Planilhas , é suficiente que ele clique no ícone  Planilhas e, em seguida, aplique um clique duplo em  Impressoras .