



# TRIBUNAL DE JUSTIÇA DO ESTADO DE RORAIMA

Concurso Público (Aplicação: 4/11/2001)

Cargo:

**ATENDENTE**

Nas questões de 1 a 30, marque, em cada uma, a única opção correta, de acordo com o respectivo comando. Na Folha de Respostas, a indicação do campo **SR** é facultativa e não contará para efeito de avaliação; servirá somente para caracterizar que o candidato desconhece a resposta correta. Use a Folha de Rascunho para as devidas marcações e, posteriormente, a **Folha de Respostas**.

## LÍNGUA PORTUGUESA

### Texto LP-I – questões 1 e 2

1 A capital de Roraima cresceu às margens do rio  
Branco. O marco da cidade é a estátua de um garimpeiro  
e sua bateia, erguida na praça central. Entre os políticos  
4 e comerciantes locais, a grande preocupação é lidar com  
os 70% de área protegida do estado, terra indígena ou  
reserva ecológica, segundo eles, o maior entrave para  
7 desenvolver a região. Mas, até recentemente, Boa Vista  
sequer contava com energia elétrica regular, que era  
produzida por gerador a diesel.

**Horizonte Geográfico.** Internet: <<http://horizontegeografico.zip.net/dossies/amazonia67-2.shtml>>. Acesso em 14/8/2001 (com adaptações).

#### QUESTÃO 1

Com relação à acentuação de palavras e à sintaxe do texto LP-I, assinale a opção correta.

- A A mesma regra determina os acentos presentes nas palavras “às”, na linha 1, e “é”, na linha 3.
- B Seria correto substituir a expressão “O marco da cidade”, na linha 2, por **Cujo o marco**.
- C A mesma regra determina a acentuação das palavras “políticos”, “indígena” e “ecológica”.
- D As expressões “a região”, na linha 7, e “energia elétrica regular”, na linha 8, são, respectivamente, objeto indireto e objeto direto.
- E Não haverá prejuízo à sintaxe do texto, caso se substitua o vocábulo “contava”, na linha 8, pela palavra **proporcionava**.

#### QUESTÃO 2

No texto LP-I, haverá prejuízo à sua compreensão ou à sua sintaxe, caso se substitua

- A “erguida” (na linha 3) por **erigida**.
- B “lidar” (na linha 4) por **esforçar-se**.
- C “segundo” (na linha 6) por **de acordo com**.
- D “entrave” (na linha 6) por **impedimento**.
- E “sequer” (na linha 8) por **nem ao menos**.

### Texto LP-II – questões de 3 a 5

#### Linhão de Guri baixa tarifa de energia elétrica em Roraima

1 Em treze de agosto passado, o presidente Fernando Henrique  
Cardoso inaugurou oficialmente a linha de transmissão que interliga  
Boa Vista ao Complexo Hidrelétrico de Guri/Macáguas, na Venezuela.  
4 O “Linhão de Guri”, como ficou conhecido o empreendimento, vai  
abastecer o estado de Roraima pelos próximos vinte anos.

Na ocasião, o presidente anunciou a redução na tarifa  
7 de energia paga pelos consumidores de Roraima. A redução, segundo  
o presidente, deve ser de 5% a 6%. Por isso, empresas concessionárias,  
consumidores e o governo de Roraima estão na expectativa da decisão  
10 da Agência Nacional de Energia Elétrica (ANEEL) sobre o assunto.

Atualmente, o preço de venda da energia para o consumidor  
final em Roraima, é de 70 dólares o megawatt (MW), o que não cobre  
13 os custos de produção, que são de 125 dólares o MW. Com a linha de  
transmissão de Guri, esse valor cairá cerca de 80% — de 125 dólares  
para 26 dólares.

**Gazeta Mercantil Digital.** Internet: <<http://www.gazetamercantildf.com.br/am/jornal/1356.htm>>. Acesso em 14/8/2001 (com adaptações).

#### QUESTÃO 3

Assinale a opção correta acerca da estrutura e das idéias do texto LP-II.

- A Na linha 4, “empreendimento” refere-se à expressão “Complexo Hidrelétrico de Guri/Macáguas”, na linha 3.
- B Na linha 4, a vírgula após “empreendimento” pode ser eliminada sem que haja prejuízo à estrutura textual.
- C Nas linhas 7 e 8, sem que houvesse alteração do sentido do texto, a oração “A redução, segundo o presidente, deve ser de 5% a 6%” poderia ser reescrita da seguinte forma: **Segundo o presidente, a redução pode ser de até 6%**.
- D De acordo com os dados do último parágrafo do texto, atualmente, o preço de venda de 1 MW de energia para o consumidor final é superior à metade dos correspondentes custos de produção.
- E De acordo com o último parágrafo do texto, com a linha de transmissão de Guri, “o preço de venda da energia para o consumidor final” cairá para aproximadamente 44 dólares o MW.

#### QUESTÃO 4

Com relação ao emprego de palavras e expressões no texto LP-II, assinale a opção correta.

- A Os vocábulos “**Linhão**”, no título, e “ocasião”, na linha 6, são substantivos que estão flexionados no mesmo gênero e no mesmo número.
- B Na linha 3, ambos os termos da expressão “Complexo Hidrelétrico” têm a função de adjetivos.
- C No texto, as expressões “Na ocasião”, na linha 6, e “Atualmente”, na linha 11, além de terem o mesmo significado, podem ser trocadas uma pela outra sem que haja alteração do sentido do texto.
- D As formas verbais “estão”, na linha 9, e “são”, na linha 13, foram escritas no plural porque são antecedidas por sujeitos compostos.
- E Na linha 14, a expressão “esse valor” refere-se à expressão “125 dólares”, na linha 13.

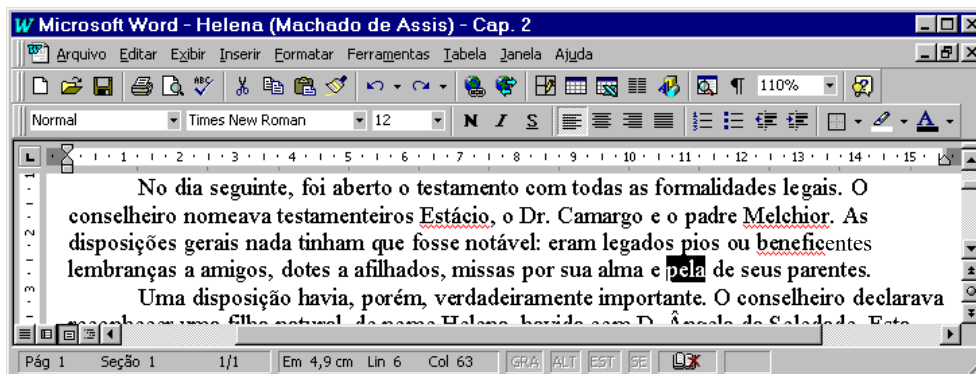


# CONHECIMENTOS DE INFORMÁTICA

Nas questões de **11** a **15**, considere que todos os programas mencionados estão em configuração-padrão, em português, e que o *mouse* está configurado para pessoas destros. Assim, a menos que seja explicitamente informado o contrário, expressões como clicar, clique simples e clique duplo referem-se a cliques com o botão esquerdo do *mouse*. Considere também que não há restrições de proteção e de uso em relação aos programas, arquivos, diretórios e *hardware* mencionados.





## Texto CI – questões 11 e 12

A figura abaixo mostra uma janela do Word 97, com um texto que foi digitado por um usuário.










### QUESTÃO 11

Com relação ao texto CI, caso o usuário deseje aplicar negrito à palavra “legais”, no primeiro parágrafo mostrado na figura, ele poderá fazê-lo com sucesso selecionando a palavra citada e

- A clicando em .
- B clicando em .
- C pressionando simultaneamente as teclas **Ctrl** e **N**.
- D clicando em .
- E clicando em .






### QUESTÃO 12

Ainda com relação ao texto CI e ao Word 97, assinale a opção correta.

- A Considerando que o tamanho da fonte usada na palavra “legais” seja igual a 12, caso o usuário deseje alterá-lo para 24, sem alterar o tamanho da fonte das demais palavras, ele poderá fazê-lo com sucesso por meio da seguinte seqüência de ações: selecionar a referida palavra e alterar o número em  para 220%.
- B Caso o usuário deseje sublinhar a palavra “legais”, ele poderá fazê-lo com sucesso selecionando essa palavra e clicando em .
- C Ao digitar a palavra “Estácio”, o usuário pressionou a seguinte seqüência de teclas: **E**, , **S**, **T**, **A**, , , **C**, **I**, **O**.
- D Caso o usuário deseje fechar o Word 97, ele poderá fazê-lo com sucesso clicando no botão .
- E Caso o usuário deseje criar um documento novo, em branco, ele poderá fazê-lo com sucesso clicando no botão .

### QUESTÃO 13

Com base em uma janela-padrão do Excel 97, caso o usuário deseje copiar o conteúdo de uma determinada célula para a área de transferência, ele poderá fazê-lo com sucesso selecionando a referida célula e, em seguida,

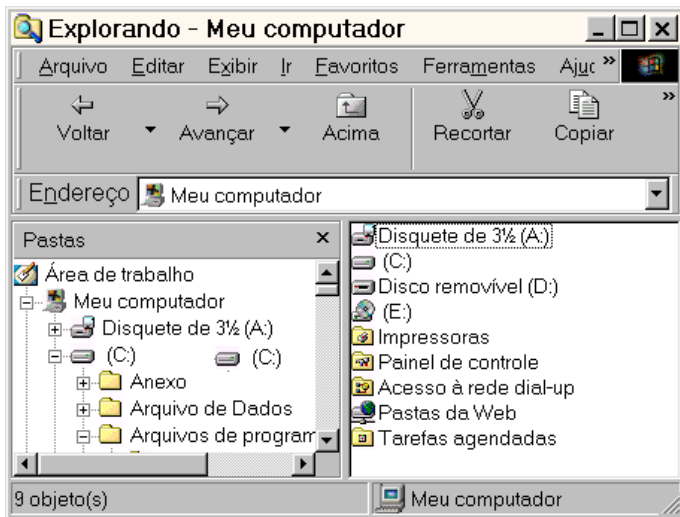
- A clicando em .
- B clicando em .
- C pressionando simultaneamente as teclas **Ctrl**, **C** e .
- D clicando em .
- E clicando em .

### QUESTÃO 14

Com relação a conceitos básicos de computação e microinformática, assinale a opção correta.

- A Todos os computadores usados atualmente são alimentados apenas por tensão de 220 V.
- B O escâner permite que se produzam imagens digitalizadas, a partir de figuras originalmente impressas em papel.
- C Nos computadores do tipo PC de última geração, é dispensável o uso da memória RAM.
- D O disquete de 3½" possui maior capacidade de armazenar informações que o disco rígido do computador.
- E Embora permitam imprimir texto, as impressoras do tipo jato de tinta não permitem imprimir figuras, a não ser que haja um *modem* instalado no computador.

**QUESTÃO 15**



A figura acima ilustra uma janela do Windows Explorer, que está sendo executado em um computador cujo sistema operacional é o Windows 98. Com base nessa figura e acerca do Windows Explorer e do Windows 98, assinale a opção correta.

- A É correto afirmar que o computador possui quatro *winchesters* identificados pelos ícones: Disquete de 3 1/2 (A:), (C:), Disco removível (D:) e (E:).
- B Devido à presença do ícone Impressoras, é correto afirmar que o computador possui instalado como periféricos pelo menos duas impressoras.
- C Ao aplicar um clique duplo em Painel de controle, será obtido o conteúdo do diretório Painel de controle do Windows 98.
- D Caso um usuário clique em e, em seguida, acione o botão Copiar, ele estará realizando a cópia de todo o conteúdo do HD referente a C:, em um processo de *backup* suportado pelo Windows 98. Todo o conteúdo copiado será comprimido e arquivado no diretório Backup do Windows 98.
- E É correto afirmar que, caso o botão Voltar seja acionado, o conteúdo referente a Área de trabalho que está armazenado no computador será visualizado na janela do Windows Explorer.

**CONHECIMENTOS GERAIS**

**QUESTÃO 16**

Na atual economia globalizada, há uma tendência à formação de blocos regionais, isto é, países que se aproximam para tomar medidas em comum, normalmente voltadas para ampliar seu poder de negociação com países mais poderosos e outros blocos econômicos. No Cone Sul da América, o bloco que une Brasil, Argentina, Paraguai e Uruguai chama-se

- A Pacto Andino.  
 B Área de Livre Comércio das Américas (ALCA).  
 C MERCOSUL.  
 D Organização dos Estados Americanos (OEA).  
 E NAFTA.

**QUESTÃO 17**

Apesar de muito criticada e, nos últimos anos, bastante esvaziada, a Organização das Nações Unidas (ONU) desempenha importante papel na defesa de melhores condições de vida para a população mundial. Daí seu trabalho técnico envolvendo educação, cultura, agricultura, infância, condição feminina e ambiente, entre muitos outros. Os órgãos da ONU especializados no apoio à educação, ciência e cultura e à infância são, respectivamente,

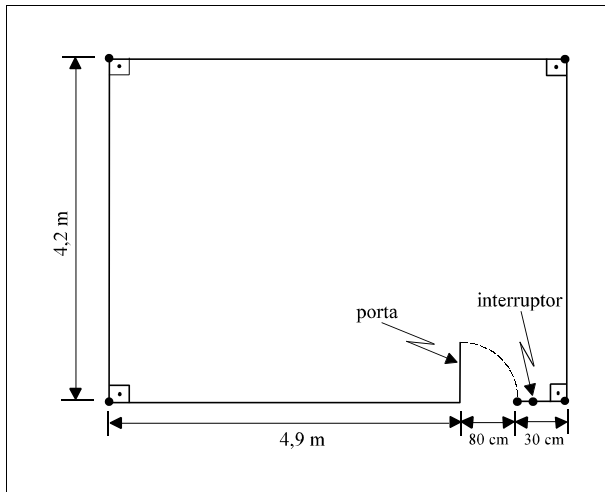
- A UNESCO e UNICEF.  
 B FMI e Banco Mundial.  
 C OMS e OMM.  
 D Conselho de Segurança e Assembléia Geral.  
 E PNUD e FAO.

**QUESTÃO 18**

O mundo acompanha, com natural preocupação, os desdobramentos dos episódios de 11 de setembro de 2001, quando atos terroristas causaram destruições e mortes nos Estados Unidos da América (EUA). A propósito desses acontecimentos, assinale a opção correta.

- A Apesar da comoção mundial, os EUA não receberam o apoio de nenhum país em sua decisão de bombardear o Afeganistão.  
 B O bombardeio do Afeganistão foi iniciado a partir do momento em que o governo norte-americano obteve as provas de que as autoridades afegãs eram responsáveis pelos ataques a Nova Iorque e Washington.  
 C Não há relação possível entre esses atos terroristas e a situação do Oriente Médio, principalmente porque aquela região está apaziguada há bastante tempo.  
 D O nome de Osama Bin Laden ganhou enorme projeção nos últimos dias devido à sua decisão de voltar-se contra o mundo islâmico para ajudar os EUA a reagirem ao ataque terrorista que sofreram.  
 E O presidente George W. Bush, eleito com dificuldade, viu seu prestígio popular ampliar-se consideravelmente ao assumir a liderança da reação de seu país aos atos de terror que traumatizaram a opinião pública.



**QUESTÃO 26**

A figura acima mostra a planta baixa de um quarto cuja altura mede 2,5 m. Com um fio de metal flexível, deseja-se conectar uma lâmpada, localizada no centro do teto, ao interruptor situado a 1,2 m de altura e a 10 cm do batente da porta. Com base nessa situação, Julgue os itens que se seguem.

- I A distância entre a lâmpada e o interruptor é inferior a 4 m.
- II Se o fio for instalado de forma a ficar sempre paralelo a junções de paredes e(ou) de paredes com o teto, então a quantidade mínima de fio necessária será inferior a 6 m.
- III Se a instalação for feita de forma que o fio desça do teto ao interruptor, perpendicularmente, então o comprimento mínimo de fio necessário será inferior a 4,5 m.

Assinale a opção correta.

- A Nenhum item está certo.
- B Apenas o item I está certo.
- C Apenas o item II está certo.
- D Apenas o item III está certo.
- E Todos os itens estão certos.

**QUESTÃO 27**

Pedro, corretor de imóveis, comprou uma casa por R\$ 150.000,00, reformou-a e colocou-a à venda, objetivando um lucro de, pelo menos, R\$ 50.000,00 sobre o valor de compra. Na venda de imóveis, o governo estadual cobra do vendedor uma taxa de 25% sobre o lucro imobiliário, isto é, sobre a diferença entre o valor de venda e o de compra, a título de imposto de transmissão. Com base nessa situação, julgue os itens que se seguem.

- I Pedro obterá o lucro desejado se vender a casa por, pelo menos, R\$ 212.500,00.
- II Se o imposto sobre o lucro imobiliário fosse de 15%, a venda da casa por R\$ 209.000,00 seria suficiente para Pedro obter o lucro desejado.
- III Vendendo a casa por R\$ 215.000,00, mesmo assim, Pedro ainda não garantirá a lucratividade almejada após recolher o imposto sobre o lucro imobiliário de 25%.

Assinale a opção correta.

- A Apenas um item está certo.
- B Apenas os itens I e II estão certos.
- C Apenas os itens I e III estão certos.
- D Apenas os itens II e III estão certos.
- E Todos os itens estão certos.

**RASCUNHO**

**QUESTÃO 28**

Um gavião repousava no alto de um poste, a 6 m de altura. Na base desse poste, localiza-se a toca de um rato. De repente, o gavião avistou o rato, que se encontrava à distância de 18 m da toca. O rato, ao ver o gavião, correu em direção à toca, em linha reta. O gavião alçou vôo em linha reta e alcançou o rato antes que este atingisse a toca. O gavião e o rato percorreram a mesma distância. No momento em que foi alcançado pelo gavião, para o rato atingir a toca ainda faltavam

- A 6 m.                      C 8 m.                      E 10 m.  
B 7 m.                      D 9 m.

**QUESTÃO 29**

Os doze netos de dona Nena resolveram comprar um presente de aniversário para ela. Os nove netos mais velhos contribuíram, de maneira igualitária, com uma quantia maior, e os três netos mais jovens, também de forma igualitária, contribuíram com uma quantia menor. A diferença entre as quantias foi de R\$ 3,50. No total, eles arrecadaram R\$ 49,50 para a compra do presente. Com base nessa situação, julgue os itens abaixo.

- I A quantia com que cada neto mais velho contribuiu é o triplo da quantia de cada neto mais jovem.  
II A quantia com que cada neto mais jovem contribuiu corresponde a 30% da quantia de cada neto mais velho.  
III A quantia total com que os netos mais jovens contribuíram é inferior a 10% do total arrecadado.  
IV Se a diferença entre as contribuições fosse de R\$ 1,50 e a quantia arrecadada continuasse a mesma, então cada neto mais velho teria contribuído com 10% a menos.

Estão certos apenas os itens

- A I e II.                      C II e IV.                      E II, III e IV.  
B I e III.                      D I, III e IV.

**QUESTÃO 30**

Uma loja de produtos musicais fez uma promoção, oferecendo todos os seus CDs pelo mesmo preço unitário. Roberto aproveitou a promoção e comprou vários CDs, gastando um total de R\$ 176,00. Rogério comprou sete CDs a menos que Roberto, gastando R\$ 64,00. Nessas condições, o total de CDs comprados por Roberto e Rogério é igual a

- A 15.      B 14.      C 13.      D 12.      E 11.

**RASCUNHO**

**(Se necessário, use o verso para rascunho.)**