

Nome do candidato:

Número do documento de identidade:

Número de inscrição:

Sala:

Seqüencial:

Cidade de realização da(s) prova(s):

CONCURSO PÚBLICO

Nível Superior

Cargo **4**:

PERITO CRIMINAL

FORMAÇÃO: CIÊNCIAS CONTÁBEIS

MANHÃ

LEIA COM ATENÇÃO AS INSTRUÇÕES ABAIXO.

- 1 Ao receber este caderno, confira inicialmente os seus dados pessoais transcritos acima. Em seguida, verifique se ele contém quarenta questões, correspondentes às provas objetivas, corretamente ordenadas de 1 a 40.
- 2 Caso o caderno esteja incompleto ou tenha qualquer defeito, solicite ao fiscal de sala mais próximo que tome as providências cabíveis.
- 3 Não utilize lápis, lapiseira, borracha e(ou) qualquer material de consulta que não seja fornecido pelo CESPE/UnB.
- 4 Não se comunique com outros candidatos nem se levante sem autorização do chefe de sala.
- 5 A duração das provas é de **três horas e trinta minutos**, já incluído o tempo destinado à identificação — que será feita no decorrer das provas — e ao preenchimento da folha de respostas.
- 6 Você deverá permanecer obrigatoriamente em sala por, no mínimo, uma hora após o início das provas e poderá levar o seu caderno de provas somente no decurso dos últimos **quinze minutos** anteriores ao horário determinado para o término das provas.
- 7 Ao terminar as provas, chame o fiscal de sala mais próximo, devolva-lhe a sua folha de respostas e deixe o local de provas.
- 8 A desobediência a qualquer uma das determinações constantes no presente caderno ou na folha de respostas poderá implicar a anulação das suas provas.

AGENDA (datas prováveis)

- I **10/7/2007**, após as 19 h (horário de Brasília) – Gabaritos oficiais preliminares das provas objetivas: Internet — www.cespe.unb.br/concursos/cpc2007.
- II **11 e 12/7/2007** – Recursos (provas objetivas): exclusivamente no Sistema Eletrônico de Interposição de Recurso, Internet, mediante instruções e formulários que estarão disponíveis nesse sistema.
- III **7/8/2007** – Resultados finais das provas objetivas e convocação para os exames médicos: Diário Oficial do Estado do Pará e Internet.

OBSERVAÇÕES

- Não serão objeto de conhecimento recursos em desacordo com o item 16 do Edital n.º 1 – SEAD/CPC, de 25/4/2007.
- Informações adicionais: telefone 0(XX) 61 3448-0100; Internet — www.cespe.unb.br/concursos/cpc2007.
- É permitida a reprodução deste material apenas para fins didáticos, desde que citada a fonte.

- Nas questões de 1 a 40, marque, em cada uma, a única opção correta, de acordo com o respectivo comando. Para as devidas marcações, use a **folha de respostas**, único documento válido para a correção das suas provas.
- Nas questões que avaliam **Conhecimentos de Informática**, a menos que seja explicitamente informado o contrário, considere que todos os programas mencionados estão em configuração-padrão em português, que o *mouse* está configurado para pessoas destros e que expressões como clicar, clique simples e clique duplo referem-se a cliques com o botão esquerdo do *mouse*. Considere também que não há restrições de proteção, de funcionamento e de uso em relação aos programas, arquivos, diretórios e equipamentos mencionados.

CONHECIMENTOS BÁSICOS

Texto para as questões de 1 a 3

Heróis de bronze e heróis de carne e osso

1 Houve época em que nos bancos escolares se aprendia a cultivar os chamados heróis da pátria. Figuras como Tiradentes, dom Pedro I, Duque de Caxias e a princesa Isabel, 4 entre outros, eram pintados como patriotas exemplares e seres imaculados. Visões hegemônicas forjam mitos históricos.

Se a Holanda tivesse vencido os portugueses no 7 Nordeste no século XVII, nosso herói não seria Matias de Albuquerque, mas Domingos Fernandes Calabar, senhor de terras e contrabandista que traiu os portugueses e se passou 10 para o lado dos batavos.

Tiradentes, contudo, é o mais poderoso e universal dos nossos mitos. Pesquisas recentes revelaram um personagem 13 contraditório, imperfeito, ao contrário do que pretende a história oficial. Demasiado humano, demasiado brasileiro. Felizmente um herói em carne e osso, não o modelo de 16 virtude perpetuado em sombrias estátuas de bronze.

Cláudio Camargo. Istoé. "Opinião e idéias", 18/4/2007, p. 50 (com adaptações).

QUESTÃO 1

Assinale a opção em que o trecho apresentado contém a tese, ou seja, a idéia básica sobre a qual se desenvolvem as outras idéias e as exemplificações do texto.

- A "nos bancos escolares se aprendia a cultivar os chamados heróis da pátria" (l.1-2)
- B "Visões hegemônicas forjam mitos históricos" (l.5)
- C "Tiradentes, contudo, é o mais poderoso e universal dos nossos mitos" (l.11-12)
- D "Felizmente um herói em carne e osso" (l.15)

QUESTÃO 2

Segundo as gramáticas, o emprego da voz passiva verbal faz que os efeitos da ação sejam mais destacados do que o agente que a causou. Assinale a opção em que, na estrutura apresentada, aparece esse emprego gramatical.

- A "Houve época em que" (l.1)
- B "eram pintados como patriotas exemplares" (l.4)
- C "Se a Holanda tivesse vencido os portugueses" (l.6)
- D "e se passou para o lado dos batavos" (l.9-10)

QUESTÃO 3

Assinale a opção em que a proposta de alteração do texto provoca incorreção gramatical ou incoerência textual.

- A A substituição de "se aprendia a cultivar" (l.1-2) por **aprendíamos a cultivar**.
- B A substituição de "Se a Holanda tivesse vencido" (l.6) por **Tivesse a Holanda vencido**.
- C A inserção de **Por que** antes de "Pesquisas recentes" (l.12), com os necessários ajustes na letra maiúscula.
- D A inserção de **Mas seria** antes de "Demasiado humano" (l.14), com o necessário ajuste na letra maiúscula.

Texto para as questões 4 e 5

1 O caráter simbólico da representação envolve sempre um apelo a elementos emocionais, a crenças e valores subjacentes, à expressão de uma vontade e à realização de 4 desejos, nem sempre explícitos ou conscientes, muitas vezes negligenciados na análise do significado do discurso político, mas que operam em um nível básico no processo de 7 representar. É nesse sentido que o líder encarna, e não apenas representa por mandato ou autorização, aqueles a quem representa.

Daniilo Marcondes. *Filosofia, linguagem e comunicação*, p. 157 (com adaptações).

QUESTÃO 4

Julgue as possibilidades de reescrita para trechos do texto apresentadas nos itens abaixo.

- I "O caráter simbólico da representação envolve sempre um apelo a elementos emocionais, a crenças e valores subjacentes" (l.1-3): Os aspectos simbólicos da representação apela para elementos emocionais e subordinados à expressão da vontade.
- II "nem sempre explícitos ou conscientes, muitas vezes negligenciados na análise do significado do discurso político" (l.4-5): nem sempre claros ou conscientes, muitas vezes os elementos emocionais, as crenças e os valores não recebem atenção suficiente na análise do significado do discurso político.
- III "É nesse sentido que o líder encarna, e não apenas representa por mandato ou autorização, aqueles a quem representa" (l.7-9): Nesse sentido, é que o líder, encarna os que o representa — não apenas por mandato ou autorização.

Estão respeitadas as idéias originais do texto e as regras de correção gramatical apenas no(s) item(ns)

- A I.
- B II.
- C I e II.
- D II e III.

QUESTÃO 5

Considerando a coerência textual, assinale a opção correta a respeito do emprego da preposição **a** no texto.

- A A preposição **a** antes de "elementos" (l.2) é exigida pelo verbo **envolver**.
- B O texto admite a inserção da preposição **a** antes de "valores" (l.2).
- C Em "à realização" (l.3), a preposição é obrigatória, razão por que a retirada de "à" provoca erro gramatical.
- D A retirada da preposição **a** em "a quem representa" (l.8-9) provoca erro gramatical.

Texto para as questões 6 e 7

A China tornou-se no ano passado o país asiático que mais investiu no setor militar, com US\$ 49,5 bilhões, seguido de Japão, com US\$ 43,7 bilhões, e Índia, com US\$ 23,9 bilhões, indicou um estudo anual divulgado pelo Instituto Internacional de Estudos para a Paz de Estocolmo. De acordo com o estudo, a China é o quarto país, no mundo, com maior gasto militar. Os Estados Unidos da América (EUA) continuam na liderança, com US\$ 528,7 bilhões, seguidos por Grã-Bretanha, com US\$ 59,2 bilhões, e França, com US\$ 53,1 bilhões. A Rússia ficou em sétimo lugar, com US\$ 34,7 bilhões. O gasto mundial em armamento militar foi de US\$ 1,2 trilhão, 3,5% a mais do que em 2005. O gasto mundial total na última década (1997-2006) cresceu 37%. O volume de armas convencionais vendidas em 2006 foi 50% superior ao de 2002.

O Estado de S. Paulo, 12/6/2007, p. A17 (com adaptações).

QUESTÃO 6

Considerando-se o atual contexto histórico chinês e as informações contidas no texto, é correto afirmar que a China

- A apresenta elevados índices anuais de crescimento econômico, para os quais também contribui a existência de mão-de-obra local farta e barata.
- B aprofunda seu modelo econômico socialista, recusando-se a integrar o organismo multilateral responsável pelas normas do comércio mundial.
- C recusa-se a abrir sua economia à iniciativa privada e a permitir investimentos estrangeiros no país, mantendo-a integralmente subordinada ao Estado.
- D investe maciçamente na produção industrial e na modernização de sua multissecular agricultura, o que inviabiliza gastos públicos em outros setores.

QUESTÃO 7

Considerando o texto e a realidade mundial contemporânea, assinale a opção **incorreta**.

- A O fim da Guerra Fria não significou o arrefecimento dos gastos militares, os quais continuam crescendo globalmente em níveis consideráveis.
- B A Rússia manteve em seu poder o arsenal bélico que fez da União das Repúblicas Socialistas Soviéticas, da qual é sucessora, uma das duas superpotências mundiais do pós-Segunda Guerra.
- C A forte presença da OTAN em território europeu explica a decisão dos principais países do Velho Mundo de promover gradual e persistente desarmamento.
- D Na Ásia, altos gastos militares envolvem desde países emergentes até potência econômica solidamente instalada, como é o caso japonês.

Texto para as questões 8 e 9

Refugiados do clima. O termo ainda é provisório, mas a classificação ganha notoriedade à medida que pesquisadores alertam para a irreversível mudança climática e que as primeiras estatísticas sobre os deslocados começam a surgir. A Cruz Vermelha Internacional calcula que já existem 25 milhões de pessoas deslocadas por motivos ambientais — número que pode superar o de refugiados de guerra no mundo. A ONU calcula que dentro de cinco anos serão 50 milhões.

O Pentágono divulgou em 2004 um relatório que já alertava para o principal desafio de Washington: conter a onda de refugiados ambientais vindos do México, da América do Sul e do Caribe, que procurarão, desesperados, melhores condições de vida no vizinho do Norte. A recomendação foi fortificar as fronteiras.

Jornal do Brasil, 8/6/2007, p. A23 (com adaptações).

QUESTÃO 8

O texto remete à questão ambiental, tema recorrente na agenda mundial contemporânea. Entre os problemas ambientais considerados mais sérios, pelo que repercute nas condições de vida no planeta, destaca-se o da variação climática, em larga medida caracterizada

- A pelo aumento da temperatura global, em grande parte decorrente da elevada emissão de gases ampliadores do efeito estufa na atmosfera.
- B por expansão das geleiras do Ártico, o que reduz o volume dos oceanos e, conseqüentemente, o índice de evaporação de água salgada.
- C pela decisão das grandes potências de promover o reflorestamento em quase todos os continentes por meio do plantio de florestas homogêneas, à base de eucalipto.
- D por intenso degelo na Antártica, conseqüência da ação não planejada e visivelmente exagerada das expedições científicas na região.

QUESTÃO 9

Além da razão mencionada no texto, sabe-se que as medidas restritivas à imigração adotadas pelos EUA também decorrem de outras situações vividas pelo país, entre as quais se destaca

- A a elevada densidade populacional do país, razão pela qual seria insustentável o aumento do número de habitantes, sobretudo no meio-oeste.
- B a obediência norte-americana à decisão do Conselho de Segurança das Nações Unidas, que impõe severas restrições às correntes migratórias.
- C o fato de que, na atualidade, a população norte-americana é majoritariamente formada por latino-americanos, asiáticos, australianos e africanos.
- D a ação terrorista, cujo exemplo mais significativo foi o ataque de 11 de setembro de 2001, quando foram atingidos o prédio do Pentágono e as torres do World Trade Center.

QUESTÃO 10

No passado, a prisão já foi considerada um símbolo da vitória sobre o vício. Hoje, mergulhada nas sombras, ela só ganha visibilidade em momentos de crise — como em maio de 2006, quando a revolta dos presos saiu de seus muros, resultando em ataques a locais públicos, delegacias, policiais e agentes penitenciários, paralisando a cidade de São Paulo. Paradoxalmente, entre as propostas para se enfrentar a questão estão exatamente aquelas que originaram a crise: a criação do regime disciplinar diferenciado para criminosos de alta periculosidade e a construção de presídios de segurança máxima. Muitos estudiosos, porém, defendem o oposto: diminuir o uso da prisão e substituí-la por penas alternativas.

Jornal do Brasil, 10/6/2007, p. A32 (com adaptações).

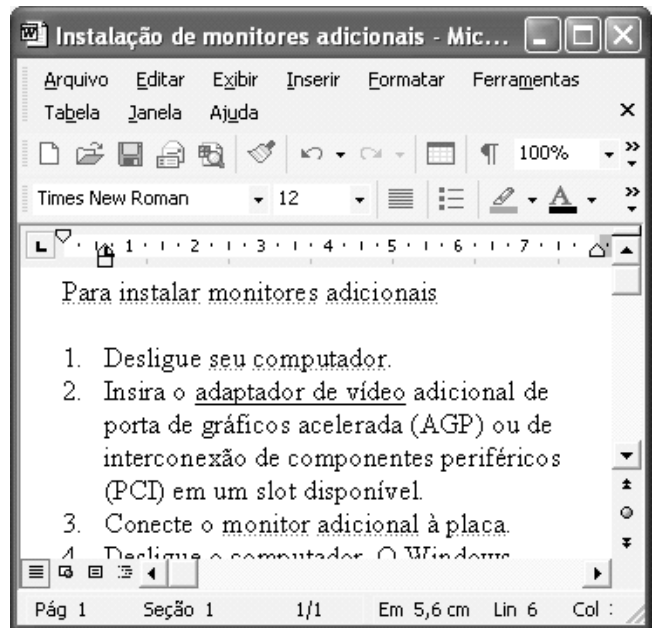
Tendo o texto acima como referência inicial e considerando a amplitude do tema nele focalizado, inclusive por sua relação com o atual quadro de violência presente no país, assinale a opção correta.

- Ⓐ Apesar de ainda apresentar deficiências, reconhecidas no texto, o sistema prisional brasileiro é um dos mais modernos do mundo e é nacionalmente administrado pela União.
- Ⓑ Penas alternativas significam, em síntese, a exclusão permanente de condenados por crimes hediondos do contato com os demais presos e do benefício da redução de pena.
- Ⓒ A proposta de regime disciplinar diferenciado consiste, fundamentalmente, em premiar presos de baixa periculosidade, com penas leves e de bom comportamento na prisão.
- Ⓓ Ataques a locais públicos, como os verificados em 2006 no estado de São Paulo, são comandados por organizações criminosas, não raro por lideranças que cumprem penas.

QUESTÃO 11

Na área de informática, existem diversos dispositivos que permitem o armazenamento de informações em forma digital. Com relação a esses dispositivos, assinale o opção correta.





- Ⓐ As memórias RAM usadas nos computadores do tipo PC atuais são exemplos de memória volátil, cujos dados não são apagados quando o computador é desligado. Sua capacidade de armazenamento é de, no máximo, 10.000 *bytes*.
- Ⓑ O disquete de 3½" mais comumente utilizado é um dispositivo de armazenamento magnético que tem uma capacidade de armazenamento de dados inferior a 2 *megabytes*.
- Ⓒ Os dispositivos conhecidos como *pen drives* são um tipo de memória volátil cuja capacidade máxima de armazenamento de dados é igual a 1 bilhão de *bytes*.
- Ⓓ Os CD-ROMs mais comumente usados funcionam com base em princípios magnéticos, têm capacidade de armazenamento inferior a 300 milhões de *bytes* e permitem a gravação e o apagamento de dados indefinidamente.

Figura para as questões 12 e 13

A figura acima mostra uma janela do Word 2002, com um texto em processo de edição.

QUESTÃO 12

Com relação à figura e ao Word 2002, assinale a opção correta.

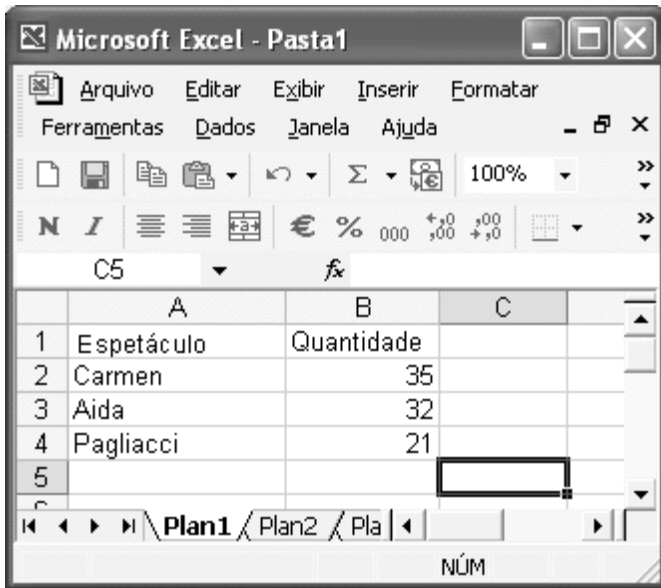
- Ⓐ O botão  permite a criação de novo documento, em branco.
- Ⓑ Para se alterar a cor de fundo da página que contém o texto, de forma que as palavras, em cor preta, apareçam superpostas a um fundo colorido, é suficiente clicar o botão .
- Ⓒ O número 12, na caixa , indica a quantidade de parágrafos numerados que o documento contém.
- Ⓓ Ao se clicar o botão  e em seguida clicar a palavra “computador”, essa palavra será sublinhada.

QUESTÃO 13

Na janela do Word 2002 mostrada na figura, ao se clicar o menu **Arquivo**, é exibida uma lista de opções. Primeiramente, surge uma lista reduzida e, após um pequeno intervalo, é exibida uma lista completa de opções. Nesse contexto, assinale a opção correta.

- Ⓐ A opção Abrir permite que o usuário abra um arquivo existente. Entretanto, essa funcionalidade somente é aplicável a arquivos que estejam armazenados em discos removíveis.
- Ⓑ Ao se clicar a opção Salvar, é aberta a janela Salvar como, que permite salvar o arquivo atual com nome e local de armazenamento diferentes do nome atualmente atribuído ao arquivo, tenha ele sido ou não salvo anteriormente.
- Ⓒ Ao se clicar a opção Visualizar impressão, é exibida na tela a forma como será impressa a primeira página do documento em primeiro plano e será iniciada, automaticamente, a impressão pela impressora padrão.
- Ⓓ A opção Configurar página... disponibiliza funcionalidades que permitem, entre outras ações, definir a orientação da página como retrato ou paisagem.

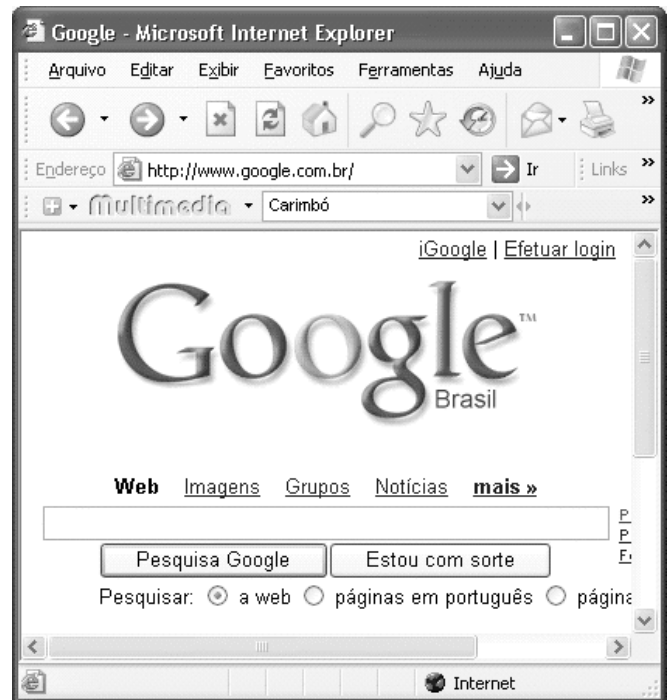
QUESTÃO 14



A figura acima mostra uma janela do Excel 2002, com uma planilha, em processo de edição, que tabula o número de vezes que certos espetáculos foram apresentados em determinada cidade. Com relação a essa figura e ao Excel 2002, assinale a opção correta.

- Ⓐ Para calcular o número total de vezes que os três espetáculos foram apresentados na cidade, é suficiente clicar a célula B5, digitar adicionar(B2-B4) e, em seguida, teclar .
- Ⓑ Ao se clicar a célula B1 e se clicar , será exibida a janela Largura da coluna, que permitirá aumentar ou diminuir a largura de todas as células da coluna B.
- Ⓒ Para se aplicar negrito e itálico aos conteúdos das células A2, A3 e A4, é suficiente realizar a seguinte seqüência de operações: posicionar o ponteiro do *mouse* no centro da célula A2; pressionar e manter pressionado o botão esquerdo do *mouse*; mover o *mouse* de forma a posicionar o seu ponteiro sobre a célula A4; liberar o botão esquerdo do *mouse*; clicar os botões **N** e **I**.
- Ⓓ Para que os conteúdos das células de B2 a B4 sejam alinhados à esquerda, é suficiente selecionar essas células e pressionar a tecla .

QUESTÃO 15



A figura acima mostra uma janela do Internet Explorer 6 (IE6) com uma página da Web em exibição. Com relação a essa figura, ao IE6 e à Internet, assinale a opção correta.

- Ⓐ A página da Web em exibição pertence a um sítio para busca de informações na Internet que é, ainda, muito pouco usado no Brasil e no mundo para esse propósito.
- Ⓑ Ao se digitar, no quadro logo acima do botão , o nome Machado de Assis, será iniciado, automaticamente, o *download* de um arquivo, no formato PDF, contendo uma lista com os títulos principais da obra de Machado de Assis.
- Ⓒ O Google permite apenas a localização de páginas da Web em língua portuguesa.
- Ⓓ O menu **Ajuda** possui funcionalidade que permite ao usuário descobrir a versão do navegador em uso para visualizar a página da Web.

CONHECIMENTOS COMPLEMENTARES

QUESTÃO 16

O presidiário Lucas foi encaminhado a um centro de perícias científicas (CPC) para exame de corpo de delito, escutado por policiais. Após realizada a perícia, no caminho de volta ao presídio, Lucas fugiu com a ajuda de seus comparsas. Alguns anos depois, Lucas invadiu a casa de Maria, aproveitando-se do corte de energia elétrica em face de não-pagamento de tarifa, para furtar uma televisão e, na ação, acabou matando Maria. A família de Maria ingressou com ação de responsabilidade civil objetiva contra o estado da federação.

Acerca dos princípios e poderes da administração pública, dos serviços públicos e da responsabilidade civil do Estado, assinale a opção correta a propósito da situação hipotética acima descrita.

- Ⓐ Não há responsabilidade civil objetiva do Estado, diante da inexistência de nexo causal entre a fuga e o evento morte, de acordo com o princípio da causa adequada e entendimento predominante na jurisprudência e na doutrina.
- Ⓑ De acordo com o princípio da autotutela, o resultado da perícia somente poderá ser alterado diante da existência de vício de ilegalidade, por meio de decisão judicial.
- Ⓒ De acordo com a lei de regência, a concessionária responsável pelo fornecimento de energia elétrica não poderia ter suspenso esse serviço público por falta de pagamento.
- Ⓓ Contra laudo pericial desfavorável cabe mandado de segurança.

QUESTÃO 17

A respeito da organização administrativa da União, dos agentes públicos, da Lei Estadual n.º 5.810/1994 e da Lei Estadual n.º 6.282/2000, assinale a opção correta.

- Ⓐ O CPC Renato Chaves tem natureza jurídica de órgão vinculado à Secretaria Especial de Estado de Defesa Social.
- Ⓑ Os peritos do CPC Renato Chaves se submetem ao regime jurídico estatutário do estado do Pará.
- Ⓒ A licença-paternidade para os peritos do CPC Renato Chaves será de 5 dias úteis.
- Ⓓ Os membros da comissão de processo administrativo disciplinar, nos termos da Lei n.º 5.810/1994, deverão ser estáveis e ocupar cargo idêntico ou superior ao cargo do servidor acusado, devendo, ainda, ter escolaridade igual ou superior à deste.

QUESTÃO 18

Em relação aos crimes contra a administração pública, assinale a opção correta.

- Ⓐ O funcionário público, que para os efeitos penais é aquele que, embora transitoriamente ou sem remuneração, exerce cargo, emprego ou função pública, não pode ser sujeito ativo do crime de resistência.
- Ⓑ O crime de prevaricação, que consiste em retardar ou deixar de praticar, indevidamente, ato de ofício, ou praticá-lo contra disposição expressa de lei, para satisfazer interesse ou sentimento pessoal, admite a modalidade culposa.
- Ⓒ A pena para o crime de corrupção passiva é aumentada de um terço, se, em consequência da vantagem ou promessa, o funcionário retarda ou deixa de praticar qualquer ato de ofício ou se o pratica infringindo dever funcional.
- Ⓓ Pratica corrupção passiva o funcionário público que exige para si ou para outrem, direta ou indiretamente, ainda que fora da função ou antes de assumi-la, mas em razão dela, vantagem indevida.

QUESTÃO 19

Acerca do exame de corpo de delito e das perícias em geral, assinale a opção correta.

- Ⓐ Se houver divergência entre os peritos, serão consignadas no auto do exame as declarações e respostas de um e de outro, ou cada um redigirá separadamente o seu laudo, e a autoridade nomeará um terceiro perito; se este divergir de ambos, a autoridade poderá mandar proceder a novo exame por outros peritos.
- Ⓑ Os instrumentos empregados para a prática da infração não estarão sujeitos a exame pericial.
- Ⓒ A autópsia deve ser feita pelo menos 12 horas depois do óbito, salvo se os peritos, pela evidência dos sinais de morte, julgarem que possa ser feita antes deste prazo, o que declararão no auto.
- Ⓓ Nos casos de morte violenta, não basta o simples exame externo do cadáver, ainda que não haja infração penal a apurar, ou que as lesões externas permitam precisar a causa da morte e não houver necessidade de exame interno para a verificação de alguma circunstância relevante.

QUESTÃO 20

Lúcio subtraiu um aparelho de telefone celular e jóias de propriedade de Márcia e, logo depois, com a finalidade de assegurar a impunidade do crime, desferiu dois tiros em direção à vítima, vindo a matá-la.

Nessa situação, Lúcio praticou crime de

- Ⓐ furto em concurso material com homicídio.
- Ⓑ roubo qualificado.
- Ⓒ roubo em concurso material com homicídio.
- Ⓓ homicídio consumado, ficando absorvido o crime contra o patrimônio.

CONHECIMENTOS ESPECÍFICOS

QUESTÃO 21

O Conselho Federal de Contabilidade (CFC) designa os procedimentos de perícia contábil que visam fundamentar as conclusões a serem levadas ao laudo ou parecer. A respeito desses procedimentos, assinale a opção correta.

- A Investigação é a diligência que objetiva a verificação e a constatação de situação, coisa ou fato, de forma circunstancial.
- B Mensuração é a determinação, por critério técnico, de valores ou a solução de controvérsia.
- C Certificação é o ato de atestar a informação trazida ao laudo pelo perito-contador conferindo a ela caráter de autenticidade.
- D Avaliação é o ato de quantificação física de coisas, bens, direitos e obrigações.

QUESTÃO 22

Motivam as fraudes em contabilidade as intenções de lesão de interesses alheios. Das situações a seguir, assinale a que **não** caracterizaria fraude, segundo o entendimento do CFC.

- A contabilização de desconto obtido na aquisição de mercadoria como conta redutora de compras brutas
- B omissão de registro de fato contábil somente no livro razão
- C registro de entrada de dinheiro em caixa sem comprovação
- D registro, como valores a receber, de créditos sem possibilidades de cobrança e execução

QUESTÃO 23

Os órgãos de fiscalização que desempenham funções judiciais ou arbitrais ou as autoridades com poder de investigação podem requisitar as informações obtidas pelos auditores das empresas privadas, não obstante a responsabilidade destes quanto à confidencialidade que devem observar. A disponibilização dessas informações **não** se aplica

- A às comissões parlamentares de inquérito.
- B aos tribunais ou conselhos de contas.
- C ao Ministério Público.
- D à polícia.

QUESTÃO 24

A sonegação, a fraude e o conluio têm diferentes pressupostos jurídicos de aplicação, de modo que a conduta do sujeito passivo, em qualquer caso, deve ser individualizada. Nesse sentido, é correto afirmar que

- A a falta de registro de uma operação, com vistas à redução de tributo devido, caracteriza sonegação quando envolve o concurso de pelo menos duas pessoas, físicas ou jurídicas.
- B a tentativa de impedir o conhecimento, pela autoridade fazendária, da ocorrência do fato gerador da obrigação tributária principal caracteriza a fraude.
- C as simulações e dissimulações, como meios empregados para realização da infração, caracterizam o dolo, que diferencia a fraude da sonegação.
- D um contrato particular que tenha sido ante ou pós-datado caracteriza simulação, que constitui um ajuste doloso, idéia central do conluio.

QUESTÃO 25

As regras relativas a preços de transferências, no caso de bens destinados à venda, visam estabelecer um limite máximo de dedutibilidade para os valores pagos a pessoas ligadas. Com referência a esse assunto, é correto afirmar que o ajuste resultante da comparação entre os preços apurados de acordo com a legislação e os constantes dos documentos de aquisição deve ser efetuado

- A debitando-se a conta no ativo dos bens adquiridos e creditando-se lucros acumulados.
- B creditando-se a conta de custo referente aos bens já baixados do ativo que tenha registrado a sua aquisição.
- C no lucro líquido do exercício e na base de cálculo dos dividendos a distribuir.
- D obrigatoriamente a cada realização, por alienação ou baixa, dos bens adquiridos.

QUESTÃO 26

Acerca dos aspectos fiscais das operações de *leasing*, assinale a opção correta.

- A No tocante ao imposto de renda, o valor das contraprestações constitui receita operacional tributável da arrendadora e despesa operacional dedutível da arrendatária.
- B O valor do IPI, quando este incidir sobre os bens destinados ao arrendamento mercantil, poderá ser lançado como despesa operacional no exercício da aquisição do bem.
- C A depreciação deve ser calculada, na arrendadora, na proporção do prazo contratual da operação de arrendamento mercantil.
- D Nas operações do *leasing*, não há incidência de ITBI e de ISS.

QUESTÃO 27

Com relação às sociedades de fomento mercantil (*factoring*), assinale a opção correta.

- A As empresas de *factoring* constituem-se como instituições financeiras, não podendo registrar-se em juntas comerciais.
- B Em conjugação com a aquisição de créditos de empresas, o fomento mercantil compreende serviços tais como avaliação de clientes e acompanhamento de valores a receber.
- C No financiamento de suas operações, as empresas de *factoring*, além de seus recursos próprios, estão autorizadas a utilizar até 50% de recursos provenientes da poupança popular.
- D O deságio cobrado pelas empresas de fomento mercantil varia de acordo com a aplicação do direito de regresso, nas condições expressamente autorizadas pela legislação do Banco Central.

QUESTÃO 28

A principal característica dos contratos a termo e dos contratos futuros é o compromisso de se comprar/vender determinado ativo em uma data futura, por um preço previamente estabelecido. Assinale a opção correta relativamente a uma diferença entre esses dois tipos de contrato.

- A** Os contratos a termo podem ser negociados antes do vencimento; os futuros, somente a partir do vencimento.
- B** Os contratos a termo são negociados somente nas bolsas de valores; os futuros, em locais estabelecidos pelas partes.
- C** Os contratos a termo são ajustados no vencimento; os futuros sofrem ajustes diários.
- D** Os participantes nos contratos a termo são quaisquer pessoas físicas ou jurídicas; nos contratos futuros, são os produtores e consumidores simultaneamente.

QUESTÃO 29

Em um ente público, o orçamento para o exercício totalizava R\$ 15.000.000,00 para as receitas e para as despesas. Ao final do exercício, a receita arrecadada alcançou R\$ 15.300.000,00, a despesa empenhada e liquidada, R\$ 14.600.000,00, e a despesa paga, R\$ 14.400.000,00.

Com base nos dados dessa situação hipotética, assinale a opção correta.

- A** O orçamento foi superavitário em R\$ 900.000,00.
- B** Houve insuficiência de despesa correspondente a R\$ 300.000,00.
- C** Houve economia de despesa correspondente a R\$ 200.000,00.
- D** A execução orçamentária apresentou *superavit* de R\$ 700.000,00.

RASCUNHO**QUESTÃO 30**

Com base na doutrina e nas práticas orçamentárias adotadas no Brasil, assinale a opção correta.

- A** Quando o orçamento é meramente autorizativo, o Poder Executivo é obrigado a contingenciar as despesas.
- B** Quando a receita é subestimada, a despesa tende a ser superestimada.
- C** A abertura de créditos extraordinários prescinde da existência de excesso de arrecadação ou de *superavit* financeiro.
- D** O reforço do planejamento tende a consolidar a prática da linearidade orçamentária, mantendo-se a mesma composição das despesas ao longo do tempo.

QUESTÃO 31

O convênio é o instrumento competente para a execução de serviços de interesses recíprocos entre a administração e as entidades públicas ou mesmo as organizações particulares, em regime de cooperação. A esse respeito e à luz da legislação vigente, assinale a opção correta.

- A** O Estado pode transferir recursos aos municípios, como transferência voluntária, mediante convênio, como forma de descentralização de suas atividades.
- B** Quando a transferência voluntária de recursos entre diferentes entes se destinar a pagamento de despesas de pessoal, a modalidade utilizada deve ser a concessão de empréstimo.
- C** O ente concedente dos recursos não poderá exigir contrapartida orçamentária do ente beneficiário, quando os recursos se destinarem às ações de educação, saúde e assistência social.
- D** Os beneficiários das transferências de recursos mediante convênio devem manter contas específicas, registradas no sistema extra-orçamentário.

QUESTÃO 32

A companhia tem um conselho fiscal e o estatuto disporá sobre seu funcionamento. Com base nessa situação hipotética e à luz da legislação societária, assinale a opção correta.

- A** O conselho fiscal não poderá valer-se dos auditores independentes da companhia, em razão da independência que estes devem manter perante terceiros.
- B** Podem integrar o conselho fiscal da companhia apenas pessoas físicas com formação específica nas áreas contábil, financeira ou tributária, de nível médio ou superior.
- C** Quando os titulares de ações preferenciais e os acionistas minoritários elegerem membros para o conselho fiscal, os demais acionistas terão o direito de eleger o terceiro membro.
- D** A remuneração de cada um dos membros do conselho fiscal deverá ser igual ou superior a 10% da que, em média, for atribuída a cada diretor.

QUESTÃO 33

Uma empresa industrial adquiriu estoques de materiais a serem utilizados em sua produção. Os bens foram adquiridos por R\$ 120.000,00, sobre os quais incidiu a alíquota de 15% de ICMS. Sobre esse valor incidiu mais o IPI (não-recuperável), à alíquota de 10%. O lançamento a ser feito, corretamente, é:

- | | | | |
|----------|----------------------------|---------|---------|
| A | D – Estoques | 102.000 | |
| | D – Conta corrente de ICMS | 18.000 | |
| | D – Conta corrente de IPI | 12.000 | |
| | C – Fornecedores | | 132.000 |
| B | D – Estoques | 132.000 | |
| | D – Conta corrente de ICMS | 18.000 | |
| | C – Fornecedores | | 150.000 |
| C | D – Estoques | 114.000 | |
| | D – Conta corrente de ICMS | 18.000 | |
| | C – Fornecedores | | 132.000 |
| D | D – Estoques | 120.000 | |
| | C – Fornecedores | | 120.000 |

RASCUNHO**QUESTÃO 34**

Há situações comuns de fraudes em processos licitatórios. Nesse contexto, assinale a opção que corresponde a uma situação passível de incriminação.

- A** exigência de características do licitante alheias ao objeto da licitação
- B** exigência de capital social inferior ao objeto da licitação
- C** adjudicação do objeto da licitação entre vários concorrentes
- D** fornecimento do edital a título não-oneroso

QUESTÃO 35

Assinale a opção correta, relativa aos regimes cambiais.

- A** O câmbio flutuante tem a vantagem de oferecer maior previsibilidade a exportadores e tomadores de recursos em dólar.
- B** O chamado *currency board* é uma modalidade de câmbio fixo em que a oferta de moeda local depende do volume de reservas cambiais.
- C** A essência do regime de taxas flutuantes funda-se na intervenção do Banco Central ao comprar e vender divisas.
- D** Os países que adotam câmbio fixo tendem a desvalorizar sua moeda, estimulando as exportações e dificultando as importações.

QUESTÃO 36

Constitui crime de lavagem de dinheiro a ocultação da natureza de bens, direitos ou valores provenientes, diretamente, de alguns crimes. Não constitui crime dessa natureza o(a)

- A** tráfico ilícito de substâncias entorpecentes ou drogas afins.
- B** extorsão mediante seqüestro.
- C** latrocínio.
- D** crime contra a administração pública.

QUESTÃO 37

Considere-se que um título de valor nominal de R\$ 10.000,00 seja descontado 3 meses antes do vencimento, a uma taxa de desconto de 10% ao mês. Acerca dessa operação, assinale a opção correta.

- A** A taxa de desconto de 10% ao mês é equivalente, no regime de capitalização composta, a uma taxa trimestral superior a 32%.
- B** Se for usado o desconto comercial simples, a taxa mensal efetiva da operação será superior a 13%.
- C** Caso seja usado o desconto racional simples, o valor do desconto será superior a R\$ 2.400,00.
- D** Se for usado o desconto comercial composto, o valor do desconto será inferior a R\$ 2.650,00.

QUESTÃO 38

Nos itens subseqüentes, são apresentadas situações hipotéticas seguidas de uma assertiva a ser julgada.

- I Uma dívida deverá ser quitada em 10 prestações anuais e consecutivas à taxa de juros compostos de $i\%$ ao ano, com a primeira prestação a vencer em um ano após a tomada do empréstimo. Nessa situação, se o empréstimo for quitado pelo sistema francês de amortização, a segunda amortização será maior do que a primeira.
- II A quantia de R\$ 30.000,00 foi financiada pelo sistema de amortização constante em 6 prestações mensais a juros de 1% ao mês. Nessa situação, o total de juros pagos ao se quitar o financiamento é superior a R\$ 1.100,00.
- III Fernando quer fazer 24 depósitos mensais consecutivos de R\$ 1.000,00 em uma caderneta de poupança. O primeiro depósito é feito na data de hoje e a instituição financeira paga uma taxa de juros compostos de 1% ao mês. Supondo-se que $1,01^{25} = 1,28$ e que não serão feitas retiradas, então, ao final dos próximos 24 meses, o saldo de Fernando na caderneta será inferior a R\$ 26.000,00.
- IV Paulo comprou um carro em 12 prestações mensais consecutivas e iguais a R\$ 2.500,00. A primeira prestação venceu em um mês após a compra do carro, e a taxa de juros usada na negociação foi a de juros compostos e de 8% ao mês. Supondo-se que $1,08^{-12} = 0,40$, é correto afirmar que o valor à vista do carro comprado por Paulo era inferior a R\$ 20.000,00.

Estão certos apenas os itens

- A** I e II.
B I e IV.
C II e III.
D III e IV.

Texto para as questões 39 e 40

Um levantamento para avaliar a quantidade de erros em documentos administrativos foi realizado em uma amostra de 100 documentos. Em cada um deles foi encontrada a quantidade de erros (Q). Os resultados estão na seguinte tabela de frequências.

(Q) quantidade de erros por documento	freqüência
0	30
1	10
2	20
3	30
4	10
total	100

QUESTÃO 39

Com base nas informações apresentadas no texto, assinale a opção correta.

- A** O número médio de erros por documento é inferior a 1,9.
B A mediana dos números de erros observados no levantamento é igual a 1,5.
C A distribuição dos erros é unimodal.
D A amplitude da quantidade de erros é igual a 5.

QUESTÃO 40

Ainda com base nas informações do texto, é correto afirmar que a variância da distribuição dos erros está entre

- A** 0,5 e 1,5.
B 1,5 e 2,5.
C 2,5 e 3,5.
D 3,5 e 4,5.

RASCUNHO