

# Concurso Público Nível Superior

Unidade de Pesquisa

Museu de Astronomia e Ciências Afins (MAST)

Cargo: Analista em C&T Pleno I

## Código G3

CADERNO DE PROVAS OBJETIVAS E DISCURSIVA

Aplicação: 26/9/2004

### TARDE

**CESPE**

UNIVERSIDADE DE BRASÍLIA  
Grande Oportunidades para Realizar Sonhos

### LEIA COM ATENÇÃO AS INSTRUÇÕES ABAIXO.

- 1 Ao receber este caderno, confira se ele contém **cento e vinte** itens, correspondentes às provas objetivas, corretamente ordenados de **1 a 120**, e a prova discursiva, acompanhada de uma página para rascunho.
- 2 A página para rascunho é de uso opcional; não contará, portanto, para efeito de avaliação.
- 3 Caso o caderno esteja incompleto ou tenha qualquer defeito, solicite ao fiscal de sala mais próximo que tome as providências cabíveis.
- 4 Nos itens das provas objetivas, recomenda-se não marcar ao acaso: a cada item cuja resposta diverja do gabarito oficial definitivo, além de não marcar ponto, o candidato recebe pontuação negativa, conforme consta em edital.
- 5 Não utilize nenhum material de consulta que não seja fornecido pelo CESPE.
- 6 Não serão distribuídas folhas suplementares para rascunho nem para texto definitivo.
- 7 Durante as provas, não se comunique com outros candidatos nem se levante sem autorização do chefe de sala.
- 8 A duração das provas é de **quatro horas e trinta minutos**, já incluído o tempo destinado à identificação — que será feita no decorrer das provas —, ao preenchimento da folha de respostas e à transcrição do texto definitivo para a folha de texto definitivo da prova discursiva.
- 9 Na prova discursiva, não será avaliado texto escrito a lápis, em local indevido ou que tenha identificação fora do local apropriado.
- 10 Ao terminar as provas, chame o fiscal de sala mais próximo, devolva-lhe as suas folhas de respostas e de texto definitivo da prova discursiva e deixe o local de provas.
- 11 A desobediência a qualquer uma das determinações constantes no presente caderno, na folha de rascunho, na folha de respostas ou na folha de texto definitivo poderá implicar a anulação das suas provas.

#### AGENDA

- I **27/9/2004**, a partir das 10 h (horário de Brasília) – Gabaritos oficiais preliminares das provas objetivas: Internet — [www.cespe.unb.br](http://www.cespe.unb.br) — e quadros de avisos do CESPE/UnB, em Brasília.
- II **28 e 29/9/2004** – Recursos (provas objetivas): em locais e horários que serão informados na divulgação dos gabaritos.
- III **20/10/2004** – Resultado final das provas objetivas e resultado provisório da prova discursiva: locais mencionados no item I e Diário Oficial da União.
- IV **21 e 22/10/2004** – Recursos (prova discursiva): em locais e horários que serão informados na divulgação desse resultado.
- V **10/11/2004** – Resultado final da prova discursiva e convocação para a entrega de documentos para análise de títulos e currículo: locais mencionados no item III.

#### OBSERVAÇÕES

- Não serão objeto de conhecimento recursos em desacordo com o item 10 do Edital n.º 1/2004 – MCT, de 24/6/2004.
- Informações adicionais: telefone 0(XX) 61 448 0100; Internet – [www.cespe.unb.br](http://www.cespe.unb.br).
- É permitida a reprodução deste material apenas para fins didáticos, desde que citada a fonte.



• De acordo com o comando a que cada um dos itens de 1 a 120 se refira, marque, na **folha de respostas**, para cada item: o campo designado com o código **C**, caso julgue o item **CERTO**, ou o campo designado com o código **E**, caso julgue o item **ERRADO**. A ausência de marcação ou a marcação de ambos os campos não serão apenadas, ou seja, não receberão pontuação negativa. Para as devidas marcações, use a folha de rascunho e, posteriormente, a **folha de respostas**, que é o único documento válido para a correção das suas provas.

• Nos itens que avaliam **Noções de Informática**, a menos que seja explicitamente informado o contrário, considere que todos os programas mencionados estão em configuração-padrão, em português, que o *mouse* está configurado para pessoas destros e que expressões como clicar, clique simples e clique duplo referem-se a cliques com o botão esquerdo do *mouse*. Considere também que não há restrições de proteção, de funcionamento e de uso em relação aos programas, arquivos, diretórios e equipamentos mencionados.

## CONHECIMENTOS BÁSICOS

Parecer CONJUR n.º XXY

1 Assunto: Autorização para Remessa de Material  
para o Exterior — Universidade Federal de AAA.  
Of. PR XYY/99, 0X.0Y.0000

4 O Reitor da Universidade Federal de AAA  
(UFAAA) solicita ao MCT autorização para “encaminhar  
material científico para a Universidade de BBB — Estados  
7 Unidos da América — para fins de estudo.”. O material a ser  
remetido ao exterior, amostras sedimentológicas, deve passar  
por processo de análise e triagem em equipamentos  
10 especializados não disponíveis nos laboratórios daquela  
instituição.

(...)

13 7. Isto posto, recomendo que o pedido seja  
encaminhado ao CNPq para as providências administrativas  
cabíveis e, concomitantemente, uma cópia deste parecer seja  
16 enviada ao Magnífico reitor da UFAAA, para atender os  
aspectos mencionados no item 6.

É o parecer.

Considerando que o texto acima é um trecho destacado e  
adaptado de um parecer do MCT, julgue os itens a seguir.

- 1 Para que o documento respeite as regras da redação oficial, será necessário acrescentar a data à identificação do parecer, precedida de uma vírgula e da preposição **de**.
- 2 Mantém-se o respeito ao uso do padrão culto da linguagem ao se empregar, alternativamente, **devem** em lugar de “deve” (l.8).
- 3 O respeito à formatação do documento exige que o trecho correspondente a (...) seja preenchido por cinco parágrafos numerados de 2 a 6.
- 4 Preservam-se a correção gramatical e os sentidos do texto ao se acrescentar a preposição **a** ao artigo “os” (l.16).

1 Se as idéias comuns revelam alguma coisa, se o  
sentido das palavras tem algum valor, se atuam sobre  
nosso corpo e modelam nosso espírito, dando, portanto,  
4 ao pensamento a dignidade do sensível, somos levados a  
pensar sobre a origem e a natureza das palavras que nos  
7 cercam hoje, sobre o sentido de certas noções das quais  
historiadores e filósofos se servem com frequência.

(...)

10 Eis a dificuldade: da mesma maneira que, no mundo  
da produção, cria-se “não apenas um objeto para o sujeito,  
mas também um sujeito para o objeto”, assim também nossos  
13 pensamentos mais profundos são dirigidos de fora e  
tornam-se cada vez mais indiferentes à nossa potência de  
pensar e agir, atraídos apenas pelo fútil, pela curiosidade  
ávida de sensacionalismo, pela excitação banal.

Adauto Novaes. *Sobre tempo e história. In: Tempo e história.*  
São Paulo: Companhia das Letras, 1992, p. 10 (com adaptações).

A respeito da organização das idéias do texto acima, julgue os  
itens seguintes.

- 5 As três orações iniciadas pela conjunção **se** (l.1-3) constituem condições e razões para a constatação da idéia que se inicia por “somos levados a” (l.4).
- 6 Independentemente da ordem em que os complementos da forma verbal “dando” (l.3) aparecem na oração, o emprego da preposição em “ao pensamento” (l.4) indica que “o pensamento” é, sintaticamente, seu objeto indireto.
- 7 O pronome “quais” (l.6) está no plural porque se refere a “palavras” (l.5).
- 8 A expressão “Eis a dificuldade” (l.9) tem a função textual de organizar a argumentação, ligando as idéias do parágrafo anterior à dificuldade explicitada depois do sinal de dois-pontos.
- 9 As expressões “são dirigidos” (l.12) e “tornam-se” (l.13) estão empregadas na voz passiva para reforçar a característica de impessoalidade da linguagem usada na argumentação do texto.
- 10 De acordo com a argumentação do texto, as palavras, ao expressarem pensamentos, prestam-se para criar não apenas um objeto para o sujeito, mas também um sujeito para o objeto.

1 É interessante observar como, ao longo da história,  
as políticas racistas nunca deixaram de pedir à ciência que  
legitimasse sua hierarquização social, seus preconceitos, suas  
4 exclusões. Muitos foram os cientistas que, prontamente, se  
puseram a conceber teorias, instrumentos de medição,  
critérios e teses que supostamente definiam as características  
7 das diferentes “raças” humanas e formulavam a base de  
sustentação de uma série de eventos que marcaram a história  
do homem, da expansão colonial européia ao *apartheid* sul-  
10 africano, do segregacionismo norte-americano ao nazismo.

O que se pergunta nos dias de hoje é se um cientista  
pode se interessar por “raças” humanas sem estabelecer ou  
13 reforçar qualquer desigualdade. Na verdade, cada um de nós  
tem sua própria definição do termo, assim como os ideólogos  
do racismo sempre encontraram defensores para proclamar  
16 que o “politicamente correto” é cientificamente incorreto.

A ciência e as políticas racistas. In: *Planeta*, jul./2004, p. 17 (com adaptações).

Com relação às idéias e estruturas do texto acima, julgue os itens  
subseqüentes.

- 11 Os termos “políticas racistas” e “ciência”, ambos na linha 2,  
estão empregados, figurativamente, com referência a  
“raças” (l.7) e “cientistas” (l.4), respectivamente.
- 12 A retirada da expressão “supostamente” (l.6) prejudica a  
clareza do texto, mas não altera sua argumentação.
- 13 Argumentativamente, as estruturas sintáticas “da expansão  
colonial européia ao *apartheid* sul-africano” (l.9-10) e  
“do segregacionismo norte-americano ao nazismo” (l.10)  
opõem um termo positivo a um termo negativo.
- 14 De acordo com os sentidos do texto, o pronome “nós” (l.13)  
refere-se aos cientistas, excluindo os leitores, que são  
identificados como “ideólogos do racismo” (l.14-15).
- 15 O emprego da terceira pessoa no pronome “sua” (l.14)  
atende à exigência das regras de concordância com a  
expressão de terceira pessoa “cada um de nós” (l.13).

1 Americans have an “insatiable appetite for a longer  
life” complains Daniel Callahan, 57. They should be  
“creatively and honorably accepting aging and death, not  
4 struggling to overcome them”. Medicine, Callahan chides\*,  
ought to “give up its relentless drive to extend the life of the  
aged” who in any event are often “being saved from death for  
7 chronic illness, with Alzheimer’s as a tragic example”. It is  
time to honor a “natural life-span” that normally winds down  
in the late 70s to mid-80s, he says.

\* **chide** – to speak (to someone) severely because they have behaved badly.

Bonnie Angelo. *We the people*. “Science and  
Technology”. *Time*, 1997 (with adaptations).

Based on the text above, judge the following items.

- 16 Daniel Calahan believes that, for aged people, the longer life  
is, the better.
- 17 The word “aging” (l.3) means **growing old**.
- 18 Elderly Americans tend to accept death naturally.
- 19 Fighting against death may be worse than accepting it.
- 20 The expression “winds down” (l.8) means **ends gradually**.

### Text for items 21 through 30

1 What if television sets were equipped with knobs  
that let viewers customize the shows they watch? If they  
could adjust the sex content, for example, or regulate the  
4 violence, or shift the political orientation to the left or right?  
What if motion pictures were able to monitor the attention  
level of audiences and modify their content accordingly,  
7 lengthening some scenes while cutting others short if they  
evoke yawns? What if the newspapers that reach subscribers’  
home every morning could be edited with each particular  
10 reader in mind? There are a lot of what-ifs, but none of these  
is mere futuristic fantasy. All of them, in fact, are the goals  
of research projects now under way at the Media Laboratory,  
13 a dazzling new academic facility at the Massachusetts  
Institute of Technology (MIT). The Lab’s unique mission is  
to transform today’s passive mass media, particularly TV,  
16 into flexible technologies that can respond to individual  
tastes.

Phillip Elmer-DeWitt. *We the people*. “Science  
and Technology”. In: *Time*, 1997 (with adaptations).

According to the text above,

- 21 viewers are now able to adapt sex content as it is shown on  
the TV screen.
- 22 the violence content on a TV program may become under the  
TV watchers’ control.
- 23 movies can make people yawn.
- 24 papers can, at present, cope with each readers’ particular  
interests.
- 25 the Media Laboratory has a very simple task.

In the text above,

- 26 some of the “what-ifs” (l.10) are nothing more than pure  
speculation.
- 27 “a lot of” (l.10) can be correctly replaced by **many**.
- 28 “these” (l.10) refers to “what-ifs” (l.10).
- 29 “what-ifs” (l.10) represent true projects carried out by MIT.
- 30 “facility” (l.13) means **absence of difficulty**.

A senha de acesso a uma conta em determinado banco é formada  
por 7 símbolos alfanuméricos: 3 letras, escolhidas entre as 26 do  
alfabeto, seguidas de 4 dígitos numéricos, escolhidos entre os  
algarismos 0, 1, 2, ..., 9. Considerando essas informações e que,  
para a formação de uma senha, admite-se a repetição de símbolos,  
julgue os seguintes itens.

- 31 A quantidade de senhas distintas que podem ser obtidas sem  
que apareça o algarismo 5 na primeira posição reservada aos  
algarismos é inferior a 100 milhões.
- 32 Escolhendo-se uma senha ao acaso, a probabilidade de  
que as 2 primeiras letras dessa senha sejam iguais é  
superior a 5%.

Uma empresa adota a seguinte sistemática de remunerações para cada um dos seus operários: para cada dia de trabalho que comparece ao serviço, o operário recebe R\$ 45,00; a cada falta, o operário, além de não receber a remuneração correspondente àquele dia, é multado em R\$ 7,00. Ao final de 25 dias de trabalho nessa empresa, Carlos recebeu a quantia de R\$ 761,00.

Com relação a essa situação hipotética, julgue os itens que se seguem.

- 33** No período citado, Carlos compareceu ao serviço em mais de 17 dias.
- 34** No período em questão, Carlos foi multado em menos de R\$ 42,00.

O lucro mensal, em milhares de reais, de uma pequena fábrica pode ser modelado pela função  $L(t) = -t^2 + 16t - 55$ , em que  $t$  é o tempo, em horas, de funcionamento diário da fábrica, e  $t \geq 0$ . Para um determinado  $t_0$ ,  $L(t_0) < 0$ , significa que a fábrica tem prejuízo funcionando  $t_0$  horas por dia.

Considerando essa situação hipotética, julgue os itens subseqüentes.

- 35** O lucro mensal máximo da fábrica é inferior a R\$ 10.000,00.
- 36** Considere que  $t_1$  e  $t_2$  sejam os números de horas diárias em que a fábrica funciona e obtém lucro zero, ou seja,  $L(t_1) = L(t_2) = 0$ . Nessas condições,  $t_1 + t_2$  é superior a 15 horas.


Considere que o número de pessoas que escuta um boato em uma comunidade, após  $t$  horas, em que  $t \geq 0$ , possa ser modelado pela função  $f(t) = 4^{at+b}$ , em que  $a$  e  $b$  são constantes. Inicialmente, ou seja, para  $t = 0$ , 8 pessoas ouviram o boato; e depois de 1 hora, ou seja, para  $t = 1$ , 128 pessoas já haviam escutado o boato. Com base nessas considerações, julgue os itens a seguir.

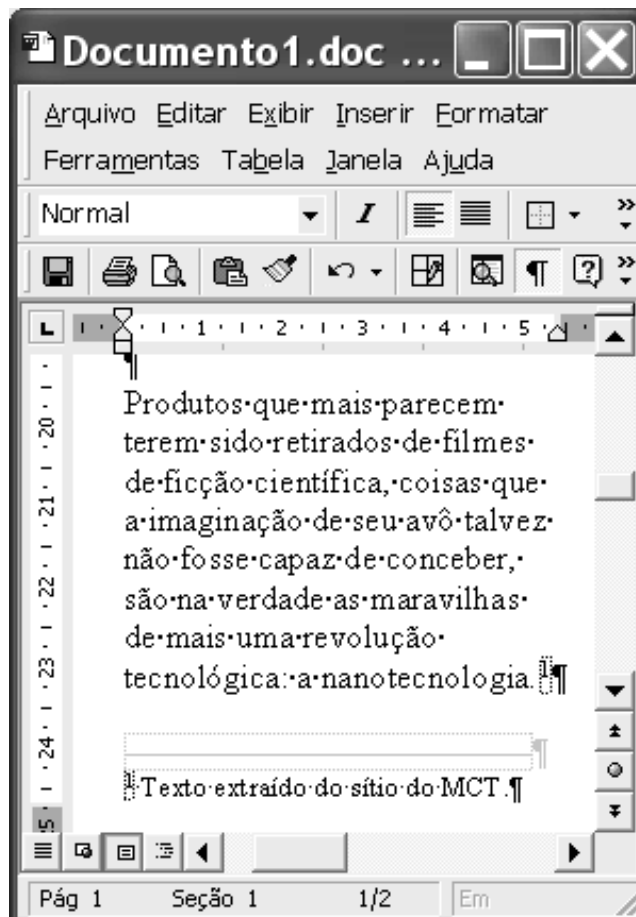
- 37** A constante  $b$  é um número inteiro positivo maior que 2.
- 38** Após 2 horas do instante em que as 8 primeiras pessoas ouviram o boato, mais de 2.000 pessoas já haviam escutado o boato.

Julgue os itens seguintes.



- 39** Considere que, em um conjunto de 100 peças, contendo peças perfeitas e peças defeituosas, a probabilidade de uma pessoa, ao selecionar aleatoriamente um lote de 5 peças, escolher 3 ou mais peças perfeitas é de 68% e a probabilidade de escolher 3 ou menos peças perfeitas é de 65%. Nessas condições, é correto concluir que a probabilidade de essa pessoa, ao selecionar o lote, escolher exatamente 3 peças perfeitas é superior a 40%.
- 40** Considere que Paulo executa um serviço em 10 dias e Mário executa o mesmo serviço em 15 dias. Nessas condições, caso Paulo e Mário trabalhem juntos na execução de determinado serviço, de modo que o trabalho de um não interfira no rendimento do trabalho do outro, eles levarão menos de 7 dias para executar o serviço.

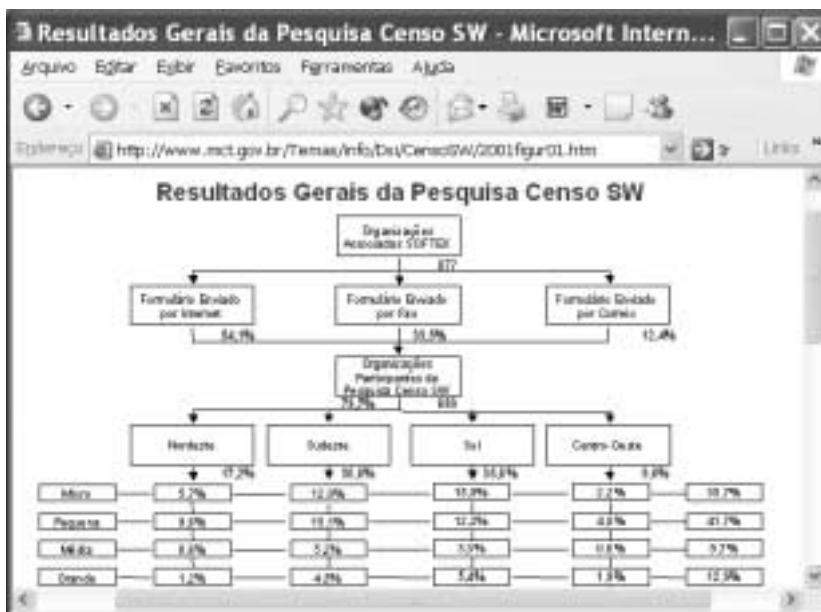
Considerando a figura ao lado, que mostra uma janela do Word 2000 contendo parte de um texto extraído e adaptado do sítio <http://agenciact.mct.gov.br>, julgue os itens subsequentes, acerca do Word 2000.

- 41 O texto copiado do sítio do MCT pode ter sido inserido no documento em edição por meio do seguinte procedimento: usando-se um navegador de Internet, acessar a página do MCT na qual o texto estava disponível; nessa página, selecionar o trecho de texto desejado; pressionar e manter pressionada a tecla **Ctrl**; teclar **C**; liberar a tecla **Ctrl**; abrir o Word 2000; no *menu* **Editar**, clicar a opção Colar especial; na janela resultante dessa ação, definir que o fragmento deve ser colado como texto não-formatado; clicar OK.
- 42 A nota de rodapé pode ter sido adicionada no final da página do documento em edição usando-se funcionalidades disponibilizadas em opção encontrada no *menu* **Inserir**.
- 43 Caso se deseje transferir o texto mostrado para um *slide* do PowerPoint, é suficiente realizar o seguinte procedimento: posicionar o ponto de inserção imediatamente antes da letra “P” da palavra “Produtos”; clicar  para definir o parágrafo corrente como um *slide*; no *menu* **Arquivo**, clicar a opção que permite enviar esse *slide* para apresentação de PowerPoint.




Considerando que o conteúdo da página *web* mostrada na janela do Internet Explorer 6 (IE6) ilustrada ao lado consiste em um objeto associado a uma figura armazenada em um arquivo do tipo gif, julgue os itens a seguir.


- 44 Ao se clicar com o botão direito do *mouse* sobre o objeto da página *web*, será disponibilizada uma lista de opções com a qual é possível converter o mencionado arquivo gif em um arquivo do tipo Paint, que poderá ser inserido em um documento Word.
- 45 Ao se clicar o botão , serão disponibilizados recursos do IE6 que permitem realizar pesquisa em sítios da Internet.
- 46 Na Internet, para que páginas *web* que contêm elementos associados a arquivos de figura, imagem ou vídeo possam ser carregadas em processo de *download*, é necessário estabelecer uma conexão do tipo banda larga entre o servidor e o cliente da aplicação.
- 47 Ao se clicar o botão , serão disponibilizados recursos do IE6 que permitem obter informações relativas a páginas *web* previamente acessadas.







A figura acima mostra uma janela do Excel 2002, com uma planilha em edição contendo as notas de dois candidatos em um concurso. A nota global de um candidato, a ser inserida em uma célula da coluna D, é igual à média aritmética das notas do candidato nas duas disciplinas indicadas. Com relação a essa situação hipotética, julgue o item seguinte.

- 48 Para calcular a nota global do candidato João da Silva e pôr o resultado na célula D2, é suficiente realizar a seguinte seqüência de ações: clicar a célula D2, digitar  $=B2+C2:2$  e, em seguida, teclar .



A figura acima mostra parte da área de trabalho do Windows XP. Com relação a essa figura e ao Windows XP, julgue os itens subseqüentes.

- 49 Para se abrir a pasta Meus documentos, é suficiente clicar o botão  e, na lista de opções que é exibida em consequência dessa ação, clicar Meus documentos.
- 50 Para se esvaziar a lixeira do Windows XP, é suficiente clicar, com o botão direito do *mouse*, o ícone .

## CONHECIMENTOS ESPECÍFICOS

O Decreto n.º 4.553/2002, que dispõe acerca de documentos sigilosos, entre outros assuntos, admite o acesso a dados ou informações sigilosos em órgãos e entidades públicos e instituições de caráter público. Com base nesse decreto, é facultado o acesso a

- 51 agentes públicos, no exercício de cargo, função, emprego ou atividade pública, que tenham necessidade de conhecer os documentos.
- 52 pessoa legalmente autorizada por procuração de próprio punho do interessado.
- 53 cidadão, naquilo que diga respeito à sua pessoa, ao seu interesse particular ou interesse coletivo ou geral, mediante requerimento a órgão ou entidade competente.
- 54 responsável pelo arquivo para identificação do inteiro teor dos documentos.
- 55 público externo no caso de informações pessoais, desde que autorizado pelo titular ou seus herdeiros.

A produção e a legalidade dos documentos digitais vêm provocando discussões na arquivística mundial. No Brasil, as determinações mais recentes sobre esse assunto estão contidas na Resolução n.º 20/2004 do Conselho Nacional de Arquivos (CONARQ). Acerca desse instrumento, julgue os itens a seguir.

- 56 Entende-se por documento arquivístico digital o documento arquivístico codificado em dígitos binários cujas produção, tramitação e armazenamento são realizadas por sistema computacional.
- 57 São documentos arquivísticos digitais reconhecidos pelo CONARQ somente planilhas eletrônicas, mensagens de correio eletrônico, sítios na Internet e bases de dados.
- 58 Nos projetos de implantação de sistemas eletrônicos de gestão de documentos, é de competência dos profissionais de arquivo a participação nas etapas de concepção e implantação, cabendo o gerenciamento aos profissionais de informática.
- 59 Após o processo de digitalização, somente os conjuntos documentais originais com prazo de guarda finalizado poderão ser eliminados.

A respeito da difusão dos acervos arquivísticos na Web, julgue os itens que se seguem.

- 60 Em diversos países, os arquivos disponibilizam todo o acervo via web.
- 61 A preservação dos fundos documentais é uma das principais vantagens do uso dos acervos arquivísticos pela Web.
- 62 A Web permite que as informações sobre o acervo arquivístico sejam disponibilizadas a qualquer cidadão, independentemente de sua localização espacial.
- 63 A adoção das novas tecnologias, incluindo a digitalização dos acervos, tem favorecido a redução dos custos, com os programas de difusão dos arquivos públicos.

No que se refere ao processo de descrição de documentos e à Norma Geral Internacional de Descrição Arquivística (ISAD(G)) proposta pelo Conselho Internacional de Arquivos, julgue os itens subseqüentes.

- 64** Inexistindo restrições à reprodução dos documentos descritos, torna-se desnecessário o registro dessa informação no referido campo.
- 65** O campo área de notas é indicado para o registro de informação especializada ou de outra informação considerada relevante e que não possua campo de descrição específico.
- 66** Os originais e as cópias dos documentos serão indicados no campo existência e localização dos originais.
- 67** No campo destinado à identificação do idioma, pode-se mencionar o uso de abreviaturas incomuns registradas na unidade de descrição.
- 68** As normas são aplicáveis somente aos documentos textuais e à documentação iconográfica.

Acerca dos instrumentos de pesquisa, julgue os itens que se seguem.

- 69** Os catálogos são instrumentos de pesquisa de circulação interna à instituição arquivística.
- 70** A função do guia é informar ao usuário a composição dos fundos documentais existentes no arquivos.
- 71** O registro topográfico é um instrumento de pesquisa que possibilita a localização física dos documentos nos depósitos.
- 72** Na elaboração dos instrumentos de pesquisa, o arquivista deverá registrar as datas-limite como um dos elementos principais de identificação dos fundos.
- 73** O guia de fontes é adotado para a descrição de grandes séries documentais.

A Resolução n.º 17/2003 do CONARQ estabelece procedimentos relativos aos arquivos privados, em consonância com os dispositivos do Decreto n.º 4.073/2002. Com relação a esses arquivos e atos normativos, julgue os itens seguintes.

- 74** É de competência do presidente da República declarar os arquivos privados como de interesse público e social.
- 75** Em obediência ao princípio da territorialidade, os arquivos privados declarados como sendo de interesse público e social deverão ser transferidos para uma instituição arquivística pública municipal.
- 76** Inserem-se automaticamente na categoria dos documentos privados de interesse público e social somente os arquivos e documentos privados tombados pelo poder público e os arquivos presidenciais.
- 77** A União deve ser notificada, no caso de alienação dos arquivos privados declarados de interesse público e social.

A construção do pensamento arquivístico e de seu escopo teórico remonta a período que constituíram verdadeiros marcos, compondo a evolução dos arquivos. Acerca dessa evolução, julgue os itens a seguir.

- 78** O século XVIII é um marco na história dos arquivos devido ao surgimento dos arquivos nacionais em diversos países.
- 79** A prática de pesquisa nos arquivos, sobretudo desenvolvida por historiadores, teve início na segunda metade do século XIX.
- 80** Na Grécia antiga, os documentos eram armazenados no *archéion* e o acesso aos arquivos do Estado era facultado a qualquer cidadão, sendo permitida, inclusive, a cópia de documentos para uso como elemento de prova nos casos de litígio.
- 81** O surgimento da teoria das três idades constituiu um dos contributos da Revolução Francesa para a arquivística.
- 82** A lei norte-americana *Freedom of Information Act* constitui um marco no direito de acesso aos arquivos por parte do cidadão.

Com referência ao processo de transferência de documentos arquivísticos, julgue os itens que se seguem.

- 83** Finalizado o trâmite, os documentos são transferidos, de imediato, ao arquivo central.
- 84** As transferências devem ser acompanhadas de instrumentos descritivos que possibilitem a identificação imediata dos conjuntos documentais.
- 85** Ocorrerá o processo de transferência para todos os documentos acumulados no arquivo corrente.
- 86** Os documentos classificados como sigilosos permanecerão no arquivo corrente aguardando a desclassificação, quando serão transferidos ao arquivo central.

De acordo com o Decreto n.º 4.073/2002, são considerados arquivos públicos os conjuntos de documentos produzidos e recebidos

- 87** por órgãos e entidades públicas federais, estaduais, do Distrito Federal e municipais, em decorrência de suas funções administrativas, legislativas e judiciárias.
- 88** por agentes do poder público no exercício de seu cargo ou função ou deles decorrente.
- 89** pelas empresas públicas e pelas sociedades de economia mista.



Em uma determinada instituição, foram identificadas duas salas utilizadas como depósito de documentos. Nas estantes e arquivos de aço, os documentos estavam acondicionados em caixas-arquivo, pastas suspensas e uma parte deles era de documentos sem invólucro. Os pacotes amarrados possuíam a identificação de que os documentos eram sigilosos. Os documentos mais antigos apresentavam danos, impedindo, em alguns deles, uma identificação prévia acerca de seus conteúdos. Parte dos documentos estava empilhada no chão, sendo que as plantas e os cartazes estavam dobrados e as fotografias estavam agrupadas formando pacotes, inexistindo os negativos. A documentação textual, sobretudo os processos, os projetos e os relatórios estavam distribuídos nas unidades de condicionamento. Os documentos mais recentes, de cerca de 5 anos em diante, ainda não foram enviados para esses depósitos e, segundo informações dos servidores da instituição, estão distribuídos nas salas de trabalho.

Acerca da situação acima descrita, julgue os itens subsequentes, supondo que um funcionário tenha de realizar um tratamento arquivístico no referido acervo.

- 90 Considerando a diversidade de documentos existentes, a metodologia a ser adotada para a organização do acervo deve primar pela tipologia documental.
- 91 Aos documentos com informações de valor histórico, probatório e informativo será atribuída a guarda permanente.
- 92 É proibida a reprodução dos documentos sigilosos.
- 93 O diagnóstico a ser elaborado deverá contemplar a mensuração de todo o acervo, inclusive dos documentos sem invólucro.
- 94 Concomitantemente à elaboração do plano de classificação, é indicada a elaboração de um inventário do acervo, a fim de instruir as pesquisas externas.
- 95 Na etapa de identificação do acervo, podem ser realizados descartes de documentos.
- 96 Constituem atribuição do arquivista as atividades de classificação, arranjo, descrição e execução de tarefas necessárias à guarda e conservação dos documentos.
- 97 Como medida preventiva é indicada a produção do negativo de 2.ª geração para todas as fotografias existentes.
- 98 É indicado que os responsáveis pela implantação do programa de gestão de documentos realizem palestras de sensibilização na instituição com os gestores das áreas das atividades-meio e fim, com o objetivo de revelar o tratamento a ser realizado.
- 99 Durante a fase de organização do acervo, o empréstimo de documentos é permitido.

Acerca da clientela atendida pelos arquivos públicos, julgue os itens a seguir.

- 100 O cidadão comum constitui a parcela de usuário freqüente nos arquivos públicos notadamente de cunho permanente.
- 101 Analisar o perfil dos usuários dos arquivos constitui uma das tarefas afetas ao processo de avaliação de documentos.
- 102 A consulta aos documentos do acervo deve antever uma identificação prévia do usuário.

Como medidas preventivas ao acervo arquivístico, a literatura arquivística recomenda determinados procedimentos a fim de serem evitados danos aos documentos em seus diferentes suportes e estabelece instruções para a construção ou adaptação de prédios destinados a arquivos, para a disposição do mobiliário e dos equipamentos bem como fornece orientações de proteção ambiental. A respeito dessas medidas preventivas, julgue os itens subsequentes.

- 103 É recomendável que as estantes tenham 2,20 m de altura e sejam instaladas em fileiras geminadas.
- 104 As medidas das prateleiras das estantes podem oscilar de 0,90 m a 1,20 m de comprimento e ter cerca de 0,40 m de profundidade.
- 105 O processo de fumigação é o mais indicado no combate aos agentes agressores, como insetos e microrganismos, que provocam danos aos documentos textuais em suporte papel.
- 106 No leiaute de distribuição do mobiliário, devem-se prever corredores entre as estanterias, contendo, no mínimo, 0,70 m de largura.
- 107 As estanterias devem possibilitar passagens em ângulos com espaço de 1,20 m de largura para a circulação dos carrinhos.
- 108 É indicado que o mobiliário para a área de consulta e a administrativa seja de aço ou de madeira, desde que esta seja tratada contra insetos e fogo.
- 109 Na área de recepção de documentos, deverão ser instaladas as salas de triagem e seleção de documentos e outra, isolada, destinada à higienização dos documentos.

Quanto ao procedimentos legais adotados nos processos de microfilmagem de documentos, julgue os itens seguintes.

- 110 A imagem de abertura deve constar de todos os rolos.
- 111 O término do filme é indicado pela sinalética mostrada na figura a seguir, que deve constar de todos os rolos.



- 112 O uso da sinalética mostrada na figura a seguir no processo de microfilmagem indica que o texto original está deteriorado.



- 113 É de responsabilidade das empresas e dos cartórios prestadores de serviços de microfilmagem de documentos a terceiros fornecer um documento de garantia do padrão de qualidade do serviço executado.
- 114 Um dos requisitos para a validação legal de microfimes produzidos no exterior é que sejam acompanhados de tradução oficial.
- 115 É facultado o descarte para todos os conjuntos documentais originais após o processo de microfilmagem.

A organização dos arquivos correntes propicia uma série de benefícios para as instituições. Tais benefícios incluem o(a)

- 116 redução do quantitativo de documentos devido aos descartes efetuados nessa fase.
- 117 agilização e o aumento da recuperação da informação.
- 118 melhor otimização do espaço, dos equipamentos utilizados e das atividades gerenciais.
- 119 adoção de normas que propiciam um controle efetivo de documentos nessa fase.
- 120 treinamento de todos os profissionais envolvidos com as atividades de gestão de documentos.

## PROVA DISCURSIVA

- Nesta prova, que vale **35** pontos, faça o que se pede, usando a página correspondente do presente caderno para rascunho. Em seguida, transcreva o texto para a folha de **TEXTO DEFINITIVO** da prova discursiva, no local apropriado, pois **não serão avaliados fragmentos de texto escritos em locais indevidos**.
- Qualquer fragmento de texto além da extensão máxima de **trinta** linhas será desconsiderado.

---

**ATENÇÃO!** Na **folha de texto definitivo da prova discursiva**, identifique-se apenas no cabeçalho, pois **não será avaliado** texto que tenha qualquer assinatura ou marca identificadora fora do local apropriado.

---

Inserir a dimensão ambiental na estratégia de desenvolvimento é questão central que se coloca na agenda do mundo contemporâneo. Cada vez mais, tende a ficar para trás a antiga concepção de desenvolvimento a qualquer preço. No caso brasileiro, cuja tradição de planejamento de política sustentável praticamente inexistente, discute-se o papel do Estado para a conformação dos interesses econômicos aos recursos naturais.

---

Considerando que o texto acima tem caráter unicamente motivador, redija um texto dissertativo acerca do seguinte tema.

**A atuação do Estado frente aos desafios do desenvolvimento sustentável.**

---

# RASCUNHO

1	
2	
3	
4	
5	
6	
7	
8	
9	
10	
11	
12	
13	
14	
15	
16	
17	
18	
19	
20	
21	
22	
23	
24	
25	
26	
27	
28	
29	
30	