

Concurso Público Nível Superior

Unidade de Pesquisa
Observatório Nacional (ON)
Cargo: Analista em C&T Pleno 2
Código H1

CADERNO DE PROVAS OBJETIVAS E DISCURSIVA

Aplicação: 26/9/2004

TARDE

CESPE
UNIVERSIDADE DE BRASÍLIA
Criando Oportunidades para Realizar Sonhos

LEIA COM ATENÇÃO AS INSTRUÇÕES ABAIXO.

- 1 Ao receber este caderno, confira se ele contém **cento e vinte** itens, correspondentes às provas objetivas, corretamente ordenados de **1 a 120**, e a prova discursiva, acompanhada de uma página para rascunho.
- 2 A página para rascunho é de uso opcional; não contará, portanto, para efeito de avaliação.
- 3 Caso o caderno esteja incompleto ou tenha qualquer defeito, solicite ao fiscal de sala mais próximo que tome as providências cabíveis.
- 4 Nos itens das provas objetivas, recomenda-se não marcar ao acaso: a cada item cuja resposta diverja do gabarito oficial definitivo, além de não marcar ponto, o candidato recebe pontuação negativa, conforme consta em edital.
- 5 Não utilize nenhum material de consulta que não seja fornecido pelo CESPE.
- 6 Não serão distribuídas folhas suplementares para rascunho nem para texto definitivo.
- 7 Durante as provas, não se comunique com outros candidatos nem se levante sem autorização do chefe de sala.
- 8 A duração das provas é de **quatro horas e trinta minutos**, já incluído o tempo destinado à identificação — que será feita no decorrer das provas —, ao preenchimento da folha de respostas e à transcrição do texto definitivo para a folha de texto definitivo da prova discursiva.
- 9 Na prova discursiva, não será avaliado texto escrito a lápis, em local indevido ou que tenha identificação fora do local apropriado.
- 10 Ao terminar as provas, chame o fiscal de sala mais próximo, devolva-lhe as suas folhas de respostas e de texto definitivo da prova discursiva e deixe o local de provas.
- 11 A desobediência a qualquer uma das determinações constantes no presente caderno, na folha de rascunho, na folha de respostas ou na folha de texto definitivo poderá implicar a anulação das suas provas.

AGENDA

- I **27/9/2004**, a partir das 10 h (horário de Brasília) – Gabaritos oficiais preliminares das provas objetivas: Internet — www.cespe.unb.br — e quadros de avisos do CESPE/UnB, em Brasília.
- II **28 e 29/9/2004** – Recursos (provas objetivas): em locais e horários que serão informados na divulgação dos gabaritos.
- III **20/10/2004** – Resultado final das provas objetivas e resultado provisório da prova discursiva: locais mencionados no item I e Diário Oficial da União.
- IV **21 e 22/10/2004** – Recursos (prova discursiva): em locais e horários que serão informados na divulgação desse resultado.
- V **10/11/2004** – Resultado final da prova discursiva e convocação para a entrega de documentos para análise de títulos e currículo: locais mencionados no item III.

OBSERVAÇÕES

- Não serão objeto de conhecimento recursos em desacordo com o item 10 do Edital n.º 1/2004 – MCT, de 24/6/2004.
- Informações adicionais: telefone 0(XX) 61 448 0100; Internet – www.cespe.unb.br.
- É permitida a reprodução deste material apenas para fins didáticos, desde que citada a fonte.

• De acordo com o comando a que cada um dos itens de 1 a 120 se refira, marque, na **folha de respostas**, para cada item: o campo designado com o código **C**, caso julgue o item **CERTO**, ou o campo designado com o código **E**, caso julgue o item **ERRADO**. A ausência de marcação ou a marcação de ambos os campos não serão apenadas, ou seja, não receberão pontuação negativa. Para as devidas marcações, use a folha de rascunho e, posteriormente, a **folha de respostas**, que é o único documento válido para a correção das suas provas.

• Nos itens que avaliam **Noções de Informática**, a menos que seja explicitamente informado o contrário, considere que todos os programas mencionados estão em configuração-padrão, em português, que o *mouse* está configurado para pessoas destros e que expressões como clicar, clique simples e clique duplo referem-se a cliques com o botão esquerdo do *mouse*. Considere também que não há restrições de proteção, de funcionamento e de uso em relação aos programas, arquivos, diretórios e equipamentos mencionados.

CONHECIMENTOS BÁSICOS

Parecer CONJUR n.º XXY

1 Assunto: Autorização para Remessa de Material
para o Exterior — Universidade Federal de AAA.
Of. PR XYY/99, 0X.0Y.0000

4 O Reitor da Universidade Federal de AAA
(UFAAA) solicita ao MCT autorização para “encaminhar
material científico para a Universidade de BBB — Estados
7 Unidos da América — para fins de estudo.”. O material a ser
remetido ao exterior, amostras sedimentológicas, deve passar
por processo de análise e triagem em equipamentos
10 especializados não disponíveis nos laboratórios daquela
instituição.

(...)

13 7. Isto posto, recomendo que o pedido seja
encaminhado ao CNPq para as providências administrativas
cabíveis e, concomitantemente, uma cópia deste parecer seja
16 enviada ao Magnífico reitor da UFAAA, para atender os
aspectos mencionados no item 6.

É o parecer.

Considerando que o texto acima é um trecho destacado e adaptado de um parecer do MCT, julgue os itens a seguir.

- 1 Para que o documento respeite as regras da redação oficial, será necessário acrescentar a data à identificação do parecer, precedida de uma vírgula e da preposição **de**.
- 2 Mantém-se o respeito ao uso do padrão culto da linguagem ao se empregar, alternativamente, **devem** em lugar de “deve” (l.8).
- 3 O respeito à formatação do documento exige que o trecho correspondente a (...) seja preenchido por cinco parágrafos numerados de 2 a 6.
- 4 Preservam-se a correção gramatical e os sentidos do texto ao se acrescentar a preposição **a** ao artigo “os” (l.16).

1 Se as idéias comuns revelam alguma coisa, se o
sentido das palavras tem algum valor, se atuam sobre
nosso corpo e modelam nosso espírito, dando, portanto,
4 ao pensamento a dignidade do sensível, somos levados a
pensar sobre a origem e a natureza das palavras que nos
7 cercam hoje, sobre o sentido de certas noções das quais
historiadores e filósofos se servem com frequência.

(...)

10 Eis a dificuldade: da mesma maneira que, no mundo
da produção, cria-se “não apenas um objeto para o sujeito,
mas também um sujeito para o objeto”, assim também nossos
13 pensamentos mais profundos são dirigidos de fora e
tornam-se cada vez mais indiferentes à nossa potência de
pensar e agir, atraídos apenas pelo fútil, pela curiosidade
ávida de sensacionalismo, pela excitação banal.

Adauto Novaes. *Sobre tempo e história. In: Tempo e história.*
São Paulo: Companhia das Letras, 1992, p. 10 (com adaptações).

A respeito da organização das idéias do texto acima, julgue os itens seguintes.

- 5 As três orações iniciadas pela conjunção **se** (l.1-3) constituem condições e razões para a constatação da idéia que se inicia por “somos levados a” (l.4).
- 6 Independentemente da ordem em que os complementos da forma verbal “dando” (l.3) aparecem na oração, o emprego da preposição em “ao pensamento” (l.4) indica que “o pensamento” é, sintaticamente, seu objeto indireto.
- 7 O pronome “quais” (l.6) está no plural porque se refere a “palavras” (l.5).
- 8 A expressão “Eis a dificuldade” (l.9) tem a função textual de organizar a argumentação, ligando as idéias do parágrafo anterior à dificuldade explicitada depois do sinal de dois-pontos.
- 9 As expressões “são dirigidos” (l.12) e “tornam-se” (l.13) estão empregadas na voz passiva para reforçar a característica de impessoalidade da linguagem usada na argumentação do texto.
- 10 De acordo com a argumentação do texto, as palavras, ao expressarem pensamentos, prestam-se para criar não apenas um objeto para o sujeito, mas também um sujeito para o objeto.

1 É interessante observar como, ao longo da história,
as políticas racistas nunca deixaram de pedir à ciência que
legitimasse sua hierarquização social, seus preconceitos, suas
4 exclusões. Muitos foram os cientistas que, prontamente, se
puseram a conceber teorias, instrumentos de medição,
critérios e teses que supostamente definiam as características
7 das diferentes “raças” humanas e formulavam a base de
sustentação de uma série de eventos que marcaram a história
do homem, da expansão colonial européia ao *apartheid* sul-
10 africano, do segregacionismo norte-americano ao nazismo.

O que se pergunta nos dias de hoje é se um cientista
pode se interessar por “raças” humanas sem estabelecer ou
13 reforçar qualquer desigualdade. Na verdade, cada um de nós
tem sua própria definição do termo, assim como os ideólogos
do racismo sempre encontraram defensores para proclamar
16 que o “politicamente correto” é cientificamente incorreto.

A ciência e as políticas racistas. In: *Planeta*, jul./2004, p. 17 (com adaptações).

Com relação às idéias e estruturas do texto acima, julgue os itens
subseqüentes.

- 11 Os termos “políticas racistas” e “ciência”, ambos na linha 2,
estão empregados, figurativamente, com referência a
“raças” (l.7) e “cientistas” (l.4), respectivamente.
- 12 A retirada da expressão “supostamente” (l.6) prejudica a
clareza do texto, mas não altera sua argumentação.
- 13 Argumentativamente, as estruturas sintáticas “da expansão
colonial européia ao *apartheid* sul-africano” (l.9-10) e
“do segregacionismo norte-americano ao nazismo” (l.10)
opõem um termo positivo a um termo negativo.
- 14 De acordo com os sentidos do texto, o pronome “nós” (l.13)
refere-se aos cientistas, excluindo os leitores, que são
identificados como “ideólogos do racismo” (l.14-15).
- 15 O emprego da terceira pessoa no pronome “sua” (l.14)
atende à exigência das regras de concordância com a
expressão de terceira pessoa “cada um de nós” (l.13).

1 Americans have an “insatiable appetite for a longer
life” complains Daniel Callahan, 57. They should be
“creatively and honorably accepting aging and death, not
4 struggling to overcome them”. Medicine, Callahan chides*,
ought to “give up its relentless drive to extend the life of the
aged” who in any event are often “being saved from death for
7 chronic illness, with Alzheimer’s as a tragic example”. It is
time to honor a “natural life-span” that normally winds down
in the late 70s to mid-80s, he says.

* **chide** – to speak (to someone) severely because they have behaved badly.

Bonnie Angelo. *We the people*. “Science and
Technology”. *Time*, 1997 (with adaptations).

Based on the text above, judge the following items.

- 16 Daniel Calahan believes that, for aged people, the longer life
is, the better.
- 17 The word “aging” (l.3) means **growing old**.
- 18 Elderly Americans tend to accept death naturally.
- 19 Fighting against death may be worse than accepting it.
- 20 The expression “winds down” (l.8) means **ends gradually**.

Text for items 21 through 30

1 What if television sets were equipped with knobs
that let viewers customize the shows they watch? If they
could adjust the sex content, for example, or regulate the
4 violence, or shift the political orientation to the left or right?
What if motion pictures were able to monitor the attention
level of audiences and modify their content accordingly,
7 lengthening some scenes while cutting others short if they
evoke yawns? What if the newspapers that reach subscribers’
home every morning could be edited with each particular
10 reader in mind? There are a lot of what-ifs, but none of these
is mere futuristic fantasy. All of them, in fact, are the goals
of research projects now under way at the Media Laboratory,
13 a dazzling new academic facility at the Massachusetts
Institute of Technology (MIT). The Lab’s unique mission is
to transform today’s passive mass media, particularly TV,
16 into flexible technologies that can respond to individual
tastes.

Phillip Elmer-DeWitt. *We the people*. “Science
and Technology”. In: *Time*, 1997 (with adaptations).

According to the text above,

- 21 viewers are now able to adapt sex content as it is shown on
the TV screen.
- 22 the violence content on a TV program may become under the
TV watchers’ control.
- 23 movies can make people yawn.
- 24 papers can, at present, cope with each readers’ particular
interests.
- 25 the Media Laboratory has a very simple task.

In the text above,

- 26 some of the “what-ifs” (l.10) are nothing more than pure
speculation.
- 27 “a lot of” (l.10) can be correctly replaced by **many**.
- 28 “these” (l.10) refers to “what-ifs” (l.10).
- 29 “what-ifs” (l.10) represent true projects carried out by MIT.
- 30 “facility” (l.13) means **absence of difficulty**.

A senha de acesso a uma conta em determinado banco é formada
por 7 símbolos alfanuméricos: 3 letras, escolhidas entre as 26 do
alfabeto, seguidas de 4 dígitos numéricos, escolhidos entre os
algarismos 0, 1, 2, ..., 9. Considerando essas informações e que,
para a formação de uma senha, admite-se a repetição de símbolos,
julgue os seguintes itens.

- 31 A quantidade de senhas distintas que podem ser obtidas sem
que apareça o algarismo 5 na primeira posição reservada aos
algarismos é inferior a 100 milhões.
- 32 Escolhendo-se uma senha ao acaso, a probabilidade de
que as 2 primeiras letras dessa senha sejam iguais é
superior a 5%.

Uma empresa adota a seguinte sistemática de remunerações para cada um dos seus operários: para cada dia de trabalho que comparece ao serviço, o operário recebe R\$ 45,00; a cada falta, o operário, além de não receber a remuneração correspondente àquele dia, é multado em R\$ 7,00. Ao final de 25 dias de trabalho nessa empresa, Carlos recebeu a quantia de R\$ 761,00.

Com relação a essa situação hipotética, julgue os itens que se seguem.

- 33** No período citado, Carlos compareceu ao serviço em mais de 17 dias.
- 34** No período em questão, Carlos foi multado em menos de R\$ 42,00.

O lucro mensal, em milhares de reais, de uma pequena fábrica pode ser modelado pela função $L(t) = -t^2 + 16t - 55$, em que t é o tempo, em horas, de funcionamento diário da fábrica, e $t \geq 0$. Para um determinado t_0 , $L(t_0) < 0$, significa que a fábrica tem prejuízo funcionando t_0 horas por dia.

Considerando essa situação hipotética, julgue os itens subseqüentes.

- 35** O lucro mensal máximo da fábrica é inferior a R\$ 10.000,00.
- 36** Considere que t_1 e t_2 sejam os números de horas diárias em que a fábrica funciona e obtém lucro zero, ou seja, $L(t_1) = L(t_2) = 0$. Nessas condições, $t_1 + t_2$ é superior a 15 horas.


Considere que o número de pessoas que escuta um boato em uma comunidade, após t horas, em que $t \geq 0$, possa ser modelado pela função $f(t) = 4^{at+b}$, em que a e b são constantes. Inicialmente, ou seja, para $t = 0$, 8 pessoas ouviram o boato; e depois de 1 hora, ou seja, para $t = 1$, 128 pessoas já haviam escutado o boato. Com base nessas considerações, julgue os itens a seguir.

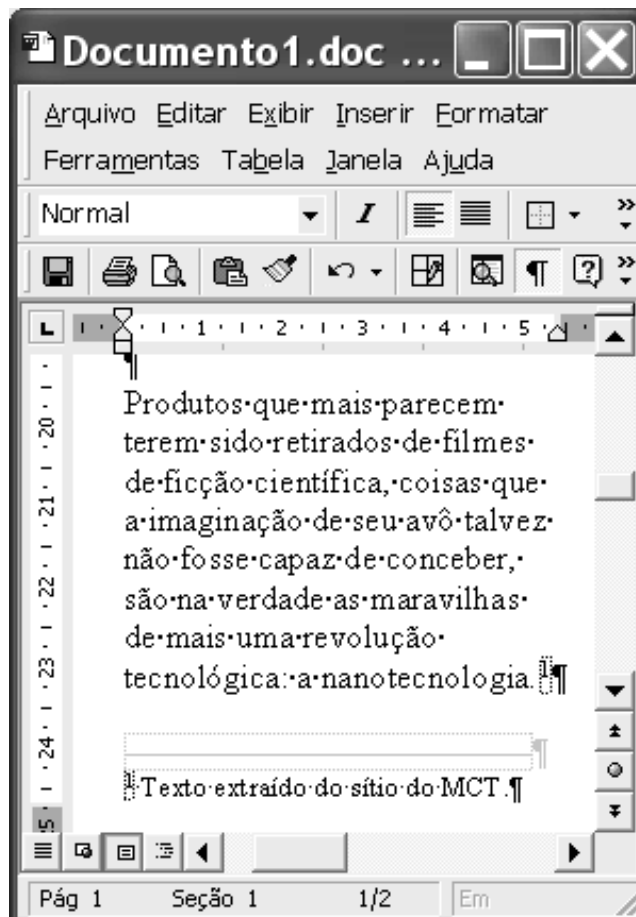
- 37** A constante b é um número inteiro positivo maior que 2.
- 38** Após 2 horas do instante em que as 8 primeiras pessoas ouviram o boato, mais de 2.000 pessoas já haviam escutado o boato.

Julgue os itens seguintes.



- 39** Considere que, em um conjunto de 100 peças, contendo peças perfeitas e peças defeituosas, a probabilidade de uma pessoa, ao selecionar aleatoriamente um lote de 5 peças, escolher 3 ou mais peças perfeitas é de 68% e a probabilidade de escolher 3 ou menos peças perfeitas é de 65%. Nessas condições, é correto concluir que a probabilidade de essa pessoa, ao selecionar o lote, escolher exatamente 3 peças perfeitas é superior a 40%.
- 40** Considere que Paulo executa um serviço em 10 dias e Mário executa o mesmo serviço em 15 dias. Nessas condições, caso Paulo e Mário trabalhem juntos na execução de determinado serviço, de modo que o trabalho de um não interfira no rendimento do trabalho do outro, eles levarão menos de 7 dias para executar o serviço.

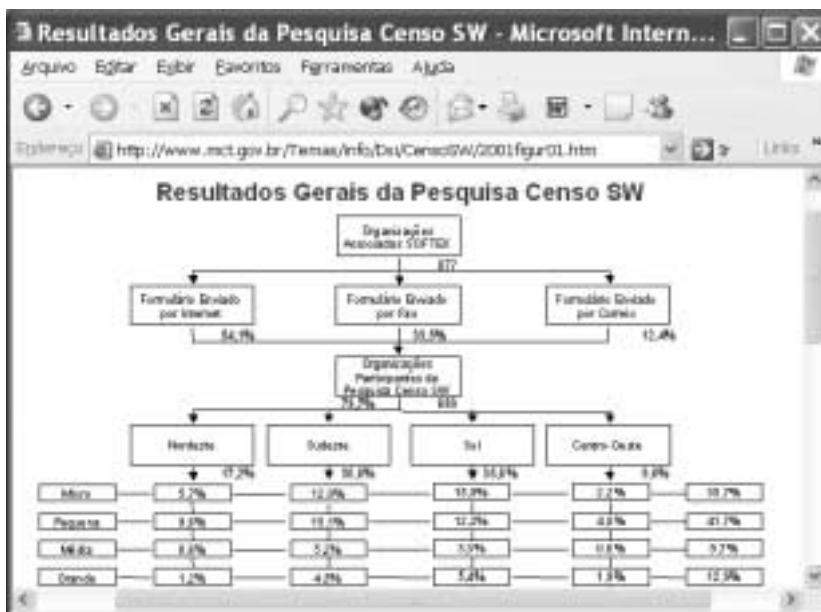
Considerando a figura ao lado, que mostra uma janela do Word 2000 contendo parte de um texto extraído e adaptado do sítio <http://agenciact.mct.gov.br>, julgue os itens subsequentes, acerca do Word 2000.

- 41 O texto copiado do sítio do MCT pode ter sido inserido no documento em edição por meio do seguinte procedimento: usando-se um navegador de Internet, acessar a página do MCT na qual o texto estava disponível; nessa página, selecionar o trecho de texto desejado; pressionar e manter pressionada a tecla **Ctrl**; teclar **C**; liberar a tecla **Ctrl**; abrir o Word 2000; no *menu* **Editar**, clicar a opção Colar especial; na janela resultante dessa ação, definir que o fragmento deve ser colado como texto não-formatado; clicar OK.
- 42 A nota de rodapé pode ter sido adicionada no final da página do documento em edição usando-se funcionalidades disponibilizadas em opção encontrada no *menu* **Inserir**.
- 43 Caso se deseje transferir o texto mostrado para um *slide* do PowerPoint, é suficiente realizar o seguinte procedimento: posicionar o ponto de inserção imediatamente antes da letra “P” da palavra “Produtos”; clicar  para definir o parágrafo corrente como um *slide*; no *menu* **Arquivo**, clicar a opção que permite enviar esse *slide* para apresentação de PowerPoint.




Considerando que o conteúdo da página *web* mostrada na janela do Internet Explorer 6 (IE6) ilustrada ao lado consiste em um objeto associado a uma figura armazenada em um arquivo do tipo gif, julgue os itens a seguir.

- 44 Ao se clicar com o botão direito do *mouse* sobre o objeto da página *web*, será disponibilizada uma lista de opções com a qual é possível converter o mencionado arquivo gif em um arquivo do tipo Paint, que poderá ser inserido em um documento Word.
- 45 Ao se clicar o botão , serão disponibilizados recursos do IE6 que permitem realizar pesquisa em sítios da Internet.
- 46 Na Internet, para que páginas *web* que contêm elementos associados a arquivos de figura, imagem ou vídeo possam ser carregadas em processo de *download*, é necessário estabelecer uma conexão do tipo banda larga entre o servidor e o cliente da aplicação.
- 47 Ao se clicar o botão , serão disponibilizados recursos do IE6 que permitem obter informações relativas a páginas *web* previamente acessadas.







A figura acima mostra uma janela do Excel 2002, com uma planilha em edição contendo as notas de dois candidatos em um concurso. A nota global de um candidato, a ser inserida em uma célula da coluna D, é igual à média aritmética das notas do candidato nas duas disciplinas indicadas. Com relação a essa situação hipotética, julgue o item seguinte.

- 48 Para calcular a nota global do candidato João da Silva e pôr o resultado na célula D2, é suficiente realizar a seguinte seqüência de ações: clicar a célula D2, digitar =B2+C2:2 e, em seguida, teclar .



A figura acima mostra parte da área de trabalho do Windows XP. Com relação a essa figura e ao Windows XP, julgue os itens subseqüentes.

- 49 Para se abrir a pasta Meus documentos, é suficiente clicar o botão  e, na lista de opções que é exibida em consequência dessa ação, clicar Meus documentos.
- 50 Para se esvaziar a lixeira do Windows XP, é suficiente clicar, com o botão direito do *mouse*, o ícone .

CONHECIMENTOS ESPECÍFICOS

O plano de contas da União é o conjunto de títulos representativos de um estado patrimonial e de suas variações, títulos estes que são organizados e codificados para sistematizar e uniformizar os registros contábeis dos atos e fatos de uma gestão. Acerca desse assunto, julgue os itens a seguir.

- 51 Os indicadores contábeis são utilizados para definir o uso das contas pelas unidades gestoras, de acordo com as restrições legais, fiscais e normativas inerentes.
- 52 As contas redutoras ou retificadoras são identificadas por meio do sinal de igualdade (=) existente entre a codificação e o título da mesma.
- 53 A conta resultado apurado pertence à classe resultado aumentativo do exercício e é utilizada no encerramento do exercício para a apuração do resultado do exercício.
- 54 Integram o plano de contas da União a tabela de eventos e a tabela de conta-corrente contábil.
- 55 O controle da inscrição de restos a pagar não-processados é realizado nas contas do passivo compensado.
- 56 No sistema financeiro, são encontradas contas de fixação da despesa e previsão da receita.

O dirigente de uma entidade pública, em agosto de 2003, adquiriu um veículo para pagamento à vista, mediante a entrega do bem. Entretanto, o fornecedor só entregará o bem no exercício seguinte. Nesse contexto, julgue os itens seguintes.

- 57 O empenho emitido é da modalidade global, pois o pagamento é realizado em apenas uma parcela.
- 58 Segundo a legislação vigente, a despesa pertence ao exercício no qual é realizado o pagamento, ou seja, ao exercício de 2004.
- 59 O bem adquirido será classificado como investimento.

Com relação a restos a pagar, julgue os itens que se seguem.

- 60 Nos dois últimos quadrimestres do mandato do presidente da República, é vedado contrair obrigação de despesa que não possa ser cumprida integralmente dentro do exercício, ou que tenha parcelas a serem pagas no exercício seguinte sem que haja suficiente disponibilidade de caixa para esse efeito.
- 61 O registro dos restos a pagar é realizado por exercício e por credor.
- 62 Prescreve em seis anos a contar da sua inscrição a dívida passiva relativa a restos a pagar.
- 63 A inscrição de uma despesa como restos a pagar processados decorre de empenho em plena execução de que ainda não existe o direito líquido do credor.

A respeito do Sistema Integrado de Administração Financeira do Governo Federal (SIAFI) — sistema de teleinformática que processa a execução orçamentária, financeira, patrimonial e contábil dos órgãos e entidades da administração federal —, julgue os itens subsequentes.

- 64** Na forma de acesso *offline*, as disponibilidades financeiras da unidade compõem a conta única.
- 65** O SIAFI disponibiliza informações atualizadas até o instante em que a informação é solicitada, como, também, apresenta determinadas consultas atualizadas até um dia anterior à data da consulta.
- 66** A nota de dotação (ND) é documento utilizado para os mais diversos fins, tais como registro da previsão de receita, apropriação de despesa e assinatura de contrato.
- 67** O SIAFI é um conjunto de sistemas, cada um referente a um ano civil. Cada sistema desdobra-se em subsistemas e estes dividem-se em módulos.
- 68** As saídas específicas e particulares de cada unidade podem ser obtidas via centro de informações, ou seja, é permitido a determinados usuários, via ligação do seu microcomputador ao computador central, a extração de dados de sua UG da base de dados do SIAFI, para meio magnético de seu microcomputador, onde pode ser dado o tratamento necessário à obtenção das informações desejadas.
- 69** A primeira tela que aparece, ao se acessar efetivamente o sistema, contém a relação de mensagens recebidas pela unidade que estiver acessando o sistema e cujo recebimento ainda não foi confirmado.
- 70** O SIAFI proporciona a elaboração orçamentária de forma descentralizada.

Com referência ao orçamento da União, instrumento de curto prazo que operacionaliza os programas setoriais e regionais de médio prazo, visando alcançar objetivos determinados, julgue os itens a seguir.

- 71** De acordo com a Constituição Federal, uma das finalidades do orçamento da seguridade é diminuir as desigualdades inter-regionais, segundo critério populacional.
- 72** O campo de atuação de uma unidade orçamentária inclui a análise e a validação das propostas orçamentárias das unidades administrativas a ela vinculadas.
- 73** A fiscalização orçamentária é exercida pelo Congresso Nacional, mediante controle externo, e pelo sistema de controle interno de cada poder.

No que se refere à responsabilidade na aplicação dos recursos públicos, julgue os itens abaixo.

- 74** Ordenador de despesa é toda e qualquer autoridade de cujos atos resultem emissão de empenho criando para o Estado a obrigação de pagamento pendente ou não de implemento de condição.
- 75** A ordem bancária para o pagamento da despesa deve conter, obrigatoriamente, a assinatura do encarregado do setor financeiro.

Paulo emprestou R\$ 12.500,00 a Pedro, cobrando juros simples mensais que totalizaram, ao final do empréstimo, R\$ 5.000,00. Paulo emprestou a mesma quantia e à mesma taxa de juros simples para Carlos. Supondo que Carlos quitou a dívida com Paulo 6 meses após o empréstimo e pagou R\$ 1.000,00 de juros a mais que Pedro, julgue os itens seguintes.

- 76** A taxa mensal de juros simples dos empréstimos foi superior a 7%.
- 77** Pedro quitou sua dívida com Carlos no 4.º mês após o empréstimo.

Cláudia aplicou R\$ 1.000,00 por 2 meses à taxa mensal de juros compostos de $i\%$. Com base nessas informações, julgue os itens que se seguem.

- 78** Se a aplicação rendeu R\$ 210,00 de juros, a taxa mensal de juros da aplicação foi inferior a 8%.
- 79** Maria aplicou R\$ 1.000,00 por 66 dias à taxa mensal de juros simples igual à taxa mensal de juros de $i\%$ que Cláudia obteve para sua aplicação. Considerando que 1 mês tem 30 dias e que os montantes das 2 aplicações foram iguais, então a taxa de juros i é superior a 15%.

Considerando que um título de valor nominal igual a R\$ 1.250,00 tenha sido descontado 4 meses antes do vencimento, à taxa de desconto comercial simples de 5% ao mês, julgue os itens subsequentes.

- 80** O valor do desconto comercial foi superior a R\$ 300,00.
- 81** A taxa efetiva da operação foi inferior a 6% ao mês.

RASCUNHO

Julgue os itens a seguir.

- 82** Se um comerciante vende um objeto por R\$ 728,00 e obtém lucro de 12% sobre o preço de compra, então o preço de compra foi inferior a R\$ 660,00.
- 83** Se um capital foi aplicado por 1 ano à taxa de juros anual de 210% e, no mesmo período, a inflação foi de 150%, é correto afirmar que a taxa real de juros no período foi superior a 30%.
- 84** Um investidor tem 2 opções para aplicar o seu dinheiro:
- I à taxa de juros compostos de 150% ao ano, capitalizados semestralmente;
- II à taxa de juros compostos de 132% ao ano, capitalizados mensalmente.
- Considerando que $(1,75)^{\frac{1}{6}} = 1,098$, então a melhor opção para o investidor é a II.
- 85** Uma dívida de R\$ 100.000,00 será amortizada em 10 parcelas anuais e sucessivas. A 1.^a parcela vence ao final do 1.^o ano do empréstimo, à taxa de juros compostos de 15% ao ano. Supondo que $(1,015)^{-10} = 0,25$, então o valor da 1.^a amortização da dívida pelo sistema francês de amortização será a metade do valor da amortização pelo sistema de amortização constante.

Julgue os itens a seguir, acerca dos procedimentos relativos aos restos a pagar e às despesas de exercícios anteriores em orçamentos públicos.

- 86** Consideram-se restos a pagar as despesas liquidadas e não-processadas até o final do exercício financeiro.
- 87** Os restos a pagar com prescrição interrompida podem ser pagos, excetuados os casos em que o crédito respectivo tenha sido convertido em renda.
- 88** Não podem ser pagos os compromissos reconhecidos após o encerramento do exercício correspondente, ainda que tenha sido prevista a dotação orçamentária própria ou tenha sido deixado saldo no exercício respectivo.

Os orçamentos públicos são instrumentos de ação voltados para a realização de operações concretas pelo Estado. Acerca do marco legal para sua elaboração, julgue os itens que se seguem.

- 89** A mensagem encaminhada pelo Poder Executivo ao Poder Legislativo com o Projeto de Lei Orçamentária deve conter, entre outros tópicos: exposição circunstanciada da situação econômico-financeira e exposição e justificação da receita e da despesa, particularmente no tocante ao orçamento de capital.
- 90** O chefe do Poder Executivo somente poderá apresentar veto total ao Projeto de Lei Orçamentária aprovado (decretado) pelo Poder Legislativo, caso seja inconstitucional ou contrário ao interesse público.
- 91** As emendas ao Projeto de Lei Orçamentária somente podem ser aprovadas caso indiquem os recursos necessários, admitidos apenas os provenientes de anulação de despesas, excluídas as que incidem, entre outras, sobre os serviços da dívida.
- 92** O Projeto de Lei Orçamentária da União deve ser devolvido para sanção após o encerramento da sessão legislativa.
- 93** O Projeto de Lei Orçamentária deve ser encaminhado ao Poder Legislativo até o dia 30 de setembro.

Acerca do processo de execução de despesa pública, julgue os itens subseqüentes.

- 94** Denominam-se créditos orçamentários, no entender de Giacomoni, a quantidade de recursos financeiros com que conta uma unidade orçamentária.
- 95** Machado Júnior e Reis afirmam que o crédito orçamentário seria portador de uma dotação e esta, o limite autorizado, quantificado monetariamente.
- 96** Machado Júnior e Reis definem o empenho, administrativamente, como o ato de autoridade competente que determina a dedução do valor da despesa a ser executada da dotação consignada no orçamento para atender a essa despesa.
- 97** Não há necessidade de satisfação de implementos de condição para pagamento de despesas com pessoal.
- 98** Segundo Machado Júnior e Reis, a prática brasileira é a do empenho *ex-post*, e não *ex-ante*, como deveria, e serve apenas para satisfazer ao dispositivo legal, ao qual o Poder Executivo não quer obedecer, por falta de capacidade e de programação.

O modelo brasileiro de controle do orçamento público é baseado na existência de um controle externo e de controles internos. Acerca dessa matéria, julgue os itens seguintes.

- 99** O controle externo do orçamento público, em nível federal, é desempenhado pelo Tribunal de Contas da União (TCU).
- 100** Cabe ao TCU aplicar aos responsáveis, em caso de ilegalidade de despesa ou irregularidade de contas, as sanções previstas em lei.
- 101** Como principal executante do orçamento, somente o Poder Executivo é constitucionalmente obrigado a manter um sistema de controle interno.
- 102** Ao sistema de controle foi atribuída a função de avaliação de resultados das gestões orçamentária, financeira e patrimonial, segundo os conceitos de eficiência e eficácia, pela Constituição da República de 1988.
- 103** Tanto pelo preceito constitucional como pelo sistema legal, o controle do orçamento público se divide, hoje, no Brasil, basicamente em controle interno, controle interno integrado e controle externo, conforme Machado Júnior e Reis.

RASCUNHO

Julgue os itens subseqüentes, acerca do plano de contas da administração pública brasileira.

- 104** Essas contas são classificadas em quatro grupo distintos: as contas dos sistemas financeiro e patrimonial, que registram o patrimônio público, as contas do sistema orçamentário, que controla a execução do orçamento público, e as contas do sistema de compensação, que controla os atos administrativos.
- 105** O registro dos fatos contábeis sempre deve ser efetuado mediante a utilização de contas que façam parte de sistemas diferentes, de modo a atingir o equilíbrio nos saldos do balancete de todos os existentes.
- 106** A estrutura do Plano de Contas da Administração Federal foi concebida com o intuito de facilitar o levantamento dos demonstrativos contábeis exigidos pela Lei n.º 4.320/1964, tendo sido aproveitada a estrutura da Lei n.º 6.404/1976 para distribuir os grupos dentro das classes de receitas e despesas.
- 107** Para efeito do controle da despesa orçamentária, no ativo compensado, há contas que têm como função controlar os valores fixados na lei orçamentária e nas leis de crédito adicional, enquanto no passivo compensado faz-se o controle dos valores disponíveis para emissão de empenho, dos valores empenhados a liquidar e dos valores liquidados a pagar.
- 108** A tabela de contas-correntes contábeis tem como função propiciar a contabilização automática dos fatos contábeis a partir de uma informação sobre um fato administrativo que consta de um código específico.

Julgue os seguintes itens, acerca dos diversos sistemas de controle de aquisições e de operações de comércio exterior do governo federal.

- 109** O Sistema Integrado de Comércio Exterior (SISCOMEX), criado pelo Decreto n.º 660/1992, determina que as informações relativas às operações de comércio exterior, necessárias ao exercício das atividades de registro e ao acompanhamento e controle das operações de comércio exterior, mediante fluxo único e computadorizado de informações, devem ser processadas exclusivamente por intermédio do SISCOMEX, a partir da data de sua implantação, não sendo dispensado o registro das respectivas operações de compra e venda de moeda estrangeira no Sistema de Informações do Banco Central (SISBACEN).
- 110** Entre os usuários do SISCOMEX, encontram-se as instituições financeiras autorizadas a elaborar licença de importação por meio de seus empregados.

111 O Sistema de Registro de Preços (SIREP) é um dos três módulos básicos do Sistema Integrado de Administração de Serviços Gerais (SIASG). Sua função é atender às consultas dos gestores públicos sobre os preços praticados nas licitações realizadas, servindo como ferramenta de apoio na estimação de preços máximos.

112 O Sistema de Controle (SICON) é um conjunto de atividades desenvolvidas no SIASG, que tem como base primária os procedimentos adotados no Federal Supply Classification. Esse sistema estabelece uma linguagem única e propicia a definição de padrões determinados de controle de qualidade e de produtividade para materiais e serviços especificados nas compras da administração pública federal.

113 O Sistema de Divulgação Eletrônica de Compras (SIDE) é uma ferramenta que oferece rotinas automatizadas para publicação de avisos de licitações na imprensa oficial e permite ainda o acesso via Internet a avisos, editais e outras informações sobre as compras governamentais.

A respeito da Lei n.º 8.666/1993 — licitações e contratos da administração pública —, julgue os itens que se seguem.

114 Um contrato de gestão é indistinto de um contrato administrativo de prestação de serviços.

115 O termo de parceria é uma modalidade de contrato de gestão.

Com referência à elaboração e ao controle do orçamento público no Brasil, julgue os itens seguintes.

116 Despesas correntes são os dispêndios realizados para a manutenção das atividades de cada órgão ou entidade pública.

117 Aberto por decreto do Poder Executivo, após a devida autorização em lei, o crédito adicional refere-se ao valor destinado às despesas para as quais não haja dotação orçamentária específica.

118 A classificação funcional-programática indica a qual programa — de compensação, orçamentário, financeiro e patrimonial — as contas contábeis pertencem e a função que possuem.

119 Tomada de contas especial é o processo preparado por agente responsável pelos órgãos de contabilidade analítica das entidades de administração indireta, referente aos atos de gestão efetuados pelos competentes dirigentes em um determinado período.

120 A Lei de Diretrizes Orçamentárias representa um conjunto de metas e prioridades da administração pública federal, incluindo as despesas de capital para o exercício financeiro subseqüente, orientando a elaboração da Lei Orçamentária Anual, dispondo sobre as alterações na legislação tributária e estabelecendo a política das agências financeiras oficiais de fomento.

PROVA DISCURSIVA

- Nesta prova, que vale **35** pontos, faça o que se pede, usando a página correspondente do presente caderno para rascunho. Em seguida, transcreva o texto para a folha de **TEXTO DEFINITIVO** da prova discursiva, no local apropriado, pois **não serão avaliados fragmentos de texto escritos em locais indevidos**.
- Qualquer fragmento de texto além da extensão máxima de **trinta** linhas será desconsiderado.

ATENÇÃO! Na **folha de texto definitivo da prova discursiva**, identifique-se apenas no cabeçalho, pois **não será avaliado** texto que tenha qualquer assinatura ou marca identificadora fora do local apropriado.

Inserir a dimensão ambiental na estratégia de desenvolvimento é questão central que se coloca na agenda do mundo contemporâneo. Cada vez mais, tende a ficar para trás a antiga concepção de desenvolvimento a qualquer preço. No caso brasileiro, cuja tradição de planejamento de política sustentável praticamente inexistente, discute-se o papel do Estado para a conformação dos interesses econômicos aos recursos naturais.

Considerando que o texto acima tem caráter unicamente motivador, redija um texto dissertativo acerca do seguinte tema.

A atuação do Estado frente aos desafios do desenvolvimento sustentável.

RASCUNHO

1	
2	
3	
4	
5	
6	
7	
8	
9	
10	
11	
12	
13	
14	
15	
16	
17	
18	
19	
20	
21	
22	
23	
24	
25	
26	
27	
28	
29	
30	