

Concurso Público

Nível Intermediário

CARGO 6:

AUXILIAR DE ENFERMAGEM

Aplicação: 27/11/2005

CADERNO VERDE

TARDE

LEIA COM ATENÇÃO AS INSTRUÇÕES ABAIXO.

- 1 Ao receber este caderno, confira atentamente se o tipo de caderno de provas — CADERNO VERDE — coincide com o nome que está registrado no cabeçalho de sua folha de rascunho, à direita, e se ele contém cem itens, correspondentes às provas objetivas, corretamente ordenados de 1 a 100.
- 2 Caso o caderno esteja incompleto ou tenha qualquer defeito, solicite ao fiscal de sala mais próximo que tome as providências cabíveis.
- 3 Recomenda-se não marcar ao acaso: em cada item, se a resposta divergir do gabarito oficial definitivo, o candidato receberá pontuação negativa, conforme consta em edital.
- 4 Não utilize material de consulta que não seja fornecido pelo CESPE.
- 5 Durante as provas, não se comunique com outros candidatos nem se levante sem autorização do chefe de sala.
- 6 A duração das provas é de **três horas e trinta minutos**, já incluído o tempo destinado à identificação — que será feita no decorrer das provas — e ao preenchimento da folha de respostas.
- 7 Ao terminar as provas, chame o fiscal de sala mais próximo, devolva-lhe a sua folha de respostas e deixe o local de provas.
- 8 A desobediência a qualquer uma das determinações constantes no presente caderno, na folha de rascunho ou na folha de respostas poderá implicar a anulação das suas provas.

AGENDA

- I **29/11/2005**, a partir das 10 horas (horário de Brasília) – Gabaritos oficiais preliminares das provas objetivas: Internet — www.cespe.unb.br/concursos/fub2005 — e quadros de avisos do CESPE/UnB.
- II **30/11 e 1.º/12/2005** – Recursos (provas objetivas): formulários estarão disponíveis no Sistema Eletrônico de Interposição de Recurso, Internet — www.cespe.unb.br/concursos/fub2005.
- III **27/12/2005** – Resultado final das provas objetivas e resultado final do concurso: Diário Oficial da União e Internet — www.cespe.unb.br.

OBSERVAÇÕES

- Não serão objeto de conhecimento recursos em desacordo com o estabelecido no item 13 do Edital n.º 1/2005–FUB, de 7/10/2005.
- Informações relativas ao concurso público poderão ser obtidas pelo telefone 0(XX) 61 3448 0100 ou pela Internet — www.cespe.unb.br.
- É permitida a reprodução deste material apenas para fins didáticos, desde que citada a fonte.



- De acordo com o comando a que cada um dos itens de 1 a 100 se refira, marque, na **folha de respostas**, para cada item: o campo designado com o código C, caso julgue o item **CERTO**; ou o campo designado com o código E, caso julgue o item **ERRADO**. Para as devidas marcações, use a folha de rascunho e, posteriormente, a **folha de respostas**, único documento válido para a correção das suas provas.
- Nos itens que avaliam **Conhecimentos de Informática**, a menos que seja explicitamente informado o contrário, considere que todos os programas mencionados estão em configuração-padrão, em português, que o *mouse* está configurado para pessoas destros e que expressões como clicar, clique simples e clique duplo referem-se a cliques com o botão esquerdo do *mouse*. Considere também que não há restrições de proteção, de funcionamento e de uso em relação aos programas, arquivos, diretórios e equipamentos mencionados.

CONHECIMENTOS BÁSICOS

1 Na década de 90, estimativa do Banco Mundial
indicava que, em 2000, o Brasil teria 1,2 milhão de pessoas
com o vírus HIV. Graças à eficácia das ações de prevenção
4 da AIDS, incluindo-se campanhas educativas e distribuição
de preservativos, o Ministério da Saúde estima que, hoje, o
Brasil tenha 600 mil pessoas vivendo com HIV, metade da
7 projeção do Banco Mundial.

A política de acesso universal e gratuito aos
medicamentos anti-retrovirais, ao contrário de previsões
10 pessimistas, teve sucesso e reduziu custos diretos e indiretos,
como os de internações hospitalares e de emergência.
Hoje, por meio do Programa Brasileiro de DST/AIDS,
13 reconhecido internacionalmente, o Brasil tem cooperado com
vários países.

Internet: <<http://portal.saude.gov.br/saude>> (com adaptações).

Com base no texto acima, julgue os itens a seguir.

- 1 Entre o primeiro e o segundo períodos do texto, subentende-se uma relação que pode ser representada pela conjunção **entretanto**.
- 2 Pelos sentidos do texto, estaria correta a inserção de **apenas** imediatamente antes de “600 mil” (l.6).
- 3 Na linha 6, entre “HIV” e “metade”, seria correto inserir, entre vírgulas, a expressão **ou seja**.
- 4 Seria gramaticalmente incorreto reestruturar o segundo parágrafo deslocando para o início a expressão “ao contrário de previsões pessimistas”, seguida de vírgula, mesmo adequando-se o emprego de letras minúscula e maiúscula.
- 5 O emprego de preposição em “aos medicamentos” (l.8-9) justifica-se pela regência de “política” (l.8).

1 O Serviço de Atendimento Móvel de Urgência
(SAMU/192) está presente em 320 municípios de 22
unidades da Federação e no Distrito Federal.

4 Ao todo, 68,5 milhões de brasileiros têm acesso ao
atendimento de urgência em saúde em qualquer lugar em que
seja necessário. Um trabalho que é realizado por equipes de
7 profissionais de saúde formadas por médicos, enfermeiros e
auxiliares de enfermagem. Em casos de urgência, a
população liga gratuitamente para o telefone 192.
10 As chamadas são atendidas, 24 horas por dia, na central, que
conta com a presença de um médico. A resposta pode ser
o envio de uma ambulância básica e um auxiliar de
13 enfermagem, ou avançada e um enfermeiro e médico, ou uma
simple orientação.

Idem, ibidem (com adaptações).

Em relação ao texto acima, julgue os itens que se seguem.

- 6 Na linha 7, o termo “formadas” está no feminino plural para concordar com “profissionais”.
- 7 A vírgula logo após “médicos” (l.7) justifica-se por isolar elemento explicativo intercalado na oração principal.
- 8 A vírgula logo após “urgência” (l.8) justifica-se por separar adjunto adverbial anteposto.
- 9 O período compreendido entre as linhas 6 e 8 estaria gramaticalmente incorreto se fosse assim reescrito: **Esse trabalho é desenvolvido por equipes formadas por profissionais de saúde: médicos, enfermeiros e auxiliares de enfermagem**.
- 10 A expressão “o envio de” (l.12) pode ser substituída, sem prejuízo para o sentido do período, por **enviar**.

1 Neste governo, o Brasil passou a contar com a
Política Nacional de Saúde Bucal. Dessa política consta o
programa Brasil Sorridente, que tem possibilitado a
4 ampliação e a qualificação do acesso da população às ações
de promoção, prevenção, recuperação e reabilitação da saúde
bucal, com base no entendimento de que esta é fundamental
7 para a saúde geral e melhoria da qualidade de vida da
população.

As ações especializadas em saúde bucal estão
10 sendo expandidas por meio da implantação de Centros de
Especialidades Odontológicas (CEO). Os CEO oferecem
tratamento de canal, atendimento a pacientes especiais,
13 tratamento de doenças da gengiva, além de outros
procedimentos a serem definidos localmente.

Idem, ibidem (com adaptações).

A partir do texto acima, julgue os itens subseqüentes.

- 11 O sinal indicativo de crase em “às ações” (l.4) justifica-se pela regência de “possibilitado” (l.3).
- 12 Na linha 5, as vírgulas após “promoção” e após “prevenção” têm a mesma justificativa.
- 13 O termo “esta” (l.6) refere-se ao antecedente “saúde bucal” (l.5-6).
- 14 Seria correto unir os dois períodos do segundo parágrafo substituindo-se o ponto final (l.11) por vírgula, e substituindo-se “Os CEO” (l.11) pela palavra **que**.
- 15 Prejudicaria a correção gramatical do período a substituição da expressão “a serem” (l.14) por: **que devem ser**.

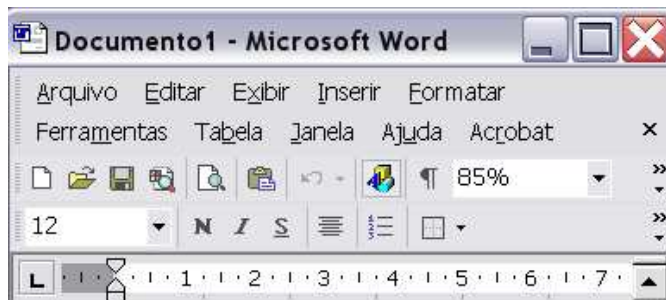
1 Cada equipe do Programa Saúde da Família é
composta por um médico, um enfermeiro, um auxiliar de
enfermagem e entre cinco e seis agentes comunitários. O
4 grupo tem por missão fazer o acompanhamento básico da
população, prestando atenção integral à saúde (ações de
promoção, prevenção e reabilitação) da população da área de
7 responsabilidade de cada equipe.

O Saúde da Família oferece também assistência
odontológica. As equipes de saúde bucal são compostas por
10 dentistas, auxiliares de consultório dentário e técnicos de
higiene dental.

Idem, ibidem.

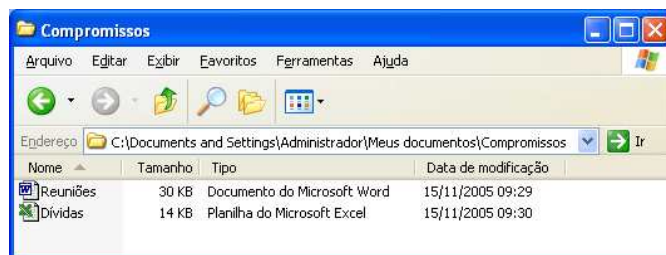
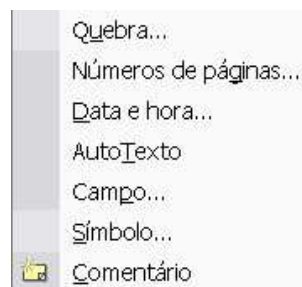
Com base no texto acima, julgue os itens que se seguem.

- 16 A locução “é composta” (l.1-2) está em relação de concordância com a expressão “Saúde da Família” (l.1).
- 17 Prejudica a correção gramatical do período o emprego de **como** em vez de “por” (l.4).
- 18 A substituição de “fazer o acompanhamento” (l.4) por **acompanhar** dispensa outras alterações para que o período permaneça correto.
- 19 Nas linhas 5 e 6, os parênteses podem ser substituídos por travessões, sem prejuízo para a correção gramatical do período.
- 20 Em “O Saúde da Família” (l.8), subentende-se a palavra **Programa**.



Julgue os próximos itens, acerca do Word 2002, considerando a figura acima, que ilustra parte da janela desse aplicativo.


- 21 Opção encontrada no menu **Formatar** permite alterar a formatação de fonte de um texto selecionado. Alterações de formatação para os tipos negrito, itálico e sublinhado também podem ser realizadas, respectivamente, por meio dos botões **N**, **I** e **S**.
- 22 Caso se deseje criar página da *web* em branco, mensagem de *e-mail* em branco ou um documento com base em modelo já existente, é possível fazê-lo por meio da opção Novo, localizada no menu **Arquivo**.
- 23 As opções apresentadas na lista da figura a seguir fazem parte do menu **Ferramentas**.

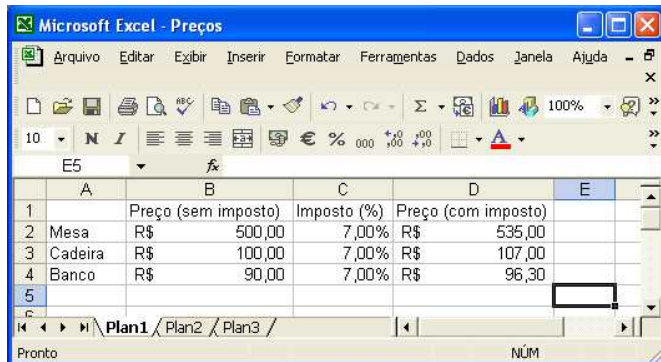


A figura acima mostra uma janela do Windows XP, que está sendo executada em um computador PC e na qual são apresentados ícones referentes a dois arquivos armazenados no computador. Com relação a essa janela e ao Windows XP, julgue os itens seguintes.


- 24 Por meio do Windows XP, é possível salvar os dois arquivos mencionados acima em um disquete de 3½" vazio.


25 A seguinte seqüência de ações descreve uma ação correta para a criação de uma nova pasta: clicar o menu **Arquivo**; na lista de opções que surge em decorrência dessa ação, apontar para Novo e, em seguida, clicar em Pasta, criando uma nova pasta; alterar o nome da pasta com o nome desejado para ela.


26 Ao se clicar o botão , a janela Compromissos deixará de ser exibida, e os ícones contidos na Desktop passarão a ser exibidos em uma nova janela.



A figura acima mostra uma janela do Excel 2002, com uma planilha em processo de edição. Com relação a essa janela e ao Excel 2002, julgue os itens subsequentes.

27 Ao se clicar a célula C2 e, a seguir, clicar , o conteúdo da célula, 7,00%, será alterado para 7,0%.

28 Caso as células B3 e B4 sejam selecionadas e se clique , as duas células serão mescladas em uma única e o conteúdo exibido na célula resultante será R\$ 190,00.

29 Para que a janela seja maximizada, ocupando 100% do monitor de vídeo, é suficiente clicar .

É importante que usuários de computadores utilizem meios para guardar cópias de arquivos em locais fora do disco rígido do computador pessoal, evitando perda irreparável de informações no caso de pane no disco rígido. Com relação a esse tema, julgue os itens que se seguem.


30 Todos os tipos de discos de CD-ROM funcionam bem para a execução de operações de *backup*, já que permitem a gravação e o apagamento de informações sucessivas vezes.


31 Disquetes de 3½" são o meio ideal para o armazenamento de arquivos com tamanho entre 10 megabytes e 1 gigabyte, pois esses tipos de arquivo podem sempre ser armazenados em apenas um disquete.


32 Dispositivos do tipo *pen drive* são muito úteis para a gravação de arquivos contidos em discos rígidos de computadores que contêm portas do tipo USB.



Considerando a janela do Internet Explorer 6 (IE6) ilustrada acima, que contém uma página *web* apresentada em sua área de página e está em execução em um computador PC, julgue os itens a seguir.

33 O trecho **HUB - Referência em medicina**, na área de página do IE6, será selecionado ao se clicar .

34 Ao se clicar o botão , será executado o navegador Mozilla Firefox, desde que esse recurso esteja adequadamente configurado pelo usuário do IE6.

35 Ao se clicar o botão , será iniciado processo de acesso ao recurso denominado Messenger, que permite a troca de mensagens nos formatos textual e em áudio entre internautas.

Em apenas sete cidades brasileiras a população negra apresenta alto Índice de Desenvolvimento Humano (IDH), segundo estudo recém-concluído. Com informações do Censo 2000, do IBGE, a pesquisa conseguiu calcular o IDH dos negros em 4.605 dos 5.507 municípios existentes no país até então. Para os brancos, há cálculos para 5.202 cidades.

Para o coordenador da pesquisa, os indicadores municipais atestam que a desigualdade racial no Brasil se dá não apenas no plano nacional, mas também dentro das regiões, dos estados e das cidades. Para ele, haver tão poucos municípios com IDH alto para a população negra é outra prova do tamanho da desigualdade brasileira e um incentivo para que a questão racial passe a integrar a agenda dos prefeitos.

As condições de vida nos municípios

BRANCOS

Os dez municípios de maior IDH

Vitória (ES)	0,915	Total de cidades com alto IDH	1.591
Niterói (RJ)	0,912	Médio-alto IDH	1.670
São Caetano do Sul (SP)	0,902	Médio IDH	1.925
Porto Alegre (RS)	0,902	Médio-baixo IDH	16
Florianópolis (SC)	0,901	Baixo IDH	0
Belo Horizonte (MG)	0,898	Municípios pesquisados	5.202
Santana de Parnaíba (SP)	0,897		
Brasília (DF)	0,895		
Santos (SP)	0,895		
Águas de São Pedro (SP)	0,890		

Os dez municípios de menor IDH

Envira (AM)	0,590
São João do Carú (MA)	0,589
Melgaço (PA)	0,586
Caxingó (PI)	0,583
Murici dos Portelas (PI)	0,581
Cachoeira Grande (MA)	0,579
Japurá (AM)	0,577
Centro do Guilherme (MA)	0,573
Manari (PE)	0,569
Maravilha (AL)	0,564

NEGROS

Os dez municípios de maior IDH

São Caetano do Sul (SP)	0,833	Total de cidades com alto IDH	7
Mozartândia (GO)	0,813	Médio-alto IDH	343
Rio Quente (GO)	0,807	Médio IDH	3.711
Brasília (DF)	0,804	Médio-baixo IDH	543
Goiânia (GO)	0,804	Baixo IDH	1
Cláudia (MT)	0,804	Municípios pesquisados	4.605
Vitória (ES)	0,802		
Santos (SP)	0,799		
Cuiabá (MT)	0,799		
Paulínia (SP)	0,799		

Os dez municípios de menor IDH

São Roberto (MA)	0,529
Branquinha (AL)	0,526
Poço das Trincheiras (AL)	0,525
Centro do Guilherme (MA)	0,525
Caraúbas do Piauí (PI)	0,523
Canapi (AL)	0,521
Guaribas (PI)	0,519
Jordão (AC)	0,511
Manari (PE)	0,507
Traipu (AL)	0,493



A qualidade de vida

Alto IDH	0,8 a 1
Médio-alto IDH	0,7 a 0,8
Médio IDH	0,6 a 0,7
Médio-baixo IDH	0,5 a 0,6
Baixo IDH	Abaixo de 0,5

FONTE: Censo Demográfico 2000, do IBGE, com elaboração de Marcelo Paixão para o Observatório Afrobrasileiro

O Globo, Caderno A, 9/11/2005, p. 24-5 (com adaptações).

Tendo o texto acima como referência inicial e considerando as informações contidas no quadro que o acompanha, julgue os itens seguintes.

- 36 O IDH é um indicador que mede as condições de vida das populações com base na esperança de vida, na escolaridade e na renda média dos habitantes.

- | | |
|---|--|
| <p>37 Produto Interno Bruto (PIB) e IDH são muito parecidos porque usam a mesma metodologia e os mesmos critérios de aferição.</p> <p>38 A metodologia utilizada pelo IDH apresenta um resultado que varia de zero a um. Quanto mais próximo de um, melhor é a qualidade de vida.</p> <p>39 Infere-se do texto que, nas capitais brasileiras, a qualidade de vida entre os que se declaram ou brancos ou negros apresenta-se relativamente equilibrada, sem diferenças mais pronunciadas.</p> <p>40 Independentemente de estarem entre os dez municípios com maior ou menor índice de IDH, verifica-se que a situação dos que se declaram brancos é pior do que a dos que se dizem negros.</p> <p>41 A adoção de cotas para os afrodescendentes, como já ocorre em exames vestibulares, é uma dos caminhos que o Brasil vem trilhando para reduzir suas históricas desigualdades sociais.</p> <p>42 Entre os municípios de maior IDH da população negra, a capital da República ocupa posição secundária, ficando bem atrás de outras capitais.</p> <p>43 Quando se trata de menor IDH, tanto para brancos quanto para negros, a região Nordeste se equipara com a Sudeste em número de municípios nessa situação.</p> | <p>44 Relativamente aos dez municípios com IDH mais alto para a população negra, a região brasileira que mais se destaca é a Centro-Oeste, com 60% deles, sendo três do interior.</p> <p>45 Dois municípios alagoanos ocupam a pior posição entre os que foram classificados como os de menor IDH para brancos e negros.</p> <p>46 Apenas uma capital figura entre os dez municípios brasileiros com menor IDH, seja para brancos, seja para negros.</p> <p>47 O fato de existir uma parcela de negros incluída nas camadas mais altas da sociedade não altera o quadro geral de desigualdade que ainda apenas a maioria dos afrodescendentes brasileiros.</p> <p>48 A pesquisa citada sugere que, em face das gritantes desigualdades ainda existentes no país, o Brasil não pode se considerar uma sociedade plenamente cidadã.</p> <p>49 Infere-se do texto e do quadro que a Lei Áurea, pela qual se aboliu o regime de trabalho escravo no país, foi ampla o bastante para inserir na sociedade os que até então estavam submetidos à mais absoluta exclusão.</p> <p>50 O futebol e a música popular são a prova mais evidente de que não há discriminação racial na sociedade brasileira.</p> |
|---|--|

CONHECIMENTOS ESPECÍFICOS

Considerando que a ética está presente no dia-a-dia do profissional de enfermagem, julgue os itens a seguir, tendo como base o Código de Ética dos Profissionais de Enfermagem (CEPE) e a Lei do Exercício Profissional.

- 51** O CEPE proíbe que qualquer profissional de enfermagem colabore com a antecipação da morte de um paciente.
- 52** Um auxiliar de enfermagem que participar de um ato abortivo, previsto em lei, está infringindo o CEPE, pois ele é obrigado a preservar a vida e não deve participar de atos destinados à interrupção da gestação.
- 53** Ao deixar um paciente em estado de confusão mental sem proteção de grades laterais na cama, o auxiliar de enfermagem pode ser acusado de negligência.
- 54** Os profissionais de enfermagem não devem administrar medicamentos sem a certeza da natureza das drogas que compõem tais medicamentos ou da existência de risco para o paciente.
- 55** Legalmente, o auxiliar de enfermagem pode realizar a consulta de enfermagem orientando os pacientes e prescrevendo a assistência necessária.

Julgue os itens seguintes, referentes à assistência de enfermagem ao recém-nascido (RN).

- 56** Um RN prematuro que ainda não consegue ser amamentado no seio materno deve receber sua dieta prescrita por meio da mamadeira a fim de garantir a absorção completa e o mínimo de gasto de energia.
- 57** O RN que está sob fototerapia deve ter toda sua roupa retirada, ficar a uma distância de 50 cm da fonte de luz, ter suas pálpebras fechadas e olhos protegidos com uma máscara de cor escura.
- 58** Considere que o resíduo gástrico de um RN prematuro que está com dieta por gavagem intermitente foi de 3 mL após uma dieta de 10 mL administrada previamente. Nesse caso, o auxiliar de enfermagem deve devolver o volume aspirado e administrar normalmente os 10 mL correspondentes da dieta seguinte.

Uma gestante de 23 anos de idade, com 36 semanas de gestação, procurou um hospital, referindo estar em trabalho de parto. Tem um filho de 8 anos cujo parto foi normal e está ansiosa para o nascimento do segundo filho. Antes de entrar na sala de parto, a parturiente foi estimulada a ir até o banheiro e esvaziar a bexiga. Ao retornar do banheiro, queixou-se de náuseas e vômitos e de uma pressão no reto como se desejasse evacuar. Ao deitar-se, a auxiliar de enfermagem percebeu um abaulamento do períneo.

Considerando a situação hipotética apresentada, julgue os itens que se seguem.

- 59** Os sinais observados pela auxiliar de enfermagem e as queixas apresentadas pela parturiente quando retornou do banheiro indicam o início do segundo período do trabalho de parto — a expulsão.
- 60** Trata-se de uma gestante primípara.
- 61** A auxiliar de enfermagem deve providenciar o material para a episiotomia e realizá-la antes que haja laceração do períneo.

Acerca dos cuidados de enfermagem no preparo do paciente para a realização de exames complementares ou diagnósticos, julgue os itens a seguir.

- 62** Para realizar uma broncoscopia, o paciente, que deverá estar em jejum absoluto de pelo menos 6 horas antes do exame, deve ser colocado em decúbito dorsal e ter próteses dentárias retiradas.
- 63** Após uma biópsia hepática, o paciente deve manter-se com curativo compressivo e deitado por pelo menos duas horas, tendo seus sinais vitais controlados de 15 em 15 minutos.
- 64** Imediatamente após ter sido feita uma punção na artéria femoral para uma gasometria arterial, o auxiliar de enfermagem não deve exercer compressão no local da punção, pois poderá haver estreitamento da artéria e comprometimento do membro inferior.

Em uma sala de injeções de um pronto-socorro, estão três pacientes que aguardam a administração de suas medicações prescritas. A um jovem eutrófico de 18 anos de idade foi prescrita uma injeção intramuscular de penicilina G benzatina 1.200.000 unidades. A uma senhora de 66 anos de idade foram prescritas 40 unidades de insulina NPH por via subcutânea. E a um senhor de 57 anos de idade foi prescrita hidrocortisona 300 mg intravenosa.

Considerando a situação hipotética apresentada, julgue os itens subseqüentes.

- 65** Considere que estão disponíveis no setor apenas frascos-ampolas de 600.000 unidades de penicilina G benzatina. Nessa situação, deverão ser utilizados para o jovem dois frascos-ampolas, diluindo-se a medicação até se obter um volume total final de, no máximo, 5 mL, e a aplicação deve ser feita profundamente no músculo.
- 66** A agulha 10 × 6 é a mais apropriada para a aplicação intramuscular do medicamento no jovem, tendo em vista o fato de ser um indivíduo eutrófico.

67 Considerando que estejam disponíveis frascos de 100 unidades de insulina NPH e apenas seringas de 3 mL, deve ser aspirado 1,2 mL do frasco para aplicar na senhora de 66 anos de idade.

68 Considerando que o frasco de hidrocortisona indique 500 mg em um volume de 2 mL, assim deverá ser aspirado 1,2 mL da medicação.

Um senhor de 87 anos de idade, internado em um hospital para tratamento de pneumonia, começou a apresentar, há quatro dias, dor no peito de forma súbita, na região anterior do tórax. Foram prescritos verificação dos sinais vitais de 4 em 4 horas, balanço hídrico e oxigênio úmido a 3 litros por minuto sob cânula nasal.

Acerca da situação hipotética acima e dos cuidados de enfermagem prescritos, julgue os itens seguintes.

- 69** Para a verificação da pressão arterial, deve-se insuflar o manguito rapidamente e esvaziá-lo lentamente. O som do primeiro batimento será anotado como a pressão diastólica e o desaparecimento dos sons, como a sistólica.
- 70** O pulso deve ser verificado na artéria carótida, não sendo necessário contar durante um minuto, bastando contar durante 15 segundos e multiplicar o resultado por 4.
- 71** O balanço hídrico limita-se à realização da pesagem do paciente.
- 72** A cânula nasal provoca certo incômodo e deve ser introduzida após ter sido feita a medida da distância entre a ponta do nariz e o lóbulo da orelha.

O bom relacionamento entre as pessoas é muito importante e deve ser cultivado dia-a-dia junto ao paciente e aos outros profissionais. A respeito desse tema, julgue os itens a seguir.

- 73** Uma forma de cultivar o bom relacionamento é encorajar os pacientes idosos a falarem sobre experiências passadas, procurando ouvir com atenção e demonstrar interesse.
- 74** Permitir a expressão dos sentimentos e emoções do paciente contribui para uma relação positiva entre profissional e paciente.
- 75** Deve-se ter atenção à comunicação não-verbal, pois, muitas vezes, ela diz mais que as palavras e pode influenciar no relacionamento com o paciente.
- 76** A equipe de saúde trabalha bem quando há integração dos papéis de seus membros, respeitando-se a hierarquia e reconhecendo-se os limites de atuação profissional de cada um.

Ana tem 22 anos de idade e, devido a um acidente com traumatismo de períneo e abdome, submeteu-se a uma cirurgia para correção do trânsito intestinal, após a qual permaneceu com uma colostomia. É fumante desde os 14 anos de idade e obesa. No pré-operatório imediato, mostrava-se ansiosa e agressiva, chamando a equipe a toda hora, querendo esclarecimentos quanto à cirurgia. Durante a cirurgia, na fase de aproximação das bordas da ferida para a realização da sutura, houve perda de muito sangue, sendo feitas reposições com soluções intravenosas. No pós-operatório, apresentou náuseas e dificuldades respiratórias.

Diante da situação hipotética apresentada, julgue os itens que se seguem.

- 77** Colostomia representa uma abertura cirúrgica na parede abdominal para comunicar uma porção do intestino com o exterior.
- 78** O período do pré-operatório imediato é aquele no qual o paciente se submete aos exames que auxiliarão na confirmação do diagnóstico, abrangendo desde a indicação da cirurgia até o dia anterior à mesma.
- 79** No período pré-operatório do caso descrito, é melhor dar poucas orientações quanto à cirurgia, pois trata-se de uma mulher jovem, que terá uma alteração no seu corpo, e, assim, quanto mais souber acerca da cirurgia, mais ansiosa poderá ficar.
- 80** A cirurgia referida pode ser classificada como potencialmente contaminada.
- 81** No transoperatório, a fase descrita na qual a paciente apresentou sangramento importante é conhecida por diérese.
- 82** Ana tem dois importantes fatores de risco: a obesidade e o tabagismo, que aumentam o risco de complicações durante e após a cirurgia.

Julgue os itens que se seguem, referentes aos cuidados de enfermagem à criança e ao adolescente.

- 83** A atenção à saúde da criança e do adolescente deverá estar direcionada ao cuidado planejado durante as várias fases de desenvolvimento.
- 84** A diarreia é uma importante doença que afeta o sistema gastrointestinal, muito comum em crianças pequenas que vivem em lugares sem saneamento básico.
- 85** Considere que uma criança de 5 anos de idade, asmática, chegue a um pronto-socorro apresentando broncoespasmo importante e, após a avaliação médica, seja solicitada a inaloterapia com apenas duas gotas de um broncodilatador. Nesse caso, considerando a dificuldade respiratória da criança, a auxiliar de enfermagem pode aumentar o número de gotas da medicação, pois, assim, haverá melhora mais rápida do quadro.
- 86** Uma adolescente que, após ter sofrido violência sexual, tenha engravidado pode solicitar a realização do aborto, por lei, desde que esteja com menos de 20 semanas de gestação.
- 87** Durante uma visita domiciliar, foi observado que uma criança de 18 meses de vida apresentava os seguintes sinais: diarreia há 2 dias, pulso débil, letargia, olhos fundos, boca seca, ausência de lágrimas, turgor cutâneo e diurese diminuídos. Nessa situação, a criança deve ser encaminhada imediatamente a um hospital, pois apresenta manifestações compatíveis com uma desidratação grave.
- 88** O tratamento indicado para crianças com diarreia sem sinais de desidratação é a mudança da dieta com restrição de carboidratos, açúcares e gorduras e administração de medicamento para cessar a diarreia.

Os artigos utilizados nos diferentes serviços de saúde são classificados em categorias conforme o grau de risco de provocar infecção nos pacientes. Julgue os seguintes itens, referentes a esse tema.

- 89** Artigos semicríticos são aqueles que entram em contato com mucosa e pele lesadas e, por isso, exigem processo de esterilização rigorosa e total.
- 90** Materiais que podem provocar infecção porque são introduzidos diretamente em tecidos normalmente estéreis são classificados como críticos, a exemplo dos instrumentais cirúrgicos.
- 91** Não é obrigatória a esterilização das comadres, pois trata-se de artigos não-críticos.

Os equipamentos de proteção individual representam uma barreira protetora para o trabalhador. Com relação a esse assunto, julgue os itens a seguir.

- 92** As luvas de procedimento não são estéreis e devem ser utilizadas sempre que houver riscos de contato com secreções e fluidos corpóreos.
- 93** Os óculos de proteção são usados em situações em que há risco de respingos de sangue ou secreções.
- 94** Nenhum cuidado especial é requerido ao se retirar as luvas após terem sido utilizadas junto ao paciente.

Um paciente de 38 anos de idade está internado com diagnóstico médico de angina estável. Chegou ao hospital com dores no peito, sudorese fria, palpitações e náuseas. Relata um episódio de desmaio em casa. Diz ser uma pessoa muito nervosa, trabalha com computador por várias horas e ingere grandes quantidades de café durante o dia.

Considerando a situação hipotética apresentada, julgue os itens subseqüentes.

- 95** A angina estável e o infarto do miocárdio são sinônimos e representam a destruição do tecido do coração por falta de circulação sanguínea.
- 96** Manter o cliente em repouso, oferecer dieta leve e verificar os sinais vitais observando qualquer alteração no ritmo cardíaco são alguns cuidados a serem observados nessa situação.
- 97** A ingestão da cafeína e o sedentarismo minimizam os riscos cardíacos.

Com relação a parada cardiorrespiratória (PCR) e a manobras de ressuscitação cardiopulmonar (RCP), julgue os itens que se seguem.

- 98** Para se caracterizar uma PCR, é essencial a presença da midríase.
- 99** A primeira manobra a ser feita em casos de PCR, em qualquer situação, é a hiperextensão do pescoço.
- 100** Ao se utilizar um desfibrilador elétrico durante uma RCP, em ambiente hospitalar, não se deve esquecer de colocar pasta condutora nas duas pás, para evitar queimaduras no paciente e melhorar a condução do estímulo elétrico.