



# PODER JUDICIÁRIO TRIBUNAL SUPERIOR ELEITORAL (TSE)

**CONCURSO PÚBLICO**  
NÍVEL MÉDIO

Aplicação: 14/1/2007

## **CARGO 21: TÉCNICO JUDICIÁRIO** **ÁREA: APOIO ESPECIALIZADO** **ESPECIALIDADE: HIGIENE DENTAL**

**TARDE**

## Caderno **21-SOBRAL**

**LEIA COM ATENÇÃO AS INSTRUÇÕES ABAIXO.**

- 1 Ao receber este caderno, confira atentamente se o tipo de caderno — Caderno 21-SOBRAL — coincide com o que está registrado em sua folha de respostas. Em seguida, verifique se ele contém oitenta questões, correspondentes às provas objetivas, corretamente ordenadas de 1 a 80.
- 2 Quando autorizado pelo chefe de sala, no momento da identificação, escreva, no espaço apropriado da sua folha de respostas, com a sua caligrafia usual, a seguinte frase de Goethe:  
*Faça o que for justo. O resto virá por si só.*
- 3 Caso o caderno esteja incompleto ou tenha qualquer defeito, solicite ao fiscal de sala mais próximo que tome as providências cabíveis.
- 4 Não utilize lápis, lapiseira, borracha e(ou) qualquer material de consulta que não seja fornecido pelo CESPE/UnB.
- 5 Não se comunique com outros candidatos nem se levante sem autorização do chefe de sala.
- 6 A duração das provas é de **quatro horas**, já incluído o tempo destinado à identificação — que será feita no decorrer das provas — e ao preenchimento da folha de respostas.
- 7 Você deverá permanecer obrigatoriamente em sala por, no mínimo, uma hora após o início das provas e poderá levar o seu caderno de provas somente no decurso dos últimos **quinze minutos** anteriores ao horário determinado para o término das provas.
- 8 Ao terminar as provas, chame o fiscal de sala mais próximo, devolva-lhe a sua folha de respostas e deixe o local de provas.
- 9 A desobediência a qualquer uma das determinações constantes no presente caderno ou na folha de respostas poderá implicar a anulação das suas provas.

### AGENDA (DATAS PROVÁVEIS)

- I 16/1/2007, após as 9 h (horário de Brasília) – Gabaritos oficiais preliminares das provas objetivas: Internet — [www.cespe.unb.br/concursos/tse2006](http://www.cespe.unb.br/concursos/tse2006).
- II 16 a 18/1/2007 – Recursos (provas objetivas): exclusivamente no Sistema Eletrônico de Interposição de Recurso, Internet — [www.cespe.unb.br/concursos/tse2006](http://www.cespe.unb.br/concursos/tse2006) —, mediante instruções e formulários que estarão disponíveis nesse endereço.
- III 30/1/2007 – Resultados finais das provas objetivas e do concurso: Diário Oficial da União e Internet — [www.cespe.unb.br/concursos/tse2006](http://www.cespe.unb.br/concursos/tse2006).

### OBSERVAÇÕES

- Não serão objeto de conhecimento recursos em desacordo com o item 12 do Edital n.º 1/2006 – TSE, de 13/11/2006.
- Informações adicionais: telefone 0(XX) 61 3448-0100; Internet — [www.cespe.unb.br/concursos/tse2006](http://www.cespe.unb.br/concursos/tse2006).
- É permitida a reprodução deste material apenas para fins didáticos, desde que citada a fonte.

- Nas questões de 1 a 80, marque, em cada uma, a única opção correta, de acordo com o respectivo comando. Para as devidas marcações, use a **folha de respostas**, único documento válido para a correção das suas provas.
- Nas questões que avaliam **Noções de Informática**, a menos que seja explicitamente informado o contrário, considere que todos os programas mencionados estão em configuração-padrão em português, que o *mouse* está configurado para pessoas destras e que expressões como clicar, clique simples e clique duplo referem-se a cliques com o botão esquerdo do *mouse*. Considere também que não há restrições de proteção, de funcionamento e de uso em relação aos programas, arquivos, diretórios e equipamentos mencionados.

## CONHECIMENTOS BÁSICOS

### Texto para as questões 1 e 2

1 Geralmente, as oposições não gostam dos governos. Partido vencido contesta a eleição do vencedor, e partido vencedor é simultaneamente vencido, e vice-versa. Tentam-se  
4 acordos, dividindo os deputados; mas ninguém aceita minorias. No antigo regímen iniciou-se uma representação de  
7 estava de baixo. Não pegou bem — ou porque a porcentagem era pequena — ou porque a planta não tinha força bastante. Continuou praticamente o sistema da lavra única.

10 (...) Sócrates aconselhava ao legislador que quando houvesse de legislar tivesse em vista a terra e os homens. Ora, os homens aqui amam o governo e a tribuna, gostam de  
13 propor, votar, discutir, atacar, defender e os demais verbos, e o partido que não folheia a gramática política acha naturalmente que já não há sintaxe; ao contrário, o que tem a  
16 gramática na mão julga a linguagem alheia obsoleta e corrupta. O que estamos vendo é a impressão em dous exemplares da mesma gramática.

Machado de Assis. *A Semana. Obra completa*, v. III. Rio de Janeiro: Aguilar, 1973, p. 652-3.

### QUESTÃO 1

Em relação ao texto, assinale a opção correta.

- Ⓐ A substituição de “Tentam-se” (ℓ.3) por **São tentados** prejudica a correção gramatical do período.
- Ⓑ Se os travessões das linhas 7 e 8 forem substituídos por vírgulas, o período fica incorreto.
- Ⓒ As palavras “planta” (ℓ.8) e “lavra” (ℓ.9) constituem um jogo metafórico de idéias.
- Ⓓ O emprego do subjuntivo em “quando houvesse” (ℓ.10-11) justifica-se por compor uma afirmativa sobre uma ação já decorrida.

### QUESTÃO 2

Com referência ao texto, assinale a opção correta.

- Ⓐ Na linha 13, o emprego de vírgulas após “propor”, “votar”, “discutir” e “atacar” justifica-se por isolar expressões de natureza positiva.
- Ⓑ As expressões “folheia a gramática política” (ℓ.14) e “tem a gramática na mão” (ℓ.15-16) estão sendo empregadas em sentido denotativo.
- Ⓒ Pelos sentidos do texto, partidos de oposição e de situação têm estratégias completamente diferentes de ação.
- Ⓓ O emprego da primeira pessoa do plural em “estamos vendo” (ℓ.17) inclui o leitor nas afirmações do período.

### QUESTÃO 3

1 A função da oposição em uma sociedade democrática consiste em denunciar a corrupção, acompanhar as  
4 investigações e avaliar os projetos e iniciativas governamentais, propondo alternativas. A crítica, e não a  
7 adesão, é sua tarefa primordial. Se uma sociedade cessa de ter uma verdadeira oposição, ela caminha para uma solução  
autoritária. A governabilidade só existe verdadeiramente com uma oposição atuante, que sinalize os problemas existentes e discuta os seus encaminhamentos.

Denis Lerrer Rosenfield. *O Globo*, 27/11/2006, p. 7 (com adaptações).

Em relação ao texto acima, assinale a opção correta.

- Ⓐ O autor do texto defende uma oposição atuante em relação às posições do governo.
- Ⓑ Na linha 6, o pronome “ela” refere-se a “verdadeira oposição”.
- Ⓒ Entre os dois últimos períodos do texto, subentende-se uma relação sintática que pode ser expressa por **Entretanto**.
- Ⓓ O emprego do subjuntivo em “sinalize” (ℓ.8) e “discuta” (ℓ.9) justifica-se por compor um período de natureza explicativa.

**QUESTÃO 4**

1 Uma sociedade democrática vive de suas clivagens,  
que têm como fundamento o respeito ao pluralismo político.  
Cada partido tem o direito de fazer suas próprias propostas,  
4 procurando mostrar para a opinião pública a sua viabilidade,  
a sua pertinência e a sua importância. Ela se alimenta,  
também, dos consensos que consegue estabelecer sobre  
7 algumas grandes questões nacionais, as que possibilitam  
precisamente que o país adote uma rota de crescimento  
econômico, desenvolvimento social e pleno respeito à  
10 liberdade.

*Idem, ibidem.*

Em relação ao texto acima, assinale a opção **incorreta**.

- A A forma verbal “têm” (ℓ.2) refere-se a “clivagens” (ℓ.1).
- B A palavra “clivagens” (ℓ.1) está sendo empregada com o sentido de **convergências, uniões**.
- C O pronome “Ela” (ℓ.5) refere-se a “sociedade democrática” (ℓ.1).
- D O emprego de vírgula após “econômico” (ℓ.9) justifica-se por separar elementos de mesma função gramatical componentes de uma enumeração.

**QUESTÃO 5**

1 Como seus antecessores Adam Smith, Karl Marx e  
John Maynard Keynes, o norte-americano Milton Friedman  
foi um dos mais influentes economistas de todos os tempos.  
4 Recebeu a John Bates Clark Medal (1951) e o Prêmio Nobel  
de Economia (1976), as duas mais importantes condecorações  
acadêmicas concedidas por significativa contribuição ao  
7 conhecimento científico.

Em seu clássico **A Metodologia da Ciência  
Econômica** (1953), tornou clara a diferença entre ciência  
10 econômica e economia política. A primeira seria formada por  
hipóteses empiricamente refutáveis, enquanto a segunda, por  
prescrições baseadas em juízos de valor.

Paulo Guedes. *O Globo*, 27/11/2006, p. 7 (com adaptações).

Em relação ao texto acima, julgue os itens subsequentes.

- I Pelos sentidos do texto, Adam Smith, Karl Marx e John Maynard Keynes foram contemporâneos de Milton Friedman.
- II O texto informa que Keynes recebeu o Prêmio Nobel de Economia em 1976.
- III Friedman esclareceu a diferença entre ciência econômica e economia política.
- IV O emprego da vírgula após “segunda” (ℓ.11) justifica-se pela elipse da repetição da expressão “seria formada” (ℓ.10).

A quantidade de itens certos é igual a

- A 1.
- B 2.
- C 3.
- D 4.

**QUESTÃO 6**

1 Distraídos com a discussão sobre os índices de  
crescimento, deixamos de perceber que desenvolvimento é o  
processo contínuo pelo qual uma sociedade aprende a  
4 administrar realidades cada vez mais complexas.

Quando dizemos que os suíços ou suecos são  
desenvolvidos, o que temos em mente não é apenas que eles  
7 são mais ricos que nós. O que está subentendido é que  
também sabem gerir melhor os trens e as escolas primárias, as  
florestas e os hospitais, as universidades e as penitenciárias,  
10 os museus e os tribunais. Em outras palavras, ser  
desenvolvido é uma totalidade.

No Brasil temos ilhas de excelência: o Departamento  
13 do Tesouro, a EMBRAPA, o Itamaraty, entre outras. Mas  
estão afogadas em oceano de incompetência, em certos pontos  
com profundidades abissais. As demandas de exigência  
16 crescente de uma sociedade dinâmica são atendidas pelas  
ilhas de eficiência, mas logo se atolam nos gargalos da  
inépcia.

Rubens Ricupero. *Folha de S.Paulo*, 26/11/2006, p. B2 (com adaptações).

Em relação ao texto acima, julgue os itens que se seguem.

- I O emprego da primeira pessoa do plural em “deixamos” (ℓ.2), “dizemos” (ℓ.5), “nós” (ℓ.7) e “temos” (ℓ.12) indica a inclusão do autor e do leitor na informação.
- II A substituição de “pelo qual” (ℓ.3) por **cuja** mantém a correção gramatical do período.
- III A expressão “Em outras palavras” (ℓ.10) pode, sem prejuízo para a informação do texto, ser substituída por qualquer uma das seguintes: Isto é, Ou seja, Ou melhor, Com efeito.
- IV A expressão “se atolam” (ℓ.17) refere-se a “demandas de exigência crescente de uma sociedade dinâmica” (ℓ.15-16).

A quantidade de itens certos é igual a

- A 1.
- B 2.
- C 3.
- D 4.

**QUESTÃO 7**

1 Olhando em retrospectiva os últimos 20 anos, temos  
 uma realidade nada alentadora. Em média, o Brasil cresceu  
 cerca de 2,4% ao ano. Diante desse cenário, o que precisa ser  
 4 feito para que atinjamos os tão propalados 5% de crescimento  
 sustentado?

Quando se trata de crescimento sustentado, a teoria  
 7 econômica indica que o resultado positivo é fruto de dois  
 tipos de ação: aumento da produtividade ou acumulação de  
 capital (físico e humano).

10 A elevação significativa da produtividade dos fatores  
 de produção só será obtida com reformas institucionais  
 profundas. Já o acúmulo de capital humano requer  
 13 investimento em educação, cuja maturação é longa.

Luiz Guilherme Schymura. *Folha de S.Paulo*, 1.º/12/2006 (com adaptações).

Assinale a opção **incorreta** acerca do texto acima.

- Ⓐ No primeiro parágrafo, a substituição de “o que precisa” (ℓ.3) por **há muito a**, acompanhada dos devidos ajustes de pontuação, permitiria a transformação da interrogação em uma afirmação.
- Ⓑ O emprego da vírgula após “sustentado” (ℓ.6) justifica-se por isolar oração subordinada anteposta à principal.
- Ⓒ A substituição de “Já” (ℓ.12) pela expressão **Por outro lado**, seguida de vírgula, mantém a informação original do período.
- Ⓓ A substituição de “cuja” (ℓ.13) por **a qual** mantém a correção gramatical do período.

**QUESTÃO 8**

Assinale a opção que apresenta **erro** gramatical.

- Ⓐ Em fevereiro de 1938, o Departamento Municipal de Cultura de São Paulo, sob a gestão de Mário de Andrade, despachou uma equipe de pesquisadores para registrar a música brasileira tradicional, que, sufocada pela modernidade, corria o risco de se extinguir.
- Ⓑ Na equipe, iam o arquiteto Luís Saia, o maestro Martin Braunwieser, o técnico de som Benedicto Pacheco e o assistente Antonio Ladeira, munidos de gravador Presto, câmara fotográfica, filmadora, discos e muitas fichas e cadernetas para anotação.
- Ⓒ Partiram do porto de Santos com o objetivo de percorrer o país. Começaram pelo Norte e Nordeste, porque Mário considerava que ali a cultura brasileira era mais genuína.
- Ⓓ A Missão chegou ao fim antes do previsto. Com o Estado Novo, por questões políticas, Mário foi afastado da direção do Departamento. Mas Oneida Alvarenga, diretora da Discoteca Pública Municipal de São Paulo, e ex-aluna de Mário, coletaram e organizaram todo o material.

Opções adaptadas de Mariana Albanese. *Brasil — Almanaque de Cultura Popular*, n.º 91, nov./2006, p. 18-9.

**QUESTÃO 9**

1 Mário de Andrade assim justificou a necessidade de  
 aprofundar o estudo etnológico: “Nós não precisamos de  
 teóricos (...) Precisamos de moços pesquisadores que vão à  
 4 casa recolher com seriedade e de maneira completa o que esse  
 povo guarda, e rapidamente esquece, desnorteado pelo  
 progresso invasor (...)” A Missão de Pesquisa folclórica foi  
 7 a última ação de Mário de Andrade como diretor do  
 Departamento de Cultura. A implantação do Estado Novo  
 significou o fim da Missão. Em maio de 1938, Mário foi  
 10 substituído, e em julho seguiu para o Rio de Janeiro. O  
 homem que se dizia completamente feliz antes da vida pública  
 passou a beber demais, a ter períodos de depressão. Voltou  
 13 para São Paulo em 1941. Morreu quatro anos depois, de  
 enfarte, aos 51 anos.

Mariana Albanese. *Op. cit.*, p. 19 e 23.

Em relação ao texto acima, assinale a opção **incorreta**.

- Ⓐ A substituição de “assim justificou” (ℓ.1) por **justificou da seguinte maneira** prejudica a correção gramatical do período.
- Ⓑ O emprego de aspas justifica-se por isolar uma citação.
- Ⓒ A palavra “significou” (ℓ.9) está sendo empregada com o sentido de **provocou**.
- Ⓓ A expressão “O homem” (ℓ.10-11) retoma o antecedente “Mário” (ℓ.9).

**QUESTÃO 10**

Assinale a opção que apresenta **erro** de concordância.

- Ⓐ Mário havia viajado pelo Brasil no final da década de 20, o que foi uma experiência fundamental, recriada em **O Turista Aprendiz** e na rapsódia **Macunaíma, o Herói sem Nenhum Caráter**.
- Ⓑ Músico de formação, sentia a necessidade de registrar em fonogramas a música cantada pelos brasileiros. Justificavam que a anotação manual não era tão eficiente quanto a gravação.
- Ⓒ Conseguiu viabilizar o projeto no final de 1937, e então começou os preparativos para a Missão. Mário foi exigente na seleção da equipe.
- Ⓓ Embasado nos estudos etnográficos, defendia que os pesquisadores estivessem preparados para agir de forma profissional.

Opções adaptadas de Mariana Albanese. *Op. cit.*



Texto para as questões 11 e 12



A figura acima ilustra a janela Meu computador, do Windows XP.







**QUESTÃO 11**

Com relação à janela do Windows XP mostrada na figura acima e ao Windows XP, assinale a opção correta.

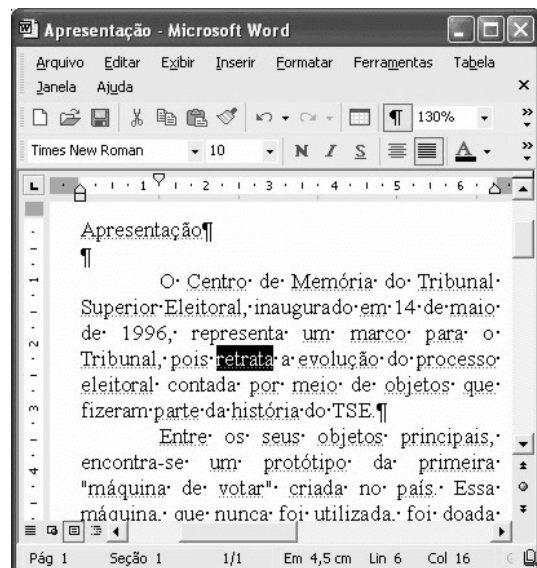
- A É possível abrir a janela Meus documentos a partir de funcionalidades da janela Meu computador, que podem ser acionadas por meio de operações com o mouse.
- B Essa janela é aberta imediatamente após a aplicação de um clique simples no botão Iniciar do Windows XP.
- C Um clique duplo em qualquer local da barra de título dessa janela faz que a janela seja minimizada e que um botão correspondente a ela seja exibido na barra de tarefas do Windows XP.
- D Para se iniciar um programa de detecção da presença de vírus em algum arquivo contido em um disquete de 3 1/2" que esteja inserido na unidade A:, é suficiente clicar o ícone  e, em seguida, clicar .

**QUESTÃO 12**

Ainda com relação à janela do Windows XP mostrada na figura e ao Windows XP, assinale a opção correta.

- A Ao se clicar o ícone  Unidade de DVD (E:) e, em seguida, clicar três vezes consecutivas o botão , será aberta a janela  Disco local (C:).
- B Ao se clicar o botão , todas as janelas que estiverem abertas na área de trabalho do Windows serão minimizadas, de forma que toda essa área será exibida no monitor de vídeo.
- C Ao se clicar o ícone  Administrador - documentos e, em seguida, se clicar a ferramenta Nome, é aberta uma caixa de diálogo denominada Renomear, que permite que o usuário altere o nome da pasta correspondente ao ícone clicado.
- D Ao se clicar o ícone  Disco local (C:) com o botão direito do mouse, é exibida uma lista de opções, entre as quais a opção Abrir, que permite abrir a pasta associada ao referido ícone.




Texto para as questões de 13 a 15



A figura acima ilustra uma janela do Word 2002 que está sendo executada em um computador com o sistema operacional Windows XP.

**QUESTÃO 13**

Com relação à janela mostrada na figura e ao Word 2002, assinale a opção correta.

- A A fonte usada na palavra “retrata”, em destaque no texto em edição, é Arial.
- B Ao se clicar imediatamente antes do símbolo ¶, no final do primeiro parágrafo, e, em seguida, se clicar o botão , será inserida uma nova linha, em branco, sendo que essa linha irá conter apenas o símbolo ¶.
- C Ao se aplicar um clique duplo entre as letras “p” e “a” da palavra “país”, essa palavra será selecionada.
- D Para se centralizar o título do texto — “Apresentação” —, é suficiente selecioná-lo e, em seguida, pressionar simultaneamente as teclas  e .

**QUESTÃO 14**

Ainda com relação à janela mostrada na figura e ao Word 2002, assinale a opção correta.

- A** Para sublinhar a palavra “Apresentação”, no título do texto em edição, é suficiente clicar em qualquer ponto dessa palavra e, em seguida, clicar o botão . Se esse botão for clicado novamente, será também aplicada a formatação negrito a essa mesma palavra.
- B** Ao se clicar o botão , será exibida, por inteiro, a página 1 do documento em edição, e o conteúdo dessa página será exibido com tamanho reduzido de forma proporcional ao tamanho da página exibida.
- C** Funcionalidades associadas à caixa  permitem definir o tamanho da fonte de trechos de texto que estejam selecionados.
- D** O nome com o qual o arquivo está salvo na unidade de disco é Times New Roman.

**QUESTÃO 15**

Ainda com relação à janela mostrada na figura, assinale a opção que indica uma forma correta de copiar o título — “Apresentação” — para o final do parágrafo terminado em “do TSE.”, sem apagar o título original (ou seja, fazer uma operação de copiar, e, não, de recortar). Para isso, considere que a palavra “Apresentação” esteja selecionada.

- A** Pressionar e manter pressionada a tecla ; teclar ; liberar a tecla ; clicar o local correto de destino da cópia; clicar o botão .
- B** Pressionar e manter pressionada a tecla  e teclar ; clicar o local correto de destino da cópia; clicar o botão .
- C** Clicar o botão ; clicar o local correto de destino da cópia; clicar o botão .
- D** Clicar o botão ; clicar o local correto de destino da cópia; clicar o botão .

**Texto para as questões 16 e 17**

A figura acima ilustra uma janela do Excel 2002 que está sendo executada em um computador com o sistema operacional Windows XP.

**QUESTÃO 16**

Com relação à janela mostrada na figura acima e ao Excel 2002, assinale a opção correta.

- A** O trecho a seguir descreve corretamente uma forma de alterar para a cor amarela a fonte usada nos conteúdos das células A2, A3 e A4: selecionar as referidas células; clicar , fazendo que seja exibida uma caixa com diversas opções de cores; selecionar a cor amarela.
- B** Para inserir uma nova linha, em branco, entre as linhas 3 e 4, movendo-se a linha 4 uma posição abaixo, é suficiente selecionar a linha 3 e, em seguida, clicar .
- C** Ao se clicar o botão , será criada uma nova planilha com conteúdo exatamente igual ao da planilha Operações, cujo nome será Operações2.
- D** Após selecionar as células D2, D3 e D4 e clicar , o número 9 será exibido na célula D5.

**QUESTÃO 17**






Ainda com relação à janela do Excel mostrada no texto, considere a seguinte seqüência de ações: clicar a célula F4; digitar “=\$C3+D\$4” e teclar ; clicar novamente a célula F4; clicar ; clicar a célula E3; clicar . Após essa seqüência de ações, os conteúdos das células E3 e F4 serão, respectivamente,

- A** 17 e 6.
- B** 12 e 6.
- C** 13 e 6.
- D** 6 e 6.

**QUESTÃO 18**



A figura acima mostra um *slide* de uma apresentação em uma janela do PowerPoint 2002. Com relação a essa figura e ao PowerPoint 2002, assinale a opção correta.

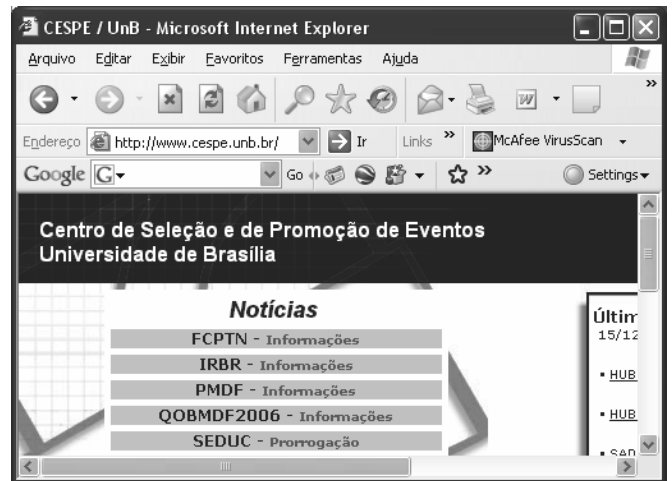
- A Para diminuir o recuo do tópico que contém a palavra “Pesquisa”, afastando-a mais para a esquerda, é suficiente clicar essa palavra e, em seguida, clicar o botão .
- B Os botões  e  permitem aumentar e diminuir o tamanho da fonte de um texto selecionado.
- C Para maximizar a janela mostrada, de forma que ela ocupe toda a tela do monitor de vídeo, é suficiente alterar para 100 o número 28, na caixa .
- D O botão  permite exibir ou ocultar linhas de grade que se superpõem ao conteúdo do *slide* e que são impressas quando o *slide* é impresso.

**QUESTÃO 19**




Com respeito a conceitos relacionados à Internet e a correio eletrônico, assinale a opção correta.

- A A seguinte seqüência de caracteres possui uma estrutura típica de URL de páginas da Web brasileiras: `www.com.empresa.bra`.
- B A estrutura típica de um endereço de *e-mail* de uma pessoa que trabalha em empresa localizada nos Estados Unidos da América é: `empresa#pessoa.com.usa`.
- C A World Wide Web (www) tem-se tornado uma fonte de informações e de conhecimentos para cidadãos de vários países.
- D Todas as mensagens da Internet que são enviadas do Brasil para o exterior passam, necessariamente, por um roteador central, controlado pelo governo federal e localizado em Brasília, para serem, então, enviadas aos destinatários, quando passam, necessariamente, por esse mesmo mecanismo, controlado pelo governo do país de destino.

**QUESTÃO 20**



Com relação à figura acima, que mostra uma janela do Internet Explorer 6 (IE6), e às funcionalidades desse *software*, assinale a opção correta.

- A Ao se clicar o botão , é aberto um editor de html, que tem por função permitir a criação de páginas da Web por meio dessa linguagem.
- B O menu **Exibir** apresenta comandos com funcionalidades que permitem, entre outras coisas, exibir ou esconder algumas barras de ferramentas do IE6.
- C Ao se clicar o botão , é aberto o Outlook Express, que é um programa que permite o envio e o recebimento de mensagens de *e-mail*.
- D Pela observação da figura, é possível afirmar que o IE6 está em um modo de edição de páginas em html. Nessa situação, a função do botão  é permitir que o usuário insira um *hyperlink* na página em edição.

**QUESTÃO 21**

Um jornal noticiou que o Superior Tribunal de Justiça (STJ) elegeu, entre seus componentes, cinco juízes para comporem o Tribunal Superior Eleitoral (TSE). Essa afirmação é incompatível com o direito brasileiro porque

- A o TSE não conta, em sua composição, com membros do STJ.
- B há, no TSE, apenas dois integrantes do STJ.
- C os membros do STJ que fazem parte do TSE são escolhidos pelo presidente da República.
- D os membros do STJ que fazem parte do TSE são eleitos pelo próprio TSE.

**QUESTÃO 22**

Uma pessoa disse que o Tribunal Regional Eleitoral (TRE) da Sexta Região tem jurisdição sobre os estados da região Nordeste. Acerca dessa afirmação, assinale a opção correta.

- A A afirmação é verdadeira.
- B A afirmação é falsa, porque esse tribunal tem jurisdição sobre os estados da região Norte.
- C A afirmação é falsa, porque não existe, na estrutura do Poder Judiciário brasileiro, um tribunal com essa denominação.
- D A afirmação é falsa, porque existem apenas cinco regiões eleitorais.

**QUESTÃO 23**

Os membros dos TREs

- A** somente podem ser processados penalmente mediante prévia autorização do TSE.
- B** somente podem perder seus cargos mediante decisão judicial transitada em julgado.
- C** são imunes a qualquer processo judicial durante os períodos de campanha eleitoral.
- D** são invioláveis por suas opiniões, palavras e votos.

**QUESTÃO 24**

Um grupo de membros do Ministério Público (MP) defende que a estrutura dos TREs deve ser modificada, inserindo em sua composição dois membros do MP. Nessa situação, tal modificação

- A** poderia ser realizada mediante lei complementar.
- B** poderia ser realizada mediante lei ordinária.
- C** poderia ser realizada mediante alteração do regimento interno de cada tribunal.
- D** precisaria ser feita mediante alteração da Constituição da República.

**QUESTÃO 25**

Os membros do TSE que são escolhidos entre advogados de notável saber jurídico são nomeados pelo presidente

- A** da República.
- B** do Superior Tribunal Federal (STF).
- C** da Ordem dos Advogados do Brasil.
- D** do TSE.

**QUESTÃO 26**

A afirmação de que a reintegração e a recondução são formas de provimento inaplicáveis a cargos comissionados é

- A** correta.
- B** errada, pois é legalmente possível a recondução para cargo de provimento em comissão.
- C** errada, pois é legalmente possível a reintegração em cargo de provimento em comissão.
- D** errada, pois essas formas de provimento não mais são previstas na legislação brasileira.

**QUESTÃO 27**

Rodrigo é servidor público do TSE que ingressou com pedido administrativo, solicitando sua transferência do departamento de pessoal para o departamento de direitos humanos. Nesse caso, a solicitação de Rodrigo

- A** deve ser indeferida, pois a legislação brasileira somente admite transferência de ofício.
- B** é tecnicamente inadequada, pois o deslocamento do servidor dentro do mesmo quadro é denominado remoção.
- C** é tecnicamente inadequada, pois o deslocamento do servidor, sem mudança de sede, é chamado de redistribuição.
- D** é tecnicamente inadequada, pois o deslocamento do servidor dentro do mesmo quadro é denominado readaptação.

**QUESTÃO 28**

Um jornal noticiou que os servidores públicos que tomam posse em cargos de provimento comissionado têm quinze dias de prazo para entrar em exercício, contados da data da posse. Essa afirmação é

- A** correta, de acordo com a lei em vigor.
- B** errada, pois somente têm esse prazo os servidores empossados em cargos públicos de provimento efetivo.
- C** errada, pois o prazo é de um mês.
- D** errada, porque o prazo é contado da data da publicação da ata de posse no Diário Oficial da União.

**QUESTÃO 29**

Um estudante de direito afirmou que um servidor pode ser responsabilizado civil, administrativa e penalmente pela prática de um mesmo ato ilícito. Essa afirmação é

- A** correta, pois as sanções civis, penais e administrativas podem cumular-se.
- B** errada, porque ninguém pode ser responsabilizado civil e penalmente pelo mesmo ato.
- C** errada, porque a responsabilidade penal sobrepõe-se à administrativa.
- D** errada, porque a responsabilidade administrativa é uma forma de responsabilidade penal.

**QUESTÃO 30**

Um servidor estável do TSE

- A** somente pode perder seu cargo em decorrência de sentença judicial.
- B** não pode ser exonerado, de ofício, do cargo que ocupa.
- C** não pode ser demitido, salvo por prática de ato de improbidade administrativa.
- D** pode ser demitido em virtude de decisão tomada em processo administrativo disciplinar.



## CONHECIMENTOS ESPECÍFICOS

### QUESTÃO 31

Em relação ao trabalho em equipe, assinale a opção **incorreta**.

- A O trabalho em equipe ocorre quando duas ou mais pessoas simplesmente trabalham em conjunto.
- B O trabalho em equipe está relacionado com uma distribuição inteligente de tarefas.
- C O termo trabalho em equipe implica a realização de tarefas bem definidas.
- D O termo trabalho em equipe refere-se à realização de um trabalho em fases, dentro de um procedimento completo.

### QUESTÃO 32

A equipe de saúde odontológica é formada por um grupo de profissionais qualificados que trabalham juntos, de maneira eficiente, para garantir a qualidade dos cuidados da saúde bucal. O líder dessa equipe será sempre

- A um cirurgião-dentista especialista em saúde coletiva.
- B cirurgião-dentista.
- C o administrador da empresa.
- D um técnico em higiene dental.

### QUESTÃO 33

Na atualidade, o produto mais valorizado no atendimento odontológico é a prestação de um serviço de qualidade. Nesse sentido, em um consultório odontológico, não se valoriza(m)

- A o dentista atualizado.
- B o técnico em higiene dental bem treinado.
- C as instalações luxuosas.
- D o paciente.

### QUESTÃO 34

As atividades diretamente relacionadas com o trabalho diário do técnico em higiene dental (THD) incluem

- A prevenção de riscos ambientais e sanitários; emissão e assinatura de recibos de pagamento por serviços prestados, com carimbo de THD contendo nome completo e número de registro no Conselho Regional de Odontologia.
- B ações de promoção da saúde; prescrição de medicamentos genéricos.
- C organização do ambiente de trabalho; reparos ou manutenção nos equipamentos odontológicos, serviços de recepção.
- D ações de prevenção e controle de doenças bucais.

### QUESTÃO 35

A digestão é o processamento do alimento ingerido. Os órgãos do sistema digestivo possuem as funções de preensão, mastigação, deglutição, digestão, absorção dos alimentos e expulsão de resíduos. Não constitui parte do chamado aparelho digestivo o(a)

- A cavidade bucal.
- B cavidade nasal.
- C esôfago.
- D reto.

### QUESTÃO 36

Anatomia é o estudo da estrutura dos seres orgânicos, que investiga a forma e a disposição dos órgãos por meio de dissecação (ANA = corpo + TOMIA = corte). Com relação a anatomia e fisiologia humanas, assinale a opção correta.

- A O diafragma é o músculo que separa as costelas.
- B Os hormônios são produzidos pelo sistema nervoso central.
- C A função básica do sistema circulatório é levar material nutritivo e oxigênio para as células.
- D O sistema cardiovascular controla e coordena as funções de todos os sistemas do organismo.

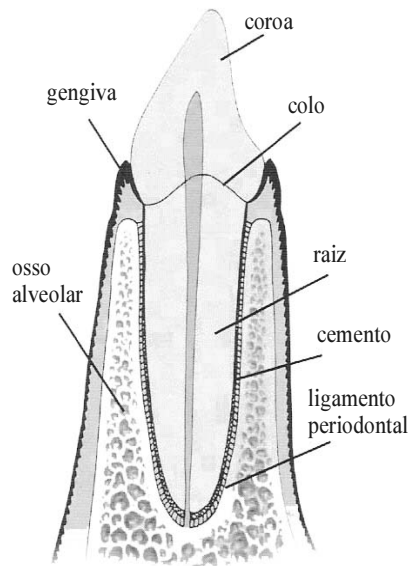
### QUESTÃO 37

O ser humano possui duas dentições, sendo a primeira chamada decidua, ou primária, e a segunda, dentição permanente. Os dentes apresentam tamanhos e formas diferentes. Em relação às características dos grupos dos dentes, assinale a opção correta.

- A Os incisivos, denominados centrais e laterais, apresentam-se em número de dois por arcada.
- B Os caninos são dentes mais pontiagudos e apresentam-se em número de dois por hemiarcada.
- C Os pré-molares só aparecem na dentição permanente, em número de dois pares em cada arcada.
- D Os molares ocorrem em número de um par por hemiarcada.

### Figura para as questões 38 e 39

Anatomia do órgão dentário



C. F. S. Lobas. *Odontologia de qualidade*. Ed. Santos, SP, 2006, p. 48 (com adaptações).

#### QUESTÃO 38

Assinale a opção correta em relação à anatomia dentária.

- Ⓐ O elemento dentário é dividido em coroa, colo e cimento.
- Ⓑ O órgão dentário é composto de esmalte, dentina, ligamento periodontal e polpa.
- Ⓒ O periodonto compreende a gengiva, o ligamento periodontal, o cimento e o osso alveolar.
- Ⓓ A figura mostra a anatomia de um dente provavelmente do grupo dos pré-molares inferiores.

#### QUESTÃO 39

Acerca das estruturas mostradas na figura, assinale a opção incorreta.

- Ⓐ A coroa dentária representa a porção visível na boca.
- Ⓑ O colo é a zona em que se unem a coroa e o ligamento periodontal.
- Ⓒ A raiz é a porção fixadora do elemento dental no osso alveolar.
- Ⓓ O dente representado na figura é unirradicular.

#### QUESTÃO 40

Assinale a opção correta em relação às principais funções dos dentes: mastigação, preensão, incisão, dilaceração e trituração.

- Ⓐ Preensão é o ato de cortar as substâncias alimentares, com diminuição de pressão.
- Ⓑ A dilaceração, ato de captura do alimento, é exercida pelos dentes incisivos e lábios.
- Ⓒ Mastigação é o ato de reduzir as substâncias alimentares em partículas que possam ser deglutidas.
- Ⓓ Incisão é o ato de rasgar ou reduzir o alimento a partículas menores e menos compactadas.

#### QUESTÃO 41

A coroa dos dentes anteriores e posteriores possui várias diferenças anatômicas que se justificam pelo papel específico de cada grupo de dentes na mecânica mastigatória. Acerca desse assunto, assinale a opção correta.

- Ⓐ Apenas os grupos de incisivos e caninos possuem a face vestibular (abreviada com a letra V), que corresponde ao vestíbulo da boca.
- Ⓑ A face oposta à face vestibular é denominada, para os dentes inferiores, face palatina; para os dentes superiores, é denominada face lingual.
- Ⓒ A face oclusal (abreviada com a letra O) é a face triturante de todos os grupos de dentes.
- Ⓓ As faces proximais estão presentes em todos os grupos de dentes e são diferenciadas em relação à maior ou à menor distância da linha mediana.

#### QUESTÃO 42

Em relação aos pontos de contato proximais, regiões em que os dentes se relacionam, equalizando as forças mastigatórias, assinale a opção correta.

- Ⓐ O ponto de contato ocorre entre a face mesial de um dente e a face distal do dente posterior.
- Ⓑ Somente os incisivos centrais se tocam em ambas as faces mesiais.
- Ⓒ A face distal do último dente de cada hemiarcada não entra em contato com nenhum outro dente.
- Ⓓ O ponto de contato fisiológico entre os incisivos centrais é denominado diastema.

#### Texto para as questões de 43 a 45

As doenças infectocontagiosas podem ser causadas por bactérias, fungos ou vírus. Os profissionais de saúde devem desenvolver um sentido de responsabilidade com relação à própria segurança e à segurança dos pacientes. A literatura registra diversos casos de doenças causadas pelo contato com materiais odontológicos infectados.

#### QUESTÃO 43

Com referência às bactérias, assinale a opção correta.

- Ⓐ Toda bactéria possui estruturas bem definidas, tais como parede celular e citoplasma.
- Ⓑ A unidade de medida do tamanho das bactérias é a milimicra, simbolizada por  $\mu$ .
- Ⓒ Existem apenas três espécies de bactérias: elipsoidal ou esférica; cilíndrica ou em forma de barra; e espiral ou helicoidal.
- Ⓓ A bactéria, embora muito pequena, pode ser vista a olho nu.

**QUESTÃO 44**

Em relação aos vírus, assinale a opção correta.

- Ⓐ A transmissibilidade não é uma característica fundamental dos vírus.
- Ⓑ Um vírus é composto apenas pelo ácido nucléico, que pode ser DNA ou RNA.
- Ⓒ A síndrome da imunodeficiência adquirida (SIDA) é transmitida por vírus.
- Ⓓ Os vírus só são transmitidos por contato direto.

**QUESTÃO 45**

O controle de infecção é definido como o conjunto de medidas que visa prevenir, imunizar ou eliminar riscos decorrentes de atividades de trabalho em equipe que possam comprometer a saúde do homem, da coletividade e do meio ambiente. Assinale a opção correta, relativamente às medidas de precaução no ambiente odontológico.

- Ⓐ A lavagem das mãos é a ação básica mais importante para a prevenção e o controle de infecção.
- Ⓑ A imunização feita com vacinas não reduz o risco de infecções, pouco protegendo a saúde da equipe profissional e de seus pacientes.
- Ⓒ A descontaminação do ambiente de trabalho elimina todas as formas de propagação de microrganismos.
- Ⓓ Todos os artigos utilizados em atendimentos odontológicos devem ser lavados, desinfetados e esterilizados, independentemente do seu potencial de transmissão de infecção.

**QUESTÃO 46**

Um paciente chegou ao consultório dentário queixando-se de incômodo na região da mucosa superior direita. No exame clínico, constatou-se a presença de uma pequena lesão, bem delimitada, dolorida, envolta por um halo eritematoso (avermelhado) e recoberta por uma placa esbranquiçada. Se a causa dessa lesão for removida, seu curso clínico terminará por volta de 15 dias. Pelas características descritas, a patologia em questão pode ser diagnosticada como

- Ⓐ herpes simples.
- Ⓑ úlcera traumática.
- Ⓒ cisto.
- Ⓓ hiperplasia gengival.

**QUESTÃO 47**

Algumas vezes, é possível detectar, em dentes recém-irrompidos, manchas relacionadas com o flúor administrado por via sistêmica. Acerca desse assunto, assinale a opção **incorreta**.

- Ⓐ A severidade das manchas detectadas depende do nível de flúor ingerido.
- Ⓑ A coloração dessas manchas pode apresentar áreas brancas opacas até coloração acastanhada.
- Ⓒ Essas manchas só aparecem no esmalte se a ingestão do flúor ocorrer no período após a maturação do esmalte.
- Ⓓ A patologia relacionada com as manchas descritas é chamada de fluorose.

**Texto para as questões de 48 a 51**

Devido às condições de atendimento em consultório dentário, a equipe odontológica está exposta ao risco de infecção. Por isso, o controle de infecção é realizado por meio de um conjunto de procedimentos clínicos e da utilização de equipamentos, para se evitar a contaminação antes, durante e após o período de atendimento aos pacientes.

**QUESTÃO 48**

Considerando o assunto abordado nesse texto, é correto afirmar que, entre os equipamentos de proteção individual que funcionam como barreiras consideradas físicas, incluem-se

- Ⓐ gorro, luvas, máscara, protetor de bancada, sobreluvas.
- Ⓑ filme plástico de PVC, avental, luvas, máscara.
- Ⓒ óculos de grau, avental de chumbo, máscara, pró-pés.
- Ⓓ jaleco, gorro, máscara, luvas, protetores oculares.

**QUESTÃO 49**

Após o uso clínico, o instrumental contaminado deve receber tratamento cuidadoso para se evitar a contaminação cruzada. A seqüência adequada de procedimentos no tratamento de instrumentos por meio de calor úmido é

- Ⓐ secagem, esterilização, lavagem, embalagem, desinfecção química e enxágüe.
- Ⓑ desinfecção química, lavagem, enxágüe, secagem, embalagem e esterilização.
- Ⓒ embalagem, esterilização, enxágüe, secagem, desinfecção química e lavagem.
- Ⓓ lavagem, enxágüe, secagem, desinfecção química, esterilização e embalagem.

**QUESTÃO 50**

Com relação aos agentes químicos que auxiliam o controle de infecção no protocolo de limpeza/desinfecção, assinale a opção correta.

- Ⓐ Detergente, água e sabão são utilizados para limpeza e desinfecção do piso.
- Ⓑ Hipoclorito de sódio a 1% é utilizado na desinfecção de instrumentos cortantes.
- Ⓒ Álcool a 70% é utilizado para se desinfetarem instrumentais por flambagem.
- Ⓓ Glutaraldeído a 2% é utilizado na desinfecção prévia de instrumentos por imersão.

**QUESTÃO 51**

O processo de esterilização por meio do calor úmido, em que se associam altas temperaturas com vapor saturado e pressão, são eficientes desde que utilizados corretamente. Assinale a opção em que se relacionam adequadamente os materiais com o acondicionamento para esse tipo de esterilização.

- Ⓐ roupas – embaladas em papel *kraft*, tecido de algodão apropriado ou embalagens plásticas apropriadas.
- Ⓑ lâminas de corte, tesouras e serras – acondicionadas em caixas metálicas fechadas.
- Ⓒ instrumental clínico de aço – guardados em tubos de vidro com tampa de algodão.
- Ⓓ material de aço – lacrado em papel de alumínio.

### Texto para as questões 52 e 53

Um profissional da área de saúde deve estar bem preparado para atendimentos de emergência. É necessário que ele mantenha sempre a calma e aja com rapidez, atenção e segurança nos cuidados prestados.

#### QUESTÃO 52

Em relação aos sinais vitais em situações de urgência, é correto afirmar que

- Ⓐ a temperatura corpórea deve ser medida na boca, por ser esta a forma mais exata de verificação de temperatura.
- Ⓑ a pressão sistólica (mínima) e a diastólica (máxima) são observadas na verificação da pressão exercida pelo sangue na parede das artérias.
- Ⓒ ocorre bradicardia quando os batimentos cardíacos do indivíduo estão acima de 60 batimentos por minuto.
- Ⓓ é necessário garantir a desobstrução das vias aéreas superiores e a ventilação adequada do paciente.

#### QUESTÃO 53

Com relação a procedimentos emergenciais, assinale a opção correta.

- Ⓐ Em alguns casos de hemorragia, é possível obter a hemostasia por meio de compressão local, comprimindo-se os bordos da ferida.
- Ⓑ Em situação de crise convulsiva, recomenda-se desapertar as roupas da vítima, afastar objetos que possam causar-lhe ferimentos e não deixá-la dormir quando as contrações involuntárias terminarem.
- Ⓒ Tanto nas situações de desmaio como nas de vertigem, a vítima tem sensação giratória, a mente perturbada, apresenta palidez e sudorese.
- Ⓓ Em casos de choque há sempre uma alta na pressão arterial, e quanto mais alta for essa pressão, mais grave será o choque.

#### QUESTÃO 54

O estado de saúde bucal de uma população é determinado por uma série de fatores mutáveis. Portanto, na etapa de planejamento para a implementação de programas em saúde pública bucal, é necessário lançar mão do ramo das ciências da saúde que estuda a ocorrência, a distribuição e os fatores determinantes dos eventos relacionados à saúde da população. É possível obter-se e conhecimento do estado de saúde bucal de uma população por meio de

- Ⓐ levantamentos populacionais.
- Ⓑ índices epidemiológicos.
- Ⓒ estado de higiene bucal.
- Ⓓ contagem de cáries.

### Texto para as questões de 55 a 57

É imprescindível que o técnico em higiene dental (THD) conheça as técnicas para a execução de exames e coleta de dados, os valores numéricos a serem utilizados e os resultados obtidos, a fim de colaborar nos levantamentos e estudos relacionados à cavidade bucal de determinada população.

#### QUESTÃO 55

Assinale a opção em que o índice especificado **não** se inclui entre os índices mais utilizados e aceitos pela Organização Mundial de Saúde (OMS) para medir, em odontologia, a ocorrência de uma doença e estabelecer sua intensidade e condição.

- Ⓐ PHP – *performance* de higiene do paciente
- Ⓑ PSR – registro periodontal simplificado (*periodontal screening recording*)
- Ⓒ IFA – índice de fluoretação da água
- Ⓓ IPC – índice periodontal comunitário

#### QUESTÃO 56

Para caracterizar a quantidade de dentes permanentes que foram afetados pela doença cárie, utiliza-se o índice

- Ⓐ CEOD, em que C = cariado, E = com extração indicada, O = obturado, D = dente.
- Ⓑ CEOS, em que C = cariado, E = com extração indicada, O = obturado, S = superfície.
- Ⓒ CPOS, em que C = cariado, P = perdido, O = obturado, S = superfície.
- Ⓓ CPOD, em que C = cariado, P = perdido ou com extração indicada, O = obturado, D = dente.

#### QUESTÃO 57

No tocante aos levantamentos e estudos epidemiológicos, assinale a opção **incorreta**.

- Ⓐ A sondagem para se verificar se o paciente está doente, com sangramento gengival, cálculo e bolsas periodontais é realizada em um ou dois dentes de cada sextante da cavidade bucal.
- Ⓑ A fluorose dentária em estado severo é detectada visualmente por lesões caracterizadas por linhas ou manchas esbranquiçadas nas bordas incisais ou pontas de cúspides.
- Ⓒ Para se avaliar o grau de saúde periodontal dos pacientes, a sonda periodontal deve ser colocada em seis pontos, dentro do sulco gengival.
- Ⓓ Para se mensurar a qualidade de higienização do paciente no momento do exame, utiliza-se um corante evidenciador de placa, e o resultado deve ser expresso por meio de cálculo percentual.

**QUESTÃO 58**

Assinale a opção em que se descreve, com propriedade, a filosofia ergonômica para procedimentos odontológicos.

- A O trabalho simplificado aumenta a produtividade, diminui a fadiga física e mental do trabalhador, reduz o estresse e otimiza a qualidade do trabalho.
- B A tendência atual reside na delegação de funções para a equipe odontológica e utilização da odontologia a quatro mãos, em busca de desempenho mais eficiente dos procedimentos odontológicos.
- C Todo e qualquer tipo de trabalho a ser executado depende de movimentos humanos que consomem determinado período de tempo.
- D O trabalho é a aplicação das forças (atividade física) e faculdades humanas (atividade intelectual) para a realização de qualquer tarefa, serviço ou empreendimento no menor tempo possível.

**QUESTÃO 59**

Em relação à aspiração por meio de cânulas, com o objetivo de se manter limpo o campo operatório e sem umidade excessiva, o que proporciona melhoria da visibilidade e, conseqüentemente, aumento da qualidade do atendimento, assinale a opção **incorreta**.

- A A cânula deve ser mantida a uma distância de, pelo menos, 2 mm em relação aos tecidos moles, para se evitar dilaceração.
- B Quando toca o palato mole ou a região posterior da cavidade bucal, a cânula pode provocar desconforto ou náusea no paciente.
- C A cânula deve ser colocada dentro da cavidade bucal do paciente e estar completamente fora da área de trabalho do operador.
- D Um dos melhores meios de retração dos tecidos e de promoção de campo limpo e seco consiste na utilização simultânea de duas cânulas de sucção, devendo uma delas ser manuseada pelo paciente.

**QUESTÃO 60**

O uso correto do isolamento absoluto do campo operatório é capaz de eliminar por completo a umidade, criando condições ideais de visibilidade e de acesso a esse campo, retraindo e protegendo os tecidos. Acerca das etapas do isolamento absoluto, assinale a opção correta.

- A Com o auxílio de uma caneta, marcam-se os dentes a serem isolados no lençol de borracha. Essa marcação deve ser feita em qualquer ponto do dente a ser isolado.
- B No local previamente marcado com caneta, deve-se utilizar o perfurador de Ainsworth com qualquer diâmetro de orifício.
- C O grampo para isolamento deve ser selecionado de acordo com o tamanho e a condição de cada dente, para favorecer sua estabilidade e retenção na coroa dental, não devendo estar apoiado na gengiva marginal.
- D Se o lençol de borracha do isolamento rasgar-se e drenar saliva no campo operatório, deve-se utilizar o sugador para manter o campo seco.

**QUESTÃO 61**

Em relação a medidas de proteção da equipe de saúde, assinale a opção **incorreta**.

- A Caso as luvas sejam rasgadas ou puncionadas durante um procedimento clínico, deve-se calçar imediatamente um segundo par de luvas sobre o primeiro para o término do procedimento.
- B As luvas de vinil ou látex servem para a realização de procedimentos clínicos de dentística, prótese e periodontia e devem ser descartadas após cada um dos procedimentos.
- C As luvas de procedimentos ou as cirúrgicas não proporcionam proteção contra perfurações de agulhas, mas podem diminuir a penetração de sangue.
- D As luvas de borracha grossa são utilizadas para serviços de limpeza e descontaminação de instrumentos, equipamentos e superfícies, e devem ser descontaminadas após seu uso.

**QUESTÃO 62**

A inflamação gengival é uma conseqüência do acúmulo de placa bacteriana. Sua forma inicial é conhecida como gengivite e, em estágios mais avançados, é denominada periodontite. Os sinais clínicos diferenciais entre a gengivite e a periodontite incluem

- A presença de cálculo.
- B mobilidade dentária.
- C sangramento.
- D mau hálito.

**QUESTÃO 63**

Os filmes radiográficos periapicais intra-orais são utilizados para registrar a imagem radiográfica depois de serem expostos a raios X e processados em soluções adequadas. Nesse contexto, julgue os itens a seguir.

- I O envelope plástico branco que serve de embalagem para o filme deve ser impermeável a água.
- II A lâmina de chumbo protege contra a radiação secundária.
- III O filme periapical pode ser simples ou duplo.
- IV O filme dosimétrico serve para medir a radiação recebida pelo dente radiografado.

A quantidade de itens certos é igual a

- A 1.
- B 2.
- C 3.
- D 4.

**QUESTÃO 64**

Em odontologia preventiva, deve haver interação entre o paciente, que busca cuidados de ordem odontológica, e os profissionais, que devem estar aptos para bem atendê-lo de forma integral. Nesse contexto, assinale a opção em que a ação descrita **não** faz parte de um programa de promoção de saúde bucal.

- A Ensinar as mesmas técnicas de escovação para pais e crianças, a fim de facilitar sua utilização.
- B Ensinar os requisitos básicos para uma boa escovação.
- C Promover reforço motivacional para a adoção de hábitos de higiene bucal.
- D Promover controle mecânico adequado e rotineiro de placas bacterianas.

**QUESTÃO 65**

No planejamento de programas de educação de saúde bucal, a identificação dos problemas é etapa fundamental. Nesse sentido, considerando-se que, em determinada região, seja identificada uma incidência muito elevada de perdas dentárias precoces entre crianças, **não** constitui causa desse problema

- A a baixa importância dada à saúde dental pelas crianças e por seus pais.
- B o consumo elevado e freqüente de açúcar.
- C o cuidado caseiro eficiente com a higiene bucal.
- D o baixo nível educacional da população.

**QUESTÃO 66**

O dentifício é um agente importante na manutenção da saúde dos dentes, visto que ajuda a limpar e a polir as superfícies dentárias, em combinação com a escova de dentes. Os fatores que devem ser observados na escolha do dentifício mais adequado incluem

- I atividade de cárie.
- II controle da placa bacteriana.
- III grau de manchamento dos dentes.
- IV presença de erosões e recessões gengivais.

A quantidade de itens certos é igual a

- A 1.
- B 2.
- C 3.
- D 4.

**QUESTÃO 67**

Acerca da cárie dentária, assinale a opção correta.

- A Trata-se de doença infectocontagiosa, mas não transmissível.
- B A cavitação é o primeiro sinal dessa doença.
- C A cárie é um processo destrutivo das estruturas dentárias.
- D O desenvolvimento da cárie está associado apenas à presença de bactérias.

**QUESTÃO 68**

Em bebês, a higiene ou limpeza oral pode ser feita com água oxigenada na proporção de 1 medida de água oxigenada para 4 medidas de água. A respeito desse assunto, assinale a opção **incorreta**.

- A A higiene oral deve começar a ser feita após o nascimento do primeiro dente.
- B Em crianças recém-nascidas, a higiene oral ajuda a evitar a candidíase.
- C Em crianças sem dentes, a higiene oral deve ser feita por meio de gaze, fralda ou dedeira.
- D Em dentes anteriores, a higiene oral deve ser feita por meio de gaze, fralda ou dedeira, com água oxigenada diluída em água.

**QUESTÃO 69**

Assinale a opção em que o instrumental citado corresponde, corretamente, ao procedimento indicado.

- A seringa Carpule – aspiração de fluidos
- B Farabeuf – luxação dos elementos dentários
- C porta-agulha de Mayo – sutura de incisões na mucosa
- D curetas de Gracey – remoção de dentina cariada

**QUESTÃO 70**

Ainda com referência a instrumentais odontológicos, assinale a opção que relaciona corretamente o instrumental com a sua utilização.

- A cabo denteado da pinça de Allis – apreensão e remoção de tecidos fibrosados
- B face ativa afiada dos cortantes de Black – alisamento radicular
- C marcações milimetradas da sonda – medição da profundidade das cavitações de cárie
- D lâminas cortantes da pinça goiva – remoção de cálculo

**QUESTÃO 71**

A propriedade comutativa da multiplicação em matemática — a ordem dos fatores não altera o produto — não se aplica aos procedimentos odontológicos. Todo procedimento odontológico é feito em etapas programadas em determinada ordem. Nesse contexto, assinale a opção correta com referência ao uso de materiais dentários.

- A Os sistemas adesivos devem ser aplicados com pincel, antes do condicionamento ácido.
- B As resinas quimicamente ativadas devem ser utilizadas após sua cristalização para melhor acomodação às paredes do preparo cavitário.
- C Os vernizes cavitários para forração de cavidades rasas devem ser aplicados após a primeira camada do material restaurador.
- D Os elastômeros para moldagem de restaurações indiretas devem ser utilizados após o completo preparo cavitário.

**QUESTÃO 72**

Em relação aos cimentos dentários, assinale a opção **incorreta**.

- A O cimento de fosfato de zinco é utilizado para cimentação de restaurações indiretas.
- B O cimento de óxido de zinco e eugenol é utilizado para cimentação de restaurações diretas.
- C O cimento de hidróxido de cálcio é utilizado para o forramento de preparos cavitários.
- D O cimento de ionômero de vidro pode ser utilizado para restaurações.

**QUESTÃO 73**

Considere-se um paciente que apresente alto índice de cárie, inúmeras lesões cavitadas, restaurações defeituosas ou com excesso de material restaurador, raízes residuais, tártaro e gengivite. Nessa situação, a definição da ordem de prioridades para proporcionar a diminuição do número de microrganismos cariogênicos e introdução do tratamento preventivo-restaurador é princípio do(a)

- A adequação do meio bucal.
- B odontologia preventiva.
- C educação em saúde bucal.
- D tratamento restaurador atraumático.

**QUESTÃO 74**

A Portaria n.º 648/2006, publicada pelo Ministério da Saúde, aprovou a Política Nacional de Atenção Básica, estabelecendo a revisão de diretrizes e normas para a organização da Atenção Básica para o Programa Saúde da Família (PSF) e para o Programa Agentes Comunitários de Saúde (PACS). A partir dessas informações, assinale a opção **incorreta** em relação ao Sistema Nacional de Saúde.

- A O Programa Brasil Sorridente consiste na implementação da atual Política Nacional de Saúde Bucal.
- B O trabalho do PSF é realizado pelas Equipes de Saúde da Família (ESF).
- C Ações de saúde bucal foram incluídas no PSF, por meio das ESB.
- D O THD integra todas as Equipes de Saúde da Família com Saúde Bucal (ESFSB).

**QUESTÃO 75**

Com relação às atribuições e atividades privativas do THD, previstas na Resolução CFO n.º 157, assinale a opção correta.

- A O THD pode exercer sua atividade, sempre sob supervisão, com a presença física de cirurgião-dentista (CD), na proporção de um CD para cada cinco THD.
- B É permitido ao THD exercer suas atividades de forma autônoma.
- C A habilitação ao registro e à inscrição como THD pode ser feita em qualquer órgão do Sistema Nacional de Saúde.
- D A profissão de THD pode ser exercida, no território nacional, por portador de diploma ou certificado expedido por escola estrangeira, independentemente de revalidação no Brasil.

**QUESTÃO 76**

Recomenda-se que os dispositivos e métodos eficientes para a higiene bucal sejam adaptados às necessidades específicas de cada paciente. As razões que levam a essas adaptações **não** incluem o(a)

- A posicionamento dental.
- B contorno gengival.
- C destreza do paciente.
- D tamanho da língua.

**QUESTÃO 77**

A escova de dentes é parte importante na remoção da placa bacteriana na cavidade bucal. Para desempenhar adequadamente suas funções, a escova deve conter características apropriadas para a limpeza completa das superfícies livres dos dentes. Assinale a opção que apresenta as características desejáveis de escovas de dentes.

- A cerdas médias com pontas arredondadas e, na mesma altura, cabo anatômico e ponta ativa pequena
- B cerdas macias com pontas arredondadas e, na mesma altura, ponta ativa pequena
- C ponta ativa média, cerdas médias arredondadas com diferentes alturas para facilitar a limpeza de determinadas áreas
- D cerdas duras com pontas arredondadas, cabo anatômico e ponta ativa pequena

**QUESTÃO 78**

Em relação às indicações de métodos auxiliares de higiene bucal, assinale a opção correta.

- A Para pacientes com dificuldades motoras, a escova manual demonstra eficiência superior em relação à escova elétrica ou a pilha.
- B A escova interdental é indicada para limpeza do ponto de encontro dos dentes posteriores.
- C Em pontos de união entre dois ou mais elementos protéticos, o fio dental deve ser utilizado de maneira convencional.
- D Todos os pacientes, incluindo-se os desdentados, devem fazer a limpeza da língua por meio de escova de dente, limpadores de língua ou espátulas de madeira.

**QUESTÃO 79**

Com relação à higiene diária das próteses dentárias, assinale a opção correta.

- A As próteses de base macia devem ser limpas com gaze e sabão neutro ou com escovas de cerdas extramacias.
- B As próteses parciais removíveis podem ficar imersas, durante determinado período de tempo, em solução de 15 mL de hipoclorito de sódio para 300 mL de água.
- C A limpeza de próteses totais e de parciais removíveis pode ser feita corretamente utilizando-se clorexidina a 2% no interior das próteses.
- D A limpeza das próteses fixas sobre implantes segue o mesmo protocolo de limpeza utilizado nas próteses fixas convencionais.

**QUESTÃO 80**

O diagnóstico da vitalidade pulpar é realizado por meio de anamnese, exames clínicos e radiográficos. Os testes que auxiliam na determinação do grau de vitalidade pulpar **não** incluem o teste

- A elétrico.
- B de palpação.
- C térmico.
- D de percussão.

