



PREFEITURA MUNICIPAL DE RIO BRANCO

CONCURSO PÚBLICO
Nível Superior

Aplicação: 2/9/2007

Cargo 13:
ECONOMISTA

Caderno L

MANHÃ

LEIA COM ATENÇÃO AS INSTRUÇÕES ABAIXO.

- 1 Ao receber este caderno, confira atentamente se o tipo de caderno — Caderno L — coincide com o que está registrado em sua folha de respostas. Em seguida, verifique se ele contém cento e vinte itens, correspondentes às provas objetivas, corretamente ordenados de 1 a 120.
- 2 Caso o caderno esteja incompleto ou tenha qualquer defeito, solicite ao fiscal de sala mais próximo que tome as providências cabíveis.
- 3 Não utilize lápis, lapiseira, borracha e(ou) qualquer material de consulta que não seja fornecido pelo CESPE/UnB.
- 4 Não se comunique com outros candidatos nem se levante sem autorização do chefe de sala.
- 5 Recomenda-se não marcar ao acaso, cada item cuja resposta diverja do gabarito oficial definitivo receberá pontuação negativa, conforme consta em edital.
- 6 A duração das provas é de **três horas e trinta minutos**, já incluído o tempo destinado à identificação — que será feita no decorrer das provas — e ao preenchimento da folha de respostas.
- 7 Você deverá permanecer obrigatoriamente em sala por, no mínimo, uma hora após o início das provas e poderá levar o seu caderno de provas somente no decurso dos últimos **quinze minutos** anteriores ao horário determinado para o término das provas.
- 8 Ao terminar as provas, chame o fiscal de sala mais próximo, devolva-lhe a sua folha de respostas e deixe o local de provas.
- 9 A desobediência a qualquer uma das determinações constantes no presente caderno ou na folha de respostas poderá implicar a anulação das suas provas.

AGENDA (datas prováveis)

- I **4/9/2007**, após as 19 h (horário de Brasília) — Gabaritos oficiais preliminares das provas objetivas: Internet — www.cespe.unb.br/concursos/pmr2007.
- II **5 e 6/9/2007** — Recursos (provas objetivas): exclusivamente no Sistema Eletrônico de Interposição de Recurso, Internet, mediante instruções e formulários que estarão disponíveis nesse sistema.
- III **25/9/2007** — Resultado final das provas objetivas e convocação para a avaliação de títulos: Diário Oficial do Estado do Acre e Internet.

OBSERVAÇÕES

- Não serão objeto de conhecimento recursos em desacordo com o item 14 do Edital n.º 1 — PMRB, de 5/7/2007.
- Informações adicionais: telefone 0(XX) 61 3448-0100; Internet — www.cespe.unb.br/concursos/pmr2007.
- É permitida a reprodução deste material apenas para fins didáticos, desde que citada a fonte.

- De acordo com o comando a que cada um dos itens de 1 a 120 se refira, marque, na **folha de respostas**, para cada item: o campo designado com o código **C**, caso julgue o item **CERTO**; ou o campo designado com o código **E**, caso julgue o item **ERRADO**. A ausência de marcação ou a marcação de ambos os campos não serão apenadas, ou seja, não receberão pontuação negativa. Para as devidas marcações, use a **folha de respostas**, único documento válido para a correção das suas provas.
- Nos itens que avaliam **Noções de Informática**, a menos que seja explicitamente informado o contrário, considere que todos os programas mencionados estão em configuração-padrão, em português, que o *mouse* está configurado para pessoas destros e que expressões como clicar, clique simples e clique duplo referem-se a cliques com o botão esquerdo do *mouse*. Considere também que não há restrições de proteção, de funcionamento e de uso em relação aos programas, arquivos, diretórios e equipamentos mencionados.

CONHECIMENTOS BÁSICOS

1 À semelhança do Brasil, o Acre compõe-se de uma
grande diversidade de povos indígenas, cujas situações frente
à sociedade nacional também são muito variadas. Enquanto
4 a grande maioria dos grupos se encontra em contato
permanente ou regular com a população regional (mestiça ou
branca), alguns ainda são classificados pelo órgão indigenista
7 como “isolados”.

As sociedades indígenas acreanas dividem-se de
maneira desigual em duas grandes famílias lingüísticas: Pano
10 e Arawak. Alguns desses povos encontram-se também nas
regiões peruanas e bolivianas fronteiriças ao Acre. Do ponto
de vista da antropologia, o conhecimento sobre as sociedades
13 indígenas do estado é muito desigual. Se alguns povos, como
os Kaxinawá ou os Ashaninka, atraíram o interesse de vários
pesquisadores, as informações etnográficas disponíveis sobre
16 a maior parte dos povos indígenas acreanos ainda são muito
incipientes.

Os povos indígenas ocuparam um lugar marginal na
19 historiografia do Acre. Como no resto da Amazônia, o
imaginário ocidental sobre a natureza e a alteridade humana
projetou seus fantasmas na região acreana e nos seus
22 primeiros habitantes indígenas. A “conquista do deserto
ocidental” e a incorporação do Acre à nação revelam alguns
mitos fundadores do pensamento ocidental e brasileiro sobre
25 a Amazônia e os povos indígenas.

José Pimenta. Internet: <ambienteacreano.blogspot.com> (com adaptações).

Em relação ao texto acima, julgue os itens que se seguem.

- 1 A substituição de “cujas” (l.2) por **as quais** mantém a correção gramatical do período e as relações lógicas originais.
- 2 Na linha 4, a forma verbal “encontra” está no singular para concordar com “a grande maioria”.
- 3 A substituição de “dividem-se” (l.8) por **são divididas** mantém a correção gramatical do período.
- 4 Em “encontram-se” (l.10), o pronome “se” indica que o sujeito da oração é indeterminado, o que contribui para a impessoalização do texto.
- 5 A palavra “incipientes” (l.17) está sendo empregada no sentido de **pouco confiáveis, suspeitos**.
- 6 O emprego da palavra “alteridade” (l.20) está relacionado ao sentido de **diferença, diversidade, distinção**, ou seja, ao sentido de **outro**.

1 Viajando pelas bocas dos rios Juruá e Purus no
início do século XIX, os naturalistas alemães Spix e Martius
anotaram, em seus diários, a presença de “índios selvagens”
4 e a falta de “civilização”, que, segundo os autores,
caracterizavam a região. Além da exploração da região e de
suas riquezas naturais, as primeiras expedições oficiais ao
7 Purus e ao Juruá, lideradas, respectivamente, por João
Rodrigues Cameté e Romão José de Oliveira, em meados do
século XIX, tinham como objetivo a atração e a pacificação
10 dos índios.

Essas *entradas* permaneceram limitadas, subindo os
rios apenas parcialmente, mas inauguraram uma série de
13 explorações da região durante as décadas de 50 e 60 do
século XIX. Entre essas expedições, destaca-se a viagem, a
mando da Royal Geographical Society de Londres, do
16 geógrafo inglês William Chandless, que subiu o Purus em
1864/65 e o Juruá em 1867. Todavia, a historiografia
regional consagrou os nomes de Manoel Urbano, explorador
19 do Purus em 1858, e de João da Cunha Corrêa, que percorreu
o Juruá em 1861, como os primeiros “desbravadores” e
“descobridores” das terras acreanas.

Idem, ibidem (com adaptações).

Considerando o texto acima, julgue os itens a seguir.

- 7 De acordo com o texto, os alemães Spix e Martius integraram as primeiras expedições oficiais aos rios Juruá e Purus.
- 8 Os objetivos das expedições lideradas por João Rodrigues Cameté e Romão José de Oliveira, de acordo com o texto, circunscreviam-se à pacificação dos índios da região.
- 9 O emprego de itálico em “*entradas*” (l.11) indica que essa expressão está sendo utilizada com sentido adaptado ao contexto, pois seu sentido original não abrange expedições da região Norte.
- 10 O uso de vírgula após “Chandless” (l.16) justifica-se por isolar oração subordinada adjetiva explicativa.
- 11 O termo “Todavia” (l.17) pode, sem prejuízo para a correção gramatical e para as informações originais do período, ser substituído por qualquer um dos seguintes: Porém, Contudo, Entretanto, No entanto, Porquanto, Conquanto.

Considerando que os fragmentos incluídos nos itens seguintes, na ordem em que são apresentados, são partes sucessivas de um texto de José Pimenta (Internet: <ambienteacreato.blogspot.com>), julgue-os quanto à correção gramatical.

- 12 Última tentativa do governo boliviano para ocupar a região acreana, a criação do Bolivian Syndicate exigiu da antiga colônia espanhola concessões enormes de soberania. Segundo os termos do contrato assinado em julho de 1901, a Bolívia oferecia a companhia internacional, compostas por grandes grupos financeiros, principalmente norte-americanos, uma concessão de trinta anos para a exploração da seringueira na região.
- 13 O consórcio capitalista dispunha de plena autoridade sobre o comércio da borracha e também de direitos políticos e judiciais essenciais. Ele usufruía o direito de compra e venda dos seringais, o direito de navegar e de controlar os rios por meio de uma polícia própria e o direito de estabelecer as leis e exercer a justiça. Em contrapartida, a Bolívia recebia 60% da arrecadação realizada pela companhia.
- 14 A criação do Bolivian Syndicate foi um dos momentos-chave do conflito acreano, um evento crítico que levou à incorporação do Acre ao Brasil. Para os seringueiros brasileiros, o Bolivian Syndicate surgiu como uma espécie de companhia colonial que controlava não só a terra, mas também toda a organização do trabalho extrativista da borracha. Essa situação revoltou a população acreana, que conseguiu superar suas divisões internas e se organizar contra o inimigo comum.
- 15 O sentimento do povo acreano espalhou-se além das bacias do Purus e do Juruá e comoveu o país que deu um apoio decisivo à luta dos seringueiros. A formação do Bolivian Syndicate criou um fervor nacionalista e patriótico que cimentou a nação, contra os inimigos do Brasil. Manifestações contra os americanos e bolivianos se organizaram em Manaus, Belém e Rio de Janeiro. Orgulho da nação, a Amazônia era novamente cobiçada pelo capital estrangeiro.

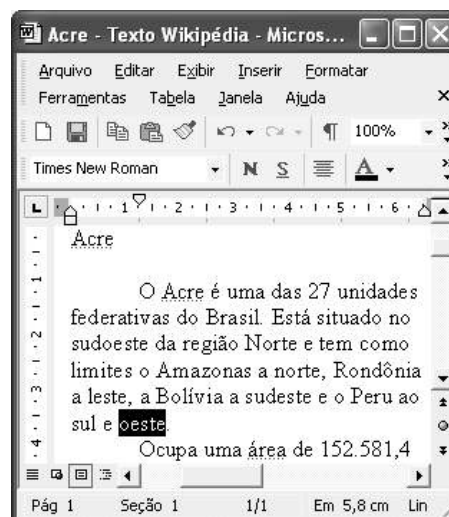
1 Poderíamos definir o *amazonismo* como um conjunto de idéias e de discursos, produzidos pelo imaginário ocidental sobre a Amazônia e as populações nativas, destinado a
4 viabilizar interesses políticos e econômicos. Como espaço imaginado pelo Ocidente, o *amazonismo* partilha muitas características com o *orientalismo*. Todavia, enquanto Said
7 nos apresenta um Oriente construído de maneira negativa por um Ocidente hegemônico, o *amazonismo* constituiu um campo ambíguo, catalisador de imagens e de discursos
10 contraditórios, que podem ser mobilizados para servir a interesses muito divergentes.

Primeiras testemunhas da Amazônia e de seus
13 habitantes, Carvajal (1542) e Acuña (1641) elaboraram relatos em que combinaram o fantástico e o exótico e edificaram as bases do *amazonismo*: mito das Amazonas, inferno verde,
16 Eldorado, seres canibais e nobre selvagem. A Amazônia e seus primeiros habitantes concentraram e continuam concentrando sentimentos e fantasias ocidentais. Símbolo de riqueza e
19 miséria, de medo e esperanças, de sonhos e pesadelos, de futuro e passado, de inferno e paraíso. A alteridade é o espelho invertido do ocidente e é manipulada conforme os interesses
22 em jogo. Essas imagens contraditórias acompanharam e informaram a conquista da América e o encontro com as populações indígenas. Além de legitimarem a ocupação e a
25 exploração econômica, os mitos também serviram para sustentar os interesses políticos e ideológicos da Europa.







Idem, ibidem (com adaptações).

Considerando o texto acima, julgue os itens de 16 a 20.

- 16 Pelo emprego de expressões coloquiais, pela informalidade, pelas escolhas lexicais e sintáticas, a linguagem do texto é inadequada para documentos oficiais.
- 17 O emprego do plural em “Poderíamos” (ℓ.1) é suficiente para se considerar o texto subjetivo e pessoal, em oposição a um texto impessoal, neutro, objetivo.
- 18 O termo “catalisador” (ℓ.9) está sendo empregado no mesmo sentido que tem na seguinte frase: O mito é catalisador de sentimentos e fantasias em relação ao universo amazônico.
- 19 O sinal de dois-pontos após “*amazonismo*” (ℓ.15) justifica-se por anteceder uma enumeração de itens.
- 20 O termo “manipulada” (ℓ.21) está no feminino singular para concordar com “alteridade” (ℓ.20).



A figura acima mostra uma janela do Word 2002, com parte de um texto em processo de edição, no qual a palavra “oeste” está destacada. Com relação a esse texto, ao Word 2002 e à situação ilustrada na figura, julgue os itens que se seguem.



- 21 Para se centralizar e aplicar negrito ao título do texto — “Acre” —, é suficiente aplicar um clique duplo entre duas letras desse título, clicar **N** e, a seguir, pressionar simultaneamente as teclas **Ctrl** e **C**.
- 22 Ao se clicar o botão , passam a ser exibidas algumas marcas de formatação, como, por exemplo, marcas de parágrafo. Embora essas marcas sejam exibidas na janela mostrada, elas não são impressas em papel quando é realizada impressão.
- 23 A ferramenta **100%**  permite ampliar ou reduzir a exibição do documento ativo.
- 24 Caso se pressione a tecla **Delete** , a palavra “oeste”, que está selecionada, será excluída do texto. Caso se deseje desfazer essa exclusão, é suficiente clicar, logo após a exclusão, o botão .
- 25 Para se copiar a palavra “Acre”, no título do texto, para o final do parágrafo iniciado em “O Acre é uma”, é suficiente: selecionar a referida palavra; clicar ; clicar onde se deseja colar a referida palavra, no final do parágrafo; clicar .

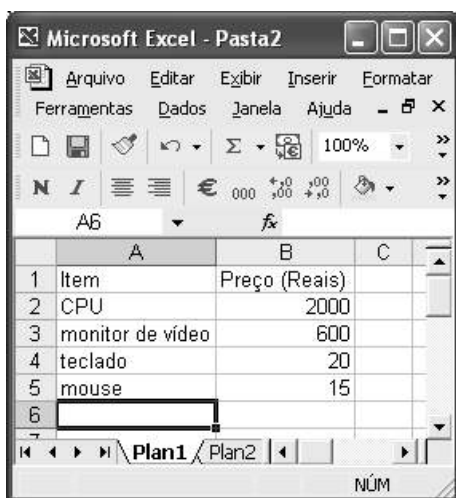
Com relação a conceitos de Internet e *intranet*, julgue os próximos itens.

- 26 Não é possível, em uma *intranet*, a troca de mensagens de correio eletrônico entre dois usuários de dois computadores pertencentes a essa *intranet*.
- 27 A seqüência de caracteres joao@empresa.com.br é um exemplo de URL, ou endereço de página da Web, e a seqüência de caracteres www.empresa.com.br é um exemplo de endereço de correio eletrônico.







A figura acima mostra uma janela do Internet Explorer 6 (IE6), em que é exibida uma página da Web. Com relação a essa figura, ao IE6 e à Internet, julgue os itens subseqüentes.

- 28 Ao se clicar o botão , é disponibilizada uma ferramenta que tem como função principal permitir ao usuário a visualização de detalhes na página em exibição.
- 29 Ao se clicar o botão , será exibida a página da Web que havia sido acessada anteriormente à atual.





A figura acima mostra uma janela do Excel 2002, com uma planilha contendo os preços, em reais, de vários componentes de um equipamento. Com relação a essa figura e ao Excel 2002, julgue os itens seguintes.

- 30 Para se aplicar itálico ao conteúdo da célula A5, é suficiente clicar essa célula e, em seguida, clicar .
- 31 Para se calcular a soma dos preços contidos nas células de B2 a B5 e pôr o resultado na célula B6, é suficiente clicar essa célula, digitar =B2+B3+B4+B5 e, em seguida, teclar .
- 32 O botão  tem a função de permitir o salvamento de alterações em um arquivo que já havia sido salvo anteriormente, e ao qual já foi atribuído um nome. Já o botão , ao ser clicado, causa a abertura da janela Salvar como, que permite salvar apenas o arquivo que ainda não foi salvo, nem teve um nome atribuído a ele.



Considerando a figura acima, que mostra uma janela exibida em um computador cujo sistema operacional é o Windows XP, julgue os itens a seguir.

- 33 Ao se aplicar um clique com o botão esquerdo do *mouse* sobre o ícone  'Planejamento', o arquivo do Word de nome Planejamento será aberto. Caso se clique com o botão direito, o ícone será excluído e enviado para a Lixeira.
- 34 Para se maximizar a janela mostrada, é suficiente clicar o botão .

Com relação a mensagens de correio eletrônico, julgue o item abaixo.

- 35 Normalmente, os programas que viabilizam o uso de correio eletrônico possuem funcionalidade que permite encaminhar uma mensagem recebida para um outro endereço de correio eletrônico.

A alta nos preços do petróleo e a necessidade de conter o aquecimento global estão fazendo os japoneses voltarem a olhar em direção ao Brasil, depois de 25 anos de afastamento nas relações bilaterais. Atendendo à solicitação do governo japonês e de empresários, o ministro de Negócios Estrangeiros, Taro Aso, chegou ao Brasil para conhecer de perto as etapas de produção e exportação do etanol.

Jornal do Brasil, 20/8/2007, p. A19 (com adaptações).

Tendo o texto acima como referência inicial e considerando a amplitude e a inserção do tema por ele focalizado no mundo contemporâneo, julgue os itens seguintes.

- 36** Após a derrota na Segunda Guerra Mundial, o Japão empreendeu vitorioso esforço de recuperação material, para o qual contou com apoio norte-americano. Em algumas décadas, o país se transformou em uma das maiores potências econômicas mundiais, posição que ainda preserva.
- 37** O texto menciona uma questão que está na ordem do dia do mundo atual e que se identifica com o perigoso aumento do efeito estufa, em larga medida gerado pela emissão descontrolada de gases poluentes na atmosfera.
- 38** O petróleo deixou de ser a base propulsora do sistema produtivo mundial a partir do momento em que a principal região produtora e exportadora, o Oriente Médio, viu-se em acentuada instabilidade política, com sucessivas guerras e a ação desvoluta de grupos terroristas.
- 39** A utilização da cana-de-açúcar para a produção de combustíveis é inovação brasileira recente, surgida após o fim do regime militar, possível graças à disponibilidade financeira decorrente da auto-suficiência de petróleo conquistada pelo Brasil.
- 40** Ao visitar recentemente o México e países da América Central, o presidente Lula enfatizou a importância da tecnologia brasileira para a produção do etanol e frisou que a expansão dessa atividade não implica redução da capacidade de produção de alimentos.

Poucos sabem que o aquecimento global também tem conseqüências positivas. Uma delas é permitir a agricultura em altas latitudes. Diante do impacto distinto em diferentes áreas do planeta, os cientistas, entre outros, apontam os perigos regionais como importantes. Em certas áreas, como o semi-árido, pode surgir o deserto, em outras, podem desaparecer ecossistemas inteiros.

Aqui no Brasil, determinamos que apenas 20% das propriedades na Amazônia podem ser exploradas. No cerrado, essa cota é de 35%. A medida conseguiu deter um pouco o desmatamento. Mas é questionada, porque 80% é um número cabalístico diante de uma região diversa. Daí a proposta de fazer zoneamento ecológico e econômico para precisar muito claramente o que se pode ou não se pode fazer.

Todas essas observações nos levam a reforçar uma tendência que já existe no Brasil, inspirada pelo geógrafo Milton Santos, que é a de colocar o território no centro das políticas públicas. Mesmo as cidades terão de ser delimitadas, claramente, para que se possa orientar o seu desenvolvimento sustentável.

Fernando Gabeira. Política e território. In: Folha de S.Paulo, 16/6/2007, p. A2 (com adaptações).

Tendo o texto acima como referência inicial e considerando as múltiplas implicações do tema por ele abordado, julgue os itens de **41 a 50**.

- 41** O fenômeno do aquecimento global é consensualmente considerado uma tragédia ambiental justamente porque deteriora, de maneira ampla e igualmente negativa, as condições de vida em todas as regiões do planeta.
- 42** Cientistas alertam para o fato de que o aquecimento global acarreta, entre outras conseqüências, o derretimento de geleiras, o que pode determinar a elevação do nível dos mares e seu potencial de destruição, particularmente nas zonas litorâneas.
- 43** Apesar do cenário de seca com o qual convive historicamente, o Nordeste brasileiro, segundo o texto, estaria a salvo de eventuais efeitos negativos causados pelo aquecimento global.
- 44** Ao se fixar na homogeneidade que caracteriza a Amazônia, o texto sugere que o percentual de área permitido à exploração econômica é compatível com as necessidades da região e positivo para o país.
- 45** A urbanização do Brasil contemporâneo, acompanhada de significativo despovoamento do campo, mostra-se demasiado rápida e, em geral, desprovida do necessário planejamento, o que contribui para a ampliação dos problemas que tendem a caracterizar, especialmente, as grandes regiões metropolitanas.
- 46** O conceito de desenvolvimento sustentável ganha força nos dias atuais e se fundamenta no princípio de que atender às necessidades do presente não pode significar a destruição dos recursos indispensáveis à vida das gerações futuras.
- 47** O Protocolo de Kyoto é um texto de abrangência que se pretende planetária, suscitado pela crescente compreensão de que algo precisa ser feito para minimizar as conseqüências negativas de um modelo de desenvolvimento econômico consagrado pela Revolução Industrial.
- 48** Ao propor medidas que levem à redução dos níveis de emissão de gases ampliadores do efeito estufa, o Protocolo de Kyoto foi referendado pelo conjunto dos Estados integrantes da Organização das Nações Unidas, a começar pelos sete países mais ricos (G-7).
- 49** Como reconhecido no texto, o Brasil não consegue deter a marcha do desmatamento de suas florestas, razão por que sofre pressão de setores ambientalistas, de organizações não-governamentais e de organismos multilaterais.
- 50** O texto salienta o que foi uma das grandes contribuições teóricas oferecidas por Milton Santos, geógrafo brasileiro falecido há poucos anos, cuja produção intelectual colheu reconhecimento internacional.

CONHECIMENTOS ESPECÍFICOS

A contabilidade nacional é um instrumento importante para o entendimento da mensuração dos grandes agregados econômicos. Acerca desse assunto, julgue os itens a seguir.

- 51** Compras de soja que forem realizadas por empresas brasileiras de produtos alimentares para produzir óleos vegetais e seus derivados, em determinado ano, contribuem para expandir o produto nacional bruto (PNB) brasileiro daquele ano.
- 52** Aumentos dos impostos sobre o consumo conduzem à redução tanto da renda nacional líquida como da renda disponível da economia.

Consumo, poupança e investimento são variáveis macroeconômicas básicas para a determinação da renda e do produto de equilíbrio. Em relação a essas variáveis, julgue os itens subseqüentes.

- 53** A queda recente da inflação no Brasil, por aumentar o valor real do estoque de riqueza da economia, desloca para cima a função de consumo keynesiana e, portanto, expande os gastos de consumo, para determinado nível de renda.
- 54** O fato de que muitos aposentados do Instituto Nacional de Seguridade Social (INSS) utilizam parte de sua poupança para financiar seus níveis de consumo colide com a hipótese do ciclo de vida, que explica o comportamento da poupança ao longo da vida dos indivíduos.
- 55** Reduções das taxas de juros reais conduzem ao aumento dos níveis de investimento e se traduzem em deslocamento ao longo da curva de demanda de investimento.

A utilização de políticas fiscais e monetárias é fundamental para que o governo possa estabilizar a economia. Com relação a esse assunto, julgue os itens seguintes.

- 56** A expansão da demanda agregada brasileira, decorrente dos investimentos anunciados pelo governo para melhorar a infra-estrutura aérea do país, será tanto maior quanto mais elevada for a nossa propensão marginal a consumir e menos elástica for a demanda de investimentos em relação à taxa de juros.
- 57** Reduções nas alíquotas do imposto sobre operações financeiras (IOF), por aumentar o retorno da poupança privada, elevam, no longo prazo, a taxa de crescimento da economia.
- 58** Políticas monetárias expansionistas, implementadas mediante a redução das taxas de juros pelo Banco Central, expandem os gastos de consumo e de investimento, mas diminuem as exportações líquidas do país.
- 59** Os adeptos do keynesianismo recomendam a utilização de regras fixas de política monetária, como, por exemplo, a adoção de taxa de crescimento constante para o estoque monetário.

A análise da inflação, bem como a do papel desempenhado pela moeda, é crucial para o entendimento da realidade econômica. A esse respeito, julgue os itens que se seguem.

- 60** Aumentos nos preços das matérias-primas conduzem a inflações induzidas pelos custos e deslocam a curva de oferta agregada da economia para cima e para a esquerda.
- 61** Inflações não-antecipadas redistribuem renda entre credores e devedores e conduzem a ineficiências no mercado de fundos emprestáveis.
- 62** Entre os instrumentos que o Banco Central dispõe para controlar a oferta de moeda, a fixação da taxa de reservas é o mais utilizado por ser mais efetivo, já que atua diretamente sobre o multiplicador monetário.
- 63** No Brasil, as reduções observadas nas taxas de juros diminuem o custo de oportunidade da detenção de moeda e, portanto, contribuem para expandir a demanda de moeda.
- 64** De acordo com a teoria quantitativa da moeda, a velocidade de circulação da moeda varia muito pouco, no curto prazo, e essas mudanças, quando ocorrem, são previsíveis.

As questões de crescimentos e de desenvolvimentos são tópicos importantes do debate econômico. Acerca desse assunto, julgue os itens subseqüentes.

- 65** O trabalho infantil, por reduzir as oportunidades educacionais, restringe a formação de capital humano e compromete o crescimento de longo prazo da economia.
- 66** Políticas de desenvolvimento, que envolvem a substituição de importações, baseiam-se nas vantagens comparativas do país e forçam os produtores locais a serem mais eficientes, para competirem, com sucesso, nos mercados internacionais.
- 67** O desenvolvimento de instituições financeiras sólidas, capazes de conciliar as decisões de poupança e investimentos, constitui um dos requisitos para o desenvolvimento econômico.

A análise da oferta e da demanda é tópico relevante para o estudo dos fenômenos econômicos. A esse respeito, julgue os itens a seguir.

- 68** A recente crise de energia na Argentina, por aumentar o preço de insumos básicos para a indústria, gera um deslocamento ao longo da curva de oferta do setor manufatureiro, elevando, assim, o preço da produção industrial naquele país.
- 69** Supondo-se que a criação do crédito consignado — com desconto em folha — para a habitação resulte em taxas de juros mais baixas, reduzindo, assim, o custo do financiamento dos imóveis, essa medida deslocará para cima e para a direita a curva de demanda de moradias.
- 70** Se as recentes medidas tomadas para atenuar o chamado apagão aéreo restringirem a procura por esse tipo de transporte e aumentarem a quantidade demandada de viagens rodoviárias, isso representará um deslocamento ao longo da curva de demanda por transporte rodoviário, devido ao fato de esses meios de transporte serem bens substitutos.
- 71** Se a queda dos preços de TVs de plasma e LCD aumentar o faturamento com as vendas desses produtos, então é correto afirmar que a demanda é inelástica em relação ao preço.

A teoria do consumidor permite a análise do comportamento individual desse agente econômico e, por essa razão, constitui sólido fundamento à macroeconomia. A esse respeito, julgue os itens seguintes.

- 72** Se determinado consumidor considera que dois refrigerantes de marcas diferentes têm exatamente o mesmo gosto, então, para esse consumidor, a taxa marginal de substituição entre esses dois refrigerantes é constante.
- 73** Considere que um estudante disponha de R\$ 100,00 para gastar mensalmente com entradas de cinemas (*C*) e com a compra de CDs (*CD*). Considere, ainda, que o ingresso de cinema custe R\$ 10,00 e o preço do CD seja de R\$ 30,00. Em relação a essa situação hipotética, se a taxa marginal de substituição entre os referidos bens for igual a $\frac{1C}{1CD}$, então a escolha ótima desse consumidor requer que ele vá 3 vezes ao cinema e compre 1 CD.
- 74** Viagens de ônibus entre o Sudeste e o Nordeste do Brasil, que constituem um exemplo típico de bem inferior, apresentam curva de Engel positivamente inclinada.

Acerca do comportamento das firmas que atuam em ambiente competitivo, julgue os itens subseqüentes.

- 75** No curto prazo, as firmas que atuam nesses mercados podem operar com perdas, desde que a receita marginal seja suficiente para cobrir o custo variável médio.
- 76** No equilíbrio de longo prazo, como as firmas auferem lucro zero, uma redução do preço de mercado, provocada por contração da demanda, levará todas as empresas a saírem do negócio.
- 77** A sindicalização dos trabalhadores que trabalham na produção de hortaliças faz que a curva de oferta de longo prazo nesse setor seja positivamente inclinada.

Nas economias de mercado, os preços se formam diferentemente segundo as estruturas de mercado vigentes. A esse respeito, julgue os itens a seguir.

- 78** A monopolização do mercado de novos medicamentos contra doenças cardíacas e depressão que fixe os preços desses produtos acima dos custos marginais de produção é consistente com o fato de que esses novos remédios são bem mais caros que medicamentos que já possuem versões genéricas no mercado.
- 79** Contrariamente à Organização dos Países Produtores de Petróleo (OPEP), o cartel do cobre, denominado Conselho Intergovernamental dos Países Exportadores de Cobre (CIPEC), não consegue elevar muito o preço desse metal pelo fato de a demanda mundial de cobre ser bem mais inelástica que a demanda de petróleo.
- 80** Em mercados organizados sob a forma de concorrência monopolística, cada empresa confronta-se com uma curva de demanda negativamente inclinada, porém bastante elástica.

Em relação à teoria da produção, julgue os itens que se seguem.

- 81** Supondo-se que a produção de serviços administrativos, em determinado órgão público, exija um computador para cada dois funcionários, então a taxa marginal de substituição técnica (TMST) entre computadores e funcionários é decrescente.
- 82** Em presença de rendimentos crescentes de escala na fabricação de determinado bem, é economicamente mais vantajoso concentrar a produção em uma única empresa que dispersá-la entre muitas empresas pequenas.
- 83** Aumentos da produtividade média dos trabalhadores, para dado estoque de capital, elevam o padrão de vida desses assalariados, porém não alteram a função de produção, nem tampouco o valor agregado da economia.

As questões de economia internacional são cruciais à compreensão das economias de mercado em um mundo globalizado. A esse respeito, julgue os itens seguintes.

- 84** A compra recente da empresa americana Chaparral Steel pelo grupo siderúrgico brasileiro Gerdau deve ser registrada na conta financeira do balanço de pagamentos brasileiro como um débito.
- 85** Quando executivos de uma empresa alemã vão a São Paulo utilizando uma companhia aérea brasileira, o valor das passagens aéreas deve ser contabilizado como um crédito no balanço comercial do Brasil.
- 86** Países que crescem mais rapidamente tendem a ter desequilíbrios no balanço comercial, e esses desequilíbrios serão tanto maiores quanto menor for a propensão marginal a importar dessas economias.
- 87** A fixação pela União Européia (UE) de quotas à importação de carne de frango proveniente do Brasil restringe as importações desse produto e conduz a um aumento do preço do frango nos países membros da UE.
- 88** Uma queda das taxas de juros nos Estados Unidos da América contribui para apreciar o dólar norte-americano, aumentando, assim, o *deficit* comercial desse país.
- 89** Em um sistema de taxas de câmbio flutuantes, uma política fiscal expansionista eleva os juros e aprecia a moeda local, reduzindo, assim, as exportações líquidas e o PIB da economia.
- 90** O fato de, na ausência de custos de transporte e barreiras ao comércio, um mesmo produto ser vendido por um preço semelhante em diferentes países é compatível com a teoria da paridade do poder de compra.
- 91** Nas últimas décadas, o relaxamento dos controles de capitais em muitas nações levou o Sistema Financeiro Internacional não somente a uma maior internacionalização e integração dos mercados financeiros como também aumentou, substancialmente, o volume e a velocidade de circulação de recursos entre países.
- 92** O Fundo Monetário Internacional (FMI) atua como provedor de liquidez internacional, mas esse fundo somente provê crédito, a taxas preferenciais, para investimentos que possibilitem o crescimento de longo prazo das economias em desenvolvimento.

O estudo da evolução da economia brasileira é importante para a compreensão da situação econômica atual. Acerca desse assunto, julgue os itens a seguir.

- 93** A implementação do plano de metas contou com a adoção de um sistema protecionista combinado com a fixação de taxas de câmbio que subsidiavam as importações de insumos básicos e bens de capital.
- 94** A industrialização embasada na substituição de importações, por ser capital intensiva e, portanto, restringir a criação de empregos no setor urbano, contribuiu para aumentar a concentração de renda.
- 95** Os investimentos realizados no âmbito do II PND (Plano Nacional de Desenvolvimento), que visava eliminar as restrições estruturais e externas ao crescimento, concentraram-se nos setores de bens de capital, energético e exportador, excluindo-se, porém, investimentos em infraestrutura.
- 96** No Plano Cruzado, políticas fiscais e monetárias restritivas, aliadas ao congelamento de preços, concorreram para reduzir a inflação.
- 97** No amplo debate acerca das causas da inflação, a visão heterodoxa enfatizava o papel desempenhado pelo conflito distributivo, em que cada grupo social tentava maximizar sua parcela na renda nacional, parcelas essas que, somadas, eram superiores à renda agregada da economia.
- 98** No Plano Real, o principal instrumento para se atingir a estabilização da economia foi a âncora cambial.
- 99** Nos anos 70 do século XX, o orçamento geral da União (OGU) concentrava a grande maioria dos gastos públicos, incluindo-se aí as contas das empresas estatais e a conta da dívida pública.
- 100** Entre 1994 e 1998, o aumento da rubrica OCC (outras despesas de custeio e capital), que aglutina a demanda por mais verbas dos ministérios, dos prefeitos e dos governadores, foi um dos elementos responsáveis pelo aumento do gasto público nesse período.

Considerando que um capital de R\$ 4.000,00 tenha sido investido, no regime de juros simples, à taxa de 6% ao trimestre, julgue os próximos itens.

- 101** Se o capital foi aplicado por 9 meses, então o montante acumulado é superior a R\$ 5.000,00.
- 102** A taxa de 6% ao trimestre é equivalente à taxa anual de 24%.
- 103** Se os juros obtidos no investimento do capital forem iguais a R\$ 320,00, então o número de meses que o capital ficou aplicado é inferior a 5.

Considerando que um capital de R\$ 10.000,00 tenha sido aplicado à taxa de juros compostos de 10% ao ano, julgue os itens que se seguem.

- 104** Os juros obtidos após 2 anos de aplicação são inferiores a R\$ 2.000,00.
- 105** A taxa mensal equivalente à taxa de juros compostos de 10% ao ano é igual a $1,1^{\frac{1}{12}} - 1$.

Em cada um dos itens seguintes, é apresentada uma situação hipotética, seguida de uma assertiva a ser julgada.

- 106** A loja I vende um produto de R\$ 4.000,00 com desconto de 5% e a loja II vende o mesmo produto por R\$ 4.200,00 com desconto de 8%. Nessa situação, a opção economicamente mais vantajosa para compra é a da loja II.
- 107** A quantia de R\$ 6.000,00 deve ser repartida entre Paulo e Vanda. Se Paulo receber $\frac{2}{5}$ dessa quantia, então Vanda deverá receber R\$ 3.600,00.
- 108** A quantia de R\$ 20.000,00 foi aplicada por um investidor durante 1 ano à taxa real de 5% ao ano. Se, nesse período, a inflação tiver sido de 10%, então o investidor deve ter recebido, ao final desse período, uma quantia inferior a R\$ 22.000,00.
- 109** Em determinado banco, para se efetuar o desconto comercial simples de um título à taxa de 4% ao mês, é cobrada uma taxa de serviço de 4% sobre o valor nominal do título. Se um cliente desconta 4 meses antes do seu vencimento um título de valor nominal de R\$ 12.000,00, então o custo efetivo da operação em termos da taxa mensal é inferior a 6%.
- 110** Um empréstimo de R\$ 95.000,00 deverá ser pago em 12 prestações anuais consecutivas e iguais pelo sistema francês de amortização. A primeira prestação vence 1 ano após a tomada do empréstimo. Considerando-se que os juros compostos cobrados são de 4% ao ano e supondo que $1,04^{-12} = 0,62$, então o valor da primeira prestação desse empréstimo é superior a R\$ 9.500,00.

RASCUNHO

Com relação à análise das demonstrações financeiras, julgue o item a seguir.

111 A conta duplicatas descontadas deve ser reclassificada para o passivo circulante. Esse procedimento não altera o cálculo do quociente de liquidez corrente.

A propósito das análises de fluxo de caixa e de capital de giro, julgue os seguintes itens.

112 O fluxo livre de caixa corresponde ao que a empresa poderia distribuir aos acionistas após a reposição de ativos permanentes e o suprimento dos acréscimos de necessidade de capital de giro.

113 Quando o passivo circulante operacional for maior que o ativo circulante operacional, haverá necessidade de capital de giro, que poderá ser financiado principalmente com créditos de fornecedores e empréstimos bancários.

<<Dif/>>A propósito das relações custo-volume-lucro e dos padrões de comportamento de custos, julgue os itens seguintes.

114 Suponha-se que uma empresa tenha custos fixos de R\$ 400.000,00 e que a margem de contribuição seja de R\$ 25.000,00. Nesse caso, devem ser vendidas, pelo menos, 16 unidades de produto para que não haja prejuízo.

115 Em relação aos custos fixos, é correto afirmar que, à medida que aumenta a produção dentro de uma determinada faixa de volume, reduz-se o custo por unidade do produto.

No que se refere ao direito tributário nacional, julgue os itens a seguir.

116 O Conselho Regional de Economia de um estado brasileiro atua como sujeito ativo indireto ao exercer as funções de arrecadar e fiscalizar as contribuições devidas pelos profissionais inscritos no respectivo conselho.

117 Um tributo ao qual o legislador tenha atribuído denominação de taxa pode ter natureza jurídica específica de imposto, o que depende do fato gerador.

118 Considere-se que determinada pessoa jurídica celebrou contrato de promessa de compra e venda de imóvel situado na zona urbana do município de Rio Branco – AC, passando a ter a posse do referido bem, mas não da propriedade. Nessa hipótese, é correto concluir que a pessoa jurídica em comento não é sujeito passivo do imposto sobre a propriedade predial e territorial urbana (IPTU).

119 Se determinada localidade possuir sistema de abastecimento de água e mais nenhum outro melhoramento, ela não será considerada área urbana para os efeitos de incidência do IPTU.

120 Considere-se que determinada instituição financeira transferiu os direitos reais de garantia de bens imóveis, dados por mutuários do Sistema Financeiro da Habitação, para outra instituição financeira, que passou a gerir os pertinentes contratos de financiamento. Nesse caso, há a incidência do imposto sobre transmissão *inter vivos* de bens imóveis e direitos a eles relativos (ITBI).