

# FUNDAÇÃO UNIVERSIDADE DE BRASÍLIA

Concurso Público  
Nível Superior

## Cargo 8: CONTADOR

Aplicação: 13/4/2008

**MANHÃ**

### LEIA COM ATENÇÃO AS INSTRUÇÕES ABAIXO.

- 1 Ao receber este caderno, confira inicialmente os seus dados pessoais transcritos acima e o seu nome no rodapé das páginas numeradas. Em seguida, verifique se ele contém cento e vinte itens, correspondentes às provas objetivas, corretamente ordenados de 1 a 120.
- 2 Caso o caderno esteja incompleto ou tenha qualquer defeito, solicite ao fiscal de sala mais próximo que tome as providências cabíveis, pois não serão aceitas reclamações posteriores.
- 3 Não utilize lápis, lapiseira (grafite), borracha e(ou) qualquer material de consulta que não seja fornecido pelo CESPE/UnB.
- 4 Não se comunique com outros candidatos nem se levante sem autorização do chefe de sala.
- 5 Recomenda-se não marcar ao acaso: cada item cuja resposta diverja do gabarito oficial definitivo receberá pontuação negativa, conforme consta em edital.
- 6 A duração das provas é de **três horas e trinta minutos**, já incluído o tempo destinado à identificação — que será feita no decorrer das provas — e ao preenchimento da folha de respostas.
- 7 Você deverá permanecer obrigatoriamente em sala por, no mínimo, **uma hora** após o início das provas e poderá levar este caderno de provas somente no decurso dos últimos **quinze minutos** anteriores ao horário determinado para o término das provas.
- 8 Ao terminar as provas, chame o fiscal de sala mais próximo, devolva-lhe a sua folha de respostas e deixe o local de provas.
- 9 A desobediência a qualquer uma das determinações constantes no presente caderno ou na folha de respostas poderá implicar a anulação das suas provas.

#### AGENDA (datas prováveis)

- I 15/4/2008, após as 19 h (horário de Brasília) – Gabaritos oficiais preliminares das provas objetivas: Internet — [www.cespe.unb.br](http://www.cespe.unb.br).
- II 16 e 17/4/2008 – Recursos (provas objetivas): exclusivamente no Sistema Eletrônico de Interposição de Recurso, Internet, mediante instruções e formulários que estarão disponíveis nesse sistema.
- III 6/5/2008 – Resultados finais das provas objetivas e convocação para a avaliação de títulos e para a perícia médica: Diário Oficial da União e Internet.

#### OBSERVAÇÕES

- Não serão objeto de conhecimento recursos em desacordo com o item 12 do Edital n.º 1 – FUB, de 15/2/2008.
- Informações adicionais: telefone 0(XX) 61 3448-0100; Internet — [www.cespe.unb.br](http://www.cespe.unb.br).
- É permitida a reprodução deste material apenas para fins didáticos, desde que citada a fonte.

 **cespeUnB**  
Centro de Seleção e de Promoção de Eventos

- De acordo com o comando a que cada um dos itens de **1 a 120** se refira, marque, na **folha de respostas**, para cada item: o campo designado com o código **C**, caso julgue o item **CERTO**; ou o campo designado com o código **E**, caso julgue o item **ERRADO**. A ausência de marcação ou a marcação de ambos os campos não serão apenadas, ou seja, não receberão pontuação negativa. Para as devidas marcações, use a **folha de respostas**, único documento válido para a correção das suas provas.
- Nos itens que avaliam **Noções de Informática**, a menos que seja explicitamente informado o contrário, considere que todos os programas mencionados estão em configuração-padrão, em português, que o *mouse* está configurado para pessoas destros e que expressões como clicar, clique simples e clique duplo referem-se a cliques com o botão esquerdo do *mouse*. Considere também que não há restrições de proteção, de funcionamento e de uso em relação aos programas, arquivos, diretórios, recursos e equipamentos mencionados.

## CONHECIMENTOS BÁSICOS

### A arte da comunicação interpessoal

1 Além das palavras, existe um mundo infinito de  
 2 nuanças e prismas diferentes que geram energias ou  
 3 estímulos que são percebidos e recebidos pelo outro,  
 4 mediante os quais a comunicação se processa. Um olhar, um  
 5 tom de voz um pouco diferente, um franzir de cenho, um  
 6 levantar de sobrancelhas podem comunicar muito mais do  
 7 que está contido em uma mensagem manifestada por meio  
 8 das palavras. Tenho observado algumas curiosidades que  
 9 creio interessantes para que cada um possa refletir e tirar  
 10 algum proveito.

11 Uma dessas constatações é que os problemas são  
 12 relativamente simples e de fácil solução até para pessoas que  
 13 se dizem com grandes problemas de comunicação. Uma  
 14 pessoa pode ter boa cultura, ser extrovertida e desinibida,  
 15 saber usar bem as mãos, possuir um rico vocabulário e  
 16 dominar uma boa fluência verbal, mas se falar de forma  
 17 linear, com voz monótona, irá provocar desinteresse e  
 18 sonolência nos ouvintes e, conseqüentemente, a comunicação  
 19 ficará limitada.

20 O somatório desses pequenos problemas impede  
 21 que uma pessoa se comunique com fluidez e naturalidade.  
 22 É o princípio de “A união faz a força”, ou seja, o conjunto  
 23 dessas dificuldades neutraliza o efeito que a comunicação  
 24 poderia provocar, impedindo a pessoa de mostrar o seu  
 25 potencial e a sua competência, gerando frustrações na vida  
 pessoal e profissional.

Internet: <www.gestaoerh.com.br> (com adaptações).

Com referência ao texto acima, julgue os itens de **1 a 5**.

- 1 O primeiro período do texto faz saber que há uma variedade de sutilezas das quais se originam impulsos que levam à comunicabilidade.
- 2 Deduz-se do texto que o olhar, a voz embargada, o cenho franzido expressam sentimentos mais sinceros que os manifestados em palavras.

- 3 Em “os problemas são relativamente simples e de fácil solução até para pessoas que se dizem com grandes problemas de comunicação” (l.11-13), para se evitar a repetição, a segunda ocorrência da palavra “problemas” poderia ser substituída por **dificuldades**.
- 4 O segundo parágrafo, quanto à tipologia textual, é essencialmente instrucional, porque trata da comunicação interpessoal.
- 5 No terceiro parágrafo, o autor apresenta alguns dos pequenos problemas que, quando reunidos, dificultam a força comunicacional. São eles: boa cultura, desinibição, habilidade gestual, vocabulário rico e fluência verbal.

Julgue as frases apresentadas nos itens subseqüentes quanto à grafia das palavras e à pontuação.

- 6 A pergunta ideal para se ter a evidencia se, de fato, o outro entendeu o que se disse é “O que você entendeu do que eu disse?”.
- 7 O mundo seria, certamente, bem melhor se as pessoas conseguissem relacionar-se melhor! A questão é simples: como posso esperar, de fato, que alguém me compreenda ou preste atenção no que digo se nem sequer consigo entender o que estou dizendo?
- 8 Medo de olhar nos olhos, expressão facial em desacordo com o conteúdo, aparência malcuidada, ausência de gestos ou excessiva gesticulação bem como posturas inadequadas são suficientes para tirarem o brilho de um processo de comunicação.
- 9 Se você não pode mudar as atitudes, nem os comportamentos de outras pessoas; assumo: que você é responsável apenas por o que está ao seu alcance, e pelas mudanças que pode proporcionar a você mesmo.
- 10 Para concluir, cabe ressaltar a sutileza da comunicação das pessoas que têm bondade no coração, gentileza nos gestos, beleza e doçura nas palavras.

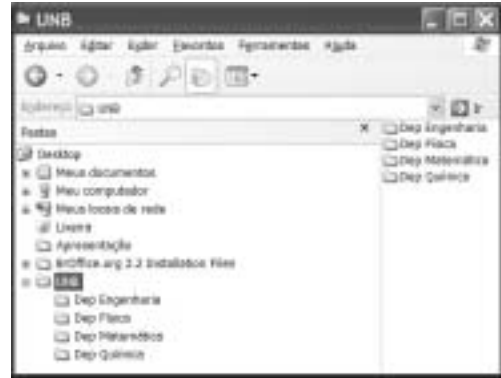
Observe as relações estabelecidas nos sentidos horizontal e vertical da tabela a seguir.

I	Ser tímido	Para conseguir um ótimo resultado, basta colocar-se no lugar do outro e gerar estímulos adequados conforme o jeito do outro funcionar, de processar informações, de entender conforme o seu nível cultural ou limitações de vocabulário, conceitos e experiências pessoais.
II	Saber ouvir	É a habilidade de se colocar no lugar do outro e prestar muita atenção no significado das palavras, na maneira como a pessoa está transmitindo, no seu estado emocional, nos seus limites e conhecimentos.
III	Ter empatia	Um dos aspectos mais importantes da comunicabilidade de uma pessoa é a energia que flui sutilmente da sua voz e do seu corpo, das palavras e da sua postura, dos gestos e do olhar; é a expressão do seu otimismo, da suavidade, do nível de confiança que deposita em seus atos.
IV	Expressar auto-estima	Há pessoas que possuem muito conhecimento e muito talento, mas, na hora de falar em público, em uma reunião ou quando convidadas para proferir uma palestra, ficam totalmente apavoradas e preferem fugir a enfrentar a situação.





Internet: <www.gestaoerh.com.br> (com adaptações).

Com base na tabela acima, julgue os itens subseqüentes.

- 11 Em I, na segunda e terceira colunas, são encontrados apenas três adjetivos para “Ser”: “tímido”, “ótimo”, “adequados”.
- 12 Todas as expressões da segunda coluna estão em paralelismo sintático, por iniciarem-se com uma forma verbal, e semântico, por apresentarem características que facilitam a comunicação com fluidez e naturalidade.
- 13 As afirmativas da terceira coluna explicam, correta e respectivamente, o sentido das expressões que se encontram na segunda coluna.
- 14 Em II, na terceira coluna, a descrição “a habilidade de se colocar no lugar do outro e prestar muita atenção no significado das palavras” tanto pode relacionar-se a “Saber ouvir” quanto a “Ter empatia”.
- 15 Uma das caracterizações para o que seja “Expressar auto-estima” (em IV) encontra-se na terceira coluna, em III: “confiança que deposita em seus atos”.





Considerando a figura acima, julgue os próximos itens, relativos ao sistema operacional Windows XP.


- 16 Para criar uma subpasta dentro da pasta , é suficiente clicar a opção Novo do *menu Arquivo*; selecionar, na lista disponibilizada, a opção Pasta; digitar o nome da pasta; e pressionar a tecla Enter.
- 17 Ao se clicar a seta ao lado da ferramenta , serão apresentadas as formas de visualização de pastas, tal como miniatura, lado a lado, ícone, listas e detalhes.
- 18 Para criar uma cópia de segurança da pasta , é suficiente clicar esse ícone e arrastá-lo para o *desktop*, onde os arquivos contidos na referida pasta serão compactados e criptografados.
- 19 Ao se clicar a ferramenta , o sistema operacional iniciará procedimento para conexão à Internet.

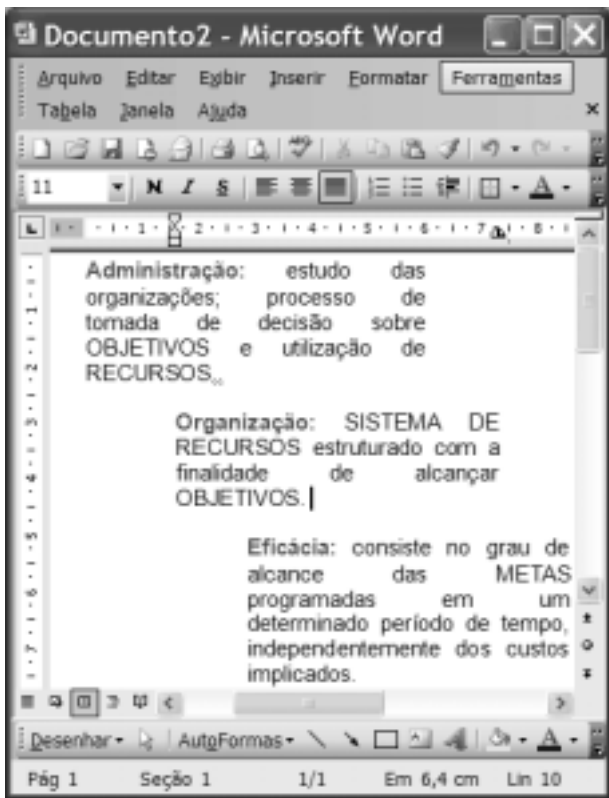


Considerando a figura acima, julgue os itens de 20 a 23, acerca do Internet Explorer 6 (IE6) e da Internet.




- 20 O endereço [www.unb.br](http://www.unb.br) mostrado na figura está incorreto; o endereço correto seria [www.unb.gov.br](http://www.unb.gov.br).
- 21 A opção  é uma interface da World Wide Web que permite ao usuário ler e escrever *e-mail* usando o navegador IE6.


22 Ao se clicar a ferramenta  , a página web mostrada na figura será salva no computador do usuário.


23 Para se fazer varredura de vírus no disco rígido do computador, é suficiente clicar o botão .



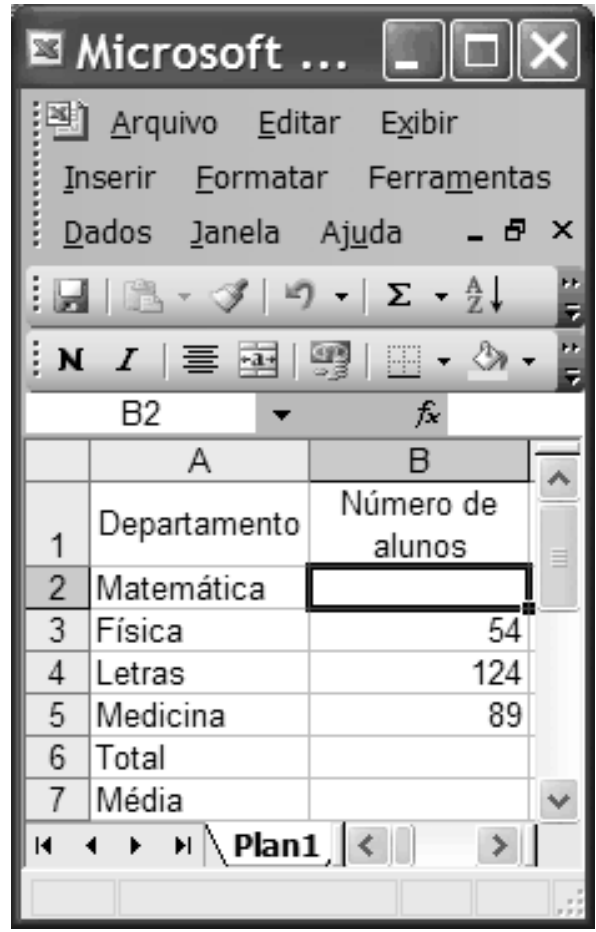
Considerando a figura acima, que ilustra uma janela do Word 2003, julgue os itens subsequentes.

24 O efeito de formatação dos três parágrafos mostrados foi obtido por meio dos seguintes procedimentos: cada parágrafo foi selecionado individualmente e, a seguir, clicaram-se, respectivamente, os botões ,  e .

25 O botão  tem como função principal permitir desfazer alterações indesejadas.

26 Para se iniciar o processo de verificação ortográfica no documento em edição, é suficiente clicar o botão .

27 A partir das informações da figura, é correto afirmar que o tamanho da letra do segundo parágrafo é 11.

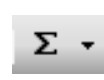


Considerando a figura acima, julgue os itens a seguir, acerca do Excel 2003.

28 Se o número de alunos do Departamento de Matemática for igual à metade do número de alunos do Departamento de Letras, a fórmula que pode ser usada para preencher a célula B2 é =B4/2.

29 Caso as células de B2 a B5 contenham os números de alunos dos 4 cursos mostrados, o total de alunos desses 4 cursos pode ser calculado usando-se a fórmula =soma(B2:B5).

30 Caso as células de B2 a B5 contenham os números de alunos dos 4 cursos mostrados, a média aritmética dos números contidos nessas 4 células pode ser calculada, e exibida na célula B7, clicando-se nessa célula e utilizando-se uma das opções apresentadas ao se clicar a seta ao lado da ferramenta



A detenção e a expulsão de brasileiros no aeroporto internacional de Madri geraram protestos do governo Lula, que expressou “profundo desagrado” em nota do ministro das Relações Exteriores, Celso Amorim. O Itamaraty convocou o embaixador espanhol em Brasília e ameaçou aplicar o mesmo tratamento a espanhóis que venham ao Brasil. Um grupo de brasileiros ficou detido em uma sala do aeroporto e teve de voltar ao Brasil. Entre eles estavam dois alunos de mestrado em trânsito para Lisboa, onde participariam de congresso científico. Há duas semanas, Amorim havia se queixado diretamente às autoridades espanholas sobre o tratamento dispensado aos brasileiros. Só em fevereiro, 452 brasileiros foram barrados no aeroporto de Madri e repatriados.

O Globo, 7/3/2008, capa (com adaptações).

Tendo o texto acima como referência inicial e considerando a abrangência do tema por ele focalizado, julgue os itens subsequentes.

- 31 Tal como relatado no texto, a atuação do serviço de controle de migrações da Espanha diverge frontalmente das diretrizes da União Européia, que adota, em geral, nítida política de estímulo à entrada de imigrantes em seu território.
- 32 Os países da Comunidade Européia, em especial a Espanha, são, na atualidade, o destino praticamente exclusivo de brasileiros que tentam emigrar ilegalmente em busca de oportunidades de trabalho.
- 33 O temor quanto às ações terroristas, cada vez mais freqüentes e transnacionalizadas, é a razão dada pelas autoridades européias para o aumento da rigidez na fiscalização das fronteiras entre os países que compõem a União Européia, como se pode inferir do texto.
- 34 A ameaça feita pelo Itamaraty de adotar o princípio diplomático da reciprocidade e dificultar a entrada de espanhóis no território brasileiro não surtiu efeito prático, haja vista a inexistência de casos de repatriação de espanhóis desde o início da crise.
- 35 A ação da Espanha contra estrangeiros que tentavam entrar no país, como foi o caso dos brasileiros citados no texto, teve reflexos na política interna e ajuda a explicar a fragorosa derrota do partido socialista nas recentes eleições.
- 36 No plano econômico-financeiro, é marcante, na economia brasileira nos últimos anos, a presença do capital espanhol, da qual são exemplos, entre outros, os grandes investimentos em setores como o da telefonia e o de bancos.
- 37 As relações econômicas entre a União Européia e os países em desenvolvimento ou considerados emergentes, como o Brasil, envolvem tensões que derivam, entre outros motivos, das práticas de protecionismo e subsídios adotadas pelas economias mais poderosas.
- 38 Tradicional destino de imigrantes vindos de várias regiões do planeta, o Brasil vem se transformando em país de emigrantes, em geral pessoas que partem em busca de melhores condições de vida no exterior.

O presidente Luiz Inácio Lula da Silva disse, na abertura do Fórum Brasil – México, que ligou para o colega norte-americano George Bush e o mandou cuidar da crise dos Estados Unidos da América (EUA). “Eu disse para o Bush: o problema é o seguinte, meu filho, nós ficamos 26 anos sem crescer, agora você vem atrapalhar? Resolve tua crise”. Empolgado com os indicadores da economia brasileira, entre os quais a expansão do crédito e do consumo, Lula ainda comparou o Bolsa Família ao milagre da multiplicação dos pães.

Jornal do Brasil, 28/3/2008, capa (com adaptações).

Tendo o texto acima como referência inicial e considerando os múltiplos aspectos que o tema suscita, julgue os itens que se seguem.

- 39 A economia norte-americana passa, no momento, por crise preocupante, cujo primeiro grande sintoma foi o denominado estouro da bolha imobiliária, ou seja, a demonstração de crescente incapacidade de pagamento da dívida contraída por adquirentes de imóveis.
  - 40 Reduzindo dramaticamente o consumo de bens industrializados, a atual crise norte-americana ainda não conseguiu afetar o sistema financeiro propriamente dito, deixando a salvo, pelo menos por ora, bancos e instituições similares.
  - 41 Uma das características da globalização é a interdependência dos mercados, o que permite supor que uma crise de grandes proporções em um importante país pode se expandir e arrastar consigo muitos outros países.
  - 42 Citado no texto, o Bolsa Família é um programa de distribuição de renda conduzido pelo governo federal e voltado para famílias identificadas como carentes, delas exigindo-se a regular freqüência às aulas dos filhos em idade escolar.
  - 43 O entusiasmo do presidente da República, mencionado no texto, se justifica pelo fato de que, nos três últimos anos, os índices de crescimento econômico do Brasil são praticamente idênticos aos apresentados pela China.
  - 44 Citado por Lula, Bush vê aproximar o fim de seu governo com índices decrescentes de aprovação popular, em larga medida determinados pela desgastante guerra contra o Iraque, na qual morreram milhares de norte-americanos.
  - 45 Entre as novidades presentes na atual campanha presidencial norte-americana, ainda em sua fase primária, está a presença de dois postulantes à candidatura pelo partido democrata que fogem ao padrão do país: um negro (Barak Obama) e uma mulher (Hillary Clinton).
- A Lei n.º 8.112/1990, que instituiu o Regime Jurídico dos Servidores Públicos Civis da União, das autarquias e das fundações públicas federais, tem por objetivo conferir direitos e deveres a pessoa legalmente investida em cargo público. Considerando o texto originário da citada lei e as alterações posteriores, julgue os itens que se seguem.
- 46 Nomeação, promoção, readaptação e lotação são algumas das formas de provimento em cargo público.
  - 47 A posse e o exercício no cargo público são atos distintos. A posse é ato subsequente à nomeação e ocorrerá no prazo de quinze dias contados da publicação do ato de provimento.
  - 48 O exercício, que ocorre após a posse no cargo ou função pública, é a execução ativa da função ou do cargo.
  - 49 O servidor público em exercício no cargo será avaliado por meio de estágio probatório e, se aprovado, adquirirá estabilidade funcional.
  - 50 A vacância do cargo público decorrerá somente no caso de exoneração a pedido.

## CONHECIMENTOS ESPECÍFICOS

RASCUNHO

Considerando que um capital de R\$ 5.000,00 seja aplicado em uma instituição financeira, julgue os itens seguintes, tomando 1,049 e 1,008 como valores aproximados de  $1,006^8$  e  $1,1^{1/12}$ , respectivamente.

- 51** Se esse capital for aplicado por 8 meses a juros compostos de 0,6% ao mês, o montante, ao final do período de aplicação, será inferior a R\$ 5.300,00.
- 52** Se o montante ao final de 12 meses for de R\$ 5.500,00, então a instituição financeira paga juros compostos mensais superiores a 0,7%.

Considere as 3 situações seguintes.

- I Um capital de R\$ 2.000,00 é aplicado durante um período em que a taxa de inflação é de 8%, e os juros reais são de 25%.
- II Um capital de R\$ 5.000,00 é aplicado durante um período em que a taxa de inflação é de 20%, e o montante dessa aplicação ao final do período é de R\$ 9.000,00.
- III Os juros reais de uma aplicação, durante certo período, são de 20% e a taxa aparente é de 38%.

Em relação a essas situações, julgue os próximos itens.

- 53** O montante do capital na situação I é, ao final do período de aplicação, inferior a R\$ 2.600,00.
- 54** Os juros reais na situação II são superiores a 45%.
- 55** A taxa de inflação no período referente à situação III é igual a 12%.

Cláudio tem 3 opções para a compra de um terreno cujo preço é de R\$ 60.000,00.

- I à vista, com 25% de desconto;
- II em 2 prestações semestrais iguais, sem desconto, vencendo a primeira um semestre após a compra;
- III em 3 prestações semestrais iguais, sem desconto, vencendo a primeira no ato da compra.

Sabendo que o capital de Cláudio está investido a juros compostos semestrais de 25% e que  $\frac{100}{1,25} = 80$  e  $\frac{100}{1,25^2} = 64$ , julgue os itens a seguir.

- 56** A melhor opção para Cláudio é a I.
- 57** A pior opção para Cláudio é a III.

Considerando 1,60, 1,15 e 1,34, respectivamente, como valores aproximados para  $1,04^{12}$ ,  $1,75^{1/4}$  e  $1,05^6$ , julgue os itens que se seguem.

- 58** A taxa efetiva anual correspondente à taxa nominal de 48% ao ano com capitalização mensal a juros compostos é inferior a 58%.
- 59** A taxa nominal anual correspondente a 75% de taxa efetiva anual com capitalização trimestral a juros compostos é superior a 64%.
- 60** A taxa semestral de juros equivalente à taxa de juros compostos de 5% ao mês é igual a 34%.

**Texto para os itens de 61 a 90****RASCUNHO**

No mês de abril de 2001 ocorreram os seguintes eventos na Cia. Comercial Ltda.:

- 1/4 constituição da empresa com a integralização de capital em dinheiro, no valor de R\$ 10.000,00;
- 1/4 empréstimo bancário creditado na conta corrente da empresa, no valor de R\$ 20.000,00;
- 2/4 depósito na conta corrente de recursos advindos do caixa da empresa, no valor de R\$ 10.000,00;
- 10/4 aquisição de mercadorias para revenda, pagamento com cheque e à vista, no valor de R\$ 5.000,00;
- 15/4 pagamento de despesas administrativas, com cheque e à vista, no valor de R\$ 2.000,00;
- 20/4 venda de todo o estoque de mercadorias, recebimento à vista por meio de depósito direto no banco, no valor de R\$ 10.000,00;
- 20/4 baixa de todo o estoque, no valor de R\$ 5.000,00, com base no critério do PEPS;
- 25/4 aquisição de um terreno para uso próprio da empresa, pagamento com cheque e à vista, no valor de R\$ 5.000,00;
- 30/4 venda do terreno, recebimento à vista e em dinheiro, no valor de R\$ 6.000,00;
- 30/4 baixa do custo do terreno, no valor de R\$ 5.000,00;
- 30/4 apropriação mensal dos salários, no valor de R\$ 2.500,00;
- 30/4 apropriação mensal dos juros sobre empréstimos, no valor de R\$ 1.000,00.

Considerando o balanço patrimonial com data-base em 30/4/2001, e tendo como referência os eventos acima discriminados, julgue os itens seguintes.

- 61** O valor da disponibilidade é de R\$ 28.000,00 porque é composta somente pela conta bancos.
- 62** O saldo da conta de prejuízos acumulados é de R\$ 500,00 tendo em vista que o valor das receitas do período não superaram os valores das despesas.
- 63** O valor do passivo é de R\$ 34.000,00.
- 64** O valor do patrimônio líquido é de R\$ 10.500,00.
- 65** O saldo da conta terrenos é de R\$ 10.000,00 porque houve uma aquisição de terreno no dia 25/4.

Com base nos eventos mencionados no texto e na demonstração do resultado do exercício (DRE) referente ao mês de abril/2001, julgue os itens subseqüentes.

- 66** O valor do lucro bruto foi de R\$ 10.000,00 tendo em vista que a empresa obteve vendas nesse valor e não efetuou a baixa do estoque.
- 67** Houve perda de capital na venda do ativo imobilizado porque a empresa adquiriu o terreno por valor inferior ao valor da venda.
- 68** O valor do custo das mercadorias vendidas foi igual ao valor das compras feitas no mês.
- 69** O resultado do período foi um lucro contábil de R\$ 500,00 ao invés de prejuízo.
- 70** O valor da conta salários a pagar foi de R\$ 2.500,00.
- 71** O valor da receita de vendas foi igual ao valor do lucro bruto porque o valor do custo das mercadorias vendidas foi igual a zero.

Com referência ao texto e acerca da demonstração do fluxo do caixa (método direto), referente ao mês de abril/2001 e elaborada com base nos eventos apresentados, julgue os itens que se seguem.

- 72 Não houve movimentação no fluxo dos financiamentos. Logo o valor total desse fluxo foi igual a zero.
- 73 O valor da venda do terreno foi a única transação que movimentou o fluxo dos investimentos. Por isso, o total desse fluxo foi de R\$ 6.000,00.
- 74 O valor de R\$ 5.000,00 decorrente da compra de mercadorias foi a única transação evidenciada no fluxo das operações.
- 75 O valor total do fluxo das operações foi negativo no valor de R\$ 5.000,00.
- 76 O valor da apropriação dos salários foi evidenciada no fluxo das operações.

Com relação à demonstração do fluxo de caixa (método indireto), referente ao mês de abril/2001, elaborada com base nos eventos da Cia. Comercial Ltda. citada no texto, julgue os itens a seguir.

- 77 O valor total do fluxo das operações foi de R\$ 3.000,00, decorrente do somatório do lucro líquido de R\$ 500,00 e dos seguintes valores com os saldos invertidos: despesas de salários, despesas financeiras e ganho de capital.
- 78 O valor do fluxo dos investimentos, resultado do valor venal do terreno menos o custo da sua aquisição, foi de R\$ 1.000,00.
- 79 O valor do fluxo dos financiamentos foi de R\$ 30.000,00, pois houve somente duas formas de financiamentos: a integralização de capital e o empréstimo bancário.
- 80 O saldo inicial e o saldo final do disponível da demonstração do fluxo de caixa, elaborada com base no método indireto, são iguais.

Quanto à análise econômico-financeira do balanço patrimonial e da DRE, elaboradas com base nos eventos listados no texto, julgue os seguintes itens.

- 81 O índice de rentabilidade do ativo foi de 1,47.
- 82 O índice de liquidez corrente, que foi de 1,45, não demonstrou a existência de capital circulante líquido.
- 83 O índice de rentabilidade do PL foi negativo.
- 84 A empresa em foco apresentou índice de endividamento acima de 190%.
- 85 89% das obrigações da empresa foram de curto prazo.
- 86 A empresa apresentou índice de liquidez geral diferente do índice de liquidez corrente.

Acerca dos efeitos inflacionários nas contas do balanço patrimonial elaborado ainda com base nos eventos apresentados no texto, julgue os itens subseqüentes.

- 87 O balanço patrimonial apresenta cinco contas monetárias que estão sujeitas às perdas do poder aquisitivo da moeda (inflação).
- 88 O valor do somatório dos saldos das contas monetárias do ativo é inferior ao das contas monetárias do passivo. Logo, a empresa não seria prejudicada em caso de inflação.

Quanto à apuração do custo das mercadorias vendidas (CMV) e com base nas informações do texto, julgue os itens seguintes.

- 89 Se for utilizado o critério do UEPS, ao invés do PEPS, para apuração do custo das mercadorias vendidas, o valor do CMV será diferente de R\$ 4.000,00.
- 90 O CMV foi apurado utilizando-se o inventário permanente. Por isso, o valor do CMV foi registrado simultaneamente ao registro da venda da mercadoria.

RASCUNHO



## Fusão de sete empresas gera companhia de R\$ 80 milhões

Uma fusão entre sete empresas de *software* e serviços de tecnologia fez nascer uma nova corporação, que se torna uma das maiores companhias que atuam no setor. A Virtus, que detém faturamento em 2007 estimado em cerca de R\$ 80 milhões, nasce da união de Automatos, Dedalus, Intelekt, Biosalc, Trellis, Visionnaire e Volans. A fusão foi costurada pelo banco Fator e conta com o apoio da Intel Capital e da Idéias-net, acionistas do novo empreendimento. Em futuro próximo outras empresas brasileiras devem se juntar ao projeto. Para este ano, a Virtus deve investir 15% do seu faturamento. A previsão é conquistar 10% do mercado brasileiro atual, que movimenta anualmente cerca de R\$ 1 bilhão.

Victor Hugo Alves. *Empresas & Negócios*, caderno B, 7/3/2008 (com adaptações).

Considerando o texto acima, julgue os itens subsequentes.

- 91 A criação da nova empresa somente foi possível porque o processo de fusão abrangeu mais de uma empresa.
- 92 A fusão das empresas Automatos, PETROBRAS, Intelekt, Biosalc, Visionnaire, e Volans resultou na criação da nova empresa Virtus.
- 93 A empresa Virtus é resultante de um processo de incorporação já que não houve criação de uma nova empresa.
- 94 As empresas Automatos, Dedalus, Intelekt, Biosalc, Trellis, Visionnaire e Volans investirão 10% do seu faturamento para conquistarem 15% do mercado brasileiro.

À luz do Código Tributário Nacional (CTN), Lei n.º 5.172/1966, julgue os itens seguintes.

- 95 Imposto é o tributo cuja obrigação tem por fato gerador uma situação independentemente de qualquer atividade estatal específica, relativa ao contribuinte.
- 96 O imposto sobre a importação de produtos estrangeiros é de competência dos estados e tem como fato gerador a entrada desses produtos no estado.
- 97 O imposto sobre a propriedade predial e territorial urbana (IPTU) é de competência dos municípios e tem como fato gerador a propriedade, o domínio útil ou a posse de bem imóvel localizado na zona urbana do município por natureza ou por acessão física, como definido na lei civil.
- 98 O imposto sobre a transmissão de bens imóveis e de direitos (ITBI) é de competência dos estados.
- 99 A base de cálculo do imposto sobre a renda e proventos de qualquer natureza é o montante real, arbitrado ou presumido, da renda ou dos proventos tributáveis.
- 100 O imposto sobre produtos industrializados (IPI) é um tributo não-cumulativo e seletivo em função da essencialidade dos produtos.
- 101 No Brasil, são considerados impostos especiais: imposto sobre operações relativas a combustíveis e lubrificantes, imposto sobre energia elétrica e imposto sobre minerais.
- 102 Na iminência ou no caso de guerra externa, a União pode instituir, temporariamente, impostos extraordinários compreendidos ou não no CTN, suprimidos, gradativamente, no prazo máximo de cinco anos, contados da celebração da paz.

A empresa MS S.A. apura os valores do imposto de renda e da contribuição social sobre o lucro com base na modalidade do lucro real trimestral definitivo. Em 31/3/2001, o contador levantou a seguinte DRE, relativa ao 1.º trimestre de 2001.

DRE (em R\$)	
receita de vendas	550.000
CMV	<u>527.167</u>
lucro bruto	22.833
despesas operacionais	20.000
despesas financeiras	15.500
(=) prejuízo líquido	-12.667

As despesas operacionais de R\$ 20.000 incluem despesas no valor de R\$ 15.000 que o fisco federal não aceita como dedutíveis na apuração do lucro real. Na parte B do livro de apuração do lucro real (LALUR) consta o registro de um saldo de prejuízos fiscais a compensar no valor de R\$ 10.000 que o fisco federal permite compensar no lucro real, desde que a empresa respeite o limite de 30%. De acordo com o RIR/1999, a alíquota do IRPJ normal é de 15% e a alíquota do imposto adicional é de 10%. A alíquota da contribuição social sobre o lucro (CSL) é de 9%. Com base nessas informações, julgue os itens que se seguem.

103 O cálculo da CSL é feito da seguinte forma:

resultado antes CSL	.....	- 12.667,00
(+) adições	.....	15.000,00
(=) resultado antes das compensações	.....	2.333,00
(-) compensação	.....	699,90
(=) base de cálculo do CSL	.....	1.633,10
CSL devida (9%)	.....	146,98

104 O saldo de prejuízos fiscais existente no LALUR só pode ser compensado na base de cálculo do IRPJ.

105 Não há valor devido a título de IRPJ e CSL porque, em ambos os casos, apurou-se prejuízo fiscal e base de cálculo negativa, respectivamente.

106 Apesar de as alíquotas do imposto de renda serem maiores que a da CSL, o valor do IRPJ foi menor que o valor da CSL.

RASCUNHO

**tabela I – INSS**

salário de contribuição (R\$)	desconto (%)
até R\$ 868,29	8
de R\$ 868,30 até R\$ 1.447,14	9
de R\$ 1.447,15 até R\$ 2.894,28	11

**tabela II – imposto de renda**

rendimentos (R\$)	alíquota (%)	parcela a deduzir
até 1.372,81	isento	–
de 1.372,82 até 2.743,25	15	205,92
acima de 2.743,25	27,5	548,82
deduções: por dependente 137,99 e 1.372,81 por aposentadoria a quem já completou 65 anos de idade		

Uma fábrica possui 4 empregados com os seguintes salários: empregado A: R\$ 500; empregado B: R\$ 1.000; empregado C: R\$ 1.500; empregado D: R\$ 3.000. Os empregados, todos com idade inferior a 65 anos, são solteiros e não possuem dependentes. Nesse contexto e com base nas tabelas I e II acima, julgue os itens seguintes.

- 107** Os empregados A, B e C são isentos do imposto de renda.
- 108** O valor da contribuição ao INSS devida pelo empregado D é de R\$ 330,00 porque a tabela I mostra que acima de R\$ 2.894,28 a alíquota de desconto é de 11% sobre o valor do salário.

A Lei n.º 6.404/1976, que dispõe sobre as sociedades por ações, foi alterada pela Lei n.º 11.638/2007. Acerca desse assunto e suas implicações, julgue os itens a seguir.

- 109** O artigo 176 passou a prever duas novas demonstrações contábeis: a demonstração dos fluxos de caixa e, se companhia aberta, a demonstração do valor adicionado.
- 110** A companhia fechada, com patrimônio líquido, na data do balanço, inferior a R\$ 2.000.000,00 não será obrigada à elaboração e publicação da demonstração dos fluxos de caixa.
- 111** O artigo 176 estabelece que, ao fim de cada exercício social, as sociedades por ações deverão elaborar as seguintes demonstrações financeiras:
- I balanço patrimonial;
  - II demonstração dos lucros ou prejuízos acumulados;
  - III demonstração do resultado do exercício;
  - IV demonstração dos fluxos de caixa;
  - V demonstração do valor adicionado, se companhia aberta;
  - VI demonstração das mutações patrimoniais.
- 112** No ativo, as contas serão dispostas em ordem decrescente de grau de liquidez dos elementos nelas registrados, nos seguintes grupos: ativo circulante, ativo realizável a longo prazo, e ativo permanente, dividido em investimentos, imobilizado, intangível e diferido.

Os parágrafos 4.º e 5.º do artigo 176 da Lei n.º 6.404/1976 estabelecem que as demonstrações serão complementadas por notas explicativas e outros quadros analíticos ou demonstrações contábeis necessários para esclarecimento da situação patrimonial e dos resultados do exercício e apresentarão determinadas notas de elaboração obrigatória. Com relação a esse assunto, julgue os próximos itens.

- 113** Os investimentos em outras sociedades, quando relevantes, serão divulgados em notas explicativas.
- 114** O aumento de valor de elementos do ativo resultante de novas avaliações serão divulgados em notas explicativas.
- 115** O número, as espécies e as classes das ações do capital social não precisam ser divulgados em notas explicativas.
- 116** Os ajustes de exercícios anteriores serão divulgados em notas explicativas.
- 117** Os eventos subsequentes à data de encerramento do exercício que tenham ou possam vir a ter efeito relevante sobre a situação financeira e os resultados futuros da companhia não devem ser divulgados em notas explicativas.

A Lei n.º 4.320/1964 classificou as receitas nas seguintes categorias econômicas: receitas correntes e receitas de capital. Julgue os itens seguintes acerca dessas receitas.

- 118** São receitas correntes as receitas tributária, de contribuições, patrimonial, agropecuária, industrial, de serviços, entre outras, e ainda as provenientes de recursos financeiros recebidos de outras pessoas de direito público ou privado, quando destinadas a atender despesas classificáveis em despesas correntes.
- 119** São receitas de capital as provenientes da realização de recursos financeiros oriundos de constituição de dívidas; da conversão, em espécie, de bens e direitos; os recursos recebidos de outras pessoas de direito público ou privado, destinados a atender despesas classificáveis em despesas de capital e, ainda, o *superavit* do orçamento corrente.
- 120** As receitas de impostos, taxas e contribuição de melhoria são classificadas como receita tributária e estas, por sua vez, como receitas correntes.

**RASCUNHO**