

**PREFEITURA MUNICIPAL DE VILA VELHA**  
**SECRETARIA MUNICIPAL DE ADMINISTRAÇÃO (SEMAD)**

**Concurso Público**  
**Nível Superior**

**Cargo: 10**

**Técnico Municipal de Nível Superior I**  
**Área de Atuação: Economia**

Aplicação: 24/2/2008

**MANHÃ**

**Caderno: K**

**LEIA COM ATENÇÃO AS INSTRUÇÕES ABAIXO.**

- 1 Confira atentamente se o tipo deste caderno — Caderno K — coincide com o que está registrado em sua folha de respostas e no rodapé de cada página numerada deste caderno. Em seguida, verifique se ele contém cento e vinte itens, correspondentes às provas objetivas, corretamente ordenados de 1 a 120.
- 2 Caso o caderno esteja incompleto ou tenha qualquer defeito, ou haja discordância quanto ao tipo de caderno, conforme o item 1, solicite ao fiscal de sala mais próximo que tome as providências cabíveis.
- 3 Não utilize lápis, lapiseira (grafite), borracha e(ou) qualquer material de consulta que não seja fornecido pelo CESPE/UnB.
- 4 Não se comunique com outros candidatos nem se levante sem autorização do chefe de sala.
- 5 Recomenda-se não marcar ao acaso: cada item cuja resposta diverja do gabarito oficial definitivo receberá pontuação negativa, conforme consta em edital.
- 6 A duração das provas é de **três horas e trinta minutos**, já incluído o tempo destinado à identificação — que será feita no decorrer das provas — e ao preenchimento da folha de respostas.
- 7 Você deverá permanecer obrigatoriamente em sala por, no mínimo, **uma hora** após o início das provas e poderá levar este caderno de provas somente no decurso dos últimos **quinze minutos** anteriores ao horário determinado para o término das provas.
- 8 Ao terminar as provas, chame o fiscal de sala mais próximo, devolva-lhe a sua folha de respostas e deixe o local de provas.
- 9 A desobediência a qualquer uma das determinações constantes no presente caderno ou na folha de respostas poderá implicar a anulação das suas provas.

**AGENDA (datas prováveis)**

- I **26/2/2008**, após as 19 h (horário de Brasília) — Gabaritos oficiais preliminares das provas objetivas: Internet — [www.cespe.unb.br/concursos/pmrv2007](http://www.cespe.unb.br/concursos/pmrv2007).
- II **27 e 28/2/2008** — Recursos (provas objetivas): exclusivamente no Sistema Eletrônico de Interposição de Recurso, Internet, mediante instruções e formulários que estarão disponíveis nesse sistema.
- III **18/3/2008** — Resultados final das provas objetivas e provisório da avaliação de títulos: Diário Oficial do Estado do Espírito Santo e Internet.

**OBSERVAÇÕES**

- Não serão objeto de conhecimento recursos em desacordo com o item 13 do Edital n.º 1 – PMVV, de 18/12/2007.
- Informações adicionais: telefone 0(XX)61 3448-0100; Internet — [www.cespe.unb.br/concursos/pmrv2007](http://www.cespe.unb.br/concursos/pmrv2007).
- É permitida a reprodução deste material apenas para fins didáticos, desde que citada a fonte.

- De acordo com o comando a que cada um dos itens de **1 a 120** se refira, marque, na **folha de respostas**, para cada item: o campo designado com o código **C**, caso julgue o item **CERTO**; ou o campo designado com o código **E**, caso julgue o item **ERRADO**. A ausência de marcação ou a marcação de ambos os campos não serão apenadas, ou seja, não receberão pontuação negativa. Para as devidas marcações, use a **folha de respostas**, único documento válido para a correção das suas provas.
- Nos itens que avaliam **Noções de Informática**, a menos que seja explicitamente informado o contrário, considere que todos os programas mencionados estão em configuração-padrão, em português, que o *mouse* está configurado para pessoas destras e que expressões como clicar, clique simples e clique duplo referem-se a cliques com o botão esquerdo do *mouse*. Considere também que não há restrições de proteção, de funcionamento e de uso em relação aos programas, arquivos, diretórios, recursos e equipamentos mencionados.

## CONHECIMENTOS BÁSICOS

### Texto para os itens de 1 a 13

1 Uma decisão singular de um juiz da Vara de  
 Execuções Criminais de Tupã, pequena cidade a 534 km da  
 cidade de São Paulo, impondo critérios bastante rígidos para  
 4 que os estabelecimentos penais da região possam receber  
 novos presos, confirma a dramática dimensão da crise do  
 sistema prisional. A sentença determina, entre outras  
 7 medidas, que as penitenciárias somente acolham presos que  
 residam em um raio de 200 km.

Segundo o juiz, as medidas que tomou são previstas  
 10 pela Lei de Execução Penal e objetivam acabar com a  
 violação dos direitos humanos da população carcerária e  
 “abrir o debate a respeito da regionalização dos presídios”.  
 13 Ele alega que muitos presos das penitenciárias da região são  
 de famílias pobres da Grande São Paulo, que não dispõem de  
 condições financeiras para visitá-los semanalmente, o que  
 16 prejudica o trabalho de reeducação e de ressocialização.

Sua sentença foi muito elogiada. Contudo, o governo  
 estadual anunciou que irá recorrer ao Tribunal de Justiça, sob  
 19 a alegação de que, se os estabelecimentos penais não  
 puderem receber mais presos, os juízes das varas de  
 execuções não poderão julgar réus acusados de crimes  
 22 violentos, como homicídio, latrocínio, seqüestro ou estupro.  
 Além disso, as autoridades carcerárias alegam que a decisão  
 impede a distribuição de integrantes de uma quadrilha por  
 25 diversos estabelecimentos penais, seja para evitar que  
 continuem comandando seus “negócios”, seja para coibir a  
 formação de facções criminosas.

Com um *deficit* de mais de 40 mil vagas e várias  
 28 unidades comportando o triplo de sua capacidade de lotação,  
 a já dramática crise do sistema prisional de São Paulo se  
 31 agrava todos os dias. O mérito da sentença do juiz de Tupã,  
 que dificilmente será confirmada em instância superior, é o  
 de refrescar a memória do governo sobre a urgência de uma  
 34 solução para o problema.

In: Estado de S. Paulo, 13/1/2008, p. A3 (com adaptações).

Com referência às idéias do texto, julgue os itens de **1 a 7**.

- |   |   |
|---|---|
| <p><b>1</b> De acordo com o texto, não ocorrem crimes violentos, como homicídio, latrocínio, seqüestro e estupro, na cidade de Tupã.</p> <p><b>2</b> Depreende-se do texto que a crise do sistema prisional de São Paulo pode ser resolvida com a adoção de medidas que restrinjam o deslocamento dos presos e dos seus familiares.</p> <p><b>3</b> Infere-se do texto que o juiz mencionado, ao proferir sua sentença, se preocupou com a reabilitação dos presos.</p> | <p><b>4</b> Subentende-se da leitura do terceiro parágrafo que o governo de São Paulo considera inviável cumprir a sentença e recorrerá à instância superior.</p> <p><b>5</b> De acordo com o terceiro parágrafo do texto, o encarceramento de criminosos em diferentes penitenciárias possibilita a desmobilização de quadrilhas.</p> <p><b>6</b> Segundo o autor do texto, a sentença salienta a necessidade de uma solução para a grave situação do sistema prisional de São Paulo.</p> <p><b>7</b> O texto caracteriza-se como texto descritivo devido à sua complexidade e à apresentação de fatos que ocorreram com personagens reais.</p> <hr/> <p>Julgue os itens seguintes, referentes às estruturas lingüísticas do texto.</p> <p><b>8</b> As palavras “singular” (l.1) e “dramática” (l.5) qualificam, respectivamente, os substantivos “decisão” (l.1) e “dimensão” (l.5).</p> <p><b>9</b> O trecho “pequena cidade a 534 km da cidade de São Paulo” (l.2-3) encontra-se entre vírgulas por exercer a função de aposto.</p> <p><b>10</b> A correção gramatical do texto seria mantida se, na linha 3, a palavra “bastante” fosse flexionada no plural, para concordar com o substantivo “critérios”.</p> <p><b>11</b> No trecho “para visitá-los semanalmente” (l.15), o pronome refere-se a “presos” (l.13).</p> <p><b>12</b> As orações subordinadas “que as penitenciárias somente acolham presos” (l.7), “que tomou” (l.9) e “que irá recorrer ao Tribunal de Justiça” (l.18) desempenham a função de complemento do verbo.</p> <p><b>13</b> Na linha 17, o emprego da conjunção “Contudo” estabelece uma relação de causa e efeito entre as orações.</p> |
|---|---|

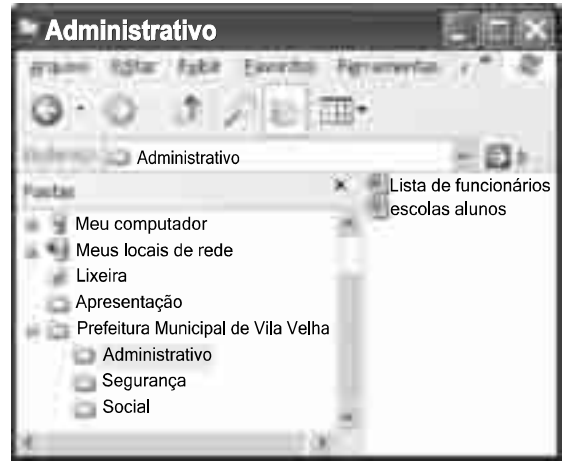
1 Falara com voz sincera, exaltando a beleza da  
paisagem e revelando que, se dependesse só dele, passaria o  
resto da vida ali, morreria na varanda, abraçado à visão do rio  
4 e da floresta. Era isso o que mais queria, se Alícia estivesse  
ao seu lado.

Agora, ao vê-lo assim, suado e nervoso, mudando de  
7 lugar o tempo todo e murmurando palavras que me  
escapavam, temia que me abordasse para conversar sobre o  
filho. Não parecia estar no iate, e sim em sua casa, em  
10 Manaus: sentado, pernas e pés juntos, tronco ereto, a cabeça  
oscilando, como se fizesse um não em câmera lenta.  
Despertava como quem leva um susto, ia lavar o rosto e  
13 retomava sua ronda, que me deixava mareado. Eu esperava  
o fim da tarde com ansiedade; mal escurecia, entrava no  
camarote para ler, mas ficava pensando nos dois: Mundo e  
16 seu pai. Quando não conseguia dormir, subia ao convés e via  
o vulto sentado na popa, o focinho de Fogo no colo; Jano não  
se voltava.






Milton Hatoum. *Cinzas do Norte*. São Paulo: Companhia da Letras, 2005, p. 86-7.

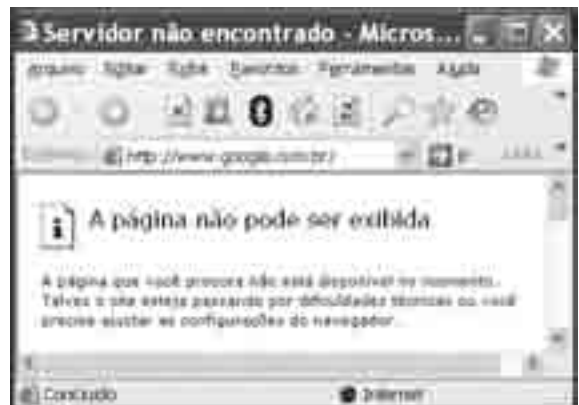
Considerando as idéias e a linguagem do texto acima, julgue os  
itens que se seguem.

- 14 As orações “se dependesse só dele” (l.2) e “se Alícia estivesse ao seu lado” (l.4-5) estabelecem circunstância de condição em relação às orações às quais se subordinam.
- 15 Na linha 3, o emprego da crase antes do substantivo “visão” é optativo, visto que o termo “abraçado” pode ser seguido por complemento direto ou indireto.
- 16 A correção gramatical do texto seria mantida se o pronome “que”, em “que me escapavam” (l.7-8), fosse substituído por **quê**.
- 17 Na linha 8, a forma verbal “temia” concorda com o sujeito de terceira pessoa do singular **ele**, que foi omitido pelo narrador.
- 18 A oração “como se fizesse um não em câmera lenta” (l.11) expressa uma comparação estabelecida pelo narrador.
- 19 A correção gramatical e o sentido do texto seriam mantidos se a preposição **a** fosse incluída após a forma verbal “esperava” (l.13), de forma a obter a seguinte oração: Eu esperava ao fim da tarde com ansiedade.
- 20 A correção gramatical do texto seria mantida se a vírgula empregada antes da conjunção “mas” (l.15) fosse omitida.





A figura acima mostra uma janela do Windows Explorer, executada em um computador cujo sistema operacional é o Windows XP. Com relação a essa figura, julgue os itens a seguir.

- 21 O item  escolas alunos é uma pasta com arquivos do Word.
- 22 A opção  Painel de controle, que não está mostrada na figura, tem, como funcionalidade principal, permitir controlar o tamanho máximo dos arquivos criados no Word.
- 23 A pasta  Administrativo é uma subpasta da pasta  Prefeitura Municipal de Vila Velha.
- 24 Ao se clicar a ferramenta , a lista de pastas será ocultada.






Considerando a figura acima, que mostra uma janela do navegador Internet Explorer 6 (IE6), julgue os itens que se seguem.

- 25 Para se iniciar o *download* da página [www.google.com.br](http://www.google.com.br), é suficiente clicar a ferramenta .
- 26 No endereço [www.google.com.br](http://www.google.com.br), o termo **.br** indica que o URL é de um sítio do governo brasileiro.
- 27 O acesso à Internet só é possível com a utilização do navegador Internet Explorer.
- 28 Ao se clicar a ferramenta , é iniciado um processo por meio do qual o sítio atual poderá ser acrescentado a uma lista de favoritos.
- 29 Utilizando-se o menu **Ferramentas**, é possível executar a janela Opções da Internet, que permite, entre outras operações, definir configurações de conexão com a Internet.





Considerando a figura acima, julgue os itens subsequentes, acerca do Excel 2003.

- 30 O total de ordens de serviços pode ser calculado utilizando-se a ferramenta Soma que é iniciada por meio do botão .
- 31 O sombreadimento dos títulos pode ser alterado utilizando-se a ferramenta .
- 32 A ferramenta  permite fazer a correção ortográfica da planilha mostrada na figura acima.



Com base na figura acima, julgue os itens que se seguem com relação ao Word 2003.

- 33 O título do texto pode ser formatado com borda utilizando-se a ferramenta .
- 34 O parágrafo selecionado está formatado com alinhamento justificado.
- 35 Considerando-se que a impressora padrão esteja configurada corretamente, para se imprimir o documento, é suficiente clicar a ferramenta .

Envelhecimento de consumidores e da força de trabalho, desastres ecológicos de conseqüências imprevisíveis, campanha de consumidores contra empresas que não respeitam o meio ambiente. Até pouco tempo atrás considerados de importância secundária, esses temas hoje já dividem espaço com questões tradicionais, como falta de energia, inflação e aspectos regulatórios na pauta dos mais sérios riscos para a perenidade de grandes corporações globais. É o que aponta recente estudo, que também relaciona alguns problemas que devem ganhar força em breve, como uma desaceleração na China, a briga por talentos e a incapacidade das empresas de inovar.

Gazeta Mercantil, 15/1/2008, capa (com adaptações).

Tendo o texto acima como referência inicial e considerando aspectos relevantes do atual panorama mundial, julgue os itens que se seguem.

- 36 Em seu conjunto, o texto menciona tópicos característicos do atual estágio da economia mundial, marcado pela expansão de suas atividades em escala cada vez mais planetária.
- 37 A globalização pressupõe a necessidade de domínio do conhecimento como forma de se assegurarem as constantes inovações tecnológicas, das quais tanto se nutre o sistema produtivo contemporâneo.
- 38 A questão ambiental, embora com peso crescente na agenda mundial e suscitando preocupação de autoridades e da sociedade, ainda não influi nos rumos do comércio internacional.
- 39 Vítima de séria crise energética em passado recente, popularmente chamada de apagão, o Brasil volta a se preocupar com a possibilidade de eventual escassez de energia motivada pela irregularidade das chuvas.
- 40 Surpreendentemente, o texto não menciona a insegurança gerada pela instabilidade da legislação reguladora da economia como potencial perigo para as grandes empresas transnacionais.
- 41 A China apresenta-se, na atualidade, como país emergente, ostentando um dos mais altos índices de crescimento econômico no mundo e presença crescentemente ampliada no volume de comércio global.
- 42 Infere-se do texto que uma eventual redução do nível de expansão da economia chinesa seria benéfica para as grandes corporações mundiais porque significaria menos concorrência para elas.
- 43 O texto sugere que a capacidade de reciclar-se e de inovar é condição imposta pela globalização para que as empresas não declinem ou desapareçam, tragadas pela extrema competitividade que hoje vigora na economia.
- 44 Ao mencionar as grandes corporações globais, o texto certamente se refere às empresas transnacionais, também conhecidas como multinacionais.
- 45 A Organização Mundial do Comércio (OMC) é o órgão multilateral que tem por finalidade elaborar as regras a serem seguidas no comércio internacional e zelar pela observância delas.

Considerando que, para melhorar seu desempenho comercial, uma empresa planeja gastar em infra-estrutura R\$ 315.000,00, em 3 parcelas, julgue os itens seguintes.

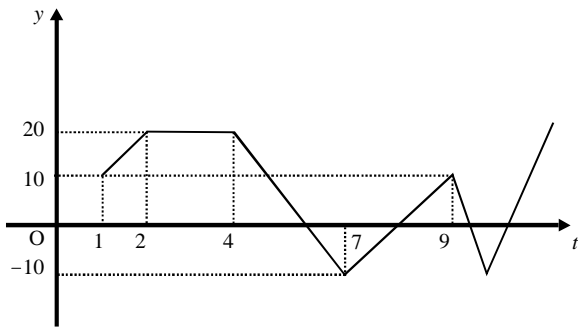
**46** Considere a seguinte situação hipotética.

A empresa gastou, em infra-estrutura, 40% do montante referido acima e aplicou o restante em uma instituição financeira, antes de realizar os outros gastos. Após 5 meses do início da aplicação, sem ter feito uma nova aplicação ou retirada, o saldo da empresa nessa aplicação era de R\$ 226.800,00. Nesse caso, se a instituição financeira opera no regime de juros simples, então a taxa mensal de juros pagos pela aplicação, no período mencionado, foi superior a 5%.

**47** Considerando-se que as parcelas a serem gastas estejam em progressão aritmética crescente e que a última parcela seja de R\$ 160.000,00, então a primeira parcela é inferior a R\$ 45.000,00.

**48** Caso as parcelas a serem gastas estejam em progressão geométrica crescente e a primeira parcela seja de R\$ 15.000,00, então a última parcela é superior a R\$ 230.000,00.

O lucro de uma empresa, em milhares de reais, é dado pela função  $L(t) = f(t) - c(t)$ , em que  $f(t)$  e  $c(t)$  representam, respectivamente, o faturamento e os custos da empresa, em milhares de reais, e  $t \geq 0$  é o tempo, em meses, contado a partir do início do funcionamento da empresa. O gráfico de  $y = L(t)$ , no sistema cartesiano  $yOt$ , é mostrado na figura a seguir.



Com base nas informações acima, julgue os itens subseqüentes.

**49** No período em que  $2 \leq t \leq 9$ , o faturamento da empresa foi igual aos seus custos em apenas 2 momentos.

**50** Se, para  $4 \leq t \leq 7$ , os custos da empresa foram constantes e iguais a 40 mil reais —  $c(t) = 40$  —, então o faturamento dessa empresa pode ser expresso por  $f(t) = -10t + 100$ .

**51** Suponha-se que, para  $2 \leq t \leq 4$ , o faturamento  $f(t)$  e os custos  $c(t)$  da empresa tenham sido constantes e diretamente proporcionais aos números 3 e 2, respectivamente. Nesse caso, é correto concluir que os custos dessa empresa foram inferiores a 35 mil reais.

Julgue os itens que se seguem.

- 52** Considere-se que Mauro tenha aplicado o montante de R\$ 10.000,00 em uma instituição financeira que paga juros compostos de 8% ao ano. Nessa situação, tomando-se 0,3 e 0,033 como valores aproximados para  $\log_{10}(2)$  e  $\log_{10}(1,08)$ , respectivamente, é correto afirmar que o tempo decorrido para que a aplicação realizada por Mauro alcance o montante de R\$ 20.000,00 é inferior a 8 anos.
- 53** Considere-se que uma aplicação de R\$ 10.000,00 tenha alcançado, após um ano, um montante de R\$ 11.550,00. Nesse caso, se a taxa de inflação no período foi de 10%, então a taxa real de juros dessa aplicação no período foi inferior a 6%.
- 54** O volume de  $0,5 \text{ dm}^3$  é igual a 50 mL.
- 55** A solução do sistema de equações a seguir satisfaz às desigualdades  $z > x > y$ .
- $$3x - y + z = 8$$
- $$x + y + z = 4$$
- $$2x + y - z = -8$$

Uma palavra sobre  $\Sigma = \{0, 1\}$  consiste nos próprios símbolos de  $\Sigma$  — 0 e 1 — e também de uma concatenação de qualquer dos símbolos de  $\Sigma$ , como, por exemplo, 00, 01, 000, 001, 1001 etc. Uma palavra tem comprimento  $N$  quando possui  $N$  símbolos. Define-se por  $\Sigma^N$  o conjunto de todas as palavras sobre  $\Sigma$  que têm comprimento  $N$ . Com base nessas informações, julgue os itens a seguir.

- 56** O conjunto  $\Sigma^4$  contém exatamente 16 palavras.
- 57** Se  $\Gamma = \{0, 2\}$ , então o conjunto  $\Gamma^3 \cap \Sigma^3$  contém um único elemento, a palavra 012.

Uma proposição é uma afirmação que pode ser julgada como verdadeira — V —, ou falsa — F —, mas não como ambas. Uma proposição é simples quando não contém nenhuma outra proposição como parte de si mesma e, quando a proposição é formada pela combinação de duas ou mais proposições simples, é denominada proposição composta. Uma proposição simples é, normalmente, representada simbolicamente por letras maiúsculas do alfabeto. As expressões  $A \rightarrow B$  e  $A \vee B$  representam proposições compostas, que são lidas, respectivamente, como “se A então B” e “A ou B”. A primeira proposição tem valor lógico F quando A é V e B é F, nos demais casos é V; a segunda tem valor lógico F quando A e B são F, nos demais casos é V. A expressão  $\neg A$  também representa uma proposição composta, lida como “não A”, e tem valor lógico V quando A é F, e tem valor lógico F quando A é V. Com base nessas definições, julgue os itens subseqüentes.

- 58** Considere que as proposições listadas abaixo sejam todas V.
- I Se Clara não é policial, então João não é analista de sistemas.
- II Se Lucas não é policial, então Elias é contador.
- III Clara é policial.
- Supondo que cada pessoa citada tenha somente uma profissão, então está correto concluir que a proposição “João é contador” é verdadeira.
- 59** As proposições  $A \rightarrow B$  e  $(\neg B) \rightarrow (\neg A)$  têm a mesma tabela verdade.
- 60** A proposição “Se a vítima não estava ferida ou a arma foi encontrada, então o criminoso errou o alvo” poderia ser corretamente simbolizada na forma  $(\neg A) \vee B \rightarrow C$ .

## CONHECIMENTOS ESPECÍFICOS

Acerca das curvas de indiferença, julgue os itens subseqüentes.

- 61 Elas descrevem graficamente as preferências do consumidor.
- 62 Algumas cestas de consumo não podem ser representadas por curvas de indiferença.
- 63 As curvas de indiferença não distinguem as cestas de consumo melhores das piores.
- 64 Dois bens substitutos perfeitos têm curvas de indiferença representadas por linhas retas com inclinação constante.
- 65 Dois bens complementares perfeitos têm curvas de indiferença em formato de L.
- 66 As curvas de indiferença associadas a um consumidor que gosta de um bem mas é neutro em relação a outro apresentam linhas perpendiculares ao bem que ele é neutro.
- 67 As curvas de indiferença associadas a um consumidor que gosta de um bem mas não gosta de outro são negativamente inclinadas.

Julgue os itens a seguir que versam acerca das curvas de procura.

- 68 Funções de demanda do consumidor representam as quantidades ótimas de cada um dos bens como função dos preços e da renda deste mesmo consumidor.
- 69 Aumento da renda do consumidor desloca a curva de procura para a direita.
- 70 Quando a renda do consumidor aumenta, a procura por um bem de *Giffen* cai. Já quando o preço do bem *inferior* cai, a sua procura também cai.
- 71 Curvas de procura verticais indicam que há inelasticidade da procura. Já curvas de procura horizontais indicam que há elasticidade infinita da procura.
- 72 Curva de demanda linear possui elasticidade zero, no intercepto vertical da curva, e elasticidade infinita, no intercepto horizontal.

Considere uma firma em que os seus custos dependam somente dos seus níveis de produção. Acerca das curvas de custos de produção desta firma no curto prazo, julgue os itens subseqüentes.

- 73 A curva de custo médio começará por cair devido aos custos fixos decrescentes.
- 74 O custo marginal e o custo variável são os mesmos na primeira unidade de produção.
- 75 O custo fixo médio permanece constante quando a produção aumenta.
- 76 Na região da curva onde os custos variáveis médios estão aumentando, os custos marginais são superiores aos custos médios.

Julgue os itens seguintes acerca das estruturas de mercado.

- 77 Um empresário tanto em um mercado monopolista quanto em um mercado de concorrência perfeita maximizará seu lucro onde seu custo marginal iguala sua receita marginal.
- 78 Em concorrência perfeita, o lucro do empresário será zero no curto prazo.
- 79 A ineficiência paretiana de monopólio deve-se ao fato dos preços serem maiores do que em concorrência perfeita.
- 80 Em um monopólio natural, o regulador não pode igualar o preço ao custo marginal sob pena de levar o monopolista ao lucro negativo na prática de tal preço regulado.
- 81 Oligopólios se comportam estrategicamente no mercado de maneira ilícita e devem ser controlados por agentes reguladores de mercado.

Julgue os itens subseqüentes, que versam acerca das teorias macroeconômicas e contas nacionais.

- 82 O modelo keynesiano considera o investimento como dado pela economia, já o modelo IS-LM considera o investimento como função da taxa de juros.
- 83 Normalmente em países desenvolvidos o produto nacional bruto (PNB) é maior que o produto interno bruto (PIB).
- 84 O saldo da conta renda nacional disponível líquida é a poupança interna do país.
- 85 Pelo sistema de contas nacionais, a fonte de financiamento da formação de capital é o saldo da conta renda nacional disponível líquida.

Acerca dos planos econômicos de desenvolvimento no período pós-guerra, julgue os próximos itens.

- 86 O Plano de Metas (1956-1960) do governo JK é considerado um caso bem-sucedido de formulação e implementação de planejamento através de amplos projetos de infra-estrutura e forte controle inflacionário.
- 87 O Plano PAEG (1964-1967) foi uma coordenação de medidas para estabilização inflacionária e de fortes mudanças institucionais.
- 88 No período do milagre econômico brasileiro (1968-1973), houve grande crescimento do comércio mundial e dos fluxos financeiros internacionais e teve como uma das conseqüências a melhora de todo o quadro social no país.
- 89 O II PND (1975-1979), implantado pelo governo Geisel, tinha como um dos objetivos eliminar os estrangulamentos estruturais da economia através de um forte programa de privatizações.
- 90 A crise da dívida externa brasileira (1979-1982) não afetou o setor interno brasileiro, que estava controlado pelo sucesso dos planos anteriores.
- 91 O Plano Cruzado, adotado pelo governo Sarney em 1986, levou a um aumento do poder de compra dos salários e à conseqüente pressão sobre os níveis de consumo da economia.
- 92 Os Planos Collor I e Collor II implicaram retração da atividade econômica como resultado direto das medidas fiscais e monetárias adotadas.

Julgue os itens a seguir, que versam acerca da economia internacional.

- 93** Um aumento de tarifas aumenta a produção nacional e, conseqüentemente, aumenta o consumo do produto protegido.
- 94** A distorção nos preços causada por subsídios do governo para os produtores nacionais é maior do que se esse governo utilizasse tarifas.
- 95** A vantagem de quotas sobre tarifas é que a primeira não causa aumento dos preços como a segunda.
- 96** O Fundo Monetário Internacional (FMI) pode colocar recursos financeiros à disposição dos países-membros. Tais recursos são oriundos de doações dos bancos centrais das grandes economias mundiais.
- 97** Países pertencentes a um mercado comum possuem livre comércio entre eles, livre movimento dos fatores de produção e política comercial uniforme em relação a países não-membros.

Em uma economia, podem-se classificar os bens em públicos, privados, comuns e monopólios naturais, conforme os princípios da rivalidade e exclusão. Acerca desse tema, julgue os itens que se seguem.

- 98** Os bens públicos são não-rivais e exclusivos, pois só o Estado pode provê-los.
- 99** Os bens comuns são não-excluíveis, porém rivais.
- 100** Uma rodovia congestionada e com pedágio é exemplo de bem privado rival e excluível.

O desequilíbrio orçamentário decorrente de um processo inflacionário superior ao estimado na elaboração do orçamento, era constante. Determinei, em junho de 1993, um corte de US\$ 6 bilhões das despesas numa reprogramação do orçamento de comum acordo com o Congresso. Da mesma forma, a privatização, observem bem, de estatais que não justificavam sua permanência na gestão governamental. Com os recursos captados reequipei a Polícia Federal, a Polícia Rodoviária Federal, além de injetar recursos na Saúde e Educação, Ciência e Tecnologia. Levando-se em conta o curto período de mandato, de dois anos e poucos meses, teríamos que priorizar setores.

Itamar Franco. *Entre a Crise e o Real. In: O Estado de São Paulo*. Publicado: 28/1/2008 (com adaptações).

Tendo o texto acima como referência, julgue os itens seguintes, acerca da economia do setor público.

- 101** O *deficit* público primário é igual ao *deficit* total ou nominal excluídas as correções monetária e cambial e os juros reais da dívida contraída anteriormente.
- 102** As necessidades de financiamento do setor público (NFSP) — conceito operacional — são iguais ao *deficit* público primário excluídas as correções monetária e cambial.
- 103** Um governo que se defronta com uma situação de *deficit* poderia financiá-lo através da monetização da dívida, que é a emissão monetária pelo banco central.
- 104** As parcerias público-privadas (PPP) já poderiam ser implementadas desde o governo Itamar devido às condições econômicas atingidas naquela época.
- 105** As privatizações iniciadas nos anos 90 através do Plano Nacional de Desestatização (PND) caracterizam mais uma necessidade de cortes nos gastos do governo do que uma redução do tamanho do estado, desregulamentação da economia e abertura comercial.

Julgue os itens subsequentes a respeito do desenvolvimento econômico e social.

- 106** O Índice de Desenvolvimento Humano (IDH) é um indicador mais amplo que o indicador de renda *per capita* de um país, pois engloba também indicadores de longevidade e de níveis educacionais.
- 107** É de se esperar que o IDH e a renda *per capita* sejam positivamente correlacionados.
- 108** Observa-se nos últimos anos um envelhecimento da população brasileira, bem como uma redução das taxas de natalidade. Com isso, políticas públicas direcionadas para modernização e melhoria da qualidade do ensino seriam mais eficazes do que políticas públicas voltadas para ampliação de vagas.
- 109** O aumento da esperança de vida do brasileiro é benéfico para o combate ao *deficit* da previdência social.
- 110** Com privatizações e concessões de serviços públicos faz-se necessária a presença de agências reguladoras em todos os setores da economia.

Acerca da Lei Complementar n.º 101/2000 — Lei de Responsabilidade na Gestão Fiscal —, julgue os itens a seguir.

- 111** Despesas de capital são as realizadas sob a forma de empréstimo ou financiamento a contribuinte, com o intuito de promover incentivo fiscal, tendo por base tributo de competência do ente da Federação.
- 112** É classificada como empresa estatal dependente a empresa controlada que receba do ente controlador recursos financeiros para pagamento de despesas com pessoal que não sejam caracterizados como provenientes de aumento de participação acionária.
- 113** Ao conceder crédito a pessoa física, o ente da Federação pode isentar o pagamento de encargos financeiros, comissões e despesas congêneres.
- 114** Será considerado nulo de pleno direito o ato que provoque aumento da despesa com pessoal e que não atenda o limite fixado para aplicação de recursos para pagamento de pessoal inativo.
- 115** É permitida a realização de operação de crédito entre um ente da Federação, por intermédio de fundo, autarquia, fundação ou empresa estatal dependente, e outro, exceto suas entidades da administração indireta, ainda que sob a forma de novação, refinanciamento ou postergação de dívida contraída anteriormente.

Acerca da Lei Federal n.º 4.320/1964, julgue os itens subsequentes.

- 116** As receitas de capital podem ser provenientes da realização de recursos financeiros oriundos de constituição de dívidas ou da conversão, em espécie, de bens e direitos.
- 117** As dotações destinadas a cobrir a diferença entre os preços de mercado e os preços de revenda, pelo governo, de gêneros alimentícios não serão caracterizadas como subvenções econômicas.
- 118** Os créditos suplementares são aqueles destinados a despesas para as quais não exista dotação orçamentária específica.
- 119** Os empenhos não liquidados com vigência plurienal só serão classificados como restos a pagar no último ano de vigência do crédito.
- 120** Poderão compor a prestação de contas da União os demonstrativos do Tesouro Nacional e das agências financeiras oficiais de fomento, incluído o Banco Nacional de Desenvolvimento Econômico e Social (BNDES).