



ESTADO DO CEARÁ / PODER JUDICIÁRIO

TRIBUNAL DE JUSTIÇA DO ESTADO DO CEARÁ (TJCE)

CONCURSO PÚBLICO

CARGO **5**: ANALISTA JUDICIÁRIO

ÁREA: Técnico-Administrativa

ESPECIALIDADE: Economia

Aplicação: 12/10/2008

MANHÃ

Caderno G

LEIA COM ATENÇÃO AS INSTRUÇÕES ABAIXO.

- 1 Confira atentamente se o tipo deste caderno — Caderno G — coincide com o que está registrado em sua folha de respostas e em cada página numerada deste caderno de provas. Em seguida, verifique se ele contém cento e vinte itens, correspondentes às provas objetivas, corretamente ordenados de 1 a 120, e a prova de redação, acompanhada de espaço para rascunho.
- 2 Quando autorizado pelo chefe de sala, no momento da identificação, escreva, no espaço apropriado da **folha de respostas**, com a sua caligrafia usual, a seguinte frase:

A verdadeira alegria, crê-me, é coisa muito séria.

- 3 Caso o caderno esteja incompleto ou tenha qualquer defeito, ou haja divergência quanto ao tipo de caderno, solicite ao fiscal de sala mais próximo que tome as providências cabíveis, pois não serão aceitas reclamações posteriores.
- 4 Não serão distribuídas folhas suplementares para rascunho nem para texto definitivo.
- 5 Não utilize lápis, lapiseira (grafite), borracha e(ou) qualquer material de consulta que não seja fornecido pelo CESPE/UnB.
- 6 Não se comunique com outros candidatos nem se levante sem autorização do chefe de sala.
- 7 Nas provas objetivas, recomenda-se não marcar ao acaso: cada item cuja resposta divirja do gabarito oficial definitivo receberá pontuação negativa, conforme consta em edital.
- 8 A duração das provas é de **quatro horas e trinta minutos**, já incluído o tempo destinado à identificação — que será feita no decorrer das provas —, ao preenchimento da folha de respostas e à transcrição do texto definitivo da prova de redação para a folha de texto definitivo.
- 9 Você deverá permanecer obrigatoriamente em sala por, no mínimo, **uma hora** após o início das provas e poderá levar este caderno de provas somente no decurso dos últimos **quinze minutos** anteriores ao horário determinado para o término das provas.
- 10 Ao terminar as provas, chame o fiscal de sala mais próximo, devolva-lhe a sua folha de respostas e a sua folha de texto definitivo da prova de redação e deixe o local de provas.
- 11 A desobediência a qualquer uma das determinações constantes no presente caderno, na folha de respostas ou na folha de texto definitivo da prova de redação poderá implicar a anulação das suas provas.

AGENDA (datas prováveis)

- I 14/10/2008, após as 19 h (horário de Brasília) – Gabaritos oficiais preliminares das provas objetivas: Internet — www.cespe.unb.br.
- II 15 e 16/10/2008 – Recursos (provas objetivas): exclusivamente no Sistema Eletrônico de Interposição de Recurso, Internet, mediante instruções e formulários que estarão disponíveis nesse sistema.
- III 7/11/2008 – Resultado final das provas objetivas e resultado provisório da prova de redação: Diário da Justiça do Estado do Ceará (DJCE) e Internet.
- IV 8 e 9/11/2008 – Recursos (prova de redação): exclusivamente no Sistema Eletrônico de Interposição de Recurso, Internet, mediante instruções e formulários que estarão disponíveis nesse sistema.
- V 2/12/2008 – Resultado final da prova de redação e convocação para a avaliação de títulos: DJCE e Internet.
- VI 4 e 5/12/2008 – Entrega da documentação para a avaliação de títulos, em locais e horários a serem divulgados na respectiva convocação.

OBSERVAÇÕES

- Não serão objeto de conhecimento recursos em desacordo com o item 13 do Edital n.º 1 – TJCE, de 31/7/2008.
- Informações adicionais: telefone 0(XX) 61 3448-0100; Internet – www.cespe.unb.br.
- É permitida a reprodução deste material apenas para fins didáticos, desde que citada a fonte.

- De acordo com o comando a que cada um dos itens de **1 a 120** se refira, marque, na **folha de respostas**, para cada item: o campo designado com o código **C**, caso julgue o item **CERTO**; ou o campo designado com o código **E**, caso julgue o item **ERRADO**. A ausência de marcação ou a marcação de ambos os campos não serão apenadas, ou seja, não receberão pontuação negativa. Para as devidas marcações, use a **folha de respostas**, único documento válido para a correção das suas provas.
- Nos itens que avaliam **Noções de Informática**, a menos que seja explicitamente informado o contrário, considere que: todos os programas mencionados estão em configuração-padrão, em português; o *mouse* está configurado para pessoas destros; expressões como **clique**, **clique simples** e **clique duplo** referem-se a cliques com o botão esquerdo do *mouse*; **teclar** corresponde à operação de pressionar uma tecla e, rapidamente, liberá-la, acionando-a apenas uma vez. Considere também que não há restrições de proteção, de funcionamento e de uso em relação aos programas, arquivos, diretórios, recursos e equipamentos mencionados.
- Sempre que utilizadas, as siglas subseqüentes devem ser interpretadas com a significação associada a cada uma delas, da seguinte forma: EUA = Estados Unidos da América; MP = Ministério Público; OAB = Ordem dos Advogados do Brasil; TJCE = Tribunal de Justiça do Estado do Ceará.

CONHECIMENTOS BÁSICOS

1 Tudo parece ter começado a mudar nos últimos anos
 e as revisões profundas por que estão passando os discursos
 e as práticas identitárias deixam no ar a dúvida sobre se a
 4 concepção hegemônica da modernidade se equivocou na
 identificação das tendências dos processos sociais, ou se tais
 7 tendências se inverteram totalmente em tempos recentes, ou,
 ainda, sobre se se está perante uma inversão de tendências
 ou, antes, perante cruzamentos múltiplos de tendências
 opostas sem que seja possível identificar os vetores mais
 10 potentes. Como se calcula, as dúvidas são acima de tudo
 sobre se o que presenciamos é realmente novo ou se é apenas
 novo o olhar com que o presenciamos. Estamos em uma
 13 época em que é muito difícil ser-se linear. Porque estamos
 em uma fase de revisão radical do paradigma epistemológico
 da ciência moderna, é bem possível que seja sobretudo o
 16 olhar que esteja mudando. Mas, por outro lado, não parece
 crível que essa mudança tivesse ocorrido sem nada ter
 mudado no objeto do olhar que o olha.

Boaventura Souza Santos. **Modernidade, identidade e a cultura de fronteira**. Tempo Social, USP, 1993, p. 39 (com adaptações).

Acerca das idéias do texto acima e de suas estruturas lingüísticas, julgue os itens de **1 a 9**.

- 1 A retirada da expressão “ter começado a” (l.1) preservaria a correção gramatical e a coerência da argumentação do texto, mas a idéia de que o processo de mudança se estende do passado ao presente seria perdida.
- 2 Na linha 2, o uso da preposição “por” antes do pronome relativo deve-se à regência da forma verbal “passando”, que está empregada no texto com a acepção de **vivenciando**.
- 3 A preposição “sobre” (l.3), que introduz os complementos da palavra “dúvida” (l.3), está subentendida imediatamente antes da primeira ocorrência de “se” (l.5).
- 4 Na linha 8, a preposição “perante”, no contexto em que ocorre, contribui para que a “inversão de tendências” (l.7) seja interpretada como um processo ainda em curso.
- 5 O desenvolvimento das idéias do texto permite inserir, na linha 10, sem prejudicar sua correção gramatical, uma vírgula logo após “são” e outra logo após “tudo”, demarcando-se a expressão “acima de tudo”.
- 6 No período “Estamos em uma época em que é muito difícil ser-se linear” (l.12-13), a expressão “em uma época” tem a função de localizar no tempo a afirmação de “ser-se linear”. Por isso, a preposição “em” logo após “época”, que tem igual função, poderia ser eliminada sem que houvesse prejuízo para a coerência e a correção gramatical do texto.
- 7 Mantendo-se a relação de sentidos originalmente estabelecida entre os três períodos finais do texto, pode-se suprimir o ponto antes de “Porque” (l.13), desde que esta palavra seja reescrita com inicial minúscula.

- 8 Segundo o texto, enquanto houver a confusão e a indefinição do “paradigma epistemológico da ciência moderna” (l.14-15), as práticas identitárias estarão baseadas em dúvidas.
- 9 No desenvolvimento das idéias do texto, a expressão “essa mudança” (l.17) retoma a idéia de “o olhar que esteja mudando” (l.15-16).

1 Em primeiro lugar, é preciso definir o que vem a ser
 4 igualdade social. Esse conceito pressupõe que todos sejam
 forçados a viver em casas idênticas, ganhar os mesmos
 4 salários, comer as mesmas comidas e acreditar nos mesmos
 valores? Essa abordagem já foi tentada e os resultados foram
 e são desastrosos, para não dizer trágicos. Como os
 7 fundadores dos EUA sabiam muito bem, é impossível para
 um governo arcar com a missão de assegurar igualdade para
 todos os cidadãos. As pessoas não nascem iguais. Elas
 10 possuem habilidades e talentos próprios. O principal papel
 de um governo não é ir contra essa realidade e forçar algo
 que não existe nem existirá. O bom governo é aquele que
 13 oferece oportunidades iguais para todos buscarem a própria
 felicidade.

Veja, 3/9/2008, p.17-20 (com adaptações).

Com base na organização do texto acima, julgue os itens subseqüentes.

- 10 Na linha 1, a forma verbal “vem” está no singular porque concorda com o pronome demonstrativo “o”.
- 11 Preservam-se a coerência textual e a correção gramatical ao se escrever, em lugar da oração desenvolvida “que todos sejam forçados” (l.2-3), a reduzida equivalente **serem todos forçados**.
- 12 O desenvolvimento da argumentação permite a inserção da preposição **a** imediatamente antes de “ganhar” (l.3), de “comer” (l.4) e de “acreditar” (l.4), sem se prejudicar a correção gramatical do texto.
- 13 A retirada da expressão “e são” (l.6) preserva a coerência da argumentação, mas omite do texto a explicitação de que “os resultados” (l.5) continuam desastrosos.
- 14 Na linha 7, se o termo “dos EUA” fosse substituído por um termo no singular, como, por exemplo, **do meu país**, a flexão de plural em “sabiam” deveria também ser alterada para o singular, para que fosse mantida a correção gramatical do texto.
- 15 O desenvolvimento das idéias no texto permite a inserção, nas linhas 9 e 10, de conectivo de valor explicativo entre as orações, da seguinte forma: iguais, pois elas possuem.
- 16 Seriam mantidas a correção gramatical e a coerência de sentidos ao se substituir “essa realidade” (l.11) por **a realidade**.



ESTADO DO CEARÁ
PODER JUDICIÁRIO
TRIBUNAL DE JUSTIÇA

CARTA-CONVITE N.º 13/2008
DO PRESIDENTE DA COMISSÃO PERMANENTE DE LICITAÇÃO
À (AO)

1. Pela presente, convidamos V.S.^a para apresentar proposta para **Contratação de serviços de decoração e arranjos florais** a fim de atender às necessidades do Poder Judiciário do Estado do Ceará, observando-se o disposto nos ANEXOS 1 – Projeto de decoração, e II – Minuta de contrato.

2. (...)

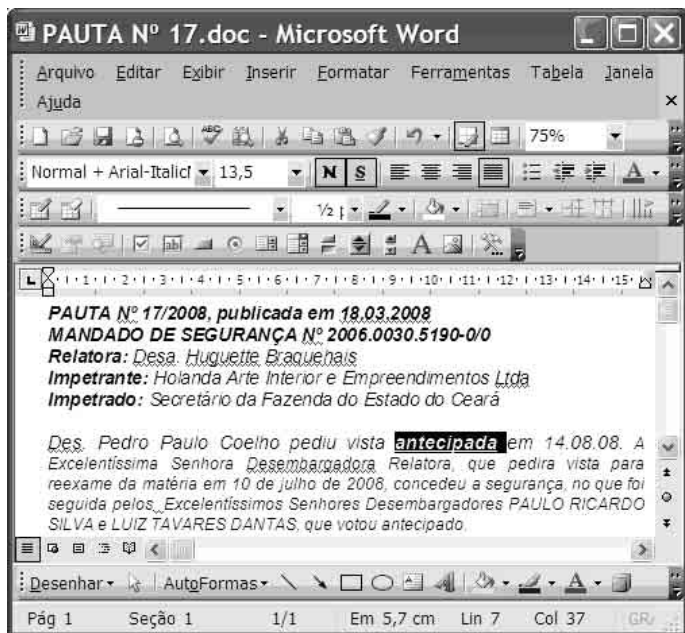
Fortaleza – CE, 3 de junho de 2008

Fulano de Tal
Presidente da Comissão Permanente de Licitação



Internet: <www.tjce.jus.br> (com adaptações).

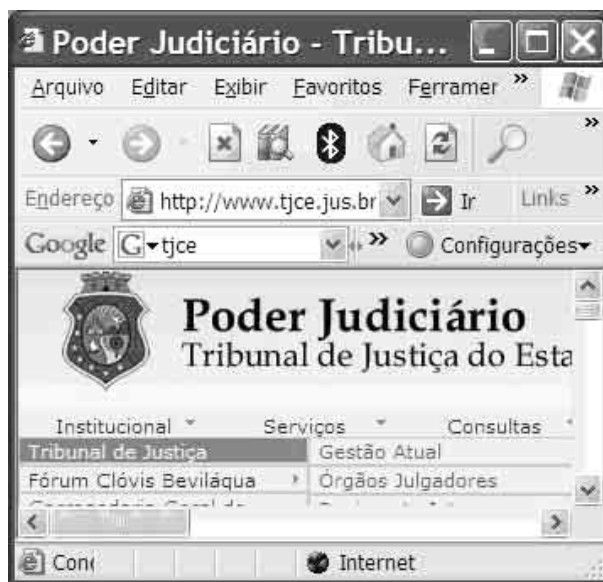
Considerando as normas de redação de documentos oficiais, julgue os seguintes itens, a respeito do fragmento de texto acima.

- 17 O timbre colocado acima do documento identifica o órgão público emissor da carta-convite; por isso, não é necessário o código TJCE completando o número do documento, como seria necessário caso não houvesse o timbre.
- 18 Considerando que, no corpo do documento, o destinatário recebe tratamento de “V.S.”, o sobrescrito do envelope que contiver esse documento deverá apresentar o tratamento **Excelentíssimo Senhor**.
- 19 Seria preservado o respeito às exigências de formalidade e de correção gramatical dos documentos oficiais ao se redigir a parte final do primeiro item do documento em questão da seguinte forma: observando-se o disposto no Projeto de decoração e na Minuta de contrato, em anexo.
- 20 Como se vê no texto, por ser documento objeto de publicação, a carta-convite é datada ao final, depois do texto informativo, antes da identificação do emissor, de modo semelhante ao ofício e ao memorando.




Considerando a figura acima, que mostra uma janela do MS Word com um documento em processo de edição em um microcomputador com o sistema operacional Windows XP, julgue os itens de 21 a 25, acerca do Word 2003.

- 21 A palavra **antecipada** está formatada com negrito, sublinhado e tamanho 13,5, e o parágrafo no qual ela se encontra está justificado.
- 22 Ao se pressionar o botão , abre-se uma janela na qual é possível definir a medida das margens da página.
- 23 Ao se salvar o documento na pasta Meus documentos, o sistema operacional Windows XP cria um *backup* que, automaticamente, protege as informações do ataque de vírus.
- 24 Ao se clicar o botão , uma planilha do Excel será inserida ao final do texto.
- 25 Caso o computador tenha recursos para isso, o arquivo pode ser salvo em *pendrive*, que, normalmente, possui capacidade de armazenamento maior que a do disquete de 3½".



Considerando a figura acima, que mostra uma janela do Internet Explorer 6 (IE6), julgue os itens a seguir.

- 26 O IE6 permite definir diversas características de navegação por intermédio das Opções da Internet, acessadas por meio do *menu* Ferramentas.
- 27 A ferramenta acessada por meio do botão  permite pesquisar sinônimos de palavras.
- 28 Para se acessar a Internet, é necessária a instalação de uma placa de rede de banda larga.
- 29 Ao se executar a instalação-padrão do Windows XP, o IE6 é instalado automaticamente.
- 30 Para se copiar um texto de página da Internet para um documento do Word, o seguinte procedimento pode ser adotado: selecionar o texto; clicar a opção Copiar do *menu* **Exibir**; abrir o documento do Word e clicar a opção Colar do *menu* **Exibir**.

O aprofundamento da crise nos EUA não pára de fazer sombra na economia chinesa, mostrando que os dois países estão mais ligados nos efeitos do desaquecimento global do que se imaginava. Notícias da China deixam preocupados os analistas asiáticos, que já consideram a hipótese de a quarta maior economia do mundo estar desacelerando mais do que o desejável.

O Globo, 13/9/2008, p. 33 (com adaptações).

Tendo o texto acima como referência inicial e considerando aspectos marcantes do cenário econômico mundial contemporâneo, julgue os itens subseqüentes.

- 31 O caráter global da economia contemporânea sugere que uma crise aguda, surgida em determinado local, tenda a se disseminar e seus efeitos sejam sentidos, com maior ou menor intensidade, em várias partes do planeta.
- 32 Nos dias atuais, a globalização elimina protecionismos ao exigir a mais ampla liberdade para a circulação de mercadorias pelos mercados mundiais crescentemente ampliados.
- 33 Considerado um dos principais países emergentes, a China tem demonstrado extrema vitalidade econômica, com índices anuais de crescimento superiores a 10% e presença cada vez mais vigorosa no comércio mundial.
- 34 Infere-se do texto que os efeitos negativos da atual crise econômico-financeira norte-americana concentram-se na China, o que permite que outras áreas, como o Japão e a zona européia do euro, fiquem praticamente imunes a eles.
- 35 A crise que envolve os EUA na atualidade teve sua origem mais explícita no sistema de financiamento imobiliário praticado no país e nos altos índices de inadimplência, que atingiram frontalmente poderosas instituições financeiras.
- 36 Em clara sintonia com o ideário liberal, que preconiza a mais absoluta liberdade para o mercado, o governo norte-americano recusou-se a tomar medidas que pudessem salvar instituições privadas, no que foi imitado pelos mais ricos países capitalistas.
- 37 A expressão “desaquecimento global”, tal como apresentada no texto, deve ser entendida como melhoria das condições ambientais graças à atual redução das temperaturas médias do planeta.
- 38 Ao abandonar o modelo econômico socialista e se tornar plenamente capitalista, a China abriu sua economia à iniciativa privada, nacional e estrangeira, dela afastando toda e qualquer ingerência estatal.
- 39 Diferentemente do que ocorre na economia, em termos políticos a China mantém-se fechada e não dá sinais de que pretenda abrandar o regime.
- 40 Brasil e Índia são dois países considerados emergentes, que se esforçam por ocupar espaços em um mercado mundial extremamente competitivo.

Julgue os itens seguintes, relativos ao Código de Divisão e Organização Judiciária do Estado do Ceará – Lei n.º 12.342/1994.

- 41 Considere a seguinte situação hipotética.
O prefeito de um município do Ceará reuniu-se com o presidente do TJCE para tentar viabilizar a implantação de uma comarca em sua cidade em razão da crescente quantidade de demandas judiciais reprimidas. O município tem uma população de 5.000 habitantes e 800 eleitores inscritos.
Nessa situação, o presidente do TJCE, ainda que acolha os fundamentos do prefeito, não poderá implantar a comarca, pois o município não atende aos requisitos essenciais estabelecidos em lei para tal implantação.
- 42 Considere a seguinte situação hipotética.
Cláudio, que é bacharel em ciências sociais, foi convidado por juiz titular de vara cível da comarca de Fortaleza para exercer o cargo em comissão de diretor de secretaria da vara.
Nessa situação, Cláudio não poderá ocupar o cargo, pois este só pode ser ocupado por bacharéis em direito.
- 43 As seções especializadas do serviço de distribuição do foro judicial da justiça de primeiro grau da comarca de Fortaleza devem verificar, na distribuição dos processos, a existência de prevenção e dependência. Em seguida, devem encaminhar os autos à seccional da OAB para identificação de impedimento ou suspeição dos advogados.
- 44 Um analista judiciário lotado em vara cível na comarca de Fortaleza deve exercer atividades judiciárias complexas em assistência aos magistrados, como a conciliação em audiências e a oitiva de testemunhas, de maneira a racionalizar os serviços das varas.
- 45 O titular do cargo de meirinho, que é privativo de bacharel em direito, exerce atividades judiciárias de nível técnico, como a realização de pregões de aberturas, chamadas das partes e advogados, e elaboração de minutas de sentenças para os juízes.
- 46 Considere a seguinte situação hipotética.
Um analista judiciário de comarca do estado do Ceará, 15 dias após completar um ano de exercício, pediu licença para tratar de interesse particular. O pedido foi deferido, sendo a licença concedida por um período de três anos e remunerada com a metade do salário que o analista recebia na atividade.
Nessa situação, o pedido deferido é irregular, pois tal licença só poderia ser concedida após dois anos de exercício e sem vencimentos.
- 47 Considere a seguinte situação hipotética.
Lucas, técnico judiciário do estado do Ceará, decidiu mudar com sua família da cidade onde reside. Formulou pedido de remoção para outra comarca do mesmo estado ao presidente do TJCE, fundamentando-o com a alegação de grave doença de sua esposa, que necessitava de sessões de quimioterapia e acompanhamento semanal de equipe médica especializada.
Nessa situação, caso seja provada a referida alegação, Lucas deve ter seu pedido deferido, independentemente de vaga e do interesse da administração.
- 48 Vício em jogo proibido ou embriaguez habitual caracterizados podem acarretar a demissão a bem do serviço público.
- 49 Considere a seguinte situação hipotética.
Osvaldo respondeu a inquérito administrativo em razão de insubordinação em serviço. Ao final do inquérito, seu superior hierárquico aplicou-lhe sanção disciplinar de suspensão.
Nessa situação, a pena imposta não deverá constar nos assentamentos individuais de Osvaldo.
- 50 Caso um pai queira registrar seu testamento deixando uma fazenda e dois lotes para seu filho, ele deverá fazê-lo perante o oficial de registro de distribuição de protestos.

CONHECIMENTOS ESPECÍFICOS

A microeconomia estuda o comportamento individual dos agentes econômicos e, por isso, constitui um sólido fundamento à análise dos agregados econômicos. A esse respeito, julgue os itens a seguir.

- 51** A preocupação crescente com o meio ambiente tem conduzido ao uso de energias cada vez mais limpas e à redução da demanda de petróleo, o que provoca um deslocamento ao longo da curva de demanda por esse combustível.
- 52** O fato de turistas, em viagens de longa distância, preferirem o transporte aéreo é consistente com a existência de curvas de indiferença, em forma de linhas retas paralelas, entre passagens aéreas e diárias de hotel.
- 53** O comportamento de um consumidor que escolhe um produto e, ao ser informado sobre o preço, desiste de comprá-lo indica que a taxa marginal de substituição entre as demais mercadorias e esse produto é inferior ao preço relativo entre esses bens.
- 54** Aumentos substanciais do preço dos restaurantes elevam o gasto das famílias com esse item do orçamento.
- 55** A afirmação segundo a qual é muito elevado o efeito substituição entre diferentes marcas de sal de cozinha, o que torna perfeitamente elástica a demanda por determinada marca, é coerente com o fato de, nos textos básicos de economia, o sal ser considerado exemplo típico de bem inelástico.
- 56** Uma campanha publicitária destinada a promover um novo produto desenvolvido por uma empresa constitui um fator fixo para essa empresa.
- 57** Em funções de produção caracterizadas pela presença de rendimentos constantes de escala à produtividade marginal dos fatores de produção é superior à produtividade média.
- 58** À medida que o tamanho de uma empresa aumenta, problemas de coordenação e de comunicação dificultam e encarecem a organização da produção, o que gera deseconomias de escala, que induzem a empresa a limitar o seu tamanho.
- 59** Quando a função de produção exibe rendimentos decrescentes no insumo variável, as curvas de custo médio variáveis são negativamente inclinadas, o que indica que a expansão da produção se realiza a custos menores.
- 60** Em presença de economias externas de escala, a curva de oferta de longo prazo de uma empresa competitiva é positivamente inclinada.
- 61** Empresas monopolistas que maximizam lucros, além de fixarem o maior preço possível para seus produtos, fixam seu nível ótimo de produção na parte inelástica da curva de demanda de mercado.

62 Uma das características do modelo de concorrência monopolista é o fato de as empresas usarem a propaganda e a promoção de vendas para diferenciarem seus produtos e aumentarem o poder de mercado de suas marcas.

63 O pressuposto do modelo E-C-D é considerar que, em um mercado em que as empresas determinem o preço de seus produtos, as margens de lucro serão tanto maiores quanto mais independentes forem as condutas das empresas estabelecidas, o que conflita com a existência de cartelização nesse mercado.

64 A obtenção de vantagens competitivas mediante a reorientação da cadeia de custo-produção inclui a desverticalização das empresas, a especialização em nicho específico do mercado e a ampliação da rede de distribuidores indiretos.

65 A especialização em um segmento que não se revele promissor ao longo do tempo constitui um dos riscos associados ao uso da estratégia de enfoque como fonte de vantagem competitiva.

A teoria macroeconômica analisa a mensuração e o comportamento dos grandes agregados econômicos. Acerca desse assunto, julgue os itens subseqüentes.

66 A recente queda dos preços das ações, sumariada pela expressiva redução do índice IBOVESPA e já considerada a mais importante crise do mercado acionário desde 2002, reduziu o valor dos investimentos financeiros e, portanto, conduziu à contração tanto do produto interno bruto como da renda interna da economia brasileira.

67 No Brasil, os crescentes *superavits* apresentados no balanço comercial a partir de 1998 devem-se à expansão das exportações.

68 No Brasil, o agregado monetário M2, além de incluir os depósitos especiais remunerados e os títulos públicos, abrange títulos emitidos por instituições financeiras.

69 Se, no âmbito do PAC, os gastos públicos com infraestrutura forem financiados por meio da expansão da oferta de moeda, então a curva IS se deslocará para a direita, porém a curva LM permanecerá inalterada, o que conduzirá a aumentos das taxas de juros.

70 Reduções nas alíquotas do imposto de renda progressivo destinadas a expandir a demanda agregada constituem exemplo de estabilizador automático da economia, cuja função é atenuar os ciclos econômicos.

71 O fato de uma alta nos preços dos bens domésticos levar os consumidores a substituí-los por produtos importados explica, em parte, a inclinação descendente da curva de demanda agregada.

- 72 Nos modelos keynesianos, a curva de oferta agregada de longo prazo pressupõe não só a existência de ilusão monetária e a rigidez dos salários nominais, mas também a crença dos empresários de que modificações na demanda agregada afetam as vendas de suas empresas.
- 73 O fato de políticas destinadas a combater a inflação conduzirem a taxas de desemprego elevadas colide com a existência de uma curva de Phillips de curto prazo negativamente inclinada.
- 74 Segundo a visão clássica, políticas bem-sucedidas de treinamento da força de trabalho elevam a produtividade, deslocam a função de produção agregada para cima e, portanto, conduzem à expansão do emprego e do PIB.
- 75 Aumentos da emissão monetária e das taxas de juros elevam o *deficit* público, entendido em seu conceito operacional, porém não alteram o resultado primário, que corresponde à diferença entre as despesas e a arrecadação não-financeiras do governo.
- 76 A idéia de que, durante as recessões, é necessário expandir a oferta de moeda pode ser considerada como exemplo típico de regra monetarista discricionária.
- 77 A política de orçamento equilibrado implica que um aumento simultâneo e da mesma ordem de magnitude das despesas públicas e da arrecadação aumenta a despesa agregada no mesmo montante e, nesse caso, o multiplicador keynesiano é igual à unidade.

A crescente globalização do espaço econômico faz que as economias domésticas sejam cada vez mais influenciadas pelos cenários internacionais, incluindo-se os referentes aos movimentos de bens e serviços e dos fluxos financeiros. A esse respeito, julgue os itens que se seguem.

- 78 As perdas relativas a bem-estar decorrentes da imposição de uma tarifa sobre produtos importados serão tanto maiores quanto mais inelástica for a curva de demanda por esses produtos.
- 79 A eliminação das quotas restritivas que os EUA impunham a diversos países, no âmbito do acordo sobre têxteis e vestuário (ATV) da Organização Mundial do Comércio (OMC), não provocou impactos alocativos e redistributivos nesses países porque a remoção dessas quotas não alterou o preço de mercado desses produtos.
- 80 A volatilidade do investimento internacional altera os padrões de comércio exterior, por meio da taxa de câmbio, porque variações dessa taxa alteram o balanço comercial, exigindo, assim, mudanças compensatórias nas políticas monetárias, fiscais e creditícias dos países afetados.
- 81 A integração regional, além de possibilitar a exploração dos ganhos de escala na produção, permite também a redução das rendas não-produtivas decorrentes da ausência de competição nos países membros.
- 82 Mercados comuns são acordos econômicos em que os países membros eliminam barreiras tarifárias entre si, porém impõem uma tarifa externa comum aos países que não participam desse mercado comum.
- 83 A OMC administra acordos multilaterais de comércio, como o acordo TRIPS, que engloba os aspectos de direitos de propriedade intelectual relativos ao comércio, e o Acordo Geral sobre Tarifas e Comércio (GATT).

O governo, mediante o uso de instrumentos apropriados, desempenha importante papel nas modernas economias de mercado. Por essa razão, a análise das finanças públicas é fundamental para o entendimento das contas públicas. A esse respeito, julgue os itens seguintes.

- 84 Em virtude da existência do “carona” (*free rider*), a provisão privada de bens públicos puros, como iluminação pública e defesa aérea, conduz a níveis de provisão desses serviços superiores àqueles que seriam socialmente eficientes.
- 85 Em países cujas rendas são muito concentradas, como é o caso do Brasil, a expansão do gasto público deve-se, em parte, ao fato de os benefícios decorrentes das despesas governamentais auferidos pelo eleitor mediano serem inferiores ao custo marginal desses gastos, mensurado este pelo *tax price* associado a esses eleitores.
- 86 Políticas fiscais expansionistas implementadas mediante redução de impostos e aumento de gastos públicos ilustram a função estabilizadora do governo.
- 87 O caráter autofiscalizador do imposto sobre o valor agregado bem como sua neutralidade em relação aos estágios do processo produtivo tornam a arrecadação desse tributo mais fácil e mais eficiente, quando comparada à dos impostos cumulativos que geram a mesma arrecadação.
- 88 Aumentos na dívida líquida do setor público não-financeiro junto ao setor privado internacional não são computados nas necessidades de financiamento do setor público (NFSP) e, portanto, não alteram o *deficit* fiscal.
- 89 Em períodos de baixo crescimento econômico, reduções do *superavit* primário coexistem com a estabilização da relação dívida/PIB.
- 90 A redução da dívida líquida do setor público no Brasil, a partir de 1985, deveu-se tanto à sua subindexação quanto ao aumento da receita de senhoriagem, ambos decorrentes da aceleração inflacionária observada no período.
- 91 A redução dos recursos disponíveis para a União decorrente da descentralização tributária estipulada pela Constituição de 1988 levou o governo federal a criar novos impostos, como a contribuição social sobre o lucro líquido (CSLL), e a elevar as alíquotas de impostos cumulativos, como o COFINS, para enfrentar o desequilíbrio fiscal.

Acerca da economia brasileira, julgue os itens que se seguem.

- 92 Para viabilizar o Plano de Metas, instaurou-se um amplo sistema protecionista — mediante tarifas aduaneiras e sistema cambial que reduzia os preços das importações de insumos e bens de capital — com a finalidade de isolar a indústria doméstica da concorrência internacional e atrair capital externo sob a forma de investimentos diretos.
- 93 Durante o “milagre brasileiro”, apesar de a economia caracterizar-se pelo pleno emprego e, portanto, pela ausência de capacidade ociosa, a contenção das pressões inflacionárias foi possível devido ao controle governamental dos preços públicos e à redução substancial dos salários reais.

- 94** Os avanços verificados no âmbito do II PND — incluindo-se aí aqueles ligados ao processo de substituição de importações, à redução da dependência externa em relação ao petróleo e à expansão e diversificação das exportações — foram possíveis graças à política agressiva de endividamento externo.
- 95** A deterioração do equilíbrio fiscal durante o Plano Cruzado deveu-se, em parte, à queda das receitas de senhoriação e ao aumento dos gastos públicos sancionados por uma política monetária acomodatória.
- 96** Entre as reformas empreendidas no período 1994-2002, destacam-se a reforma parcial da previdência social, a renegociação das dívidas estaduais e o fim do monopólio estatal na área de telecomunicações.
- 97** Os efeitos inflacionários da desvalorização cambial, decorrente do ajuste de 1999, foram ampliados pelo afrouxamento das políticas fiscais e monetárias adotadas no período 1999-2002.
- 98** No pós Plano Real, o desequilíbrio do setor público decorre, sobretudo, dos elevados *déficits* primários do governo federal.
- 99** Na parceria público-privada (PPP) — que constitui uma modalidade de contratação entre entes públicos e organizações privadas —, a modalidade patrocinada refere-se à situação em que uma empresa, além de realizar a produção dos serviços previstos no contrato, é remunerada pelo governo mediante desembolsos previamente acordados nos contratos de PPP.

No que diz respeito aos diferentes aspectos do desenvolvimento econômico e social, julgue os itens subseqüentes.

- 100** Os expressivos níveis de desigualdade educacional, associados às elevadas taxas de retorno para níveis elevados de escolaridade, contribuem para explicar a maior parte das desigualdades de renda, que caracterizam a economia brasileira.
- 101** Entre 1985 e 1999, a expressiva redução das desigualdades inter-regionais no Brasil foi acompanhada pelo aumento das desigualdades interestaduais.
- 102** No Brasil, entre 1980 e 2000, foi registrada redução expressiva do índice de Gini, o que indica que houve melhorias significativas na distribuição de renda nesse período.
- 103** O crescimento expressivo do índice de desenvolvimento humano (IDH), no período 1990-2006, colocou o Brasil em um patamar bem acima dos principais países latino-americanos, o que assegurou ao país a liderança regional em tempos de desenvolvimento humano.
- 104** No período pós-privatização, o papel do Estado modificou-se, dado que, para vários serviços de utilidade pública — como telecomunicações e eletricidade —, passou de provedor ou produtor do serviço para agente regulador, atuando na fiscalização do setor no que diz respeito à fixação dos preços e à quantidade e qualidade dos serviços oferecidos.
- 105** Para que sejam promovidos o desenvolvimento e a melhoria da competitividade da economia brasileira, as linhas de apoio financeiro disponibilizadas pelo Banco Nacional de Desenvolvimento Econômico e Social (BNDES) financiam itens como máquinas e equipamentos novos e usados, gastos com estudos e projetos de engenharia relacionados ao investimento, porém excluem do financiamento despesas pré-operacionais, gastos com custeio e manutenção corrente bem como despesas associadas às necessidades de capital de giro relativas ao investimento fixo.

Com base nas disposições da Lei de Responsabilidade Fiscal (LRF) e na sua aplicação, julgue os itens a seguir.

- 106** Os investimentos realizados em programas sociais com as características do Bolsa-Família são considerados despesas obrigatórias de caráter continuado, pois não têm prazo determinado de execução.
- 107** Caso a receita corrente líquida de determinado município, no último exercício — assim considerado o somatório das receitas próprias e de transferências — tenha atingido R\$ 5 bilhões e esse município tenha mais de 500 mil habitantes, as despesas de pessoal da câmara municipal, após a Emenda Constitucional n.º 25/2000, não poderão ultrapassar R\$ 175 milhões.
- 108** Suponha que um município apresente, ao final do exercício, dívida consolidada de R\$ 750.000.000,00, disponibilidades financeiras iguais a R\$ 50.000.000,00 e, no período considerado, receita corrente líquida, de R\$ 600.000.000,00. Nessa situação, conclui-se que, há um excesso de endividamento de R\$ 30.000.000,00.
- 109** Devido à vedação para a realização de operações de crédito entre diferentes entes da Federação, os estados não podem aplicar suas disponibilidades em títulos do tesouro da União, e os municípios não podem aplicá-las em títulos dos estados e da União.

RASCUNHO

- 110** No exercício financeiro de 2008, ano eleitoral, os estados não poderão efetuar operações de crédito por antecipação de receita orçamentária.
- 111** As empresas controladas pelo poder público, mesmo quando firmarem contratos de gestão, dispondo de autonomia gerencial, orçamentária e financeira, submeterão seus investimentos à lei orçamentária anual do respectivo ente da Federação.
- 112** As operações de antecipação de receitas orçamentárias serão computadas na apuração do cumprimento da chamada regra de ouro, desde que não sejam liquidadas no próprio exercício financeiro em que tenham sido contratadas.
- 113** Considere que, em um ente público, tenha sido aprovado, ao final do primeiro exercício, crédito especial, mediante autorização de um novo empréstimo, no valor de R\$ 250.000.000,00, e que o crédito tenha sido reaberto no segundo exercício, quando os recursos foram efetivamente recebidos. Considere, ainda, que, no primeiro exercício, R\$ 200.000.000,00 tenham sido empenhados para a realização de investimentos, valor que foi inscrito em restos a pagar, para ser executado no segundo exercício. Nessa situação, no primeiro exercício, a regra de ouro não foi observada, do que decorreu um excesso de R\$ 50.000.000,00 em operação de crédito aprovada, comparativamente à autorização para a realização de investimento.

De acordo com as disposições da Lei n.º 4.320/1964 e à sua aplicação, julgue os itens seguintes.

- 114** O critério básico que distingue as subvenções sociais das econômicas é a natureza jurídica da entidade beneficiária: as subvenções sociais se destinam às entidades estatais; as econômicas, às privadas.
- 115** A lei em questão, bem antes da LRF e de outros diplomas legais racionalizadores e moralizadores da gestão pública, já continha regras restritivas, como, por exemplo, a inadmissibilidade de emendas ao projeto de lei orçamentária que concedessem dotações para o início de obra sem o respectivo projeto aprovado pelos órgãos competentes, bem como para a instalação ou o funcionamento de serviço que não tivesse sido anteriormente criado.

- 116** Entre as características dos fundos especiais, incluem-se a obrigatoriedade de lei para a sua criação e a possibilidade de sua existência no âmbito de quaisquer das esferas e poderes, tanto na administração direta como na indireta.
- 117** Os débitos de tesouraria representam compromissos financeiros, mas são de natureza extra-orçamentária. Não obstante, devem transitar pelo caixa e, na contabilidade, fazem parte do sistema financeiro.
- 118** Suponha que, ao final do quinto bimestre do exercício, a situação de um ente estatal se apresente da seguinte maneira.
- | | |
|--|------------------|
| receita anual prevista | R\$ 1.200.000,00 |
| receita arrecadada (tendendo a manter a proporção dos dez primeiros meses) | R\$ 1.500.000,00 |
| <i>superavit</i> financeiro do exercício anterior . | R\$ 250.000,00 |
| créditos especiais reabertos | R\$ 150.000,00 |
- Nessa situação, se esse ente precisar efetuar uma suplementação de créditos, e esta for sua primeira modificação no orçamento do exercício, ele poderá dispor de até R\$ 450.000,00.
- 119** Um ente público desistiu de construir suas instalações e, entre as alternativas de adquiri-las ou alugá-las, optou pelo contrato de aluguel. Nesse caso, o ente desistiu de realizar um investimento e optou por efetuar uma inversão financeira.
- 120** Suponha que a situação de um ente assim se apresente ao final do exercício.
- | | |
|---|------------------|
| orçamento aprovado para o exercício . . . | R\$ 2.500.000,00 |
| receita arrecadada | R\$ 2.650.000,00 |
| despesa empenhada | R\$ 2.450.000,00 |
| despesa liquidada | R\$ 2.300.000,00 |
| despesa paga | R\$ 1.950.000,00 |
- Com base nesses dados e considerando os critérios adotados pela STN, houve um *superavit* de R\$ 350.000,00.

RASCUNHO

PROVA DE REDAÇÃO

- Nesta prova, que vale **dez** pontos, faça o que se pede, usando o espaço para rascunho indicado no presente caderno. Em seguida, transcreva o texto para a **FOLHA DE TEXTO DEFINITIVO DA PROVA DE REDAÇÃO**, no local apropriado, pois **não será avaliado fragmento de texto escrito em local indevido**.
- Qualquer fragmento de texto além da extensão máxima de **trinta** linhas será desconsiderado.
- Na **folha de texto definitivo**, identifique-se apenas no cabeçalho da primeira página, pois **não será avaliado** texto que tenha qualquer assinatura ou marca identificadora fora do local apropriado.

A estimativa de que existam, no país, 9 mil presos com pena já cumprida — e que, portanto, já deveriam estar em liberdade — é um dramático exemplo da falência do sistema carcerário brasileiro. Se a este número forem adicionados os 133 mil detentos que, segundo o Departamento Penitenciário Nacional, aguardam julgamento em prisão preventiva, certamente havendo entre eles réus sem culpa formada, chega-se à dimensão de uma explosiva tragédia. Não por acaso, o Conselho Nacional de Justiça (CNJ) lançou um mutirão cívico, convocando juízes de execuções penais a retirar dos presídios os detentos com pena vencida e aqueles com direito aos regimes aberto e semi-aberto.

O Globo, 13/9/2008, p. 6 (com adaptações).

Considerando que o texto acima tem caráter unicamente motivador, redija texto dissertativo acerca do seguinte tema.

JUSTIÇA E SISTEMA PENITENCIÁRIO: DESAFIO A SER ENFRENTADO

Ao redigir seu texto, aborde, necessariamente, os seguintes aspectos:

- ▶ problemas que afetam o atual quadro dos presídios brasileiros;
- ▶ ação emergencial do CNJ;
- ▶ uma política de reinserção do preso à sociedade.

PROVA DE REDAÇÃO – RASCUNHO

1	
2	
3	
4	
5	
6	
7	
8	
9	
10	
11	
12	
13	
14	
15	
16	
17	
18	
19	
20	
21	
22	
23	
24	
25	
26	
27	
28	
29	
30	