



MINISTÉRIO DO DESENVOLVIMENTO, INDÚSTRIA E COMÉRCIO EXTERIOR  
INSTITUTO NACIONAL DE METROLOGIA, NORMALIZAÇÃO  
E QUALIDADE INDUSTRIAL – INMETRO  
Concurso Público (Aplicação: 2/12/2001)

**CARGO: ANALISTA JÚNIOR / ECONOMISTA**

Nas questões de 1 a 45, marque, em cada uma, a única opção correta, de acordo com o respectivo comando. Na Folha de Respostas, a indicação do campo **SR** é facultativa e não contará para efeito de avaliação; servirá somente para caracterizar que o candidato desconhece a resposta correta. Use a Folha de Rascunho para as devidas marcações e, posteriormente, a **Folha de Respostas**.

**LÍNGUA PORTUGUESA**

**Texto LP-I – questões 1 e 2**

1 A revolução da informação, o fim da guerra fria — com a decorrente hegemonia de uma superpotência única — e a internacionalização da economia impuseram um novo equilíbrio de 4 forças nas relações humanas e sociais que parece jogar por terra as antigas aspirações de solidariedade e justiça distributiva entre os 7 homens, tão presentes nos sonhos, utopias e projetos políticos nos últimos dois séculos. Ao contrário: o novo modelo — cuja 10 arrogância chegou ao extremo de considerar-se o ponto final, senão culminante, da História — promove uma brutal reconcentração de renda em âmbito mundial, multiplicando a desigualdade e banalizando de maneira assustadora a perversão social.

Ari Roitman. In: **O desafio ético**. Rio de Janeiro: Garamond, 2000, p. 10 (com adaptações).

**QUESTÃO 1**

Assinale a opção correta a respeito do emprego das palavras e expressões do texto LP-I.

- A Pelo sentido textual, as palavras “forças” e “relações”, na linha 4, podem ser interpretadas como sinônimas.
- B A locução verbal “parece jogar” (R.4) está no singular porque empregada em função impessoal.
- C Na linha 6, o adjetivo “presentes” qualifica “homens”.
- D Na linha 7, o pronome relativo “cuja” indica que, ao seu antecedente — “novo modelo” —, é atribuída a característica introduzida por esse pronome.
- E Mantêm-se a correção gramatical e o mesmo sujeito da oração, acrescentando-se o pronome **se** às formas verbais da última oração: **multiplicando-se** e **banalizando-se**.

**QUESTÃO 2**

Julgue os itens a seguir, a respeito do emprego dos sinais de pontuação no texto LP-I.

- I Os travessões nas linhas 1 e 2 marcam a inserção de uma observação adicional e, por isso, podem ser substituídos por sinais de parênteses.
- II Os dois-pontos depois de “contrário” (R.7) introduzem uma enumeração; por isso, os sentidos textuais permitem a sua supressão.
- III Embora os travessões correspondam ao emprego de vírgulas, é recomendável o uso dos travessões nas linhas 7 e 9 porque a inserção que aí ocorre já inclui vírgulas.
- IV A vírgula depois de “mundial” (R.10) marca o fim de um raciocínio; por isso, admite ser substituída por ponto final.

A quantidade de itens certos é igual a

- A 0.      B 1.      C 2.      D 3.      E 4.

**Texto LP-II – questões 3 e 4**

1 A discussão acerca dos direitos da propriedade intelectual e da preservação do conhecimento deixou a 4 tribuna acadêmica e invadiu a selva. Os cientistas uniram-se aos líderes indígenas para reagir contra uma prática cada 7 vez mais corriqueira entre empresas estrangeiras de biotecnologia e farmacêutica. Elas saem do Brasil com 10 amostras de plantas, frutos e animais para produzir novas drogas e encher os bolsos de dinheiro com matéria-prima nacional. Curandeiro e líder espiritual, o pajé evita sair da 13 tribo para não perder seus poderes. Na semana passada, porém, representantes indígenas decidiram reunir os pajés de vinte tribos e elaborar um banco de dados dos saberes 16 nativos.

Estratégias para aproveitar esse conhecimento são tão importantes quanto os investimentos. Dados da 19 Organização para a Cooperação e Desenvolvimento Econômico (OCDE), bloco dos países mais ricos do mundo, revelam que mais da metade da riqueza mundial 22 já advém do conhecimento e dos bens ou produtos intangíveis. O primeiro passo é valorizar a prata da casa: os cérebros brasileiros. Não importa se usam beca ou ostentam um cocar na cabeça.

Darlene Menconi e Sônia Filgueiras. In: **Istoé**, 19/9/2001, p. 93-5 (com adaptações).

**QUESTÃO 3**

Julgue os itens subseqüentes, com relação à organização das idéias do texto LP-II.

- I De acordo com o texto, o Brasil deve valorizar os cérebros que produzem conhecimento, independentemente de escolaridade ou condição social.
- II Depreende-se do texto que os saberes nativos perdem seu valor ao saírem de seu contexto.
- III Conclui-se do texto que há, no mínimo, três tipos de fontes de riqueza.
- IV O texto sugere que a associação entre cientistas e pajés pode trazer bons resultados para a biotecnologia brasileira.
- V A OCDE vai desistir de produzir novas drogas a partir de plantas brasileiras.

Estão certos apenas os itens

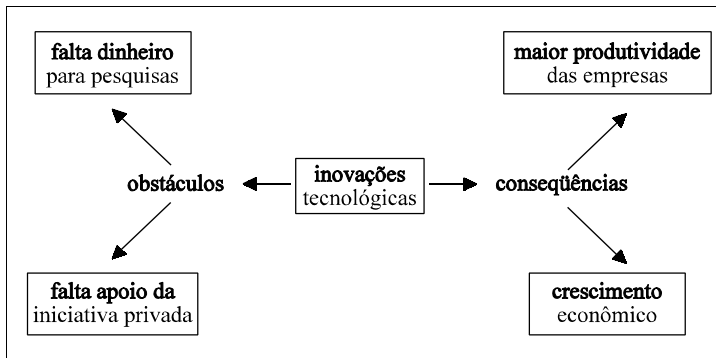
- A I, II e V.      D II, III e IV.  
B I, III e IV.      E II, III e V.  
C I, IV e V.

**QUESTÃO 4**

Assinale a opção **incorreta** com referência ao emprego das palavras e expressões no texto LP-II.

- A Mantêm-se as relações semânticas de passividade ao se substituir a forma passiva pronominal “uniram-se” (R.3) pela correspondente forma passiva analítica **foram unidos**.
- B O período “Elas saem do Brasil com amostras de plantas, frutos e animais para produzir novas drogas e encher os bolsos de dinheiro com matéria-prima nacional” (R.6-9) explicita a expressão “uma prática” (R.4).
- C A substituição da conjunção adversativa “porém” (R.11) por seu sinônimo **mas** provocaria erro na estrutura sintática.
- D As expressões “saberes nativos” (R.12-13) e “esse conhecimento” (R.14) correspondem ao mesmo referente.
- E Mantém-se a correção gramatical ao se substituir a expressão “mais da metade” (R.18) por seu equivalente semântico **mais de 50%**.

**QUESTÃO 5**



Assinale a opção que, em apenas um período sintático, dá redação textualmente coerente e gramaticalmente correta ao desenvolvimento e à relação de idéias sintetizadas no esquema acima, adaptado de **Istoé**, 19/9/2001, p. 94.

- A A falta de dinheiro para pesquisas, decorrente da falta de apoio por parte da iniciativa privada, tem como obstáculo que as inovações tecnológicas decorrentes da maior produtividade das empresas se acresce ao crescimento econômico.
- B Investir em inovações tecnológicas traz maior produtividade às empresas e acarreta crescimento econômico; no entanto, falta dinheiro para pesquisas e o apoio da iniciativa privada ainda não é suficiente.
- C Sem dinheiro para pesquisas, no entanto, a falta de apoio à iniciativa privada tem por obstáculos que as inovações tecnológicas são conseqüência do aumento da produtividade das empresas e do crescimento econômico.
- D Apesar da falta de dinheiro e da carência de apoio da iniciativa privada, os obstáculos são superáveis. Inovações tecnológicas têm como conseqüência crescimento econômico e — é claro — aumento da produtividade das empresas.
- E Inovações tecnológicas provocam crescimento econômico como conseqüência do aumento da produtividade das empresas. Os obstáculos, no entanto, vêm da iniciativa privada, que não têm verba.

**QUESTÃO 6**

- 1 O relatório da ONU é categórico: a nação que falhar no uso da tecnologia tende a ficar à margem da economia mundial. Na prática, o acesso às inovações tecnológicas
- 4 traduz-se com remédios mais eficientes, melhores meios de transporte, mais acesso à informação, aos telefones e à Internet, além da superação dos obstáculos de isolamento
- 7 social, econômico e geográfico.

Adaptado de Darlene Menconi e Sônia Filgueiras. In: **Istoé**, 19/9/2001, p. 93-5.

Para que o texto acima torne-se gramaticalmente correto e textualmente coerente, é obrigatória a substituição de

- A “a” (R.2) por **de**.
- B “Na” (R.3) por **Com**.
- C “às” (R.3) por **pelas**.
- D “com” (R.4) por **em**.
- E “dos” (R.6) por **pelos**.

**QUESTÃO 7**

- 1 Fiscais da Rede Nacional de Metrologia Legal estão vasculhando o comércio em todo o país em busca de produtos elétricos de baixa tensão fora das normas do
- 4 INMETRO. No Maranhão, os fiscais apreenderam mais de 1.000 produtos com irregularidades só em 30 de julho, primeiro dia da Operação Eficiência Energética.

Internet: <www.inmetro.gov.br>. Acesso em 30/7/2001 (com adaptações).

Julgue os itens que se seguem, acerca das estruturas linguísticas do texto acima.

- I Para que o texto seja coerente e respeite as regras gramaticais da norma culta, é necessário o uso do artigo definido no início da oração: **Os fiscais**.
- II A expressão “fora das normas do INMETRO” (R.3-4) qualifica uma determinada parte do conjunto de “produtos elétricos” (R.3) e a expressão “de baixa tensão” (R.3) qualifica outra parte.
- III Na linha 4, feitos os necessários ajustes de grafia e pontuação, preservam-se o sentido e a correção gramatical do texto ao se deslocar a expressão “No Maranhão” para imediatamente após “apreenderam”.
- IV Os verbos flexionados no texto estão todos no plural por se referirem ao mesmo sujeito sintático.

Estão certos apenas os itens

- A I e II.
- B I e III.
- C II e III.
- D II e IV.
- E III e IV.

## Texto LP-III – questões 8 e 9

1 Para os países em desenvolvimento, como é o caso do  
Brasil, reuniões ministeriais da Organização Mundial do  
Comércio (OMC) são sempre cercadas de muita expectativa e boa  
4 dose de otimismo. É nesse fórum, criado para arbitrar e  
regulamentar as relações comerciais entre os países, que se  
travam as batalhas realmente capazes de alterar a ordem mundial.

7 Nesse contexto, a nova reunião, que acontecerá entre os  
dias 9 e 13 deste mês e poderá dar início a uma longa rodada  
de negociações, tem como desafio corrigir erros do passado.

10 O Brasil e outros países em desenvolvimento ainda sofrem as  
conseqüências da rodada anterior. Vários itens de interesse desse  
grupo de países foram deixados de lado ou tratados de forma a  
13 favorecer os países desenvolvidos, ávidos por ampliar seu  
quinhão no comércio exterior.

Um dos pontos importantes da agenda da OMC diz  
16 respeito à agricultura. Há anos, os países emergentes reivindicam  
tratamento mais justo aos seus produtos de exportação. É uma  
reivindicação procedente porque os itens agrícolas enfrentam  
19 barreiras intransponíveis para ganhar o mercado das potências  
econômicas. Estados Unidos e Europa, principalmente, resistem  
a mudanças. Subsídios de forma pesada os produtores internos  
22 e, assim, eliminam a capacidade competitiva das economias  
carentes. Na prática, os países ricos exigem mercados abertos  
para os produtos de setores nos quais são competitivos, enquanto  
25 fecham as suas fronteiras aos produtos competitivos das nações  
subdesenvolvidas.

Visão do Correio – A reunião da OMC. “Opinião”.  
In: Correio Braziliense, 6/11/2001, p. 4 (com adaptações).

### QUESTÃO 8

Considerando as relações de sentido textuais, assinale a opção cujos  
períodos sintáticos indicados, se fossem ligados pela conjunção  
**porque**, mesmo com as necessárias adaptações de grafia e pontuação,  
provocariam **erro** gramatical ou desvirtuariam os sentidos do texto  
LP-III.

	linha	período terminado por	período iniciado por
A	4	“otimismo”	“É”
B	11	“anterior”	“Vários”
C	16	“agricultura”	“Há”
D	17	“exportação”	“É”
E	21	“mudanças”	“Subsídios”

### QUESTÃO 9

Entre as opções abaixo, assinale aquela cuja reescritura de trecho  
do texto LP-III, destacada em negrito, preserva a correção  
sintática e semântica do trecho original.

- A “são (...) otimismo” (R.3-4): **são sempre cercadas por boa dose de otimismo e muitas expectativas.**
- B “É nesse (...) mundial” (R.4-6): **Trava-se, nesse fórum, batalhas realmente capazes de alterar a ordem mundial, criada para arbitrar e regulamentar as relações comerciais entre países.**
- C “a nova (...) passado” (R.7-9): **a nova reunião acontecerá entre os dias 9 e 13 deste mês e poderá iniciar uma longa rodada de negociações que têm como desafio corrigir erros do passado.**
- D “Há anos (...) exportação” (R.16-17): **Fazem anos, os países emergentes reivindicam tratamento mais justo para os seus produtos de exportação.**
- E “É uma (...) econômicas” (R.17-20): **Por que os itens agrícolas enfrentando barreiras intransponíveis ganhando o mercado das potências econômicas, essa é uma reivindicação procedente.**

### QUESTÃO 10

1 A operação especial coordenada pelo INMETRO em  
todo o país para verificar a qualidade dos brinquedos  
comercializados por ocasião do Dia da Criança acaba de  
4 liberar seu balanço final. Foram fiscalizados 1.408.821  
produtos e, desse total, 36.880 foi interditado ou apreendido.  
A principal irregularidade foi a falta do selo de garantia  
7 INMETRO. Os produtos que não apresentavam esse selo não  
ofereciam condições de segurança adequadas para as crianças,  
ou seja, não tinham sido previamente testados em laboratório.  
10 Foram visitados 511 estabelecimentos comerciais em todos os  
estados.

Internet: <www.inmetro.gov.br>. Acesso em 30/7/2001 (com adaptações).

De acordo com o Manual de Redação da Presidência da  
República, todo texto oficial deve caracterizar-se por  
impessoalidade, clareza, concisão, formalidade, uniformidade e  
uso do padrão culto da linguagem. A respeito do trecho de  
relatório acima, é correto inferir que, para o texto respeitar

- A a característica de impessoalidade, deverá ser produzido na perspectiva de primeira pessoa do plural — representada por **nós** —, não na de terceira pessoa.
- B as características de clareza e concisão, é obrigatória a transformação dos períodos sintáticos compostos por subordinação em períodos simples e orações absolutas, sem subordinação.
- C a característica de formalidade, deve-se inverter a ordem na oração das linhas 6 e 7 e usar vocábulos de língua culta: **A ausência do selo de garantia INMETRO foi a crucial irregularidade.**
- D a característica de uniformidade, é necessário escrever os números por extenso no lugar dos algarismos arábicos.
- E as regras de norma culta, deve-se reescrever o trecho “foi interditado ou apreendido” (R.5) no plural: **foram interditados ou apreendidos.**

## CONHECIMENTOS ESPECÍFICOS

### QUESTÃO 11

O estudo da teoria macroeconômica é essencial à compreensão dos grandes agregados econômicos. Utilizando os conceitos básicos dessa teoria, assinale a opção correta.

- A Os lucros auferidos por uma firma americana, no Brasil, são contabilizados, simultaneamente, no produto interno bruto (PIB) e no produto nacional bruto brasileiros.
- B A inflação reduz a produtividade de um país porque aumenta as taxas de juros reais, desestimulando, assim, os níveis de investimento e as taxas de crescimento de longo prazo dessa economia.
- C De acordo com a hipótese do ciclo de vida, um aumento no estoque de riqueza de um país desloca a função de consumo agregada para cima e para a esquerda.
- D Quando a taxa de inflação eleva-se, o custo real do capital também aumenta, provocando, assim, a redução do investimento de capital fixo do setor privado.
- E O custo de oportunidade de detenção da moeda é a taxa de juros real.

### QUESTÃO 12

O estudo dos mercados monetários e de crédito, bem como a análise das políticas fiscais e monetárias, é crucial para o entendimento do funcionamento das modernas economias de mercado. A esse respeito, julgue os itens a seguir.

- I Como, no longo prazo, os preços são flexíveis e a curva de oferta agregada da economia é vertical, uma expansão dos gastos públicos conduz a aumentos nos níveis de preços.
- II Se a economia brasileira estivesse funcionando em seu nível de pleno emprego, em que a produção fosse igual ao produto potencial, um aumento do valor das aposentadorias rurais expandiria o consumo agregado e a produção de equilíbrio da economia.
- III A curva de demanda agregada é negativamente inclinada, em parte, porque reduções no nível de preços diminuem a demanda de transações por moeda.
- IV De acordo com a visão monetarista, no longo prazo, políticas monetárias expansionistas conduzem a aumentos reais do PIB e da renda nacional.
- V As operações de mercado aberto envolvem variações nos encaixes compulsórios que os bancos comerciais detêm junto ao Banco Central.

Estão certos apenas os itens

- A I e II.
- B I e III.
- C II e IV.
- D III e V.
- E IV e V.

### QUESTÃO 13

A globalização do espaço econômico torna as questões de economia internacional cruciais para se entender a evolução da economia. Com base nessa análise, assinale a opção correta.

- A Se uma economia encontra-se no seu equilíbrio de longo prazo, um aumento dos gastos públicos não afeta o nível de atividade porque o impacto desses gastos é compensado por uma apreciação da moeda nacional no mercado de câmbio.
- B *Ceteris paribus*, uma recessão econômica, em um determinado país, conduz a um aumento das importações e à manutenção do valor da moeda nacional caso essa economia opere em regime de taxas de câmbio flutuantes.
- C Durante os anos 70 do século passado, a maciça substituição de importações que ocorreu na economia brasileira envolveu, predominantemente, o mercado dos bens de consumo duráveis.
- D No Brasil, desde o início dos anos 90 do século passado, a receita do governo derivada das chamadas contribuições sociais vem reduzindo sua participação no total da arrecadação.
- E No Brasil, o Plano Collor conseguiu debelar a inflação porque, nele, o combate inflacionário foi precedido por um ajuste fiscal bem sucedido que eliminou o déficit público.

### QUESTÃO 14

Com relação ao processo de desenvolvimento econômico, assinale a opção correta.

- A O desenvolvimento das economias de mercado exige o estabelecimento de um sistema de direito de propriedade, uma força de trabalho altamente qualificada e níveis elevados de barreiras comerciais.
- B Uma vantagem clara das estratégias de substituição de importação advém do fato de essas políticas contribuir para aumentar os níveis de competitividade da economia.
- C Nos países em desenvolvimento, o PIB *per capita* tende a sobreestimar os níveis de consumo *per capita* dessas economias.
- D Nos países em desenvolvimento, embora os níveis de pobreza sejam mais elevados, a distribuição de renda tende a ser mais igualitária que nas economias desenvolvidas.
- E Melhorias nos níveis educacionais são importantes para os países em desenvolvimento porque contribuem para aumentar a produtividade no trabalho.

**QUESTÃO 15**

A análise do comportamento do consumidor e das forças que regem a oferta e a demanda é fundamental para o estudo dos fenômenos econômicos. Considerando esse assunto, assinale a opção correta.

- A Supondo-se que farinha de mandioca seja um bem inferior para os consumidores de baixa renda, então, quando a renda desses consumidores diminui, a curva de demanda para esse produto desloca-se para baixo e para a esquerda.
- B A redução das contribuições sociais que incidam sobre a folha de pagamentos de uma empresa produtora de automóveis provoca uma contração da oferta desses produtos.
- C No curto prazo, a desregulamentação da aviação comercial no Brasil, ao aumentar a concorrência no setor, reduziria as tarifas aéreas e expandiria a demanda por esse tipo de serviço. Porém, isso não se traduziria em maiores lucros para as empresas aéreas em razão da queda de faturamento induzida pela redução tarifária.
- D Um consumidor maximiza sua utilidade quando aloca sua renda monetária de forma que a utilidade marginal de cada real gasto seja idêntica para os diferentes bens consumidos.
- E O racionamento de energia elétrica desloca, paralelamente, a restrição orçamentária do consumidor para baixo e para a esquerda.

**QUESTÃO 16**

A tomada de decisão pelas empresas privadas é influenciada pelo tipo de ambiente de mercado no qual elas atuam. A esse respeito, julgue os itens seguintes.

- I Na produção de serviços de defesa nacional, os custos médios e marginais aumentam com a quantidade produzida porque a tecnologia utilizada para produzir esses serviços apresenta rendimentos crescentes de escala.
- II Quando a produtividade marginal de um trabalhador excede a sua produtividade média, então a produtividade média desse trabalhador deve estar aumentando.
- III Em mercados monopolistas, quanto mais elástica for a curva de demanda com a qual se confronta o monopolista, menor será a diferença entre o preço e o custo marginal.
- IV No longo prazo, a curva de oferta de uma indústria perfeitamente competitiva, caracterizada pela presença de economias crescentes de escala, é negativamente inclinada.
- V No longo prazo, a facilidade de entrada e saída fará que as empresas que atuam como competidores monopolistas auferam lucro zero.

Estão certos apenas os itens

- A I, II e III.
- B I, III e IV.
- C I, IV e V.
- D II, III e V.
- E II, IV e V.

**QUESTÃO 17**

Determinado órgão do Poder Executivo federal deseja solicitar a abertura de crédito especial. Para tanto, a legislação vigente considera recurso disponível para tal fim o(a)

- A reserva de combate à inadimplência, instituída pela Lei de Responsabilidade Fiscal.
- B superávit do orçamento corrente apurado em balanço patrimonial do exercício anterior.
- C proveniente do excesso de arrecadação, subtraído o montante dos créditos suplementares abertos no exercício sem indicação de receitas.
- D resultado de anulação parcial ou total de dotações orçamentárias ou de créditos adicionais autorizados em lei.
- E produto de anulações de precatórios autorizados pelo Poder Judiciário em forma que, juridicamente, possibilite ao Poder Executivo realizar as receitas correspondentes.

**QUESTÃO 18**

Os débitos apurados em processo de tomada de contas especial serão atualizados monetariamente e acrescidos de juros de mora, nos termos da legislação vigente, observados determinados princípios. Com relação a esses princípios, julgue os itens a seguir.

- I Tratando-se de alcance, a incidência de juros de mora e de correção monetária dar-se-á a partir da data do próprio evento. Se desconhecida essa data, os acréscimos legais devidos constarão da data da abertura do processo.
- II No caso de desvio ou de desaparecimento de bens, a incidência de juros de mora e de correção monetária dar-se-á a partir da data do evento; se desconhecida, a partir do conhecimento do fato, adotando-se como base de cálculo o valor de mercado do bem ou o de aquisição, atualizado monetariamente.
- III No caso de omissão de prestação de contas, da não-aplicação ou do desvio de recursos repassados mediante convênio, acordo, ajuste ou instrumentos similares e à conta de subvenções, auxílios e contribuições, a incidência de juros de mora e de correção monetária dar-se-á a partir da data do recebimento dos recursos.
- IV Quando se tratar de glosa em virtude de impugnação de despesas indevidamente efetuadas, a incidência de juros de mora e de correção monetária dar-se-á a partir da data do empenho da despesa.

Estão certos apenas os itens

- A I e II.
- B I e IV.
- C II e III.
- D I, III e IV.
- E II, III e IV.

**QUESTÃO 19**

A Lei do Plano Plurianual vigente tem em seu conteúdo o programa: “Metrologia e Qualidade Industrial”, que busca difundir a cultura da qualidade industrial e contribuir para o desenvolvimento dessas normas no país. Esse programa — que tem como principais ações o controle metrológico dos instrumentos de medição, a avaliação de conformidade e a implantação de infra-estrutura básica para a instalação de empresas de base tecnológica —, em razão de suas características, deve ser classificado entre os programas

- A finalísticos.
- B de gestão das políticas públicas.
- C de serviços ao Estado.
- D de apoio administrativo.
- E de ação social.

**QUESTÃO 20**

A Lei Complementar n.º 101, de 4/5/2000, que estabelece normas de finanças públicas voltadas para a responsabilidade na gestão fiscal, introduziu uma série de novos princípios, regras e conceitos no processo orçamentário público brasileiro. Um desses conceitos é o de despesa total com pessoal, que compreende o somatório dos gastos do ente da Federação com os ativos, os inativos e os pensionistas, relativos a mandatos eletivos, cargos, funções ou empregos, civis, militares e de membros de poder público, com quaisquer espécies remuneratórias, tais como vencimentos e vantagens, fixas e variáveis, subsídios, proventos de aposentadoria, reformas e pensões, inclusive adicionais, gratificações, horas extras e vantagens pessoais de qualquer natureza, bem como encargos sociais e contribuições recolhidas pelo ente às entidades de previdência. No entanto, de acordo com a referida norma, o cálculo da despesa total com pessoal **não** inclui as despesas

- A de indenização por demissão de servidores ou empregados e as relativas a incentivos à demissão voluntária.
- B com pessoal, do Distrito Federal e dos estados do Amapá e Roraima, custeadas com recursos transferidos pela União na forma da Constituição da República.
- C com inativos, ainda que por intermédio de fundo específico, custeadas por recursos provenientes da arrecadação de contribuições dos segurados.
- D decorrentes de decisão judicial e da competência de período anterior ao da apuração, entendida a realizada no mês em referência, somada com as dos onze meses imediatamente anteriores, adotando-se o regime de competência.
- E referentes aos valores dos contratos de terceirização de mão-de-obra que se refiram à substituição de servidores e empregados públicos.

**QUESTÃO 21**

Após o advento da Lei de Responsabilidade Fiscal, a inscrição de restos a pagar

- A deixou de existir.
- B passou a respeitar a regra de que é vedado ao titular de poder ou órgão público, nos últimos dois quadrimestres do seu mandato, contrair obrigação de despesa que não possa ser cumprida integralmente dentro dele, ou que tenha parcelas a serem pagas no exercício seguinte sem que haja suficiente disponibilidade de caixa para esse efeito.
- C passou a gerar direito líquido e certo contra o erário.
- D ficou limitada ao valor definido na lei de diretrizes orçamentárias.
- E passou a ter de constar da lei orçamentária anual.

**QUESTÃO 22**

Plano de trabalho, expresso por um conjunto de ações a realizar e pela identificação dos recursos necessários à sua execução, é o conceito que explicita a metodologia de elaboração orçamentária internacionalmente conhecida como orçamento

- A por desempenho.
- B tradicional.
- C econômico.
- D programa.
- E base-zero.

**QUESTÃO 23**

Acerca de contabilidade geral, análise das demonstrações financeiras e administração financeira, assinale a opção correta.

- A Uma empresa que apresente uma evolução dos seus ativos de R\$ 200 mil e dos passivos, exceto patrimônio líquido, de R\$ 100 mil, terá certamente registrado um lucro líquido no período no valor de R\$ 100 mil.
- B A otimização do fluxo de caixa pode ser obtida com a sincronização entre recebimentos e pagamentos, de modo a minimizar o saldo de disponibilidades, em um negócio que produza resultado maior ao que seria obtido no mercado financeiro.
- C O prazo atual de renovação dos estoques maior que no ano anterior, mantido o volume médio de compras anual e o preço unitário, é sinal de elevação do volume de vendas.
- D Uma empresa que adote a política de financiar os seus clientes com um prazo superior ao que vinha concedendo, terá, em consequência disso, um aumento da capacidade financeira pela redução em suas contas a receber.
- E Uma redução no prazo médio de pagamento de fornecedores pode levar a uma redução no índice de liquidez dos elementos cíclicos circulantes.

**QUESTÃO 24**

Com relação à administração financeira e à contabilidade gerencial, julgue os itens a seguir.

- I Uma companhia que possua custos fixos elevados e custos variáveis baixos terá um grau de alavancagem operacional maior após o ponto de equilíbrio que outra operando com custos variáveis elevados e custos fixos baixos.
- II A alavancagem financeira será positiva em determinado negócio quando o custo do capital de empréstimo utilizado no financiamento dos ativos for inferior ao lucro produzido pelos mesmos ativos.
- III Na contabilidade gerencial, é normal a utilização do código organizacional como centro de custo, com a finalidade de controlar os gastos da empresa, responsabilizando os gerentes das unidades organizacionais pelos desvios em relação às metas.
- IV O orçamento é uma peça de compromisso da administração, expressando o planejamento para um período futuro, contendo os resultados esperados e as metas a serem alcançadas.
- V Na adoção de centros de lucros, é adequada a utilização do preço de transferência como forma de remunerar os serviços internos prestados por determinadas unidades organizacionais a outras.

A quantidade de itens certos é igual a

- A 1.            B 2.            C 3.            D 4.            E 5.

**QUESTÃO 25**

<b>laminadora</b>	
preço de venda unitário (R\$)	10,00
custos variáveis unitários (R\$)	3,00
custo fixo mensal (R\$)	100.000,00
volume de produção mensal	50.000
vendas mensais	50.000
estoque de unidades ao final do mês	20.000

Considerando o quadro acima, julgue os itens que se seguem, a respeito da administração financeira e da contabilidade gerencial.

- I Os custos fixos totais variam em patamares e os custos fixos unitários são inteiramente variáveis pela modificação de volume.
- II O ponto de equilíbrio da laminadora está acima de 14.000 unidades.
- III O custo do saldo de estoque ao final do mês, no sistema de custeio por absorção, é de R\$ 60 mil.
- IV O lucro bruto mensal da laminadora está situado abaixo de R\$ 240 mil.
- V Mesmo que houvesse capacidade instalada, esta empresa não deveria atender a pedido de cliente para produção e venda de unidades adicionais às produzidas atualmente, do seu único produto, ao preço unitário abaixo de R\$ 4,50.

Estão certos apenas os itens

- A I e II.                            C II e III.                            E IV e V.  
 B I e V.                            D III e IV.

**QUESTÃO 26**

Recentemente, órgãos de defesa do consumidor veicularam informações na imprensa a respeito de produtos que tiveram suas embalagens modificadas, com uma diminuição do conteúdo líquido, o que disfarçaria um aumento de preços.

Ao realizar essa prática, uma fábrica que vendia sabão em pó em caixas de 1.000 g do produto passou a vender, pelo mesmo preço, caixas de 900 g em substituição àquelas. Nessa situação, o aumento nominal no preço do quilograma de sabão em pó dessa fábrica foi

- A inferior a 9%.
- B superior a 9% e inferior a 9,5%.
- C superior a 9,5% e inferior a 10,5%.
- D superior a 10,5% e inferior a 11,5%.
- E superior a 11,5%.

**QUESTÃO 27**

Com o objetivo de obter um aumento no preço de seu produto superior à inflação do período, uma fábrica que vendia biscoitos de chocolate em embalagens de 200 g substituiu essas embalagens por outras de 180 g, e passou a vender o produto com redução de 4% do preço original. Assumindo que a taxa de inflação do período tenha sido constante e igual a 0,5% ao mês, ao final do primeiro mês do início dessa prática, o aumento real no preço do quilograma desse produto foi

- A inferior a 5%.
- B superior a 5% e inferior a 6%.
- C superior a 6% e inferior a 7%.
- D superior a 7% e inferior a 8%.
- E superior a 8%.

**RASCUNHO**

## Texto CE – questões de 28 a 30

Um banco oferece aos seus clientes uma opção de investimento em um fundo conservador cujo objetivo é superar o desempenho de uma carteira teórica composta por 90% em depósito interfinanceiro (DI) e 10% em IBOVESPA. Algumas das características básicas desse fundo são:

- imposto de renda (IR) de 20% sobre os rendimentos, descontados no ato do resgate, anteriormente à incidência de qualquer outro imposto;
- os cálculos de rentabilidade mensal do fundo são realizados na forma de juros compostos;
- a data-base de cálculo da rentabilidade mensal do fundo é sempre o 1.º dia útil de cada mês;
- a rentabilidade desse fundo e da carteira teórica em vários períodos é mostrada na tabela abaixo, que foi divulgada no 1.º dia útil de outubro de 2001.

	julho	agosto	setembro	últimos 12 meses	2001
fundo conservador	0,69%	0,77%	! 0,44%	7,45%	5,27%
carteira teórica	0,81%	! 0,58%	! 0,59%	9,28%	7,58%

Os valores contidos nessa tabela representam rendimentos líquidos após deduzida a taxa de administração, não considerando movimentações (aplicações e resgates) efetuadas nem despesas com impostos.

### QUESTÃO 28

Com base no texto CE, considere que um investidor tenha aplicado R\$ 1.000,00 no fundo conservador e uma quantia igual na carteira teórica no 1.º dia útil de julho de 2001. Nessas condições, assinale a opção correta a respeito da rentabilidade acumulada nos meses de julho e agosto de 2001.

- A A rentabilidade da carteira foi superior à do fundo.
- B A rentabilidade do fundo foi superior a R\$ 14,40.
- C A rentabilidade do fundo foi inferior a R\$ 6,90.
- D A rentabilidade da carteira foi superior a R\$ 8,10.
- E A rentabilidade da carteira foi negativa, gerando prejuízo para o investidor.

### QUESTÃO 29

A taxa trimestral relativa ao período de julho a setembro de 2001 equivalente às taxas de rendimento do fundo de investimento conservador descrito no texto CE é igual a

- A  $1,0069 \times 1,0077 \times 0,9956$  ! 1.
- B  $1,0069 \times 1,0077 \times 1,0044$  ! 1.
- C  $1,0069 \times 1,0077 \times (! 1,0044)$  ! 1.
- D  $0,69 \times 0,77 \times 0,56$ .
- E  $0,69 \times 0,77 \times (! 0,44)$ .

### QUESTÃO 30

Ainda com base no texto CE, caso um cliente tenha investido R\$ 1.000,00 no fundo conservador, no 1.º dia útil de outubro de 2000, e tenha resgatado todo o montante ao completar 12 meses de rentabilidade, considerando que a contribuição provisória sobre movimentação financeira (CPMF) de 0,38% seja cobrada sobre o valor total a ser resgatado, então, em reais, a quantia resgatada foi igual a

- A  $[1.074,50 \times 0,80] \times (1 ! 0,0038)$ .
- B  $1.000,00 + (74,50 \times 0,80) \times (1 ! 0,0038)$ .
- C  $(1.000,00 + 74,50) \times 0,80 \times (1 ! 0,0038)$ .
- D  $(1.000,00 + 74,50) \times (1 ! 0,0038)$ .
- E  $[1.000,00 + 74,50 \times 0,80] \times (1 ! 0,0038)$ .

## RASCUNHO



## CONHECIMENTOS GERAIS

### QUESTÃO 31

Além de defender a criação do Estado palestino e de apelar por uma “globalização solidária”, o presidente Fernando Henrique Cardoso enfatizou, em seu discurso pronunciado na abertura da 56.ª Assembléia Geral da Organização das Nações Unidas (ONU), a necessidade de mudança no Conselho de Segurança da ONU, que “não pode continuar a refletir o arranjo entre os vencedores de um conflito ocorrido há mais de 50 anos”. A propósito desses temas abordados pelo dirigente brasileiro, assinale a opção **incorreta**.

- A A criação do Estado palestino é idéia antiga, presente na resolução da ONU que determinou a partilha da região em dois Estados; entretanto, apenas o de Israel materializou-se, enquanto os palestinos ainda lutam pela autonomia e soberania no âmbito de um território que lhes pertença.
- B A questão palestina permanece sendo o grande elemento desestabilizador no Oriente Médio: os analistas concordam ser impossível a paz na região enquanto a existência de Israel for contestada e a do Estado palestino não se concretizar.
- C Ao situar a criação e a atuação do Conselho de Segurança da ONU no contexto histórico engendrado ao fim da Segunda Guerra Mundial, o presidente brasileiro critica a manutenção de sua estrutura na atualidade, tendo em vista a profunda transformação pela qual passou a ordem internacional.
- D Defender uma “globalização solidária”, como fez Fernando Henrique na ONU, significa, entre muitas outras possibilidades de interpretação, uma espécie de endosso ao chamado “espírito de Seattle”, ou seja, ao crescente movimento internacional que contesta os rumos da economia mundializada em padrões visivelmente assimétricos.
- E O Conselho de Segurança da ONU é formado por quinze Estados, eleitos a cada dois anos, sem qualquer distinção entre eles; o direito de veto existiu enquanto o Conselho contava com cinco países permanentes — China, Estados Unidos da América (EUA), Rússia, França e Reino Unido —, o que não mais ocorre desde o fim da União das Repúblicas Socialistas Soviéticas.

### QUESTÃO 32

No último mês de outubro, a maior metrópole chinesa, Xangai, sediou o encontro da *Pacific Economic Cooperation* (APEC). Foi a mais importante reunião de estadistas em território chinês desde a revolução socialista de 1949. Relativamente à estratégica presença chinesa no mundo atual e ao sentido de uma reunião como essa, assinale a opção correta.

- A A APEC é uma associação de 21 países dedicada à cooperação econômica na região em que se insere (Ásia–Pacífico), identificada com o modelo atual da economia mundial, fortemente marcado pela atuação de blocos regionais.
- B O terrorismo não chegou a ser discutido na reunião, cujo temário era fundamentalmente econômico, mesmo porque o continente asiático é o único que ainda se mantém imune à ação de grupos terroristas.
- C Na área da APEC, destacam-se quatro países — China, Rússia, Paquistão e Índia —, embora os dois últimos, desprovidos de armas nucleares, despontem apenas pela dimensão do território e pela gigantesca população.
- D Embora com interesses no Pacífico, os EUA optaram pelo NAFTA e pela intenção de concretizar a ALCA, ambas no continente americano, razão pela qual não integram a APEC nem participaram da reunião de Xangai.
- E Ao contrário do que previam os observadores internacionais, a China retrocede a olhos vistos na abertura de sua economia, nela reduzindo a participação da iniciativa privada, desiste de integrar a Organização Mundial de Comércio (OMC) e opta pelo isolacionismo.

### QUESTÃO 33

Situado na Ásia Central, com uma cultura multissecular, o Afeganistão ganhou as manchetes mundiais nos últimos tempos. Inicialmente, com a presença de tropas soviéticas em seu território; na atualidade, em função dos ataques da coalizão antiterror liderada pelos EUA. No momento em que o regime talibã se vê acuado militarmente, pela ação externa e de seus opositores internos, o país caminha para a reconstrução, o que implica um governo de transição. A respeito do quadro geral afegão, assinale a opção correta.

- A A preservação da “multissecular cultura afegã” somente foi possível pela homogeneidade étnica e religiosa do país, além dos princípios democráticos — aos moldes ocidentais — que conduziram sua história.
- B O regime talibã, conhecido pela violência, também se notabilizou pela absoluta intolerância com que tratou de garantir, segundo suas concepções, a “pureza” cultural do Afeganistão. Exemplo disso, que chocou a opinião pública mundial, foi a destruição de imensas esculturas de Buda existentes no país.
- C A Aliança do Norte é um grupo que se opõe ao Talibã e, após os atentados de 11 de setembro, recebeu apoio maciço dos EUA; diferentemente dos fundamentalistas talibãs, a Aliança é reconhecida por seus métodos pacíficos e por sua identificação com o regime democrático.
- D Os atuais ataques ao Afeganistão, liderados pelos EUA e apoiados pela União Européia, com a significativa exceção do Reino Unido, foram decididos a partir do momento em que o governo do Paquistão reconheceu sua incapacidade de, sozinho, derrotar as milícias talibãs.
- E Independentemente da opinião que se tenha a respeito do presidente George W. Bush, forçoso é reconhecer como politicamente corajosa sua decisão de determinar o ataque ao Afeganistão, quando a opinião pública norte-americana era frontalmente contrária a qualquer tipo de revide aos atos terroristas que atingiram seu país.

**QUESTÃO 34**

Desenvolvimento sustentável, meio ambiente, biodiversidade, ciência e tecnologia são expressões que se vão tornando cada vez mais comuns no mundo contemporâneo. Esses temas refletem o grau de desenvolvimento a que se chegou e, simultaneamente, preocupações com o futuro da vida no planeta, suscitadas pelos efeitos que a exploração desordenada e irracional dos recursos disponíveis na natureza podem ocasionar. Em relação a esse quadro complexo, julgue os itens que se seguem.

- I A emissão desenfreada de gases causadores do efeito estufa na atmosfera pode acarretar mudanças climáticas globais de grande magnitude, como o aumento da temperatura, além de alterações nos padrões de chuva e na distribuição de extremos climáticos, como secas e inundações.
- II Pelo nível de conhecimento hoje existente, pode-se supor ser provável que a intensificação da variação do clima, associada a fenômenos como El Niño e La Niña, decorra do aumento do efeito estufa.
- III Os movimentos ecológicos tidos como radicais, que defendem a intocabilidade da Amazônia, sentem-se com fôlego redobrado com a recente confirmação científica de que a Floresta Amazônica é o “pulmão do mundo”, responsável por mais da metade do oxigênio na Terra.
- IV No Brasil, a pesquisa científica, geradora de novos processos tecnológicos, é majoritariamente feita por instituições públicas; exemplos significativos de vitória do país nesse setor são encontrados na agricultura tropical (EMBRAPA) e na exploração de petróleo em águas profundas (PETROBRAS).
- V Entendendo o termo biodiversidade como a existência, em dada região, de uma grande variedade de espécies, ou de outras categorias taxonômicas, de plantas ou de animais, conclui-se que a Floresta Amazônica é a região de maior diversidade biológica do planeta.

A quantidade de itens certos é igual a

- A 1.      B 2.      C 3.      D 4.      E 5.

**QUESTÃO 35**

A Constituição de 1988 é o marco jurídico da redemocratização brasileira, após duas décadas de regime militar. Fruto de processo constituinte, ela esmerou-se na valorização da cidadania e, nesse sentido, seus primeiros artigos voltam-se para a definição dos direitos sociais e individuais. O espírito que norteou sua elaboração e promulgação também se manifesta na legislação que se seguiu, a exemplo daquela destinada à proteção da infância e do consumidor. Com relação aos direitos consagrados pelas normas legais brasileiras, assinale a opção **incorreta**.

- A A casa é asilo inviolável do indivíduo, ninguém nela podendo penetrar sem consentimento do morador, salvo em determinadas situações.
- B Haverá igualdade de direitos e obrigações entre homens e mulheres.
- C Não se admite censura à expressão da atividade intelectual, artística, científica e de comunicação, mesmo que se trate de propaganda enganosa.
- D É garantido o sigilo da correspondência e das comunicações telegráficas, de dados e telefônicas, que só poderá ser quebrado por decisão judicial.
- E É inviolável a liberdade de consciência e de crença, assegurando-se o livre exercício de cultos religiosos.

**LÍNGUA INGLESA****Text LI – questions 36 to 40**

1 Brazil announces measures to control imports: in the middle of another record monthly trade deficit (US\$801 million in September), Brazil announced a series of measures aimed at  
4 curbing imports late last month. Most of the measures will enter into effect this month pending small adjustments and final coordination among the ministries and agencies involved  
7 (Ministry of Finance; Ministry of Commerce, Industry and Tourism; Ministry of Agriculture; Ministry of Health; and the Internal Revenue Service). The extra workload will pose  
10 additional challenges to an already stretched customs bureaucracy. Most of these measures, however, are not new. Brazil just never enforced them. The distinction may be  
13 relevant, as the International Monetary Fund (IMF) would likely react negatively if Brazil decided to impose new non-tariff barriers while the IMF is negotiating a financial  
16 package with Brazil.

The main measures are:

- Certificate of quality: all imported goods will be  
19 subject to the same quality standards that are applied to Brazilian products as established by the Brazilian Standards Institute INMETRO. As there has been a surge in low quality  
22 imports that compete with Brazilian products, the government has decided to first ensure compliance<sup>1</sup> by all products that currently must undergo quality certification under INMETRO  
25 guidelines.

- Antidumping measures: the antidumping<sup>2</sup> process has been streamlined<sup>3</sup>. It will now take 15 days (before was 30)  
28 to begin an investigation. Safeguard measures may be applied as early as 60 days after the beginning of the investigation, instead of 90 to 120 days as before.

- Rules of origin: if Brazil initiates an antidumping case against a certain product from a certain country, imports of this product from any country can only enter Brazil  
34 accompanied by a certificate of origin. The goal is to prohibit countries under investigation from exporting to Brazil through an intermediate country.

<sup>1</sup> **compliance** – obedience

<sup>2</sup> **dump** – sell abroad at a very low price goods that are not wanted in the home market

<sup>3</sup> **streamline** – make more efficient and effective

Internet: <<http://www.brazilcouncil.org/memberarea/periodicalview2.asp?ID=15>>. (with adaptations).

**QUESTÃO 36**

Based on text LI, choose the **incorrect** option.

- A Imports demand further controls in Brazil.
- B In September, Brazilian monthly trade deficit was superior to any other previous one.
- C All the announced measures to control imports are old measures that were never enforced.
- D In September, the Brazilian monthly trade deficit was greater than half a million dollars.
- E Small adjustments in the measures announced are yet to be made.

**QUESTÃO 37**

According to text LI, it can be concluded that

- A six ministries will be involved in the coordination of the new measures implementation.
- B Brazilian bureaucracy can easily deal with the new measures.
- C hundreds of measures had already been put into force last year.
- D Brazil is currently seeking financial aid from abroad.
- E the IMF will be pleased with Brazilian new measures.

**QUESTÃO 38**

From text LI, it can be deduced that

- I new non-tariff barriers imposed by Brazil may affect IMF financial loan.
- II quality standards will no longer be considered as far as imported products are concerned.
- III before the introduction of the certificate of quality, imported goods did not have to be tested for the same quality standards as Brazilian products.
- IV imported products are far superior to Brazilian goods.
- V low quality imports will now be able to compete with Brazilian products.

The only true items are

- A I and II.
- B I and III.
- C II and IV.
- D III and V.
- E IV and V.

**QUESTÃO 39**

From text LI, it can be inferred that

- A if there is a case against an imported product from a certain country, this product cannot at all enter Brazil, regardless of its origin.
- B countries under investigation will be allowed to export to Brazil through an intermediate country.
- C safeguard measures used to take more than four months to be applied.
- D beginning an antidumping investigation process used to take two months.
- E antidumping measures have been made quicker.

**QUESTÃO 40**

In text LI,

- I “curbing” (R.4) can be correctly replaced by **controlling**.
- II “pose” (R.9) means **present**.
- III “however” (R.11) is synonymous with **forever**.
- IV “ensure” (R.23) can be correctly replaced by **beg**.
- V “as early as” (R.29) means **whenever**.

The only true items are

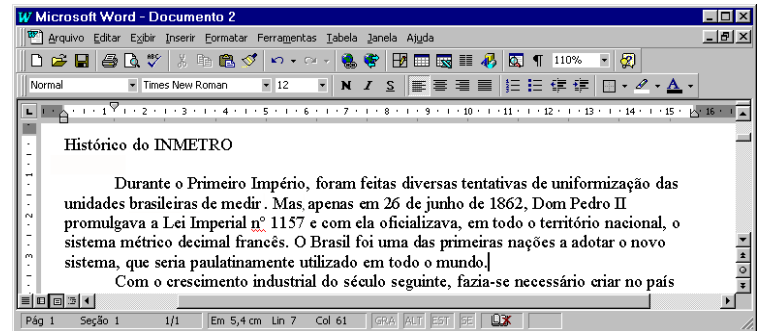
- A I and II.
- B I and V.
- C II e III.
- D III and IV.
- E IV and V.

**CONHECIMENTOS DE INFORMÁTICA**








Nas questões de 41 a 45, considere que todos os programas mencionados estão em configuração-padrão, em português, e que o *mouse* está configurado para pessoas destrás. Assim, a menos que seja explicitamente informado o contrário, expressões como clicar, clique simples e clique duplo referem-se a cliques com o botão esquerdo do *mouse*. Considere também que não há restrições de proteção e de uso em relação aos programas, arquivos, diretórios e *hardware* mencionados.

**Texto CI – questões 41 e 42**

A figura a seguir mostra um fragmento de texto editado por um usuário no Word 97.






**QUESTÃO 41**

No fragmento de texto mostrado na figura do texto CI, caso o usuário selecione o trecho “Durante o Primeiro Império” e deseje copiar esse trecho para a Área de transferência, será suficiente que ele

- A clique no botão .
- B clique no botão .
- C pressione a tecla  e, mantendo-a pressionada, tecle .
- D clique no *menu*  e, em seguida, na opção Colar.
- E pressione a tecla  e, mantendo-a pressionada, tecle .

**QUESTÃO 42**

Ainda com referência ao texto CI e ao Word 97, julgue os itens a seguir.

- I O usuário terá aplicado negrito ao termo “INMETRO” após executar a seguinte seqüência de ações: selecionar esse termo; pressionar a tecla  e, mantendo-a pressionada, teclar ; liberar a tecla .
- II Para o usuário centralizar o título, “Histórico do INMETRO”, é suficiente que ele selecione esse título e clique uma vez em .
- III Se o ponto de inserção for posicionado imediatamente à esquerda da palavra “Durante”, e o usuário acionar duas vezes a tecla de tabulação, após essa ação, o ponto de inserção estará posicionado imediatamente à esquerda da palavra “Primeiro”.
- IV Caso o usuário deseje selecionar a palavra “Império”, ele poderá fazê-lo, aplicando um clique duplo entre duas letras quaisquer dessa palavra.
- V Para o usuário realizar a verificação ortográfica automática do texto mostrado na figura, é suficiente que ele clique em .







Estão certos apenas os itens

- A I e II.
- B I e IV.
- C II e III.
- D III e V.
- E IV e V.

**QUESTÃO 43**

Um técnico elaborou, no Excel 97, a planilha mostrada na figura ao lado, contendo várias medidas de tensão elétrica, realizadas por meio de um instrumento eletrônico. Devido à imprecisão do instrumento, foram feitas 5 medidas de cada tensão, que estão incluídas na planilha. Nessa situação, caso o técnico





	A	B	C	D	E	F	G
1		Tensão 1	Tensão 2	Tensão 3			
2	Medida 1	1,06	1,98	3,01			
3	Medida 2	1,05	2,04	3,10			
4	Medida 3	0,96	1,96	3,00			
5	Medida 4	1,01	2,13	2,98			
6	Medida 5	1,00	1,99	2,91			

- A deseje determinar a média aritmética das 5 medidas da tensão 1, pondo o resultado na célula B7, será suficiente que ele execute a seguinte seqüência de ações: clicar na célula B7; digitar =média(B2:B6) e, em seguida, teclar << .
- B deseje calcular a soma dos conteúdos das células B2, C2 e D2, pondo o resultado na célula E2, será suficiente que ele clique na célula E2 e, em seguida, em  .
- C deseje aumentar a largura da coluna B, será suficiente que ele execute a seguinte seqüência de ações: clicar no cabeçalho  B da coluna B e, em seguida, pressionar a tecla  .
- D deseje apagar apenas os conteúdos da linha 2, mantendo os demais dados, será suficiente que ele execute a seguinte seqüência de ações: selecionar a linha 2, clicar em  2 , e clicar em  .
- E clique na célula B2 e, em seguida, clique em  , o conteúdo dessa célula será alterado de 1,06 para 10,6.

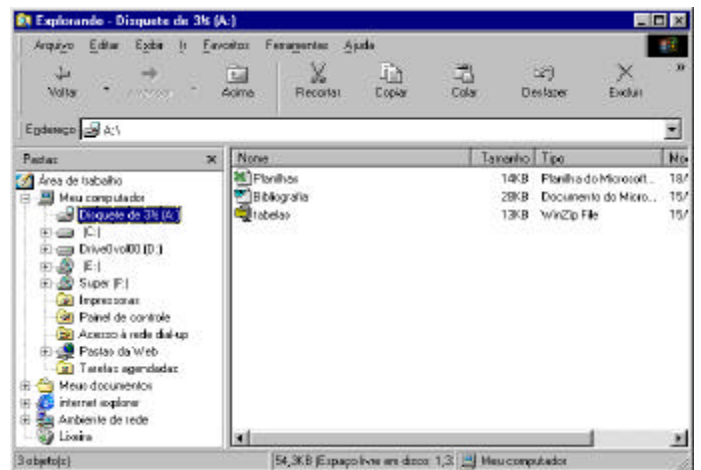
**QUESTÃO 44**










A figura acima mostra uma janela do Internet Explorer 5, que está sendo utilizado por um usuário para acessar um *site*. A respeito dessa figura, assinale a opção correta.

- A Caso o usuário clique no botão  Parar , o Internet Explorer 5 será fechado.
- B Caso o usuário clique no botão  Avançar , a região oculta mais à direita da página *web* atual será mostrada na tela.
- C A seqüência de caracteres “http://www.inmetro.gov.br/” é um exemplo de URL.
- D Ao clicar em [Sites de Interesse](#) , será aberta uma lista de *sites* favoritos do usuário, que foram anexados à lista por meio do botão  Favores .
- E Qualquer que seja o usuário, caso este clique em  Página inicial , será exibida a página principal do INMETRO.

**QUESTÃO 45**



A figura acima mostra uma janela do Windows Explorer, executado em um computador com o sistema operacional Windows 98. Com relação a essa figura e ao Windows Explorer, assinale a opção correta.

- A Caso o usuário clique no botão  Acima , serão mostrados na janela todos os conteúdos da Área de trabalho do Windows 98.
- B O arquivo  tabelas certamente corresponde a uma planilha editada no Excel 97.
- C Caso o usuário aplique um clique duplo em  Bibliografia , esse arquivo será apagado.
- D O arquivo  Bibliografia está gravado em disquete.
- E Para o usuário imprimir o arquivo  Planilhas , é suficiente que ele clique no ícone  Planilhas e, em seguida, aplique um clique duplo em  Impressoras .