

**SEAD**

SECRETARIA EXECUTIVA DE ESTADO DE ADMINISTRAÇÃO



INSTITUTO DE GESTÃO PREVIDENCIÁRIA DO ESTADO DO PARÁ

**Concurso Público**  
**Nível Médio**

# Cargo 7:

## Assistente Administrativo

**CADERNO**  
**DE PROVAS****TARDE****CESPE**  
UNIVERSIDADE DE BRASÍLIA  
Criando Oportunidades para Realizar Sonhos

Aplicação: 8/5/2005

**LEIA COM ATENÇÃO AS INSTRUÇÕES ABAIXO.**

- 1 Ao receber este caderno, confira se ele contém **quarenta** questões, correspondentes às provas objetivas, corretamente ordenadas de **1 a 40**.
- 2 Caso o caderno esteja incompleto ou tenha qualquer defeito, solicite ao fiscal de sala mais próximo que tome as providências cabíveis.
- 3 Não utilize nenhum material de consulta que não seja fornecido pelo CESPE.
- 4 Durante as provas, não se comunique com outros candidatos nem se levante sem autorização do chefe de sala.
- 5 A duração das provas é de **três horas**, já incluído o tempo destinado à identificação — que será feita no decorrer das provas — e ao preenchimento da folha de respostas.
- 6 Ao terminar as provas, chame o fiscal de sala mais próximo, devolva-lhe a sua folha de respostas e deixe o local de provas.
- 7 A desobediência a qualquer uma das determinações constantes no presente caderno, na folha de rascunho ou na folha de respostas poderá implicar a anulação das suas provas.

**AGENDA**

- I **9/5/2005**, a partir das 10 h (horário de Brasília) — Gabaritos oficiais preliminares das provas objetivas: Internet — [www.cespe.unb.br](http://www.cespe.unb.br) — e quadros de avisos do CESPE/UnB, em Brasília.
- II **10 e 11/5/2005** — Recursos (provas objetivas): formulários estarão disponíveis no Sistema Eletrônico de Interposição de Recurso, Internet — [www.cespe.unb.br/concursos/igeprev2005](http://www.cespe.unb.br/concursos/igeprev2005).
- III **8/6/2005** — Resultado final das provas objetivas e do concurso: Diário Oficial do Estado do Pará e locais mencionados no item I.

**OBSERVAÇÕES**

- Não serão objeto de conhecimento recursos em desacordo com o item 11 do Edital n.º 1/2005 – IGEPREV, de 18/2/2005.
- Informações adicionais: telefone 0(XX) 61 448 0100; Internet – [www.cespe.unb.br](http://www.cespe.unb.br).
- É permitida a reprodução deste material apenas para fins didáticos, desde que citada a fonte.

- Nas questões de 1 a 40, marque, em cada uma, a única opção correta, de acordo com o respectivo comando. Use a folha de rascunho para as devidas marcações e, posteriormente, a **folha de respostas**, que é o único documento válido para a correção das suas provas.
- Nos itens que avaliam **Noções de Informática**, a menos que seja explicitamente informado o contrário, considere que todos os programas mencionados estão em configuração-padrão, em português, que o *mouse* está configurado para pessoas destros e que expressões como clicar, clique simples e clique duplo referem-se a cliques com o botão esquerdo do *mouse*. Considere também que não há restrições de proteção, de funcionamento e de uso em relação aos programas, arquivos, diretórios e equipamentos mencionados.

## CONHECIMENTOS BÁSICOS

### Texto I – questões de 1 a 4

#### Pará gera mais empregos com carteira assinada

1 O Pará começou o ano com mais um resultado positivo  
na geração de empregos com carteira assinada, na região  
Norte, seguindo uma tendência constatada em 2004. O Estado  
4 ficou em primeiro lugar no Norte, contribuindo com 1.144  
novos postos de trabalho, o que representa 82,24% dos  
empregos gerados na região, de acordo com a Diretoria de  
7 Estudos, Informações e Pesquisas Econômicas (DIEP), da  
Secretaria Executiva de Planejamento Orçamento e Finanças  
(SEPOF).

10 Segundo os técnicos da SEPOF, esse resultado é o  
melhor, comparativamente aos desempenhos do mês de  
janeiro dos anos anteriores, levando-se em conta o início da  
13 série desenvolvida pelo Ministério do Trabalho e Emprego  
(MTE/CAGED), em 1990, o que confirma e demonstra a  
continuidade do bom desempenho da economia paraense,  
16 observado nos últimos anos.

A região metropolitana de Belém teve, em janeiro, um  
saldo de 1.169 vagas de trabalho, resultado de 7.003  
19 admissões e 5.834 desligamentos de trabalhadores do  
mercado formal de trabalho, crescendo 0,55% em relação a  
dezembro de 2004. Os setores da economia que apresentaram  
22 maior incremento foram: serviços, comércio e indústria e  
formação. As perdas de postos de trabalhos ocorreram na  
construção civil, com a demissão de 77 trabalhadores, e  
25 serviços industriais de utilidade pública, com 10  
desligamentos.

No conjunto das nove Regiões Metropolitanas do país,  
28 Belém ficou na quinta posição com o saldo acima  
mencionado. Em primeiro lugar, ficou São Paulo, com 32.076  
postos de trabalho, seguida de Belo Horizonte, com 4.978,  
31 Curitiba, com 4.099, e Fortaleza, com 1.815. As Regiões  
Metropolitanas de Rio de Janeiro, Recife e Salvador  
apresentaram resultados de -3.753, -1.265 e -175,  
34 respectivamente.

Agência Brasileira de Notícias. Internet: <[http://www.abn.com.br/  
editorias](http://www.abn.com.br/editorias)>. Acesso em 6/4/2005 (com adaptações).

#### QUESTÃO 1

Assinale a opção correta quanto às idéias do texto I.

- A O comportamento do emprego em Belém, em janeiro de 2005, foi desfavorável por causa do desligamento de trabalhadores.
- B A Região Metropolitana do Rio de Janeiro, segundo os dados da SEPOF, ocupou, em janeiro, a quarta posição no *ranking* nacional de emprego formal.
- C Segundo a agência de notícias, Salvador teve, em janeiro, o pior saldo do país relativamente à oferta de trabalho com carteira assinada.
- D Com base nos dados relativos a demissão de trabalhadores na Região Metropolitana de Belém, conclui-se que o setor de serviços industriais de utilidade pública apresentou mais desenvolvimento que o da construção civil.
- E Conforme os dados da SEPOF, Belém teve, em janeiro de 2005, saldo superior a 1.815 vagas de trabalho.

#### QUESTÃO 2

Com relação a aspectos gramaticais do texto I, assinale a opção correta.

- A A estrutura oracional “seguindo uma tendência” (l.3) também ficaria correta como **seguindo-se uma tendência** ou como **seguido uma tendência**.
- B Na linha 11, a expressão “comparativamente aos desempenhos” pode ser substituída, com igual correção, por **comparado os desempenhos**.
- C A estrutura “esse resultado é o melhor” (l.10-11) pode ser substituída, sem prejuízo do sentido do texto, por **o resultado melhor teria sido este**.
- D Em “o que confirma e demonstra” (l.14), as formas verbais podem ser substituídas, sem prejuízo do sentido do texto, por **retifica e estimula**, respectivamente.
- E A estrutura “As Regiões Metropolitanas do Rio de Janeiro, Recife e Salvador apresentaram” (l.31-33) também fica correta como em **A Região Metropolitana do Rio de Janeiro, a do Recife e a de Salvador apresentaram**.

#### QUESTÃO 3

Quanto à classificação e ao emprego das palavras no texto I, é correto afirmar que

- A “mais”, tanto no título como na linha 1, é um vocábulo invariável.
- B a expressão “na região Norte” (l.2-3) refere-se a “carteira”.
- C a expressão “os técnicos da SEPOF” (l.10) faz referência a **pessoas do sexo masculino conhecidas na SEPOF por seu desempenho**.
- D o vocábulo “saldo” (l.28) equivale a “incremento” (l.22).
- E a expressão “As perdas de postos de trabalhos” (l.23) tem valor verbal.

#### QUESTÃO 4

Acerca dos aspectos gramaticais do texto I e de sua tipologia, assinale a opção correta.

- A O substantivo “**Pará**”, no título, deveria vir precedido de artigo, para se atender às regras gramaticais.
- B Em “O Pará começou o ano com” (l.1), a expressão sublinhada pode ser corretamente substituída por: **iniciou-se com o ano**.
- C Nas linhas 5 e 20, os numerais que indicam porcentagem encontram-se incorretamente registrados, pois deveriam estar escritos por extenso, tendo em vista tratar-se de texto informativo.
- D As expressões “de acordo com” (l.6) e “Segundo” (l.10) introduzem informações de responsabilidade da agência de notícias.
- E A flexão de “observado” (l.16) no feminino traria prejuízo gramatical ao texto.

**Texto II – questões de 5 a 7**

1 O escritor Euclides da Cunha abordou, em seus escritos, duas regiões tidas como inóspitas e inexploradas: o sertão baiano e a selva amazônica.

4 Os ensaios amazônicos são a face menos conhecida de sua obra. Encontram-se dispersos em artigos e entrevistas de jornal, em crônicas e prefácios, em sua correspondência, além  
7 de documentos da viagem, que foram resumidos no **Relatório da Comissão Mista Brasileira-Peruana de Reconhecimento do Alto Purus** (1906). Seu relatório se  
10 completa com o registro visual da expedição: as fotografias de Egas Florence e os mapas que fez como cartógrafo do Itamaraty.

13 Euclides escreveu sobre o sertão baiano e a selva amazônica como paisagem fantástica ou maravilhosa que paralisa o observador, tomado por um misto de terror e  
16 êxtase, de desilusão e deslumbramento, diante do desconhecido.

Roberto Ventura. *Os Sertões em Dois Cenários*. In: Madeira, Angélica e Mariza Veloso (orgs.). *Descobertas do Brasil*. Brasília: EdUnB, 2001.

**QUESTÃO 5**

Com base no texto II, julgue os itens que se seguem.

- A A literatura citada, que tem como referência duas regiões distintas, situa a região amazônica em fase anterior à sua expansão demográfica.
- B Está implícito no texto que o “**Relatório**” de Euclides da Cunha reúne, de forma sintética, os documentos do autor acerca da expedição.
- C Depreende-se do texto que o fotógrafo Egas Florence fazia trabalhos cartográficos para o Itamaraty.
- D Há idéia de que o registro visual da expedição supera os documentos de viagem elaborados por Euclides da Cunha.
- E A fragmentação da obra euclidiana é tida como fator responsável pela desvalorização do autor.

**QUESTÃO 6**

Assinale a opção correta quanto a aspectos sintáticos e interpretativos do texto II.

- A A expressão “duas regiões tidas como inóspitas e inexploradas” (l.2) descreve a visão de Euclides da Cunha sobre o sertão baiano e a selva amazônica, respectivamente.
- B O significado do vocábulo “inóspitas” (l.2) opõe-se à idéia de umidade e calor excessivos de determinada região.
- C Na expressão “a face menos conhecida de sua obra” (l.4-5), a expressão “menos conhecida” pode ser substituída, sem prejuízo do sentido do texto, por **a parte bem ignorada**.
- D O vocábulo “prefácios” (l.6) tem o significado genérico de obras incompletas.
- E A expressão “desconhecido” (l.17) tem como referente um elemento não-humano.

**QUESTÃO 7**

Em relação ao emprego das palavras no texto II, assinale a opção correta.

- A O complemento da forma verbal “abordou” (l.1) é “em seus escritos” (l.1-2).
- B Os termos “de jornal” (l.5-6) e “da expedição” (l.10) têm a mesma função sintática e podem ser substituídos, com correção, pelos adjetivos **jornalísticas** e **expedicionárias**, respectivamente.
- C A expressão “sobre o sertão baiano e a selva amazônica” (l.13-14) pode, com igual correção, ser substituída por **acerca do sertão baiano e da selva amazônica**.
- D A oração “que paralisa” (l.14-15) introduz um valor explicativo ao termo antecedente.
- E A locução “diante do” (l.16) pode ser substituída, com correção, por **face o**.

**QUESTÃO 8**


1 A Amazônia acumula alguns superlativos em escala mundial: maior bacia hidrográfica, com 20% da água doce e  
oito dos dez maiores rios do planeta; quase da metade da  
4 floresta tropical; maior quantidade de matéria viva por unidade de superfície etc. Ainda se pode observar que, como  
uma de suas principais características, a Amazônia apresenta  
7 grande diversidade climática, geológica, hidrológica e de ecossistemas.


Jonas Bastos da Veiga *et al.* (eds.). *Expansão e trajetórias da pecuária na Amazônia*. Brasília: EdUnB, 2004.


A respeito de aspectos gramaticais e discursivos do texto acima, assinale a opção correta.

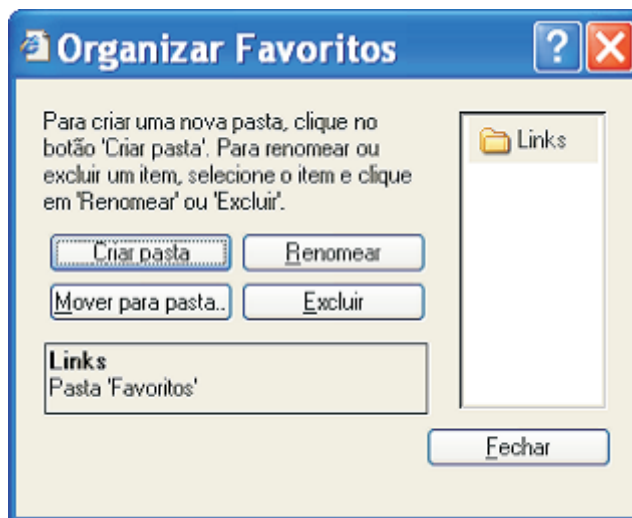
- A A expressão “superlativos” (l.1) está sendo empregada em sentido conotativo, o que implica prejuízo para o texto, no que se refere à objetividade.
- B O vocábulo “água” (l.2) recebe acento gráfico pela mesma regra de acentuação gráfica de **inócua**.
- C O vocábulo “como” (l.5) introduz uma oração que expressa uma comparação.
- D No trecho “Ainda se pode observar (...) ecossistemas” (l.5-8), os sinais de pontuação empregados caracterizam emprego obrigatório, mas ainda poderia ser empregada vírgula após “Amazônia” (l.6).
- E Em “a Amazônia” (l.6), verifica-se caso facultativo de emprego de acento indicativo de crase.

Considerando a janela do Internet Explorer 6 (IE6) ilustrada ao lado, assinale a opção correta, a respeito de conceitos relacionados à Internet e a navegadores *web*.

- A Sabendo que, no momento em que a figura mostrada ao lado foi capturada, o ponteiro do *mouse* encontrava-se sobre o objeto  Governo do Pará, é correto concluir que esse objeto corresponde a um *hyperlink* a uma página *web* segura, cujo acesso somente será possível se o computador a partir do qual esse acesso será realizado possuir conexão segura, tal como a ADSL.
- B As informações contidas na figura permitem concluir que a página mostrada ao lado utiliza recursos denominados *pop-up*.
- C Atualmente, é possível a contaminação por vírus de computador em operações de navegação na Internet. Uma forma de se proteger contra essa ameaça é por

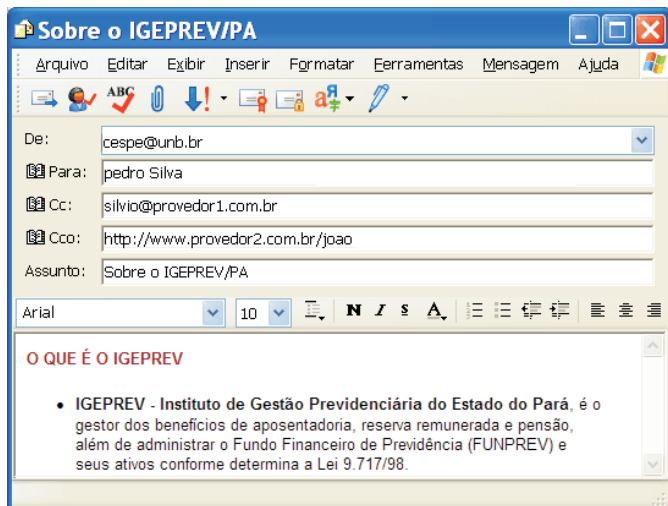


- meio do uso de *software* antivírus. As informações contidas na figura permitem concluir que o computador a partir do qual o acesso à Internet que obteve a página *web* ilustrada foi realizado possui *software* antivírus.
- D O acesso à Internet requer o uso de protocolos de forma a permitir a correta troca de informações entre o sítio visitado e o computador a partir do qual o acesso é realizado, e cada navegador *web* utiliza seus próprios protocolos. Por isso, páginas que são acessíveis pelo IE6, a exemplo da mostrada, são, normalmente, inacessíveis por outro navegador, tal como o Netscape Navigator, que utiliza protocolos FTP/UDP, enquanto o IE6 utiliza protocolos TCP/IP.
- E Caso o botão  seja clicado, será disponibilizado recurso que permite obter a janela ilustrada a seguir, desde que o IE6 esteja adequadamente configurado.






QUESTÃO 10




Considerando a janela do Outlook Express 6 (OE6) ilustrada acima, assinale a opção correta.


A As informações contidas na janela são suficientes para se



concluir que, ao se clicar o botão , será indicado erro de grafia referente à instrução **pedro Silva** no campo


**Para:**

B As informações contidas na janela acima são suficientes para

se concluir que o botão  foi utilizado para compor a mensagem de correio eletrônico mostrada.

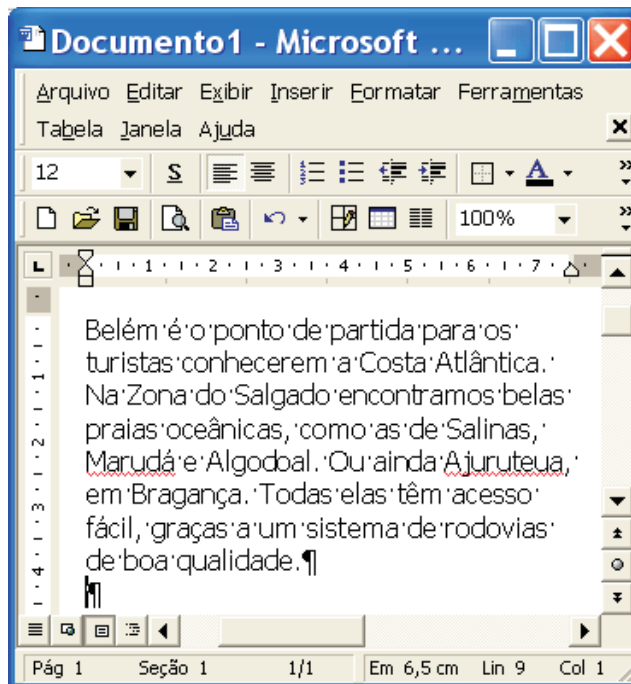
C A instrução <http://www.provedor2.com.br/joao> no campo **Cco:** garante que, ao se clicar o botão , será iniciado procedimento de envio de mensagem de correio eletrônico a destinatário que usa recursos de *webmail* para receber *e-mail*.

D Os botões  e  referem-se a recursos do OE6 que permitem aumentar a segurança no envio da mensagem de correio eletrônico com relação, respectivamente, a garantias de autenticidade do autor da referida mensagem e à *criptação* da mensagem, o que dificulta a leitura de seu conteúdo de forma não-autorizada. Esses botões podem estar simultaneamente acionados, caso sejam clicados.

E O botão  permite inserir chave eletrônica à mensagem de correio eletrônico mostrada na janela do OE6.

Texto III – questões 11 e 12


A figura a seguir ilustra uma janela do aplicativo Word 2000 que contém um documento em elaboração, cujo texto foi extraído e adaptado do sítio <http://www.pa.gov.br>.





QUESTÃO 11


Considerando a janela do Word 2000 contida no texto III, assinale a opção correta.

A Com base na figura mostrada, é correto afirmar que o documento em elaboração possui uma única página, mas não é possível afirmar que ele possui uma única seção.

B Considere que o documento em edição está associado a um arquivo de nome “Documento1”, armazenado no disco rígido do computador em uso. Nessa situação, caso se deseje salvar esse documento em disquete de 3½”, é possível fazê-lo por meio de funcionalidades disponibilizadas ao se clicar o botão .

C Para se inserir uma marca de tabulação na primeira linha do texto mostrado, é suficiente clicar imediatamente antes de “Belém” e, em seguida, clicar .

D Sabendo que o texto mostrado constitui um único parágrafo que está alinhado à esquerda, então, para justificar o alinhamento desse parágrafo, é suficiente clicar sobre qualquer palavra do referido texto e, em seguida, clicar o botão .

E Para se excluir o trecho “Ou ainda Ajuruteua, em Bragança.”, é suficiente realizar o seguinte procedimento: clicar sobre “Ou”; pressionar e manter pressionada a tecla ; teclar

; liberar a tecla ; teclar .

**QUESTÃO 12**

Ainda considerando a janela do Word 2000 contida no texto III, assinale a opção que contém procedimento correto para se modificar o estilo de fonte em uso no texto do documento que está sendo editado.

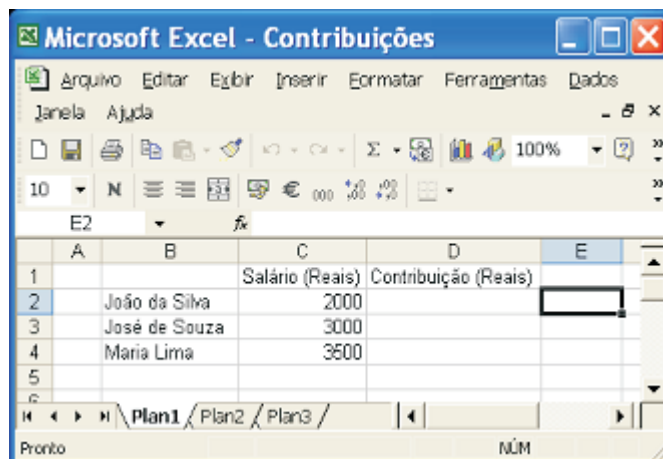
- A Selecionar todo o texto mostrado do documento; clicar em Opções no menu **Ferramentas**; na janela disponibilizada em decorrência dessa ação, clicar a guia Fonte; definir o estilo de fonte desejado; clicar OK.
- B Clicar sobre “Belém”; pressionar e manter pressionado o botão esquerdo do *mouse*; arrastar o ponteiro do *mouse* até o final do texto mostrado; liberar o botão esquerdo do *mouse*; usar funcionalidades adequadas da janela Fonte, acessada por meio do menu **Formatar**.
- C Clicar sobre “Belém”; pressionar e manter pressionada a tecla **Alt**; teclar **Page Down**; usar funcionalidades da janela Fonte, acessada por meio do menu **Ferramentas**.
- D Pressionar e manter pressionada a tecla **Shift**; teclar **T**; clicar a opção Estilo no menu **Editar**; na janela disponibilizada em decorrência dessa ação, definir o estilo de fonte desejado; clicar OK.
- E Selecionar todo o texto mostrado do documento; clicar na seta em **A**; na janela disponibilizada em decorrência dessa ação, definir o estilo de fonte desejado; clicar OK.

**QUESTÃO 13**

Considere que, ao adquirir um computador pessoal do tipo PC, que utiliza um microprocessador do tipo Pentium IV, um cliente tenha adquirido também o sistema operacional Windows XP Professional, que foi instalado no referido computador. Tendo como referência inicial essa situação hipotética, assinale a opção correta.

- A Caso tivesse sido instalado o Windows 2000 em vez do Windows XP Professional, o computador adquirido não funcionaria de forma apropriada, já que o Windows 2000 é específico para computadores de 8 bits e o Windows XP Professional só funciona em computadores de 64 bits.
- B Para que o usuário possa acessar a Internet por meio de linha discada, usando o computador adquirido, será necessária a compra de *software* específico para acesso à Internet, já que o Windows XP Professional não possui funcionalidades específicas para esse acesso.
- C Como o ícone Lixeira do Windows 2000 causava problemas de segurança, deixando o computador vulnerável à ação de *hackers*, a empresa que produz o Windows XP Professional optou por não incluir essa funcionalidade neste sistema operacional.
- D O termo *plug and play*, geralmente associado ao Windows XP Professional, é utilizado para designar sistemas operacionais que contêm, além das funcionalidades típicas desse tipo de sistema, um certo número de jogos similares aos tradicionais *videogames*.
- E No Windows XP Professional, ao se clicar, com o botão direito do *mouse*, o botão Iniciar, será exibida uma lista contendo, entre outras, a opção Propriedades, que permite definir qual o estilo do menu Iniciar.

**QUESTÃO 14**



A figura acima mostra uma janela do Excel 2002, com uma planilha em processo de edição, na qual as células D2, D3 e D4 referentes a “Contribuição” devem ser preenchidas com valores correspondentes a 6% dos salários indicados, respectivamente, nas células C2, C3 e C4. Com relação a essa situação hipotética e ao Excel 2002, assinale a opção correta.

- A Para se calcular a soma dos valores contidos nas células C2, C3 e C4 e pôr o resultado na célula C5, é suficiente clicar a célula C5, digitar total(C2,C4) e, em seguida, teclar **Enter**.
- B Para se calcular a contribuição de “João da Silva” e pôr o resultado na célula D2, é suficiente clicar a célula D2, digitar o número 6, selecionar as células C2 e D2 e, em seguida, clicar o botão Estilo de porcentagem.
- C Para se selecionar o grupo de células formado pelas células B2, B3, B4, C2, C3 e C4, é suficiente realizar a seguinte seqüência de operações: clicar a célula B2, pressionar e manter pressionada a tecla **Shift**; clicar a célula C4, liberando, então, a tecla **Shift**.
- D Para se aplicar negrito às células C1 e D1, é suficiente selecioná-las e, em seguida, pressionar simultaneamente as teclas **Shift** e **N**.
- E Ao se aplicar um clique duplo na célula D1, o seu conteúdo será excluído.

QUESTÃO 15

RASCUNHO

A secretaria de finanças de um estado brasileiro, para aumentar o acervo de sua biblioteca, comprou  $x$  livros da área de orçamento, a R\$ 95,00 cada,  $y$  livros da área de contabilidade, a R\$ 90,00 cada, e  $z$  livros da área jurídica, a R\$ 85,00 cada. Sabendo que, no total, foram comprados 1.020 livros e que os números  $x$ ,  $y$  e  $z$  são, respectivamente, proporcionais a 3, 5 e 7, assinale a opção correta.

- A  $x + y = 640$ .
- B Algum dos números  $x$ ,  $y$  ou  $z$  é inferior a 200.
- C Para a compra dos livros das áreas de orçamento e contabilidade, foram gastos R\$ 49.980,00.
- D Algum dos números  $x$ ,  $y$  ou  $z$  é superior a 500.
- E Para a compra dos livros das áreas jurídica e contabilidade, foram gastos R\$ 65.040,00.

QUESTÃO 16

O quadro de pessoal de um órgão da secretaria de administração de um estado brasileiro é composto de  $T$  servidores. Destes,  $S$  servidores ocupam cargos de nível superior,  $M$  ocupam cargos de nível médio e  $F$  ocupam cargos de nível fundamental. Sabe-se que  $S$ ,  $M$  e  $F$  estão, nesta ordem, em progressão geométrica e que  $\frac{1}{28}$  do total de servidores estão se aposentando, o que corresponde a 1% do pessoal de nível superior, 2% do pessoal de nível médio e 5% do pessoal de nível fundamental. Com base nessas informações e sabendo que  $2,9^2 = 8,41$ , assinale a opção correta.

- A A razão da progressão geométrica mencionada acima é superior 1,5.
- B  $T > 4M$ .
- C  $T < 6S$ .
- D  $T = 2F$ .
- E  $S \times F = \frac{T^2}{16}$ .

QUESTÃO 17

A folha de pagamentos de um município é composta por 242 servidores, dos 3 níveis de escolaridade: fundamental, médio e superior. No nível superior, o salário mensal é de R\$ 3.500,00, no nível médio, R\$ 2.500,00 e no nível fundamental, R\$ 1.500,00. A despesa mensal total com o salário desses servidores é de R\$ 525.000,00. Sabendo-se que o número de servidores de nível fundamental é igual a soma do número de servidores de nível médio com o número de servidores de nível superior mais 2, julgue os itens seguintes.

- I A quantidade de servidores de nível médio é o dobro da quantidade de servidores de nível superior.
- II A quantidade de servidores de nível fundamental é inferior a 130.
- III A despesa mensal com o pessoal de nível médio é superior à soma das despesas mensais com o pessoal de nível superior e fundamental.
- IV Se o município reajustar os salários do pessoal de nível superior em 12%, de nível médio, em 10% e de nível fundamental em 8%, então a folha de pagamentos mensal será aumentada em R\$ 41.700,00.
- V Se fossem demitidos 25 servidores de nível fundamental e 8% dos servidores de nível médio, então a folha de pagamentos seria reduzida em R\$ 53.100,00.

Estão certos apenas os itens

- A I e III.
- B I e IV.
- C II e IV.
- D II e V.
- E III e V.

**QUESTÃO 18****RASCUNHO**

Uma equipe de servidores da previdência de um estado brasileiro foi destacada para examinar alguns processos de benefícios. Sabe-se que todos os elementos dessa equipe são igualmente eficientes, isto é, gastam o mesmo tempo para analisar cada processo, e que 15 desses servidores analisam 600 processos de benefícios em 8 horas.

Com base nessas informações, julgue os itens seguintes.

- I Cada elemento da equipe gasta menos de 15 minutos para analisar um processo.
- II 525 processos serão analisados em um número par de horas por alguns elementos da equipe.
- III 12 elementos da equipe analisam, em 9 horas de trabalho, mais de 500 processos.
- IV Para analisar 750 processos em 12 horas e meia de trabalho, são necessários menos de 10 elementos da equipe.

Estão certos apenas os itens

- A I e III.
- B I e IV.
- C II e IV.
- D I, II e III.
- E II, III e IV.

**QUESTÃO 19**

Um terreno foi vendido por R\$ 9.760,00 de entrada e mais três parcelas anuais e iguais de R\$ 20.000,00, com a 1.ª parcela vencendo um ano após a venda. Supondo que o vendedor cobre uma taxa de juros compostos de 25% ao ano e sabendo que  $(1,25)^{-1} = 0,8$ ,  $(1,25)^{-2} = 0,64$  e que  $(1,25)^{-3} = 0,512$ , é correto concluir que o valor do terreno, à vista, é

- A inferior a R\$ 45.000,00.
- B superior a R\$ 45.000,00 e inferior a R\$ 50.000,00.
- C superior a R\$ 50.000,00 e inferior a R\$ 55.000,00.
- D superior a R\$ 55.000,00 e inferior a R\$ 60.000,00.
- E superior a R\$ 60.000,00.

**QUESTÃO 20**

Considere o conjunto  $G$  de todos os números reais  $x$  tais que  $4 < 10 - x \leq 8$  ou que  $-9 < 2x - 25 \leq 15$ . A respeito desse conjunto, assinale a opção correta.

- A Algum elemento de  $G$  é menor que 1.
- B Se  $x_1$  e  $x_2$  estão no conjunto  $G$  e se  $x_1 < x_2$ , então todos os valores de  $x$  tais que  $x_1 < x < x_2$  estão também em  $G$ .
- C O número  $\sqrt{2}$  faz parte do conjunto  $G$ .
- D Todos os números reais entre  $\frac{5}{2}$  e 5 estão em  $G$ .
- E Algum número real superior a 10 e inferior a 18 não faz parte do conjunto  $G$ .



## CONHECIMENTOS ESPECÍFICOS

### QUESTÃO 21

As relações públicas (RP) eficazes dependem do equilíbrio entre as metas organizacionais e as necessidades e valores da sociedade. Com relação às RP, assinale a opção correta.

- A As RP têm o objetivo principal de promover o conhecimento acerca de produtos e serviços de uma organização junto ao público-alvo e suas formas de atuação, nas diversas áreas, são definidas de modo uniforme.
- B A maioria das organizações bem-sucedidas reconhece o importante papel das RP na obtenção desse sucesso, por isso, considera que as RP devem ser praticadas por meio da manipulação de alguns aspectos específicos envolvidos na situação a ser trabalhada.
- C As RP requerem análise eventual da imagem da organização tanto junto ao público interno quanto ao externo.
- D As RP devem ocorrer em clima de franqueza e consistência de ações para garantir a confiança do público-alvo.
- E De modo geral, as organizações são capazes de manejar as suas RP com eficácia, sem nenhuma assessoria de profissionais especializados, pois elas já conhecem o seu funcionamento junto ao público.

### QUESTÃO 22

Gilda, assistente administrativa, trabalha em uma instituição de gestão previdenciária de um estado brasileiro. No exercício de seu cargo, Gilda deve executar atividades relacionadas à gestão de pessoas e à gestão de informações. O gerente do setor de lotação de Gilda geralmente convida todos os seus colaboradores para a definição das metas setoriais e pede sugestões para melhoria do funcionamento do setor. Gilda destaca-se tanto nas sugestões oferecidas na área de qualidade e produtividade do trabalho quanto no aspecto de relacionamento interpessoal da equipe.

Diante da situação hipotética apresentada, assinale a opção **incorreta** acerca das relações humanas no trabalho.

- A O modelo gerencial praticado pelo gerente do setor de lotação de Gilda é democrático e participativo.
- B Como Gilda exerce atividades relacionadas à gestão de informações, ela deve ser capaz de comunicar-se com clareza e objetividade para que essa gestão seja eficaz.
- C Nessa situação, é correto afirmar que Gilda é uma pessoa que tem competência emocional mais desenvolvida que competência técnica.
- D O modelo gerencial praticado no setor de Gilda favorece o surgimento de um bom nível de motivação da equipe.
- E Como Gilda trabalha com gestão de pessoas, é desejável que ela tenha o domínio da habilidade de empatia.

### QUESTÃO 23

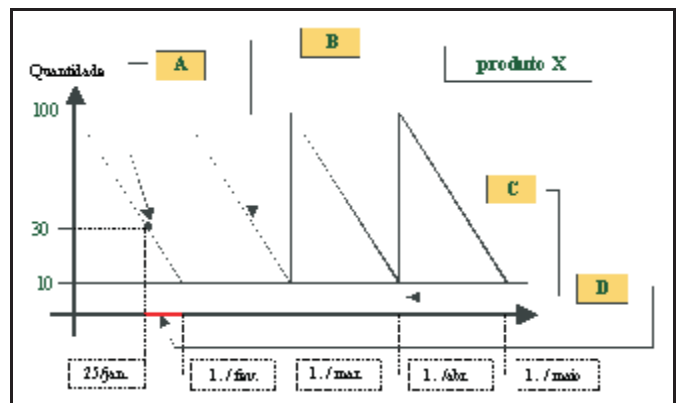
A administração de materiais compreende o agrupamento de materiais de várias origens e a coordenação dessa atividade com a demanda de produtos ou serviços da organização.

Marco Aurélio P. Dias. *Administração de materiais: uma abordagem logística*. Atlas, 1995, p. 12.

A respeito do dimensionamento e controle de estoque, assinale a opção **incorreta**.

- A A previsão de consumo ou demanda deve ser a etapa inicial de um eficaz planejamento de estoque.
- B Os custos relativos ao controle de estoque são os custos de armazenagem, os custos de pedido e os custos de ruptura.
- C O aumento dos custos de manutenção de estoque e dos custos de pedido está diretamente ligado ao aumento da quantidade de material em questão.
- D Lote econômico de compras refere-se a uma quantidade ideal a ser comprada ou produzida, em função do menor custo total possível.
- E A curva ABC é um método que possibilita ao gestor de estoque identificar os itens que merecem maior atenção e tratamento adequado quanto à sua administração, via ordenação dos itens em uma escala de importância relativa.

### QUESTÃO 24



O gráfico dente-de-serra apresentado acima é uma representação de variadas conceituações referentes a um sistema de controle de estoques. Com base nessas informações, assinale a opção **incorreta**.

- A A quantidade 100 apresentada refere-se à quantidade máxima de estoque do produto X.
- B A letra A no gráfico refere-se à quantidade ideal (30) para requerer mais produtos para o estoque.
- C A letra B representa o consumo do produto X durante um tempo definido.
- D A letra C refere-se à quantidade mínima que deve existir em estoque que se destina a cobrir eventuais atrasos no suprimento, com o objetivo de garantir o funcionamento ininterrupto do processo produtivo ou do atendimento à demanda dos clientes.
- E A letra D corresponde ao intervalo de tempo entre dois ressuprimentos denominado intervalo de ressuprimento.

**QUESTÃO 25**

Uma administração financeira eficiente deve ter como principal missão a obteção de um conjunto de recursos apropriados, o controle dos custos e dos prazos a fim de financiar, a todo momento, os investimentos necessários para atingir os objetivos da organização.

Josep Faus. *Administração financeira de curto prazo: análise e diagnóstico*. In: *Administração de empresas: análise contábil e financeira*. Nova Cultural, 1988, p. 50.

A administração financeira relaciona-se com diferentes áreas de conhecimento. Essas interseções são por vezes de fácil identificação e outras vezes nem sempre se distinguem facilmente. Acerca dessas possibilidades de relação e demais conceituações básicas pertinentes ao tema abordado no texto acima, assinale a opção correta.

- A Apesar da atuação em campos bastante estreitos, a administração financeira diferencia-se da contabilidade por utilizar o regime de competência, enquanto esta última utiliza o regime de caixa para reconhecer as receitas e despesas que, efetivamente, representam entradas e saídas de recursos.
- B Enquanto o contador volta sua atenção para a coleta e a apresentação dos dados financeiros, o administrador financeiro analisa os demonstrativos contábeis, o desenvolvimento de dados adicionais para a tomada de decisão, com base também em suas avaliações acerca do risco e dos retornos inerentes.
- C As bolsas de valores compõem o principal componente do mercado de capitais. O mercado de capitais caracteriza-se por uma relação financeira entre fornecedores e tomadores de fundos de curto prazo para a realização de transações.
- D Os ganhos de capital referem-se à diferença positiva ou negativa entre o preço de venda de um ativo e o seu preço de compra.
- E O índice de liquidez corrente é um índice financeiro que mede a capacidade da empresa em satisfazer suas obrigações de curto prazo. Por esse motivo, exclui-se do seu cálculo os valores referentes ao estoque por ser o ativo de menor liquidez.

**QUESTÃO 26**

O arquivo é o instrumento principal para servir de controle à ação administrativa de qualquer organização pública ou privada.

Heloisa de Almeida Prado. *A técnica de arquivar*. LTC, 2003, p. 15.

O processo de arquivamento demanda uma preparação do material a ser arquivado. Com relação a esse assunto, assinale a opção **incorreta**.

- A A preparação do material a ser arquivado inicia-se pela codificação do material.
- B A escolha do método de arquivamento possui uma relação direta com as atividades funcionais da organização a que se destina, pois precisa atender às necessidades da mesma.
- C A codificação implica na colocação de identificadores em cada documento de modo a recuperá-lo com facilidade.
- D A ordenação dos documentos refere-se ao agrupamento dos materiais de acordo com a codificação definida anteriormente.
- E Independentemente do método adotado, é necessário que haja flexibilidade para permitir a expansão do arquivo frente às prováveis demandas futuras e haja simplicidade para permitir a plena compreensão e consulta pelos usuários.

**QUESTÃO 27**

A Dercorart é uma empresa fornecedora de produtos e serviços para decoração de quartos infantis. Apesar dos 5 anos de existência, a empresa tem sido mantida pelos mesmos integrantes desde a sua fundação: Maíra, a gerente e proprietária, 3 vendedores e 2 técnicos de instalação. Maíra tem percebido a necessidade de ampliar o corpo funcional da empresa, pois a Decorart tem triplicado a necessidade de oferecimento dos seus serviços e produtos. Para tanto, decidiu contratar Donato como gerente de recursos humanos (RH), que será responsável pela implantação e operacionalização da gestão de RH da empresa.

Considerando a situação hipotética acima, assinale a opção **incorreta** em relação a noções de recursos humanos.

- A Os processos a serem utilizados por Donato para suprir a empresa dos recursos humanos necessários são o recrutamento e a seleção de pessoal.
- B A manutenção dos funcionários na empresa por meio da remuneração e do oferecimento de benefícios é responsabilidade de Donato.
- C Considere que Donato identificou que o clima organizacional foi avaliado como satisfatório pelos integrantes da Decorart. Entretanto, a pontuação não atingiu a pontuação máxima, pois foi fortemente impactada pela necessidade de segurança. Os funcionários não concordaram com a existência de uma política salarial que proporcionasse uma perspectiva segura longo prazo. Nesse caso, é correto afirmar que Donato necessita implantar um sistema de remuneração que envolva a administração de cargos, de salários (inclusive com as pesquisas de mercado) e de benefícios.
- D Suponha que Donato detectou que não havia na empresa nenhum tipo de preocupação quanto à identificação da contribuição de cada vendedor no total de receita ou do número de reclamações por atendimento por técnico de instalação. Nesse caso, Donato necessita implantar um sistema de treinamento para que esses funcionários possam analisar o verdadeiro desempenho profissional.
- E A administração de recursos humanos é uma responsabilidade dos administradores de linha da organização.

**QUESTÃO 28**

O constante crescimento qualitativo e quantitativo da informação, também chamado de explosão da informação, provocou a evolução e o aperfeiçoamento das técnicas de registro e análise dos documentos, a fim de poupar tempo e esforço inútil dos estudiosos em problemas já solucionados ou experiências que já foram testadas anteriormente, por meio de informações.

Cinterfor *apud* Marilena L. Paes. **Arquivo: teoria e prática**. FGV, 2005, p. 17 (com adaptações).

Com referência aos conceitos básicos inerentes à noção de arquivamento, julgue os próximos itens.

- I Um arquivo diferencia-se de uma biblioteca e de um museu basicamente por, mesmo existindo um valor cultural, ser primordialmente funcional, enquanto o objetivo da biblioteca e do museu é essencialmente cultural.
- II O arquivo permanente é constituído de documentos em curso, ou seja, os documentos permanentemente consultados. Eles são geralmente conservados nos escritórios ou nas repartições que os receberam e os produziram ou em dependências próximas e de fácil acesso.
- III Suponha que a família de um colecionador doou, a pedido dele, um acervo de cartas composto por 98 correspondências de personagens da história nacional do período de 1910 a 1970, para o museu da república. Essa doação, feita por declaração de última vontade, é um ato denominado depósito.
- IV Quanto ao gênero, os documentos em suportes sintéticos, em papel emulsionado ou não, contendo imagens estáticas, a exemplo das fotografias, desenhos e gravuras, são classificados como documentos iconográficos.
- V A classificação de documentos públicos envolve três principais elementos: a ação a que os documentos se referem; a estrutura do órgão que os produz e o assunto dos documentos.

A quantidade de itens certos é igual a

- A 1.      B 2.      C 3.      D 4.      E 5.

**QUESTÃO 29**

Na gestão, o que se corrige hoje, desmancha amanhã, ou torna-se obsoleto devido à emergência de fatos novos, exigindo novas decisões administrativas.

Luis Carlos Bresser Pereira. **Reforma do Estado para a Cidadania**. ENAP, 1998, p. 24 (com adaptações).

Acerca dos variados contextos de gestão no setor público, assinale a opção correta.

- A O processo de descentralização da administração pública brasileira caracteriza-se pela relação de vinculação e de controle finalístico pelo Estado brasileiro com as entidades que exercem as atividades anteriormente por ele executadas.
- B A administração pública burocrática é um estilo de gestão caracterizado pela ênfase no profissionalismo dos seus integrantes, sendo, portanto, efetiva no combate à corrupção e ao nepotismo.
- C Descentralização, no sentido jurídico-administrativo, significa a repartição de funções entre vários órgãos (despersonalizados) de uma mesma administração, sem quebra de hierarquia.
- D O controle interno, a exemplo da auditoria do tribunal de contas sobre a efetivação de uma determinada despesa do executivo, é configurado quando o controle é realizado pela entidade ou órgão responsável pela atividade controlada, no âmbito da própria administração.
- E As fundações públicas, que integram a administração pública centralizada, são pessoas jurídicas de direito público interno, criadas por lei ou em decorrência de autorização legal, sem fins lucrativos.

QUESTÃO

O que mais irrita as pessoas no trato com o governo é a arrogância da burocracia. As pessoas, hoje em dia, querem ser valorizadas como clientes. Mesmo por parte do governo.

David Osborne e Ted Gaebler. **Reinventando o Governo**. Enap, 1998, p. 182.

Enquanto as organizações privadas precisam valorizar e satisfazer o cliente para aumentar suas vendas, principalmente quando o ambiente é competitivo, as organizações públicas recebem seus recursos do governo, além da maioria de seus clientes serem cativos e com poucas alternativas. Dessa forma, nem sempre o serviço público corresponde à necessidade do cliente. Para que efetivamente os prestadores de serviços públicos possam atender a real necessidade dos clientes, faz-se necessário ter-se um sistema voltado para o cliente. Quanto às vantagens de se ter um sistema desse tipo, assinale a opção **incorreta**.

- A O sistema voltado para o cliente força os prestadores de serviço a se responsabilizarem por ele, pois como o cliente pode escolher outro concorrente, os prestadores de serviço procuram conhecer as suas necessidades, fazendo o possível para supri-las.
- B Nos sistemas voltados para o cliente, criam-se clientes mais responsáveis, uma vez que o prestador de serviço oferece a eles o poder de escolha e, em decorrência desse poder, os clientes tendem a tornar-se mais responsáveis.
- C Os prestadores de serviço, nesse caso, são estimulados a oferecer inovações, buscando reduzir custos e aumentar a qualidade do serviço.
- D No serviço público, o sistema voltado para o cliente aumenta a politização da escolha de prestadores de serviço. A política, freqüentemente, interfere na escolha do fornecedor, em decorrência das pretensões eleitorais, e o sistema de clientes aumenta a influência política.
- E O sistema voltado para o cliente reduz o desperdício, uma vez que equilibra a oferta e a procura.

QUESTÃO 31

Acerca das características e composições da administração pública direta e indireta, assinale a opção **incorreta**.

- A As pessoas jurídicas da administração pública indireta possuem autonomia, personalidade jurídica e patrimônio próprio.
- B As autarquias, a exemplo da Agência Nacional de Vigilância Sanitária (ANVISA), são pessoas jurídicas de direito público interno, que realizam um serviço destacado da administração direta, e, dessa forma, exercem atividade típica da administração pública.
- C Integram a administração pública os serviços sociais autônomos, instituídos por lei, com personalidade de direito privado, tais como SESC e SENAI, com finalidade de prestar assistência ou ministrar ensino a certas categorias sociais ou grupos profissionais, sem fins lucrativos, e que são mantidos por dotações orçamentárias ou por contribuições parafiscais.
- D O Ministério da Previdência Social compõe a organização administrativa centralizada, ou seja, a administração pública direta.
- E O Instituto Nacional do Seguro Social (INSS) compõe a administração pública direta, pois, apesar de exercer um serviço autônomo, não possui personalidade jurídica nem gestão administrativa e financeira descentralizada.

QUESTÃO 32

Se procurarmos bem, encontraremos ramificações éticas na maior parte de nossas escolhas. A ética está presente nas questões que nos confrontam diariamente: quais são as nossas responsabilidades para com os pobres? Justifica-se que tratemos os animais como nada além de máquinas que produzem carne para a nossa alimentação? Devemos continuar usando papel não reciclado? E por que, afinal, devemos nos preocupar em agir de acordo com princípios morais? Outros problemas, como o aborto e a eutanásia, felizmente, não constituem, para a maior parte de nós, decisões a serem tomadas todos os dias; mas são problemas que podem surgir a qualquer momento de nossas vidas. Portanto, dizem respeito a todos, e qualquer participante ativo do processo de tomada de decisões em nossa sociedade deve refletir sobre eles.

Peter Singer. **Ética prática**. Jefferson Luiz Camargo (trad.). São Paulo: Martins Fontes, 2002 (com adaptações).

Considerando o texto acima, assinale a opção correta.

- A A ética pode ser definida como uma série de proibições ligadas ao sexo.
- B Atribuir aos interesses alheios o mesmo peso que se atribui aos próprios é um princípio ético.
- C A ética pode ser reduzida a um sistema de normas simples e breves, do tipo: **Não minta, não roube e não mate**.
- D A ética é algo compreensível somente no contexto da religião.
- E A ética é um sistema ideal de nobreza na teoria, mas inaproveitável na prática.



**QUESTÃO 33**

A respeito dos direitos e garantias fundamentais previstos na Constituição Federal, assinale a opção correta.

- A Os direitos e garantias fundamentais estão restritos ao artigo 5.º da Constituição Federal.
- B Os direitos fundamentais são bens da vida, previstos nas normas constitucionais, enquanto as garantias são instrumentos por meio dos quais se pode assegurar o exercício ou a reparação dos aludidos direitos.
- C Os direitos e garantias fundamentais têm caráter universal, pois são destinados, de modo indiscriminado, aos brasileiros residentes no país.
- D Os direitos fundamentais são alienáveis, porque possuem conteúdo econômico-patrimonial.
- E O direito à vida, como direito fundamental, abrange apenas o direito de não ser morto, mas não o direito de ter uma vida digna.

**Texto IV – questões de 34 a 36**

De 2002 para 2003, cresceu em 4% o número de contribuintes para a previdência. Este foi o maior aumento desde 1993. Em 2003, cerca de 45% da população ocupada contribuía para a previdência — o que representava 37 milhões de trabalhadores contribuintes. No Brasil, no ano de 2003, 22 milhões de homens contribuíram para a previdência, em qualquer trabalho. A pesquisa nacional por amostra a domicílios — PNAD 2003 — detectou 14 milhões de trabalhadores sindicalizados no Brasil. Esse contingente aumentou em 800 mil pessoas em relação a 2002.

Internet: <www.ibge.gov.br> (com adaptações).

**QUESTÃO 34**

De acordo com as informações do texto IV, é correto inferir que o tamanho total da população ocupada em 2003 estava entre

- A 40 milhões e 50 milhões.
- B 50 milhões e 60 milhões.
- C 60 milhões e 70 milhões.
- D 70 milhões e 80 milhões.
- E 80 milhões e 90 milhões.

**QUESTÃO 35**

A partir do texto IV, é correto concluir que o número de mulheres que contribuíram para a previdência em 2003, em qualquer trabalho, é igual a

- A 15 milhões.
- B 20 milhões.
- C 25 milhões.
- D 27 milhões.
- E 30 milhões.

**QUESTÃO 36**

Com base no texto IV, é correto concluir que o aumento do número de trabalhadores sindicalizados de 2002 a 2003 foi de

- A 1,5% a 2,5%.
- B 2,5% a 3,5%.
- C 3,5% a 4,5%.
- D 4,5% a 5,5%.
- E 5,5% a 6,5%

**RASCUNHO**

**QUESTÃO 37**

No Brasil, o parlamentarismo chegou a ser estabelecido em dois períodos históricos distintos: no período imperial e no período republicano. No Brasil Imperial, a prática parlamentarista entrou em vigor no Segundo Reinado, entre os anos de 1847 e 1889. A segunda experiência parlamentarista no Brasil durou pouco mais de um ano, tendo sido implantada em 1961. A Constituição Federal de 1988 previu um plebiscito a ser realizado para a escolha do regime e da forma de governo.

Tendo o assunto abordado no texto acima como referência inicial, assinale a opção **incorreta** acerca dos sistemas de governo e demais normas de organização do Estado.

- A O estado democrático de direito adotado no Brasil tem como fundamento o pluralismo político e funda-se no poder dos representantes eleitos direta ou indiretamente pelo povo.
- B O Brasil adotou a forma republicana de governo, o sistema presidencialista de governo e a forma federativa de Estado.
- C No presidencialismo, o presidente da República exerce o poder executivo em toda a sua plenitude, acumulando funções de chefe de Estado, chefe de governo e chefe da administração pública.
- D A União detém órgãos próprios, e sua organização política é fundada no princípio da separação dos poderes.
- E Sistemas de governo são técnicas que regem as relações entre os poderes executivo e legislativo no exercício de funções governamentais.

**QUESTÃO 38**

João, descontente com a atuação do governador do seu estado, que praticara ato lesivo contra bens de valor histórico presentes no município em que residia, pleiteou judicialmente a anulação do ato, por meio de uma ação popular. O juiz, porém, solicitou cópia do título de eleitor de João, como prova da sua cidadania. João não pôde cumprir a ordem, porque tinha 17 anos de idade e não havia ainda realizado o seu alistamento eleitoral. O juiz, então, extinguiu a ação, invocando o parágrafo 3.º do art. 1.º da Lei n.º 4.717/1965 (lei que regula a ação popular), que dita: “A prova da cidadania, para ingresso em juízo, será feita com o título eleitoral, ou com documento que a ele corresponda”.

Desconsiderando qualquer questão processual que a situação hipotética possa suscitar, e atendo-se às noções relativas a cidadania, assinale a opção **incorreta**.

- A A cidadania é um dos fundamentos do estado democrático de direito no qual se constitui a República Federativa do Brasil.
- B Para o direito brasileiro, cidadania é conceito relacionado ao indivíduo titular do direito político de votar.
- C O conceito de cidadania pode assumir, em uma perspectiva social, o sentido de autonomia e participação, em busca da afirmação de direitos.
- D A cidadania é um conceito universal e homogêneo que não admite modificação conforme o tempo, o lugar e as condições socioeconômicas.
- E A cidadania deve ser pensada em um contexto que envolva as questões da autonomia, da democracia e do desenvolvimento.

**QUESTÃO 39**

Considere a seguinte situação hipotética.

Um oficial da Polícia Militar do Estado do Pará envolveu-se em um furto e, em decorrência desse fato, foi condenado à pena privativa de liberdade por três anos, por sentença que transitou em julgado na justiça comum.

Em face dessas considerações, assinale a opção **incorreta** de acordo com a Constituição do Estado do Pará.

- A Além de cumprir a penalidade fixada na esfera criminal, o oficial poderá perder o posto e a patente se for julgado indigno do oficialato.
- B Em tempo de guerra, o julgamento a respeito da perda do posto e da patente do referido oficial seria realizado por tribunal especial.
- C A simples condenação à pena privativa de liberdade, independentemente dos anos fixados pelo órgão judicial, seria causa automática de submissão do citado oficial ao julgamento sobre a perda do seu posto e patente.
- D São duas as causas de perda do posto e da patente do policial militar do estado do Pará: a indignidade e a incompatibilidade.
- E O cometimento de crime militar que enseje condenação à pena privativa de liberdade, determinada pela justiça militar, pelo prazo previsto na Constituição do Estado do Pará, também seria capaz de levar o oficial militar a julgamento sobre a perda do seu posto e patente.

**QUESTÃO 40**

Considere as seguintes situações hipotéticas.

- I A empresa Alfa exerce atividade minerária sem plano de controle ambiental e sem a realização da recuperação das áreas que está explorando.
- II Preocupada com a alta taxa de empregadas contratadas em idade fértil e com o crescimento do número de licenças-maternidade, uma empresa passou a exigir, antes da contratação de qualquer nova empregada, a apresentação de atestados de gravidez e de esterilização.
- III Determinada empresa foi notificada por um débito previdenciário que girava em torno de um milhão de reais. Expirada a data para a realização do recolhimento, não houve pagamento do débito. Foi realizada, então, a inscrição dessa empresa na dívida ativa do INSS.
- IV A empresa Beta exerce atividade agropecuária e recruta trabalhadores na capital do estado do Pará para levá-los a regiões remotas do estado, onde são privados da sua liberdade de locomoção e obrigados ao trabalho sem retribuição salarial.

A quantidade de situações geradoras de impedimento à contratação ou à manutenção de contrato com o poder público do estado do Pará é igual a

- A 0.            B 1.            C 2.            D 3.            E 4.

