

Governo do Estado de Roraima  
Secretaria de Administração do Estado de Roraima

**PCRR**

Polícia Civil do Estado de Roraima

**CONCURSO PÚBLICO**

Caderno de Provas

Aplicação: 17/5/2003

**TARDE**

Cargo:

**Odonto-Legista**

Nível Superior



**LEIA COM ATENÇÃO AS INSTRUÇÕES ABAIXO.**

- 1 Ao receber este caderno, confira se ele contém as provas objetivas, com **cento e cinquenta** itens corretamente ordenados de **1 a 150**.
- 2 Caso o caderno esteja incompleto ou tenha qualquer defeito, solicite ao fiscal de sala mais próximo que tome as providências cabíveis.
- 3 Recomenda-se não marcar ao acaso: cada item cuja resposta divirja do gabarito oficial definitivo acarretará a perda de **um ponto**, conforme consta no Edital n.º 1/2003 – PCRR, de 6/3/2003.
- 4 Não utilize nenhum material de consulta que não seja fornecido pelo CESPE.
- 5 Durante as provas, não se comunique com outros candidatos nem se levante sem autorização do chefe de sala.
- 6 A duração das provas é de **três horas e trinta minutos**, já incluído o tempo destinado à identificação — que será feita no decorrer das provas — e ao preenchimento da folha de respostas.
- 7 A desobediência a qualquer uma das determinações constantes nas presentes instruções, na folha de rascunho ou na folha de respostas poderá implicar a anulação das suas provas.

**AGENDA**

- I 19/5/2003 – Divulgação, a partir das 10 h, dos gabaritos oficiais preliminares das provas objetivas, na Internet — no endereço eletrônico <http://www.cespe.unb.br> —, nos quadros de avisos do CESPE/UnB — em Brasília — e na cidade de Boa Vista – RR, nos seguintes locais: Secretaria de Estado da Administração, rua Major Manoel Correa, n.º 526, São Francisco; Secretaria de Estado da Segurança Pública, av. Capitão Ene Garcez, n.º 324, Centro (Prédio Velho) e rua Araújo Filho, n.º 703, Centro; Centro Estadual do Servidor Público (CETRESP), av. Brigadeiro Eduardo Gomes, n.º 1.364, Dos Estados.
- II 20 e 21/5/2003 – Recebimento de recursos contra os gabaritos oficiais preliminares das provas objetivas, exclusivamente nos locais e no horário que serão informados juntamente com a divulgação desses gabaritos.

III 11/6/2003 – Data provável da divulgação (após a apreciação de eventuais recursos), no Diário Oficial do Estado de Roraima e nos locais mencionados no item I, do resultado final das provas objetivas e da convocação para avaliação psicológica, exames biométricos e avaliação médica.

**OBSERVAÇÕES**

- Não serão objeto de conhecimento recursos em desacordo com o estabelecido no item 10 do Edital n.º 1/2003 – PCRR, de 6/3/2003.
- Informações relativas ao concurso poderão ser obtidas pelo telefone 0(XX)-61-448-0100.
- É permitida a reprodução deste material apenas para fins didáticos e desde que citada a fonte.

- De acordo com o comando a que cada um dos itens de 1 a 150 se refira, marque, na **folha de respostas**, para cada item: o campo designado com o código **C**, caso julgue o item **CERTO**; o campo designado com o código **E**, caso julgue o item **ERRADO**; ou o campo designado com o código **SR**, caso desconheça a resposta correta. Marque, obrigatoriamente, para cada item, um, e somente um, dos três campos da **folha de respostas**, sob pena de arcar com os prejuízos decorrentes de marcações indevidas. A marcação do campo designado com o código **SR** não implicará apenação. Para as devidas marcações, use a folha de rascunho e, posteriormente, a **folha de respostas**, que é o único documento válido para a correção das suas provas.
- Nos itens que avaliam **Conhecimentos de Informática**, a menos que seja explicitamente informado o contrário, considere que todos os programas mencionados estão em configuração-padrão, em português, que o *mouse* está configurado para pessoas destreas e que expressões como clicar e clique referem-se a cliques com o botão esquerdo do *mouse*. Considere também que não há restrições de proteção e de uso em relação aos programas, arquivos, diretórios e equipamentos mencionados.

## CONHECIMENTOS GERAIS

### Um diálogo interessante

1 — A necessidade de viver em sociedade acarreta para o homem obrigações particulares?

4 — Sim, e a primeira de todas é a de respeitar os direitos dos semelhantes; aquele que respeitar esses direitos será sempre justo. No vosso mundo, onde tantos homens não praticam a lei de justiça, cada um usa de represálias, e vêm daí a perturbação e a confusão da vossa sociedade. A vida social dá direitos e impõe deveres recíprocos.

7 — Podendo o homem iludir-se quanto à extensão do seu direito, o que o deve levar a conhecer-lhe os limites?

13 — Os limites do direito que reconhece para o seu semelhante em relação a ele, na mesma circunstância e de maneira recíproca.

*Livro dos espíritos, capítulo XI (com adaptações).*

A partir das idéias e da forma do texto acima, julgue os itens a seguir.

- 1 A lei da justiça consiste, principalmente, em respeitar os direitos dos semelhantes.
- 2 Represálias, perturbações e confusões não pertencem ao conjunto dos procedimentos socialmente justos.
- 3 Há uma relação de reciprocidade entre direitos e deveres individuais.
- 4 Mantém a mesma idéia da pergunta formulada nas linhas 9 e 10 a seguinte reformulação: **Se o homem pode se iludir quanto à dimensão de seu direito, o que deve levá-lo a conhecer os limites de tais direitos?**
- 5 O interlocutor informa, no último parágrafo, que os limites do direito, que o cidadão reconhece para o seu semelhante em relação a si, devem ser obedecidos, reciprocamente, em circunstâncias idênticas.
- 6 Embora tenha convivido com toda sorte de regimes autoritários e totalitários, o século XX, de maneira geral, assistiu ao desenvolvimento de regimes políticos democráticos, em cuja raiz encontram-se os direitos e deveres que devem balizar a vida em sociedade.
- 7 Embora com motivações ideológicas diferentes, os atuais regimes políticos da República Popular da China e do Reino Unido se aproximam em termos de reconhecimento dos direitos individuais e coletivos, algo que se manifesta nas práticas abertas, pluralistas e democráticas de governo.

1 Há teorias que procuram a distinção do direito com relação à moral a partir dos critérios interioridade (moral) e exterioridade (direito). Mas há críticas que repousam  
4 sobretudo no fato de que o direito por vezes regula condutas internas e por vezes regula condutas externas, assim como ocorre com a moral. Essa dicotomia é, portanto, insuficiente  
7 para dar conta do problema.

Se o direito for entendido e definido exclusivamente a partir das idéias de normatividade e validade, então seu campo nada tem a ver com a Ética. Esta proposta de cisão metodológica, de Hans Kelsen, acabou por provocar fissura profunda no entendimento e no raciocínio dos juristas do século XX.

Então, pode-se sintetizar sua proposta: as normas jurídicas são estudadas pela ciência do direito; as normas morais são objeto de estudo da Ética, como ciência. O raciocínio jurídico, então, não deverá versar sobre o que é certo ou errado, sobre o que é virtuoso ou vicioso, sobre o que é bom ou mau, mas sim sobre o lícito e o ilícito, sobre o legal (constitucional) ou ilegal (inconstitucional), sobre o válido e o inválido.

*Eduardo C. B. Bittar. Moral, justiça e direito (com adaptações).*

Em cada um dos itens seguintes, julgue a correção gramatical da reescritura apresentada e a manutenção da idéia do texto acima.

- 8 “Há teorias (...) (direito)” (ℓ.1-3): **Existe teorias em que procuram distinguir direito de moral, tendo por parâmetros os critérios de interioridade (relativa à moral) e exterioridade (referente ao direito)**
- 9 “Mas há (...) internas” (ℓ.3-5): **Mas houveram críticas que refutavam tais teorias, embasadas, sobre tudo, no fato de o direito, as vezes, regular condutas internas**
- 10 “direito (...) problema” (ℓ.4-7): **direito, assim como a moral, por vezes regulam condutas externas, assim como internas; por isso a dicotomia não é suficiente para dar conta do problema**
- 11 “Se o direito (...) Ética” (ℓ.8-10): **Nada tem há ver com a ética se se entender o direito, e defini-lo a partir das idéias de norma e validez**
- 12 “pode-se (...) ciência” (ℓ.14-16): **Sintetizando o texto, podem-se estabelecer as seguintes relações: normas jurídicas, ciência do direito; normas morais, ciência da Ética**
- 13 “O raciocínio (...) inválido” (ℓ.17-21): **Pelo texto, é incompatível ao raciocínio jurídico valores como certo ou errado, virtuoso ou vicioso, bom ou mau, lícito ou ilícito, legal ou ilegal, constitucional ou inconstitucional, válido ou inválido**

1 Poucas tendências em tecnologia da informação  
foram tão divulgadas quanto o comércio eletrônico. A  
4 valorização das ações das empresas que já trabalham com  
*e-commerce* chega a desafiar os fundamentos básicos do  
mundo dos negócios. Exemplo típico é o caso da  
Amazon.com. No entanto, há vários mitos que permanecem  
7 quando se trata de indústria de informação.

Montar um *Web site* é fácil, mesmo com as  
transações de *e-commerce*. Mas, considerando os termos  
10 eficiente e bem-sucedido, torna-se muito mais difícil. Um  
*Web site* é como um *iceberg*. O que se vê parece pequeno e  
simples, mas por baixo há questões de integração com talvez  
13 40 ou 50 bancos de dados. Portanto, construir uma  
infra-estrutura *Web* pode apresentar riscos bastante sérios  
para as companhias mais antigas.

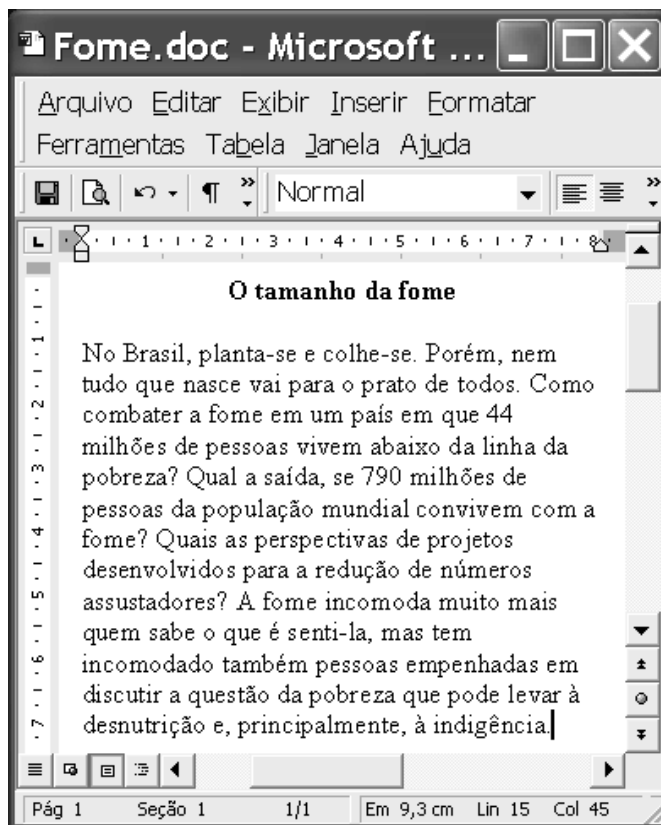
16 O comércio eletrônico não se resume a colocar um  
*site* na Internet, mas o custo maior dessa operação está na  
logística. Uma vez colocado no ar, um cliente insatisfeito  
19 com o serviço pode fazer com que dez outras pessoas  
fiquem com o pé atrás antes mesmo de experimentá-lo.

Para muitas empresas, as questões de negócios  
22 envolvidas no *e-commerce* são assustadoras. Mudanças nos  
processos empresariais, relacionamentos com clientes e  
fornecedores, acesso a dados, propriedade dos dados,  
25 estratégia de distribuição e táticas de *marketing* estão  
por trás da maior parte dos esforços de comércio via *Web*.

Kellen Cristina Bogo. *Mitos da indústria de informação*. Internet:  
<<http://www.google.com.br>>. Acesso em 3/4/2003 (com adaptações).




Com relação ao texto acima e às idéias nele contidas, julgue os  
itens que se seguem.

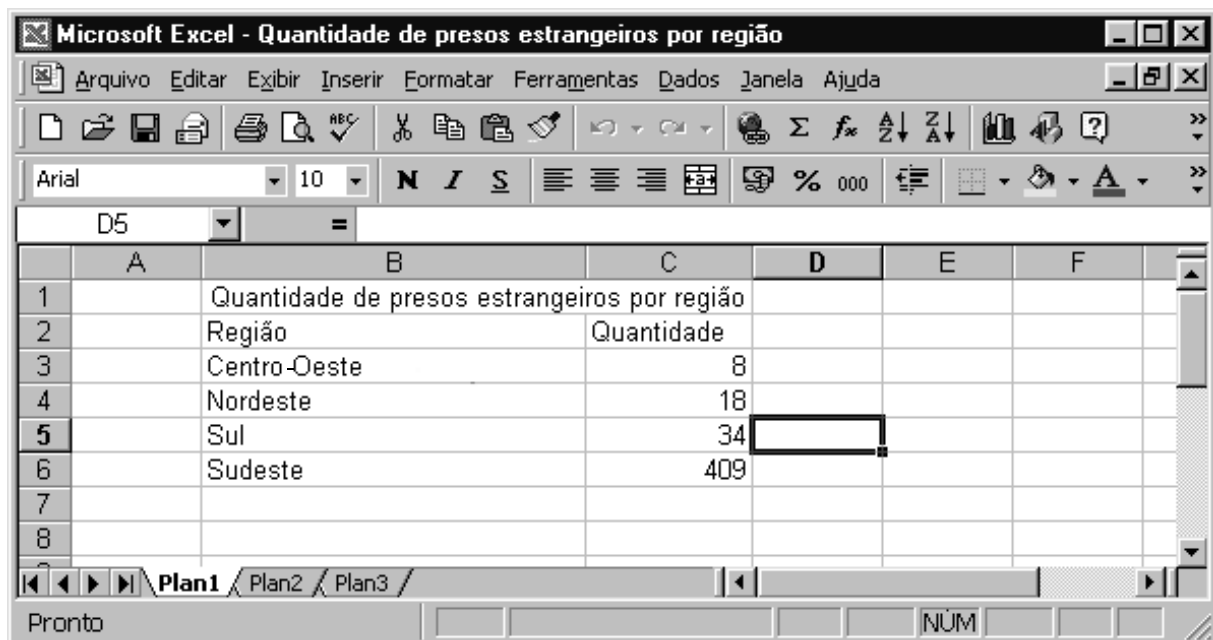
- 14 As palavras “tendências”, “comércio”, “sérios”, “negócios”  
e “estratégia”, constantes no texto, recebem acento gráfico  
pelo mesmo motivo.
- 15 São proparoxítonas, e por isso estão acentuadas, as seguintes  
palavras do texto: “eletrônico”, “básicos”, “típico”,  
“logística” e “táticas”.
- 16 Os termos “eficiente”, “bem-sucedido” e “infra-estrutura”  
são formados pelo processo de composição vocabular.
- 17 No período “O comércio eletrônico não se resume a colocar  
um *site* na Internet, mas o custo maior dessa operação está  
na logística” (l.16-18), há apenas duas orações ligadas pelo  
processo de coordenação.
- 18 A expressão “um cliente insatisfeito com o serviço”  
(l.18-19) está exercendo a função de sujeito da oração em  
que se encontra.
- 19 Na passagem “Mudanças nos processos empresariais,  
relacionamentos com clientes e fornecedores, acesso a  
dados, propriedade dos dados, estratégia de distribuição e  
táticas de marketing estão por trás da maior parte dos  
esforços de comércio via *Web*”, os termos sublinhados estão  
empregados como substantivos abstratos.
- 20 No período “Mudanças nos (...) via *Web*” (l.22-26), há  
apenas uma oração que se classifica como absoluta.
- 21 Há consenso em torno do papel vital representado pelo  
conhecimento científico, particularmente visível em sua  
vertente tecnológica, para a atual configuração da economia  
mundial, cada vez mais globalizada.
- 22 Uma das características mais marcantes da atual revolução  
tecnológica, que tem na informática uma de suas expressões  
mais significativas, é sua acentuada democratização, ou seja,  
sua disponibilização a todos, independentemente das  
condições sociais e do estágio de desenvolvimento material  
alcançado pelas sociedades.



A figura acima mostra uma janela do aplicativo Word 2000 com  
parte de um texto de Maria Alice Cruz, extraído e adaptado do *site*  
[www.unicamp.br](http://www.unicamp.br). Com base na janela mostrada e considerando o  
texto nela contido, julgue os itens subseqüentes.



- 23 No primeiro período do texto, o sujeito é oracional.
- 24 Pode-se unir o primeiro período do texto ao segundo, sem  
alterar a informação, substituindo o ponto após “colhe-se”  
por ponto-e-vírgula.
- 25 O último período do texto é a resposta dada às três sentenças  
interrogativas que o antecedem.
- 26 Depreende-se do texto que “desnutrição” e “indigência” são  
níveis de pobreza e conseqüências da fome.
- 27 Infere-se do texto que não há saída para a questão da  
desigualdade social que mata, devido à fome, quase 50% da  
população mundial.
- 28 Estudos técnicos elaborados por especialistas e por  
organismos internacionais demonstram que o problema  
essencial da fome, em uma perspectiva mundial, decorre da  
quantidade insatisfatória de alimentos produzidos, incapaz de  
atender a uma população que não cessa de crescer.
- 29 No Brasil, sabe-se que o problema da fome e da miséria  
encontra múltiplas explicações, entre as quais uma histórica  
concentração de renda que, em larga medida, gera enormes  
desigualdades e um quadro de iniquidades sociais.
- 30 Infere-se do texto que, tão ou mais trágico do que a fome, é  
a absoluta insensibilidade dos que dela não padecem  
— governo e sociedade — para tão grave problema, que  
vítima milhões de brasileiros.

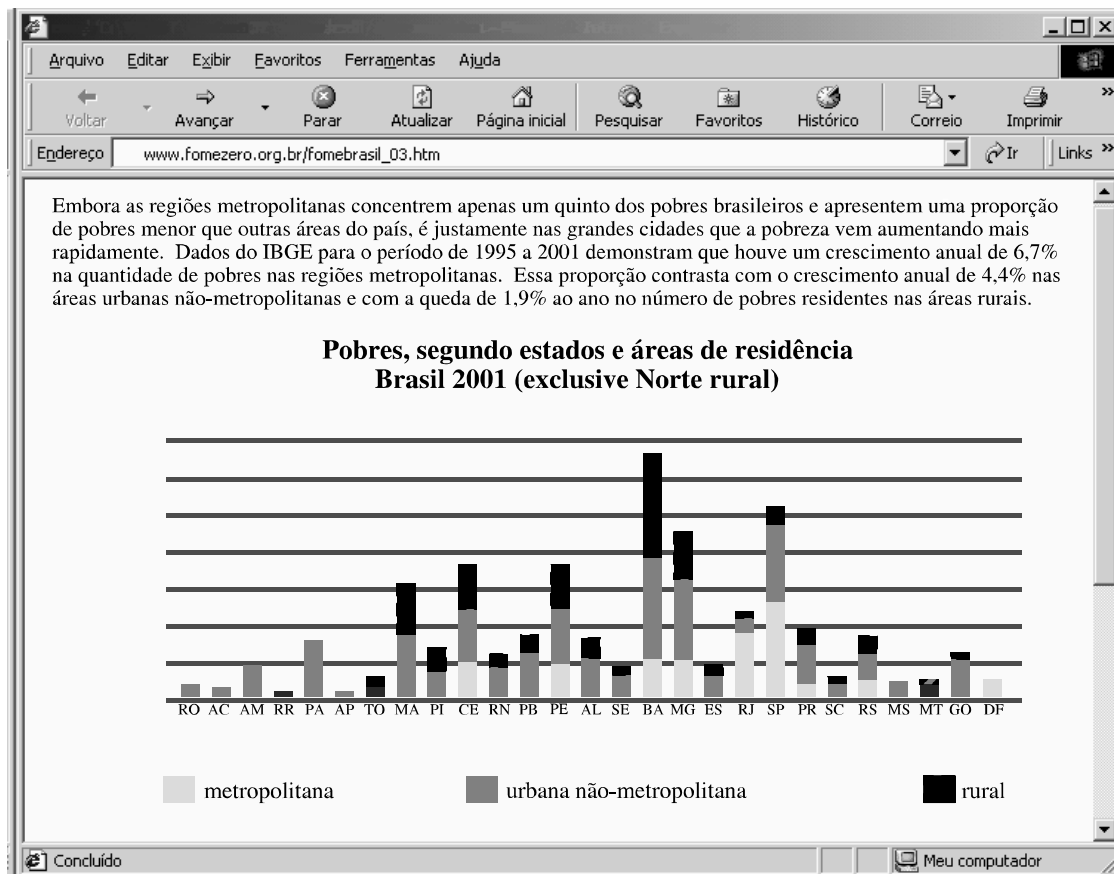
- 31 O usuário pode reverter o último comando Word executado no texto ou excluir a última entrada digitada, por meio do botão .
- 32 Por meio do menu **Formatar**, é possível, entre outras ações, adicionar bordas ao texto, a parágrafos, páginas, células de uma tabela ou figuras selecionadas.
- 33 Para imprimir o documento em edição em um arquivo e não em uma impressora, é suficiente realizar o seguinte procedimento: clicar o botão ; na caixa de diálogo resultante, digitar o nome do arquivo; e, a seguir, clicar OK.
- 34 Para justificar o parágrafo do documento mostrado às margens ou aos recuos direito e esquerdo, é suficiente clicar o botão .
- 35 Caso outros arquivos contendo documentos do Word 2000 estejam abertos, para alternar entre eles, é suficiente clicar o arquivo desejado na lista disponibilizada ao se clicar o menu **Janela**.
- 36 Sempre que a quantidade de memória RAM instalada no computador for aumentada, o Word 2000 deverá ser reinstalado, caso se deseje que esse aplicativo utilize também a memória adicional instalada.
- 37 Para instalar o Word 2000, que é um aplicativo incluído no CD de instalação do sistema operacional Windows, no HD do computador, é necessário acionar a caixa de diálogo Adicionar ou remover programas do Windows, cujo ícone encontra-se no Painel de controle.





	A	B	C	D	E	F
1		Quantidade de presos estrangeiros por região				
2		Região	Quantidade			
3		Centro-Oeste	8			
4		Nordeste	18			
5		Sul	34			
6		Sudeste	409			
7						
8						

A figura acima mostra uma janela do Excel 2000, contendo uma planilha que está sendo editada por um usuário. A planilha contém informações acerca do número de presos estrangeiros nas diversas regiões do país. Com relação a essa figura, à tabela mostrada e ao Excel 2000, julgue os itens seguintes.

- 38 A ferramenta  pode ser utilizada para adicionar bordas a células selecionadas.
- 39 Para aplicar negrito às células B2 e C2, é suficiente realizar a seguinte sequência de ações: clicar a célula B2; pressionar a tecla **Shift** e, mantendo-a pressionada, teclar **→**; liberar a tecla **Shift**; pressionar a tecla **Ctrl** e, mantendo-a pressionada, teclar **N**; liberar a tecla **Ctrl**.
- 40 Para se somar os valores contidos nas células de C3 a C6 e pôr o resultado na célula C7, é suficiente clicar a célula C7 e, em seguida, clicar .



Com o intuito de se informar acerca do programa Fome Zero, proposto pelo governo brasileiro, um usuário da Internet acessou, por meio do Internet Explorer 5 e a partir de um microcomputador do tipo PC, o *site* <http://www.fomezero.org.br>. Após navegar entre as páginas desse *site*, o usuário obteve, na página do Internet Explorer 5 acima ilustrada, que contém um parágrafo introdutório seguido de um gráfico, informações acerca da distribuição dos pobres pelos estados da federação. Com base na janela acima e na leitura comparativa do texto e do gráfico mostrados nessa janela, julgue os itens a seguir.

- 41 As regiões metropolitanas brasileiras concentram baixo índice de pobreza e apresentam uma proporção de pobres menor que áreas não-metropolitanas do país.
- 42 Nas grandes cidades, a pobreza vem aumentando mais rapidamente.
- 43 Não há população na zona rural nos estados da região Norte.
- 44 No Brasil dos dias atuais, a pobreza afastou-se das áreas rurais e, acompanhando o processo de urbanização e industrialização vivido pelo país nas últimas décadas, restringiu-se às zonas urbanas mais densamente povoadas.
- 45 Fome Zero e Brasil Alfabetizado foram dois dos primeiros projetos de forte impacto social lançados pelo governo Lula, ambos integrando um tipo de política pública que reconhece a importância de ter sua ação acoplada a parcerias com a sociedade.
- 46 Caso o usuário deseje editar o texto mostrado na página do Internet Explorer 5 como se fosse um documento Word, é suficiente clicar a opção Editar página, disponibilizada pelo *menu* **Editar**. Ao clicar essa opção, uma janela do aplicativo Microsoft Word é aberta com o conteúdo da referida página, incluindo-se o gráfico ilustrado.
- 47 Caso o usuário deseje retornar à primeira página acessada na sessão de uso do Internet Explorer 5 descrita acima, é suficiente clicar o botão  **Página Inicial**.
- 48 Devido às leis de direitos autorais relativas a conteúdo de Internet, somente páginas que possuem certificado digital de propriedade podem ter seus conteúdos copiados para o *winchester* do computador a partir do qual se está acessando a Internet. Caso a página mostrada acima tenha tal certificado, ao se clicar o *menu* **Arquivo**, será disponibilizada uma lista de opções, entre as quais a opção Salvar como, que permite salvar o conteúdo dessa página.
- 49 O endereço da página, mostrado no campo **Endereço**, não está completo, pois não existe o formato de arquivo htm, como indicado para o arquivo `fomebrasil_03.htm`.
- 50 Caso se deseje esvaziar a pasta representada pelo ícone  **Histórico**, que armazena atalhos para as páginas acessadas durante a sessão de uso do Internet Explorer 5 e em sessões de navegação anteriores, é suficiente clicar o *menu* **Ferramentas**; na lista de opções disponibilizada, clicar Opções da Internet; na janela aberta em decorrência dessa ação, clicar o botão Limpar Histórico.

O presidente Luiz Inácio Lula da Silva, em discurso no Fórum Mundial, propôs a formação de um fundo internacional para o combate à miséria e à fome nos países do Terceiro Mundo, que seria constituído pelos países do G7 e apoiado pelos grandes investidores internacionais. Para uma platéia de centenas de pessoas, Lula declarou: “Aqui em Davos convencionou-se dizer que hoje existe um único Deus: o Mercado. Mas, a liberdade de mercado pressupõe, antes de tudo, a liberdade e a segurança do cidadão. O Brasil defende o livre comércio, mas um livre comércio que se caracterize pela reciprocidade. De nada valerá o esforço exportador que venhamos a desenvolver, se os países ricos continuarem a pregar o livre comércio e a praticar o protecionismo.”

Internet: <<http://www.na.com.br>>. Acesso em 3/4/2003 (com adaptações).

Acerca do tema tratado no texto acima, julgue os itens que se seguem.

- 51** Uma espécie de contraponto ao Fórum Econômico Mundial é o Fórum Social Mundial, por duas vezes sediado por Porto Alegre, e que questiona os caminhos normalmente percorridos pela economia global dos tempos atuais, tendo por lema “uma outra globalização é possível”.
- 52** Causou comoção entre velhos companheiros de esquerda e entre seus correligionários o fato de o presidente Lula ter preferido buscar aplausos em Davos, onde os representantes do grande capital internacional se reuniram, em vez de comparecer ao Fórum Social Mundial.
- 53** O discurso do presidente brasileiro em Davos, como se vê claramente no texto, consistiu em sutil apoio às teses centrais do neoliberalismo, a começar pela crença de que um mercado agindo livremente é o melhor caminho para a prosperidade econômica e social.
- 54** A expressão “G7”, citada no texto, designa, de maneira geral, o conjunto de países economicamente mais pujantes do planeta; quando substituída por **G8**, refere-se ao mesmo grupo acrescido da Rússia.
- 55** Em Davos, conforme o texto assinala, o presidente Lula condenou a dubiedade dos países ricos que, utilizando-se de uma retórica livre-cambista, acabam por praticar medidas protecionistas na defesa de seus interesses comerciais.

Toda a chuva de elogios que o Fundo Monetário Internacional e o Banco Mundial deixaram cair sobre a atual equipe econômica e que valiam também para a anterior não impediram uma constatação humilhante, contida nos Indicadores de Desenvolvimento Mundial, divulgados pelo Banco: o país continua sendo um desastre em termos sociais. A expectativa de vida ao nascer é de apenas 68 anos, inferior à média (71) dos países da América Latina/Caribe, região que não chega a ser modelo de desenvolvimento. A renda *per capita* (US\$ 3.070) também perde para a média latino-americana. A taxa de alunos que completam o ensino básico (71%) é praticamente igual à de Bangladesh, um dos países mais miseráveis do planeta. As 36 por mil crianças que morrem antes dos cinco anos são mais que as 32/1.000 que morrem no Líbano, país vítima de guerra civil.

Clóvis Rossi. *Depois dos elogios ao país, BIRD exhibe desastre social*. In: *Folha de S. Paulo*, 14/4/2003, p. B1 (com adaptações).

Tendo o texto acima por referência inicial e considerando o assunto que ele aborda, julgue os itens seguintes.

- 56** Uma vitória conseguida pelo Brasil, nos últimos anos, refere-se à quase universalização do acesso ao ensino fundamental, etapa obrigatória de escolaridade na educação básica.
- 57** Embora ainda elevada, a taxa de mortalidade infantil caiu significativamente; para que isso ocorresse, foi fundamental a ação do poder público e de instituições da sociedade, como é o caso da conhecida Pastoral da Criança.
- 58** Ao mesmo tempo em que foram ampliadas as matrículas no ensino fundamental, observou-se notável melhoria do desempenho escolar dos estudantes brasileiros, o que pode ser comprovado pelas avaliações internas e por testes internacionais.
- 59** Tem-se como certo que a má distribuição de renda, no Brasil como em boa parte dos chamados países emergentes, funciona como obstáculo para o desenvolvimento e para a melhoria dos indicadores sociais.

Enquanto norte-americanos e britânicos vencem no Iraque, uma outra guerra vai sendo perdida no mundo: a do ambiente. E o conflito atual no Oriente Médio só tende a agravar a situação. A opinião é do britânico Norman Myers, um dos cientistas ambientais mais influentes no mundo. Ele se diz pessimista com os efeitos da guerra e das políticas da Casa Branca, especialmente sobre os esforços para combater o aquecimento global. Para Myers, “o debate global sobre o clima tem ignorado amplamente a geopolítica global. Se, por um lado, há evidência científica e econômica o bastante para concluir que nós deveríamos nos afastar dos combustíveis fósseis o mais rápido possível, os líderes políticos do mundo parecem cada vez mais inclinados a queimá-los”.

Cláudio Ângelo. Para Myers, planeta perde guerra do clima. In: Folha de S. Paulo, 14/4/2003, p. A9 (com adaptações).

A partir do texto e considerando o tema por ele focalizado, julgue os itens seguintes.

- 60** A vitória norte-americana e britânica, a que alude o texto, foi obtida após demorada e difícil guerra contra o Iraque de Saddam Hussein, acusado de ter sido o mentor dos ataques terroristas contra os Estados Unidos da América (EUA), em 11 de setembro de 2001.
- 61** Para o cientista britânico citado no texto, embora haja disposição dos governantes para alterar drasticamente o modelo energético que impulsiona a produção econômica, não há fontes alternativas que possam ser utilizadas.
- 62** O “aquecimento global”, com todos os seus danosos efeitos para o planeta, está intimamente ligado à utilização de combustíveis fósseis, como o petróleo.
- 63** Entre as múltiplas motivações que podem explicar a recente guerra contra o Iraque, possivelmente os interesses petrolíferos desempenhem papel que não pode ser relevado.
- 64** Provavelmente buscando melhorar sua imagem internacional, os EUA foram dos primeiros países a ratificar o Protocolo de Kyoto, pelo qual se comprometem a fazer sua parte para combater o chamado “efeito estufa”.
- 65** A sofisticação da indústria automobilística chegou a tal ponto que, hoje, fabricando veículos que não mais emitem dióxido de carbono, essa indústria dá sua enorme contribuição para eliminar as principais causas do aquecimento global.

A interligação de redes em ambientes corporativos está normalmente organizada em escopos de *intranet* e Internet. Acerca dos conceitos e aplicações de *intranet* e Internet, julgue os itens a seguir.

- 66** Do ponto de vista da conectividade, a *intranet* e a Internet são claramente distintas, porém as aplicações executadas nelas são invariavelmente as mesmas.
- 67** A partir de um computador conectado à *intranet*, não é possível acessar a Internet e vice-versa.
- 68** Em geral, na *intranet* se utiliza os mesmos protocolos da Internet, isto é, a pilha de protocolos TCP/IP.
- 69** A *World Wide Web* é uma parte importante da Internet e pode ser definida como um grande banco de dados distribuídos com organização hierárquica rígida.
- 70** Os sistemas *firewall*, que realizam controle de acesso do tráfego em redes, consistem em um dispositivo de proteção básica em redes do tipo *intranet*.

As informações são armazenadas em computadores na forma de arquivos em diferentes tipos de mídia, acessíveis para leitura e escrita por dispositivos específicos (*drivers*). Com relação ao armazenamento de informações em sistemas de computação, julgue os itens seguintes.

- 71** Os arquivos, para serem acessados pelo sistema operacional, são armazenados organizadamente em sistemas de arquivos que, além de estruturarem o armazenamento, podem apresentar mecanismos de controle de acesso às informações e de recuperação em caso de perdas.
- 72** Um disco rígido possui uma formatação física, que divide o disco de armazenamento magnético em trilhas e setores, e uma formação lógica, que depende do sistema de arquivos a ser utilizado.
- 73** Discos rígidos são dispositivos comumente usados para armazenamento persistente de informações nos sistemas de computação, uma vez que os modelos mais modernos possuem uma capacidade de armazenamento de algumas dezenas de *gigabytes* por dispositivo.
- 74** Cópias de segurança (*backups*) realizadas em fitas magnéticas podem ser guardadas por períodos indeterminados, uma vez que essas mídias possuem uma baixa probabilidade de apresentar falhas.
- 75** *Backups* devem ser feitos em mídias removíveis que permitam um acesso aleatório às informações a serem recuperadas.

## CONHECIMENTOS ESPECÍFICOS

No almoço de natal de 2001, Pedrinho, um garoto de sete anos de idade, portador da síndrome de Down, ao comer um pedaço de peru com farofa que seu pai havia encomendado, mordeu uma pedra e luxou gravemente o dente 21, que precisou ser ferulizado aos adjacentes, em consultório. Seu pai registrou ocorrência policial e entrou com um processo pleiteando indenização. No primeiro dia do ano seguinte, apesar de ser feriado, Pedrinho foi encaminhado ao Instituto Médico Legal (IML) para ser submetido a exame pericial, que constatou imobilização dentária e hiperemia com tumefação na mucosa gengival vestibular correspondente ao ápice do dente lesado.

Com base na situação hipotética apresentada acima, julgue os itens a seguir.

- 76** Considerando que o exame pericial não tivesse permitido um prognóstico definitivo, em função da evolução incerta do caso, os peritos deveriam ter solicitado que Pedrinho retornasse no dia 31/1/2002 para o primeiro exame complementar.
- 77** Sendo Pedrinho estudante, o afastamento de suas ocupações habituais por mais de trinta dias em decorrência do incidente não estaria amparado por lei.
- 78** Mesmo se tivesse ocorrido perda do dente lesado, não teria havido, de acordo com a legislação vigente, perda das funções mastigatória e fonética.
- 79** Se, no dia do exame pericial, estivessem presentes no IML vários odonto-legistas e, coincidentemente, um deles fosse o que atendera Pedrinho no consultório, ele deveria ser indicado para realizar a perícia por já conhecer o caso.
- 80** O perito pode solicitar cópia integral do prontuário odontológico do periciando para complementar a perícia.

Cinco crânios roubados de um cemitério, esqueletizados, preservados e morfologicamente normais, foram encaminhados ao IML juntamente com os históricos dos falecidos cujos túmulos foram violados. Esses históricos estão especificados no quadro abaixo.

túmulo	idade no óbito	causa mortis
A	70 anos	Pneumonia dupla, pois, sendo uma mulher edêntula, mastigava mal e engasgou-se, aspirando alimentos.
B	12 anos	Tétano, causado por ferimento não tratado, devido à inexistência de posto de saúde no local onde vivia.
C	65 anos	Câncer de próstata diagnosticado tardiamente, pois recusava-se a fazer exame.
D	32 anos	Câncer de mama, pois não quis submeter-se à mastectomia.
E	35 anos	Hematoma subdural causado por uma paulada que não produziu fratura, desferida por sua esposa.

Tendo como base a situação hipotética descrita acima, julgue os itens seguintes.

- 81** Pelas características apresentadas, é correto afirmar que, dos crânios encaminhados ao IML, a identificação mais precisa é a do crânio retirado do túmulo B.
- 82** Pelos históricos apresentados, não é possível diferenciar entre os crânios retirados dos túmulos D e E, pois a diferença de idade no óbito é pequena.
- 83** Para a identificação de todos os crânios, não serão necessários a exumação dos restos das ossadas e o exame de DNA.

**84** A distinção entre os crânios dos túmulos A e C só poderá ser feita pelo edentulismo.

**85** Caso as fotografias dos *de cujus* em época próxima à da morte estivessem disponíveis, a identificação dos crânios pela superposição de imagens seria, em termos de precisão, o melhor método, excluindo-se a técnica de exame de DNA.

Em uma terça-feira de carnaval, embriagado e sem utilizar capacete, Mário acidentou-se com sua motocicleta. O delegado de polícia que acompanhou o caso requereu que Mário realizasse exame de corpo de delito no IML. Mário compareceu ao IML para o exame apenas no domingo de páscoa. Nessa ocasião, foi constatado: ausência dos incisivos centrais superiores sem a respectiva prótese, presença de mancha hipocrômica em região frontal esquerda, fixação intermaxilar e cicatriz irregularmente linear em região zigomática direita.

Com base na situação hipotética acima, julgue os itens que se seguem.

- 86** A ausência dos incisivos centrais superiores não caracteriza, necessariamente, debilidade de membro, sentido ou função causada pelo acidente.
- 87** Pelas características apresentadas, é provável que a lesão frontal tenha sido produzida por instrumento contundente.
- 88** A constatação da fixação intermaxilar implicaria o laudo: debilidade de membro, sentido ou função.
- 89** Pelas características apresentadas, é provável que a região zigomática tenha sido atingida por instrumento contundente.

Durante a extração de um terceiro molar inferior, por imprudência do cirurgião dentista na utilização de uma alavanca reta, Carlos sofreu fratura mandibular com afastamento mínimo dos fragmentos. O dente foi extraído e o profissional procedeu à fixação intermaxilar com barras de Erick. Carlos recuperou-se totalmente; entretanto, dois meses após o fato, registrou ocorrência policial.

Em face dessa situação hipotética, julgue os itens subseqüentes.

- 90** De acordo com o art. 129 do Código Penal (CP), um eventual afastamento do paciente de suas ocupações habituais por mais de trinta dias, em decorrência do incidente, seria decisivo para o deslinde do processo penal.
- 91** O fato de a lesão ter ocorrido durante o exercício profissional, sem intenção de lesar e não envolvendo luta, diminui a pena a ser aplicada em um terço.
- 92** Sendo Carlos encaminhado à perícia odontológica, o odonto-legista deveria requerer o seu prontuário odontológico.
- 93** Segundo o art. 129 do CP, no caso apresentado, não ocorreu deformidade permanente.

Um exame constatou em um periciando lesão na bochecha direita, causada por disparo de arma, com as seguintes características: orifício elíptico de 9 mm no eixo maior e 5 mm no menor, com halo de escoriação, de enxugo e de equimose, sem nenhuma outra peculiaridade. O periciando apresentava ainda fratura coronário-radicular cominutiva dos dentes 34 e 35, ferida na língua e fratura da prótese total superior que ele utilizava.

Tendo como base as informações apresentadas acima, julgue os itens a seguir.

- 94** Em decorrência da debilidade preexistente, não se configura caso de debilidade de função decorrente da lesão observada.
- 95** A fratura da prótese total superior configura debilidade da função mastigatória, pois, sem a prótese, fica impossível a mastigação.



- 96** A partir da lesão apresentada na bochecha, é correto afirmar que o disparo atingiu a pele de forma oblíqua.
- 97** A presença da orla de enxugo indica que o disparo contra o periciando foi realizado a curta distância.
- 98** De posse do projétil utilizado no disparo, pode ser possível identificar o tipo e o calibre da arma que efetuou o disparo. Em algumas circunstâncias semelhantes, pode-se identificar precisamente a arma que efetuou o disparo.
- 99** De acordo com a localização da lesão na bochecha, próxima a estruturas vitais como o cérebro e grandes vasos, o perito deve considerar que houve perigo de vida.

Por ocasião de um exame, um periciando apresentou as seguintes lesões decorrentes de um acidente: lesão de aproximadamente 3 cm × 4 cm no mento, com elevação do estrato córneo da pele com líquido de elevada concentração de albumina e cloretos; lesão deprimida de 3 cm × 3 cm em frente, com aumento da consistência e coloração acastanhada.

Com base na descrição das lesões apresentada acima, julgue os itens seguintes.

- 100** É correto afirmar que o periciando estava vivo no momento da produção das lesões.
- 101** As lesões observadas podem ter sido produzidas utilizando-se energia térmica.
- 102** Em circunstâncias normais, a lesão mentoniana citada evoluirá para cicatriz, que configura deformidade permanente, segundo o art. 129 do CP.
- 103** Menos energia foi utilizada para produzir a lesão mentoniana que para produzir a lesão frontal.
- 104** O exame mencionado acima não poderia corresponder a um exame complementar.
- 105** As lesões observadas são tipicamente produzidas por eletricidade artificial, sendo que a frontal é denominada marca elétrica de Jellinek.

De acordo com o disposto no Código de Processo Penal e na Lei n.º 5.081/1966, julgue os itens que se seguem, relativos ao exercício da odontologia no território brasileiro.

- 106** É vedado ao cirurgião-dentista o exercício de mais de duas especialidades.
- 107** É proibido ao cirurgião-dentista prestar informações ao público, mesmo de caráter educativo, por intermédio de rádio, televisão ou *site* da Internet.
- 108** Perícias odontológicas em foro criminal somente podem ser realizadas por peritos oficiais dos institutos médicos legais.
- 109** É permitido ao cirurgião-dentista prescrever e aplicar especialidades farmacêuticas, indicadas em odontologia, quer sejam de uso interno ou externo.

Acerca da evolução da odontologia legal brasileira, desde a primeira obra publicada no país em 1924, pelo professor Luiz Lustosa Silva, até a atualidade, julgue os itens subseqüentes.

- 110** Já na época da publicação da obra do professor Luiz Lustosa Silva, recomendava-se a coleta de material pulpar de dentes íntegros para identificação pela técnica do ácido desoxirribonucléico.
- 111** O aumento da demanda por perícias relacionadas ao exercício da odontologia legal no Brasil, verificado na última década, é decorrência, entre outros fatores, da entrada em vigor da lei que instituiu o Código de Proteção e Defesa do Consumidor.

Um cadáver humano na fase gasosa da putrefação foi encontrado boiando nas margens de uma lagoa. Encaminhado ao IML, observaram-se várias marcas de mordida nas pernas e a ausência da mão direita. A guia de remoção de cadáveres apontava que o cadáver haveria sido atacado por jacarés.

Em face dessa situação hipotética, julgue os itens a seguir.

- 112** Caso os desenhos das polpas digitais estejam preservados, a identificação precisa do cadáver sempre poderá ser feita pela coleta de impressões digitais, mesmo tomando-se apenas as impressões digitais da mão esquerda.
- 113** As observações constantes na guia de remoção, apesar de importantes, não constituem, necessariamente, elementos conclusivos quanto à causa da morte do periciando.
- 114** Em função da fase de putrefação, é impossível, em exame de perícia, distinguir se a perda da mão direita ocorreu antes ou depois da morte.
- 115** Hipóteses trazidas na guia de recolhimento do cadáver, caso não sejam confirmadas pelo exame, não devem ser incluídas no histórico do laudo.
- 116** Caso as referidas mordidas tivessem sido produzidas por dentes incisivos humanos em sua forma típica, as lesões deveriam ser classificadas como cortocontusas.
- 117** Fotografias de marcas de mordida com a utilização de filtro amarelo ou verde são muito úteis para realçar tons de azul a roxo ou de vermelho, respectivamente, encontrados em equimoses.
- 118** Caso fosse apresentada para confronto apenas uma radiografia periapical da região dos dentes 26, 27 e 28, sem nenhum tratamento odontológico restaurador, é possível que a identificação do cadáver pudesse ser feita.
- 119** Considere que o cadáver apresente uma restauração de amálgama de prata no dente 16 e uma prótese unitária metalocerâmica no dente 45. Considere, ainda, que essas variáveis sejam independentes, que a estatística da ocorrência de amálgama de prata no dente 16 é de 20% e que 10% das pessoas possuem coroa metalocerâmica no dente 45. Nessas condições, é correto concluir que a probabilidade de uma identificação positiva é inferior a 95%.

RASCUNHO

Ao invadir uma fábrica, um assaltante utilizou seus bíceps para aplicar uma gravata fatal no pescoço do vigia Sebastião. Aplicou também um golpe com o cabo de uma faca na testa de Manoel, que desmaiou em decorrência do golpe. A seguir, atirou em Joaquim, errando o alvo e acertando um tonel de combustível que explodiu, impelindo Joaquim contra uma esteira em movimento que o prendeu pelo avental, comprimindo seu pescoço pela alça, matando-o. Em decorrência da explosão, um pesado equipamento caiu sobre Pedro, impedindo seus movimentos respiratórios, matando-o igualmente. Um incêndio se seguiu, matando Antônio por monóxido de carbono, um gás inodoro e incolor.

Com base na situação hipotética apresentada acima, julgue os itens seguintes.

- 120** A lesão produzida pelo cabo da faca na frente de Manoel é do tipo incisa.
- 121** Sebastião morreu por asfixia do tipo esganadura, enquanto Joaquim morreu por estrangulamento.
- 122** Em exame de perícia, Pedro poderá apresentar, em decorrência do acidente, cianose cérvico-facial.
- 123** É possível que uma análise laboratorial do sangue de Antônio seja capaz de confirmar a causa da sua morte.
- 124** Caso Pedro tivesse morrido por sufocação direta, os achados necroscópicos seriam os mesmos.

No dia de finados, João, que vivia com Terezinha, viúva, aproveitou-se da visita que esta fez ao cemitério para cometer os seguintes atos com seus três filhos: com Mariana, de 18 anos de idade, com o consentimento desta, praticou coito anal e vaginal; com Margarida, de 17 anos de idade, sem o consentimento desta, praticou felação; e com Diogo, de 11 anos de idade, com o consentimento deste, praticou sexo anal e trocou carícias. Com o retorno de Terezinha, João passou a comportar-se de forma diferente, ensejando a descoberta da orgia praticada. Terezinha, então, procurou a delegacia de polícia e os envolvidos foram levados ao IML para exames.

Considerando a situação hipotética descrita acima, julgue os itens que se seguem.

- 125** É possível que se consiga coletar espermatozoides na ampola retal de Diogo e, com isso, demonstrar-se a ocorrência do crime de estupro pelo exame comparativo de DNA.
- 126** Com relação a Margarida, João praticou o tipo penal atentado violento ao pudor.
- 127** No caso de Mariana, o coito anal configura o crime de atentado violento ao pudor.

Julgue os itens subseqüentes, relativos aos documentos odonto-legais.

- 128** A nomenclatura dentária atual para decíduos utiliza, para a unidade, o número de ordem a partir da linha média, iniciando em 1, e para a dezena, o número do quadrante, iniciando-se a contagem em 5, a partir do superior direito, e seguindo-se o sentido horário.
- 129** O atestado odontológico deverá conter, entre outros, o nome, o endereço e o telefone do profissional responsável.
- 130** No laudo pericial, a opinião do perito deve ser colocada na discussão, nunca na descrição.
- 131** No atestado odontológico, não existe limite legal para o número de dias de repouso que o profissional pode indicar a seu paciente.
- 132** Caso os peritos do IML não acordem em determinada conclusão, podem consignar suas divergências em um mesmo laudo ou até elaborar laudos distintos.

**133** É conveniente que se rubrique todas as páginas do laudo pericial, mas não existe determinação legal que obrigue essa conduta.

**134** O laudo pericial criminal, *a priori*, deve ser elaborado no prazo máximo de dez dias.

**135** No relatório de uma necrópsia em que se encontrou marcas de mordidas, sempre que possível, deve-se juntar fotografias, esquemas ou desenhos.

Um paciente procurou o Conselho Regional de Odontologia de Roraima (CRO-RR) para denunciar um profissional e, paralelamente, moveu uma ação de indenização e representou criminalmente.

Com base nessa situação hipotética, julgue os itens subseqüentes.

**136** Caso o presidente do CRO-RR não aceite a denúncia, o interessado poderá recorrer à plenária no prazo máximo de quinze dias.

**137** A perícia odontológica no processo ético não é obrigatória, mesmo nos casos em que seja possível.

**138** Caso a condenação no CRO-RR seja a cassação do registro profissional, o denunciado nunca mais poderá exercer legalmente a profissão de cirurgião-dentista.

**139** Em um processo de indenização, uma eventual perícia deverá, obrigatoriamente, ter a participação de um perito e de assistentes técnicos.

**140** Mesmo ocorrendo absolvição no processo penal, o paciente poderá receber sentença favorável no processo civil correspondente.

**141** Em um processo civil, as partes não podem propor quesitos.

Com relação à identificação humana, julgue os itens a seguir.

**142** A análise comparativa de uma mordida humana com os modelos de gesso dos arcos dentais de um suspeito pode inocentá-lo.

**143** A forma do palato triangular é típica de indivíduos do grupo étnico negróide.

**144** Os incisivos superiores são os dentes que apresentam maior dimorfismo sexual, mas sua forma, isoladamente, não permite a identificação do sexo.

**145** A impressão digital do tipo arco não possui nenhum delta, enquanto a do tipo verticilo possui dois deltas.

**146** Considere que um crânio apresente as seguintes características: frente verticalizada, côndilos occipitais longos e estreitos e rebordas supra-orbitárias rombas. Nessas condições, é correto afirmar que esse crânio apresenta duas características masculinas e uma feminina.

**147** Um crânio do tipo hipsicrânio é aquele que, visto lateralmente, aparenta ser baixo.

**148** O exame radiográfico de um jovem com aparência de dezoito anos de idade determina se este será enquadrado no Código Penal ou no Estatuto da Criança e do Adolescente.

**149** Geralmente, a mineralização dentária dos incisivos se completa primeiro no arco superior que no inferior.

**150** Os pontos craniométricos bregma, íonon, lambda e násio são ímpares, enquanto os pontos ptérion, astérion e póron são pares.



Universidade de Brasília (UnB)