



MINISTÉRIO DA DEFESA  
SECRETARIA DE ORGANIZAÇÃO INSTITUCIONAL  
HOSPITAL DAS FORÇAS ARMADAS (HFA)

Concurso Público – Aplicação: 27/1/2002

ÁREA: MÉDICA  
EMPREGO: MÉDICO  
ESPECIALIDADE: CIRURGIA PROCTOLÓGICA

Nas questões de 1 a 40, marque, em cada uma, a única opção correta, de acordo com o respectivo comando. Na Folha de Respostas, a indicação do campo **SR** é facultativa e não contará para efeito de avaliação; servirá somente para caracterizar que o candidato desconhece a resposta correta. Use a Folha de Rascunho para as devidas marcações e, posteriormente, a **Folha de Respostas**.

## LÍNGUA PORTUGUESA

### Texto LP-I – questões 1 e 2

1 A geração atual é muito menos romântica, muito mais  
objetiva que a de há cinco décadas. Recordo-me da emoção com  
que olhávamos, e ainda olhamos, as mulheres, em contraste com  
4 a tranqüilidade dos jovens de hoje, em face do sexo. Refiro-me,  
é claro, à mocidade pioneira e não à massa geral das populações  
7 do interior, mais conservadora. Há hoje uma frieza, que talvez  
seja providencial, em face da explosão demográfica. A libido se  
desgenitaliza. Os homens estão mais frios. Mas o grande  
elemento de equilíbrio é a mulher. Quando os homens eram  
10 ardentes demais, elas encompridavam as saias e reduziam os  
decotes. Em face de homens frios, elas levantam as saias e  
baixam os decotes, em uma tentativa de homeostase. Quando os  
13 jovens tendem à intersexualidade, elas, compensadoramente,  
procuram masculinizar-se, pelo menos no vestuário. Quem não  
vê as coisas mais a fundo pensa mesmo que elas se  
16 masculinizaram. Na realidade, nunca foram mais femininas do  
que nesse esforço patético de reequilíbrio.

J. Fernando Carneiro. *Psicologia do brasileiro*. São Paulo: Agir, 1971, p. 75 (com adaptações).

#### QUESTÃO 1

Depreende-se do texto LP-I que

- A as mulheres, melhor do que os homens, adaptam-se às circunstâncias novas; por isso, reagem sedutoramente ao frio comportamento masculino.
- B o sexo perdeu o valor e a importância para os jovens, desde que a libido passou a ser mais intelectualizada.
- C o romantismo é coisa do passado; no mundo contemporâneo, o que importa é a frieza nas relações intersexuais.
- D o movimento em favor das minorias sexuais teve início quando as mulheres passaram a vestir-se de forma masculinizada.
- E quem pensa que as mulheres se masculinizaram entende que a atitude do homem moderno é contrastante com a do homem do século passado.

#### QUESTÃO 2

Assinale a opção cuja expressão substitua “de homeostase” (R.12), no texto LP-I, sem alterar o sentido do período.

- A da tranqüilidade
- B de pioneirismo
- C da explosão demográfica
- D de equilíbrio
- E de masculinização

### Texto LP-II – questões de 3 a 5

1 Pouco maior do que um par de ameixas secas, com  
formato semelhante ao de uma gravata-borboleta e pesando  
entre 15 g e 25 g, ela comanda algumas das mais  
4 importantes funções do corpo humano. Exemplos? A  
capacidade de respirar, de mover as pernas, regular a  
temperatura corporal, manter o coração batendo no ritmo certo,  
7 o raciocínio pronto para qualquer desafio... É preciso mais?  
Claro que não. Está comprovadíssima a nobreza da pecinha de  
que estamos falando. E para não espichar o assunto, vamos  
10 logo à ficha da moça. Trata-se da glândula tireóide (ou tireóide),  
domiciliada à frente da traquéia, bem abaixo do pomo-de-adão,  
ou gogó, para os íntimos.

13 O primeiro médico a descrevê-la foi o belga Vesalius, pai  
da anatomia moderna, em 1543. Ele observou que a pequena  
estrutura se movimenta para cima e para baixo durante o ato de  
engolir, mas não chegou a descobrir as tarefas desempenhadas  
16 por ela no organismo. Séculos depois, os cientistas perceberiam  
que, além de dançar no pescoço, a glândula fabrica dois  
19 hormônios fundamentais: o T3 (triodotironina) e o T4 (tiroxina).  
Lançadas na corrente sanguínea, essas substâncias atingem,  
uma por uma, todas as células do corpo, estimulando-as a  
22 produzir energia. Isso mesmo. O T3 e o T4 atuam como a  
gotinha mágica que induz o metabolismo celular a transformar  
nutrientes em combustível vital. Assim, o organismo encontra  
25 forças para desempenhar todas as suas funções — de piscar o  
olho a correr a mais disputada das maratonas.

Armando Luiz Antenore. In: *Saúde!*, dez./1990, p. 71 (com adaptações).

#### QUESTÃO 3

A partir da leitura interpretativa do texto LP-II, assinale a opção correta.

- A Ao descrever a glândula tireóide, o autor apresenta-lhe a origem, o histórico, as características, as funções e os principais empecilhos a seu funcionamento.
- B Denominam-se hipertireoidismo e hipotireoidismo o excesso ou a carência, respectivamente, dos hormônios fundamentais da tireóide, segundo o movimento ascendente e descendente dessa glândula.
- C O fragmento estrutura-se a partir de analogias, com ameixas e borboletas, e de comparações, com o coração e o cérebro, por exemplo.
- D Os efeitos principais do mau funcionamento da tireóide são, para os membros, a fraqueza e a imobilidade gradativas e, para o tórax, as dificuldades de funcionamento do diafragma.
- E O texto trata de um assunto especializado, de natureza científica, em linguagem adequada ao público leigo.

#### QUESTÃO 4

Acerca da função sintática exercida por expressões retiradas do texto LP-II, julgue os itens subsequentes.

- I “ao de uma gravata-borboleta” (R.2) – complemento nominal do adjetivo que a antecede
- II “das mais importantes funções do corpo humano” (R.3-4) – objeto indireto da forma verbal “comanda”
- III “a nobreza da pecinha” (R.8) – sujeito da oração em que se insere
- IV “da glândula tireóide” (R.10) – adjunto adnominal, relativo ao substantivo que a sucede
- V “pai da anatomia moderna” (R.14) – aposto explicativo, referindo-se ao nome próprio
- VI “no organismo” (R.17) – adjunto adverbial, indicando circunstância de lugar
- VII “todas as células do corpo” (R.21) – objeto direto do verbo que a antecede

A quantidade de itens certos é igual a

- A 3.      B 4.      C 5.      D 6.      E 7.

#### QUESTÃO 5

Julgue as seguintes transformações de passagens do texto LP-II e assinale a opção que apresenta **desvio** gramatical ou mudança da idéia originalmente exposta.

- A “ela comanda (...) desafio...” (R.3-7): **são comandadas pela tireóide as seguintes funções do corpo humano: respiração, movimentação das pernas, regulação da temperatura, manutenção dos batimentos cardíacos no ritmo certo e prontidão de raciocínio.**
- B “E para (...) moça.” (R.9-10): **Para não espichá-la, vamos logo à ela.**
- C “domiciliada (...) íntimos.” (R.11-12): **localiza-se à frente da traquéia, abaixo de uma região conhecida como pomo-de-adão, ou, para os mais chegados, gogó.**
- D “a pequena (...) engolir,” (R.14-16): **a pequena estrutura realiza um movimento ascendente e um descendente, durante o ato de engolir,**
- E “Lançadas (...) energia.” (R.20-22): **Todas as células do corpo são estimuladas a produzir energia quando atingidas tanto por T3 (triiodotironina), quanto por T4 (tiroxina).**

## LÍNGUA INGLESA

### Text LI – questions 6 through 10

1                 In Brazil, the launch of a community-based family health  
programme has led to a sharp drop in infant mortality rates in  
several of the states involved. In one city, infant death rates fell  
4                 by almost 75% over a 6-year period. Elsewhere, the number of  
cases of diarrhoeal disease was halved within a year, a drop that  
was helped by an increase of almost 100% in the number of  
7                 mothers who exclusively breastfed their babies. In some of the  
municipalities involved, attendance at antenatal clinics has  
doubled.

10                Before the programme started in 1994, Brazil relied almost  
exclusively on a specialised, hospital-based system of medical  
care, which failed to meet the needs of many families who either  
could not afford or could not access these services. Today, 20%  
13                of the population of 160 million have access to primary health  
care.

16                Launched as a partnership involving the Ministry of  
Health, UNICEF, and communities, the Family Health Programme  
is based on a network of teams who work with communities to  
ensure that families know when and where to seek help or  
19                advice on health issues such as antenatal care, immunization,  
and child nutrition, or treatment for diseases such as malaria and  
diarrhoeal diseases. Dental care is now being added to the list  
22                of services available. Where necessary, people are helped to  
gain access to specialised care and hospital treatment. The  
25                teams comprise a doctor, a nurse, a nurse’s aide, and five or six  
health agents who live in the community.

Internet: <<http://www.who.int/inf-new/child5.htm>>. Access: dec./2001 (with adaptations).

#### QUESTÃO 6

From text LI, it can be deduced that

- A community health programmes can replace traditional medical care.
- B Brazilian states are all involved in the community-based family health programme.
- C infant mortality, in Brazil, decreased in about 75% over a period of six years.
- D in some places, cases of diarrhoeal diseases fell 50% in a year’s time.
- E breast milk cannot prevent any case of diarrhoeal disease.

#### QUESTÃO 7

It can be concluded from text LI that

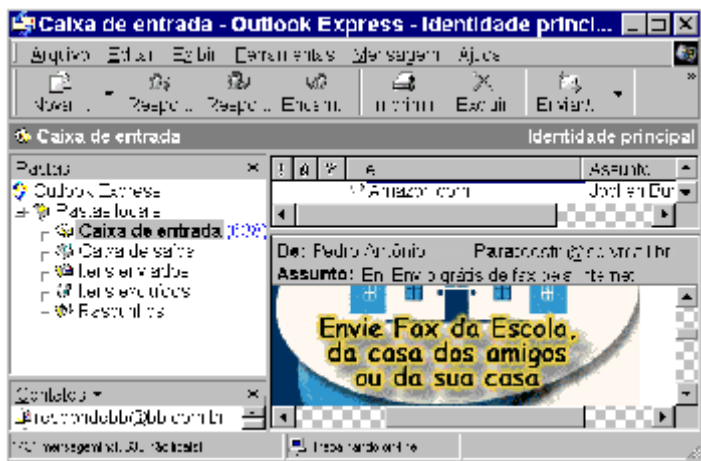
- I in some cities, the antenatal patients attending clinics are twice as much as they used to be.
- II community-based family health programme began before 1994.
- III hospital-based medical care system did work for all families.
- IV at present, 32 million people can make use of the primary health care programme.

The only true items are

- |              |                   |
|--------------|-------------------|
| A I and II.  | D II and IV.      |
| B I and III. | E II, III and IV. |
| C I and IV.  |                   |



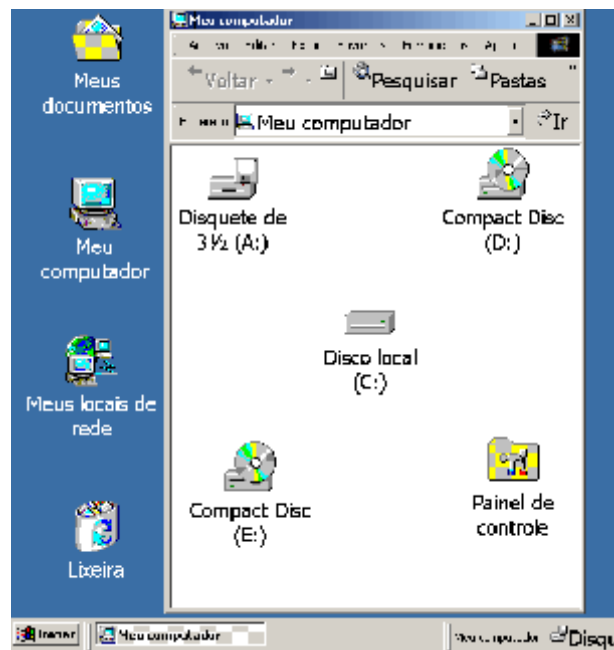
QUESTÃO 12







A figura acima ilustra uma janela do Outlook Express sendo executado em um computador cujo sistema operacional é o Windows 98. Acerca desse *software* e do Windows 98 e com base na figura mostrada, assinale a opção **incorreta**.

- A Para que esse *software* possa funcionar adequadamente no ambiente Windows 98 e possa enviar um *e-mail* para um destinatário localizado em um outro país, é necessário que o computador no qual ele está sendo executado tenha nele instalado um microprocessador com frequência de relógio — *clock* — superior a 1 GHz.
- B O *software* cuja janela é mostrada acima é capaz de enviar e receber mensagens de correio eletrônico no formato textual, em forma de arquivos anexados e na forma de páginas *Web* no corpo do *e-mail*.
- C Caso se queira responder o *e-mail* recebido, que está sendo mostrado na figura acima, basta clicar no botão **Respo.** na janela que será aberta em decorrência dessa ação, digitar a mensagem no local apropriado, configurar adequadamente as opções de envio disponíveis e, finalmente, enviar a mensagem de resposta, acionando o botão destinado para esse fim na referida janela.
- D A partir desse *software*, é possível criar um catálogo de endereços de *e-mail* que facilite o envio de correio eletrônico a um determinado contato.
- E Caso se deseje enviar a mensagem recebida e mostrada na figura a um determinado destinatário, é suficiente clicar no botão **En: am** na janela que será aberta em decorrência dessa ação, configurar adequadamente as opções de envio disponíveis, tais como o endereço eletrônico do destinatário e, finalmente, enviar a mensagem, acionando o botão destinado para esse fim na referida janela.

QUESTÃO 13



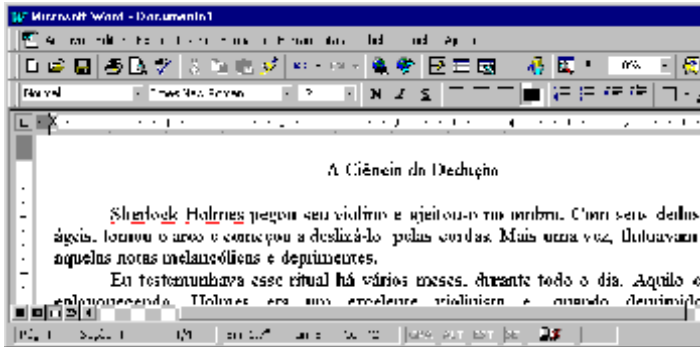
A figura acima mostra parte da área de trabalho do Windows 98, em que se observa aberta a janela Meu computador. Com base nessa figura e acerca do Windows 98, julgue os itens abaixo.

- I Para excluir  da pasta Meu computador, é suficiente que o usuário se certifique de que a tecla **Num Lock** esteja desabilitada, clique sobre o referido objeto e pressione a tecla **Del**.
- II Para visualizar toda a área de trabalho do Windows 98, é suficiente que o usuário clique em  no canto superior direito da janela Meu computador. Contudo, com essa ação, a referida janela será fechada.
- III Executando-se um clique duplo sobre o ícone , será visualizada a pasta denominada Painel de controle. Nessa pasta, o usuário tem acesso a várias opções para a configuração de *software* e de *hardware* do seu computador.
- IV Clicando em **Iniciar** o usuário tem acesso a uma lista de opções, entre elas, à janela Executar. Essa janela pode ser utilizada para carregar um programa executável ou abrir um documento contendo texto.
- V Na pasta , são guardados os arquivos excluídos pelo usuário ao longo de uma sessão de trabalho. Os arquivos armazenados nessa pasta são automaticamente excluídos pelo Windows 98, sem possibilidade de recuperação, sempre que o disco rígido do computador apresenta um índice de ocupação de 90%.




Estão certos apenas os itens

- A I, II e V.
- B I, III e IV.
- C I, IV e V.
- D II, III e IV.
- E II, III e V.

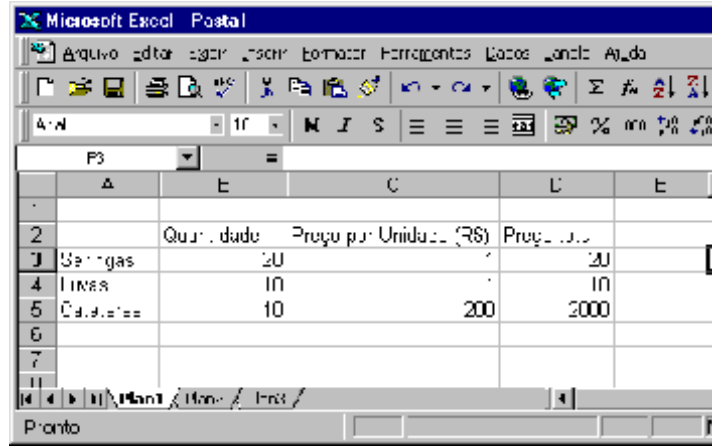
QUESTÃO 14








A figura acima mostra parte de uma janela do Word 97, com o fragmento de um texto que foi editado por um usuário. Com relação a essa janela e ao Word 97, assinale a opção correta.

- A O documento em apreço é composto por apenas uma página, como pode ser visto na seqüência de caracteres **Pág 1**, no canto inferior esquerdo da janela, e foi editado no dia primeiro de abril, como pode ser visto na seqüência de caracteres **1/4**.
- B Caso o usuário deseje maximizar a tela de trabalho, de forma que ela ocupe toda a área da tela do monitor de vídeo, é suficiente que ele clique em .
- C Caso o usuário selecione o título “A Ciência da Dedução” e clique em , será exibida a caixa de diálogo Fonte, que permite alterar a fonte utilizada no título.
- D Caso o usuário deseje que o Word 97 procure por erros gráficos no primeiro parágrafo, é suficiente que ele, após selecionar o referido parágrafo, clique em .
- E Caso o usuário deseje selecionar a palavra “cordas”, é suficiente que ele execute a seguinte seqüência de ações com o mouse: posicionar o ponteiro imediatamente à esquerda da letra “c”, no início dessa palavra; pressionar o botão esquerdo e, mantendo-o pressionado, posicionar o ponteiro entre a letra “s”, no final da palavra, e o ponto final à sua direita; liberar o botão esquerdo.

QUESTÃO 15



A figura acima mostra uma planilha elaborada no Excel 97 por um empregado de um hospital, contendo informações acerca de alguns materiais hospitalares que foram adquiridos. Com referência à janela mostrada e ao Excel 97, assinale a opção correta.

- A Caso o empregado deseje aumentar a largura da coluna B, é suficiente que ele clique, sucessivamente, no cabeçalho da referida coluna —  — e em .
- B O preço total pago pelos “Cateteres” pode ter sido obtido por meio da seguinte seqüência de ações: clicar na célula D5; digitar sucessivamente as teclas **B**, **5**, **X**, **C** e **5**; teclar **<<**.
- C Caso o empregado deseje calcular o total gasto nos itens listados, pondo o resultado na célula D6, é suficiente que ele realize a seguinte seqüência de ações: clicar na célula D6; clicar em ; teclar **<<**.
- D Para selecionar as células B2, C2 e D2, é suficiente que o empregado realize a seguinte seqüência de ações: clicar na célula D2; clicar três vezes seguidas em .
- E Caso o empregado deseje copiar o conteúdo da célula C2 para a área de transferência, é suficiente que ele clique nessa célula e, em seguida, clique em .

## CONHECIMENTOS GERAIS

### QUESTÃO 16

Um paciente, com vinte anos de idade, deu entrada na emergência de um hospital e, no momento em que estava sendo examinado, apresentou parada cardiorrespiratória. Nessa situação, a primeira providência a ser tomada é

- A abrir as vias aéreas.
- B fazer compressões torácicas.
- C puncionar uma veia periférica.
- D realizar uma desfibrilação.
- E realizar ventilações com pressões positivas.

### QUESTÃO 17

Uma paciente, com dezoito anos de idade, apresenta, há 24 h, temperatura de 39° C, associada a calafrios e dor localizada em flanco direito. O exame físico mostra um quadro de astenia e fácies de dor. Não se encontra dor à pesquisa do sinal de Giordano. O hemograma apresenta leucocitose, e o exame de urina revela a existência de piúria maciça, com teste do nitrito positivo. Com base nessa história clínica, julgue os seguintes itens.

- I Um diagnóstico diferencial a ser considerado, nesse caso, é o de abscesso renal.
- II O fato de não haver disúria e o resultado negativo para sinal de Giordano prejudicam o diagnóstico de pielonefrite.
- III O teste do nitrito é altamente sensível para o diagnóstico de infecção do trato urinário.
- IV A realização de ecografia renal traz boa contribuição para o diagnóstico do caso em questão.
- V O emprego de antibiótico pode ser iniciado antes mesmo do resultado da cultura de urina.

A quantidade de itens certos é igual a

- A 1.      B 2.      C 3.      D 4.      E 5.

### QUESTÃO 18

Um paciente, com vinte anos de idade, tabagista, que ingere, com alguma frequência, bebida alcoólica, realizou uma consulta em ambulatório de clínica médica, quando se verificou que a medida de sua pressão arterial era de 150 mmHg × 95 mmHg. Na revisão de prontuário, descobriu-se que se tratava da terceira visita do paciente ao hospital no espaço de quatro semanas e que seus níveis de pressão arterial sistólica e diastólica sempre se situavam, respectivamente, entre 145 mmHg e 150 mmHg e entre 90 mmHg e 95 mmHg. A respeito do tratamento não-farmacológico para esse caso, julgue os itens a seguir.

- I A perda de peso é potencialmente a medida mais eficaz, independentemente de o paciente ser obeso.
- II A dieta hipossódica é uma recomendação cujo benefício ainda não está claramente demonstrado na literatura médica.
- III Uma dieta que contemple a ingestão de alimentos ricos em potássio pode promover uma significativa redução da pressão arterial.
- IV O paciente deve ter recomendação expressa de não mais fumar e de restringir o uso de bebidas alcoólicas.
- V Exercícios aeróbios devem ser realizados, obedecendo ao limite de 85% da frequência cardíaca máxima, pelo menos três vezes por semana.

A quantidade de itens certos é igual a

- A 1.      B 2.      C 3.      D 4.      E 5.

### QUESTÃO 19

O alcoolismo é um grave problema de saúde pública no Brasil e ocorre em todas as classes socioeconômicas, acarretando diversos problemas na esfera médica. A respeito desse assunto, julgue os itens subseqüentes.

- I Alguns indivíduos podem desenvolver hiperglicemia como conseqüência do metabolismo do álcool.
- II Muitos indivíduos estão sujeitos a desenvolver essa doença, motivados por fatores genéticos.
- III A presença de sinais neurológicos focais demanda urgente realização de uma tomografia computadorizada de crânio.
- IV Estudos vêm demonstrando que o alcoólico tem um melhor prognóstico terapêutico quando inserido em um programa de reabilitação.
- V O tremor é o sinal mais comum da abstinência e costuma ocorrer acompanhado de hiperatividade parassimpática.

Estão certos apenas os itens

- A I, II e III.                      C I, IV e V                      E II, IV e V.  
B I, III e V.                      D II, III e IV.

### QUESTÃO 20

O diabetes melito é uma das principais causas de procura de um consultório médico, e as estatísticas mostram ser essa uma doença de grande morbimortalidade. Os fatores que demandam uma pesquisa acerca de seu diagnóstico incluem

- I obesidade.
- II infecções recorrentes de pele.
- III poliúria.
- IV antecedentes familiares dessa enfermidade.
- V idade acima de sessenta anos.

A quantidade de itens certos é igual a

- A 1.      B 2.      C 3.      D 4.      E 5.

### QUESTÃO 21

Acerca das parasitoses intestinais, que ainda representam grande prevalência no Brasil, assinale a opção que apresenta a correta relação entre a doença e a droga para seu tratamento.

- A ascaridíase                      ÿ mebendazol  
B strongiloidíase                      ÿ metronidazol  
C esquistossomose                      ÿ cambendazol  
D teníase                      ÿ mebendazol  
E amebíase                      ÿ tiabendazol

**QUESTÃO 22**

Após a identificação de um gânglio localizado na região supraclavicular esquerda, de consistência endurecida, indolor e aderido a planos superficiais, tem-se como diagnóstico mais provável o(a)

- A tuberculose.
- B câncer.
- C lúpus eritematoso sistêmico.
- D sarcoidose.
- E gânglio reacional inespecífico.

**Texto CG – questões de 23 a 25**

Um paciente, com quinze anos de idade, previamente hígido, apresenta, há uma semana, quadro súbito de febre, calafrios e dor torácica com pontada à esquerda, seguida de tosse com expectoração amarelada. O paciente nega o uso de drogas ilícitas, tabaco e álcool. O exame físico mostra a presença de crepitações inspiratórias na base do pulmão esquerdo. No raio X de tórax, verifica-se a existência de condensação homogênea no lobo inferior esquerdo.

**QUESTÃO 23**

O mais provável agente etiológico de quadro de pneumonia descrito no texto CG é o(a)

- A *Staphylococcus aureus*.
- B *Haemophilus influenzae*.
- C *Legionella pneumophila*.
- D *Streptococcus pneumoniae*.
- E *Pseudomonas aeruginosa*.

**QUESTÃO 24**

No caso apresentado no texto CG, o tratamento que melhor associa eficácia terapêutica e menor custo é feito com

- A macrolídeo.
- B penicilina.
- C quinolona.
- D cloranfenicol.
- E aminoglicosídeo.

**QUESTÃO 25**

Supondo que o paciente mencionado no texto CG responda favoravelmente ao tratamento prescrito, a resolução das imagens radiográficas pode então ser esperada em um intervalo de tempo de

- A uma semana.
- B duas a quatro semanas.
- C quatro a seis semanas.
- D seis a oito semanas.
- E oito a dez semanas.

**CONHECIMENTOS ESPECÍFICOS****QUESTÃO 26**

As medidas clínicas habitualmente utilizadas no tratamento da hiperpotassemia **não** incluem

- A resinas trocadoras de íons, por via oral ou retal.
- B glicose hipertônica com insulina endovenosa.
- C correção de acidose metabólica.
- D infusão de citrato de sódio por via endovenosa.
- E infusão de gluconato de cálcio por via endovenosa.

**QUESTÃO 27**

Assinale a opção correta acerca da fisiopatologia da perda sanguínea envolvida no choque hemorrágico.

- A Na fase inicial, há diminuição na produção de ácido láctico e alcalose metabólica.
- B A primeira evidência ultraestrutural de hipóxia celular é o edema das mitocôndrias.
- C A chamada lesão de reperfusão é causada por edema intersticial importante que afeta a membrana entre o capilar e o interstício.
- D Água e sódio são liberados das células, levando à desidratação.
- E O tratamento inicial do choque hemorrágico visa, especialmente, aumentar a pós-carga.

**QUESTÃO 28**

Com respeito à cicatrização das feridas cutâneas, assinale a opção correta.

- A A fase de contração da ferida é fundamental na cicatrização por primeira intenção.
- B Na cicatrização por segunda intenção, inicialmente a ferida é deixada aberta e, posteriormente, é fechada.
- C O processo de formação de tecido de granulação inicia-se já no primeiro dia de trauma.
- D Os macrófagos ativados, presentes na área da ferida, caracteristicamente não apresentam função antimicrobiana.
- E O colágeno do tipo I é o principal componente da pele normal.

**QUESTÃO 29**

Assinale a opção correta referente à anatomia arterial e venosa da região anorretocólica.

- A A artéria mesentérica superior é ramo do tronco celíaco.
- B A origem da artéria mesentérica inferior, no adulto, encontra-se, habitualmente, de 3 cm a 4 cm acima da bifurcação da aorta.
- C A artéria ilíaca externa supre a região anorretal.
- D A veia mesentérica inferior desemboca diretamente na veia cava em cerca de 50% dos casos.
- E A artéria hemorroidária média é ramo da artéria pudenda interna e alcança o anorreto após cruzar a fossa isquiorretal.



**QUESTÃO 30**

Assinale a opção correta acerca dos pólipos colorretais.

- A Os pólipos neoplásicos com mais de 75% de componente viloso ao exame histopatológico são classificados como adenomas vilosos.
- B Não há necessidade de segmento endoscópico após ressecção de pólipos tubulares porque o risco de reaparecimento de outro pólipo é desprezível.
- C O termo carcinoma invasivo, quando utilizado na avaliação histopatológica de um pólipo, indica que as células malignas invadem a muscular própria.
- D O pólipo hamartomatoso é, caracteristicamente, constituído por células inflamatórias.
- E Os pólipos encontrados na síndrome de Peutz-Jeghers são do tipo histológico adenomatoso.

**QUESTÃO 31**

Assinale a opção que representa o sítio de maior incidência de metástases hematogênicas no adenocarcinoma colorretal.

- A pulmão
- B fígado
- C ossos
- D cérebro
- E baço

**QUESTÃO 32**

A infecção por papiloma vírus humano (HPV) tem sido associada à maior incidência de carcinoma anal. Assinale a opção que corresponde ao conjunto de genótipos com maior risco de desenvolvimento de carcinoma.

- A 6 e 11
- B 7 e 77
- C 16 e 18
- D 17 e 53
- E 26 e 32

**QUESTÃO 33**

A técnica pela qual os mamilos hemorroidários são dissecados sem ressecção ou com ressecção mínima de mucosa e pele, também chamada hemorroidectomia submucosa, foi descrita por

- A Parks.
- B Milligan-Morgan.
- C Whitehead.
- D Ferguson.
- E Lord.

**QUESTÃO 34**

A respeito da fissura anal, assinale a opção correta.

- A A presença de papila anal hipertrofiada é mais comum na fase aguda.
- B A localização anterior é, proporcionalmente, mais comum nos homens que nas mulheres.
- C O plicoma sentinela deve ser ressecado para se evitar a formação comum de fístula subcutânea.
- D A esfínterectomia anal interna, tanto pela técnica aberta quanto pela fechada, não deve ser realizada na linha média posterior, devido ao maior risco de complicações a ela associadas.
- E São recomendáveis as dilatações diárias, por meio de toque retal, para se evitar a estenose anal.

**QUESTÃO 35**

A fístula anorretal mais comumente associada às chamadas *fístulas em ferradura* é a

- A transesfinctérica.
- B supra-esfinctérica.
- C extra-esfinctérica.
- D submucosa.
- E subcutânea.

**QUESTÃO 36**

A operação que apresenta maior risco de incontinência anal permanente é a

- A fissurectomia.
- B esfínterectomia lateral interna subcutânea.
- C hemorroidectomia.
- D fistulotomia.
- E drenagem de abscesso perianal.

**QUESTÃO 37**

Assinale a opção correta acerca do megacolo chagásico.

- A O exame indicado na suspeita de fecaloma é o clister opaco com duplo contraste.
- B O tratamento do volvo deve ser preferencialmente operatório, por meio de sigmoidostomia, que facilita o preparo colônico pré-operatório.
- C A técnica de ressecção laparoscópica é superior à técnica aberta, quando comparados os resultados de longo prazo.
- D Na maioria dos casos, o megacolo é manifestação isolada de comprometimento do tubo digestivo pela doença de Chagas.
- E O comprometimento nervoso do cólon antecede o aparecimento dos sintomas.

**QUESTÃO 38**

Assinale a opção **incorreta** a respeito da doença pilonidal sacrococcígea.

- A Raramente acomete pessoas com mais de quarenta anos de idade.
- B É mais comum em pessoas do sexo masculino.
- C Na fase aguda, o tratamento deve restringir-se a compressas mornas e antibióticos e anti-inflamatórios orais.
- D A técnica aberta e suas variações apresentam menores índices de recidiva e maior tempo de cicatrização.
- E A teoria de origem adquirida é a mais aceita atualmente.

**QUESTÃO 39**

Na pesquisa por colonoscopia, clister opaco e tomografia computadorizada, o sinal encontrado mais comumente na doença de Crohn que na retocolite ulcerativa é o(a)

- A desaparecimento de haustrações.
- B íleite de refluxo.
- C presença de lesões em continuidade.
- D aumento do espaço pré-sacro.
- E alteração da gordura mesentérica.

**QUESTÃO 40**

A respeito do câncer colorretal hereditário não-polipóide (HNPCC), quando comparado ao câncer esporádico, assinale a opção **incorreta**.

- A A faixa etária de maior frequência de aparecimento é mais baixa.
- B A principal alteração genética ocorre no gene *Adenomatous polyposis coli* (APC).
- C O número de instabilidades microssatélites é maior.
- D A frequência geral de aparecimento é menor.
- E É mais frequente a localização proximal.