



MINISTÉRIO DA DEFESA
SECRETARIA DE ORGANIZAÇÃO INSTITUCIONAL
HOSPITAL DAS FORÇAS ARMADAS (HFA)

CONCURSO PÚBLICO
– Aplicação: 27/1/2002 –

ÁREA: TÉCNICO EM SAÚDE
EMPREGO: TÉCNICO EM ATIVIDADES HOSPITALARES

CADERNO DE PROVAS



MINISTÉRIO DA DEFESA
SECRETARIA DE ORGANIZAÇÃO INSTITUCIONAL
HOSPITAL DAS FORÇAS ARMADAS (HFA)
Concurso Público – Aplicação: 27/1/2002

ÁREA: TÉCNICO EM SAÚDE
EMPREGO: TÉCNICO EM ATIVIDADES HOSPITALARES

INSTRUÇÕES

- 1 Este caderno consta de **quarenta** questões objetivas, assim distribuídas: **dez** questões de **Língua Portuguesa**, **cinco** questões de **Matemática**, **cinco** questões de **Conhecimentos de Informática**, **cinco** questões de **Conhecimentos Gerais** e **quinze** questões de **Conhecimentos Específicos**.
- 2 Caso este caderno esteja incompleto ou tenha qualquer defeito, o candidato deverá solicitar ao fiscal de sala mais próximo que tome as providências cabíveis.
- 3 Recomenda-se não marcar ao acaso: cada questão cuja resposta divirja do gabarito oficial definitivo acarretará a perda de 0,25 ponto, conforme consta no Edital n.º 1/2001 – HFA, de 6/11/2001.
- 4 Não é permitida a utilização de nenhum material de consulta.
- 5 Durante as provas, o candidato não deve levantar-se nem comunicar-se com outros candidatos.
- 6 A duração das provas é de **três horas**, já incluído o tempo destinado à identificação — que será feita no decorrer das provas — e ao preenchimento da Folha de Respostas.
- 7 A desobediência a qualquer uma das determinações constantes nas presentes Instruções, na Folha de Rascunho ou na Folha de Respostas poderá implicar a anulação das provas do candidato.

AGENDA

- I **28/1/2002** – Divulgação dos gabaritos oficiais preliminares das provas objetivas, na Internet — no endereço <http://www.cespe.unb.br> — e nos quadros de avisos do CESPE/UnB — em Brasília.
- II **29 e 30/1/2002** – Recebimento de recursos contra os gabaritos oficiais preliminares das provas objetivas exclusivamente na Gerência de Atendimento do CESPE/UnB.
- III **6/2/2002** – Data provável da divulgação (após a apreciação de eventuais recursos), no Diário Oficial e nos locais mencionados no item I, do resultado final das provas objetivas e do resultado final do concurso.

Observações:

- Não serão objeto de conhecimento recursos em desacordo com o estabelecido no item **10 DOS RECURSOS** do Edital n.º 1/2001 – HFA, de 6/11/2001.
- Informações relativas a resultados poderão ser obtidas pelo telefone 0(XX)–61–448–0100.
- É permitida a reprodução deste material, desde que citada a fonte.



MINISTÉRIO DA DEFESA
SECRETARIA DE ORGANIZAÇÃO INSTITUCIONAL
HOSPITAL DAS FORÇAS ARMADAS (HFA)
Concurso Público – Aplicação: 27/1/2002

ÁREA: TÉCNICO EM SAÚDE
EMPREGO: TÉCNICO EM ATIVIDADES HOSPITALARES

Nas questões de 1 a 40, marque, em cada uma, a única opção correta, de acordo com o respectivo comando. Na Folha de Respostas, a indicação do campo **SR** é facultativa e não contará para efeito de avaliação; servirá somente para caracterizar que o candidato desconhece a resposta correta. Use a Folha de Rascunho para as devidas marcações e, posteriormente, a **Folha de Respostas**.

LÍNGUA PORTUGUESA

Texto LP-I – questões de 1 a 4

Depoimentos

I

1 Quero agradecer o ótimo atendimento que recebi na manhã de 30
de maio de 2001, na Central de Endoscopia do Pavilhão Cristo
Redentor, uma das unidades da Santa Casa de Porto Alegre. Cheguei
4 com muito medo, mas a auxiliar de enfermagem me explicou claramente
o procedimento que eu iria sofrer. O técnico de enfermagem Jorge
Ricardo Pontes, com o objetivo de me fazer sentir mais segura, segurou
7 a minha mão durante todo o exame. Apesar de ter sido um procedimento
desconfortante, me senti acolhida por este profissional. Gostaria de
ressaltar que são poucas as pessoas que fazem hoje em dia um ato tão
10 humano. Obrigada e que Deus reserve a você o que de melhor existe no
mundo.

L. R. A.

II

13 Formulo esta correspondência para expressar os nossos maiores
agradecimentos a esta conceituada Santa Casa de Porto Alegre, que tem
prestado seus serviços a nós pacientes, hospitalizados e hospedados já
há algum tempo no Pavilhão Pereira Filho. Durante todo o período em
16 que estivemos nesse hospital, recebemos o melhor atendimento, tanto
do lado profissional quanto humano, do quadro médico docente,
enfermagem e do quadro funcional. Resta-nos agradecer de todo o nosso
19 coração os esforços prestados pelo grupo de funcionários a mim e a meu
filho. Pedimos ao Senhor que proteja e guarde a todos e que vocês
continuem prestando os serviços de qualidade, que caracterizam esse
22 hospital.

E. P. P. e I. R. P.

III

25 Eu sou muito grato ao Dr. Fernando Lucchese e à equipe
competente que o cerca. Gostaria que esse meu depoimento servisse de
incentivo às pessoas doentes que esqueceram de acreditar, por exemplo,
no esforço sobre-humano de médicos maravilhosos, pois eles tudo
procuram fazer para ajudar seus pacientes. (...) Hoje eu vivo porque na
28 Santa Casa de Misericórdia de Porto Alegre se pratica medicina de alta
qualidade.

L. B.

IV

31 Gostaria de registrar meus parabéns pelo tratamento pessoal que
estou recebendo do Dr. Fábio José Zell e de sua equipe, na Santa Casa
de Porto Alegre. Destaco, particularmente, a agilidade do Hospital Santa
Rita. Em breve estarei numa cirurgia e o tratamento prévio a mim
34 dispensado é de alta qualidade. Muito obrigado. Que Deus possa nos
amparar nesta hora difícil e a todos os que precisarem.

R. M. N.

“Cartas”. In: Santa Casa Notícias, n.º 95, jul./ago./2001, p. 4 (com adaptações).

QUESTÃO 1

A partir da leitura compreensiva das idéias manifestadas nos depoimentos do texto LP-I, assinale a opção correta.

- Ⓐ Todos os remetentes dirigem-se a um único destinatário institucional, a Santa Casa de Porto Alegre, para evidenciar a qualidade do atendimento de um mesmo setor de tal instituição.
- Ⓑ Constata-se, no depoimento I, que o funcionário homenageado está na direção da unidade denominada Central de Endoscopia do Pavilhão Cristo Redentor.
- Ⓒ No depoimento II, verifica-se que o remetente é o conjunto de pacientes idosos que estavam hospedados no Pavilhão Pereira Filho do Hospital Santa Rita.
- Ⓓ Observa-se que o depoimento III ultrapassa a esfera individual, para contemplar o esforço ilimitado dos médicos que praticam medicina de alta qualidade, tudo fazendo para ajudar seus pacientes.
- Ⓔ No depoimento IV, o paciente que redigiu o depoimento estava recebendo tratamento pessoal do Dr. Fábio, coordenador da equipe de cirurgiões da Santa Casa, após a intervenção a que se submeteu.

QUESTÃO 2

Com relação ao depoimento I do texto LP-I, assinale a opção **incorreta**.

- Ⓐ Em “com o objetivo de me fazer” (R6), por não haver um elemento de atração que exija a próclise, a norma culta escrita recomenda o uso do pronome enclítico: **fazer-me**.
- Ⓑ A aproximação de duas palavras com a mesma raiz, em “segura, segurou” (R6), poderia ser corretamente desfeita se o adjetivo fosse substituído pelo sinônimo **confiante**.
- Ⓒ Em “todo o exame” (R7), há um desvio gramatical quanto ao emprego do artigo, que está redundante, pois a grafia correta seria **todo exame**.
- Ⓓ O elemento de coesão “Apesar de” (R7) pode ser substituído pelo equivalente **Embora**, desde que sejam feitos os ajustes necessários na forma verbal.
- Ⓔ Na linha 8, o emprego do demonstrativo **esse** é preferível ao uso de “este”, que deve ser utilizado para pessoa ou objeto que ainda vai ser mencionado, ou quando, havendo mais de um antecedente, quer-se fazer referência ao último.

QUESTÃO 3

Considerando a variada tipologia de redação oficial, a partir da leitura do texto LP-I, assinale a opção correta.

- A Nenhum dos depoimentos, pela linguagem predominantemente emotiva e pelo caráter subjetivo de que se revestem, pode fazer parte de uma correspondência oficial.
- B Pela sua estrutura e pelo seu teor, os depoimentos I e II poderiam fazer parte de uma ata e de um relatório, respectivamente.
- C Os depoimentos III e IV, pela extensão e pelo conteúdo das mensagens, podem constituir parte de documentos de menor porte, por exemplo, de um memorando e de um atestado.
- D O conjunto de depoimentos, por eles terem em comum o mesmo destinatário, pode ser arquivado na pasta de correspondência oficial do hospital, sob o rótulo de **cartas comerciais**.
- E Todos os textos fazem parte de um processo promocional, em que os serviços prestados pela casa de saúde são divulgados à venda, em revista especializada em produtos laboratoriais.

QUESTÃO 4

Com referência ao emprego das maiúsculas e das classes gramaticais e às idéias do texto LP-I, assinale a opção **incorreta**.

- A O reconhecimento pelos serviços prestados, aspecto comum aos depoimentos transcritos, é manifestado pelas expressões: “Quero agradecer” (R1), “expressar os nossos maiores agradecimentos” (R12-13), “Eu sou muito grato” (R23) e “Muito obrigado” (R34).
- B As palavras “minha” (R7), “nossos” (R12), “seus” (R27) e “sua” (R31) têm em comum o fato de expressarem a circunstância de posse.
- C O emprego de maiúsculas nas palavras “Deus” (R10) e “Senhor” (R20) justifica-se por elas designarem altos conceitos religiosos.
- D Nas manifestações de religiosidade “Deus reserve” (R10), “Senhor que proteja e guarde” (R20) e “Deus possa” (R34), os verbos estão no modo indicativo, porque os emissores das mensagens têm certeza de que serão atendidos.
- E O trecho “Gostaria que esse meu depoimento” (R24) pode ser assim reescrito corretamente: **Gostaria de que esse meu depoimento**.

Texto LP-II – questões de 5 a 7

1 Pouco maior do que um par de ameixas secas, com formato semelhante ao de uma gravata-borboleta e pesando entre 15 g e 25 g, ela comanda algumas das mais importantes funções do corpo humano. Exemplos? A capacidade de respirar, de mover as pernas, regular a temperatura corporal, manter o coração batendo no ritmo certo, o raciocínio pronto para qualquer desafio... É preciso mais?

7 Claro que não. Está comprovadíssima a nobreza da pecinha de que estamos falando. E para não espichar o assunto, vamos logo à ficha da moça. Trata-se da glândula tireóide (ou tireóide), domiciliada à frente da traquéia, bem abaixo do pomo-de-adão, ou gogó, para os íntimos.

13 O primeiro médico a descrevê-la foi o belga Vesalius, pai da anatomia moderna, em 1543. Ele observou que a pequena estrutura se movimenta para cima e para baixo durante o ato de engolir, mas não chegou a descobrir as tarefas desempenhadas por ela no organismo. Séculos depois, os cientistas perceberiam que, além de dançar no pescoço, a glândula fabrica dois hormônios fundamentais: o T3 (triiodotironina) e o T4 (tiroxina). Lançadas na corrente sanguínea, essas substâncias atingem, uma por uma, todas as células do corpo, estimulando-as a produzir energia. Isso mesmo. O T3 e o T4 atuam como a gotinha mágica que induz o metabolismo celular a transformar nutrientes em combustível vital. Assim, o organismo encontra forças para desempenhar todas as suas funções — de piscar o olho a correr a mais disputada das maratonas.

25

Armando Luiz Antenore. In: *Saúde!*, dez./1990, p. 71 (com adaptações).

QUESTÃO 5

A partir da leitura interpretativa do texto LP-II, assinale a opção correta.

- A Ao descrever a glândula tireóide, o autor apresenta-lhe a origem, o histórico, as características, as funções e os principais empecilhos a seu funcionamento.
- B O texto trata de um assunto especializado, de natureza científica, em linguagem adequada ao público leigo.
- C O fragmento estrutura-se a partir de analogias, com ameixas e borboletas, e de comparações, com o coração e o cérebro, por exemplo.
- D Os efeitos principais do mau funcionamento da tireóide são, para os membros, a fraqueza e a imobilidade gradativas e, para o tórax, as dificuldades de funcionamento do diafragma.
- E Denominam-se hipertireoidismo e hipotireoidismo o excesso ou a carência, respectivamente, dos hormônios fundamentais da tireóide, segundo o movimento ascendente e descendente dessa glândula.

QUESTÃO 6

Acerca da função sintática exercida por expressões retiradas do texto LP-II, julgue os itens subseqüentes.

- I “ao de uma gravata-borboleta” (R2) – complemento nominal do adjetivo que a antecede
- II “das mais importantes funções do corpo humano” (R3-4) – objeto indireto da forma verbal “comanda”
- III “a nobreza da pecinha” (R7) – sujeito da oração em que se insere
- IV “da glândula tireóide” (R9) – adjunto adnominal, relativo ao substantivo que a sucede
- V “pai da anatomia moderna” (R12-13) – aposto explicativo, referindo-se ao nome próprio
- VI “no organismo” (R16) – adjunto adverbial, indicando circunstância de lugar
- VII “todas as células do corpo” (R19-20) – objeto direto do verbo que a antecede

A quantidade de itens certos é igual a

- A 3.
- B 4.
- C 5.
- D 6.
- E 7.

QUESTÃO 7

Julgue as seguintes transformações de passagens do texto LP-II e assinale a opção que apresenta **desvio** gramatical ou mudança da idéia originalmente exposta.

- A “ela comanda (...) desafio...” (R3-6): **são comandadas pela tireóide as seguintes funções do corpo humano: respiração, movimentação das pernas, regulagem da temperatura, manutenção dos batimentos cardíacos no ritmo certo e prontidão de raciocínio.**
- B “E para (...) moça.” (R8-9): **Para não espichá-la, vamos logo à ela.**
- C “domiciliada (...) íntimos.” (R9-11): **localiza-se à frente da traquéia, abaixo de uma região conhecida como pomo-de-adão, ou, para os mais chegados, gogó.**
- D “a pequena (...) engolir,” (R13-15): **a pequena estrutura realiza um movimento ascendente e um descendente, durante o ato de engolir,**
- E “Lançadas (...) energia.” (R18-20): **Todas as células do corpo são estimuladas a produzir energia quando atingidas tanto por T3 (triiodotironina), quanto por T4 (tiroxina).**

QUESTÃO 8**Uma bênção para o coração**

Os médicos aderiram em massa, na década passada, ao uso de certas proteínas, chamadas estatinas, na prevenção de doenças cardíacas. Em todo o mundo, mais de 70 milhões de pessoas usam remédios com essas substâncias como princípio ativo. Sabia-se que as estatinas eram as mais potentes armas disponíveis para baixar o nível de LDL, o colesterol ruim, porque atuam diretamente no fígado, órgão que produz 70% do nosso colesterol.

Também se mostram eficazes, em altas doses, na diminuição das placas de gordura das artérias, a aterosclerose. Pesquisadores da Universidade de Oxford concluíram que ela pode diminuir em 30% os riscos de infarto e derrame em quem não tem colesterol alto, mas faz parte de outros grupos de risco, como diabéticos, idosos e hipertensos.

Problemas cardíacos causam a morte de 300.000 brasileiros por ano. Dados do Instituto do Coração de São Paulo (INCOR) estimam que as estatinas ajudam a evitar 4% dos infartos fatais no Brasil. Esse número poderia ser bem maior. Apenas quatro em cada dez brasileiros com colesterol alto e doenças do coração usam estatinas.

Os primeiros medicamentos à base de estatina começaram a ser vendidos nos anos 80 e hoje há muitas variantes da droga — por isso se costuma falar a respeito dela no plural. Apesar de ser uma verdadeira bênção no combate aos males do coração, a estatina pode causar insuficiência renal e lesões musculares.

Gabriela Carelli. *In: Veja*, 21/11/2001, p. 106 (com adaptações).

Assinale a opção que vai ao encontro das idéias expressas no texto acima.

- A** Apenas 40% dos brasileiros com problemas de coração e níveis elevados de colesterol tomam remédios à base de estatina.
- B** Em todo o mundo, mais de 70 milhões de médicos aderiram, na última década, ao uso de estatinas, espécies de proteínas empregadas na prevenção de doenças cardíacas.
- C** Estatinas mostram-se eficazes, na diminuição das placas de aterosclerose, segundo pesquisadores da Universidade de Oxford, porque elas diminuem em 30% os riscos de infarto e derrame de quem tem colesterol alto.
- D** Costuma-se falar a respeito dessa droga no plural porque há muitos medicamentos à base de estatina desde 1980.
- E** A autora considera a estatina uma verdadeira bênção porque essa droga combate os males do coração e não apresenta efeitos colaterais.

QUESTÃO 9

Assinale a opção correta quanto às normas gramaticais de grafia e de pontuação.

- A** Na semana passada, a divulgação dos resultados do maior estudo, já realizado, sobre as estatinas demonstrou, que ela vai além disso: 200 milhões de pessoas podem passar a usar estatina na década vindoura.
- B** Assim como as últimas estatísticas, em sua estimativa, o uso regular deste remédio como antibiótico de baixo impacto, pode até combater fungos.
- C** Uma pequena dose, ministrada diariamente, desse remédio pode até causar redução de 45% do tipo de colesterol mais danoso à saúde.
- D** O LDL é perigoso porque aumenta a permeabilidade da camada que reveste as artérias e possibilita a formação de placas de gordura, o que pode levar ao intupimento dos vasos.
- E** Uma das razões de os brasileiros consumirem pouca estatina é o preço *salgado* desse medicamento: a caixa com 30 comprimidos custa aproximadamente sessenta reais.

QUESTÃO 10

Qualquer cientista que realiza investigações e pesquisas acerca do uso de medicamentos deve comunicar o resultado de suas descobertas à direção do seu órgão oficial de classe, mediante um expediente formal, descritivo, que apresente o processo e o produto obtido. Assinale a opção cujo documento serve a essa finalidade.

- A** ata
- B** atestado
- C** circular
- D** declaração
- E** relatório

MATEMÁTICA**QUESTÃO 11**

Um farmacêutico precisa de 50 cm³ de um soro homogêneo com 16% de concentração de sal. O fabricante A produz esse soro com 15% de concentração de sal, enquanto o fabricante B o produz com 20% de concentração de sal. As quantidades, **em cm³**, de soros dos fabricantes A e B que podem ser misturadas a fim de que se obtenha os 50 cm³ do soro na concentração desejada são, respectivamente, iguais a

- A** 10 e 40.
- B** 20 e 30.
- C** 30 e 20.
- D** 35 e 15.
- E** 40 e 10.

RASCUNHO

QUESTÃO 12

Um indivíduo pretende investir R\$ 100.000,00, pelo prazo de dois anos, a uma taxa mínima de retorno (juros compostos) de 21% a.a. Na localidade em que reside, ele dispõe das opções de investimento listadas a seguir.

opção	montante a receber
A	parcela única de R\$ 144.000,00 no fim de 2 anos
B	duas parcelas anuais de R\$ 70.000,00 cada uma

Com base nessas informações, julgue os itens abaixo.

- I A taxa anual de juros compostos praticada na opção A é maior que 18%.
II A taxa mínima de atratividade (retorno) almejada pelo indivíduo citado é atingida na opção A.
III A taxa anual de juros compostos praticada na opção B é maior que 20%.

Assinale a opção correta.

- A** Apenas um item está certo.
B Apenas os itens I e II estão certos.
C Apenas os itens I e III estão certos.
D Apenas os itens II e III estão certos.
E Todos os itens estão certos.

QUESTÃO 13

Uma pessoa tomou emprestado em um banco a quantia de R\$ 21.630,00. O pagamento desse empréstimo deverá ser feito pelo sistema francês de amortização, sem prazo de carência e à taxa de juros compostos de 12% a.a., devendo o principal ser pago em 5 pagamentos iguais, anuais e *postecipados*. Considerando $(1,12)^{-5} = 0,5674$, o valor de cada pagamento será

- A** inferior a R\$ 3.500,00.
B superior a R\$ 3.500,00 e inferior a R\$ 4.500,00.
C superior a R\$ 4.500,00 e inferior a R\$ 5.500,00.
D superior a R\$ 5.500,00 e inferior a R\$ 6.500,00.
E superior a R\$ 6.500,00.

QUESTÃO 14

O almoxarifado da seção de limpeza de um hospital fez a compra de dois materiais de uso diário. Em novembro, o total gasto foi de R\$ 160,00 com 4 caixas de desinfetante e 3 caixas de detergente. Em dezembro, foram adquiridas 3 caixas de desinfetante e 5 caixas de detergente, totalizando R\$ 175,00. Considerando que o preço de cada produto permaneceu constante no período citado, ao se comprar uma caixa de cada um desses produtos, gasta-se uma quantia

- A** inferior a R\$ 50,00.
B superior a R\$ 50,00 e inferior a R\$ 55,00.
C superior a R\$ 55,00 e inferior a R\$ 60,00.
D superior a R\$ 60,00 e inferior a R\$ 65,00.
E superior a R\$ 65,00.

QUESTÃO 15

Um indivíduo deposita, no início de cada trimestre, determinada quantia fixa de dinheiro, à taxa de juros simples de 6% ao trimestre. O primeiro depósito foi feito em 1.º de janeiro de 1997, o último foi feito em 1.º de outubro de 2001. Todo o montante correspondente a esse investimento, compreendendo juros e capital investido, foi disponibilizado para esse indivíduo em 1.º de janeiro de 2002, totalizando, nessa ocasião, a quantia de R\$ 48.900,00. Nessas condições, conclui-se que a quantia aplicada por esse indivíduo a cada trimestre era

- A** inferior a R\$ 1.200,00.
B superior a R\$ 1.200,00 e inferior a R\$ 1.600,00.
C superior a R\$ 1.600,00 e inferior a R\$ 2.000,00.
D superior a R\$ 2.000,00 e inferior a R\$ 2.400,00.
E superior a R\$ 2.400,00.

RASCUNHO

CONHECIMENTOS DE INFORMÁTICA

Nas questões de 16 a 20, a menos que seja explicitamente informado o contrário, considere que todos os programas mencionados estão em configuração-padrão, em português; que o *mouse* está configurado para pessoas destras e que expressões como clicar, clique simples e clique duplo referem-se a cliques com o botão esquerdo do *mouse*. Considere também que não há restrições de proteção e de uso em relação aos programas, arquivos, diretórios e equipamentos mencionados.

Figura CI – questões 16 e 17



QUESTÃO 16

Na figura CI, observa-se uma janela do aplicativo Windows Explorer sobre a área de trabalho do Windows 98. Com o auxílio da figura e com relação a conceitos de *hardware* e de *software*, julgue os itens a seguir.


- I Na barra de tarefas do Windows 98, observa-se a marcação da hora atual em **08:13**. Caso seja necessário modificar essa hora, o sistema operacional deverá ser instalado novamente.
- II Um arquivo com extensão *.exe*, como, por exemplo, **Acrobat.exe** na janela do Windows Explorer acima, pode ser executado se o usuário efetuar um clique duplo sobre o referido arquivo.
- III Para criar uma nova pasta dentro da pasta **Catalog**, é suficiente que o usuário realize, no Windows Explorer, as seguintes ações: selecionar a referida pasta; no menu **ARQUIVO**, apontar para Nova e clicar em Pasta; na nova pasta que aparecer na área à direita da janela do Windows Explorer, com o nome Nova Pasta, digitar o nome desejado para a nova pasta; teclar **<**.
- IV Para excluir o arquivo **Agm.dll**, usando o Windows Explorer, é suficiente que o usuário: clique com o botão direito do *mouse* sobre o referido arquivo e, na lista de opções que aparecer, escolha Excluir; confirme a exclusão.
- V O padrão de teclado a ser usado por usuários do idioma português do Brasil é o ABNT 2. Para configurar o teclado nesse padrão, é suficiente que o usuário clique, no Windows Explorer, em **Ferramentas** e, na lista de opções que será disponibilizada, escolha Teclados padrão português.

Estão certos apenas os itens

- A** I, II e IV. **B** I, II e V. **C** I, III e V. **D** II, III e IV. **E** III, IV e V.

QUESTÃO 17




Ainda com o auxílio da figura CI, e com relação a conceitos de informática, assinale a opção correta.

- A** Caso clique em , o usuário fará que a janela do Windows Explorer mostrada na figura seja minimizada, o que permitirá a visualização de toda a área de trabalho do Windows 98.
- B** Para mover o arquivo **Acrobat.exe** da pasta **Acrobat** para a pasta **Acrobat 4.0**, é suficiente que o usuário clique sobre o referido arquivo e, em seguida, clique na pasta **Acrobat 4.0**.
- C** Caso execute um clique duplo sobre a área de trabalho do Windows 98, o usuário terá acesso à janela Painel de controle, em que é possível personalizar várias configurações do seu computador, inclusive a quantidade de cores do monitor.
- D** O estabilizador de tensão é um equipamento que se destina a corrigir as variações da velocidade de acesso à Internet, mantendo constante a taxa de transmissão de dados dos computadores conectados ao provedor desse serviço.
- E** A placa de vídeo não é necessária em um equipamento utilizado exclusivamente para pesquisas em um *site* da Internet que contenha somente texto.

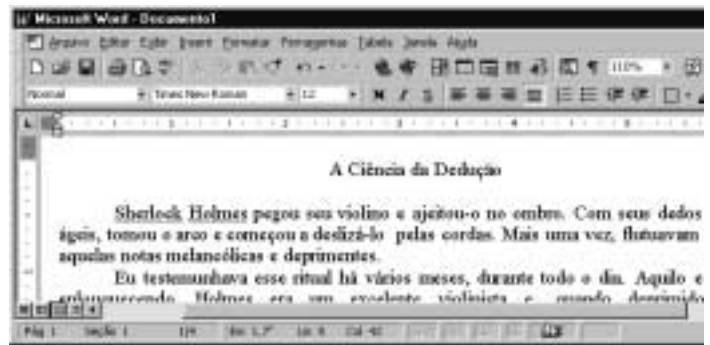
QUESTÃO 18






Por meio do Internet Explorer 5 e a partir de um computador que opera com o sistema operacional Windows 98, um usuário acessou um *website* especializado no envio de *fax*, utilizando os recursos da Internet. A figura acima mostra uma das páginas do *website* acessado. Com base nessa figura e acerca da Internet, do Windows 98 e do Internet Explorer 5, assinale a opção correta.

- A Com base nos dados apresentados na figura, é correto afirmar que a página mostrada acima é uma das favoritas do Internet Explorer 5, configurada pelo usuário a partir do botão .
- B Para facilitar a navegação pela *Web*, as páginas da WWW podem ser desenvolvidas com recursos de *hyperlink*. Por meio desse recurso, o usuário pode acessar informações a partir de elementos gráficos e textuais dispostos na própria página. Na página acima mostrada, se o usuário clicasse em **Login**, em **Senha** ou até mesmo em **Cadastro**, ele acessaria recursos da página por meio de *hyperlinks*.
- C Os serviços de *fax* por meio dos recursos da Internet somente podem ser utilizados, caso o computador do usuário tenha nele instalado, além de uma placa de rede para a conexão a um provedor de Internet, uma placa de *fax/modem* para enviar o *fax* até o *website*. Adicionalmente, o destinatário deverá ter instalado em seu computador esses mesmos equipamentos para poder receber o *fax* enviado.
- D Em se tratando de informática e, principalmente, da Internet, é comum que os *softwares* se tornem ultrapassados ou inadequados, devendo ser substituídos ou, o que acontece geralmente, ser atualizados. Para facilitar a atualização do Internet Explorer 5, a Microsoft disponibiliza, atualmente, um *site* que permite ao usuário realizar o *download* via Internet das novas versões desse *software*. Essa facilidade pode ser acessada por meio do botão . Ao se clicar nesse botão, automaticamente o navegador realiza a atualização do Internet Explorer 5.
- E Caso o usuário queira tornar a página mostrada acima a página inicial do Internet Explorer 5 para, a cada vez que uma nova sessão de uso do Internet Explorer 5 for iniciada, o *software* carregar automaticamente essa página, será suficiente que ele clique no botão .

QUESTÃO 19



A figura acima mostra parte de uma janela do Word 97, com o fragmento de um texto que foi editado por um usuário. Com relação a essa janela e ao Word 97, assinale a opção correta.

- A O documento em apreço é composto por apenas uma página, como pode ser visto na seqüência de caracteres **Pág 1**, no canto inferior esquerdo da janela, e foi editado no dia primeiro de abril, como pode ser visto na seqüência de caracteres **1/4**.
- B Caso o usuário deseje maximizar a tela de trabalho, de forma que ela ocupe toda a área da tela do monitor de vídeo, é suficiente que ele clique em .
- C Caso o usuário selecione o título “A Ciência da Dedução” e clique em , será exibida a caixa de diálogo Fonte, que permite alterar a fonte utilizada no título.
- D Caso o usuário deseje que o Word 97 procure por erros gráficos no primeiro parágrafo, é suficiente que ele, após selecionar o referido parágrafo, clique em .
- E Caso o usuário deseje selecionar a palavra “cordas”, é suficiente que ele execute a seguinte seqüência de ações com o *mouse*: posicionar o ponteiro imediatamente à esquerda da letra “c”, no início dessa palavra; pressionar o botão esquerdo e, mantendo-o pressionado, posicionar o ponteiro entre a letra “s”, no final da palavra, e o ponto final à sua direita; liberar o botão esquerdo.

QUESTÃO 20

	A	B	C	D	E
1					
2		Quantidade	Preço por Unidade (R\$)	Preço total	
3	Seringas	20	1	20	
4	Luvas	10	1	10	
5	Cateteres	10	200	2000	
6					
7					

A figura acima mostra uma planilha elaborada no Excel 97 por um empregado de um hospital, contendo informações acerca de alguns materiais hospitalares que foram adquiridos. Com referência à janela mostrada e ao Excel 97, assinale a opção correta.

- A** Caso o empregado deseje aumentar a largura da coluna B, é suficiente que ele clique, sucessivamente, no cabeçalho da referida coluna — **B** — e em
- B** O preço total pago pelos “Cateteres” pode ter sido obtido por meio da seguinte seqüência de ações: clicar na célula D5; digitar sucessivamente as teclas **6** , **)** , **L** , **7** e **)** ; teclar **<** .
- C** Caso o empregado deseje calcular o total gasto nos itens listados, pondo o resultado na célula D6, é suficiente que ele realize a seguinte seqüência de ações: clicar na célula D6; clicar em ; teclar **<** .
- D** Para selecionar as células B2, C2 e D2, é suficiente que o empregado realize a seguinte seqüência de ações: clicar na célula D2; clicar três vezes seguidas em
- E** Caso o empregado deseje copiar o conteúdo da célula C2 para a área de transferência, é suficiente que ele clique nessa célula e, em seguida, clique em

CONHECIMENTOS GERAIS**QUESTÃO 21**

A globalização dos dias de hoje, conquanto possa ser entendida como mais uma etapa de um longo processo de expansão do capitalismo, encontrou, nas duas últimas décadas, as condições favoráveis para expandir-se, atingindo sua dimensão atual. Não se enquadra entre as características mais significativas do capitalismo atual o(a)

- A** defesa de uma política econômica essencialmente liberal, o que, no entanto, não elimina a adoção de medidas protecionistas, sobretudo pelos países mais ricos.
- B** acentuada liberdade para a circulação de capitais entre os mercados mundiais, muitas vezes empregados com finalidades meramente especulativas.
- C** crescente vinculação do sistema produtivo às inovações tecnológicas, fundamentais para a ampliação da capacidade de produção, aumentando a eficiência e diminuindo custos.
- D** redução da presença do Estado como agente econômico e como instância reguladora das relações trabalhistas, cujas leis tendem a ser flexibilizadas.
- E** fortalecimento dos sindicatos, em escala planetária, como antídoto ao desemprego gerado pela contínua adoção de máquinas e instrumentos tecnologicamente avançados.

QUESTÃO 22

O Oriente Médio continua sendo, neste início de século, uma das mais tensas regiões do mundo. Grande produtora de petróleo, ainda hoje matéria-prima indispensável à economia mundial, e palco em que se desenrolam atos importantes da política internacional, essa região assiste a conflitos que nunca cessam e a atos de terrorismo cada vez mais violentos. Relativamente a esse confuso e complexo cenário, no qual se mesclam questões étnicas, religiosas, políticas, culturais e econômicas, assinale a opção correta.

- A** A unidade religiosa e política dos países árabes, caminhando sempre juntos em torno dos mesmos objetivos, constitui a maior ameaça que paira sobre Israel, especialmente no que se refere à sua integridade territorial.
- B** A não-instalação do Estado da Palestina, em um processo que se arrasta desde o imediato pós-Segunda Guerra Mundial, é, a rigor, o mais sensível problema da região e gera um clima de instabilidade e de permanente crise.
- C** O atual governo israelense, comandado por Ariel Sharon, notabiliza-se pela moderação com que age, atitude que se traduz nos constantes acenos de concessão aos palestinos, prenúncio de que a paz não deve estar distante.
- D** Ao abandonarem Israel à sua própria sorte, os Estados Unidos da América (EUA) dão sinais de que, na atualidade, o bom relacionamento com todos os Estados árabes é sua grande prioridade na política externa.
- E** A mais radical e intransigente liderança palestina, Yasser Arafat, parece ter atingido, nos dias atuais, o máximo de prestígio e poder, sendo simultaneamente temido pelos israelenses e incensado pelo mundo árabe.

QUESTÃO 23

Atualmente, o esporte é um fenômeno de massa, plenamente profissionalizado e totalmente integrado aos interesses e às injunções do mundo dos negócios. O Brasil, tradicionalmente conhecido como o país do futebol, conheceu, sobretudo nas últimas décadas, o florescimento de novas modalidades esportivas e sempre participa de competições internacionais. Relativamente ao panorama esportivo contemporâneo, julgue os itens que se seguem.

- I Quatro vezes campeão mundial, o futebol brasileiro atravessa momento desfavorável, dentro e fora do campo, como pôde ser comprovado pelas recentes denúncias de irregulares praticadas por seus dirigentes e pela dificuldade com que garantiu sua vaga para a próxima Copa do Mundo.
- II Na esteira da conclusão dos trabalhos de uma comissão parlamentar de inquérito instituída pelo Senado Federal, o governo brasileiro tomou a drástica decisão de intervir na Confederação Brasileira de Futebol, destituindo seu presidente, amparado nos dispositivos constitucionais que permitem a intervenção em instituições públicas.
- III As vitórias do catarinense Gustavo Kuerten, o Guga, que o colocaram no primeiro plano do tênis mundial, refletem as transformações ocorridas no campo esportivo brasileiro, nos últimos dez anos, responsáveis pela difusão do desporto de rendimento em todo o país, inclusive no âmbito da rede escolar.
- IV No automobilismo, a morte de Ayrton Senna privou o país de seu único piloto campeão mundial; apesar disso, o nome do Brasil continuou em evidência nesse esporte pelo fato de manter uma equipe própria na extremamente competitiva Fórmula 1.
- V Mesmo que ainda não tenham conseguido um título internacional, as equipes brasileiras de vôlei e de basquete têm marcado presença em diversos torneios mundiais, faltando-lhes apenas a participação em Olimpíadas.

A quantidade de itens certos é igual a

- A** 1. **B** 2. **C** 3. **D** 4. **E** 5.

QUESTÃO 24

Passará ainda um bom tempo para que se possa avaliar, com clareza e em profundidade, o significado dos ataques terroristas aos EUA, ocorridos a 11/9/2001. Das opções abaixo, assinale aquela que **não** pode ser identificada como uma repercussão direta do incidente que surpreendeu governos e a opinião pública mundial.

- A** Sob o impacto do ataque de 11 de setembro, o apoio internacional recebido pelos EUA tornou possível a montagem de uma coalizão contra o terror.
- B** Medidas jurídicas severas para a proteção de seu território foram adotadas pelos EUA, atingindo sobretudo os estrangeiros que vivem no país.
- C** Tomada a decisão de responder à altura ao terror, os EUA bombardearam vários países asiáticos, a começar pelo Afeganistão, sob a alegação de que abrigavam grupos terroristas.
- D** A vinculação dos atos terroristas com alguns grupos extremistas muçulmanos contribuiu para deteriorar ainda mais a já instável e tensa situação do Oriente Médio.
- E** Ao escolher como alvo as torres do *World Trade Center* e as instalações do Pentágono, o terror, simbolicamente, atingiu a imagem do poder econômico e militar norte-americano.

QUESTÃO 25

A América Latina de hoje, depois de superada uma fase de golpes e de regimes autoritários, vê-se diante de turbulências econômicas que, com maior ou menor intensidade, atingem a quase todos os seus países. A propósito do atual cenário latino-americano, julgue os itens que se seguem.

- I A recusa do governo brasileiro em auxiliar a Argentina no momento mais grave de sua pior crise econômica foi, muito provavelmente, a principal causa para a desativação do Mercado Comum do Sul (MERCOSUL), decidida em dezembro de 2001.
- II Os primeiros êxitos das políticas econômicas neoliberais foram tragados pela realidade presente: a Argentina chega ao fundo do poço, o Chile está em estado de sítio e o Brasil perdeu o controle sobre a inflação.
- III Sofrendo os efeitos do histórico embargo norte-americano, e sem contar com o apoio da União das Repúblicas Socialistas Soviéticas, que não mais existe, Cuba abre-se ao turismo como forma de dinamizar sua economia, enquanto mantém de pé um regime politicamente fechado.
- IV Há consenso entre governos e economistas latino-americanos de que a imediata implantação da Área de Livre Comércio das Américas (ALCA) é a única possibilidade de solução definitiva para os problemas econômicos da região.
- V A Colômbia parece viver em permanente guerra civil, com o poder do Estado sendo incapaz de estender-se por todo o território nacional, impotente em face de atuantes grupos políticos guerrilheiros e de narcotraficantes.

Estão certos apenas os itens

- A** I e II. **C** II e III. **E** IV e V.
B I e IV. **D** III e V.

CONHECIMENTOS ESPECÍFICOS

QUESTÃO 26

A dificuldade em lidar com os problemas complexos das organizações contemporâneas tem promovido a difusão das denominadas estruturas matriciais. Assinale a opção correta, quanto à vantagem desse tipo de estrutura.

- A Permite determinar claramente a relação chefia-subordinado.
- B Aloca os recursos da organização de forma mais eficiente.
- C Incorpora mais livremente a criatividade, a inovação e a inspiração dos empregados.
- D Reduz a barreira entre especializações, fundindo aptidões e habilidades.
- E Permite às lideranças conhecer melhor e mais rapidamente o que acontece na organização.

QUESTÃO 27

Raramente as organizações são propostas como um fim em si mesmas. São instrumentos criados para se atingirem outros fins. Isso é refletido pelas origens da palavra organização, derivada do grego *organon*, que significa uma ferramenta ou instrumento. Não é de admirar, portanto, que as idéias acerca de tarefas, metas, propósitos e objetivos tenham se tornado conceitos organizacionais tão fundamentais. Com efeito, ferramentas e instrumentos são dispositivos mecânicos inventados e aperfeiçoados para facilitar a consecução de atividades orientadas para fins particulares.

Gareth Morgan. *Imagens da organização*. São Paulo: Atlas, 1996, p. 24 (com adaptações).

Embora a concepção mecânica da organização tenha sido, provavelmente, a mais forte influência para os administradores, cedo se percebeu que a organização não era tão racional como inicialmente idealizado. O movimento de relações humanas, as idéias de Elton Mayo e, principalmente, as de Chester Barnard vieram contrariar essa concepção, introduzindo o conceito da organização ou grupo informal. Acerca desse assunto, assinale a opção correta.

- A Os grupos informais definem o desempenho e o comportamento dos grupos formais.
- B As organizações informais devem-se tornar formais pelo processo de departamentalização.
- C As organizações informais representam disfunções no processo organizacional e, portanto, devem ser reduzidas ou eliminadas.
- D Os grupos informais apenas existem em organizações em que a liderança é pouco efetiva ou em situações de crise.
- E A organização informal caracteriza-se por adotar normas de conduta e comportamentos divergentes daqueles do sistema formal.

QUESTÃO 28

O processo de planejamento na organização deve

- A ser função do departamento de planejamento e ser centralizado.
- B ser formulado segundo projeções dos resultados do ano anterior.
- C envolver todos na organização e estabelecer metas desafiadoras.
- D ser composto apenas por metas de curto prazo, principalmente se a empresa operar em ambiente turbulento e incerto.
- E considerar apenas os aspectos financeiros e de produção.

QUESTÃO 29

A comunicação no processo administrativo assume especial importância, visto que é instrumento de coesão organizacional e permeia as diversas funções administrativas. Comunicar não é só enviar informações; envolve trocas. No que se refere ao processo de comunicação organizacional, assinale a opção correta.

- A Devem ser utilizados apenas os canais formais.
- B O boato sempre representa um ruído ou uma falha no processo de comunicação e deve, por isso, ser eliminado.
- C A comunicação intragrupos e intergrupos, em atividades complexas, deve ser direcionada.
- D Na comunicação ascendente, devem-se evitar críticas e reclamações.
- E Em grupos que desempenham tarefas rotineiras, as comunicações podem ser centralizadas.

QUESTÃO 30

As escolas de administração vêm, há muito tempo, incluindo, em seus currículos, disciplinas que tratam de chefia e liderança. Os novos modelos administrativos, originados principalmente nas práticas de empresas norte-americanas, reforçam a importância dos aspectos de liderança. Os *chief executive officers* (CEOs) das grandes empresas passam a ser cultuados e seus exemplos, seguidos. Personagens como Jack Welch, da General Electric, Steve Case, da America Online, Michael Eisner, da Walt Disney, destacam-se. São exemplos, a partir dos quais se busca investigar o fenômeno da liderança, hoje cada vez mais compreendido. Acerca da liderança nesses novos modelos organizacionais, assinale a opção correta.

- A A legitimidade da liderança implica a aceitação do líder pelo grupo.
- B É caracterizada como habilidade inata do indivíduo, associada a habilidades pouco comuns.
- C Pode ser entendida como um estímulo à conformidade, fazendo que indivíduos se submetam aos objetivos organizacionais.
- D É reforçada pelo uso de símbolos de *status* e pelo distanciamento geográfico, como salas maiores e elevadores privativos.
- E Pressupõe o estabelecimento de relações de trabalho embasadas em trocas de apoio e favores.

QUESTÃO 31

Uma organização pode apresentar indicadores financeiros excelentes, mas ter seu futuro comprometido por desempenho deficiente em outras dimensões não-captadas por aqueles indicadores. A metodologia denominada *balanced scorecard*, originada no início da década de 90, vem sendo cada vez mais utilizada para assegurar maior efetividade nos processos de avaliação e controle. Outras perspectivas ou dimensões, além da financeira, utilizadas por essa metodologia para a definição de estratégia e de acompanhamento são

- A mercado, concorrentes e clima organizacional.
- B cliente interno, cliente externo e liderança.
- C missão, negócio e fatores críticos de sucesso.
- D cliente, processos internos, inovação e aprendizagem.
- E valor criado para o acionista, *market share* e produtividade.

QUESTÃO 32

As idéias a respeito de motivação evoluíram muito, desde os tempos da administração científica de Taylor. Com referência às recentes idéias sobre motivação, assinale a opção correta.

- A** A motivação está condicionada à remuneração adequada e a boas condições de trabalho.
- B** A motivação surge de necessidades interiores dos indivíduos, impulsionando-os em uma direção ou objetivo.
- C** Motivação é algo generalizável, pois o que motiva determinado empregado, motivará os demais.
- D** Se algo motiva os empregados, como, por exemplo, um bom salário, é certo que sua ausência os deixará desmotivados.
- E** Um indivíduo apenas buscará atender suas necessidades de estima e auto-realização se as suas necessidades de alimentação e segurança estiverem plenamente atendidas.

QUESTÃO 33

Um dos princípios orçamentários previstos na Lei n.º 4.320, de 17/3/1964, é o da universalidade, o qual determina que

- A** os orçamentos das diversas esferas de governo sejam fundamentados em uma única política orçamentária.
- B** receitas e despesas sejam universalmente discriminadas, registrando-se, inclusive, aquelas com competência posterior ao ano fiscal, desde que já devidamente assumidas ou contratadas.
- C** os orçamentos incorporem todas as receitas e despesas, abrangendo todas as instituições públicas.
- D** o orçamento inclua todas as variações patrimoniais ocorridas no período de sua vigência.
- E** o orçamento de todas as instâncias da área pública seja aferido, considerando-se os de benefícios efetivamente oferecidos ao cidadão.

QUESTÃO 34

A respeito do Sistema Integrado de Administração Financeira do Governo Federal (SIAFI), assinale a opção correta.

- A** É o sistema que registra, controla e contabiliza a execução orçamentária, financeira e patrimonial do governo federal, atualizando as informações mensais até o quinto dia útil do mês subsequente.
- B** Um de seus objetivos é permitir que os segmentos da sociedade tenham acesso à informação, obtendo-se, assim, a transparência nos gastos públicos.
- C** Apenas órgãos da administração direta estão ligados ao SIAFI.
- D** Cabe à Secretaria da Receita Federal definir as normas de utilização do sistema, bem como orientar e controlar sua utilização.
- E** Efetua o controle e acompanhamento dos gastos com pessoal realizados pela União e pelos órgãos da administração direta.

QUESTÃO 35

A Medida Provisória n.º 2.026-1, de 1.º/6/2000, instituiu nova modalidade de licitação, denominada pregão, para aquisição de bens e serviços pela União. Acerca do disposto nessa medida provisória a respeito do pregão, assinale a opção correta.

- A** As disputas devem ocorrer com a presença física de todos os participantes, vedada a realização do pregão por meio da utilização de recursos de tecnologia da informação.
- B** O pregão deve restringir-se à aquisição de produtos e serviços de difícil especificação ou definição técnica.
- C** O custo dos produtos não pode exceder cem salários mínimos nacionais, devendo esse valor ser corrigido anualmente pela variação da SELIC.
- D** A aquisição do edital pelos licitantes é obrigatória para participação no certame.
- E** Durante o curso da sessão pública para recebimento das propostas, o autor da oferta de valor mais baixo e o da oferta com preços até 10% superiores àquela podem fazer novos lances verbais e sucessivos, até a proclamação do vencedor.

QUESTÃO 36

Acerca da nomenclatura utilizada na clínica médica em geral, assinale a opção correta.

- A** Desnutrição é uma debilidade orgânica provocada exclusivamente pela ingestão insuficiente de calorias e proteínas.
- B** Paralisia se refere à perda da função motora, não necessariamente da sensibilidade.
- C** Anasarca é a presença de edemas localizados em algumas partes do organismo.
- D** Convulsões são contrações voluntárias e súbitas dos músculos esqueléticos.
- E** Obesidade é o aumento do peso devido ao acúmulo de tecido adiposo e água.

QUESTÃO 37

Julgue os itens abaixo, relativos aos termos técnicos utilizados na clínica médica.

- I Cianose é a coloração azulada da pele devido à falta de oxigenação.
- II Hemoptise é a presença de hemorragia de origem digestiva.
- III Meteorismo é o acúmulo de gases no estômago e intestino.
- IV Polaciúria é o aumento freqüente de urinação, com aumento da diurese.
- V Colúria se refere à presença de pigmentos biliares na urina.

Estão certos apenas os itens

- A** I, II e III.
- B** I, II, e IV.
- C** I, III e V.
- D** II, IV e V.
- E** III, IV e V.

QUESTÃO 38

Com relação ao exame de imagem por ressonância magnética, sua preparação e seus procedimentos, julgue os itens a seguir.

- I Utiliza um poderoso campo magnético para a obtenção de imagens de diferentes áreas do organismo.
- II Tem potencial para identificação de anormalidades cerebrais mais cedo e mais claramente que outros exames de diagnóstico.
- III A resolução de imagens é muito superior à tomografia computadorizada, sem que o paciente seja submetido a irradiação.
- IV Antes de o paciente ser levado para a sala de exame, todos os objetos metálicos, inclusive a aliança, devem ser-lhe retirados.
- V O exame é indolor, mas alguns pacientes podem apresentar claustrofobia, sendo indicada nesse caso a sedação.

A quantidade de itens certos é igual a

- A** 1. **B** 2. **C** 3. **D** 4. **E** 5.

QUESTÃO 39

No que se refere ao exame de tomografia computadorizada, assinale a opção **incorreta**.

- A** É um exame utilizado no estudo de esquizofrenia.
- B** Tem substituído o mielograma como procedimento de diagnóstico de hérnias de disco lombar.
- C** É um procedimento não-invasivo, não causa dor e tem um alto nível de sensibilidade para detectar lesões.
- D** Atualmente, este exame não identifica o fluxo sanguíneo e o metabolismo de oxigênio em pacientes com acidente vascular cerebral (AVC).
- E** É indicada a tomografia computadorizada abdominal para doentes de fígado, baço, rins, pâncreas e órgãos pélvicos.

QUESTÃO 40

Quanto ao processo de hemodiálise, suas características e cuidados, julgue os itens que se seguem.

- I É um processo utilizado em pacientes com doença renal aguda ou terminal e que atua como filtro para os rins deficientes.
- II Os três princípios que regulam a ação da hemodiálise são: difusão, osmose e ultrafiltração.
- III A troca das escórias do sangue para o dialisado acontece por osmose, através da membrana permeável dos túbulos.
- IV A hemodiálise pode prolongar a vida indefinidamente, inclusive substituindo a função renal completamente.
- V Durante o tratamento, podem ocorrer complicações, entre as quais náuseas, vômitos, prurido e hipertensão.

Estão certos apenas os itens

- A** I e II. **C** II e IV. **E** IV e V.
B I e III. **D** III e V.