

• De acordo com o comando de cada uma das questões de 1 a 25, marque, na **folha de respostas**, para cada item: o campo designado com o código **C**, caso julgue o item **CERTO**; o campo designado com o código **E**, caso julgue o item **ERRADO**; ou o campo designado com o código **SR**, caso desconheça a resposta correta. Marque, obrigatoriamente, para cada item, um, e somente um, dos três campos da **folha de respostas**, sob pena de arcar com os prejuízos decorrentes de marcações indevidas. A marcação do campo designado com o código **SR** não implicará penalização. Para as devidas marcações, use a folha de rascunho e, posteriormente, a **folha de respostas**, que é o único documento válido para a correção das suas provas.

• Nos itens que avaliam **Noções de Informática**, a menos que seja explicitamente informado o contrário, considere que todos os programas mencionados estão em configuração-padrão, em português, que o *mouse* está configurado para pessoas destros e que expressões como clicar, clique simples e clique duplo referem-se a cliques com o botão esquerdo do *mouse*. Considere também que não há restrições de proteção e de uso em relação aos programas, arquivos, diretórios e equipamentos mencionados.

CONHECIMENTOS BÁSICOS

Texto I – questões de 1 a 3

Judiciário: do caos à ordem

1 Atualmente, tornou-se quase rotineiro dizer que o
Estado, nas três dimensões — Legislativo, Executivo e
Judiciário —, encontra-se em crise, conclusão que, além de
4 apressada, parece carecer de uma avaliação equidistante do
momento ora vivido. Sucedem-se manchetes sobre
escândalos dos mais variados matizes, a envolverem tanto o
7 desapego, por certos administradores, a princípios, quanto a
morosidade da justiça ou a violência urbana. Nesse cenário,
o Judiciário afigura-se como a maior caixa de ressonância dos
10 inconformismos externados pela população.

O brasileiro reclama, com razão, da duração de um
processo, intuindo ser a celeridade indispensável para se
13 alcançar o objetivo precípuo da jurisdição: o restabelecimento
da paz social momentaneamente abalada pelo conflito de
interesses. Entretanto, mesmo tendo um direito espeznhado,
16 confia ainda o jurisdicionado na atuação do Estado-juiz e, por
isso, deixa de acionar outros meios de solução de pendências,
distanciando-se, assim, à mercê de paixões condenáveis, da
19 composição amigável.

É certo que alguns fatores persistem, dificultando a
entrega da prestação jurisdicional em tempo hábil, a prolaxão
22 da sentença final em período norteado pela razoabilidade.
Citem-se, para exemplificar, o descompasso entre órgãos
julgadores e população, a falta de um crivo rigoroso na
25 tramitação do processo legislativo e a ausente independência
técnica, por vezes, do profissional da advocacia,
especialmente na área do Estado. Não obstante, a época é de
28 evolução. Dia a dia, busca-se o aprimoramento da máquina
judiciária, introduzindo-se formas desburocratizadas de
atuação do Estado-juiz, como vem ocorrendo com os juizados
31 especiais. Sob o ângulo das leis, cresce a atenção dada aos
anseios da sociedade, à necessidade de prevalecerem, sempre,
as balizas maiores do estado democrático de direito, os
34 ditames da Constituição da República, que a todos,
indistintamente, submete.

Quanto à fúria normatizadora, é preciso aprender-se,
37 vez por todas, que a vida gregária pressupõe regras estáveis
e, portanto, duradouras, abandonando-se o vezo de acreditar-se
na edição de leis como meio de avançar-se, alcançando-se
40 dias melhores. O Brasil não precisa de novos diplomas legais,
mas de homens que observem os existentes.

Marco Aurélio de Mello. **Judiciário: do caos à ordem**. In: *O Globo*, 20/5/2002, "Opinião".

QUESTÃO 1

Considerando as estruturas do texto I, as idéias nele apresentadas e a Lei Complementar n.º 47/1995, que instituiu o Código de Organização e Divisão Judiciárias do Estado do Acre, julgue os itens seguintes.

- 1 De acordo com as palavras do autor, malgrado esteja o Estado brasileiro em crise em suas três dimensões, o Poder Judiciário encontra-se em um momento de franca evolução, canalizando os anseios da população e aprimorando a máquina judiciária.
- 2 Segundo o texto, como o brasileiro ainda acredita na atuação do Estado como juiz dos conflitos de interesses, evita acionar outros meios para a solução de pendências, como a composição amigável.
- 3 O segmento “É certo que” (l.20) introduz um argumento que reconhece o ponto de vista contrário àquilo que o autor busca defender no texto; tal argumento torna-se objeto de contestação a partir da expressão “Não obstante” (l.27) até o final do terceiro parágrafo.
- 4 A prestação jurisdicional se efetiva, no Acre, pela atuação dos órgãos do Poder Judiciário do estado, que incluem o tribunal de justiça, os tribunais do júri e os juizes de direito.
- 5 Na tentativa de resolver os litígios de forma mais célere e devolver a paz social aos jurisdicionados, no estado do Acre, o tribunal pleno pode propor ao Poder Legislativo a criação de novos juízos e comarcas.

QUESTÃO 2

Com relação às estruturas do texto I, às idéias nele apresentadas e à Lei Complementar n.º 47/1995, julgue os itens abaixo.

- 1 De acordo com o texto, uma vez deflagradas as querelas judiciais entre os agentes sociais e interrompida a paz social, a celeridade do processo judicial torna-se o principal objetivo da jurisdição.
- 2 Na linha 36, a expressão “fúria normatizadora” está sendo utilizada para apresentar um ponto de vista positivo com relação à edição de leis e poderia ser substituída, sem prejuízo para o sentido do texto, por **fúria legiferante**.
- 3 No exercício da função de fiscalizar e orientar a justiça estadual, buscando preservar o regular andamento dos serviços judiciais, o corregedor geral da justiça deverá visitar, a cada ano, pelo menos metade das comarcas do estado.
- 4 É freqüente no texto a inversão da ordem sintática sujeito/verbo, mais comum, para verbo/sujeito, o que se pode interpretar como característica do discurso jurídico. Alguns exemplos dessa inversão são: “Sucedem-se manchetes” (l.5), “confia ainda o jurisdicionado” (l.16) e “cresce a atenção” (l.31).
- 5 Com relação às leis e à possibilidade de declaração de sua inconstitucionalidade pelo Poder Judiciário do Acre, somente pelo voto unânime de seus membros pode o tribunal pleno declarar determinada lei inconstitucional.

QUESTÃO 3

No que se refere às idéias e expressões do texto I e à ortografia oficial, julgue os itens a seguir.

- ❶ Estão corretas as seguintes relações entre expressão e sentido: “Atualmente” (l.1) indica tempo presente não-especificado em relação ao calendário; “Dia a dia” (l.28) indica frequência; “indistintamente” (l.35) indica modo.
- ❷ O texto descreve um estado de coisas objetivamente, com isenção de juízos de valor, o que se percebe particularmente no primeiro e no último parágrafo.
- ❸ O substantivo “jurisdição” (l.13) está sendo empregado no texto como sinônimo de **alçada**.
- ❹ De acordo com a norma culta da língua portuguesa, a expressão adverbial “Dia a dia” (l.28) admite a grafia alternativa **Dia-a-dia**.
- ❺ A substituição do trecho “Quanto à fúria (...) regras estáveis” (l.36-37) por **Com relação à fúria normatizadora, é preciso aprender, de uma vez para sempre, que viver em grupo pressupõe a existência de regras estáveis** seria correta e manteria o sentido original do texto.

Texto II – questões 4 e 5**Acesso à justiça e o moderno**

O juiz é o agente mais reverenciado do sistema de acesso à justiça e freqüentemente é visto como uma autoridade distante da realidade, um ser asséptico e afastado dos seus, com a terrível e temível missão de julgar iguais, o que lhe impede de ser percebido como um deles. Historicamente os juízes sempre foram vistos como aplicadores do direito posto à sua disposição, o que os colocou na condição de mitos e não de seres humanos dotados de sentimentos.

Não é mais possível aceitar essa visão. O juiz moderno não tem apenas um papel profissional, de intérprete e aplicador da lei, especialmente da lei estatal. Deve, sobretudo, envolver-se, institucional e individualmente, com a tarefa de criação e mediação na comunidade, pois não pode esquecer que, quando decide, está dizendo o direito das pessoas. Espera-se do juiz uma atuação, como cidadão, no sentido de ampliar os espaços democráticos, pondo seus conhecimentos a serviço da comunidade, criando, modificando e aperfeiçoando técnicas que possam atender aos anseios sociais.

O exame dos sentimentos morais predominantes na sociedade e a análise das condições econômicas e sociais reinantes, aliados à vontade das partes, devem representar um modelo de comportamento a ser seguido pelo juiz moderno. Este precisa, pois, adotar uma postura crítica como intérprete do direito, de forma a aproximar lei e direito, segurança jurídica e justiça, pugnando pela redução das desigualdades sociais, por uma melhor divisão da riqueza, pela harmonização dos interesses privados antagônicos, pelo justo equilíbrio das relações jurídicas e pelo abrandamento do direito individual sobre o direito da coletividade.

Francisco das C. Lima Filho. *Acesso à justiça e o moderno*. In: *Correio Braziliense* (com adaptações).

QUESTÃO 4

Com relação às estruturas do texto II e considerando a Lei Complementar n.º 47/1995, julgue os itens subseqüentes.

- ❶ No primeiro parágrafo, a voz passiva em “é visto” (l.2) e “foram vistos” (l.6) foi usada para omitir os agentes da ação verbal, entre os quais se encontra o autor do texto.
- ❷ Imediatamente após a expressão “seus” (l.4), deve-se pressupor o vocábulo **amigos**, para que o período tenha sentido.
- ❸ Na linha 16, a expressão “como cidadão” refere-se ao pronome “se”, que, por sua vez, tem como referente qualquer cidadão que espere dos juízes uma atuação mais eficaz na sociedade.
- ❹ No estado do Acre, o magistrado ingressa na carreira como juiz de direito de primeira entrância, mediante aprovação em concurso de provas e títulos e nomeação pelo presidente do tribunal de justiça.
- ❺ Para que possa evitar decisões parciais e contribuir, assim, para o justo equilíbrio das relações jurídicas, o juiz de direito é protegido por norma que o impede de atuar em causa em que seja parte cônjuge ou parente seu até o terceiro grau.

QUESTÃO 5

Considerando os processos coesivos do texto II, as idéias nele apresentadas e a Lei Complementar n.º 47/1995, julgue os itens seguintes.


- ❶ A expressão “essa visão” (l.10) remete à idéia principal do primeiro parágrafo do texto, segundo a qual o juiz é muitas vezes visto como uma autoridade distante da realidade e um ser diferente dos demais seres humanos.
- ❷ Com o objetivo primeiro de zelar pela segurança jurídica e pela justiça, um juiz de direito poderá atuar a qualquer momento, independentemente da iniciativa de partes ou interessados.
- ❸ Mantêm-se as relações sintático-semânticas ao se substituir o vocábulo “pois” (l.25) por **logo**.
- ❹ O uso de “pelo”, nas linhas 24 e 29, é exigido para indicar o agente das ações verbais de “seguido” (l.24) e “pugnando” (l.27), respectivamente.
- ❺ A expressão “de forma a” (l.26) introduz uma consequência possível do conteúdo da oração “Este precisa, pois, adotar uma postura crítica como intérprete do direito” (l.25-26).

Texto III – questões de 6 a 8

A figura abaixo ilustra uma janela do Word 2000 que contém parte de um texto extraído da página *Web* http://www.tj.ac.gov.br/proj_cid/.
















**QUESTÃO 6**

Considerando a figura mostrada no texto III, julgue os itens subseqüentes, acerca do Word 2000.

- ❶ Para se eliminar o primeiro parágrafo do texto, é suficiente clicar imediatamente após “esportivas.”; pressionar e manter pressionado o botão esquerdo do *mouse*; arrastar o *mouse* de forma que o seu cursor seja posicionado antes do artigo “O”, no início do referido parágrafo; liberar o botão esquerdo do *mouse* e, a seguir, pressionar a tecla **Backspace**.
- ❷ Para se inserir, no documento em edição, uma tabela do Excel 2000 com estatísticas do Projeto Cidadão, é suficiente pressionar o cursor do *mouse* no ponto de inserção desejado; no menu **Inserir**, clicar a opção Planilha do Excel; editar a planilha com os dados desejados; finalmente, clicar OK.
- ❸ Existe recurso no Word 2000 que permite imprimir apenas o primeiro parágrafo do texto mostrado na figura.
- ❹ Sabendo-se que o título do texto está com a fonte em negrito, para remover essa formatação, é suficiente: clicar imediatamente após o termo “Cidadão”; pressionar e manter pressionada a tecla **Shift**; teclar **Home**; liberar a tecla **Shift**; clicar **M**.
- ❺ Ao se clicar o botão , uma nova página em branco será acrescentada ao documento em edição.

QUESTÃO 7

Considerando ainda a figura mostrada no texto III e as estruturas e expressões do texto “O Projeto Cidadão”, julgue os itens que se seguem.

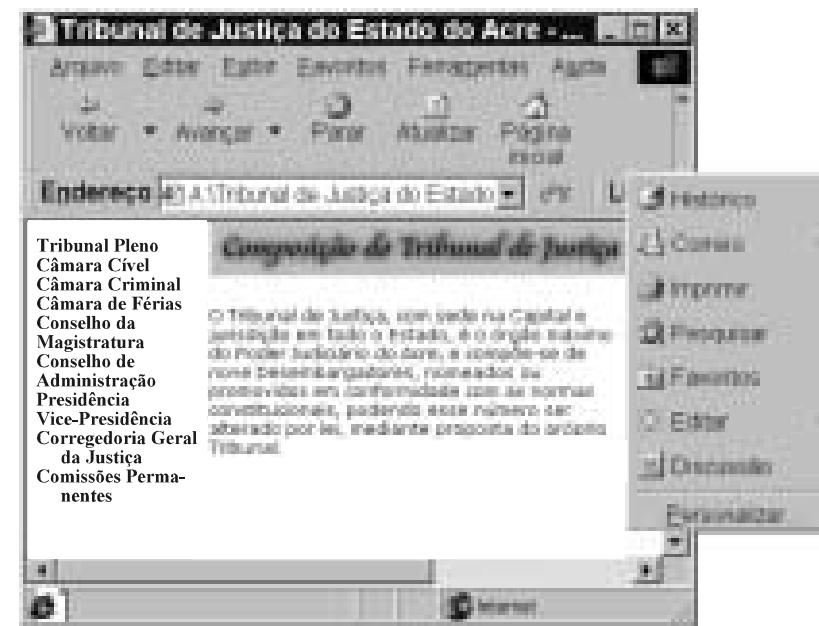
- 1 Ao se realizar a seguinte seqüência de ações, mantêm-se o sentido original e a correção gramatical do texto mostrado na figura: selecionar o trecho “, de forma rápida e desburocratizada”, entre a terceira e a quarta linhas do primeiro parágrafo; pressionar e manter pressionada a tecla ; teclar ; liberar a tecla ; posicionar o ponto de inserção imediatamente após a palavra “documentação”, na terceira linha do primeiro parágrafo do texto; clicar ; teclar .
- 2 Com o ponto de inserção posicionado imediatamente antes da palavra “gratuita” — na terceira linha do primeiro parágrafo do texto —, não haveria alteração do sentido original do texto mostrado na figura nem incorreção gramatical, caso a seguinte seqüência de ações fosse realizada: pressionar e manter pressionada a tecla ; teclar três vezes consecutivas a tecla , liberando, em seguida, a tecla ; teclar sucessivamente , , ,  e, finalmente, a barra de espaço.
- 3 Ao se selecionar o trecho “Ele s”, no segundo período do primeiro parágrafo, clicar , teclar  e, em seguida, teclar , será mantida a coesão do texto mostrado na figura.
- 4 Mantêm-se corretos o sentido original e a correção gramatical do texto ao se substituir o segundo período por **Tal projeto surgiu da preocupação de reverter um dado do IBGE: estatísticas mostravam que em 1995, cerca de 68% dos habitantes do estado, não possuíam nenhum tipo de registro legal.**
- 5 No texto, o adjetivo “médico-odontológico” — na penúltima linha do primeiro parágrafo — equivale semanticamente a **médico e odontológico.**

QUESTÃO 8





Considerando a Lei Complementar n.º 47/1995 e com relação ao correto emprego da pontuação, à manutenção do sentido original do texto “O Projeto Cidadão” e às expressões nele utilizadas, julgue os itens seguintes.

- 1 Presentes no texto, os vocábulos “reverter” e “retirada” caracterizam-se, ambos, em razão do prefixo “re-” que os forma, por uma noção de repetição da ação verbal.
- 2 Nas quatro últimas linhas do primeiro parágrafo do texto, o trecho “que garantem (...) esportivas.” pode ser corretamente reescrito assim: **que asseguram a pessoas do interior e da capital a possibilidade de retirar documentação gratuita, fazer consultas jurídicas, obter atendimento médico-odontológico, participar de palestras educativas e de atividades culturais e esportivas.**
- 3 No início do segundo parágrafo do texto, em vez de dois-pontos, também seria correto o emprego da expressão “tal como”, desde que estivesse entre vírgulas.
- 4 Rio Branco, onde a parceria com a prefeitura possibilitou ao Tribunal de Justiça do Estado do Acre iniciar as atividades do Projeto Cidadão, é uma comarca de entrância especial, em que as atribuições dos juízes de direito são exercidas mediante distribuição.
- 5 Considere a seguinte situação hipotética.
Um magistrado foi convidado a explicar o funcionamento da justiça no estado do Acre. Tal pronunciamento ocorrerá durante as atividades do Projeto Cidadão e será transmitido pelo rádio para as localidades mais distantes.
Nessa situação, em face do princípio constitucional da liberdade de expressão de que goza o Poder Judiciário, o magistrado poderá manifestar livremente sua opinião a respeito de decisões judiciais tomadas no estado, inclusive por meio de críticas e juízos depreciativos.

QUESTÃO 9



A figura acima ilustra uma janela do Internet Explorer 5 que está sendo executada em um microcomputador cujo sistema operacional é o Windows 98. Na janela mostrada, uma página obtida no site <http://www.tj.ac.gov.br>, do TJAC, está sendo exibida. O conteúdo dessa página refere-se à composição do TJAC. A partir dessa figura, julgue os itens que se seguem, relativos à Internet, ao Internet Explorer 5 e à composição do TJAC.

- 1 Sabendo-se que as informações contidas no campo  do Internet Explorer 5 referem-se à página mostrada na figura, é correto concluir que o acesso a essa página está sendo realizado em modo *off-line*.
- 2 Sabendo-se que **Câmara de Férias** constitui um *hyperlink*, então ao clicá-lo, um procedimento de acesso a uma página associada a esse *hyperlink* será iniciado, e, caso essa página corresponda a uma página da Câmara de Férias do TJAC e o processo de acesso se concretize, será acessada uma página de um órgão do TJAC de cuja composição não fazem parte o presidente do TJAC e o corregedor geral da justiça.
- 3 Ao se clicar , será exibida, na janela do Internet Explorer 5, a primeira página acessada na sessão de uso atual do Internet Explorer 5.
- 4 Por meio de , pode-se definir a página mostrada na figura como uma das páginas favoritas do Internet Explorer 5.
- 5 Ao se clicar , será aberta uma caixa de diálogo que permite a procura de determinada palavra no escopo da página mostrada.

QUESTÃO 10

Com relação à Lei Complementar n.º 47/1995, julgue os itens que se seguem.

- 1 Os desembargadores do TJAC são, na sua maioria, juízes de carreira escolhidos pelo tribunal pleno, aos quais se somam aqueles originários do Ministério Público e da carreira advocatícia, que ocupam um quinto das vagas de desembargador, em obediência ao determinado pela Constituição da República.
- 2 As decisões de juízes da infância e da juventude podem ser questionadas mediante recursos a serem apreciados pelo conselho da magistratura estadual, cujos julgamentos, por sua vez, podem ser objeto de recurso com efeito suspensivo para o tribunal pleno.
- 3 Considere a seguinte situação hipotética.
Um juiz de direito do estado do Acre, após cinco anos de efetivo cumprimento de suas funções em comarca do interior, viu seu filho envolvido com os vícios de embriaguez e jogos de azar, fato que chegou ao conhecimento do corregedor geral da justiça.
Nessa situação, o juiz poderá ser removido por interesse público, mediante voto de dois terços dos membros do tribunal pleno.
- 4 O magistrado em disponibilidade, salvo quando esta for punitiva, terá direito a receber seus vencimentos integrais e vantagens incorporáveis e não será prejudicado quanto à contagem de tempo de serviço. No entanto, ficará inelegível para concorrer à promoção por antiguidade durante o período em que se encontrar em disponibilidade.
- 5 Para que determinada comarca no interior do Acre, classificada como de primeira entrância, possa ser elevada à segunda entrância, é suficiente que haja, na comarca, população mínima de oito mil habitantes e pelo menos três mil eleitores, e que a arrecadação de tributos estaduais nessa comarca seja igual ou superior a duas vezes o mínimo exigido para a criação de municípios no estado.

CONHECIMENTOS ESPECÍFICOS

QUESTÃO 11

Julgue os itens abaixo.

- 1 A inclinação da curva IS depende da sensibilidade do consumo e do investimento às alterações na taxa de juros.
- 2 A curva IS representa a relação inversa entre a taxa de juros nominal e o nível de renda nominal.
- 3 A curva IS representa os pares de valores (produto/taxa de juros) nos quais a demanda agregada é igual à absorção interna.
- 4 A curva LM representa as combinações de PIB nominal e taxa de juros nominal nas quais existe equilíbrio no mercado de moeda.
- 5 A curva LM representa as combinações de PIB real e taxa de juros nominal nas quais existe equilíbrio no mercado de moeda.

QUESTÃO 12

Na função de produção, o fator trabalho é uma variável usualmente identificada com a letra L. Essa variável deve ser interpretada como o(a)

- 1 massa salarial que a empresa paga.
- 2 número de pessoas que uma empresa pode contratar.
- 3 número de trabalhadores ou horas-homem trabalhadas, em cada jornada média do trabalho.
- 4 número de indivíduos com a qualificação requerida pela empresa a sua disposição no mercado de trabalho.
- 5 custo do fator trabalho.

QUESTÃO 13

De acordo com o modelo keynesiano,

- 1 no curto prazo, a demanda determina a oferta.
- 2 o desemprego tem origem na rigidez à baixa dos salários reais.
- 3 os trabalhadores apresentam resistência a quedas dos salários nominais mas não a quedas dos salários reais.
- 4 os salários reais são iguais à produtividade marginal do trabalho.
- 5 elevar o gasto público para aquecer o nível de atividade traduz-se em aumento de preços sem nenhum efeito sobre o produto.

QUESTÃO 14

Julgue os itens subsequentes.

- 1 A elasticidade preço da demanda é a relação entre a variação percentual da quantidade demandada e a variação percentual do preço.
- 2 Em um mercado de concorrência perfeita, a firma não tem capacidade de fixar o preço.
- 3 Um monopólio maximiza seu lucro quando o custo marginal é igual ao preço.
- 4 Para que uma firma maximize seu lucro, os salários que ela paga devem ser iguais à produtividade média, ou seja, à produtividade por unidade de trabalho.
- 5 Uma isoquanta pode ser definida como o conjunto de distintas combinações de insumos que possibilitam obter a mesma quantidade de produto.

QUESTÃO 15

Julgue os itens a seguir.

- 1 A indexação mensal dos salários não garante a manutenção de seu poder de compra.
- 2 O principal instrumento de estabilização utilizado pelo Plano Cruzado, em 1986, foi a âncora cambial.
- 3 A teoria da inflação inercial tenta chamar a atenção para as relações existentes entre a oferta de moeda e a variação dos preços.
- 4 Nos meses imediatamente posteriores ao Plano Cruzado (1986) observou-se um crescimento significativo dos rendimentos reais dos trabalhadores autônomos.
- 5 A partir de janeiro de 1999, a estratégia de estabilização de preços substituiu a âncora cambial por um sistema de metas de inflação.

QUESTÃO 16

Todos os economistas sabem que poupança é igual a investimento. Logo, para crescer, o Brasil precisa tornar-se atraente para o capital estrangeiro.

Tendo como referência o texto acima, julgue os itens que se seguem.

- 1 Esse texto não expressa o pensamento de um keynesiano, dado que, para Keynes, o investimento (magnitude determinada *ex ante*) gera, *ex post*, a poupança necessária para o seu financiamento.
- 2 O Brasil não gera poupança interna suficiente para financiar o investimento necessário para atingir um determinado patamar de crescimento.
- 3 Se o Brasil, hoje, já não gera poupança suficiente para financiar o investimento, com a elevação do investimento externo o problema se agravará, pois terá de elevar ainda mais o nível de poupança.
- 4 Em virtude do nível atual de poupança, para elevar a taxa de crescimento, o Brasil deverá elevar o déficit em conta-corrente.
- 5 Para contornar a dependência da taxa de crescimento do capital externo, uma das alternativas é a redução do déficit público.

QUESTÃO 17

A implementação da política desenvolvimentista da administração Kubitschek marcou a utilização, pela primeira vez, de uma política deliberada de industrialização. Essa política consistia essencialmente de uma tarifa aduaneira efetivamente protecionista, combinada com um sistema cambial que subsidiava a importação de bens de capital e insumos básicos, e atração do capital estrangeiro por investimento direto. Ao mesmo tempo, e complementarmente, a política fiscal era francamente expansionista e iniciou, no fim da década de 50, a concessão de incentivos fiscais (regionais) para o desenvolvimento industrial; e a política monetária permitiu uma rápida expansão do crédito bancário e uma maior utilização do crédito externo de curto prazo.

Wilson Suzigan. *Industrialização e política econômica: uma interpretação em perspectiva histórica*. In: 25 anos de pesquisa econômica. Uma seleção de estudos do IPEA, IPEA, 1989, p. 255 (com adaptações).

Considerando as idéias do texto acima, julgue os itens subsequentes.

- 1 As variáveis de política identificadas no texto (proteção aduaneira, taxa de câmbio, política fiscal expansionista e política monetária ativa), depois de terem merecido críticas nos anos 80 do século passado, agora integram os modelos que, na literatura sobre o crescimento, são denominados modelos de crescimento endógeno.
- 2 Um dos primeiros teóricos da linha política descrita no texto foi o alemão Friedrich List (1789-1846), que argumentava a favor de proteção à indústria nascente.
- 3 A implementação da política desenvolvimentista descrita no texto foi um triunfo dos teóricos das vantagens comparativas sobre o pensamento da escola da Comissão Econômica para a América Latina (CEPAL).
- 4 Atualmente, é comum comparar a estratégia da industrialização substitutiva na América Latina, como a descrita no texto, com a experiência do Sudeste Asiático, mostrando os pontos em comum, as divergências e as vantagens da escolha asiática.
- 5 Celso Furtado foi um dos maiores teóricos da política de desenvolvimento apresentada no texto.

QUESTÃO 18

Julgue os itens abaixo.

- 1 O Fundo Monetário Internacional (FMI) foi um organismo criado no século passado para gerenciar as crises financeiras das economias do Terceiro Mundo.
- 2 O Banco Mundial foi criado para ser o embrião do Banco Central Mundial.
- 3 Na América Latina, nos últimos anos, não obstante o grande debate sobre o tema, só dois países dolarizaram suas economias: Equador e El Salvador.
- 4 A crise na Argentina originou-se no ataque especulativo que aquele país sofreu devido ao sistema de metas de inflação adotado no início da década passada.
- 5 Nos últimos meses, o euro vem verificando um processo de valorização em relação ao dólar.

Texto IV – questões de 19 a 21

A empresa Kampa Ltda. iniciou suas atividades em 1.º/7/2001, dedicando-se à comercialização de produtos naturais originários da Amazônia, sendo, atualmente, seus produtos vendidos exclusivamente em mercados da região Norte.

Embora a empresa esteja satisfeita com seus clientes e com os resultados alcançados no último ano, a administração considera a possibilidade de expandir suas vendas em 2003, tendo em vista a crescente procura por produtos naturais em cidades localizadas na região Sudeste do país, onde a unidade de seu produto, cujo custo está calculado em R\$ 30,00, poderá ser vendida por R\$ 50,00.

A expansão do mercado necessitará, entretanto, de uma representação comercial no Rio de Janeiro ou em São Paulo. Em vista disso, o gerente comercial levantou os custos incorridos nas duas hipóteses:

- I Representação própria em instalações alugadas — despesas comerciais no percentual de 7% sobre preço de venda e despesas fixas anuais de R\$ 20.000,00.
- II Contratação de representante — despesas comerciais no percentual de 17% sobre preço de venda.

Para essa empresa, o balancete de verificação da empresa levantado no final do exercício, em 30/6/2002, após ajustes, é composto das contas apresentadas no quadro abaixo.

contas	valores em RS
disponível	6.900
clientes	7.500
mercadorias	6.490
benfeitoria em imóvel	6.500
móveis e utensílios	1.200
depreciação acumulada	240
amortização acumulada	1.300
fornecedores	7.500
contas a pagar	1.800
impostos a recolher	700
capital	10.000
vendas	61.460
custo da mercadoria vendida	38.050
despesas comerciais	4.100
despesas diversas	420
pró-labore	8.200
despesa de depreciação	240
despesa de amortização	1.300
impostos sobre vendas	2.100

QUESTÃO 19

Considerando o texto IV, julgue os itens abaixo, relativos às contas do balancete de verificação da empresa Kampa Ltda. apresentadas nesse texto.

- ❶ O total do ativo permanente é igual a R\$ 6.160,00.
- ❷ Considerando que a conta “móveis e utensílios” represente bens adquiridos na data de início das atividades da empresa, a despesa de depreciação, durante o ano de 2001, foi igual a R\$ 100,00.
- ❸ A existência de conta “pró-labore”, que representa valores pagos aos sócios, contraria o princípio da entidade.
- ❹ A conta “contas a pagar” representa origem de recursos para a empresa.
- ❺ A conta “clientes” apresenta menor liquidez que a conta “benfeitoria em imóvel”.

QUESTÃO 20

Considerando ainda as informações do texto IV, julgue os itens subsequentes, relativos à empresa Kampa Ltda.

- ❶ O capital circulante líquido é positivo, significando que há excesso de recursos a longo prazo com relação às aplicações a longo prazo.
- ❷ A empresa funcionou com uma margem operacional inferior a 10%.
- ❸ Para essa empresa, o índice de independência financeira é igual ao de dependência financeira.
- ❹ Os saldos das contas “vendas”, “amortização acumulada” e “fornecedores” devem aparecer na mesma coluna do balancete de verificação.
- ❺ A diferença entre a conta “vendas” e a soma das contas “custo da mercadoria vendida”, “impostos sobre vendas” e “despesas comerciais” representa o lucro bruto do período.

QUESTÃO 21

A partir do texto IV, julgue os itens abaixo, ainda relativos à empresa Kampa Ltda.

- ❶ Um dos indicadores da eficiência global da administração da empresa é a taxa de retorno sobre o ativo total, que superou o patamar de 25%.
- ❷ A empresa girou seu estoque mais de 10 vezes durante o exercício social.
- ❸ A margem de contribuição obtida em caso de contratação de representante comercial será igual a R\$ 17,50.
- ❹ A escolha pela instalação de representação comercial em imóvel alugado supõe vendas anuais superiores a 1.212 unidades (ponto de equilíbrio) na região Sudeste.
- ❺ Considerando uma projeção de vendas mensais na região Sudeste de 300 unidades, com base na viabilidade econômica, a empresa deveria optar pela hipótese de instalar sua representação comercial.

QUESTÃO 22

Atualmente, os saldos das cadernetas de poupança são corrigidos mensalmente, considerando-se a taxa de juros de 0,5%, acrescida da taxa referencial (TR). No contexto de juros compostos, essa taxa de juros de 0,5% ao mês

- ❶ é a taxa de juros proporcional correspondente à taxa nominal de juros de 6% ao ano paga às cadernetas de poupança.
- ❷ é a taxa real de juros quando a taxa mensal de inflação for igual a 0,5%.
- ❸ é equivalente a uma taxa efetiva anual de juros superior a 6%.
- ❹ originará, se for aplicada a um capital por 3 meses consecutivos, um montante maior que o montante gerado ao se aplicar sobre o mesmo capital, durante o mesmo período, uma taxa de juros simples de 0,5% ao mês.
- ❺ corresponde a uma taxa efetiva semestral igual a 1,05%.

RASCUNHO**QUESTÃO 23**

Julgue os itens seguintes.

- ❶ Se, em um mesmo período de tempo, o salário de um funcionário público passou de R\$ 2.500,00 para R\$ 2.860,00 e a inflação foi de 10%, então a diferença entre as taxas aparente e real do reajuste do salário do funcionário foi superior à inflação.
- ❷ Se uma pessoa emprestar R\$ 1.000,00 e receber R\$ 800,00 após um mês e R\$ 330,00 após 2 meses, então a taxa interna de retorno desse empréstimo — i — será tal que $10i^2 + 12i - 10 = 0$.
- ❸ Se uma nota promissória com valor de face de R\$ 2.300,00, cujo termo é de 10 meses, a juros simples de 4% ao mês, for descontada 3 meses antes de seu vencimento, com taxa corrente de juros simples de 5% ao mês, então, caso seja usado o desconto racional (por dentro), o valor do desconto será inferior a R\$ 400,00.
- ❹ Considere a seguinte situação.
Uma empresa vendeu certa quantidade de caixas de determinada mercadoria, faturando R\$ 960.000,00. No ano seguinte, essa empresa vendeu 12.600 caixas da mesma mercadoria, faturando R\$ 1.411.200,00. Sabe-se que a única alteração no preço unitário da caixa dessa mercadoria foi o reajuste do valor pela inflação de 40% nesse ano.
Nessa situação, a quantidade de caixas vendidas no primeiro ano foi superior a 11.800 unidades.
- ❺ Um investimento de R\$ 100,00 — aplicado a juros compostos de 6% ao ano e capitalizado semestralmente — resultará, ao final de um ano, um montante superior a R\$ 110,00.

QUESTÃO 24

Julgue os itens a seguir.

- ❶ Considerando $1,06^{-3} = 0,84$ e $1,06^{-6} = 0,70$, em épocas em que a taxa de mercado é de 6% ao mês, é mais vantajoso para um indivíduo que aplica R\$ 50.000,00 receber duas parcelas trimestrais de R\$ 32.500,00 do que receber R\$ 70.000,00 ao final de 6 meses.
- ❷ Se uma casa, cujo aluguel é de R\$ 2.000,00 mensais, tiver sido avaliada usando-se anuidades perpétuas e *postecipadas* e se a taxa de juros compostos do mercado for igual a 2% ao mês, então o valor de avaliação da casa terá sido inferior a R\$ 150.000,00.
- ❸ Suponha que um televisor seja vendido em 4 prestações mensais iguais, sendo a primeira paga no ato da compra. Nessa hipótese, e considerando $1,05^4 = 1,22$ e $1,05^3 = 1,16$, se o valor de cada prestação for igual a R\$ 116,00 e se a taxa de juros compostos for igual a 5% ao mês, então o preço à vista desse televisor será superior a R\$ 460,00.
- ❹ Se R\$ 12.100,00, aplicados à taxa composta de 4,10% ao mês, produzirem um montante de R\$ 19.600,00 em um ano, então a taxa semestral que fará esse capital produzir o mesmo montante em um ano será superior a 25% ao semestre.
- ❺ Suponha que um eletrodoméstico, cujo preço à vista é igual a R\$ 625,00, esteja sendo vendido com uma entrada de 20% e o restante em 3 prestações mensais iguais. Nessa hipótese, considerando $1,05^{-3} = 0,86$ e juros compostos de 5% ao mês, então a prestação será superior a R\$ 180,00.

RASCUNHO

QUESTÃO 25

Suponha que, efetuado um empréstimo de R\$ 100.000,00 à taxa de juros compostos de 10% ao ano, este deverá ser quitado em 10 prestações anuais. Em face dessa situação e considerando $1,1^4 = 1,4641$ e $1,1^{-10} = 0,38$, julgue os itens abaixo.

- ❶ Utilizando-se o método francês, caso a primeira parcela vença 5 anos após a data em que for assumido o compromisso, o valor da prestação — P — poderá ser obtido por meio da equação $146.410 = P \times \left[\frac{1}{1,1} + \frac{1}{1,1^2} + \dots + \frac{1}{1,1^{10}} \right]$.
- ❷ Se a primeira parcela vencer 5 anos após o compromisso assumido, então, de acordo com o método francês, a primeira cota de amortização será inferior a R\$ 8.500,00.
- ❸ Supondo que a primeira prestação vença 5 anos após a data do compromisso e que os 4 primeiros anos constituam período de carência, então, de acordo com o método francês, essa prestação será superior a R\$ 17.000,00.
- ❹ Levando-se em conta que a primeira parcela vença 5 anos após o compromisso assumido e que os 4 primeiros anos constituam período de carência, então, pelo método francês, a primeira cota de amortização será superior a R\$ 7.000,00.
- ❺ Utilizando-se o sistema americano, se a primeira prestação vencer um ano após a data em que for assumido o compromisso, então o valor da última prestação será igual a R\$ 110.000,00.

RASCUNHO