



Cargo 3:

TÉCNICO EM
ADMINISTRAÇÃO E FINANÇAS
ÁREA: CIÊNCIAS ECONÔMICAS

MANHÃ

Caderno C

Aplicação: 25/2/2007

LEIA COM ATENÇÃO AS INSTRUÇÕES ABAIXO.

- 1 Ao receber este caderno, confira atentamente se o tipo de caderno — Caderno C — coincide com o que está registrado em sua folha de respostas. Em seguida, verifique se ele contém QUARENTA questões, correspondentes às provas objetivas, corretamente ordenadas de 1 a 40.
- 2 Caso o caderno esteja incompleto ou tenha qualquer defeito, solicite ao fiscal de sala mais próximo que tome as providências cabíveis.
- 3 Não utilize lápis, lapiseira, borracha e(ou) qualquer material de consulta que não seja fornecido pelo CESPE/UnB.
- 4 Não se comunique com outros candidatos nem se levante sem autorização do chefe de sala.
- 5 A duração das provas é de **três horas e trinta minutos**, já incluído o tempo destinado à identificação — que será feita no decorrer das provas — e ao preenchimento da folha de respostas.
- 6 Você deverá permanecer obrigatoriamente em sala por, no mínimo, uma hora após o início das provas e poderá levar o seu caderno de provas somente no decurso dos últimos **quinze minutos** anteriores ao horário determinado para o término das provas.
- 7 Ao terminar as provas, chame o fiscal de sala mais próximo, devolva-lhe a sua folha de respostas e deixe o local de provas.
- 8 A desobediência a qualquer uma das determinações constantes no presente caderno ou na folha de respostas poderá implicar a anulação das suas provas.

AGENDA (DATAS PROVÁVEIS)

- I 27/2/2007, após as 19 h (horário de Brasília) – Gabaritos oficiais preliminares das provas objetivas: Internet — www.cespe.unb.br/concursos/fcptn2006.
- II 28/2/2007 e 1.º/3/2007 – Recursos (provas objetivas): exclusivamente no Sistema Eletrônico de Interposição de Recurso, Internet — www.cespe.unb.br/concursos/fcptn2006, mediante instruções e formulários que estarão disponíveis nesse endereço.
- III 21/3/2007 – Resultado final das provas objetivas e convocação para a avaliação de títulos: Diário Oficial do Estado do Pará e Internet — www.cespe.unb.br/concursos/fcptn2006.

OBSERVAÇÕES

- Não serão objeto de conhecimento recursos em desacordo com o item 12 do Edital n.º 1/2006 – SEAD/FCPTN, de 30/11/2006.
- Informações adicionais: telefone 0(XX) 61 3448-0100; Internet — www.cespe.unb.br/concursos/fcptn2006.
- É permitida a reprodução deste material apenas para fins didáticos, desde que citada a fonte.

- Nas questões de 1 a 40, marque, em cada uma, a única opção correta, de acordo com o respectivo comando. Para as devidas marcações, use a **folha de respostas**, único documento válido para a correção das suas provas.
- Nas questões que avaliam **Noções de Informática**, a menos que seja explicitamente informado o contrário, considere que todos os programas mencionados estão em configuração-padrão em português, que o *mouse* está configurado para pessoas destros e que expressões como clicar, clique simples e clique duplo referem-se a cliques com o botão esquerdo do *mouse*. Considere também que não há restrições de proteção, de funcionamento e de uso em relação aos programas, arquivos, diretórios e equipamentos mencionados.

CONHECIMENTOS BÁSICOS

Texto para as questões de 1 a 7

QUESTÃO 1

Assinale a opção que apresenta uma idéia **não** contemplada no texto.

- Ⓐ Os especialistas em simplicidade, cuja missão consistirá na redução da complexidade dos *software* e das redes de computadores das companhias, ainda não existem no mercado, mas fazem parte das previsões para o futuro.
- Ⓑ Com base na análise de alguns movimentos sociais e econômicos atuais, constata-se que novas carreiras estão surgindo e que elas serão bastante valorizadas nos próximos anos.
- Ⓒ A revista **Exame** explicou que não há comunhão de idéias a respeito das carreiras mais promissoras no futuro, mas existem indícios das áreas que serão hegemônicas na próxima década.
- Ⓓ No futuro, os administradores de empresas buscarão contratar mais especialistas em logística da cadeia de consumo que biólogos técnicos em biodefesa, que estudam vírus e bactérias capazes de gerar grandes epidemias.

QUESTÃO 2

Com relação à passagem “as profissões de engenheiro ambiental, hidrologista (especialista em água), engenheiro de *software* e de redes de comunicação e biomédico estão entre as 30 que mais crescerão nos próximos oito anos” (l.17-19), assinale a opção **incorreta**.

- Ⓐ A profissão de hidrologista não é apontada como uma das especialidades da engenharia ambiental.
- Ⓑ O leitor toma conhecimento de poucas profissões entre as três dezenas que terão maior crescimento nos próximos anos.
- Ⓒ As expressões “de *software*” e “de redes” estão sendo empregadas como sinônimas, uma vez que a palavra a que elas se ligam está no singular.
- Ⓓ Os parênteses estão empregados para isolar uma explicação relativa ao vocábulo que os antecede e poderiam ser substituídos por travessões.

1 No livro **O Dicionário do Futuro**, a pesquisadora norte-americana
 2 Faith Popcorn afirma que, em 2015, mais da metade da população estará
 3 trabalhando em profissões que hoje não existem. Segundo ela, habitarão o
 4 mundo dos negócios, por exemplo, os sussurradores, profissionais
 5 especializados em lidar com consumidores enraivecidos e cada vez menos
 6 tolerantes aos deslizos das empresas, ou especialistas em simplicidade,
 7 pessoas cuja missão será reduzir a complexidade dos *software* e das redes
 8 de computadores das companhias. Como o próprio nome sugere, há, no
 9 livro de Faith, uma dose de exercício de futurologia. A análise de muitos
 10 movimentos sociais e econômicos que estão acontecendo hoje, porém, já
 11 aponta, de maneira mais tangível, o surgimento de carreiras cuja
 12 valorização se intensificará nos próximos anos.

13 Em uma pesquisa realizada pela consultoria DBM, a pedido da
 14 revista norte-americana **Fortune**, são vistas como promissoras carreiras
 15 das áreas de saúde, tecnologia e meio ambiente. No último levantamento
 16 realizado pelo Bureau de Estatísticas do Trabalho dos Estados Unidos,
 17 as profissões de engenheiro ambiental, hidrologista (especialista em água),
 18 engenheiro de *software* e de redes de comunicação e biomédico estão entre
 19 as 30 que mais crescerão nos próximos oito anos. No Brasil, um
 20 levantamento feito por **Exame** com cerca de 20 especialistas, entre
 21 pesquisadores do mundo do trabalho e consultores de recursos humanos,
 22 revelou que não há consenso a respeito das carreiras mais promissoras —
 23 mas há, sim, indicativos claros das áreas que estarão aquecidas na próxima
 24 década. Assim como as empresas norte-americanas, as brasileiras também
 25 estão à caça, por exemplo, de especialistas capazes de instruí-las a usar a
 26 tecnologia de maneira melhor e mais segura ou de profissionais que possam
 27 ajudá-las a relacionar-se com o meio ambiente e a sociedade civil — uma
 28 interação complexa e cheia de idiosincrasias. Todas essas carreiras, de
 29 alguma forma, estão ligadas à corrida por inovação.

30 Na Suzano Papel e Celulose, a busca por engenheiros ambientais e
 31 profissionais afins não pára. Nos últimos 12 meses, três foram recrutados
 32 e há vagas em aberto. A dificuldade em contratar deve-se ao fato de que o
 33 perfil desse profissional está mudando muito. “Mais do que ajudar a
 34 empresa a não poluir, o escopo do seu trabalho, hoje, envolve questões
 35 mais estratégicas, como entender a pressão de grupos da sociedade”, afirma
 36 Jorge Cajazeira, executivo do grupo Suzano. Agrônomo e doutor em
 37 engenharia ambiental, João Matos é um desses profissionais. Funcionário
 38 da Beraca, empresa brasileira que extrai e fabrica ativos vegetais para
 39 várias indústrias, ele precisa relacionar-se com milhares de famílias no
 40 norte do país para encontrar fornecedores de produtos vegetais para
 41 fabricantes de cosméticos. Com passagens pela EMBRAPA e pelo governo
 42 do Amazonas, Matos já foi convidado mais de uma vez para trabalhar no
 43 exterior. “Não fui porque as oportunidades estão crescendo muito por
 44 aqui”, afirma.

45 Uma tendência comum em todas as áreas, segundo especialistas, é
 46 a crescente especialização. Administradores deverão se transformar em,
 47 por exemplo, especialistas em logística da cadeia de consumo, e biólogos
 48 poderão ter ocupações como técnico em biodefesa (que trata da
 49 identificação de vírus e bactérias capazes de gerar grandes epidemias).
 Algumas empresas já têm, em seus quadros, especialistas em ciências que,
 até recentemente, estavam apenas nas universidades.

Exame, 30/8/2002, p. 82-3 (com adaptações).

QUESTÃO 3

Assinale a opção correta quanto ao emprego da vírgula.

- A O emprego da vírgula após “Futuro” (l.1) e “ela” (l.3) é obrigatório, porque, em ambas as ocorrências, a vírgula indica o deslocamento, por antecipação, de circunstância de tempo.
- B A vírgula após “negócios” (l.4) poderia ser suprimida sem prejuízo para a correção gramatical do texto.
- C As vírgulas após “sussurradores” (l.4) e “simplicidade” (l.6) estão utilizadas para separar termos de mesma função sintática em uma enumeração.
- D A conjunção adversativa “porém” (l.10) está entre vírgulas por estar em posição deslocada na estrutura do período.

QUESTÃO 4

Com referência à tipologia textual, julgue os itens seguintes.

- I Entre as linhas 13 e 19 do texto predomina a estrutura enumerativa.
- II Os períodos compreendidos entre as linhas 30 e 32 possuem estrutura predominantemente narrativa.
- III No trecho ‘Mais do que ajudar a empresa a não poluir, o escopo do seu trabalho, hoje, envolve questões mais estratégicas, como entender a pressão de grupos da sociedade’ (l.33-35), verifica-se a estrutura expositiva.
- IV No período entre as linhas 37 e 41, identifica-se trecho descritivo.
- V Na afirmativa ‘Não fui porque as oportunidades estão crescendo muito por aqui’ (l.43-44), identifica-se estrutura argumentativa.

Assinale a opção correta.

- A Apenas os itens I e II estão certos.
- B Apenas os itens I, III, IV e V estão certos.
- C Apenas os itens II, III, IV e V estão certos.
- D Todos os itens estão certos.

QUESTÃO 5

Com relação à sintaxe de orações e de períodos contidos no terceiro parágrafo do texto, assinale a opção correta.

- A O primeiro período, constituído por uma única oração, abre-se com uma circunstância de lugar em que está implícita a palavra empresa.
- B Não haverá prejuízo para a correção gramatical, caso o segundo período seja assim reescrito: No último ano, três foram contratados e existe vagas abertas.
- C Em “A dificuldade em contratar deve-se ao fato de que o perfil desse profissional está mudando muito” (l.32-33), identificam-se dois verbos flexionados e três empregados na forma nominal.
- D Na oração “Agrônomo e doutor em engenharia ambiental, João Matos é um desses profissionais” (l.36-37), o sujeito é representado por três núcleos nominais: “agrônomo”, “doutor” e “João Matos”.

QUESTÃO 6

Assinale a opção em que a reescrita de passagem do texto está correta quanto à sintaxe de concordância e de regência.

- A A Beraca, empresa brasileira extrativa de ativos vegetais e fabricante de cosméticos para indústrias, precisam se relacionar com milhares de famílias no norte do país para encontrar bastante fornecedores de produtos.
- B Com passagem pelo governo do Amazonas e pela EMBRAPA, Matos, convidado mais de uma vez para ir ao exterior a trabalho, apresentou sua resposta negativa.
- C “Não fui, haja visto que as chances de crescer tem aumentado muito por aqui”, afirmou Matos.
- D São tendências comuns às áreas empresariais, segundo os especialistas, a crescente especialização.

QUESTÃO 7

A respeito de redação oficial, assinale a opção correta.

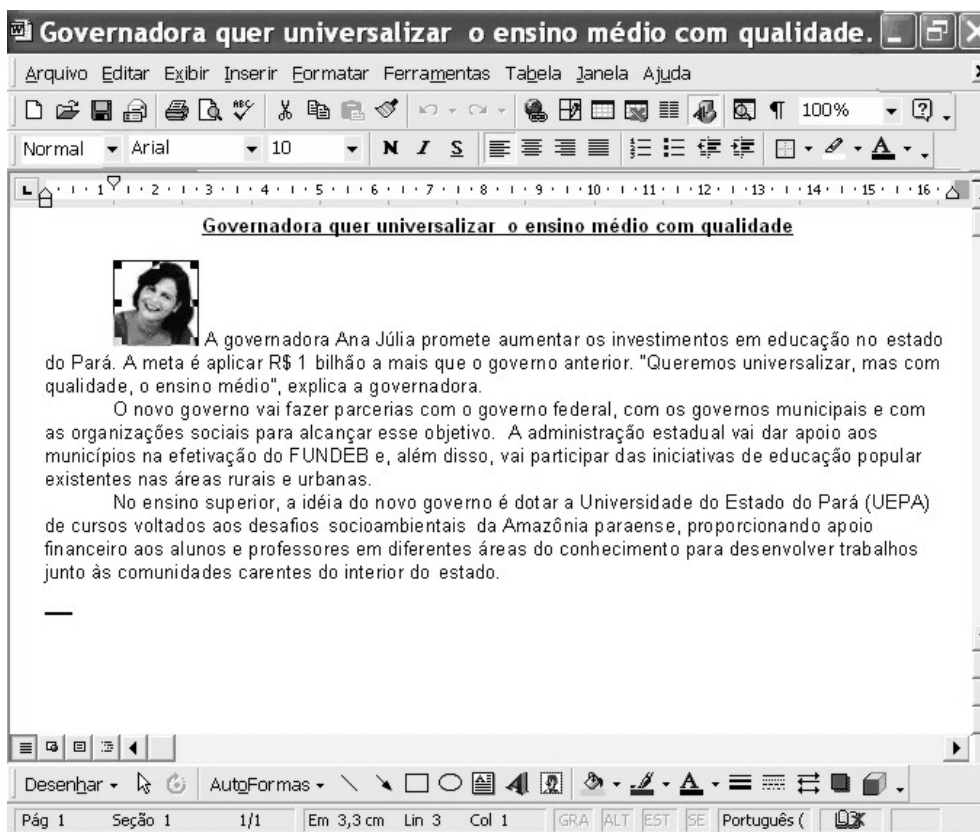
- A A ata é o documento adequado no encaminhamento do resultado da pesquisa realizada pela consultoria DBM a pedido da revista mencionada no texto.
- B Seria adequado o uso de memorando, na divulgação à imprensa, do levantamento realizado pelo Bureau de Estatísticas do Trabalho dos Estados Unidos.
- C João Matos, funcionário da Beraca, estaria obedecendo às normas de emprego dos pronomes de tratamento, caso se dirigisse aos fornecedores de produtos vegetais utilizando o tratamento **Vossa Excelência**.
- D Caso a Suzano Papel e Celulose queira contratar engenheiros ambientais e profissionais afins, ela pode valer-se de uma carta-convite, a ser publicada em jornal de ampla circulação.

QUESTÃO 8





Assinale a opção em que o fragmento de texto **não** apresenta erro de grafia, de acentuação nem de emprego do sinal indicativo de crase.

- A Tal qual as empresas norte-americanas, as brasileiras também estão a procura de especialistas aptos à instruí-las no uso da tecnologia e ajudá-las no relacionamento com o ambiente e a sociedade.
- B As empresas brasileiras, bem como as norte-americanas, estão cassando especialistas capazes de instruí-las a melhor e mais seguramente utilizar às novas tecnologias e a relacionarem-se ao meio ambiente e à sociedade civil.
- C Assim como as norte-americanas, as empresas brasileiras estão em busca de especialistas aptos a instruí-las a respeito da melhor e mais segura forma de utilizar as tecnologias e quanto ao estabelecimento de relações sadias com o meio ambiente e com a sociedade civil.
- D Uma interação complexa, cheia de idiossincrasias, consiste em empresas brasileiras irem à caça de especialistas passíveis de instruí-las a utilizar novas tecnologias e a relacionar-se com o exigente público norte-americano.

QUESTÃO 9



A figura acima ilustra uma janela do Word 2000 que contém parte de um texto extraído da Internet (www.pa.gov.br). É possível que a imagem no texto tenha sido inserida por meio do seguinte procedimento:

- A clicar o botão  e, em seguida, clicar o botão .
- B clicar a opção Imagem do menu **Inserir**; clicar a opção Do arquivo; selecionar o arquivo da foto correspondente; clicar Inserir.
- C clicar o botão  e, em seguida, clicar o botão .
- D clicar a opção Imagem do menu **Exibir**, selecionar o nome do arquivo com a foto correspondente e clicar Inserir.

QUESTÃO 10

O Excel é um programa de planilha eletrônica que pode ser utilizado para diversas funções. Assinale a opção correspondente a tarefas que **não** são executadas por meio do Excel.

- A calcular, armazenar e trabalhar com lista de dados
- B criar relatórios e gráficos
- C proceder a análises estatísticas e financeiras
- D editar e manipular imagens

QUESTÃO 11

O Windows XP é um

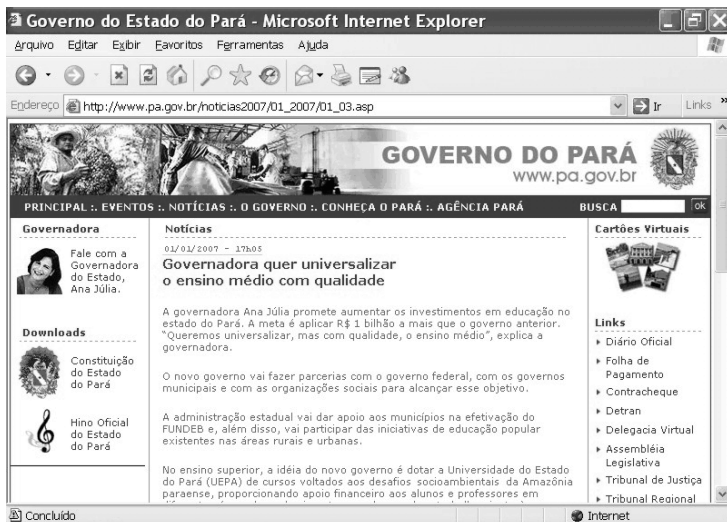
- A *software* que permite o gerenciamento de todos os dispositivos do computador.
- B *software* aplicativo que permite o gerenciamento de planilhas eletrônicas.
- C *hardware* que gerencia os dispositivos de entrada e saída do computador.
- D *software* aplicativo que gerencia os recursos do computador.

QUESTÃO 12





Vírus é um programa pernicioso, que causa danos nos computadores, apagando ou corrompendo dados. Para se evitar um vírus, deve-se instalar e manter atualizado o

- A Microsoft Office.
- B protocolo TCP/IP.
- C antivírus e o *firewall*.
- D sistema operacional.

QUESTÃO 13



A figura acima ilustra uma janela do Internet Explorer 6 que contém uma página acessada em uma sessão de uso desse navegador. Com base nessas informações, é correto afirmar que a ferramenta

-  **A** permite que o texto mostrado na página seja copiado e transportado para o Word.
-  **B** mostra o histórico dos acessos.
-  **C** permite que se atualize o conteúdo da página.
-  **D** permite que a página seja colocada como favorita.

QUESTÃO 14

O Microsoft Outlook Express coloca o mundo da comunicação *online* no *desktop* do computador, seja para a troca de *e-mails*, seja para o ingresso em grupos de notícias para intercâmbio de idéias e informações. O Microsoft Outlook **não** permite o(a)

- A** gerenciamento de várias contas de *e-mail* e de grupos de notícias.
- B** utilização de catálogo de endereços para armazenagem e recuperação de endereços de *e-mail*.
- C** acesso a sítios através do protocolo SNMTP.
- D** adição de papel de carta ou assinatura pessoal às mensagens.

Texto para as questões 15 e 16

A atual Constituição brasileira, promulgada em 1988, busca traduzir a nova realidade política vivida pelo país após cerca de duas décadas de regime autoritário. A ênfase dada à defesa da cidadania e do Estado democrático apresenta-se logo nos dois primeiros títulos, que tratam dos princípios fundamentais e dos direitos e garantias fundamentais. Em seu preâmbulo, a Carta afirma o compromisso com o “Estado democrático, destinado a assegurar o exercício dos direitos sociais e individuais, a liberdade, a segurança, o bem-estar, o desenvolvimento, a igualdade e a justiça como valores supremos de uma sociedade fraterna, pluralista e sem preconceitos, fundada na harmonia social e comprometida, na ordem interna e internacional, com a solução pacífica das controvérsias”. Adaptando-se à nova ordem jurídico-política vigente, as assembleias legislativas, entre as quais a do Pará, elaboraram as novas Constituições estaduais.

QUESTÃO 15

Entre os objetivos fundamentais da República Federativa do Brasil, inscritos na Constituição de 1988, **não** se inclui a

- A** construção de uma sociedade livre, justa e solidária.
- B** erradicação da pobreza e da marginalização.
- C** garantia do desenvolvimento nacional mediante investimentos nas regiões mais pobres, em prejuízo das mais ricas.
- D** promoção do bem coletivo, sem preconceitos de origem, raça, sexo, cor, idade e quaisquer outras formas de discriminação.

QUESTÃO 16

Tendo em vista o texto apresentado e os dispositivos constitucionais vigentes, assinale a opção correta.

- A** A guerra de conquista é admitida apenas em caso extremo, ou seja, como resposta a uma agressão externa ou atendendo à determinação do Conselho de Segurança da Organização das Nações Unidas (ONU).
- B** A pena de morte e a prisão perpétua somente podem ser decretadas contra réus condenados em júri popular pela prática de crimes considerados hediondos, como o seqüestro seguido de morte.
- C** É plena a inviolabilidade do sigilo da correspondência e das comunicações telefônicas, não se admitindo situações nas quais essa inviolabilidade possa ser quebrada.
- D** Independentemente de censura ou licença, é livre a expressão da atividade intelectual, artística, científica e de comunicação.

Texto para as questões de 17 a 19

Em tramitação desde 1992, o Projeto de Lei da Mata Atlântica foi sancionado pelo presidente Lula. Sua aprovação, em novembro de 2006, na Câmara dos Deputados, foi resultado de amplo acordo partidário, que pôs fim a uma negociação de 14 anos no Congresso Nacional. Na cerimônia em que a lei foi sancionada, Lula lembrou ser necessário aliar produção de riqueza e preservação da natureza para se garantir o futuro de um povo.

Segundo o presidente, “Chico Mendes não era contra o progresso que leva saúde, educação, oportunidades, empregos e renda às populações mais pobres e isoladas do nosso território. Tampouco Dorothy Stang pregava o isolamento idílico das comunidades indígenas da Terra do Meio. Ambos se opunham, na verdade, à lógica excludente que faz do progresso uma pista de mão única, na qual o povo é mantido como viajante cativo da segunda classe e a natureza se transforma em carga ilegal no vagão clandestino”.

Para Mario Mantovani, diretor da Fundação SOS Mata Atlântica, “tivemos uma grande participação da sociedade em todas as etapas do projeto, com forte mobilização, o que demonstra a legitimidade desta vitória”.

JB Ecológico, Ano 4, n.º 60, jan./2007, p. 25-6 (com adaptações).

QUESTÃO 17

Considerando o discurso presidencial, em parte reproduzido no texto, é correto afirmar que, para Luiz Inácio Lula da Silva,

- A não é possível dissociar o destino da natureza do destino da sociedade e de seu desenvolvimento.
- B um país com as deficiências do Brasil precisa desenvolver-se a qualquer preço, independentemente dos custos ambientais.
- C o desenvolvimento material, ou econômico, de uma sociedade é que garante a sua existência e o seu futuro.
- D o conceito de desenvolvimento sustentável não passa de construção ideológica dos países já enriquecidos.

QUESTÃO 18

Considerando o texto e aspectos marcantes da realidade atual, assinale a opção correta.

- A O grande objetivo de Chico Mendes era tornar indepassável a mata e manter seus habitantes afastados do contato com a civilização urbana contemporânea.
- B Dorothy Stang era cientista que sonhava com a inserção da Terra do Meio, com seus habitantes, na economia globalizada dos dias atuais.
- C O processo de elaboração e tramitação do Projeto de Lei da Mata Atlântica circunscreveu-se, como de hábito, aos círculos palacianos.
- D A questão ambiental ganha espaço na agenda do mundo contemporâneo, provavelmente por causa da intensidade dos problemas decorrentes da degradação da natureza.

QUESTÃO 19

A Lei da Mata Atlântica foi uma das últimas matérias de ampla repercussão que a Câmara dos Deputados aprovou em fins de 2006. O ano de 2007 se iniciou com um tema político que ganhou destaque no noticiário: a eleição da nova Mesa Diretora da Casa. Entre outras razões, o cargo de presidente da Câmara dos Deputados é muito importante porque seu ocupante torna-se

- A presidente do Congresso Nacional.
- B presidente do Conselho de Ministros.
- C o terceiro nome na linha sucessória do Poder Executivo.
- D o substituto do presidente do Supremo Tribunal Federal.

QUESTÃO 20

Considerando-se o moderno conceito de cultura, de viés acentuadamente antropológico, e os dispositivos constitucionais vigentes, tanto em termos nacionais quanto paraenses, uma política cultural conduzida pelo poder público **não** envolve aspectos de

- A proteção às manifestações das culturas populares, indígenas e afro-brasileiras, além das de outros grupos presentes na formação brasileira.
- B proibição de existência de fundos de fomento à cultura nos estados, como meio de impedir a malversação dos recursos financeiros.
- C garantia do pleno exercício dos direitos culturais e de acesso às fontes da cultura nacional, sem qualquer forma de exclusão.
- D apoio e incentivo à valorização e à difusão das manifestações culturais, em suas mais distintas formas e modalidades.

CONHECIMENTOS ESPECÍFICOS

QUESTÃO 21

O estudo da contabilidade nacional diz respeito à mensuração dos agregados macroeconômicos. Acerca desse assunto, assinale a opção correta.

- A Os recordes sucessivos atingidos pela Bolsa de Valores de São Paulo (BOVESPA), em 2006, atestam o dinamismo do mercado acionário brasileiro, expandem o investimento doméstico e, portanto, levam à expansão do produto interno bruto (PIB).
- B As despesas do governo paraense com a contratação de novos funcionários para trabalhar na administração pública do estado não são contabilizadas no consumo do governo, pois constituem investimento em pessoal e, portanto, não representam despesas de consumo.
- C Considere que, para determinada economia, o PIB é igual a R\$ 10 trilhões; o consumo, R\$ 6,5 trilhões; o investimento, R\$ 2 trilhões; os gastos do governo, R\$ 2 trilhões. Nesse caso, se as importações forem iguais a R\$ 2 trilhões, então, essa economia exporta R\$ 0,5 trilhões.
- D A redução dos preços e a melhoria dos computadores nos últimos anos, por não se refletirem imediatamente no índice de preços ao consumidor (IPC), fazem com que esse índice sobreestime os níveis verdadeiros da inflação.

QUESTÃO 22

Assinale a opção correta a respeito das importantes variáveis macroeconômicas como o consumo, a poupança e o investimento.

- A A propensão marginal a consumir (PMC), na função de consumo keynesiana, é superior à propensão média a consumir.
- B A idéia de que aumentos na tributação reduzem a taxa de poupança de uma economia é consistente como hipótese do ciclo de vida.
- C Entre os agregados econômicos, o investimento é o maior componente do PIB, enquanto o consumo privado é aquele que apresenta maior volatilidade.
- D Os investimentos autônomos dependem do nível de renda e das taxas de juros que prevalecem em uma dada economia.

QUESTÃO 23

As políticas fiscais e monetárias constituem importante instrumento da ação do governo para a estabilização econômica. A esse respeito, assinale a opção correta.

- A Uma reforma tributária bem sucedida, que reduza os impostos sobre a renda e sobre os bens e serviços, é um exemplo de política fiscal expansionista.
- B A adoção de programas de gastos públicos destinados a reduzir a pobreza, como o programa Bolsa Família, funciona como um estabilizador automático da política fiscal.
- C A redução das taxas de juros, no Brasil em 2006, decidida no âmbito do Comitê de Política Monetária (COPOM), deslocou a função de demanda agregada da economia brasileira para baixo e para a esquerda.
- D Na visão monetarista, um aumento permanente na taxa de crescimento do estoque monetário nominal conduzirá a aumentos na taxa de crescimento da produção e do emprego.

QUESTÃO 24

Em relação ao processo inflacionário, assinale a opção correta.

- A Fatores que elevam a demanda agregada, como o aumento dos gastos públicos e a alta das exportações, explicam a inflação de custos.
- B A indexação das faixas de imposto de renda, em um contexto inflacionário, aumenta a carga tributária e, portanto, constitui um dos custos da inflação.
- C A coexistência de níveis elevados de inflação com baixas taxas de desemprego é consistente com uma curva de Philips de curto prazo, negativamente inclinada.
- D Inflações não antecipadas redistribuem a renda em favor dos empregadores e em detrimento dos trabalhadores.

QUESTÃO 25

A economia monetária, que estuda questões relativas à moeda e ao crédito, é crucial para o entendimento dos fenômenos econômicos. Com relação a esse assunto, assinale a opção correta.

- A Mediante o aumento da taxa de desconto, o Banco Central reduz suas reservas e expande a oferta de moeda.
- B O multiplicador monetário é tanto maior quanto mais elevada for a variação dos depósitos em relação à variação das reservas.
- C Inovações financeiras, como o uso generalizado de cartões de crédito e de caixas automáticos, deslocam a curva de demanda de moeda para cima e para a direita.
- D De acordo com a teoria quantitativa da moeda, no longo prazo, em razão do aumento da velocidade de circulação da moeda, uma expansão monetária aumenta proporcionalmente mais que o PIB potencial da economia.

QUESTÃO 26

Em relação ao processo de desenvolvimento econômico, assinale a opção correta.

- A Nos países subdesenvolvidos, embora a poupança seja elevada o bastante para financiar os investimentos requeridos pelo crescimento, há altas taxas de fertilidade, baixos níveis educacionais e níveis precários de produtividade.
- B A ajuda internacional (*foreign aid*) tem, de forma inequívoca, contribuído para melhorar as condições de vida das populações e para financiar as inversões exigidas pelo desenvolvimento econômico.
- C Estratégias de desenvolvimento econômico embasadas na promoção das exportações enfatizam os ganhos advindos das vantagens comparativas e a expansão do comércio internacional.
- D Apesar dos elevados níveis de pobreza, a distribuição de renda nos países menos desenvolvidos é menos desigual, quando comparada à dos países mais ricos.

QUESTÃO 27

A análise das interações entre vendedores e compradores em uma economia de mercado constitui o cerne do estudo dos fenômenos econômicos. A esse respeito, assinale a opção correta.

- A A expansão das viagens ecológicas contribui para desenvolver o turismo na Amazônia e, portanto, desloca a curva de demanda por esse serviço para baixo e para a esquerda.
- B Em empresas que utilizam intensivamente a mão-de-obra, o aumento do salário mínimo eleva os custos marginais e, portanto, provoca um deslocamento ao longo da curva de oferta dessas empresas.
- C A imposição de restrições às importações de produtos chineses, no Brasil, aumenta a oferta doméstica e, portanto, contribui para reduzir o preço desses produtos.
- D Quando uma firma aumenta o preço de seu produto e constata que a sua receita total aumentou, deve-se confrontar com uma curva de demanda inelástica.

QUESTÃO 28

A análise do comportamento do consumidor constitui a fundamentação teórica para a análise da demanda de mercado. Acerca desse assunto, assinale a opção correta.

- A As curvas de indiferença entre carros populares de diferentes marcas têm a forma de ângulos retos em razão de esses veículos funcionarem como bens complementares.
- B A elevação dos preços dos terrenos urbanos, em grandes cidades, representa redução da renda nominal dos consumidores e, portanto, conduz a um deslocamento paralelo para baixo e para a esquerda da restrição orçamentária do consumidor.
- C Passagens de ônibus podem ser considerados bens inferiores para os consumidores de rendas mais elevadas.
- D O aumento do poder de compra dos consumidores, em decorrência da redução do preço dos eletrodomésticos, que lhes permite consumir mais esses bens e outros produtos, é compatível com a existência do efeito substituição.

QUESTÃO 29

O estudo do comportamento dos produtores é fundamental à compreensão do mecanismo de tomada de decisão pelas empresas. A esse respeito, assinale opção correta.

- A O fato de o aumento da demanda por MBA (*Master Business Administration*) ter expandido a demanda por professores de finanças, elevando o salário desses profissionais, explica, em parte, a inclinação positiva da curva de oferta de longo prazo para as universidades que oferecem esses programas.
- B Empresas aéreas com baixa taxa de ocupação de seus assentos não estão maximizando seus lucros.
- C Para firmas competitivas que atuam no ramo da indústria têxtil, aumentos no preço do algodão elevam o custo marginal e o preço do produto.
- D No curto prazo, se o preço de mercado do produto fabricado por determinada firma for inferior ao custo médio total, então essa firma interromperá suas atividades e sairá do mercado.

QUESTÃO 30

A determinação dos preços de mercado considera as interações entre a oferta e a demanda bem como o regime de concorrência que prevalece no mercado analisado. A respeito desse assunto, assinale a opção correta.

- A Hotéis e pousadas costumam ser mais caros na alta temporada pelo fato de a elasticidade preço da demanda por esses serviços de hotelaria ser mais elevada durante esses períodos.
- B Firms que operam em mercado caracterizado pela concorrência monopólica, confrontam-se com uma curva de demanda perfeita elástica.
- C Nos oligopólios, as poucas empresas que dominam o mercado, a exemplo das firmas competitivas, fixam seus preços ao nível do custo marginal.
- D Leis antitruste e esquemas de regulação de preços são duas importantes políticas que podem reduzir as ineficiências causadas pelos monopólios.

QUESTÃO 31

Com respeito à teoria da produção, assinale a opção correta.

- A Quando os fatores de produção capital e trabalho são complementares, as isoquantas são linhas retas paralelas.
- B Se a produtividade marginal (PMG) de determinado insumo é superior à sua produtividade média (PME), então a PME, deve estar crescendo.
- C Em razão da existência de custos fixos elevados, a função de produção dos serviços providos pelo metrô caracteriza-se pela existência de retornos decrescentes de escala.
- D Considere que, aumentando-se a quantidade de determinado insumo e mantendo-se os demais constantes, seja obtida, sempre, uma redução da produção. Essa situação serve para ilustrar a lei dos rendimentos decrescentes.

QUESTÃO 32

O estudo da história da economia brasileira possibilita a compreensão das questões relevantes que afetam a economia. Acerca desse assunto, assinale a opção correta.

- A No governo de Juscelino Kubitschek (1956-1960), a instalação de novas empresas, particularmente as produtoras de bens de consumo duráveis e também de máquinas e equipamentos, bem como a ampliação da infra-estrutura ocorreram sem que se utilizasse capital estrangeiro.
- B No Brasil, o desenvolvimento embasado na substituição de importações, além de viabilizar a formação de uma estrutura industrial moderna, contribuiu para eliminar os desequilíbrios do balanço de pagamentos, reduzindo, assim, a ocorrência de crises macroeconômicas.
- C No Plano Real, a aceleração do processo de abertura e a valorização do real, que ampliaram a oferta de bens importados, pressionando para baixo os preços internos, foram cruciais para o controle do processo inflacionário.
- D Desde a última década, observa-se que o *deficit* público relativo às empresas estatais vem crescendo de forma contínua e sustentada no Brasil.

QUESTÃO 33

Com base em conhecimentos de matemática financeira, assinale a opção correta.

- A No regime de juros compostos, a taxa anual de juros equivalente à taxa de 12% ao mês é igual a 144%.
- B Duzentos reais, capitalizados por juros simples, à taxa de 10% ao mês, em cinco meses, valerão, R\$ 322,10.
- C No desconto comercial, ou bancário, a taxa de desconto efetiva é sempre superior à taxa de desconto definida.
- D Em contratos relativos a operações financeiras, os prazos contratados são ditos exatos quando o mês tem sempre 30 dias e o ano 360 dias.

QUESTÃO 34

A análise de investimentos é utilizada principalmente para auxiliar a tomada de decisão na escolha de projetos de investimento, incluindo-se as aplicações financeiras. A esse respeito, assinale a opção correta.

- A Na avaliação de investimentos e empréstimos, a taxa de juros, que, ao ser usada para obter o valor presente de um fluxo de recebimentos ou de pagamentos, torna esse fluxo positivo, corresponde à taxa interna de retorno (TIR) desse fluxo.
- B Quando a relação benefício/custo (RBC) de um determinado projeto é superior à unidade, esse projeto deverá ser descartado.
- C Contrariamente ao método RBC, a análise do valor presente líquido (VPL) leva em conta a escala do projeto.
- D Uma limitação óbvia do método do *payback*, que representa o prazo para recuperação do capital investido, é o fato de esse método excluir a possibilidade de existência de fluxos negativos.

QUESTÃO 35

Em relação aos princípios básicos da contabilidade, assinale a opção correta.

- A O conceito contábil de capital corresponde ao valor do capital social e do capital próprio, excluindo-se, porém, os recursos postos à disposição da empresa por terceiros.
- B De acordo com o método das partidas dobradas, as despesas, à vista, com compra de máquinas e equipamentos para a produção, embora debitadas nas contas do passivo, não alteram o valor do patrimônio líquido da empresa.
- C Um aumento do capital mediante a incorporação de lucros e reservas contribui para aumentar o capital circulante líquido.
- D No balanço patrimonial, as benfeitorias realizadas em imóveis arrendados são contabilizadas no ativo imobilizado.

QUESTÃO 36

A administração financeira trata de tópicos relacionados à administração das finanças de empresas e organizações. Acerca desse assunto, assinale a opção correta.

- A A demonstração do resultado apresenta as receitas e despesas operacionais, mas exclui o imposto de renda sobre os lucros auferidos pela empresa.
- B Quando o capital de giro líquido é positivo, o volume de recursos disponíveis nos doze meses seguintes é inferior ao volume que precisará ser desembolsado para financiar as despesas da produção.
- C Se comparada a outra firma que apresente uma razão superior entre custos fixos e custos variáveis, a empresa cujos custos variáveis são muito elevados em relação aos seus custos fixos apresentará um menor grau de alavancagem operacional.
- D O aumento dos encargos sociais relativos aos salários da administração da empresa contribui para reduzir o valor do ponto de equilíbrio operacional (PEO).

QUESTÃO 37

Em relação ao processo orçamentário no Brasil, assinale a opção correta.

- A De acordo com o princípio da exclusividade, as receitas e despesas no orçamento público devem referir-se, sempre, a um período limitado de tempo.
- B O financiamento das exportações, desde que realizado no âmbito do Programa de Financiamento das Exportações (PROEX), é registrado no orçamento fiscal.
- C No Plano Plurianual, que define as metas da administração pública para as despesas públicas, não se incluem as despesas de capital nem as despesas relativas ao serviço da dívida pública.
- D As despesas orçadas no âmbito do orçamento da seguridade social são financiadas unicamente pelas contribuições sociais previstas na Constituição Federal.

RASCUNHO

QUESTÃO 38

Considerando conceitos e resultados básicos de probabilidade e estatística, assinale a opção correta.

- Ⓐ Sabendo que 10% de todas as pias produzidas em uma fábrica são defeituosas, suponha que se escolham ao acaso três pias produzidas nessa fábrica. Nesse caso, a probabilidade de todas as três pias selecionadas serem defeituosas é igual a 30%.
- Ⓑ Se dois dados honestos forem jogados para cima simultaneamente a probabilidade de que a soma dos pontos obtidos ser igual a quatro é 1/12.
- Ⓒ O desvio-padrão é obtido quando se eleva a variância ao quadrado.
- Ⓓ Quando se toma uma amostra aleatória de tamanho n de uma população que possui média igual a m , a média da amostra é igual a $n \times m$.

QUESTÃO 39

Considerando o teste de hipóteses sobre um parâmetro de uma distribuição populacional, assinale a opção correta.

- Ⓐ A probabilidade de erro do tipo I é a probabilidade de rejeição da hipótese nula quando essa hipótese é, de fato, verdadeira.
- Ⓑ O nível de significância do teste é dado pela probabilidade de erro do tipo II.
- Ⓒ A soma das probabilidades de erro do tipo I e da probabilidade de erro do tipo II deve ser sempre igual a um.
- Ⓓ O poder do teste é definido como $1 - \{\text{probabilidade de erro do tipo I}\}$.

QUESTÃO 40

A legislação despenha papel relevante nos assuntos econômicos, pois delimitam o marco institucional no qual eles se inserem. Acerca desse tópico, assinale a opção correta.

- Ⓐ De acordo com o texto constitucional, o total da arrecadação da União com os impostos sobre a renda e sobre os produtos industrializados deverá ser repassado aos estados, ao Distrito Federal e aos municípios por meio do Fundo de Participação dos Estados e do Distrito Federal (FPE) e do Fundo de Participação dos Municípios (FPM).
- Ⓑ De acordo com a Constituição do Estado do Pará, a pessoa física ou jurídica em débito com o sistema de seguridade social não poderá receber benefícios ou incentivos fiscais, exceto aqueles que se referem aos contratos vigentes.
- Ⓒ Compete ao governador do Estado do Pará enviar à Assembleia Legislativa o plano plurianual, o projeto de lei de diretrizes orçamentárias e as propostas de orçamento, previstos na constituição estadual.
- Ⓓ A receita do estado do Pará inclui tanto os impostos relativos à circulação de mercadorias quanto os impostos sobre serviços de qualquer natureza.

RASCUNHO