



NÍVEL SUPERIOR

CARGO 1: AUDITOR FISCAL

CADERNO A

MANHÃ



LEIA COM ATENÇÃO AS INSTRUÇÕES ABAIXO.

- 1 Ao receber este caderno, confira atentamente se o tipo de caderno — Caderno A — coincide com o que está registrado em sua folha de respostas. Em seguida, verifique se ele contém cento e vinte itens, correspondentes às provas objetivas, corretamente ordenados de 1 a 120.
- 2 Caso o caderno esteja incompleto ou tenha qualquer defeito, solicite ao fiscal de sala mais próximo que tome as providências cabíveis.
- 3 Recomenda-se não marcar ao acaso: em cada item, se a resposta divergir do gabarito oficial definitivo, o candidato receberá pontuação negativa, conforme consta em edital.
- 4 Não utilize lápis, lapiseira, borracha e(ou) qualquer material de consulta que não seja fornecido pelo CESPE/UnB.
- 5 Não se comunique com outros candidatos nem se levante sem autorização do chefe de sala.
- 6 A duração das provas é de **três horas e trinta minutos**, já incluído o tempo destinado à identificação — que será feita no decorrer das provas — e ao preenchimento da folha de respostas.
- 7 Você deverá permanecer obrigatoriamente em sala por, no mínimo, uma hora após o início das provas.
- 8 Ao terminar as provas, chame o fiscal de sala mais próximo, devolva-lhe a sua folha de respostas e deixe o local de provas.
- 9 A desobediência a qualquer uma das determinações constantes no presente caderno ou na folha de respostas poderá implicar a anulação das suas provas.

AGENDA

- I 30/5/2006, após as 19 h (horário de Brasília) – Gabaritos oficiais preliminares das provas objetivas: Internet — www.cespe.unb.br/concursos/preflimeira2006.
- II 31/5/2006 e 1.º/6/2006 – Recursos (provas objetivas): exclusivamente no Sistema Eletrônico de Interposição de Recurso, Internet — www.cespe.unb.br/concursos/preflimeira2006, mediante instruções e formulários que estarão disponíveis nesse endereço.
- III 19/6/2006 – Resultados finais das provas objetivas e do concurso: Jornal Oficial do Município de Limeira e Internet — www.cespe.unb.br/concursos/preflimeira2006.

OBSERVAÇÕES

- Não serão objeto de conhecimento recursos em desacordo com o item 12 do Edital n.º 1/2006 – PREFEITURA MUNICIPAL DE LIMEIRA, de 13/4/2006.
- Informações adicionais: telefone 0(XX) 61 3448-0100; Internet — www.cespe.unb.br/concursos/preflimeira2006.
- É permitida a reprodução deste material apenas para fins didáticos, desde que citada a fonte.

- De acordo com o comando a que cada um dos itens de 1 a 120 se refira, marque, na **folha de respostas**, para cada item: o campo designado com o código **C**, caso julgue o item **CERTO**; ou o campo designado com o código **E**, caso julgue o item **ERRADO**. A ausência de marcação ou a marcação de ambos os campos não serão apenadas, ou seja, não receberão pontuação negativa. Para as devidas marcações, use a **folha de respostas**, único documento válido para a correção das suas provas.
- Nos itens que avaliam **Noções de Informática**, a menos que seja explicitamente informado o contrário, considere que todos os programas mencionados estão em configuração-padrão, em português, que o *mouse* está configurado para pessoas destros e que expressões como clicar, clique simples e clique duplo referem-se a cliques com o botão esquerdo do *mouse*. Considere também que não há restrições de proteção, de funcionamento e de uso em relação aos programas, arquivos, diretórios e equipamentos mencionados.

CONHECIMENTOS BÁSICOS

1 O lado perverso do consumo excessivo é que ele se
restringe a uma minoria concentrada principalmente nos
países ricos. Apenas 1,7 bilhão dos atuais 6,3 bilhões de
4 pessoas que habitam o planeta têm hoje condições de
consumir além das necessidades básicas. Ainda assim, a
demanda por matéria-prima e energia cresce, precipitando o
7 mundo na direção de um impasse civilizatório: ou a
sociedade de consumo enfrenta o desafio da sustentabilidade
ou teremos cada vez menos água doce e limpa, menos
10 florestas, menos solos férteis, menos espaço para a
monumental produção de lixo e outros efeitos colaterais
desse modo suicida de desenvolvimento.

André Trigueiro. *Mundo sustentável*. São Paulo: Globo, 2005, p. 22.

Em relação ao texto acima, julgue os itens a seguir.

- 1 A substituição de “se restringe” (ℓ.1-2) por **é restrito** mantém a correção gramatical e a informação original do período.
- 2 Na linha 3, a palavra “bilhão” deveria ser flexionada no plural — **bilhões** — para concordar com a parte fracionária do número “1,7”.
- 3 A substituição de “Ainda assim” (ℓ.5) por **Mesmo assim** prejudica a informação do texto e a correção gramatical do período.
- 4 O emprego de sinal de dois-pontos após “civilizatório” (ℓ.7) indica a inserção de outra voz que não a do autor no texto.
- 5 Nas linhas 9 e 10, a repetição da palavra “menos” provoca o efeito de sentido de ênfase.
- 6 De acordo com o texto, “Apenas 1,7 bilhão” de pessoas são responsáveis pela precipitação do “mundo na direção de um impasse civilizatório” (ℓ.7).

1 A maioria dos brasileiros simplesmente não tem a
opção de consumir mais do que o necessário. De acordo com
a Pesquisa de Orçamento familiar (POF/2003) do IBGE,
4 considerando a soma dos rendimentos e das despesas das
famílias brasileiras, somente naquelas em que a faixa média
de renda ultrapassa os 4 mil reais por mês há algum dinheiro
7 sobrando. Nesses casos, tem-se a opção de consumir algo
mais com relativo conforto. Estamos falando de uma minoria
estimada em 17 milhões de brasileiros. Por essa conta,
10 165 milhões estariam excluídos da farra consumista, mas não
isentos do bombardeio de anúncios que abrem o apetite para
sonhos de consumo irrealizáveis e que, muitas vezes, geram
13 ansiedade, angústia e frustração. A resignação é o caminho.
A depressão, um risco. A violência, uma possibilidade.

Idem, ibidem, p. 22-3.

Com referência ao texto acima, julgue os itens que se seguem.

- 7 Estaria igualmente correto o período se a forma verbal “tem” (ℓ.1) estivesse no plural — **têm**.
- 8 A contração da preposição **em** com **aquelas**, em “naquelas” (ℓ.5), justifica-se por complementar “há algum dinheiro sobrando” (ℓ.6-7).
- 9 De acordo com os dados do texto, menos de um décimo da população brasileira participa da “farra consumista” (ℓ.10).
- 10 Infere-se das idéias do texto que os anúncios publicitários de consumo irrealizável provocam ansiedade, angústia e frustração nos excluídos do mundo consumista.
- 11 Na linha 14, o emprego de vírgulas após “depressão” e após “violência” justifica-se por isolar elementos de uma enumeração.
- 12 Os três últimos períodos do texto mantêm com o antecedente uma relação de conseqüência.

1 A banalização do consumo remete a um
questionamento sobre o papel da mídia na sociedade
moderna. Nos primórdios da publicidade, os profissionais do
4 ramo se preocupavam apenas em explicar o que era e para
que servia determinado produto. Hoje, isso mudou bastante,
como explica Rolf Jensen, autor do livro **A Sociedade do**
7 **Sonho**: “Os produtos do futuro deverão apelar para os
nossos corações, e não para nossas cabeças. Quando isso
acontecer, o modelo que prevalecerá não será mais o da
10 Sociedade da Informação, mas o da Sociedade dos Sonhos”.

Há algo de inquietante nessa previsão. Ricos e
pobres (muito mais pobres do que ricos) são seduzidos pelos
13 mesmos apelos vorazes de consumo, mas não respondem da
mesma maneira a esses apelos: quem tem dinheiro banca o
“sonho”; quem não tem lida com o fracasso, com a frustração
16 e com a angústia de viver em uma sociedade de consumo que
privilegia não o que se é, mas o que se tem.

Idem, ibidem, p. 24-5 (com adaptações).

Com relação ao texto acima, julgue os itens a seguir.

- 13 O emprego da vírgula após “publicidade” (ℓ.3) justifica-se por separar elementos de mesma classe gramatical.
- 14 O sentido e a correção gramatical do texto seriam mantidos caso o trecho “Nos primórdios da publicidade, os profissionais do ramo” (ℓ.3-4) fosse reescrito da seguinte forma: Nos primórdios da publicidade, seus profissionais.
- 15 Na linha 4, o emprego de preposição na expressão “apenas em explicar” justifica-se pela regência de “preocupavam”.
- 16 O pronome “isso” (ℓ.5) refere-se a “banalização do consumo” (ℓ.1).
- 17 No primeiro parágrafo, o emprego do sinal de dois-pontos e de aspas indica a citação de discurso que não pertence ao do autor do texto.
- 18 O sentido original e a correção gramatical do texto seriam mantidos caso o trecho “(muito mais pobres do que ricos)” (ℓ.12) fosse eliminado.
- 19 O sinal de dois-pontos na linha 14 introduz uma enumeração. Por esse motivo, a vírgula na linha 17 poderia ser corretamente substituída por ponto-e-vírgula.
- 20 Contextualmente, “sonho” (ℓ.15) opõe-se às idéias representadas pelos substantivos do trecho “com o fracasso, com a frustração e com a angústia” (ℓ.15-16).

A secretaria de fazenda da prefeitura de um município arrecada os impostos A = iluminação noturna e B = manutenção do sistema de esgotos e águas pluviais, de competência municipal. Considere que esses impostos têm valores únicos por domicílio, sendo de R\$ 28,00 o valor mensal referente ao imposto A e de R\$ 45,00 o valor mensal referente ao imposto B. A arrecadação referente a 23 desses valores rendeu ao município o montante de R\$ 780,00. Com referência a essa situação e a essas 23 quantias arrecadadas, julgue os itens que se seguem.

- 21 Se, das 23 quantias arrecadadas, x referem-se ao imposto A e y , ao imposto B, então $x \times y > 100$.
- 22 Dessas 23 quantias arrecadadas, o total referente ao imposto B é superior ao referente ao imposto A.

A despesa mensal de uma empresa com cada um de seus empregados de nível superior, incluindo salário e encargos sociais, é igual a R\$ 2.500,00. O total dessas despesas com esse pessoal, mensalmente, é um valor superior a R\$ 18.000,00 e inferior a R\$ 26.000,00. Por motivos de economia, essa despesa deverá ficar entre R\$ 13.000,00 e R\$ 17.000,00 mensalmente e, para isso, a empresa terá de demitir alguns desses profissionais. Com base nessas informações, julgue os itens seguintes.

- 23 As informações do texto são suficientes para se concluir que a empresa terá de demitir mais de 3 empregados.
- 24 Dependendo da quantidade de empregados, a menor economia que a empresa fará com as demissões é de R\$ 5.000,00 e a maior, de R\$ 10.000,00.

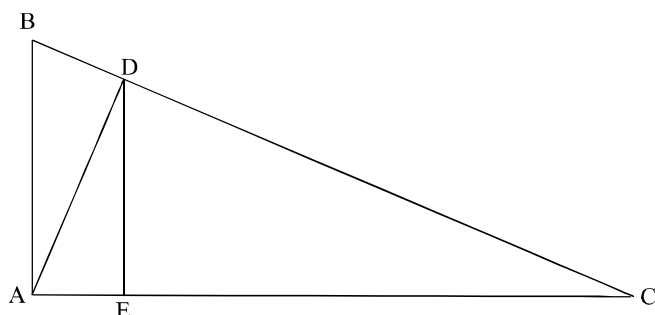
RASCUNHO

O número 52 foi escrito como a soma dos números inteiros positivos A, B, C, D e E. Sabe-se que os números A, C e D estão em progressão aritmética crescente e a média aritmética desses números é igual a 6. Sabe-se também que B, D e E estão em progressão geométrica crescente e que a média geométrica desses números é igual a 8 (isto é, $B \times D \times E = 8^3$). Julgue os itens subseqüentes, com relação a esses números.

- 25 $A > B$.
- 26 $A + C$.
- 27 $A + B + C + D > E$.

Considerando que a taxa de inflação no período de três anos foi de 25% e que determinado capital tenha sido aplicado, em um fundo de investimentos, nesse período, julgue os itens a seguir.

- 28 Se, nesse período, a taxa real de juros foi de 20%, então a taxa de juros aparente foi inferior a 60%.
- 29 Se, nesse período, a taxa de juros aparente foi de 45%, então a taxa real de juros nesse período foi superior a 18%.



Na figura acima, o triângulo ABC é retângulo e o ângulo BAC é reto. O cateto AB mede 6 cm e AC, 8 cm. Do vértice A, traçou-se um segmento perpendicular ao lado BC, formando-se os triângulos retângulos ABD e ADC. Do vértice D, traçou-se um novo segmento, perpendicular ao lado AC, obtendo-se os triângulos retângulos ADE e CDE. Com relação a esses triângulos, julgue os itens que se seguem.

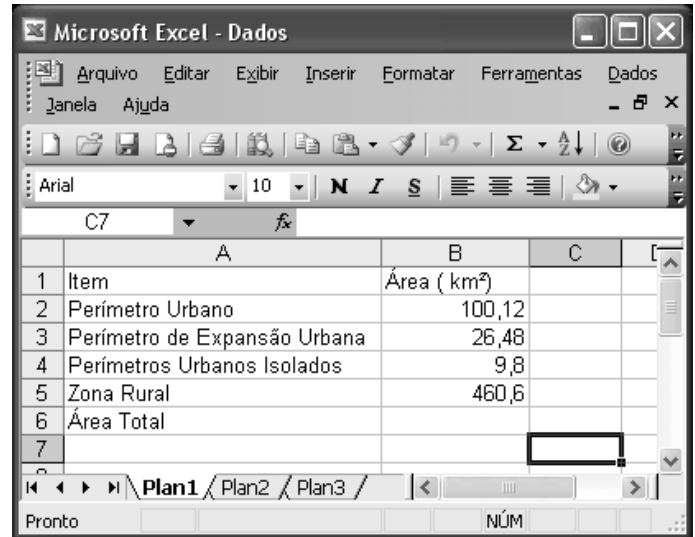
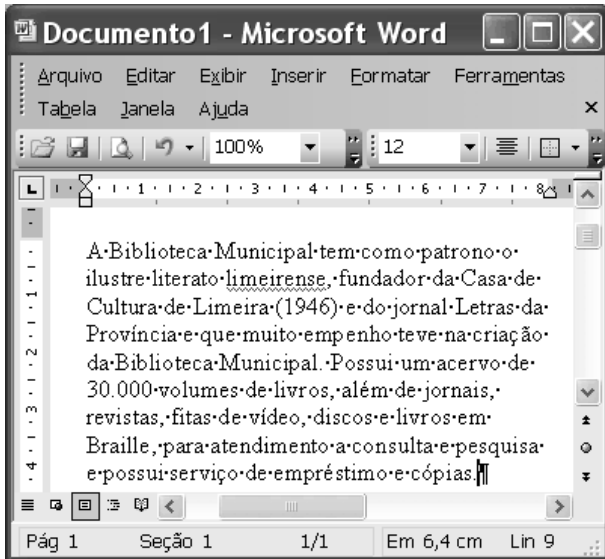
- 30 O perímetro do triângulo ABD é superior a 14 cm.
- 31 A área do trapézio ABDE é superior a 15 cm².
- 32 Os comprimentos dos segmentos AB, AD e DE estão em progressão geométrica.

tipo	quantidade (%)
automóvel	*
caminhonete	11
ônibus	8
caminhão	*
microônibus	5
outros veículos	*
total	100

A tabela acima descreve, em porcentagens, as quantidades dos veículos da prefeitura de um município. Desconhece-se a quantidade de automóveis, de caminhões e de “outros veículos”, que são as ambulâncias e os destinados à manutenção e conservação das estradas municipais; sabe-se, entretanto, que as porcentagens de automóveis, de caminhões e de “outros veículos”, são números diretamente proporcionais a 9, 4 e 6, respectivamente. Julgue os itens seguintes, referentes à frota de veículos desse município.

- 33 A quantidade de automóveis da frota desse município é superior ao dobro da quantidade de caminhões.
- 34 Os “outros veículos” correspondem a mais de 23% da frota municipal.
- 35 A prefeitura possui mais caminhonetes e microônibus que caminhões.



RASCUNHO

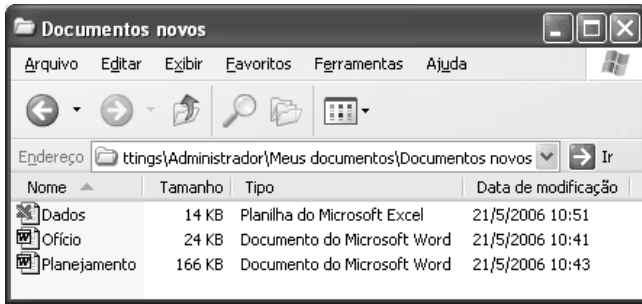


Considerando a figura acima, que ilustra uma janela do Word 2003 contendo um documento em processo de edição, julgue os próximos itens.



- 36 Na situação em que se encontra a janela mostrada, é correto inferir que o documento em edição está associado a um arquivo de nome “Documento1.doc”, que está armazenado na pasta Meus documentos.
- 37 Para se eliminar o sublinhado da palavra “limeirense” — limeirense —, simultaneamente, alterar para negrito a fonte em uso nessa palavra, é suficiente realizar o seguinte procedimento: aplicar um clique duplo na referida palavra; pressionar e manter pressionada a tecla **Ctrl**; teclar **N**; liberar a tecla **Ctrl**.
- 38 No menu **Arquivo**, existe recurso que permite configurar as margens superior, inferior, esquerda e direita da página, tal que essas margens podem ser definidas com diferentes tamanhos e não conterão texto quando o documento for impresso.
- 39 Sabendo-se que o ponto de inserção está posicionado no final do parágrafo mostrado do documento, então, para selecionar e excluir todo o parágrafo mencionado, é suficiente realizar o seguinte procedimento: pressionar e manter pressionada a tecla **Shift**; teclar **Home**; liberar a tecla **Shift**; teclar **Delete**.


A figura acima mostra uma janela do Excel 2003, contendo uma planilha, em processo de edição, com dados contendo as áreas, em km², de diversos setores de um município. Com relação a essa janela e ao Excel 2003, julgue os itens que se seguem.






- 40 Para se calcular a soma dos conteúdos das células de B2 a B5, e pôr o resultado na célula B6, é suficiente clicar a célula B6, digitar =soma(B2:B5) e, em seguida, teclar **Enter**.
- 41 Para se aplicar negrito aos conteúdos das células A1 e B1, é suficiente realizar a seguinte seqüência de ações: clicar a célula A1; pressionar e manter pressionada a tecla **Shift**; clicar a célula B1, liberando, então, a tecla **Shift**; clicar o botão **N**.
- 42 Para se formatar como itálico os conteúdos das células B1 e A6, sem alterar o texto nessas células, é suficiente realizar a seguinte seqüência de ações: clicar a célula B1; pressionar simultaneamente as células **Ctrl** e **I**; clicar o botão ; clicar a célula A6; clicar novamente o botão .



A figura acima mostra uma janela do Windows XP, que contém alguns arquivos dos tipos Word e Excel. Com relação a essa janela e ao Windows XP, julgue os itens que se seguem.

43 Para se abrir o documento denominado Ofício, é suficiente clicar  Ofício e, em seguida, clicar .

44 Para se copiar o arquivo denominado Dados para outra pasta, é suficiente realizar a seguinte seqüência de ações: com o botão direito do mouse, clicar  Dados; na lista de opções que surge em decorrência dessa ação, clicar Copiar; fazer que seja exibida janela correspondente à pasta para a qual o arquivo deve ser copiado; clicar o menu Editar desta janela; na lista de opções que surge em decorrência dessa ação, clicar Colar.

45 A seguinte seqüência de ações descreve corretamente uma forma de se fazer uma cópia de segurança do arquivo denominado Planejamento para um disquete de 3½": clicar o ícone  Planejamento; clicar ; clicar , fazendo então que seja exibida a Desktop; na Desktop, clicar o ícone denominado Meu computador; clicar o ícone correspondente à unidade A: e, em seguida, pressionar simultaneamente as teclas  e .

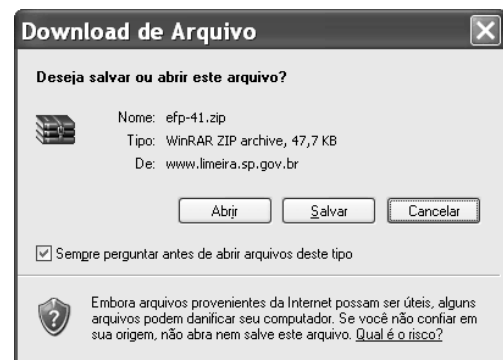


Considerando a figura acima, que ilustra uma janela do Internet Explorer 6 (IE6), julgue os itens seguintes.

46 Existe versão do IE6 que pode ser executada em computadores PC cujo sistema operacional é o Windows XP.

47 O IE6 permite o acesso a páginas web na Internet, como a ilustrada na figura acima, cujos conteúdos podem ser utilizados na elaboração de documentos Word, planilhas Excel.

48 Janelas do tipo mostrado a seguir podem ser executadas a partir de recursos disponibilizados por navegadores de Internet, de cujo exemplo é o IE6. A janela abaixo demonstra a possibilidade de se carregar arquivos disponíveis na Internet para o computador de um usuário que esteja conectado à rede mundial de computadores.



49 Recursos de *hyperlinks* disponibilizados em determinada página web permitem que diferentes páginas web sejam acessadas e visualizadas na área da página do IE6.

50 Um computador conectado à Internet por meio de um provedor de acesso pode ter acesso também a uma *intranet*. Em geral, o acesso a *intranets* é restrito a usuários autorizados que devem comprovar autenticidade, normalmente, por meio de senha.

CONHECIMENTOS ESPECÍFICOS

João, sócio-gerente da empresa Impressora a Jato Ltda., mantém, dentro de sua casa, os documentos fiscais dessa empresa. Pedro, auditor-fiscal, em cumprimento de seus deveres funcionais, deveria examinar esses documentos, que João se recusou a apresentar. Ante a recusa de João, Pedro requisitou força policial para ingressar na casa de João, a fim de proceder a tal exame.

Com base nessa situação hipotética e nos direitos e garantias fundamentais estabelecidos na Constituição Federal, julgue os seguintes itens.

- 51** Pedro poderá ingressar na casa de João, sem o consentimento deste, desde que o faça durante o dia.
- 52** Em face da inviolabilidade da correspondência, garantida pela Constituição Federal, Pedro, a pretexto de instruir o processo administrativo-fiscal, não pode examinar a correspondência pessoal de João.
- 53** O *habeas data* é o remédio constitucional que João poderá utilizar para impedir qualquer abuso de poder de Pedro no exercício de suas atribuições funcionais.

Acerca da organização dos poderes públicos previstos na Constituição Federal, julgue os itens a seguir.

- 54** A Câmara dos Deputados compõe-se de representantes dos estados, enquanto o Senado Federal, de representantes do povo.
- 55** A Constituição Federal proíbe a edição de medida provisória sobre direito penal e direito processual penal.

O chefe do almoxarifado de um município do estado de São Paulo, após fazer inventário dos bens móveis da edilidade, constatou que três automóveis estavam inservíveis para a administração. Com fundamento no inventário elaborado, o prefeito do município determinou a compra de outros automóveis e a venda dos três veículos inservíveis.

Considerando essa situação hipotética e as normas de licitação da administração pública, julgue os itens que se seguem.

- 56** O leilão é a modalidade de licitação adequada para o município vender os três automóveis inservíveis para a administração.
- 57** Para comprar os novos veículos, o município deverá utilizar a modalidade de concorrência definida pela lei de licitações como a modalidade de licitação entre interessados devidamente cadastrados ou que atendam a todas as condições exigidas para cadastramento, até o terceiro dia anterior à data do recebimento das propostas e observada a necessária qualificação.

De acordo com a Constituição Federal de 1988, julgue o seguinte item.

- 58** Os concursos públicos devem ter prazo de validade de até três anos, prorrogável uma única vez, por igual período.

Marcelo, Joaquim e Paulo são servidores públicos estaduais. Marcelo e Joaquim são professores, e Paulo, auditor-fiscal. Os três prestaram novos concursos públicos para a esfera federal.

Considerando essa situação hipotética e as regras estabelecidas na Constituição Federal quanto à acumulabilidade remunerada de cargos públicos, julgue os próximos itens.

- 59** Havendo compatibilidade de horários, Marcelo e Joaquim poderão assumir o cargo de médico na esfera federal, acumulando-o com o cargo de professor da esfera estadual.
- 60** Paulo não poderá exercer um cargo de professor na esfera federal, por serem constitucionalmente incompatíveis os cargos de auditor-fiscal e de professor.

A respeito de base de cálculo, julgue os itens subseqüentes.

- 61** Na venda de produtos importados para industrialização, o imposto sobre produtos industrializados (IPI) não integrará a base de cálculo do imposto sobre operações relativas à circulação de mercadorias e sobre prestações de serviços de transporte interestadual e intermunicipal e de comunicação (ICMS).
- 62** A base de cálculo do ICMS corresponde ao valor da operação, somado ao próprio ICMS, o que não ofende o princípio constitucional da não-cumulatividade.
- 63** Nas vendas financiadas, os encargos financeiros integram a base de cálculo do ICMS.

O estado de São Paulo, preocupado com a saída de empresas em face dos benefícios fiscais concedidos por outros estados, instituiu o programa Retorne Agora, que concede prazo de dois anos para o recolhimento do ICMS, isenção do Imposto sobre Serviços (ISS) e anistia dos débitos do Imposto Sobre a Propriedade de Veículos Automotores (IPVA).

Em face dessa situação hipotética, julgue os itens a seguir.

- 64** É legítima a posição do estado de São Paulo, no que diz respeito ao ICMS, desde que os benefícios sejam semelhantes ou em montante inferior aos concedidos pelos demais estados.
- 65** Em razão da competência legislativa concorrente, a anistia do IPVA só será possível caso haja concordância do município.
- 66** O imposto sobre serviços de qualquer natureza (ISSQN) é de competência municipal e, excepcionalmente, poderá ter benefício fiscal concedido pelo estado, haja vista os fins sociais visados.

Acerca do ICMS, julgue os itens seguintes.

- 67** Em atendimento ao princípio da não-cumulatividade, o comerciante deverá estornar o crédito do ICMS quando vender a mercadoria por preço inferior ao da aquisição.
- 68** Apesar de não se destinar à circulação de mercadoria, o comerciante poderá creditar-se do ICMS de bens destinados ao ativo fixo.
- 69** Exceto quando houver lei autorizando o aproveitamento, o comerciante não tem direito ao crédito do ICMS quando a mercadoria é isenta na saída.

Determinada sociedade comercial prestadora de serviço de mão-de-obra de construção civil, com sede em Caraguatatuba – SP, foi contratada para construção de estrada de rodagem no município de Bertoga – SP; o respectivo canteiro de obras foi montado no município de Guarujá – SP.

Com base nessa situação hipotética, julgue os próximos itens.

- 70** O ISSQN é devido ao município de Caraguatatuba – SP, onde se encontra a sede da empresa.
- 71** O município de Guarujá poderá efetuar a cobrança do ISSQN, já que a sede da empresa é identificada pelo local onde se encontram alocados material e mão-de-obra para a prestação de serviço, em atendimento a legislação local.
- 72** Havendo instituição de ISSQN apenas por um dos municípios referidos, este é legitimado para cobrança do tributo, independentemente da situação, sede, canteiro de obra ou local de prestação.
- 73** A sociedade poderá optar por recolher o ISSQN no município que oferecer menor alíquota, sendo em tudo aplicável o princípio da extraterritorialidade.

Com relação ao direito tributário e à legislação tributária, julgue os itens a seguir.

- 74** O transporte realizado dentro de um único município gera a obrigação de recolhimento do ISSQN, ficando afastada tal incidência tributária para dar ensejo ao recolhimento do ICMS, caso o transporte abranja mais de um município.
- 75** A lista de serviços anexa ao Decreto-lei n.º 406/1968 pode ser interpretada extensivamente para abranger atividades equiparadas.
- 76** A prestação de serviços sob a forma pessoal poderá ser tributada pelo ISS, mas a base de cálculo não compreende a importância paga a título de remuneração do próprio trabalho.
- 77** O município poderá estabelecer alíquota fixa do ISS sobre o rendimento bruto de sociedade de advogados integrada por dois sócios.
- 78** É legítima a cobrança de ICMS decorrente da gravação de filmes em fitas para sua distribuição aos cinemas e também da comercialização no varejo.

Quanto ao imposto sobre transmissão *causa mortis* e doação de quaisquer bens ou direitos (ITCD), julgue os itens subseqüentes.

- 79** É legítima a incidência do ITCD no inventário por morte presumida.
- 80** É legítima a cobrança de imposto de transmissão *inter vivos* quando, na partilha de separação judicial, houver desigualdade.

A respeito do direito tributário e à legislação tributária, julgue os seguintes itens.

- 81** Os atos comerciais que modifiquem ou possam vir a modificar a situação patrimonial da pessoa jurídica devem ser lançados, dia a dia, no livro diário, que pode ser substituído por fichas, tratando-se de livro fiscal obrigatório.
- 82** De regra, a apuração do ICMS é realizada após a escrituração dos livros fiscais de entrada, saída e apuração, o que pode levar ao crédito de tal tributo em favor da empresa.
- 83** Empresas de pequeno porte poderão ter tratamento diferenciado, inclusive na escrituração fiscal, sendo possível lei federal estabelecer o recolhimento de todos os tributos federais, estaduais e municipais mediante pagamento mensal unificado.

Médicos cardiologistas estabeleceram-se em sociedade comercial para, por meio dela, prestarem seus serviços, passando a recolher o ISSQN mediante contribuições fixas, durante seis anos consecutivos. Após regular fiscalização tributária, o município passou a cobrar tal tributo por percentagem fixa, autuando a sociedade pelos débitos anteriores.

Considerando essa situação hipotética, julgue os itens que se seguem.

- 84** O fisco municipal pode cobrar o tributo como feito, em virtude de a responsabilidade dos médicos não ser pessoal, mas empresarial.
- 85** O prazo decadencial do direito do município para cobrar o ISSQN é de cinco anos e tem seu termo inicial contado do primeiro dia útil do exercício seguinte àquele em que ocorreu o fato gerador do tributo.

Julgue os itens subseqüentes.

- 86** A locação de computadores para utilização em serviços de criação de propaganda está sujeita à incidência do ISSQN.
- 87** Obras complementares de sinalização de rodovias não são suscetíveis da cobrança de ISSQN, por serem essenciais à segurança do tráfego.
- 88** A empresa de construção civil é contribuinte do ISSQN e os bens adquiridos para integrar seu ativo fixo estão sujeitos ao recolhimento do ICMS no estado de origem, não podendo o estado de destino, onde é realizada a obra, proceder a cobrança do imposto.

Uma indústria adquire tomates de pequenos produtores rurais não-inscritos como contribuintes do ICMS, industrializando-os e vendendo-os na forma de extrato.

Com base nessa situação hipotética, julgue os itens a seguir.

- 89** A sociedade comercial deverá recolher o tributo incidente na operação de compra e venda dos tomates, o que se denomina substituição tributária para trás.
- 90** Estando o extrato de tomate sujeito a substituição tributária, a restituição do ICMS só será possível quando o fato gerador posterior não ocorrer por circunstância incerta e alheia ao conhecimento do substituto.

Julgue os itens que se seguem, acerca das normas que regem o direito civil pátrio.

- 91** Considere que a lei X tenha limitado em 1%, ao mês, a taxa de juros a ser cobrada pelas instituições financeiras. Posteriormente, a lei Y revogou a lei X, ao estabelecer que a taxa-limite seria de 2%. Entretanto a lei Y perdeu a vigência. Nessa situação, a lei X se restaurará, devendo as instituições financeiras obedecer às suas disposições quanto à aplicação da taxa de juros.

- 92** Considere a seguinte situação hipotética.

Daniel recebeu por herança de sua avó um imóvel rural. Ao completar 16 anos, ele decidiu administrar pessoalmente o bem herdado e firmou contrato de arrendamento rural com Severino, que desconhecia a menoridade civil do primeiro contratante. No curso do contrato, Daniel alienou o imóvel arrendado sem respeitar o direito de preferência do arrendatário.

Nessa situação, Severino deverá ajuizar ação de perdas e danos contra os genitores de Daniel, pois os contratos firmados por este são nulos de pleno direito.

- 93** Considere que Cirilo tenha constituído Antônio como advogado para ajuizar ação de reintegração de posse. Ambos decidiram, de comum acordo, que os honorários de sucesso seriam pagos na data do trânsito em julgado da referida demanda, que ocorreu no dia 17 de janeiro de 2006. Entretanto, Cirilo não efetuou o pagamento devido, sob o argumento de que o processo teria sido muito célere e que, por isso, o advogado não teve muito trabalho. Nesse caso, Antônio somente poderá ajuizar ação cobrando seus honorários até janeiro de 2011.

- 94** Considere a seguinte situação hipotética.

Manuel emprestou a Soraia a quantia de R\$ 800,00. Alguns dias antes da data acordada para pagamento, Soraia ofereceu a Manuel, a título de quitação da dívida uma televisão, pois não dispunha do montante em dinheiro, o que foi aceito por Manoel. Nessa situação, houve novação da obrigação.

Quanto ao direito financeiro, julgue os itens seguintes.

- 95** A União detém a competência exclusiva para legislar sobre direito financeiro.
- 96** Os programas e projetos estatais somente poderão ser implementados após as respectivas inclusões na lei orçamentária anual.
- 97** As receitas auferidas pelo Estado, no que se refere a cobrança de impostos, taxas e contribuições de melhoria, são consideradas receitas correntes.
- 98** Estará sujeito a intervenção federal o município que, sem justo motivo, por mais de dois anos consecutivos, se abster de pagar a dívida pública fundada, assim considerada aquela com prazo para pagamento superior a 12 meses.

Com fundamento na doutrina e na legislação contábil, julgue os itens a seguir.

- 99** De acordo com a legislação das sociedades por ações, as demonstrações financeiras obrigatórias para todas as companhias fechadas são o balanço patrimonial, a demonstração do resultado do exercício, a demonstração das mutações patrimoniais e a demonstração das origens e aplicações de recursos.

- 100** A retenção de lucros justificada por orçamento de capital pela companhia não pode ser constituída em detrimento do pagamento do dividendo obrigatório. Se os lucros não forem destinados a reservas, deverão ser distribuídos como dividendos.

- 101** Pelo critério da contraposição de receitas e despesas, todos os custos e despesas incorridos em relação à receita realizada de um determinado período devem ser registrados nesse mesmo período, incluindo-se provisões para revisões, reposições e garantias asseguradas em contratos de fornecimento de bens e prestação de serviços.

- 102** Na elaboração da demonstração das origens e aplicações de recursos, são consideradas origens de recursos a integralização de capital com o aproveitamento de lucro apurado no último exercício e a conversão de obrigações vencidas e não-liquidadas em empréstimos vencíveis a curto prazo.

- 103** Considere a seguinte situação hipotética.

Uma empresa com estoque médio de R\$ 1.000.000,00 apurou custo das vendas de R\$ 5.000.000,00. As vendas foram de R\$ 10.000.000,00. Para aumentar as vendas em 20%, a empresa teve de reduzir sua margem de lucro para 40%.

Nessa situação, se mantido o mesmo quociente de rotação do estoque médio, conclui-se que o estoque médio será de R\$ 1.440.000,00.

RASCUNHO

Com relação à auditoria, seus princípios, conceitos e normas aplicáveis, julgue os itens subseqüentes.

- 104** Uma tendência recente, que constitui um novo desafio para a auditoria, sob o impacto das tecnologias da informação, é reduzir os prazos de realização dos trabalhos e emissão de opinião, para que as demonstrações contábeis possam ser divulgadas prontamente, já com o parecer dos auditores.
- 105** Entre os procedimentos a serem adotados pela auditoria interna, é relevante identificar as contingências passivas — administrativas ou judiciais — e determinar que todas estejam provisionadas, em consonância com o princípio da prudência.
- 106** Segundo as normas de auditoria interna adotadas no Brasil, para o planejamento dos trabalhos é relevante considerar se a entidade é administrada por sócio ou gerente profissional, se é estatal ou privada e se tem auditoria independente ou não.
- 107** Na dúvida sobre a regularidade em uma operação de aquisição de mercadoria pela entidade auditada, o auditor deverá, entre outros aspectos, confrontar o documento fiscal com o pedido, a autorização e os procedimentos de compra, verificar a autenticidade e o cumprimento das formalidades relativas ao referido documento, e comparar as características da transação com as usuais da empresa em questão.
- 108** Para fazer face a um maior grau de risco associado à verificação de uma conta, o auditor deverá reunir um maior número de provas ou provas mais fidedignas. Entretanto, os riscos tendem a ser minimizados quando os controles internos são mais eficazes.
- 109** Considere a seguinte situação hipotética.
- Um auditor constatou, ao verificar os saldos das diversas contas de uma empresa, que contas a receber incluía alguns adiantamentos de clientes.
- Nessa situação, o auditor deverá recomendar que, para fins de apresentação das demonstrações, a empresa efetue um lançamento de ajuste, a débito de adiantamento de clientes e a crédito de contas a receber.
- 110** Os riscos de amostragem associados com testes substantivos são: de aceitação incorreta e de rejeição correta. O primeiro se relaciona à eficiência da auditoria; o segundo, à eficácia da auditoria.
- 111** Um especialista que seja empregado do auditor independente não deve ser considerado como auxiliar do processo de auditoria. Nessa circunstância, o auditor independente não precisa avaliar a competência profissional desse especialista a cada trabalho realizado.

Com base na doutrina e na legislação sobre finanças públicas, julgue os itens a seguir.

- 112** Considere a seguinte situação ocorrida em um país.

	período 1	período 2
PIB (R\$)	1.500	1.800
Imposto (R\$)	75	105

Do ponto de vista da produtividade do imposto, é correto afirmar que o coeficiente de elasticidade da receita em relação à renda foi de 50%.

- 113** Para atender ao disposto na Lei de Responsabilidade Fiscal, quando um investimento pretendido ultrapassar o exercício financeiro objeto do projeto de lei orçamentária, e não estiver incluído no plano plurianual, será necessária uma outra lei que autorize a sua inclusão.

- 114** A indivisibilidade no consumo dos bens públicos, decorrente do seu caráter de não-exclusão de qualquer indivíduo, resulta em que o consumo de cada indivíduo é igual ao total da produção.

- 115** A Constituição Federal consagra a atividade regulatória do Estado, com ênfase para a função de planejamento, que tem caráter supletivo para o setor público e determinante para o setor privado.

RASCUNHO

Uma pesquisa de preços de determinado produto foi realizada para o planejamento do leilão de bens penhorados pela justiça. A tabela ao lado mostra a distribuição de 200 preços desse produto. Com base nessas informações e na tabela, julgue os itens a que se seguem.

116 Dos preços observados, 95% são menores ou iguais a R\$ 18 mil.

117 A média dos preços observados pela pesquisa está entre R\$ 13 mil e R\$ 14 mil.

118 A classe modal está entre R\$ 14 mil e R\$ 16 mil.

119 O preço mediano é igual a R\$ 15 mil.

120 O primeiro e o terceiro quartis da distribuição dos preços são, respectivamente, iguais a R\$ 14 mil e R\$ 18 mil.

faixa de preços P (em R\$ mil)	número de casos
$10 < P \leq 12$	70
$12 < P \leq 14$	60
$14 < P \leq 16$	40
$16 < P \leq 18$	20
$18 < P \leq 20$	10
total	200

RASCUNHO

