

# Tribunal de Justiça do Estado do Pará

## CONCURSO PÚBLICO

Nível Superior

Aplicação: 7/5/2006

Cargo: **13**

**ANALISTA JUDICIÁRIO**

**Área: Apoio Especializado/Especialidade:  
Medicina do Trabalho**



**MANHÃ**

**Caderno 25**

**Leia com atenção as instruções abaixo.**

- 1** Ao receber este caderno, confira atentamente se o tipo de caderno — **CADERNO 25** — coincide com o que está registrado em sua folha de respostas. Em seguida, verifique se ele contém quarenta questões, correspondentes às provas objetivas, corretamente ordenadas de 1 a 40, seguidas da prova discursiva.
- 2** Caso o caderno esteja incompleto ou tenha qualquer defeito, solicite ao fiscal de sala mais próximo que tome as providências cabíveis.
- 3** O espaço para rascunho da prova discursiva é de uso opcional; não contará, portanto, para efeito de avaliação.
- 4** Não utilize lápis, lapiseira, borracha e(ou) qualquer material de consulta que não seja fornecido pelo CESPE/UnB.
- 5** Não serão distribuídas folhas suplementares para rascunho nem para texto definitivo.
- 6** Não se comunique com outros candidatos nem se levante sem autorização do chefe de sala.
- 7** A duração das provas é de **quatro horas**, já incluído o tempo destinado à identificação — que será feita no decorrer das provas —, ao preenchimento da folha de respostas e à transcrição do texto definitivo da prova discursiva para a folha de texto definitivo.
- 8** Na prova discursiva, não será avaliado texto escrito a lápis, texto escrito em local indevido ou texto que tenha identificação fora do local apropriado.
- 9** Ao terminar as provas, chame o fiscal de sala mais próximo, devolva-lhe a sua folha de respostas e a folha de texto definitivo da prova discursiva e deixe o local de provas.
- 10** A desobediência a qualquer uma das determinações constantes no presente caderno, na folha de respostas ou na folha de texto definitivo da prova discursiva poderá implicar a anulação das suas provas.

#### AGENDA

- I 9/5/2006**, após as 19 h (horário de Brasília) – Gabaritos oficiais preliminares das provas objetivas: Internet — [www.cespe.unb.br/concursos/tjpa2006](http://www.cespe.unb.br/concursos/tjpa2006).
- II 10 e 11/5/2006** – Recurso (provas objetivas): exclusivamente no Sistema Eletrônico de Interposição de Recurso, Internet — [www.cespe.unb.br/concursos/tjpa2006](http://www.cespe.unb.br/concursos/tjpa2006), mediante instruções e formulários que estarão disponíveis nesse endereço.
- III 31/5/2006** – Resultado final das provas objetivas, resultado provisório da prova discursiva e convocação para avaliação de títulos: Diário da Justiça do Estado do Pará e Internet — [www.cespe.unb.br/concursos/tjpa2006](http://www.cespe.unb.br/concursos/tjpa2006).
- IV 1.º e 2/6/2006** – Recurso (prova discursiva) e entrega de títulos: em locais e horários que serão informados na divulgação do resultado provisório.

#### OBSERVAÇÕES

- Não serão objeto de conhecimento recursos em desacordo com o item 13 do Edital n.º 1/2006 – TJPA, de 1.º/3/2006.
- Informações adicionais: telefone 0(XX) 61 3448-0100; Internet — [www.cespe.unb.br/concursos/tjpa2006](http://www.cespe.unb.br/concursos/tjpa2006).
- É permitida a reprodução deste material apenas para fins didáticos, desde que citada a fonte.

**CESPE UnB**  
UNIVERSIDADE DE BRASÍLIA

QUESTÃO	RESPOSTA
1	(A) (B) (C) (D)
2	(A) (B) (C) (D)
3	(A) (B) (C) (D)
4	(A) (B) (C) (D)
5	(A) (B) (C) (D)
6	(A) (B) (C) (D)
7	(A) (B) (C) (D)
8	(A) (B) (C) (D)
9	(A) (B) (C) (D)
10	(A) (B) (C) (D)

QUESTÃO	RESPOSTA
11	(A) (B) (C) (D)
12	(A) (B) (C) (D)
13	(A) (B) (C) (D)
14	(A) (B) (C) (D)
15	(A) (B) (C) (D)
16	(A) (B) (C) (D)
17	(A) (B) (C) (D)
18	(A) (B) (C) (D)
19	(A) (B) (C) (D)
20	(A) (B) (C) (D)

QUESTÃO	RESPOSTA
21	(A) (B) (C) (D)
22	(A) (B) (C) (D)
23	(A) (B) (C) (D)
24	(A) (B) (C) (D)
25	(A) (B) (C) (D)
26	(A) (B) (C) (D)
27	(A) (B) (C) (D)
28	(A) (B) (C) (D)
29	(A) (B) (C) (D)
30	(A) (B) (C) (D)

QUESTÃO	RESPOSTA
31	(A) (B) (C) (D)
32	(A) (B) (C) (D)
33	(A) (B) (C) (D)
34	(A) (B) (C) (D)
35	(A) (B) (C) (D)
36	(A) (B) (C) (D)
37	(A) (B) (C) (D)
38	(A) (B) (C) (D)
39	(A) (B) (C) (D)
40	(A) (B) (C) (D)

- Nas questões de 1 a 40, marque, em cada uma, a única opção correta, de acordo com o respectivo comando. Para as devidas marcações, use, caso deseje, o rascunho acima e, posteriormente, a **folha de respostas**, único documento válido para a correção das suas provas.
- Nas questões que avaliam **Noções de Informática**, a menos que seja explicitamente informado o contrário, considere que todos os programas mencionados estão em configuração-padrão, em português, que o *mouse* está configurado para pessoas destras e que expressões como clicar, clique simples e clique duplo referem-se a cliques com o botão esquerdo do *mouse*. Considere também que não há restrições de proteção, de funcionamento e de uso em relação aos programas, arquivos, diretórios e equipamentos mencionados.

## CONHECIMENTOS BÁSICOS

### Texto para as questões 1 e 2

- 1 É preciso ter cuidado com as palavras. Elas são verdadeiras armas. Algumas vezes mortais. Certas pessoas têm o dom de dizer as mais afiadas, que entram feito uma
- 4 flecha envenenada. Porém, em muitos casos, o atingido é aquele que usou a arma, ou seja, o falador. Esse, por exemplo, pode sofrer horríveis arrependimentos por ter dito o que não
- 7 deveria ter dito. Mas como não dizer aquilo que pensamos?
- Há maneiras de dizer sem dizer, e de dizer, desdizendo.

Ana Miranda. *O oráculo insondável*. In: *Correio Brasileiro*, Caderno C, p. 10, 2/4/2006 (com adaptações).

#### QUESTÃO 1

Assinale a opção **incorreta** com relação à argumentação do texto.

- (A) As palavras podem ter conseqüências tão perigosas quanto as armas, que têm a capacidade de ferir mortalmente.
- (B) Palavras devem ser usadas com cuidado, pois podem ter conseqüências nefastas tanto para quem as ouve quanto para quem as pronuncia.
- (C) Em todas as circunstâncias, é mais prudente não dizer nada porque as palavras são perigosas e, uma vez ditas, não são recolhidas.
- (D) O perigo das palavras recomenda que se empregue cautela ao dizê-las, pois a maneira de dizer pode ser tão importante quanto o próprio dizer.

#### QUESTÃO 2

Constrói-se a textualidade estabelecendo-se relações de retomadas de sentido, em que certas palavras remetem a outras, em uma verdadeira cadeia de elos de coesão. Nesse sentido, assinale a opção **incorreta**.

- (A) “Algumas” (l.2) retoma “palavras” (l.1).
- (B) “que” (l.3) retoma a idéia de “palavras” (l.1).
- (C) “o falador” (l.5) retoma “o atingido” (l.4).
- (D) “Esse” (l.5) retoma e demonstra “o falador” (l.5).

### Texto para as questões de 3 a 5

- 1 A democracia do Estado contemporâneo necessita, de maneira imprescindível, da consagração da supremacia constitucional e do respeito aos direitos fundamentais, que
- 4 somente estarão presentes nos países em que houver um Judiciário forte, dotado de plena independência e que possa efetivar suas decisões. A independência judicial constitui
- 7 direito dos cidadãos, e é triste um país que não a possui.

O magistrado, no momento de julgar, não pode receber ordens de nenhuma autoridade interna ou externa, sendo essa

10 idéia essencial à independência do Judiciário.

- A maioria esmagadora dos juizes brasileiros dedicam suas vidas à luta por uma magistratura independente,
- 13 democrática, transparente e justa e jamais se esquecem da lição do grande Rui: “A autoridade da Justiça é moral, e sustenta-se pela moralidade de suas decisões”.

Alexandre de Moraes. *União pelo fortalecimento*. In: *Folha de S. Paulo*, 25/3/2006 (com adaptações).

#### QUESTÃO 3

Assinale a opção que apresenta a idéia em torno da qual a argumentação do texto se organiza.

- (A) O direito dos cidadãos, consubstanciado em um Poder Judiciário forte, só é respeitado em uma democracia independente, transparente, soberana e justa.
- (B) Um Poder Judiciário forte e independente é direito dos cidadãos e pilar de sustentação da supremacia constitucional em um Estado democrático.
- (C) O respeito à independência do magistrado no momento de julgar, negando-se a receber ordens de autoridade interna ou externa, já foi lema de Rui Barbosa.
- (D) A luta dos juizes brasileiros por uma magistratura independente e democrática vai de encontro ao direito dos cidadãos que acreditam que a ‘autoridade da Justiça é moral’ (l.14).

**QUESTÃO 4**

No desenvolvimento da argumentação do texto, as formas verbais que indicam uma probabilidade ou suposição **não** incluem

- A “estarão” (l.4).
- B “houver” (l.4).
- C “possa” (l.5).
- D “sendo” (l.9).

**QUESTÃO 5**

Assinale a opção **incorreta** a respeito do emprego das estruturas lingüísticas no texto.

- A No trecho “A democracia (...) necessita, **de** maneira imprescindível, **da** consagração **da** supremacia constitucional e **do** respeito aos direitos fundamentais” (l.1-3), o uso da preposição **de** nos termos destacados é exigência da forma verbal “necessita”, para que sejam respeitadas as regras de regência gramatical.
- B As regras gramaticais do padrão culto da língua portuguesa exigem o emprego da preposição no termo “em que” (l.4), o que indica que esse termo pode ser substituído pelo pronome **onde**.
- C Nas linhas 4 e 5, a flexão de singular na forma verbal “possa” indica que o pronome “que” refere-se a “Judiciário” e não a “países”, como poderia ser depreendido da organização textual.
- D Seria preservada a coerência textual e a correção gramatical também com a alternativa de emprego da forma verbal “dedicam” (l.11) no singular: **dedica**.

**Texto para as questões de 6 a 8**

1 Desde que eu vou ao Fórum Econômico Mundial em Davos, nenhum país atçou a imaginação da conferência e dominou a discussão como a Índia em 2006.

4 O Estado indiano foi um estrondoso sucesso em uma frente. A democracia indiana é uma maravilha a ser observada. Um dos países mais pobres do mundo, ela manteve um governo democrático por mais de 60 anos. E essa é, certamente, uma das maiores virtudes do país quando comparado a muitos outros países em desenvolvimento.

10 A democracia dá lugar ao populismo, politicagem e perda de tempo. Mas também dá lugar à estabilidade no longo prazo. Há elementos da democracia que ferem, principalmente em um país com pobreza, feudalismo e analfabetismo galopantes. Democracia na Índia freqüentemente significou não a vontade da maioria, mas a vontade das minorias organizadas. Mas a democracia tem seus próprios meios de se reequilibrar.

Fareed Zakaria. **Por que a Índia é um exemplo.**  
In: **Época**, 6/3/2006 (com adaptações).

**QUESTÃO 6**

Julgue os seguintes itens, a respeito das idéias do texto.

- I O autor considera o regime democrático positivo, mesmo quando sofre adaptações.
- II O texto usa a Índia como exemplo de uma proposta de intervenção e reestruturação dos sistemas democráticos de governo nos países mais pobres.
- III A tese defendida pela argumentação do texto é a de que o Fórum Econômico Mundial de Davos tem valorizado aspectos políticos, como a democracia nos países pobres.

A quantidade de itens certos é igual a

- A 0.
- B 1.
- C 2.
- D 3.

**QUESTÃO 7**

Pelo tema abordado, o texto pode integrar um documento oficial, como um relatório ou um parecer, por exemplo. Assinale a opção que representa uma alteração necessária para que o texto respeite, também na forma, as normas de redação de documentos oficiais.

- A Reescrever a primeira oração de maneira menos pessoal: **Desde que existe o Fórum Econômico Mundial de Davos.**
- B Substituir a preposição “por” (l.7) por outra de regência mais formal: **durante**.
- C Retirar a idéia de avaliação sugerida pela comparação com “outros países em desenvolvimento” (l.9).
- D Substituir as duas ocorrências da expressão coloquial “dá lugar” (l.10) pelo verbo, mais formal, **cede**.

**QUESTÃO 8**

No texto, os trechos que se apresentam na voz passiva, ou seja, estabelecem uma relação em que o sujeito verbal recebe a ação incluem

- I “O Estado indiano foi um estrondoso sucesso” (l.4).
- II “uma maravilha a ser observada” (l.5-6).
- III “quando comparado a muitos outros países” (l.8-9).
- IV “Há elementos da democracia” (l.12).
- V “seus próprios meios de se reequilibrar” (l.16-17).

Estão certos apenas os itens

- A I e IV.
- B I e V.
- C II e III.
- D III, IV e V.

## Texto para as questões 9 e 10

1 Se separarmos da palavra civilização as noções de utilitarismo e progressismo, dadas pelo senso comum e pelo pensamento conservador (“desenvolvimento da indústria e do comércio, aquisição de bens materiais e de luxo”), e restituirmos a ela o sentido original, “fineza dos costumes”, “educação dos espíritos”, “desenvolvimento da polidez”, 7 “cultura das artes e das ciências”, podemos dizer então que a civilização está a perigo.

No plano político, no lugar da antiga idéia de 10 Constituição e respeito à cidadania, o termo civilização passou a ser associado a *performance*, espetáculo, *marketing*, simulação e, principalmente, eficácia.

Adauto Novaes. *Sobre tempo e história*. In: Adauto Novaes (Org.). *Tempo e história* (com adaptações).

### QUESTÃO 9

Infere-se da argumentação do texto que “a civilização está a perigo” (l.8) porque

- A não se separa, do pensamento conservador, a noção de espetáculo e *performance*.
- B passou a representar o pensamento conservador do senso comum, em lugar da Constituição.
- C a eficácia, em lugar da civilização, deu lugar ao utilitarismo e progressismo, associando-se a simulação.
- D não representa mais ‘fineza dos costumes’ (l.5), ‘educação dos espíritos’ (l.6), ‘desenvolvimento da polidez’ (l.6) ou ‘cultura das artes e das ciências’ (l.7).

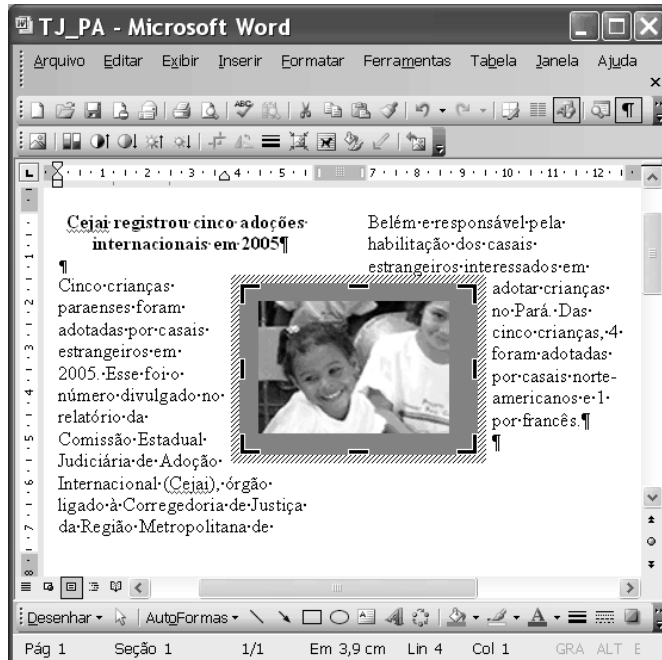
### QUESTÃO 10

Assinale a opção em que a alteração proposta para o texto prejudica sua coerência ou resulta em incorreção gramatical.

- A Inserção de duas vírgulas, na linha 1: depois de “separarmos” e depois de “civilização”.
- B Substituição de “restituirmos a ela” (l.5) por **lhe restituirmos**.
- C Retirada da vírgula que antecede a oração iniciada por “podemos” (l.7).
- D Inserção da preposição **a** antes de “eficácia” (l.12).





## Texto para as questões de 11 a 13

A figura a seguir ilustra uma janela do Word 2003 que está sendo executado em um computador cujo sistema operacional é o Windows XP. O documento em elaboração contém texto e imagem que foram extraídos de uma página *web* do sítio [www.tj.pa.gov.br](http://www.tj.pa.gov.br). A imagem está sobre uma tela de desenho.



### QUESTÃO 11

Considerando as informações do texto, assinale a opção correta.

- A Na situação em que se encontra a janela do Word, caso se teclasse , apenas a tela de desenho mencionada no texto será excluída, enquanto a imagem nela contida permanecerá no documento em edição.
- B O botão  permite abrir documento do tipo Word armazenado no computador, desde que o arquivo associado não esteja definido como somente para leitura. Caso o arquivo esteja com a referida definição, ele pode ser aberto por meio do botão .
- C O texto mostrado na janela do Word pode ter sido inserido no documento, a partir da página *web* mencionada, por meio de recursos de copiar e colar do Windows XP. No entanto, esse procedimento não funciona no caso de imagem, sendo necessário que ela seja copiada em arquivo, antes de ser inserida no documento.
- D Por meio de recursos disponibilizados ao se clicar , é possível realizar procedimento para inserir uma imagem no documento em edição, desde que ela esteja armazenada em arquivo.





**QUESTÃO 12**

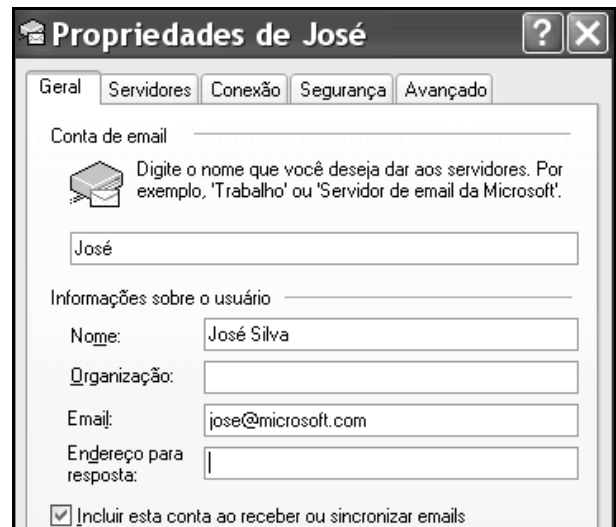
Ainda considerando as informações do texto, assinale a opção **incorreta**.

- A É possível inserir o termo **Tribunal de Justiça do Pará** como cabeçalho do documento em edição por meio de recursos acessados no *menu* **Editar**.
- B É possível salvar o documento em edição com o nome TJ\_PA\_versão\_2.doc por meio de procedimento realizado unicamente via teclado.
- C O procedimento descrito a seguir permite alterar a fonte, seu estilo e seu tamanho na primeira linha mostrada da primeira coluna do documento: selecionar a referida linha; clicar o botão direito do *mouse*; na lista disponibilizada, clicar opção que permite realizar as alterações mencionadas; na janela que é aberta em decorrência dessa ação, realizar as alterações desejadas.
- D Na situação em que se encontra a janela do Word, é correto afirmar que o documento está formatado para duas colunas. É possível alterar essa formatação por meio de opção encontrada no *menu* **Formatar**.

**QUESTÃO 13**

Considerando a situação em que se encontra a janela do Word mostrada no texto, assinale a opção correta.

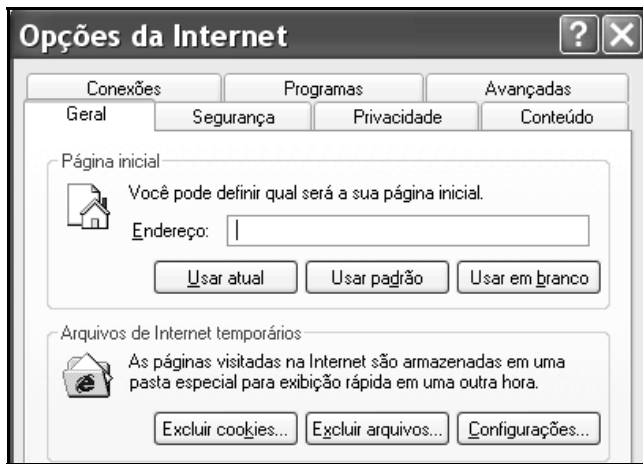
- A Em função do posicionamento da tela de desenho com relação ao texto, é correto inferir que os parágrafos mostrados do documento não podem ser justificados às margens esquerda e direita.
- B A tela de desenho mostrada pode ter sido inserida no documento por meio de recursos disponibilizados ao se clicar o botão .
- C Os botões  e  permitem alterar a cor de fundo da tela de desenho que está sob a imagem mostrada no documento.
- D É possível inserir uma moldura na tela de desenho mostrada por meio do botão .

**QUESTÃO 14**

A figura acima ilustra parte da janela que contém as propriedades de uma conta de *e-mail* configurada no Outlook Express 6 (OE6). Considerando essa figura, assinale a opção correta.

- A Ao se clicar a guia **Avançado**, será disponibilizado recurso que permite configurar o OE6 de modo que, ao se receber uma mensagem de correio eletrônico, o nome e o endereço de *e-mail* do remetente seja adicionado ao catálogo de endereços do OE6.
- B Para evitar que pessoas não-autorizadas acessem a conta “José”, pode-se configurar uma senha, por meio de recursos encontrados na guia **Servidores**, de maneira que seja feita a solicitação para fornecimento dessa senha toda vez que se execute o OE6 para realizar procedimento de enviar ou receber uma mensagem de *e-mail*.
- C O OE6 permite que se faça, em pasta específica do computador, *backup* das respostas às mensagens recebidas. Para isso, é suficiente digitar no campo **Endereço para resposta:** o endereço da pasta em que se deseja fazer o *backup*.
- D Caso a marcação mostrada na janela — referente a incluir esta conta ao receber ou sincronizar *e-mails* — seja desabilitada, a conta “José” não poderá ser utilizada para enviar ou receber mensagens de correio por meio do OE6.

**QUESTÃO 15**



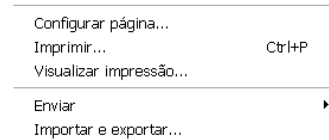
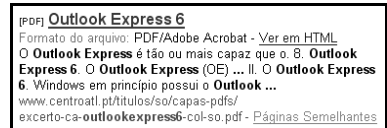
A figura acima ilustra parte da janela Opções da Internet que foi executada em um computador cujo sistema operacional é o Windows XP, a partir do *menu* Ferramentas do Internet Explorer 6 (IE6). Considerando essa figura, assinale a opção correta.

- A Por meio do botão **Excluir cookies...**, é possível excluir todos os *cookies* que estejam armazenados no computador como resultado de sessões de uso do IE6, enquanto que o botão **Configurações...** disponibiliza recursos que permitem excluir apenas *cookies* selecionados.
- B Considere que se deseje configurar o IE6 de forma que seja gerada uma mensagem de alerta quando se acessar determinado sítio na Internet. Nessa situação, a guia **Conexões** disponibiliza recursos que permitem elaborar uma lista de sítios para os quais, quando forem acessados, o IE6 gerará a mensagem mencionada.
- C Recursos da guia **Programas** permitem definir o programa antivírus que será usado quando se acessar a Internet por meio do IE6. Esses recursos permitem definir também o tipo de certificado de segurança que será usado ao se acessar sítios em que são realizadas transações sigilosas, como no acesso a sítios de bancos.
- D Na guia **Privacidade**, existem recursos que permitem definir, em uma lista, todos os sítios da Web que se deseja ter acesso permitido. Dessa forma, apenas os sítios que estejam nessa lista podem ser acessados por meio do IE6.

**QUESTÃO 16**

Assinale a opção correta, com relação a conceitos de Internet, correio eletrônico e aplicativos desenvolvidos para uso em redes de computadores.

- A Os programas de correio eletrônico Outlook e Outlook Express foram desenvolvidos pela Microsoft para serem executados em computadores com o Windows XP instalado. Ao contrário do Outlook, que pode ser obtido gratuitamente na Internet por *download*, o Outlook Express faz parte do pacote de aplicativos Microsoft Office e, portanto, necessita de licença para uso.
- B Mozilla é uma organização que desenvolve aplicativos voltados para a Internet que podem ser utilizados gratuitamente. Entre eles está o Firefox, o qual é uma família de aplicativos que inclui *browser*, correio eletrônico e editor de HTML, que é a linguagem de criação de páginas *web* na Internet.
- C Considere que as informações mostradas no quadro ao lado tenham sido obtidas como resultado de uma pesquisa realizada na Internet. Nessa situação, é correto inferir que a página *web* associada a essas informações não pertence a um sítio brasileiro e, caso se clique o *hyperlink* **Outlook Express 6**, será realizado o *download* de um arquivo no formato PDF.
- D A figura a seguir mostra parte das opções do *menu* **Arquivo** do IE6. Recursos disponibilizados ao se clicar **Importar e exportar...** permitem salvar a página atual do IE6 como arquivo do tipo Word, bem como permitem inserir o conteúdo de um arquivo do tipo Word em página *web* em desenvolvimento.



**QUESTÃO 17**

Considere a situação em que um usuário deseje gravar uma cópia de segurança de cinco arquivos que, juntos, ocupem uma quantidade de memória de 1,5 *megabytes*. Com relação a essa situação, assinale a opção correta.

- A Com o uso do programa WinZip 8.1, é possível compactar o grupo de arquivos citado, salvando-os em apenas um arquivo do tipo WinZip.
- B Esses cinco arquivos não poderiam ser armazenados sem compactação em um dispositivo do tipo *pen-drive*, pois o limite de memória desse tipo de dispositivo é inferior a 1 bilhão de *bytes*, que é inferior a 1,5 *megabyte*.
- C Uma grande desvantagem dos dispositivos do tipo CD-ROM é o fato de terem capacidade máxima de armazenamento de 300 milhões de *bytes*.
- D Os dispositivos não-voláteis de armazenamento mais eficientes disponíveis atualmente são as memórias RAM, que, além disso, não consomem energia.

**QUESTÃO 18**

Em computadores que utilizam como sistema operacional o Windows XP, é possível configurar a resolução da tela do monitor de vídeo por meio da janela Propriedades de vídeo. Assinale a opção que apresenta uma forma correta de abrir essa janela.

- A) Clicar, com o botão direito do *mouse*, um ponto sem ícones da *desktop* do Windows e clicar Propriedades.
- B) Clicar, com o botão direito do *mouse*, um ponto sem ícones da barra de tarefas do Windows e clicar Propriedades.
- C) Clicar, com o botão direito do *mouse*, sobre o ícone associado à lixeira do Windows e clicar Propriedades.
- D) Aplicar um clique duplo no ícone associado à pasta Meu computador.

**Texto para as questões 19 e 20**

A janela do Excel 2003 ilustrada a seguir apresenta algumas tabelas de custas judiciais extrajudiciais, em processo de edição, extraídas e adaptadas do sítio [www.tj.pa.gov.br](http://www.tj.pa.gov.br). A janela encontra-se em execução em um computador PC cujo sistema operacional é o Windows XP.

	A	B	C
1	Tabelas de custas judiciais extrajudiciais		
2			
3			valor (R\$)
4		casamento	111,40
5		nos cartórios	222,80
6		a domicilio	223,70
7		após as 18 h	223,70
8		assentos	37,60
9		no prazo	68,80
10		fora do prazo	66,80
11		fora do prazo legal	
12			

**QUESTÃO 19**

Com base na situação em que se encontra a janela mencionada no texto, assinale a opção **incorreta** acerca do Excel 2003.

- A) O conteúdo da célula C7 pode ter sido obtido utilizando-se recursos disponibilizados pelo conjunto de botões .
- B) O conteúdo da célula C11 será igual a 68,80 após a execução do seguinte procedimento: clicar a célula C7; pressionar e manter pressionada a tecla ; teclar ; clicar a célula C11; teclar ; liberar a tecla .
- C) Considere que o conteúdo da célula C5 contenha a fórmula =2\*C\$4. Caso esse conteúdo seja copiado e colado na célula C9, o valor numérico da célula C9 passará a ser igual a 75,20.
- D) O efeito mostrado no conjunto de células mescladas A3 e B3 pode ter sido obtido por meio de recursos disponibilizados ao se clicar a guia na janela do Excel 2003 parcialmente mostrada na figura a seguir.

**QUESTÃO 20**

Ainda com base na situação em que se encontra a janela mencionada no texto, assinale a opção correta acerca do Excel 2003.

- A) O comentário associado à célula C7 pode ter sido inserido na planilha ao se clicar o botão e digitar o comentário apresentado na figura.
- B) Ao se clicar o botão , será executada uma janela do Internet Explorer.
- C) O conteúdo da célula C9 será igual a 688,0, caso o botão seja clicado, após se ter clicado a referida célula.
- D) Pelo efeito de texto mostrado na janela do Excel, o conjunto de células mescladas de A1 a C2 pode estar formatado para alinhamento horizontal e vertical central e para retorno automático de texto.

## CONHECIMENTOS ESPECÍFICOS

### QUESTÃO 21

A respeito de doenças infecciosas, assinale a opção correta.

- Ⓐ A febre tifóide é uma doença bacteriana aguda, cuja manifestação clínica costuma ser de febre baixa, taquicardia relativa e manchas rosadas nas extremidades.
- Ⓑ A leptospirose pode apresentar-se na forma subclínica, simulando uma síndrome gripal, na forma anictérica, como a doença de Weil, ou na forma ictérica, que acomete cerca de 60% dos casos, com evolução benigna.
- Ⓒ A hepatite B, que ocorre com grande frequência na região amazônica brasileira, pode causar aumento de transaminases e de bilirrubinas, além de diminuição da glicemia e da albumina.
- Ⓓ A dengue é uma doença infecciosa febril aguda, cujo agente etiológico é o *Aedes aegypti*.

### QUESTÃO 22

A tireóide é uma das maiores glândulas do corpo humano, com peso aproximado de 15 g a 25 g no adulto. Com referência a essa glândula, assinale a opção correta.

- Ⓐ Estima-se que 20% da população brasileira apresentem nódulos na tireóide, e que aproximadamente 50% desses nódulos sejam malignos.
- Ⓑ Causado pela diminuição da produção dos hormônios T3 (tiroxina) e T4 (triiodotironina) pela tireóide, o hipotireoidismo pode provocar fadiga, queda de peso, intolerância ao calor, ressecamento da pele, queda dos cabelos, diminuição das taxas de colesterol e do fluxo menstrual, além de infertilidade e depressão.
- Ⓒ Na maior parte das vezes, o hipertireoidismo é causado pela tireoidite de Hashimoto, uma disfunção auto-imune que, em estágio avançado, determina inflamação da glândula, com aumento da liberação dos hormônios.
- Ⓓ A tireóide interfere na função cardíaca, cerebral, hepática e renal, bem como no crescimento infantil, na regulação dos ciclos menstruais, na fertilidade, no peso, na memória e no humor.

### QUESTÃO 23

Segundo estimativa do Instituto Nacional do Câncer (INCA), em 2006, as leucemias atingirão 5.330 homens e 4.220 mulheres no Brasil. Acerca desse assunto, assinale a opção correta.

- Ⓐ A leucemia caracteriza-se pela proliferação anormal de hemácias blásticas anormais na medula óssea, com substituição das células sanguíneas normais.
- Ⓑ O tipo de leucemia mais freqüente na criança é a leucemia mielóide aguda; a leucemia linfóide aguda (ou linfoblástica) é mais comum no adulto.
- Ⓒ As manifestações clínicas da leucemia aguda são secundárias à proliferação excessiva de células imaturas da medula óssea, que infiltram os órgãos linfáticos, a pele, os rins e o sistema nervoso central, entre outros.
- Ⓓ O tratamento das leucemias visa identificar a sua etiologia e intervir diretamente nela, eliminando a origem da doença.

### QUESTÃO 24


Em uma empresa, ocorreram sete acidentes de trabalho no mês de abril de 2006. Dos empregados acidentados, apenas quatro necessitam de afastamento, sendo que dois, por apenas um dia; um, por uma semana; e o outro, por vinte dias. Considerando esse caso hipotético, assinale a opção correta.

- Ⓐ Houve uma epidemia de acidentes de trabalho na referida empresa no mês de abril de 2006.
- Ⓑ Deverão ser emitidas quatro comunicações de acidente de trabalho nesta empresa no mês de abril de 2006.
- Ⓒ Apenas um empregado dessa empresa faz jus a seguro acidentário do INSS.
- Ⓓ Apenas um empregado vítima de acidente de trabalho nessa empresa deverá ser avaliado em perícia pelo INSS.



**QUESTÃO 25**

**Principais fatores de morbidade/mortalidade dos acidentes de trabalho analisados entre janeiro e dezembro de 2003**



Fonte: Sistema Federal de Inspeção do Trabalho (SFIT)  
Acidentes Analisados / Brasil

Com base nos dados constantes no gráfico acima, julgue os itens a seguir.

- I O gráfico apresenta dados dispersos em uma distribuição normal.
- II A distribuição numérica dos acidentes caracteriza-os como variável contínua.
- III A exposição a outras linhas de distribuição e consumo de corrente elétrica está na mediana da distribuição dos principais fatores de morbidade/mortalidade dos acidentes de trabalho analisados.
- IV O gráfico apresenta os principais fatores de morbidade/mortalidade de mais de 40% dos acidentes de trabalho ocorridos no ano de 2003.

A quantidade de itens certos é igual a

- A 1.
- B 2.
- C 3.
- D 4.

**QUESTÃO 26**

Considere que um pesquisador pretenda definir as causas de uma doença rara em determinada comunidade. Para tanto, ele identifica os casos da doença e, para cada caso, escolhe 3 pessoas sadias do mesmo sexo, da mesma etnia, da mesma condição social e que moram na mesma região. Ele pretende, com isso, encontrar sujeitos semelhantes aos doentes, porém sadios, para tentar definir quais fatores podem estar associados ao desenvolvimento da doença. Nessa situação, o tipo de estudo realizado pelo pesquisador é denominado

- A estudo de coorte.
- B estudo de caso-controle.
- C estudo transversal.
- D ensaio clínico randomizado.

**QUESTÃO 27**

Os trabalhadores expostos a poeiras consideradas inertes ou atóxicas geralmente apresentam nenhuma ou pouca sintomatologia respiratória. Essas poeiras produzem apenas acúmulo no interior de macrófagos, sem grande lesão no tecido pulmonar. Assinale a opção que contenha apenas substâncias consideradas inertes ou atóxicas.

- A estanho, ferro e carbono
- B manganês, estanho e ferro
- C manganês, ferro e carbono
- D manganês, estanho e carbono

**QUESTÃO 28**

O câncer de pele ocupacional é uma doença pouco conhecida no Brasil, pois costuma apresentar longo período de latência. A respeito desse assunto, assinale a opção correta.

- A Luz ultravioleta, radiações ionizantes e traumatismos estão entre os agentes químicos determinantes do surgimento de câncer de pele ocupacional.
- B As ceratoses actínicas e as verrugas decorrentes do contato com óleo vegetal contaminado com hidrocarbonetos policíclicos aromáticos são consideradas lesões pré-malignas.
- C Os arsênicos são os produtos químicos que desencadeiam o desenvolvimento de câncer de pele com o menor período de latência descrito.
- D Não há descrição de câncer de pele decorrente da exposição ocupacional ao carvão.

**QUESTÃO 29**

Com referência a gases e vapores classificados como irritantes, assinale a opção correta.

- A Os gases e vapores irritantes atuam com maior potência em tecidos secos, como a pele íntegra.
- B Os irritantes primários caracterizam-se por causar irritação local associada a efeitos sistêmicos.
- C O grupo de irritantes com mais alta solubilidade em água tem maior ação sobre os pulmões.
- D Os irritantes atípicos possuem ação predominante irritante sobre as vias aéreas superiores.

**QUESTÃO 30**

As partículas sólidas produzidas por rupturas mecânicas dos sólidos são classificadas como

- A poeiras.
- B fumos.
- C névoas.
- D neblinas.

**QUESTÃO 31**

Com referência ao ruído, que é o fator de risco ocupacional mais freqüente, assinale a opção correta.

- A O trauma acústico caracteriza-se por ser de instalação súbita e decorrente de lesão em orelha externa.
- B A perda auditiva temporária ocorre após exposição a ruído intenso por curto período de tempo e tende a regredir após período de repouso auditivo, que pode durar alguns dias.
- C A perda auditiva induzida por ruído é de instalação lenta e tende a progredir, mesmo após a interrupção da exposição ao ruído.
- D O recrutamento ocorre por desestruturação dos ossículos da orelha média e é acompanhado de diminuição do limiar auditivo.

**QUESTÃO 32**

O trabalho em turnos pode ser definido como uma continuidade da produção sem continuidade nas atividades realizadas pelo trabalhador. Acerca desse assunto, assinale a opção correta.

- A As perturbações sociais, apesar de proeminentes na vida do trabalhador em turnos, não representam fator de relevância na sua adaptação ao trabalho.
- B Nos seres humanos, o período de oscilação dos ritmos circadianos costuma ser inferior ao de um dia.
- C No funcionamento do corpo humano, as variações fisiológicas com ritmo superior a 24 horas são chamadas de ultradianas.
- D Epilepsia, doença coronariana e diabetes insulino-dependentes são exemplos de patologias que contra-indicam o trabalho em turnos.

**QUESTÃO 33**

Uma paciente destra que executa tarefas repetidas com os membros superiores queixa-se de dor na face radial do punho direito, com irradiação para o antebraço. A dor acentua-se com o movimento de pinça envolvendo o polegar. Ao exame, a paciente apresenta tumefação na região da dor e teste de Finkelstein positivo à direita. Nessa situação, o diagnóstico mais provável para a paciente é

- A doença de Kienböck.
- B epicondilite lateral.
- C doença de De Quervain.
- D síndrome do manguito rotador.

**QUESTÃO 34**

Um dos preceitos basilares da ergonomia é a adaptação do meio ambiente ao homem. A respeito desse assunto, assinale a opção correta.

- A Sempre que o trabalho puder ser executado em pé, o posto de trabalho deve ser planejado ou adaptado para essa posição.
- B Todos os equipamentos que compõem um posto de trabalho devem estar adequados às características psicofisiológicas dos trabalhadores e à natureza do trabalho a ser executado.
- C Os assentos utilizados nos postos de trabalho devem ser ajustáveis à estatura do trabalhador, apresentar o máximo possível de conformação na base do assento e ter borda frontal arredondada.
- D O teclado de computador deve ser fixo, para evitar excesso de mobilidade durante a execução das tarefas.

**QUESTÃO 35**

A respeito do Programa de Prevenção de Riscos Ambientais (PPRA), que visa a preservação da saúde e da integridade dos trabalhadores, assinale a opção correta.

- A O PPRA deverá contemplar, no mínimo: planejamento quinquenal com estabelecimento de metas, prioridades e cronograma; periodicidade e forma de avaliação do seu desenvolvimento.
- B As ações do PPRA devem ser desenvolvidas no âmbito de cada estabelecimento da empresa, sob a responsabilidade dos empregados, com a participação dos empregadores.
- C O PPRA deverá incluir a antecipação e o reconhecimento dos riscos; o estabelecimento de prioridades e metas de avaliação e controle; a avaliação dos riscos e da exposição dos trabalhadores; a implantação de medidas de controle e a avaliação de sua eficácia; o monitoramento da exposição aos riscos; o registro e a divulgação dos dados.
- D São classificadas como agentes químicos as diversas formas de energia a que possam ser expostos os trabalhadores, como ruído, vibrações, temperaturas extremas, radiações ionizantes, radiações não-ionizantes e ultra-som.

**QUESTÃO 36**

De acordo com a Norma Regulamentadora n.º 4, o Serviço Especializado em Engenharia de Segurança e em Medicina do Trabalho de uma empresa com 50 empregados e com grau de risco 4 deverá ter

- A um técnico de segurança do trabalho.
- B dois engenheiros de segurança do trabalho.
- C um médico do trabalho.
- D um enfermeiro do trabalho.

**QUESTÃO 37**

Acerca do Programa de Controle Médico de Saúde Ocupacional (PCMSO), que objetiva promover e preservar a saúde do conjunto dos trabalhadores de uma empresa, assinale a opção correta.

- A** As empresas de grau de risco 1 e 2 com até 75 empregados não necessitam indicar médico coordenador para o PCMSO.
- B** O exame médico periódico deverá ocorrer, no máximo, a cada 3 anos.
- C** Nos exames do PCMSO, deverá ser realizada avaliação clínica que englobe anamnese ocupacional e exame físico e mental.
- D** Para cada exame médico realizado, o médico deverá emitir o Atestado de Saúde Ocupacional (ASO), em 3 vias, sendo a primeira para arquivamento na empresa, a segunda para o empregado e a terceira para o sindicato.

**QUESTÃO 38**

Com relação a atividades de trabalho consideradas perigosas, assinale a opção correta.

- A** O exercício de trabalho em condições de periculosidade assegura ao trabalhador a percepção de adicional de 45% incidente sobre o salário, sem os acréscimos resultantes de gratificações, prêmios ou participação nos lucros da empresa. O empregado poderá optar pelo adicional de insalubridade que porventura lhe seja devido.
- B** São consideradas atividades ou operações perigosas aquelas executadas com explosivos sujeitos a degradação química e a ação de agentes exteriores, como calor e umidade, entre outros.
- C** O trabalhador que manusear ou transportar recipientes de mais de 3 litros com líquidos inflamáveis fará jus ao adicional de periculosidade, independentemente de os vasilhames terem sido lacrados no momento da fabricação.
- D** Não é facultado aos sindicatos requerer a realização de perícia em empresas, com o objetivo de caracterizar e classificar ou determinar atividade perigosa.

As questões 39 e 40 devem ser respondidas de acordo com o Regimento Interno do Tribunal de Justiça do Estado do Pará.

**QUESTÃO 39**

Antes do início de uma sessão do TJPA, o advogado Lúcio, que residia no Rio de Janeiro e que fora contratado para atuar em um processo que tramitava no tribunal, solicitou preferência de julgamento, pois desejava fazer sustentação oral. Porém, o advogado Caio, que residia em Belém, já havia solicitado a preferência de julgamento, também por desejar proferir sustentação oral. Nessa situação,

- A** Lúcio pode ter concedida a preferência em prejuízo de Caio, pelo simples fato de residir em local diverso da sede do TJPA.
- B** nem Lúcio nem Caio podem pedir preferência de julgamento, pois ambos desejam fazer sustentação oral, o que causará demora no julgamento dos seus processos.
- C** o prazo para Lúcio ou Caio fazerem a sustentação oral será de 20 minutos, caso não haja outro prazo previsto em lei.
- D** o Ministério Público poderá obter, em decorrência da solicitação de sustentação oral realizada por Lúcio e Caio, prazo em dobro para também fazer sustentação oral.

**QUESTÃO 40**

A Corregedoria de Justiça, dividida para efeito de jurisdição em Corregedoria de Justiça da Região Metropolitana de Belém e Corregedoria de Justiça das Comarcas do Interior do Estado, tem funções administrativas, de orientação, fiscalização e disciplinares, a serem exercidas por dois desembargadores eleitos na forma da lei. Os corregedores de justiça serão auxiliados em suas tarefas por juízes corregedores, sendo dois para cada corregedoria, e exercerão, por delegação, suas atribuições relativas aos juízes de direito e servidores da justiça. A respeito dos juízes corregedores, assinale a opção correta.

- A** Os juízes corregedores, quando designados, não ficam desligados do exercício de suas varas.
- B** Os juízes corregedores têm acrescida à remuneração dos seus cargos parcela remuneratória referente à nova função para a qual foram designados.
- C** Ao final do mandato do corregedor-geral, os juízes corregedores não ficam obrigados a reverterem ao exercício de suas varas, sendo-lhes facultada a escolha de nova vara para servir.
- D** Os juízes corregedores são escolhidos entre os juízes de direito de entrância final e designados pelo presidente do tribunal, ouvido o Conselho de Magistratura.

## PROVA DISCURSIVA

- Nesta prova — que vale **dez** pontos —, faça o que se pede, usando os espaços indicados no presente caderno para rascunho. Em seguida, transcreva o texto para a **FOLHA DE TEXTO DEFINITIVO DA PROVA DISCURSIVA**, no local apropriado, pois **não serão avaliados fragmentos de texto escritos em locais indevidos**.
- Qualquer fragmento de texto além da extensão máxima de **trinta** linhas será desconsiderado.
- Na **folha de texto definitivo**, identifique-se apenas no cabeçalho da primeira página, pois **não será avaliado** texto que tenha qualquer assinatura ou marca identificadora fora do local apropriado.

Olhar também é perigoso. E caímos no dilema: ver ou não ver?

Ana Miranda. *O oráculo insondável*. In: *Correio Braziliense*, 2/4/2006 (com adaptações).

Se interrogarmos nossa experiência, podemos circunscrever, sem dificuldade, o universo de nossas palavras e concluir que vivemos hoje a lenta agonia ou morte de algumas das que ajudaram a fundar a civilização.

(...)

A prática do sofrimento invalida a própria idéia de civilização. Ou melhor, a sensibilidade enfraquece e exige, paradoxalmente, excitações cada vez mais fortes: esse enfraquecimento é proporcional ao crescimento generalizado da brutalidade. Por que as cidades transformaram-se tão violentamente no espaço do temor e da tristeza?

Adauto Novaes. *Sobre tempo e história*. In: *Tempo e história* (com adaptações).

Tomando os fragmentos acima como motivadores de reflexão e argumentação, redija um texto dissertativo acerca de palavras e ações que contribuem para a justiça social. Em seu texto, inclua, necessariamente:

- ▶ aspectos causadores/estimuladores da injustiça social;
- ▶ possíveis soluções para a diminuição da injustiça social;
- ▶ caracterização/exemplos de justiça social.

1	
2	
3	
4	
5	
6	
7	
8	
9	
10	
11	
12	
13	
14	
15	
16	
17	
18	
19	
20	
21	
22	
23	
24	
25	
26	
27	
28	
29	
30	

