



PREFEITURA MUNICIPAL DE RIO BRANCO

CONCURSO PÚBLICO
Nível Superior

Aplicação: 2/9/2007

Cargo **30:**
FISCAL SANITÁRIO

Caderno **PERU** **MANHÃ**

LEIA COM ATENÇÃO AS INSTRUÇÕES ABAIXO.

- 1 Ao receber este caderno, confira atentamente se o tipo de caderno — Caderno PERU — coincide com o que está registrado em sua folha de respostas. Em seguida, verifique se ele contém cento e vinte itens, correspondentes às provas objetivas, corretamente ordenados de 1 a 120.
- 2 Caso o caderno esteja incompleto ou tenha qualquer defeito, solicite ao fiscal de sala mais próximo que tome as providências cabíveis.
- 3 Não utilize lápis, lapiseira, borracha e(ou) qualquer material de consulta que não seja fornecido pelo CESPE/UnB.
- 4 Não se comunique com outros candidatos nem se levante sem autorização do chefe de sala.
- 5 Recomenda-se não marcar ao acaso: cada item cuja resposta diverja do gabarito oficial definitivo receberá pontuação negativa, conforme consta em edital.
- 6 A duração das provas é de **três horas e trinta minutos**, já incluído o tempo destinado à identificação — que será feita no decorrer das provas — e ao preenchimento da folha de respostas.
- 7 Você deverá permanecer obrigatoriamente em sala por, no mínimo, uma hora após o início das provas e poderá levar o seu caderno de provas somente no decurso dos últimos **quinze minutos** anteriores ao horário determinado para o término das provas.
- 8 Ao terminar as provas, chame o fiscal de sala mais próximo, devolva-lhe a sua folha de respostas e deixe o local de provas.
- 9 A desobediência a qualquer uma das determinações constantes no presente caderno ou na folha de respostas poderá implicar a anulação das suas provas.

AGENDA (datas prováveis)

- I **4/9/2007**, após as 19 h (horário de Brasília) — Gabaritos oficiais preliminares das provas objetivas: Internet — www.cespe.unb.br/concursos/pmrb2007.
- II **5 e 6/9/2007** — Recursos (provas objetivas): exclusivamente no Sistema Eletrônico de Interposição de Recurso, Internet, mediante instruções e formulários que estarão disponíveis nesse sistema.
- III **25/9/2007** — Resultado final das provas objetivas e convocação para a avaliação de títulos: Diário Oficial do Estado do Acre e Internet.

OBSERVAÇÕES

- Não serão objeto de conhecimento recursos em desacordo com o item 14 do Edital n.º 1 — PMRB, de 5/7/2007.
- Informações adicionais: telefone 0(XX) 61 3448-0100; Internet — www.cespe.unb.br/concursos/pmrb2007.
- É permitida a reprodução deste material apenas para fins didáticos, desde que citada a fonte.

- De acordo com o comando a que cada um dos itens de 1 a 120 se refira, marque, na **folha de respostas**, para cada item: o campo designado com o código **C**, caso julgue o item **CERTO**; ou o campo designado com o código **E**, caso julgue o item **ERRADO**. A ausência de marcação ou a marcação de ambos os campos não serão apenadas, ou seja, não receberão pontuação negativa. Para as devidas marcações, use a **folha de respostas**, único documento válido para a correção das suas provas.
- Nos itens que avaliam **Noções de Informática**, a menos que seja explicitamente informado o contrário, considere que todos os programas mencionados estão em configuração-padrão, em português, que o *mouse* está configurado para pessoas destros e que expressões como clicar, clique simples e clique duplo referem-se a cliques com o botão esquerdo do *mouse*. Considere também que não há restrições de proteção, de funcionamento e de uso em relação aos programas, arquivos, diretórios e equipamentos mencionados.

CONHECIMENTOS BÁSICOS

1 À semelhança do Brasil, o Acre compõe-se de uma
grande diversidade de povos indígenas, cujas situações frente
à sociedade nacional também são muito variadas. Enquanto
4 a grande maioria dos grupos se encontra em contato
permanente ou regular com a população regional (mestiça ou
branca), alguns ainda são classificados pelo órgão indigenista
7 como “isolados”.

As sociedades indígenas acreanas dividem-se de
maneira desigual em duas grandes famílias lingüísticas: Pano
10 e Arawak. Alguns desses povos encontram-se também nas
regiões peruanas e bolivianas fronteiriças ao Acre. Do ponto
de vista da antropologia, o conhecimento sobre as sociedades
13 indígenas do estado é muito desigual. Se alguns povos, como
os Kaxinawá ou os Ashaninka, atraíram o interesse de vários
pesquisadores, as informações etnográficas disponíveis sobre
16 a maior parte dos povos indígenas acreanos ainda são muito
incipientes.

Os povos indígenas ocuparam um lugar marginal na
19 historiografia do Acre. Como no resto da Amazônia, o
imaginário ocidental sobre a natureza e a alteridade humana
projetou seus fantasmas na região acreana e nos seus
22 primeiros habitantes indígenas. A “conquista do deserto
ocidental” e a incorporação do Acre à nação revelam alguns
mitos fundadores do pensamento ocidental e brasileiro sobre
25 a Amazônia e os povos indígenas.

José Pimenta. Internet: <ambienteacreano.blogspot.com> (com adaptações).

Em relação ao texto acima, julgue os itens que se seguem.

- 1 A substituição de “cujas” (l.2) por **as quais** mantém a correção gramatical do período e as relações lógicas originais.
- 2 Na linha 4, a forma verbal “encontra” está no singular para concordar com “a grande maioria”.
- 3 A substituição de “dividem-se” (l.8) por **são divididas** mantém a correção gramatical do período.
- 4 Em “encontram-se” (l.10), o pronome “se” indica que o sujeito da oração é indeterminado, o que contribui para a impessoalização do texto.
- 5 A palavra “incipientes” (l.17) está sendo empregada no sentido de **pouco confiáveis, suspeitos**.
- 6 O emprego da palavra “alteridade” (l.20) está relacionado ao sentido de **diferença, diversidade, distinção**, ou seja, ao sentido de **outro**.

1 Viajando pelas bocas dos rios Juruá e Purus no
início do século XIX, os naturalistas alemães Spix e Martius
anotaram, em seus diários, a presença de “índios selvagens”
4 e a falta de “civilização”, que, segundo os autores,
caracterizavam a região. Além da exploração da região e de
suas riquezas naturais, as primeiras expedições oficiais ao
7 Purus e ao Juruá, lideradas, respectivamente, por João
Rodrigues Cameté e Romão José de Oliveira, em meados do
século XIX, tinham como objetivo a atração e a pacificação
10 dos índios.

Essas *entradas* permaneceram limitadas, subindo os
rios apenas parcialmente, mas inauguraram uma série de
13 explorações da região durante as décadas de 50 e 60 do
século XIX. Entre essas expedições, destaca-se a viagem, a
mando da Royal Geographical Society de Londres, do
16 geógrafo inglês William Chandless, que subiu o Purus em
1864/65 e o Juruá em 1867. Todavia, a historiografia
regional consagrou os nomes de Manoel Urbano, explorador
19 do Purus em 1858, e de João da Cunha Corrêa, que percorreu
o Juruá em 1861, como os primeiros “desbravadores” e
“descobridores” das terras acreanas.

Idem, ibidem (com adaptações).

Considerando o texto acima, julgue os itens a seguir.

- 7 De acordo com o texto, os alemães Spix e Martius integraram as primeiras expedições oficiais aos rios Juruá e Purus.
- 8 Os objetivos das expedições lideradas por João Rodrigues Cameté e Romão José de Oliveira, de acordo com o texto, circunscreviam-se à pacificação dos índios da região.
- 9 O emprego de itálico em “*entradas*” (l.11) indica que essa expressão está sendo utilizada com sentido adaptado ao contexto, pois seu sentido original não abrange expedições da região Norte.
- 10 O uso de vírgula após “Chandless” (l.16) justifica-se por isolar oração subordinada adjetiva explicativa.
- 11 O termo “Todavia” (l.17) pode, sem prejuízo para a correção gramatical e para as informações originais do período, ser substituído por qualquer um dos seguintes: Porém, Contudo, Entretanto, No entanto, Porquanto, Conquanto.

Considerando que os fragmentos incluídos nos itens seguintes, na ordem em que são apresentados, são partes sucessivas de um texto de José Pimenta (Internet: <ambienteacreato.blogspot.com>), julgue-os quanto à correção gramatical.

- 12 Última tentativa do governo boliviano para ocupar a região acreana, a criação do Bolivian Syndicate exigiu da antiga colônia espanhola concessões enormes de soberania. Segundo os termos do contrato assinado em julho de 1901, a Bolívia oferecia a companhia internacional, compostas por grandes grupos financeiros, principalmente norte-americanos, uma concessão de trinta anos para a exploração da seringueira na região.
- 13 O consórcio capitalista dispunha de plena autoridade sobre o comércio da borracha e também de direitos políticos e judiciais essenciais. Ele usufruía o direito de compra e venda dos seringais, o direito de navegar e de controlar os rios por meio de uma polícia própria e o direito de estabelecer as leis e exercer a justiça. Em contrapartida, a Bolívia recebia 60% da arrecadação realizada pela companhia.
- 14 A criação do Bolivian Syndicate foi um dos momentos-chave do conflito acreano, um evento crítico que levou à incorporação do Acre ao Brasil. Para os seringueiros brasileiros, o Bolivian Syndicate surgiu como uma espécie de companhia colonial que controlava não só a terra, mas também toda a organização do trabalho extrativista da borracha. Essa situação revoltou a população acreana, que conseguiu superar suas divisões internas e se organizar contra o inimigo comum.
- 15 O sentimento do povo acreano espalhou-se além das bacias do Purus e do Juruá e comoveu o país que deu um apoio decisivo à luta dos seringueiros. A formação do Bolivian Syndicate criou um fervor nacionalista e patriótico que cimentou a nação, contra os inimigos do Brasil. Manifestações contra os americanos e bolivianos se organizaram em Manaus, Belém e Rio de Janeiro. Orgulho da nação, a Amazônia era novamente cobiçada pelo capital estrangeiro.

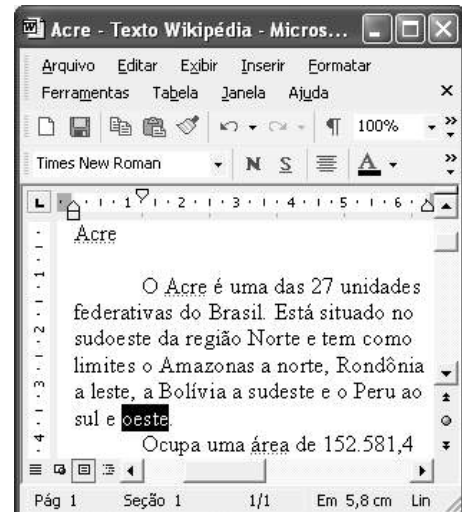
1 Poderíamos definir o *amazonismo* como um conjunto de idéias e de discursos, produzidos pelo imaginário ocidental sobre a Amazônia e as populações nativas, destinado a
4 viabilizar interesses políticos e econômicos. Como espaço imaginado pelo Ocidente, o *amazonismo* partilha muitas características com o *orientalismo*. Todavia, enquanto Said
7 nos apresenta um Oriente construído de maneira negativa por um Ocidente hegemônico, o *amazonismo* constituiu um campo ambíguo, catalisador de imagens e de discursos
10 contraditórios, que podem ser mobilizados para servir a interesses muito divergentes.

Primeiras testemunhas da Amazônia e de seus
13 habitantes, Carvajal (1542) e Acuña (1641) elaboraram relatos em que combinaram o fantástico e o exótico e edificaram as bases do *amazonismo*: mito das amazonas, inferno verde,
16 eldorado, seres canibais e nobre selvagem. A Amazônia e seus primeiros habitantes concentraram e continuam concentrando sentimentos e fantasias ocidentais. Símbolo de riqueza e
19 miséria, de medo e esperanças, de sonhos e pesadelos, de futuro e passado, de inferno e paraíso. A alteridade é o espelho invertido do ocidente e é manipulada conforme os interesses
22 em jogo. Essas imagens contraditórias acompanharam e informaram a conquista da América e o encontro com as populações indígenas. Além de legitimarem a ocupação e a
25 exploração econômica, os mitos também serviram para sustentar os interesses políticos e ideológicos da Europa.







Idem, ibidem (com adaptações).

Considerando o texto acima, julgue os itens de 16 a 20.

- 16 Pelo emprego de expressões coloquiais, pela informalidade, pelas escolhas lexicais e sintáticas, a linguagem do texto é inadequada para documentos oficiais.
- 17 O emprego do plural em “Poderíamos” (ℓ.1) é suficiente para se considerar o texto subjetivo e pessoal, em oposição a um texto impessoal, neutro, objetivo.
- 18 O termo “catalisador” (ℓ.9) está sendo empregado no mesmo sentido que tem na seguinte frase: O mito é catalisador de sentimentos e fantasias em relação ao universo amazônico.
- 19 O sinal de dois-pontos após “*amazonismo*” (ℓ.15) justifica-se por anteceder uma enumeração de itens.
- 20 O termo “manipulada” (ℓ.21) está no feminino singular para concordar com “alteridade” (ℓ.20).



A figura acima mostra uma janela do Word 2002, com parte de um texto em processo de edição, no qual a palavra “oeste” está destacada. Com relação a esse texto, ao Word 2002 e à situação ilustrada na figura, julgue os itens que se seguem.



- 21 Para se centralizar e aplicar negrito ao título do texto — “Acre” —, é suficiente aplicar um clique duplo entre duas letras desse título, clicar **N** e, a seguir, pressionar simultaneamente as teclas **Ctrl** e **C**.
- 22 Ao se clicar o botão , passam a ser exibidas algumas marcas de formatação, como, por exemplo, marcas de parágrafo. Embora essas marcas sejam exibidas na janela mostrada, elas não são impressas em papel quando é realizada impressão.
- 23 A ferramenta **100%**  permite ampliar ou reduzir a exibição do documento ativo.
- 24 Caso se pressione a tecla **Delete** , a palavra “oeste”, que está selecionada, será excluída do texto. Caso se deseje desfazer essa exclusão, é suficiente clicar, logo após a exclusão, o botão .
- 25 Para se copiar a palavra “Acre”, no título do texto, para o final do parágrafo iniciado em “O Acre é uma”, é suficiente: selecionar a referida palavra; clicar ; clicar onde se deseja colar a referida palavra, no final do parágrafo; clicar .

Com relação a conceitos de Internet e *intranet*, julgue os próximos itens.

- 26 Não é possível, em uma *intranet*, a troca de mensagens de correio eletrônico entre dois usuários de dois computadores pertencentes a essa *intranet*.
- 27 A seqüência de caracteres joao@empresa.com.br é um exemplo de URL, ou endereço de página da Web, e a seqüência de caracteres www.empresa.com.br é um exemplo de endereço de correio eletrônico.







A figura acima mostra uma janela do Internet Explorer 6 (IE6), em que é exibida uma página da Web. Com relação a essa figura, ao IE6 e à Internet, julgue os itens subseqüentes.

- 28 Ao se clicar o botão , é disponibilizada uma ferramenta que tem como função principal permitir ao usuário a visualização de detalhes na página em exibição.
- 29 Ao se clicar o botão , será exibida a página da Web que havia sido acessada anteriormente à atual.





A figura acima mostra uma janela do Excel 2002, com uma planilha contendo os preços, em reais, de vários componentes de um equipamento. Com relação a essa figura e ao Excel 2002, julgue os itens seguintes.

- 30 Para se aplicar itálico ao conteúdo da célula A5, é suficiente clicar essa célula e, em seguida, clicar .
- 31 Para se calcular a soma dos preços contidos nas células de B2 a B5 e pôr o resultado na célula B6, é suficiente clicar essa célula, digitar =B2+B3+B4+B5 e, em seguida, teclar .
- 32 O botão  tem a função de permitir o salvamento de alterações em um arquivo que já havia sido salvo anteriormente, e ao qual já foi atribuído um nome. Já o botão , ao ser clicado, causa a abertura da janela Salvar como, que permite salvar apenas o arquivo que ainda não foi salvo, nem teve um nome atribuído a ele.



Considerando a figura acima, que mostra uma janela exibida em um computador cujo sistema operacional é o Windows XP, julgue os itens a seguir.

- 33 Ao se aplicar um clique com o botão esquerdo do *mouse* sobre o ícone  'Planejamento', o arquivo do Word de nome Planejamento será aberto. Caso se clique com o botão direito, o ícone será excluído e enviado para a Lixeira.
- 34 Para se maximizar a janela mostrada, é suficiente clicar o botão .

Com relação a mensagens de correio eletrônico, julgue o item abaixo.

- 35 Normalmente, os programas que viabilizam o uso de correio eletrônico possuem funcionalidade que permite encaminhar uma mensagem recebida para um outro endereço de correio eletrônico.

A alta nos preços do petróleo e a necessidade de conter o aquecimento global estão fazendo os japoneses voltarem a olhar em direção ao Brasil, depois de 25 anos de afastamento nas relações bilaterais. Atendendo à solicitação do governo japonês e de empresários, o ministro de Negócios Estrangeiros, Taro Aso, chegou ao Brasil para conhecer de perto as etapas de produção e exportação do etanol.

Jornal do Brasil, 20/8/2007, p. A19 (com adaptações).

Tendo o texto acima como referência inicial e considerando a amplitude e a inserção do tema por ele focalizado no mundo contemporâneo, julgue os itens seguintes.

- 36** Após a derrota na Segunda Guerra Mundial, o Japão empreendeu vitorioso esforço de recuperação material, para o qual contou com apoio norte-americano. Em algumas décadas, o país se transformou em uma das maiores potências econômicas mundiais, posição que ainda preserva.
- 37** O texto menciona uma questão que está na ordem do dia do mundo atual e que se identifica com o perigoso aumento do efeito estufa, em larga medida gerado pela emissão descontrolada de gases poluentes na atmosfera.
- 38** O petróleo deixou de ser a base propulsora do sistema produtivo mundial a partir do momento em que a principal região produtora e exportadora, o Oriente Médio, viu-se em acentuada instabilidade política, com sucessivas guerras e a ação desvoluta de grupos terroristas.
- 39** A utilização da cana-de-açúcar para a produção de combustíveis é inovação brasileira recente, surgida após o fim do regime militar, possível graças à disponibilidade financeira decorrente da auto-suficiência de petróleo conquistada pelo Brasil.
- 40** Ao visitar recentemente o México e países da América Central, o presidente Lula enfatizou a importância da tecnologia brasileira para a produção do etanol e frisou que a expansão dessa atividade não implica redução da capacidade de produção de alimentos.

Poucos sabem que o aquecimento global também tem conseqüências positivas. Uma delas é permitir a agricultura em altas latitudes. Diante do impacto distinto em diferentes áreas do planeta, os cientistas, entre outros, apontam os perigos regionais como importantes. Em certas áreas, como o semi-árido, pode surgir o deserto, em outras, podem desaparecer ecossistemas inteiros.

Aqui no Brasil, determinamos que apenas 20% das propriedades na Amazônia podem ser exploradas. No cerrado, essa cota é de 35%. A medida conseguiu deter um pouco o desmatamento. Mas é questionada, porque 80% é um número cabalístico diante de uma região diversa. Daí a proposta de fazer zoneamento ecológico e econômico para precisar muito claramente o que se pode ou não se pode fazer.

Todas essas observações nos levam a reforçar uma tendência que já existe no Brasil, inspirada pelo geógrafo Milton Santos, que é a de colocar o território no centro das políticas públicas. Mesmo as cidades terão de ser delimitadas, claramente, para que se possa orientar o seu desenvolvimento sustentável.

Fernando Gabeira. Política e território. In: Folha de S.Paulo, 16/6/2007, p. A2 (com adaptações).

Tendo o texto acima como referência inicial e considerando as múltiplas implicações do tema por ele abordado, julgue os itens de **41 a 50**.

- 41** O fenômeno do aquecimento global é consensualmente considerado uma tragédia ambiental justamente porque deteriora, de maneira ampla e igualmente negativa, as condições de vida em todas as regiões do planeta.
- 42** Cientistas alertam para o fato de que o aquecimento global acarreta, entre outras conseqüências, o derretimento de geleiras, o que pode determinar a elevação do nível dos mares e seu potencial de destruição, particularmente nas zonas litorâneas.
- 43** Apesar do cenário de seca com o qual convive historicamente, o Nordeste brasileiro, segundo o texto, estaria a salvo de eventuais efeitos negativos causados pelo aquecimento global.
- 44** Ao se fixar na homogeneidade que caracteriza a Amazônia, o texto sugere que o percentual de área permitido à exploração econômica é compatível com as necessidades da região e positivo para o país.
- 45** A urbanização do Brasil contemporâneo, acompanhada de significativo despovoamento do campo, mostra-se demasiado rápida e, em geral, desprovida do necessário planejamento, o que contribui para a ampliação dos problemas que tendem a caracterizar, especialmente, as grandes regiões metropolitanas.
- 46** O conceito de desenvolvimento sustentável ganha força nos dias atuais e se fundamenta no princípio de que atender às necessidades do presente não pode significar a destruição dos recursos indispensáveis à vida das gerações futuras.
- 47** O Protocolo de Kyoto é um texto de abrangência que se pretende planetária, suscitado pela crescente compreensão de que algo precisa ser feito para minimizar as conseqüências negativas de um modelo de desenvolvimento econômico consagrado pela Revolução Industrial.
- 48** Ao propor medidas que levem à redução dos níveis de emissão de gases ampliadores do efeito estufa, o Protocolo de Kyoto foi referendado pelo conjunto dos Estados integrantes da Organização das Nações Unidas, a começar pelos sete países mais ricos (G-7).
- 49** Como reconhecido no texto, o Brasil não consegue deter a marcha do desmatamento de suas florestas, razão por que sofre pressão de setores ambientalistas, de organizações não-governamentais e de organismos multilaterais.
- 50** O texto salienta o que foi uma das grandes contribuições teóricas oferecidas por Milton Santos, geógrafo brasileiro falecido há poucos anos, cuja produção intelectual colheu reconhecimento internacional.

CONHECIMENTOS ESPECÍFICOS

O controle da emissão de material particulado pode ser realizado de diferentes formas. A remoção do material particulado da fumaça emitida pelas chaminés é o método mais usual em indústrias e termelétricas. Julgue o item que se segue, a respeito de dispositivos para o controle da emissão de material particulado para o ar.

51 No caso da utilização de filtros de manga ou de tecidos, o material particulado fica retido após a fumaça passar por um filtro de tecido (saco).

No dimensionamento de sistemas de drenagem pluvial, o projetista deve avaliar ou determinar as fases que compõem o ciclo hidrológico, que são a precipitação, o escoamento superficial, a infiltração e o escoamento subterrâneo. Acerca desse assunto, julgue os próximos itens.

52 As águas de precipitação, que escoam nas áreas urbanas, são coletadas por calhas Parshall localizadas nas vias públicas.

53 O escoamento superficial é a fração da água de chuva que escoam pela superfície do solo.

54 A impermeabilização do solo facilita a recarga do lençol subterrâneo.

Reservatórios de distribuição são elementos importantes em sistemas de abastecimento de água, atendendo a diversas finalidades. Com relação a reservatórios de distribuição de água, julgue os itens seguintes.

55 Quanto à posição em relação à rede de distribuição, os reservatórios podem ser classificados em: enterrado, semi-enterrado e apoiado.

56 A localização do reservatório de distribuição pode influir nas condições de pressão da rede, principalmente, na redução das variações de pressão.

57 Em grandes centros urbanos, o armazenamento de água tratada para distribuição é realizado na estação elevatória e não, no reservatório de distribuição.

58 É correto que a capacidade de um reservatório de distribuição seja definida utilizando-se como único parâmetro o volume necessário para combater incêndios na região onde o reservatório estiver instalado.

A presença de nitrogênio nas formas de amônia, nitrato e nitrito em água pode acarretar diversos problemas de poluição e de saúde pública. Acerca desse tema, julgue os itens a seguir.

59 O nitrogênio em elevadas concentrações em lagos e represas pode conduzir ao processo denominado eutrofização.

60 A amônia pode ser removida de águas residuárias por meio do processo de oxidação do metano.

61 A amônia na forma não ionizada (NH_3) é diretamente tóxica aos peixes.

62 No meio aquático, o nitrogênio, quando detectado, apresenta-se na forma líquida de N_2 .

A filtração de água para abastecimento é um processo que consiste na passagem da água por um meio poroso, em geral composto por areia. A principal função da filtração é a remoção de partículas responsáveis pela cor e turbidez, cuja presença reduziria a eficácia da desinfecção. Acerca do processo de filtração, julgue os seguintes itens.

63 O aumento do valor da turbidez na água filtrada é um parâmetro que indica o momento adequado para a lavagem de um filtro.

64 Os filtros de areia de uma estação de tratamento de água, quando operados continuamente, devem ser lavados após cada período de 10 anos.

65 Uma carreira de filtração é definida como o tempo em que o filtro fica parado para lavagem.

66 A lavagem dos filtros é realizada, em geral, com a injeção de água tratada no sentido ascendente.

O lançamento continuado de esgoto bruto (sem tratamento) em um trecho de rio resulta, indiretamente, em consumo do oxigênio dissolvido. Com relação a esse tema, julgue os itens que se seguem.

67 O oxigênio dissolvido é um parâmetro utilizado para avaliar a quantidade de nitrogênio presente na água.

68 Caso o oxigênio seja completamente consumido, estabelecem-se condições anaeróbias (ausência de oxigênio).

69 O esgoto sanitário bruto, por apresentar matéria orgânica na sua composição, é caracterizado como fonte de poluição.

70 Uma forma de evitar a poluição decorrente do lançamento de cargas poluidoras é a implantação de estações de tratamento de esgotos.

Os sistemas de esgotos urbanos podem ser de três tipos: sistema de esgotamento combinado, sistema de esgotamento separador parcial e sistema separador absoluto. Com relação a esses sistemas, julgue os seguintes itens.

71 No sistema combinado, ocorre a coleta das águas pluviais separadamente do esgoto.

72 Ao se projetar um sistema separador parcial, deve-se saber que uma parcela das águas pluviais (telhados e ruas) juntamente com as águas residuárias serão coletadas.

73 No Brasil, utiliza-se, basicamente, o sistema separador absoluto.

74 O sistema unitário exige investimentos elevados devido às grandes dimensões dos condutos e das obras complementares.

Estações de tratamento de esgotos sanitários (ETEs) são compostas por uma série de processos e operações que visam à remoção dos diferentes poluentes presentes no esgoto. Acerca dessas estações, julgue os itens que se seguem.

- 75** A calha Parshall é um dispositivo hidráulico que pode ser utilizado em ETE para medir a vazão.
- 76** Nas operações físicas unitárias, ocorre a predominância de reações químicas.
- 77** Os dispositivos grade e caixa de areia são responsáveis pela remoção de material grosseiro e areia, respectivamente.
- 78** Os níveis de tratamento que compõem uma ETE são, em geral, preliminar, primário e secundário.

Com relação ao processo de compostagem, que consiste na transformação de resíduos orgânicos em composto estabilizado denominado húmus, julgue os seguintes itens.

- 79** A compostagem é um processo químico que ocorre devido à adição de ácido sulfúrico na massa de resíduos.
- 80** O húmus pode ser utilizado como condicionador de solos.
- 81** Para a realização de compostagem, são utilizados os resíduos recicláveis secos, como vidro, plástico e papel.
- 82** O processo de compostagem ocorre na presença de oxigênio e é efetuado pela ação de organismos aeróbios.

As chuvas, ao caírem na área urbana, escoam inicialmente pelos telhados, pelas calçadas e pelos terrenos, até chegarem às ruas. Nestas, concentram-se nos seus bordos, onde escoarão pelas sarjetas até atingirem as bocas-de-lobo.

Barros *et al.* Manual de saneamento e proteção ambiental para os municípios. V. 2, 2.ª ed., DESA/UFMG, 1996.

Considerando o texto acima, julgue os itens que se seguem.

- 83** As sarjetas são projetadas em função de características tais como: inclinação da rua e tipo de pavimentação.
- 84** Nas bocas-de-lobo, ocorre o tratamento químico da água de chuva para evitar poluição no corpo hídrico.
- 85** A partir das sarjetas e bocas-de-lobo, a água de chuva escoar no nível da rua até o rio.
- 86** As sarjetas e as bocas-de-lobo são estruturas constituintes de um sistema de tratamento de água para abastecimento.

A poluição do ar pode ser caracterizada, de acordo com a fonte de poluente, em móvel e estacionária. As fontes estacionárias produzem cargas pontuais de poluentes, enquanto as fontes móveis produzem cargas difusas de poluentes. Do ponto de vista da extensão da área atingida pela poluição, há os problemas globais, que envolvem toda a ecossfera, e os problemas locais, restritos a uma área relativamente pequena. Com relação a esse assunto, julgue os itens seguintes.

- 87** Uma chaminé de uma indústria que emite poluentes na atmosfera pode ser classificada como fonte estacionária.
- 88** Os veículos que circulam por uma cidade são fontes móveis de lançamento de poluentes do ar.
- 89** A chuva ácida e a destruição da camada de ozônio são exemplos de problemas globais decorrentes da poluição atmosférica.
- 90** O efeito estufa é um problema local de poluição que não está relacionado com a poluição hídrica.

A ausência de fundamentação de uma norma penal em qualquer interesse constitucional, implícito ou explícito, ou o choque mesmo dela com o espírito que perambula pela Lei Maior, deveria implicar, necessariamente, a descriminalização ou não-aplicação da norma penal. Por outro lado, se a ameaça aos valores jurídicos constitucionais é que demonstra a necessidade da repressão penal, em detrimento, mesmo, dos direitos e garantias fundamentais do cidadão, assegurados também pelo texto constitucional, a hierarquia dos bens jurídicos, protegidos penalmente, não poderá deixar de guardar íntima relação com a hierarquia dos valores jurídico-constitucionais.

Márcia D. L. Carvalho. *Fundamentação constitucional do direito penal*. Porto Alegre: Sergio Antonio Fabris, 1992 (com adaptações).

Acerca do tema trazido pelo texto acima reproduzido, julgue os itens a seguir.

- 91** O direito constitucional, por meio de suas regras e princípios, deve reger os fatos incriminados pela lei penal e as conseqüências jurídicas deles decorrentes, norteando o sistema jurídico penal vigente.
- 92** As principais garantias constitucionais de caráter não-penal estão consubstanciadas, precipuamente, segundo a doutrina tradicional, nas garantias da inexistência de crime sem lei anterior que o defina (anterioridade), bem como na inexistência de pena sem prévia cominação legal (legalidade ou tipicidade penal).
- 93** O legislador penal encontra no texto constitucional um elenco definido e organizado dos bens que lhe cabe tutelar. Incumbe-lhe a tarefa de seleção, entre os bens constitucionais, daqueles que deve proteger com suas sanções.
- 94** A proteção penal faz-se pela criminalização protetora do bem jurídico constitucional, tutelando-o não só diretamente, mas, às vezes, por necessário, apenando condutas preparatórias que, se não fossem enfrentadas, tornariam inócua a proteção do bem jurídico fim. Nesse caso, a proteção penal se antecipa, criminalizando situações que ponham em perigo o bem jurídico.
- 95** O direito penal de um estado de direito democrático é informado por princípios que visam garantir os direitos individuais mais fundamentais do cidadão.

Julgue os itens que seguem, a respeito da aplicação da lei penal.

- 96** A lei penal, como regra, não se aplica a fatos anteriores à sua vigência, sendo, portanto, irretroativa. Contudo, ela poderá retroagir se for benéfica para o réu.
- 97** Algumas leis penais são editadas para vigorar até certa data, sendo chamadas de leis excepcionais, enquanto outras, chamadas temporárias, permanecem válidas enquanto durarem certas circunstâncias.
- 98** Ninguém pode ser punido por fato que lei posterior deixa de considerar crime, cessando em virtude dela a execução e os efeitos penais da sentença condenatória.

99 A regra segundo a qual aplica-se a lei brasileira, sem prejuízo de convenções, tratados e regras de direito internacional, ao crime cometido no território nacional consubstancia o princípio da extraterritorialidade.

100 As regras gerais estabelecidas pelo Código Penal não se aplicam aos delitos previstos na legislação especial ou extravagante.

101 Por ofender a soberania nacional e o princípio do juiz natural, não é possível que a pena cumprida no estrangeiro atenuie ou reduza a pena a ser cumprida no Brasil, pelo mesmo crime.

Acerca da forma como a tipicidade é tratada pelo direito penal brasileiro, julgue os itens subseqüentes.

102 É típico o fato que se enquadra perfeitamente na descrição legal de um crime, concretizando um fato abstratamente descrito como criminoso pela lei, que lesiona ou coloca em perigo um bem jurídico protegido.

103 O dolo e a culpa são elementos que devem ser analisados na esfera da tipicidade e não da culpabilidade.

104 A elaboração do conceito de tipicidade representa importantíssimo avanço, pois concretiza o princípio da reserva legal.

105 Em decorrência da fragmentariedade e subsidiariedade do direito penal, para ser típica, a conduta deve ter relevância. Se a ofensa ao bem jurídico protegido é insignificante, o fato não é materialmente típico.

106 Fato atípico é sinônimo de conduta permitida pelo direito, sendo certo que, não havendo crime, não haverá ilícito civil ou administrativo.

Julgue os itens a seguir, segundo as causas de extinção da punibilidade.

107 Se João causa lesão corporal grave em Joaquim e posteriormente João vem a falecer, opera-se, nessa hipótese, causa de perdão judicial.

108 Quando um crime é pressuposto de outro, como é o caso da falsidade ideológica praticada para fins de cometimento de um estelionato, a extinção da punibilidade do primeiro crime se estende ao segundo.

109 Nos crimes conexos, a extinção da punibilidade de um deles impede, quanto aos outros, a agravação da pena resultante da conexão.

110 Nos crimes permanentes, a prescrição, antes de transitar em julgado a sentença final, começa a correr do dia em que se iniciou o ato criminoso.

Acerca da lei que prevê os crimes de abuso de autoridade, julgue os itens subseqüentes.

111 Eventual falha na representação, ou mesmo sua falta, causa óbice intransponível à instauração da ação penal por crime de abuso de autoridade, pois a lei prevê, expressamente, tal condição de procedibilidade.

112 Os crimes de abuso de autoridade são especiais em relação aos tipos do Código Penal de difamação e injúria, porquanto o seu texto recepcionou todos os casos de agressão à honra das pessoas.

113 A pena de detenção é a sanção de natureza penal mais grave cominada aos crimes de abuso de autoridade.

114 A pena de perda do cargo e inabilitação para o exercício de função pública, prevista para os crimes de abuso de autoridade, é subsidiária, igualando-se com a perda do cargo ou função pública, prevista no Código Penal, como efeito da condenação.

Argemiro, gerente do setor administrativo de determinada empresa pública federal, apropriou-se, em proveito próprio, de recursos financeiros da entidade, que lhe foram confiados em razão do cargo, contando, para tanto, com ajuda de seu amigo Túlio.

Com referência à situação hipotética acima, julgue os próximos itens.

115 Argemiro é o sujeito ativo do crime cometido.

116 O fato praticado por Argemiro configura o delito de peculato-furto.

117 O sujeito passivo do crime narrado é Túlio, pois este apenas auxiliou a ação de Argemiro, sem deter o domínio do fato.

Julgue os seguintes itens.

118 É isento de pena o agente que, por doença mental ou desenvolvimento mental incompleto ou retardo, era, ao tempo da ação ou da omissão, inteiramente incapaz de entender o caráter ilícito do fato ou de determinar-se de acordo com esse entendimento.

119 Os menores de 18 anos são penalmente inimputáveis, ficando sujeitos, no entanto, às mesmas penas previstas no Código Penal.

120 Caso o agente ativo do delito tenha cometido o crime em razão de ter-se embriagado previamente e culposamente, ele fica isento da imputação penal.