



ESTADO DO TOCANTINS

SECRETARIA DA ADMINISTRAÇÃO

Concurso Público
Nível Superior

Cargo 2: MÉDICO LEGISTA

Aplicação: 27/1/2008

Caderno A

LEIA COM ATENÇÃO AS INSTRUÇÕES ABAIXO.

- 1 Confira atentamente se o tipo deste caderno — Caderno A — coincide com o que está registrado em sua folha de respostas. Em seguida, verifique se ele contém cento e vinte itens, correspondentes às provas objetivas, corretamente ordenados de 1 a 120.
- 2 Caso o caderno esteja incompleto ou tenha qualquer defeito, solicite ao fiscal de sala mais próximo que tome as providências cabíveis.
- 3 Não utilize lápis, lapiseira (grafite), borracha e (ou) qualquer material de consulta que não seja fornecido pelo CESPE/UnB.
- 4 Não se comunique com outros candidatos nem se levante sem autorização do chefe de sala.
- 5 Recomenda-se não marcar ao acaso: cada item cuja resposta diverja do gabarito oficial definitivo receberá pontuação negativa, conforme consta em edital.
- 6 A duração das provas é de **três horas e trinta minutos**, já incluído o tempo destinado à identificação — que será feita no decorrer das provas — e ao preenchimento da folha de respostas.
- 7 Você deverá permanecer obrigatoriamente em sala por, no mínimo, **uma hora** após o início das provas e poderá levar este caderno de provas somente no decurso dos últimos **quinze minutos** anteriores ao horário determinado para o término das provas.
- 8 Ao terminar as provas, chame o fiscal de sala mais próximo, devolva-lhe a sua folha de respostas e deixe o local de provas.
- 9 A desobediência a qualquer uma das determinações constantes no presente caderno ou na folha de respostas poderá implicar a anulação das suas provas.

AGENDA (datas prováveis)

- I 29/1/2008, após as 19h (horário de Brasília) – Gabaritos oficiais preliminares das provas objetivas: Internet — www.cespe.unb.br/concursos/secaditors2007.
- II 30 e 31/1/2008 – Recursos (provas objetivas): exclusivamente no Sistema Eletrônico de Interposição de Recursos, Internet, mediante instruções e formulários que estarão disponíveis nesse sistema.
- III 21/2/2008 – Resultado final das provas objetivas: Diário Oficial do Estado do Tocantins e Internet.
- IV 12/3/2008 – Convocação para a prova de capacidade física, para os exames médicos e para a avaliação psicológica: Diário Oficial do Estado do Tocantins e Internet.

OBSERVAÇÕES

- Não serão objeto de conhecimento recursivo em desacordo com o item 13 do Edital n.º 3/2007, de 11/10/2007.
- Informações adicionais: telefone (0XX) 61 3448-9100; Internet — www.cespe.unb.br/concursos/secaditors2007.
- É permitida a reprodução deste material apenas para fins didáticos, desde que citada a fonte.

- De acordo com o comando a que cada um dos itens de 1 a 120 se refira, marque, na **folha de respostas**, para cada item: o campo designado com o código C, caso julgue o item **CERTO**; ou o campo designado com o código E, caso julgue o item **ERRADO**. A ausência de marcação ou a marcação de ambos os campos não serão apenadas, ou seja, não receberão pontuação negativa. Para as devidas marcações, use a **folha de respostas**, único documento válido para a correção das suas provas.
- Nos itens que avaliam **Conhecimentos de Informática**, a menos que seja explicitamente informado o contrário, considere que todos os programas mencionados estão em configuração-padrão, em português, que o *mouse* está configurado para pessoas destras e que expressões como clicar, clique simples e clique duplo referem-se a cliques com o botão esquerdo do *mouse*. Considere também que não há restrições de proteção, de funcionamento e de uso em relação aos programas, arquivos, diretórios e equipamentos mencionados.

CONHECIMENTOS BÁSICOS

Inteligência artificial

1 Não foi difícil descobrir o assassino. Afinal, o major Rich tinha um ótimo motivo para matar Arnold Clayton: amava a esposa da vítima e era correspondido. Segundo a
4 polícia, o major usou uma arma para livrar-se de Clayton e escondeu o corpo em um baú.

A solução, no entanto, parecia simples demais para
7 o grande detetive Hercule Poirot, do clássico conto policial **O Mistério do Baú Espanhol**, da escritora britânica Agatha Christie. Persistente, ele sai em busca de pistas, descobre
10 fatos novos, tira conclusões espantosas e, por fim, apresenta ao leitor outro criminoso.

Será que um computador também seria capaz de
13 encontrar o verdadeiro assassino? Durante um curso da Universidade de Essen, os alunos testaram diversos programas concebidos em estudos sobre inteligência
16 artificial (IA). Para isso, utilizaram o caso apresentado em **O Mistério do Baú Espanhol**, servindo-se da IA para desvendar as estratégias intelectuais do detetive Poirot.
19 A grande questão era se a IA era capaz desse exercício intelectual ou se apenas fazia uma boa imitação da inteligência humana. Interessava saber se apresentaria
22 características que poderiam ser associadas a um comportamento inteligente. O objetivo era verificar se o *software* conseguiria descobrir o assassino tão rapidamente
25 quanto Poirot.

Mas será que esses programas-detetive se tornarão,
28 em algum momento, tão inteligentes quanto seus modelos humanos? Se pensarmos apenas na capacidade de processar o maior número possível de fatos no menor tempo, então os programas de IA são realmente eficazes. E com uma
31 vantagem: são dotados, como qualquer *software*, da capacidade de lidar com quantidades muito maiores de dados do que as pessoas.

No entanto, os cérebros artificiais são inferiores aos
34 humanos por pelo menos dois motivos. Por um lado, precisam de todas as informações para chegar à conclusão
37 correta. Por outro lado, a lógica dos programas de IA imita a racionalidade humana, afinal, não conhecemos nenhuma outra. Na verdade, os programas de IA trabalham como
40 analistas de dados. Em princípio, não são muito diferentes do nosso cérebro. Portanto, ainda não podemos esperar que *superpoiots* eletrônicos acabem com o mundo do crime.

Mente&Cérebro, fev./2007 (com adaptações).

Com base no texto **Inteligência artificial**, julgue os itens a seguir.

- 1 O texto apresenta uma apologia do emprego de *software* desenvolvido em estudos de inteligência artificial na resolução de crimes.
- 2 De acordo com o texto, os seres humanos necessitam de menos informações que um *software* para solucionar problemas e, por isso, chegam a resultados menos precisos.
- 3 Na linha 4, haveria prejuízo para a coesão e a coerência textual se a expressão “de Clayton” fosse substituída por **do marido**.
- 4 Após a expressão “da escritora britânica” (ℓ.8), poderia ser empregada uma vírgula, conforme faculta a norma gramatical.
- 5 No segmento “se a IA era capaz desse exercício intelectual ou se apenas fazia uma imitação da inteligência humana” (ℓ.19-21), as formas verbais poderiam ser corretamente substituídas por **seria** e **faria**, respectivamente.
- 6 O período que se inicia na linha 21 estaria gramaticalmente correto se fosse reescrito da seguinte forma: Interessavam as características que pudessem estar relacionadas a um comportamento inteligente.
- 7 Às palavras “ótimo”, “vítima” e “britânica” aplica-se a mesma regra de acentuação gráfica.

Considere que, no estado do Tocantins, um delegado de polícia tenha encaminhado ao secretário de segurança um expediente do qual se tenha extraído o seguinte trecho.

Conforme solicitado por Vossa Excelência, comunico que está sendo averiguado a hipótese de envolvimento no assassinato de pessoas com quem a vítima mantinha transações comerciais. Ressalto que foi de grande valia vossa participação no caso em questão.

Em face dessas considerações, julgue o item abaixo.

- 8 O trecho em questão atende às orientações de redação oficial e às normas gramaticais.

1 Na sociedade moderna, ao inverso das anteriores,
não há fronteiras, não há exterioridade. Todos os conflitos
são resolvidos ou são passíveis de soluções internas. Com
4 o surgimento do espaço da igualdade e do Estado-nação,
foram implementados mecanismos internos de resolução de
conflitos. O sistema capitalista, na medida em que se
7 implantou, por sua vocação natural à mundialização, dirimiu
a noção de exterioridade. Quando os escravos rebelavam-se
no Brasil colônia, só havia uma possibilidade de vitória: a
10 criação de quilombos, as organizações exteriores à sociedade
colonial-escravagista.

Cria-se, dessa forma, um paradoxo na sociedade
13 moderna, pois o excluído sempre *está dentro*, na medida em
que não existe mais o *estar fora*. Sempre está envolvido no
processo de produção-consumo. Sempre ocupa um desses
16 lugares, senão os dois. Os catadores de papel ou lixo em
geral, por exemplo, estão inseridos no processo produtivo,
ocupando a base de uma hierarquia de negócios, cujo ápice
19 é ocupado por indivíduos ricos que se apropriam dos valores
produzidos na base. O mesmo ocorre com os trabalhadores
informais pobres da esfera de comércio, que, com seu
22 trabalho, reduzem os custos da distribuição, evitando o
pagamento de impostos e benefícios salariais.

Morador de rua ou catador de papel, mendigo ou
25 biscateiro, todos estão inseridos no processo de produção e
consumo. Excluídos, mas não exteriores à sociedade.
Excluídos porque não têm acesso aos bens materiais e
28 simbólicos modernos ou não têm condições de participar da
gestão pública, pelo simples fato de se encontrarem no
patamar mínimo da sobrevivência.

O espaço da desigualdade, em sua nova dimensão,
impede que se consolide o espaço da igualdade, deixando
à margem dos direitos justamente aqueles que não têm
34 recursos para acionar os mecanismos de defesa.

Elimar Pinheiro do Nascimento. *In: No meio da rua – nômades, excluídos e viradores.*
Marcel Bursztyn (Org.). Rio de Janeiro: Garamond, 2000, p. 122-3 (com adaptações).

Com base no texto acima, julgue os itens subseqüentes.

9 O autor apresenta uma visão otimista, visto que, segundo ele,
os conflitos sociais são satisfatoriamente resolvidos dentro
da sociedade, o que exige mudança no conceito de exclusão.

10 De acordo com o texto, os trabalhadores informais
beneficiam-se por não pagarem impostos, o que estimula,
cada vez mais, esse tipo de relação de trabalho.

11 Na linha 2, a forma verbal “há”, nas duas ocorrências,
poderia ser corretamente substituída pela forma **existe**.

12 A locução verbal “foram implementados” (ℓ.5) corresponde
à forma **implementaram-se**.

13 A expressão “por sua vocação natural à mundialização”
(ℓ.7), que exprime causa, poderia corretamente ser
substituída por **devido sua aptidão à globalização**.

14 No texto, o segmento “dirimiu a noção de exterioridade”
(ℓ.7-8) tem o mesmo sentido de **suprimiu a noção de
estar fora**.

15 Sem prejuízo para a coerência textual, a locução “na medida
em que” (ℓ.13-14) poderia ser substituída por **visto que**.

Julgue os itens seguintes, relativos a informática.

16 O disco rígido ou HD (*hard disk*) é o dispositivo de
armazenamento de dados mais usado nos computadores.
Nele, é possível guardar não só os arquivos como também
todos os dados do sistema operacional, imprescindíveis para
a utilização do computador.

17 O *firewall* é o dispositivo que permite a conexão com a
Internet, uma vez que é responsável pela conversão do sinal
análogo em sinal digital.



18 O mp3 é o dispositivo substituto do disquete, pois consiste
em uma pequena memória portátil que funciona em
equipamentos com uma porta USB.

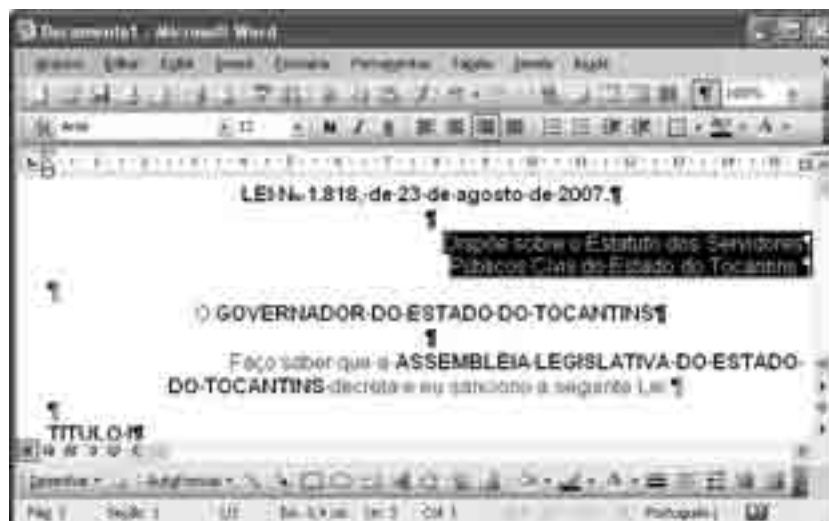
19 Trojan é um programa que age utilizando o princípio do
cavalo de tróia. Após ser instalado no computador, ele libera
uma porta de comunicação para um possível invasor.

20 A assinatura digital consiste na criação de um código de
modo que a pessoa ou entidade que receber uma mensagem
contendo este código possa verificar se o remetente é mesmo
quem diz ser e identificar qualquer mensagem que possa ter
sido modificada.




Considerando a figura acima, que mostra uma janela do navegador Internet Explorer 6 com a página da Secretaria de Administração do Estado do Tocantins, julgue os itens a seguir.

- 21 Ao se clicar a pasta Polícia Civil, é possível acessar, por meio da *intranet*, o sítio da polícia civil de outros estados, o que garante a integração das informações das secretarias de segurança.
- 22 A pasta Saúde apresentada na página pode ser renomeada ou excluída por meio de clique com o botão da direita do *mouse*.
- 23 O primeiro parágrafo do texto pode ser copiado para o Word com a seguinte seqüência de procedimentos: selecionar o parágrafo, clicar a opção Copiar no *menu* Editar; abrir documento do Word e clicar a opção Colar no *menu* Editar do Word.
- 24 O símbolo apresentado na janela  indica que esse é um sítio seguro, com criptografia.
- 25 O símbolo  indica que o *download* da página foi concluído.



Considerando a figura acima, que mostra uma janela do aplicativo Word 2003 com um documento em edição, julgue os itens que se seguem.

- 26 O parágrafo selecionado do texto está formatado com alinhamento direito.
- 27 Ao se dar duplo clique na ferramenta , a correção ortográfica é ativada.
- 28 Utilizando-se apenas o recurso de formatação, não é possível substituir a abreviação “No” (primeira linha do documento em edição) pelo símbolo N^o. Esse símbolo é acrescentado utilizando-se o recurso Clipart proporcionado pela opção Símbolo do *menu* Inserir.



Considerando a figura acima, julgue os itens subseqüentes, acerca do Excel 2003.

- 29** É possível obter o gráfico de número de ocorrências que aparece na figura acima por meio da seleção das células (A2:A8) e das células (B2:B8).
- 30** Considerando que o número de ocorrências no mês de julho foi o dobro em relação ao mês de janeiro, a expressão que deve ser escrita na barra de fórmulas para calcular o número de ocorrências de julho é $B9=2*B3$.

O Supremo Tribunal Federal (STF) decidiu liberar as obras de transposição do rio São Francisco. O projeto não deve ser paralisado, como apelou o bispo dom Luiz Flávio Cappio, há dias em greve de fome, com o apoio de organizações da sociedade civil — Conselho Indigenista Missionário (CIMI), Ordem dos Advogados do Brasil (OAB) e Movimentos dos Trabalhadores Rurais Sem Terra (MST). O governo federal avisou que não pretende paralisar as obras e anunciou a primeira licitação.

Correio Braziliense, 20/12/2007, p.12 (com adaptações).

Tendo o texto acima como referência inicial e considerando o tema que ele aborda, a questão ambiental e as desigualdades regionais existentes no Brasil, julgue os itens de **31** a **40**.

- 31** O projeto de transposição das águas do rio São Francisco não é recente e sua discussão começou a ganhar intensidade já na primeira metade da década passada; desde então, ele jamais deixou de suscitar polêmicas, inclusive de ordem técnica.
- 32** A greve de fome do religioso citado no texto é a segunda que ele faz com idêntico objetivo: pressionar o governo federal a suspender, pelo menos temporariamente, as obras de transposição das águas daquele que já foi denominado, no passado, rio da integração nacional.

- 33** Entre os opositores do projeto, prevalece a tese de que a transposição, ao contrário do que alegam seus defensores, não beneficiará a população mais pobre da região nordestina, mas atenderá, sobretudo, aos interesses de grupos empresariais e de particulares ricos.
- 34** Se, para o governo federal, o que conta é tão-somente a transposição, para quem se opõe ao projeto a questão prioritária é não mais que assegurar o fluxo natural do rio São Francisco, mantendo-o nas condições em que se apresenta hoje.
- 35** O governo se mantém firme na decisão de dar prosseguimento ao projeto porque dispõe da inegável simpatia dos chamados movimentos sociais e, sobretudo, sabe que conta com apoio incondicional do conjunto das bancadas com assento no Congresso Nacional.
- 36** A principal justificativa do governo federal para levar adiante o projeto de transposição é a imperiosa necessidade de minorar os dramáticos efeitos da seca em regiões nas quais as chuvas são escassas e a seca prolongada, como ocorre, principalmente, no Maranhão e no norte do Tocantins.
- 37** A questão da desigualdade regional está historicamente presente no debate brasileiro; não por outra razão, ela está na raiz de movimentos que levantavam a bandeira da redivisão político-administrativa do território, de que seria exemplo notório a própria criação do estado do Tocantins.
- 38** Mencionado no texto, o MST ampliou sua atuação pública e, ao apoiar o bispo em greve de fome e externar claramente seu repúdio ao projeto de transposição patrocinado pelo governo federal, resolveu, pela primeira vez em sua história, agir em uma área que não é propriamente a da reforma agrária.
- 39** A concessão de licenças ambientais para que determinadas e quase sempre grandiosas obras possam ser executadas tem gerado constrangimentos entre setores da própria administração pública, como ocorreu no caso da transposição do São Francisco e, mais recentemente, no da construção de usinas hidrelétricas no rio Madeira.
- 40** Se, ao longo da história, o rio São Francisco integrou parte do Sudeste a parte do Nordeste, na atual paisagem brasileira o jovem estado do Tocantins caracteriza-se geograficamente como zona de transição e unidade federada que conecta as regiões Norte, Nordeste e Centro-Oeste do país.

Uma proposição é uma frase afirmativa que pode ser julgada como verdadeira ou falsa, mas não ambos. Uma dedução lógica é uma seqüência de proposições, e é considerada correta quando, partindo-se de proposições verdadeiras, denominadas premissas, obtêm-se proposições sempre verdadeiras, sendo a última delas denominada conclusão. Considerando essas informações, julgue os itens a seguir, a respeito de proposições.

41 Considere verdadeiras as duas premissas abaixo:
O raciocínio de Pedro está correto, ou o julgamento de Paulo foi injusto.

O raciocínio de Pedro não está correto.

Portanto, se a conclusão for a proposição, **O julgamento de Paulo foi injusto**, tem-se uma dedução lógica correta.

42 Considere a seguinte seqüência de proposições:

(1) Se o crime foi perfeito, então o criminoso não foi preso.

(2) O criminoso não foi preso.

(3) Portanto, o crime foi perfeito.

Se (1) e (2) são premissas verdadeiras, então a proposição (3), a conclusão, é verdadeira, e a seqüência é uma dedução lógica correta.

Julgue os itens seguintes, que dizem respeito à determinação do número de possibilidades lógicas ou probabilidade de algum evento.

43 Suponha uma distribuição de prêmios em que são sorteados três números de dois algarismos. Para formar cada número, primeiro sorteia-se o algarismo das dezenas, que varia de 0 a 5. O algarismo das unidades é sorteado em seguida e varia de 0 a 9. Se, para formar cada número, o algarismo das dezenas e o algarismo das unidades já sorteadas não puderem ser repetidos, então a quantidade de números que podem ocorrer é inferior a 10^4 .

44 Considere que 9 rapazes e 6 moças, sendo 3 delas adolescentes, se envolvam em um tumulto e sejam detidos para interrogatório. Se a primeira pessoa chamada para ser interrogada for escolhida aleatoriamente, então a probabilidades de essa pessoa ser uma moça adolescente é igual a 0,2.

No retângulo abaixo, as células vazias só podem ser preenchidas com vogais e de modo que cada vogal apareça apenas uma vez em cada linha e em cada coluna.

A				
	E			
		I		
			O	
				U

De acordo com essas instruções e considerando as células de uma diagonal já preenchidas, julgue o item a seguir.

45 Se for colocada a vogal I em todas as células da outra diagonal desse retângulo, então não será possível preenchê-lo na forma especificada.

Com relação ao Estatuto dos Policiais Civis do Estado do Tocantins — Lei Estadual n.º 1.654/2006 —, julgue os seguintes itens.

46 Para os efeitos da referida lei, o ocupante do cargo de provimento efetivo de delegado de polícia é considerado policial civil.

47 Exercício é o efetivo desempenho das atribuições do cargo público ou da função de confiança. Estará sujeito à pena de exoneração, ou insubsistência do ato de nomeação, o candidato aprovado neste concurso público que, sem qualquer motivo justificado, não iniciar o exercício no cargo de delegado de polícia civil no prazo máximo de 30 dias, contados da data da posse.

48 O delegado de polícia civil, estável, tem direito a licença, assegurada a remuneração do cargo efetivo, durante o período entre a sua escolha em convenção partidária como candidato a cargo eletivo, até 10 dias após a eleição. Esse período poderá ser superior a 3 meses, mas deverá ser inferior a 6 meses.

49 Considere a seguinte situação hipotética.

Lucas, que é delegado de polícia civil e reside em Palmas, onde exerce o referido cargo, pretende mudar-se para Porto Nacional e continuar a exercer seu cargo em Palmas.

Nessa situação, independentemente de autorização superior, Lucas poderá concretizar sua pretensão.

50 O delegado de polícia civil responde civil, penal e administrativamente pelo exercício irregular de suas atribuições, por culpa ou dolo. A obrigação de reparar o dano estende-se aos seus sucessores e contra eles é executada, até o limite do valor da herança recebida.

RASCUNHO

CONHECIMENTOS ESPECÍFICOS

A estrutura organizacional da medicina legal no Brasil teve início em 1856, com a criação da Assessoria Médico-Legal na Secretaria de Polícia da Corte Imperial, no segundo período imperial brasileiro. Por ato do então Príncipe Regente, o ainda futuro Imperador dom Pedro II, mediante o Decreto n.º 1.740/1856, foi criado o embrião do que hoje são os institutos de medicina legal. Iniciou-se, dessa forma, um arcabouço organizacional que evoluiu espantosamente.

Com relação ao tema do texto acima e aos documentos médico-legais, julgue os itens subseqüentes.

- 51** Os médicos que compunham a Assessoria Médico-Legal da Corte foram os primeiros peritos louvados no Brasil independente.
- 52** É correto afirmar que os documentos médico-legais abrangem questões referentes à interface entre a medicina e o direito.
- 53** Alguns autores dividem a medicina legal em geral e especial. Para estes, a medicina legal geral trataria das questões voltadas às lesões corporais (traumatologia forense), identificação (antropologia forense), sexualidade criminosa (sexologia forense), da morte e do morto (tanatologia forense), de aspectos psicossociais criminosos (psicopatologia forense), entre outras subdivisões, e a medicina legal especial estudaria a deontologia e a dociologia médica.
- 54** A designação do perito pelo juízo no âmbito criminal pode ser vetada pelas partes conforme o Código de Processo Penal.
- 55** Não será considerado suspeito o perito oficial que, antes da designação para a perícia, tiver apenas aconselhado qualquer das partes.
- 56** Atualmente, a perícia médico-legal deve ser realizada nos institutos de medicina legal (IMLs). É vedado ao médico realizar exames médico-periciais de corpo de delito em seres humanos no interior dos prédios ou dependências de delegacias, unidades militares e presídios.
- 57** A diferença entre laudo e auto deve-se ao fato de que o primeiro é redigido e o segundo é ditado ao escrivão.

Na história aeronáutica brasileira recente, ocorreram dois trágicos acidentes, com os vôos 1907 e 3054, respectivamente em setembro de 2006, na selva de Mato Grosso, e em julho de 2007, na cidade de São Paulo. Durante os exames e a identificação dos corpos das vítimas, observou-se que as causas de morte predominantes nos dois acidentes foram diferentes. No primeiro caso, houve rompimento da estrutura da aeronave em pleno vôo, partição e liberação dos corpos a grande altura no ar, com queda sob árvores de floresta tropical. No segundo acidente, houve colisão e explosão seguida de incêndio no solo.

Em face dessas considerações e de aspectos médico-legais correlatos, julgue os itens a seguir, relativos aos acidentes acima mencionados.

- 58** Nas declarações de óbito, os legistas podem ter freqüentemente assinalado politraumatismo como causa de morte predominante no primeiro acidente e carbonização, no segundo.

- 59** A seqüência lógica e sistemática para identificação de corpos nesses dois casos seria a utilização dos seguintes métodos: papiloscopia, antropologia e DNA.
- 60** Nos casos em que não se conseguisse completar a identificação do corpo ou fragmento, por nenhum dos métodos antigos ou recentes, o legista deveria fornecer a declaração de óbito informando causa indeterminada.
- 61** Supondo que um fêmur tenha sido encontrado nos escombros, seria possível estimar a estatura da pessoa pela sua mensuração, visando exclusão ou inclusão em um grupo de identificáveis, utilizando-se a tábua de Quetelet.
- 62** Considerando que, no acidente com o vôo 1907, tenham sido encontrados diversos corpos com fragmentos de galhos transfixando completamente coxa, tórax e abdome, nesse caso, a classificação do instrumento causador da lesão seria contundente.
- 63** Caso fossem detectados níveis de carboxiemoglobina acima de 17% em sangue de passageiro do acidente com o vôo 3054, seria correto supor que a morte ocorrera por asfixia e que o corpo fora carbonizado em seguida.

Considere que um legista receba, por via judiciária, contestação de laudo necroscópico em que se assinala que o cadáver envolvido em acidente automobilístico estava embriagado, embora o advogado da parte alegue que se tratava de pessoa abstêmica. Em face dessas informações, julgue os itens que se seguem, considerando, ainda, quando aplicáveis, os dispositivos do Código de Trânsito Brasileiro (CTB).

- 64** O nível de alcoolemia máximo permitido para condutores de veículo automotor em via pública é de 0,6 decigrama de álcool por litro de sangue.
- 65** O legista terá agido corretamente ao assinalar no laudo que o periciado estava embriagado momentos antes da morte, especialmente se, durante a necropsia, ao abrir o estômago, tiver constatado pessoalmente que de lá emanara odor etílico.
- 66** No caso em questão, se, no exame laboratorial toxicológico, houve positividade para benzoilecgonina na urina, é correto afirmar que houve consumo de substância entorpecente.
- 67** Na situação considerada, caso houvesse positividade para MDMA no exame toxicológico, seria correto supor que o periciado pudesse ter apresentado alucinação.
- 68** No caso de exame em condutor de veículo, o fato de haver exame toxicológico positivo para maconha não guarda relação com infração prevista no CTB, uma vez que a legislação não correlaciona uso de drogas e delito de trânsito.
- 69** Cola de sapateiro, tiner e gasolina não podem ser considerados entorpecentes, porque não provocam embriaguez.
- 70** A embriaguez, voluntária ou culposa, causada pelo álcool ou por substância análoga, não elide a responsabilidade penal. Enquadram-se na categoria de embriagantes análogos ao álcool os estupefacientes, tais como a maconha, a morfina, a cocaína, alguns antidiabéticos e o éter.

Um senhor com 73 anos de idade, aposentado por tempo de serviço como trabalhador de construção civil, chegou ao IML com ofício de solicitação de perícia do tipo exame de corpo de delito, referente a acidente de trânsito com atropelamento por motocicleta, que ocorrera há cerca de 15 anos. No exame físico atual, constataram-se restrição da movimentação de flexão da articulação do joelho direito em 30° e atrofia da musculatura do membro inferior homolateral.

Com relação ao caso hipotético acima descrito, julgue os seguintes itens.

- 71** O legista deve assinalar em seu laudo que houve seqüela permanente com debilidade de membro inferior direito conseqüente ao atropelamento pela motocicleta, baseado no exame físico direto.
- 72** Se, no atropelamento, houve fratura cominutiva estrelada de rótula (patela) com desvio que tenha sido tratada com procedimento cirúrgico, a situação será passível de enquadramento no inciso I do art. 129 do Código Penal, por incapacidade para ocupações habituais por mais de trinta dias ou debilidade permanente de membro, sentido ou função.
- 73** Se o exame referente ao caso em apreço fosse realizado cinco dias após o acidente causador da fratura, seria necessário exame complementar e, no laudo, quanto aos quesitos sobre natureza da lesão, o médico deveria registrar o seguinte: “aguardar”.
- 74** No caso considerado, os dados são suficientes para se afirmar que o motivo da aposentadoria estaria relacionado à infortunistica se decorresse do atropelamento pela motocicleta.

Após discussão entre casal e ocorrência de “vias de fato”, o marido e a esposa foram levados à delegacia e, a seguir, ao IML. A esposa apresentava equimose ovalar de 5 cm × 3 cm na região deltoideana esquerda, arroxeadas. No exame do marido, não foi constatada lesão corporal. O procedimento foi baseado na Lei Federal n.º 11.340/2006 — Lei Maria da Penha.

Com relação ao caso acima exposto, julgue os próximos itens.

- 75** No caso considerado, a referida lei é aplicável e determina que a autoridade policial encaminhe a ofendida ao IML para que se proceda ao exame de corpo de delito.
- 76** A referida lei criou mecanismos para coibir e prevenir a violência doméstica e familiar contra a mulher, e, no caso em questão, o marido deve ser enquadrado nessa lei como agressor.
- 77** No caso descrito, o exame do marido pode ser considerado exame de corpo de delito para verificação de lesões corporais de natureza cautelar (*ad cautelam*).
- 78** A lesão da esposa é considerada de natureza grave porque se trata de crime enquadrado na lei em apreço.

Julgue os itens que se subseguem, relacionados às atribuições dos médicos legistas.

- 79** Na condição de médico legista, as responsabilidades funcionais que o cargo impõe suplantam as responsabilidades ética, administrativa, penal e civil.
- 80** A proteção de pessoas sujeitas a quaisquer formas de detenção ou prisão para tortura ou outro procedimento cruel, desumano ou degradante de tratamento ou punição, não está elencada nos deveres dos médicos legistas, uma vez que não faz parte do acordo coletivo de trabalho da respectiva categoria profissional.
- 81** De modo geral, quando forem submetidos a exame, os detentos devem estar desalgemados.
- 82** O fornecimento de declarações de óbito em caso de mortes naturais, ocorridas em serviços assistenciais de saúde, públicos ou privados, é atribuição primária dos médicos legistas.

O cadáver de uma adolescente foi encontrado na margem de um rio, com os pés dentro d'água. O corpo apresentava mancha verde abdominal, circulação de póstuma, distensão torácica e abdominal, rigidez cadavérica desfeita e livores vinhosos somente em dorso, mais nítidos nas extremidades inferiores. Na roupa íntima, na parte em contato com a região perineal, havia sangue e na região perianal havia fezes. O orifício anal estava dilatado. No pé havia ferida com perda de substância sem edema nas bordas. Durante a necropsia, foram constatados: edema de laringe, edema e hemorragias pulmonares, certo grau de distensão pulmonar, dilatação das câmaras direitas do coração; além disso, exames complementares mostraram eosinofilia.

Com relação ao quadro hipotético acima descrito, julgue os itens seguintes.

- 83** Existem indícios de que o local de morte provável é o local em que o cadáver foi encontrado.
- 84** A dilatação anal é prova de ato libidinoso.
- 85** A presença de sangue na roupa íntima sobre a região perineal é prova de violência sexual ou conjunção carnal.
- 86** A ferida descrita no pé é prova de tortura.
- 87** Durante a cronotanagnose pode ser estabelecido que a morte ocorreu a mais de 24 horas antes do exame.
- 88** É correto inferir que a jovem foi vítima de enforcamento praticado no local em que seu corpo foi encontrado.
- 89** A hipótese de morte súbita por anafilaxia não pode ser descartada.
- 90** Está indicada a retirada das córneas para transplante, que só poderá ser feita mediante autorização da família.
- 91** Trata-se de morte violenta.

Um famoso recluso do sistema prisional foi encaminhado ao IML, para exame psicopatológico forense, visando estabelecimento de grau de periculosidade. Esteve em estabelecimento prisional psiquiátrico, em regime fechado durante trinta anos, e estava sob tratamento médico e medicamentoso. Cometera diversos homicídios e estupros no passado e agora seria posto em liberdade, devido ao longo tempo de reclusão. Como tinha comportamento semi-autista, não dava trabalho aos carcereiros e não se envolvia em confusão. Em sua ficha de avaliação constava que ele era “de bom comportamento”.

Julgue os itens a seguir, relativos à situação do personagem hipotético descrito acima.

- 92** Na situação descrita o detento pode ser submetido ao exame de periculosidade.
- 93** Essa pessoa possivelmente foi considerada inimputável, em exame para verificar a capacidade penal nos incidentes de sanidade mental, instaurados durante a fase de inquérito do processo.
- 94** Essa pessoa deve ser considerada incapaz, caso não tenha o necessário discernimento para a prática de atos da vida civil, como comprar e vender bens imóveis.
- 95** Se estivesse ainda na menoridade ao cometer os crimes, o autor seria inimputável, porém o enquadramento jurídico está contido no Estatuto da Criança e Adolescente e ele estaria sujeito a medidas socioeducativas.
- 96** Caso essa pessoa não tivesse registro civil e houvesse dúvida em relação a sua idade na época do cometimento dos delitos, esta poderia ser estabelecida por exame médico legal, com verificação da dentição ou da soldadura das epífises dos ossos do punho, segundo os critérios de Sarno.
- 97** Pelo fato de essa pessoa possuir bom comportamento e já estar com certa idade, a cessação de periculosidade deve ser assinalada, sem o exame psicopatológico forense.

Uma mulher foi encaminhada ao IML para realização de exame para verificação de conjunção carnal e de atentado violento ao pudor. Havia histórico de violência sexual durante a espera de ônibus em ponto mal iluminado e pouco frequentado. Ela fora arrastada a um matagal adjacente ao ponto, por dois homens que estavam de carro e pararam próximo ao local. A vítima era casada e mantivera relação sexual completa com o marido momentos antes de sair de casa naquele dia.

Julgue os itens subseqüentes com relação à ocorrência relatada acima.

- 98** Como a vítima alegou ter mantido relação sexual com o marido, é desnecessária a coleta de material vaginal para pesquisa de espermatozoides, uma vez que é impossível, pelas técnicas disponíveis atualmente, a distinção entre os do marido e os dos agressores.

99 No quesito oficial que indaga se houve conjunção carnal, no laudo realizado pelo legista, a resposta nesse caso deverá ser “sem elementos”. Isso decorre do fato de a periciada ser casada e já possuir ruptura himenal antiga.

100 Caso sejam encontradas rágades anais, o legista poderá responder “sim” ao quesito acerca da existência de vestígios de ato libidinoso no laudo referente a atentado violento ao pudor.

Recém-nascido a termo foi trazido ao IML para necropsia. Constava no ofício de solicitação que os pais da criança alegavam erro e negligência médica, porque os médicos não encaminharam o menino para a UTI neonatal logo após o nascimento. Tratava-se de um hospital particular e a mãe fora internada às pressas. Não houve tempo para preenchimento de fichas ou pagamento de caução exigida, porque a parturiente já estava em período expulsivo. O cadáver estava com pele de aspecto bolhoso, a epiderme começava a se deslocar em certas áreas e, em outras áreas, já havia franco deslocamento epidérmico. Nas cavidades serosas, havia efusões hemorrágicas.

Com relação ao problema exposto acima, julgue os próximos itens.

- 101** Os médicos que atenderam a parturiente agiram contra os preceitos éticos e legais nesse caso específico, pois, independentemente de pagamento, o atendimento emergencial deve ser prestado, inclusive com internações em UTI.
- 102** A internação do recém-nascido em UTI neonatal não surtiria nenhum efeito.
- 103** É correto inferir que, no exame necroscópico no IML, nesse caso, a docimasia de Galeno foi negativa em suas quatro fases.
- 104** As efusões hemorrágicas observadas devem ser conseqüência de possíveis tocotraumatismos ocorridos durante o parto.
- 105** Durante a necropsia desse recém-nascido, não é esperado encontrar o tumor do parto ou *caput succedaneum*, cefaloematoma ou fratura do crânio com infiltração hemorrágica.
- 106** Nesse caso, a docimasia gastrointestinal de Breslau e a docimasia otológica de Wreden-Wendt devem ser positivas.
- 107** Para a justiça, os termos aceleração de parto e aborto são sinônimos.

Um cadáver foi levado ao IML para necropsia. Possuía lesão de pele *estourada* de dentro para fora localizada na nuca. Na ferida, havia lacerações radiadas cujas bordas careciam de escoriações. A parte central da ferida apresentava cor cinza escura e chamuscamento.

Julgue os seguintes itens, relativos ao caso descrito acima.

- 108** A cor escura deve-se à impregnação dos resíduos de disparo e grãos de propelente incombustos de arma de fogo.
- 109** A ferida foi causada pela ação expansiva dos gases incandescentes resultante de disparo de arma de fogo.
- 110** O sinal de impregnação de resíduos é conhecido como sinal de Werkgartner.
- 111** Se for encontrada uma escoriação circular localizada um pouco adiante, adjacente à ferida de entrada de projétil de arma de fogo, é correto inferir se tratar de disparo realizado com uma arma do tipo pistola, que estava com o orifício do cano encostado, podendo a escoriação ter sido provocada pelo pino da mola recuperadora.
- 112** O sinal de massa de mira adjacente a uma ferida causada por disparo de arma de fogo com orifício do cano encostado é denominado sinal de Benassi.
- 113** No caso de tiro encostado na nuca, é correto afirmar que houve execução, descartando a possibilidade de suicídio.
- 114** Se o referido cadáver possuir ferida correspondente à saída de projétil de arma de fogo, espera-se que esta seja de forma estrelada, possua orla equimótica e bordas de pele evertidas.
- 115** Na situação descrita, a causa da morte assinalada no laudo pericial e na declaração de óbito seria traumatismo cranioencefálico por ação de instrumento perfurocontundente.

Considerando que uma criança de dois anos e meio seja levada ao IML por funcionários do conselho tutelar devido a denúncias de maus-tratos por parte da mãe e abuso sexual pelo padrasto, julgue os itens a seguir.

- 116** Caso o legista, ao examinar a criança, observe múltiplas lesões do tipo equimoses, hematomas, feridas e escoriações em diferentes fases de evolução temporal, deverá assinalar “sim” no quesito referente à crueldade.
- 117** Conjunção carnal em criança de dois anos e meio geralmente provoca lacerações perineais de grande monta.
- 118** Não encontrando lesões, corpos estranhos ou outras alterações nas regiões genitais da criança, o legista deve assinalar “não” no quesito acerca da existência de vestígios de ato libidinoso.

Com relação ao exame de material genético de suspeitos de estupro para o estabelecimento de vínculo genético, julgue os itens subseqüentes.

- 119** Com a coleta de sangue da vítima e do suposto estuprador, pode-se realizar o confronto e concluir sobre a autoria.
- 120** O teste de DNA é 100% infalível, distinguindo inclusive a identidade entre suspeitos, irmãos gêmeos univitelinos.