

**CARGO:  
ASSISTENTE DE SANEAMENTO**

**FUNÇÃO:  
Técnico em Segurança do Trabalho**

**LEIA COM ATENÇÃO AS INSTRUÇÕES ABAIXO.**

- 1 Confira atentamente se os seus dados pessoais e se os dados identificadores de sua função ou formação transcritos acima coincidem com o que está registrado em sua folha de respostas. Confira também a sua função ou formação e o seu nome em cada página numerada deste caderno de provas. Em seguida, verifique se ele contém a quantidade de itens indicada em sua **folha de respostas**, correspondentes às provas objetivas. Caso o caderno esteja incompleto, tenha qualquer defeito, ou haja divergência quanto aos seus dados pessoais ou quanto aos dados identificadores de sua função ou formação, solicite ao fiscal de sala mais próximo que tome as providências cabíveis, pois não serão aceitas reclamações posteriores nesse sentido.
- 2 Na **folha de respostas**, escreva o seu nome e assine no local apropriado somente quando autorizado pelo chefe de sala, no momento da identificação, e também somente nesse momento, escreva, no espaço apropriado da **folha de respostas**, com a sua caligrafia usual, a seguinte frase:  
  
**Guarda teu amigo sob a chave de tua própria vida.**
- 3 Marque as suas respostas na **folha de respostas**, nos campos apropriados, conforme o **exemplo de preenchimento** apresentado nessa folha.
- 4 A **folha de respostas** é o único documento que será utilizado para a correção eletrônica de suas provas objetivas. Não amasse, não dobre nem rasure a sua **folha de respostas**. As marcações na **folha de respostas** só podem ser feitas com caneta esferográfica de **tinta preta, fabricada em material transparente**. Não será permitido o uso de lápis, lapiseira (grafite) e(ou) borracha.
- 5 Em nenhuma hipótese, haverá substituição da **folha de respostas** por erro de preenchimento do candidato.
- 6 Caso você deseje alterar a sua opção de unidade regional, marque, na sua **folha de respostas**, no campo **OPÇÃO DE UNIDADE REGIONAL**, a sua nova escolha. Nesse campo, a ausência de marcação ou a marcação de mais de uma opção implicará a manutenção da escolha de unidade regional feita por ocasião da sua inscrição — registrada no cabeçalho da sua **folha de respostas** —, conforme estabelecido em edital.
- 7 Não se comunique com outros candidatos nem se levante sem autorização de fiscal de sala.
- 8 Na duração das provas, está incluído o tempo destinado à identificação — que será feita no decorrer das provas — e ao preenchimento da **folha de respostas**.
- 9 Ao terminar as provas, chame o fiscal de sala mais próximo, devolva-lhe a sua **folha de respostas** e deixe o local de provas.
- 10 A desobediência a qualquer uma das determinações constantes em edital, no caderno de provas ou na **folha de respostas** poderá implicar a anulação das suas provas.

**OBSERVAÇÕES**

- Não serão objeto de conhecimento recursos em desacordo com o estabelecido em edital.
- Informações adicionais: telefone 0(XX) 61 3448-0100; Internet — [www.cespe.unb.br](http://www.cespe.unb.br).
- É permitida a reprodução deste material apenas para fins didáticos, desde que citada a fonte.

- De acordo com o comando a que cada um dos itens a seguir se refira, marque na **folha de respostas**, para cada item: o campo designado com o código **C**, caso julgue o item **CERTO**; ou o campo designado com o código **E**, caso julgue o item **ERRADO**. Para as devidas marcações, use a **folha de respostas**, único documento válido para a correção das suas respostas.
- Nos itens que avaliam conhecimentos de informática, a menos que seja explicitamente informado o contrário, considere que: todos os programas mencionados estão em configuração-padrão, em português; o *mouse* está configurado para pessoas destros; expressões como **clicar**, **clique simples** e **clique duplo** referem-se a cliques com o botão esquerdo do *mouse*; **teclar** corresponde à operação de pressionar uma tecla e, rapidamente, liberá-la, acionando-a apenas uma vez. Considere também que não há restrições de proteção, de funcionamento e de uso em relação aos programas, arquivos, diretórios, recursos e equipamentos mencionados.

## CONHECIMENTOS BÁSICOS

### Texto para os itens de 1 a 11

#### As relações sociais além do espaço e do tempo

1 Surpreendentes são as transformações ocorridas no mundo a partir da revolução digital. A tecnologia abriu um fluxo praticamente ininterrupto de informações e apresentou ao homem novas formas de interação.

4 Esse é o ponto de vista do antropólogo Jonatas Dornelles, da Universidade Federal do Rio Grande do Sul, exposto em artigo publicado em junho na revista **Horizontes Antropológicos**. Pesquisador da influência da Internet nas relações pessoais, o professor acessou regularmente um *chat* de Porto Alegre entre 2001 e 2003 para avaliar as novas formas de sociabilidade na era digital. Ele observou que as salas virtuais de bate-papo ampliam laços sociais, ao proporcionar o contato de pessoas que, por motivos geográficos ou culturais, provavelmente não se conheceriam. “Os *chats* são espaços virtuais que, com uma lógica própria, simulam uma sociabilidade real”, explica. “De acordo com a frequência e horário dos acessos, gostos e intenções, usuários identificam-se e formam grupos seletos de amigos — como na vida real”.

7 Jonatas compara a formação dessas comunidades virtuais à formação dos grupos sociais tradicionais: em ambos os casos, a interação social depende de uma simultaneidade vivida. Seja para combater a solidão, pelo instinto coletivo, seja para fugir de uma situação real, os frequentadores obedecem a regras de convivência, dispõem de estratégias para sustentar a interação e identificam-se por compartilhar a mesma situação, no presente.

25 Uma outra forma de sociabilidade surge, assim, na era digital. Bem representada pelo fenômeno Orkut, ela permite uma interação independente do tempo e do espaço. “Poder trocar informações e experiências sem precisar dividir o mesmo período de tempo é um reflexo do controle cada vez maior do homem sobre o tempo”, conclui o antropólogo.

Isabel Levy. *Ciência Hoje On-line*.  
Internet: <cienciahoje.uol.com.br> (com adaptações).

A partir da leitura do texto, julgue os itens a seguir.

- 1 No texto, o trecho “A tecnologia abriu um fluxo praticamente ininterrupto de informações” (l.2-3) poderia ser reescrito, sem perda de valor semântico, da seguinte forma: A tecnologia possibilitou uma troca quase incessante de informações.
- 2 Segundo os argumentos propostos pelo antropólogo Jonatas Dornelles, primeiro as pessoas criaram formas diferentes de sociabilidade, depois os sistemas computacionais foram adaptados a essas formas.
- 3 De acordo com o texto, todas as interações sociais mediadas por computador e Internet seguem os padrões das interações entre grupos sociais tradicionais.
- 4 O ponto de vista do antropólogo citado no texto evidencia uma relação de avanço entre o modelo de interação social que ocorre no *chat* e aquele que ocorre no Orkut. Este permite maior fluxo de informações.
- 5 Uma das principais conclusões a que Jonatas Dornelles chega é que redes sociais na Internet acabam tornando as pessoas mais isoladas e contribuindo para que haja menos fortalecimentos dos laços sociais.
- 6 De acordo com o antropólogo referido no texto, a existência de fenômenos como o Orkut demonstra que a sociedade moderna e os recursos tecnológicos têm favorecido a relação do homem com o controle do tempo.

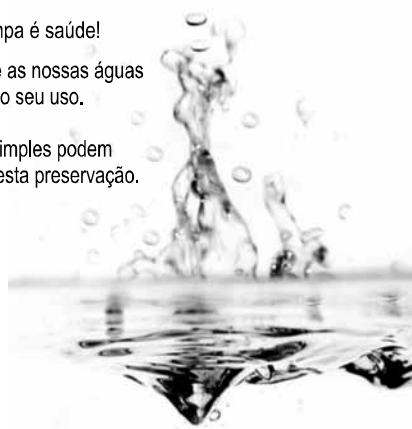
Levando em conta os aspectos gramaticais e de construção do texto, julgue os itens que se seguem.

- 7 Em “Ele observou que as salas virtuais de bate-papo ampliam laços sociais” (l.10-11), o termo “Ele” refere-se a “homem” (l.3).
- 8 No período em que são empregadas, as formas verbais “obedecem” (l.22), “dispõem” (l.23) e “identificam-se” (l.23) apresentam o mesmo sujeito.
- 9 O emprego das vírgulas em “Seja para combater a solidão, pelo instinto coletivo, seja para fugir de uma situação real” (l.20-22) justifica-se pelo fato de o período apresentar uma enumeração.
- 10 No trecho “Seja para combater a solidão, pelo instinto coletivo, seja para fugir de uma situação real, os frequentadores obedecem a regras de convivência” (l.20-22), mantêm-se a correção textual e a intenção semântica do autor caso se flexione a palavra “regras” no singular.
- 11 O texto apresentado pode ser considerado de natureza argumentativa, pois evidencia, por meio de recursos linguísticos, que a autora da reportagem concorda plenamente com o antropólogo Jonatas Dornelles.

Água limpa é saúde!

Preserve as nossas águas  
e poupe o seu uso.

Coisas simples podem  
ajudar nesta preservação.



Internet: <www.setwebglobal.com>.

Com referência a aspectos gramaticais do texto acima, julgue os itens seguintes.

- 12 A flexão dos verbos no segundo período do texto indica uma característica marcante dos textos publicitários, que é a interpelação direta do interlocutor por meio do emprego do modo imperativo.
- 13 A forma verbal “poupe” é redundante em relação a “preserve”, uma vez que, no caso da água, poupar é o mesmo que preservar.
- 14 Infere-se que a expressão “Coisas simples” refere-se a atitudes que o receptor do texto pode tomar em relação à economia e à preservação das águas.
- 15 O período “Coisas simples podem ajudar nesta preservação” pode ser substituído, sem prejuízo da correção gramatical, por: Coisas simples podem ajudar à esta preservação.

A leitura mensal do consumo de água residencial em cada um dos quinze bairros de determinado município é feita por apenas um dos três funcionários responsáveis por essa atividade; a cada mês, há uma distribuição aleatória em que cinco desses bairros são designados para cada um desses funcionários.

Com relação a essa situação hipotética, julgue os itens a seguir.

- 16 Essa distribuição pode ser realizada de 126.126 maneiras diferentes.
- 17 Considerando-se que os bairros sob a responsabilidade de determinado funcionário sejam agrupados, por proximidade geográfica, em duas regiões, A e B, com dois bairros em A e três bairros em B, então esse funcionário poderá visitar esses bairros de 24 maneiras distintas se ele visitar todos os bairros de uma mesma região antes dos demais bairros.

---

Um medidor de consumo de água, ou hidrômetro, de determinado fabricante possui 6 marcadores numéricos que representam as unidades, as dezenas, as centenas, as unidades de milhar, as dezenas de milhar e as centenas de milhar. Devido às condições tecnológicas, cada marcador pode apresentar dois tipos de defeito de fabricação: ficar travado em determinado marcador, impedindo a movimentação dos marcadores relativos às ordens superiores à do marcador defeituoso; ou saltar determinados dígitos.

De acordo com as informações apresentadas nessa situação hipotética, julgue os próximos itens.

- 18 Se o marcador das unidades de milhar de um dos medidores travar, então esse medidor poderá exibir um total de 1.001 leituras distintas.
- 19 Se um dos medidores tiver seu marcador das dezenas de milhar travado ou saltar os dígitos ímpares no marcador das unidades e os números 2, 7 e 8 no marcador das centenas, então haverá 356.500 leituras distintas que poderão ser exibidas por esse medidor.

---

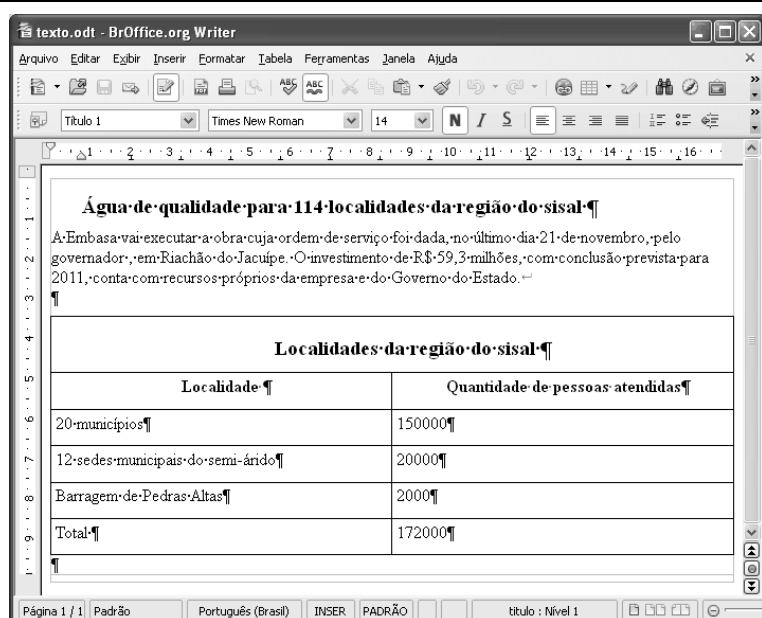
Suponha que uma empresa irá sortear 3 passagens aéreas para um curso de formação. O sorteio será realizado entre os 8 setores dessa empresa, e, se um setor for premiado, o chefe do setor contemplado indicará um funcionário para participar do evento. Em relação a esse sorteio, julgue os itens que se seguem.

- 20 Se um setor puder ser contemplado até duas vezes, então haverá 112 resultados distintos possíveis para esse sorteio.
- 21 Se cada setor só puder ser contemplado uma única vez e cada passagem for de uma companhia aérea distinta, então o sorteio terá um total de 56 resultados distintos possíveis.




Suponha que, devido a um desastre natural, regiões que ficaram sem acesso a água potável recebam periodicamente a visita de caminhões-pipa, os quais distribuem água entre os moradores dessas localidades. Embora todos os moradores tenham direito a água, são consideradas preferenciais as famílias que tenham idosos, pessoas com deficiência, crianças em fase de amamentação e gestantes, que têm o direito de receber água antes das famílias que não são preferenciais. Considerando o contexto apresentado, julgue os itens subsequentes.

RASCUNHO

- 22 A negação da afirmação **Todas as famílias da rua B são preferenciais** é **Nenhuma família da rua B é preferencial**.
- 23 Considere que a família Ferreira, originalmente preferencial e composta pelo pai José, a mãe Maria, a tia Marta, a filha Joana e o filho Antônio, tenha sofrido a seguinte evolução: Joana se casou com Carlos, com quem formou a família Souza, que é preferencial e não tem membros com deficiência; no dia do casamento de Joana, um acidente de carro vitimou fatalmente Marta e Antônio; imediatamente após esses acontecimentos, a família Ferreira deixou de ser preferencial. Nessa situação, é correto afirmar que Joana casou-se grávida e que pelo menos um dos membros da composição original da família Ferreira era ou é uma pessoa com deficiência.



Considerando a figura acima, que ilustra uma janela do BrOffice 3.0 com um documento em edição, julgue os itens a seguir.

- 24 O símbolo ¶, observado no documento em edição, indica o final de um parágrafo, que pode ter sido criado ao se pressionar a tecla .
- 25 Para centralizar o título do referido documento e criar um recuo de primeira linha no parágrafo imediatamente abaixo desse título, é suficiente realizar o seguinte procedimento: selecionar o título e o parágrafo; clicar o botão ; e, em seguida, clicar .
- 26 Ao se copiar, para uma planilha no Excel 2007, a tabela mostrada no documento, não será possível realizar cálculos com os valores da coluna Quantidade de pessoas atendidas porque os conteúdos das células dessa coluna serão considerados na planilha Excel formatados para texto.
- 27 Caso o documento em edição, de nome texto.odt, fosse salvo em um arquivo de nome texto.html, este arquivo poderia ser visualizado apenas no Internet Explorer.

A respeito de conceitos de ambientes Windows e Linux, julgue os próximos itens.

- 28 O Windows XP oferece suporte para gerenciador de sincronização, com o qual o usuário pode determinar quando os arquivos *offline* serão sincronizados com os arquivos na rede.
- 29 Arquivos criados no ambiente Linux não podem ser lidos por aplicativos que sejam executados no Windows XP, a menos que a versão do arquivo seja do tipo *xdtl*.
- 30 No Windows Explorer, é possível iniciar procedimento de envio de arquivo para destinatário de *e-mail* utilizando-se a opção *Enviar para*, que é apresentada na lista disponibilizada ao se clicar o nome do arquivo com o botão direito do *mouse*.
- 31 Em uma pasta criada no Windows Explorer, é possível inserir subpastas, arquivos e programas, independentemente do tipo de disco utilizado.

Julgue os itens que se seguem, acerca da Lei n.º 11.445/2007, que estabelece diretrizes nacionais para o saneamento básico.

- 32 Constituem princípios fundamentais da prestação dos serviços públicos de saneamento básico a transparência das ações, embasada em sistemas de informações e processos decisórios institucionalizados, o controle social e a restrição do acesso aos referidos serviços.
- 33 A lei veda a prestação de serviços públicos de saneamento básico por entidade não integrante da administração do titular.
- 34 Em conformidade com as normas legais, regulamentares e contratuais, as tarifas de serviços públicos de saneamento básico serão reajustadas observando-se o intervalo mínimo de doze meses.

Acerca da Lei n.º 9.433/1997, que institui a Política Nacional de Recursos Hídricos (PNRH), julgue os itens seguintes.

- 35 Um dos fundamentos em que se baseia a PNRH é a gestão descentralizada dos recursos hídricos, com a participação do poder público, dos usuários e das comunidades.
- 36 Serão utilizados no pagamento de despesas de implantação e custeio administrativo dos órgãos e entidades integrantes do Sistema Nacional de Gerenciamento de Recursos Hídricos os valores arrecadados com a cobrança pelo uso de recursos hídricos, limitados a 7,5% do total arrecadado.
- 37 Integram o Sistema Nacional de Gerenciamento de Recursos Hídricos o Conselho Nacional de Recursos Hídricos, a Agência Nacional de Águas, a Agência Nacional de Transportes Terrestres e os comitês de bacia hidrográfica.

A respeito da Lei Estadual n.º 11.172/2008, que institui princípios e diretrizes da política estadual de saneamento básico, julgue o item que se segue.

- 38 Cabe à população promover a salubridade ambiental, especialmente mediante ações e provisão universal, integral e equânime de todos os serviços necessários.

Com relação à Lei de Concessões e à lei que dispõe acerca da ligação de efluentes à rede pública de esgotamento sanitário, julgue os itens subsequentes.

- 39 Caso a União tenha delegado a prestação de serviço público essencial a uma pessoa jurídica, sem prévia licitação, por prazo indeterminado, a referida avença será considerada uma concessão de serviço público.
- 40 Nos logradouros que dispõem de rede coletora instalada, é proibida a ligação de esgotos à rede pública de águas pluviais.

Julgue os itens seguintes, relativos aos princípios e definições da lei que institui normas para licitações e contratos da administração pública.

- 41 Caso certo município necessite contratar uma empresa de publicidade com vistas a noticiar obras e serviços realizados no âmbito da administração pública municipal, a referida contratação deverá ser precedida de licitação.
- 42 Constituem princípios das licitações a isonomia, a moralidade, a publicação e o julgamento subjetivo.
- 43 Nos termos da Lei de Licitações, o seguro-garantia constitui valor disponibilizado pela administração pública ao licitante vencedor, a fim de suprir eventuais deficiências de caixa, no curso da execução da obra ou serviço.

Acerca das obras e serviços disciplinados na Lei de Licitações, julgue o item abaixo.

- 44 A pessoa jurídica autora de projeto executivo relativo a certa licitação estará impedida de participar do referido procedimento. Contudo, poderá legalmente fornecer bens durante o curso da execução da obra ou serviço.

A respeito das normas relativas aos procedimentos licitatórios, julgue os itens a seguir.

- 45 Se o governo de determinado estado deflagrar licitação cujo objeto seja a execução de obra de grande porte, a licitação será efetuada perante a administração pública local, admitindo-se a habilitação de empresas interessadas sediadas em outras unidades da Federação.
- 46 Caso a Receita Federal do Brasil apreenda vários artigos de informática na alfândega, em regular processo de fiscalização, a administração pública poderá promover a venda dos referidos bens, mediante licitação na modalidade de concorrência.
- 47 Se certo município desejar deflagrar licitação com vistas a escolher trabalho artístico de pintura, mediante remuneração ao vencedor, em conformidade com critérios constantes de edital publicado na imprensa oficial com antecedência mínima de quarenta e cinco dias, será correta a opção por licitação na modalidade de concurso.
- 48 Considerando que determinado estado da Federação necessite promover licitação com vistas a executar obra de engenharia, cujo valor estimado da contratação seja superior a R\$ 100.000,00 e inferior a R\$ 120.000,00, será lícito à administração pública local promover licitação na modalidade convite.

Com relação à dispensa e à inexigibilidade de licitação, julgue os próximos itens.

- 49 A entidade pública municipal poderá dispensar a licitação quando se tratar de serviços que envolvam a restauração de obras de arte e objetos históricos, de autenticidade certificada, os quais são inerentes às finalidades do referido município.
- 50 É inexigível a licitação no caso de contratação de profissional do setor artístico, desde que devidamente consagrado pela crítica especializada e comprovada sua aptidão por títulos acadêmicos.

## CONHECIMENTOS ESPECÍFICOS

### Água de qualidade para 114 localidades da região do sisal

A população de 114 localidades de vinte municípios e doze sedes municipais do semiárido, na região do sisal, será beneficiada com a construção da interligação da barragem de Pedras Altas ao Sistema Integrado de Abastecimento de Água do Sisal, que vai garantir a distribuição de água de qualidade para cerca de 172 mil pessoas. A EMBASA é a principal executora do programa Água para Todos, com investimentos em cerca de 318 obras de ampliação e implantação de sistemas de abastecimento de água e de esgotamento sanitário na capital e no interior do estado.

Internet: <www.embasa.ba.gov.br> (com adaptações).

Tendo como referência o texto acima, julgue os itens a seguir.

- 51 Uma empresa de captação, tratamento e distribuição de água é classificada com grau de risco 4 pela Norma Regulamentadora (NR) n.º 4, do Ministério do Trabalho e Emprego.
- 52 Considere que dez das 318 obras sejam executadas por uma única empresa com canteiros de obras instalados em três cidades do estado e que cada canteiro tenha quantitativo de empregados enquadrado no quadro anexo da NR n.º 4, para dimensionamento do serviço especializado em engenharia de segurança e medicina do trabalho (SESMT). Nesse caso, o dimensionamento de técnicos de segurança deve ser feito por canteiro.
- 53 Para medir o nível de pressão sonora da retroescavadeira usada na abertura de valas nas obras, o técnico de segurança deve utilizar um decibelímetro.
- 54 Os gases do escapamento do caminhão-caçamba são classificados como agente físico.
- 55 Os aerodispersóides produzidos durante as obras formam partículas sólidas e/ou líquidas suspensas em um meio gasoso por tempo suficiente para permitir sua observação ou medição.
- 56 As escavações a partir de 1 m de profundidade devem dispor de escadas ou rampas, colocadas próximas aos postos de trabalho, a fim de permitir, em caso de emergência, a saída rápida dos trabalhadores.
- 57 Considere a seguinte situação hipotética.  
Ivo, encarregado de uma das obras, escalou para o fim de semana um pedreiro que possuía carteira de habilitação há mais de cinco anos e nunca havia sofrido multa de trânsito, para operar a máquina pá-carregadeira. O encarregado, confiante no pedreiro, julgou não haver necessidade de qualquer treinamento específico para operação de máquinas daquele porte.  
Nessa situação, a empresa está em conformidade com a legislação de segurança do trabalho.

A respeito de espaços confinados, julgue os itens seguintes.

- 58 Permite-se a ventilação com oxigênio puro em ambiente confinado, como medida técnica de prevenção a danos à saúde.
- 59 Em espaços confinados, é permitida a realização de trabalho individual ou realizado isoladamente, a fim de minimizar o risco de exposição a vários trabalhadores ao mesmo tempo.

Durante inspeção de rotina, o técnico de segurança do trabalho aborda dois empregados executando limpeza de galeria do esgoto urbano sem equipamentos de proteção individual (EPI). Os trabalhadores alegaram ter pressa e que os equipamentos estavam nos seus armários, no vestiário.

Diante dessa situação hipotética, julgue os itens que se seguem.

- 60 Os empregados estão sujeitos à exposição ocupacional da leptospira e podem contrair doença ocupacional.
- 61 Em situações como a descrita, o técnico de segurança deve alertar os empregados acerca da necessidade dos EPI, embora frisando que o uso é de cunho pessoal, ou seja, cada trabalhador usa quando desejar. Agindo dessa forma, o técnico estará cumprindo a legislação de segurança.

A respeito de agentes causadores de doenças, julgue os itens seguintes.

- 62 A síndrome cervicobraquial tem entre os seus agentes etiológicos as vibrações.
- 63 A sílica livre pode desencadear uma neoplasia maligna dos brônquios e do pulmão.
- 64 A exposição ocupacional ao mosquito *Aedes aegypti*, principalmente em atividades em zonas endêmicas, pode levar o trabalhador a contrair a dengue.

Com relação à consolidação das leis do trabalho (CLT), julgue os próximos itens.

- 65 Os locais de trabalho deverão ter ventilação artificial, compatível com o serviço realizado. A ventilação natural deverá ser complementar, sempre que a ventilação artificial não atender às condições de conforto térmico.
- 66 A empresa é obrigada a fornecer aos empregados, gratuitamente, equipamento de proteção individual adequado ao risco e em perfeito estado de conservação e funcionamento, sempre que as medidas de ordem geral não ofereçam completa proteção contra os riscos de acidentes e danos à saúde.

De acordo com a NR n.º 5 do Ministério do Trabalho e Emprego (MTE), a Comissão Interna de Prevenção de Acidentes (CIPA) tem como objetivo a prevenção de acidentes e doenças decorrentes do trabalho, de modo a tornar compatível permanentemente o trabalho com a preservação da vida e a promoção da saúde do trabalhador. Acerca desse assunto, julgue os itens que se seguem.

- 67 Devem constituir CIPA, por estabelecimento, e mantê-la em regular funcionamento, as empresas privadas e públicas, as sociedades de economia mista, os órgãos da administração direta e indireta, as instituições beneficentes, as associações recreativas e as cooperativas.
- 68 O treinamento do integrante da CIPA em primeiro mandato será realizado no prazo máximo de 30 dias, contados a partir da data da posse do trabalhador.
- 69 A empresa que possuir em um mesmo município dois ou mais estabelecimentos deverá garantir a integração das CIPAs e dos designados, conforme o caso, com o objetivo de harmonizar as políticas de segurança e saúde no trabalho.
- 70 As reuniões ordinárias da CIPA serão realizadas durante o expediente normal da empresa e em local apropriado.
- 71 A CIPA será composta exclusivamente por representantes dos empregados.
- 72 O mandato dos membros eleitos da CIPA terá a duração de dois anos, permitida uma recondução ao cargo.

Para os fins de aplicação da NR n.º 6, considera-se equipamento de proteção individual (EPI) todo dispositivo ou produto de uso individual utilizado pelo trabalhador, destinado à proteção de riscos suscetíveis de ameaçar a segurança e a saúde no trabalho. A esse respeito, julgue os itens a seguir.

- 73 Quanto ao EPI, cabe ao empregado: utilizá-lo apenas para a finalidade a que se destina; responsabilizar-se por sua guarda e conservação; comunicar ao empregador qualquer alteração que o torne impróprio para uso; e cumprir as determinações do empregador sobre o uso adequado.
- 74 Equipamento conjugado de proteção individual é todo aquele composto por vários dispositivos associados, usado contra um ou mais riscos que possam ocorrer simultaneamente e que sejam suscetíveis de ameaçar a segurança e a saúde no trabalho.
- 75 Entre as responsabilidades que o empregador tem, quanto ao EPI, incluem-se as seguintes: adquirir o equipamento adequado ao risco de cada atividade; exigir seu uso; fornecer ao trabalhador somente o aprovado pelo órgão nacional competente em matéria de segurança e saúde no trabalho; orientar e treinar o trabalhador sobre o uso adequado, guarda e conservação.

A NR n.º 9 estabelece a obrigatoriedade da elaboração e implementação, por parte de todos os empregadores e instituições que admitam trabalhadores como empregados, do Programa de Prevenção de Riscos Ambientais (PPRA), visando a preservação da saúde e da integridade dos trabalhadores, por meio da antecipação, reconhecimento, avaliação e conseqüente controle da ocorrência de riscos ambientais existentes ou que venham a existir no ambiente de trabalho, tendo em consideração a proteção do meio ambiente e dos recursos naturais. Acerca do PPRA, julgue os itens subseqüentes.

- 76 As ações do PPRA devem ser desenvolvidas no âmbito de cada estabelecimento da empresa, sob a responsabilidade dos empregados, com a participação do empregador, sendo sua abrangência e profundidade dependentes das características dos riscos e das necessidades de controle.
- 77 A elaboração, a implementação, o acompanhamento e a avaliação do PPRA poderão ser feitas pelo Serviço Especializado em Engenharia de Segurança e em Medicina do Trabalho (SESMT) ou por pessoa ou equipe de pessoas que, a critério do empregador, sejam capazes de desenvolver o disposto na referida NR.
- 78 O PPRA deverá conter, no mínimo, a seguinte estrutura: planejamento anual com estabelecimento de metas, prioridades e cronograma; estratégia e metodologia de ação; forma do registro, manutenção e divulgação dos dados; periodicidade e forma de avaliação do desenvolvimento do PPRA.
- 79 O PPRA deverá incluir as seguintes etapas: antecipação e reconhecimentos dos riscos; estabelecimento de prioridades e metas de avaliação e controle; avaliação dos riscos e da exposição dos trabalhadores; implantação de medidas de controle e avaliação de sua eficácia; monitoramento da exposição aos riscos; registro e divulgação dos dados.

Quanto a aspectos gerais relacionados ao meio ambiente, julgue os itens que se seguem.

- 80 Poluição é o efeito acarretado pelo procedimento humano de lançar, na natureza, resíduos, dejetos ou qualquer outro material que altere as condições naturais do ambiente, contaminando ou deteriorando a fonte natural de recursos — ar, terra e água — e prejudicando o próprio homem ou a qualquer ser vivo.
- 81 Na decorrência de sua extensão geográfica, de seu clima e da história biológica, que criaram condições favoráveis à proliferação de espécies, o Brasil é considerado um país de megabiodiversidade.
- 82 O licenciamento de atividades poluidoras é obrigatório somente nos estados onde existe legislação específica.
- 83 A política nacional do meio ambiente tem por objetivo a preservação, a melhoria e a recuperação da qualidade ambiental. O sistema nacional de informações sobre o meio ambiente é instrumento da política nacional do meio ambiente.

O Serviço Especializado em Engenharia de Segurança e em Medicina do Trabalho — SESMT —, de uma empresa de saneamento, contratou um perito para emitir laudos técnicos sobre a exposição dos trabalhadores a agentes insalubres de uma estação de tratamento de água. Os resultados das avaliações realizadas pelo perito demonstraram que havia a exposição insalubre ao ruído em um local X, ao calor, em um local Y e a agentes químicos nos locais W e Z.

Com relação a essa situação hipotética, e considerando a Norma Regulamentadora 09 (NR 09) — Programa de Prevenção de Riscos Ambientais (PPRA), que prevê a etapa de avaliação de riscos e acerca das avaliações de alguns dos riscos físicos e químicos regulamentadas pela NR 15 — Atividades e Operações Insalubres, julgue os itens de **84** a **93**.

- 84** A elaboração do perfil profissiográfico previdenciário (PPP) eliminaria a necessidade de a empresa realizar a etapa de avaliação dos riscos no âmbito do PPRA.
- 85** As avaliações de exposição a ruído contínuo no local X devem ter sido realizadas com o uso de um dosímetro, já que não é mais admitido o uso de decibelímetros, conforme a Norma de Higiene Ocupacional NHO 01.
- 86** Caso a avaliação a ruído ocupacional no local X tenha tido como resultado a exposição a níveis de ruído, contínuo ou intermitente, superiores a 115 dB(A), a atividade nesse local deve ser considerada de risco grave e iminente.
- 87** A NR 09 permite que se recorra à ACGIH (*American Conference of Governmental Industrial Hygienists*) para a determinação de limite de tolerância não citado no Anexo I da NR 15, considerando os valores para exposição ao ruído em jornadas superiores a oito horas consecutivas.
- 88** Para avaliar o índice de bulbo úmido e temperatura de globo (IBUTG) são necessários: o termômetro de bulbo úmido, o termômetro de globo e o termômetro de mercúrio comum.
- 89** Para se estabelecer a condição de insalubridade na exposição ao frio devem ser realizadas avaliações quantitativas com os mesmos equipamentos utilizados para avaliar a exposição ao calor.
- 90** O limite de tolerância estabelecido para o cloro tem o intuito de prevenir a irritação dos olhos e do trato respiratório.
- 91** As avaliações das concentrações de agentes químicos através de métodos de amostragem instantânea devem ser feitas utilizando-se pelo menos 10 amostragens para cada ponto ao nível respiratório.

- 92** O limite de tolerância de um agente químico deve ser considerado excedido quando a média dos resultados da avaliação realizada ultrapassar os valores fixados segundo norma pertinente.
- 93** O perito contratado para elaborar os laudos deve ser um profissional capaz de desenvolver o disposto na NR 9, definido a critério do empregador.

Um princípio de incêndio está ocorrendo em um soprador— equipamento elétrico responsável por insuflar ar nos reatores aeróbios — que está em operação em uma estação de tratamento de esgotos sanitários (ETE). O soprador está próximo a uma porta metálica na qual estão apoiadas, no compartimento ao lado, diversas caixas de papel.

Em relação à situação hipotética apresentada, julgue os itens subsequentes.

- 94** O incêndio é da classe C.
- 95** O melhor método de combate ao fogo nesse caso é o resfriamento com água do hidrante mais próximo.
- 96** Caso o fogo aqueça a porta metálica e esta aqueça as caixas de papel, o foco secundário do incêndio terá sido propagado pelo mecanismo da condução.
- 97** O extintor de pó químico seco (PQS) é apropriado para o combate a esse princípio de incêndio.
- 98** Para a empresa de saneamento, o critério para formar a brigada de incêndio é o da área construída, prescindindo-se da informação sobre a quantidade de funcionários da empresa.

Detectou-se que um grande número de trabalhadores do setor administrativo de uma empresa faltava ao serviço em decorrência de dores nas articulações dos braços. Com relação a essa situação, julgue os próximos itens.

- 99** Uma pesquisa antropométrica (antropometria estática) deve ser realizada no âmbito desse setor para definir as reais causas dos afastamentos.
- 100** Se for configurado que os afastamentos são consequências de lesões por esforços repetitivos (LER), dificilmente essas lesões poderão ser definidas como distúrbios osteomusculares relacionados ao trabalho (DORT).