

MINISTÉRIO PÚBLICO DA UNIÃO

NÍVEL SUPERIOR

CONCURSO PÚBLICO

CARGO

7

**ANALISTA DE BIOLOGIA/
PERITO**

Provas Objetivas e Discursiva

LEIA COM ATENÇÃO AS INSTRUÇÕES ABAIXO.

- 1 Confira atentamente se os seus dados pessoais, transcritos acima, estão corretos e coincidem com o que está registrado na sua folha de respostas e na sua folha de texto definitivo da prova discursiva. Confira também o seu nome em cada página numerada deste caderno de provas.** Em seguida, verifique se ele contém a quantidade de itens indicada em sua folha de respostas, correspondentes às provas objetivas, e a prova discursiva acompanhada de espaço para rascunho. Caso o caderno esteja incompleto, tenha qualquer defeito, ou apresente divergência quanto aos dados pessoais, solicite ao fiscal de sala mais próximo que tome as providências cabíveis, pois não serão aceitas reclamações posteriores nesse sentido.
- 2 Quando autorizado pelo chefe de sala, no momento da identificação, escreva, no espaço apropriado da folha de respostas, com a sua caligrafia usual, a seguinte frase:**

Conforme previsto em edital, o descumprimento dessa instrução implicará a anulação das suas provas e a sua eliminação do concurso.
- 3 Durante a realização das provas, não se comunique com outros candidatos nem se levante sem autorização do fiscal de sala. Nesse período, também não será permitido o empréstimo de qualquer material entre candidatos, mesmo entre os que já tenham terminado as provas.**
- 4 Na duração das provas, está incluído o tempo destinado à identificação — que será feita no decorrer das provas —, ao preenchimento da folha de respostas e à transcrição do texto definitivo da prova discursiva para a folha de texto definitivo.**
- 5 Ao terminar as provas, chame o fiscal de sala mais próximo, devolva-lhe a sua folha de respostas e a sua folha de texto definitivo e deixe o local de provas.**
- 6 A desobediência a qualquer uma das determinações constantes em edital, no presente caderno, na folha de respostas ou na folha de texto definitivo da prova discursiva poderá implicar a anulação das suas provas.**

OBSERVAÇÕES

- Não serão conhecidos recursos em desacordo com o estabelecido em edital.
- Informações adicionais: telefone 0(XX) 61 3448-0100; Internet — www.cespe.unb.br.
- É permitida a reprodução deste material apenas para fins didáticos, desde que citada a fonte.

- De acordo com o comando a que cada um dos itens a seguir se refira, marque, na **folha de respostas**, para cada item: o campo designado com o código **C**, caso julgue o item **CERTO**; ou o campo designado com o código **E**, caso julgue o item **ERRADO**. A ausência de marcação ou a marcação de ambos os campos não serão apenadas, ou seja, não receberão pontuação negativa. Para as devidas marcações, use a **folha de respostas**, único documento válido para a correção das suas provas objetivas.
- Nos itens que avaliam conhecimentos de informática, a menos que seja explicitamente informado o contrário, considere que todos os programas mencionados estão em configuração-padrão, em português; e que não há restrições de proteção, de funcionamento e de uso em relação aos programas, arquivos, diretórios, recursos e equipamentos mencionados.

CONHECIMENTOS BÁSICOS

1 Inovar é recriar de modo a agregar valor e incrementar
a eficiência, a produtividade e a competitividade nos processos
gerenciais e nos produtos e serviços das organizações. Ou seja,
4 é o fermento do crescimento econômico e social de um país.
Para isso, é preciso criatividade, capacidade de inventar e
coragem para sair dos esquemas tradicionais. Inovador é o
7 indivíduo que procura respostas originais e pertinentes em
situações com as quais ele se defronta. É preciso uma atitude
de abertura para as coisas novas, pois a novidade é catastrófica
10 para os mais céticos. Pode-se dizer que o caminho da inovação
é um percurso de difícil travessia para a maioria das
instituições. Inovar significa transformar os pontos frágeis de
13 um empreendimento em uma realidade duradoura e lucrativa.
A inovação estimula a comercialização de produtos ou serviços
e também permite avanços importantes para toda a sociedade.
16 Porém, a inovação é verdadeira somente quando está
fundamentada no conhecimento. A capacidade de inovação
depende da pesquisa, da geração de conhecimento.
19 É necessário investir em pesquisa para devolver resultados
satisfatórios à sociedade. No entanto, os resultados desse tipo
de investimento não são necessariamente recursos financeiros
22 ou valores econômicos, podem ser também a qualidade de vida
com justiça social.

Luis Afonso Bermúdez. **O fermento tecnológico**. In: Darcy. Revista de jornalismo científico e cultural da Universidade de Brasília, novembro e dezembro de 2009, p. 37 (com adaptações).

Considerando a organização das ideias e estruturas linguísticas do texto, julgue os seguintes itens.

- 1 O período sintático iniciado por “Inovar significa” (ℓ.12) estabelece, com o período anterior, relação semântica que admite ser explicitada pela expressão **Por conseguinte**, escrevendo-se: Por conseguinte, inovar significa (...).
- 2 Subentende-se da argumentação do texto que o pronome demonstrativo, no trecho “desse tipo de investimento” (ℓ.20-21), refere-se à ideia de “fermento do crescimento econômico e social de um país” (ℓ.4).
- 3 A forma verbal “é” (ℓ.4) está flexionada no singular porque, na oração em que ocorre, subentende-se “Inovar” (ℓ.1) como sujeito.
- 4 Na linha 8, o segmento “as quais” remete a “situações” e, por isso, admite a substituição pelo pronome **que**; no entanto, nesse contexto, tal substituição provocaria ambiguidade.

1 Nós, seres humanos, somos seres sociais: vivemos
nosso cotidiano em contínua imbricação com o ser de outros.
Isso, em geral, admitimos sem reservas. Ao mesmo tempo,
4 seres humanos, somos indivíduos: vivemos nosso ser cotidiano
como um contínuo devir de experiências individuais
intransferíveis. Isso admitimos como algo indubitável. Ser
7 social e ser individual parecem condições contraditórias da
existência. De fato, boa parte da história política, econômica e
cultural da humanidade, particularmente durante os últimos
10 duzentos anos no ocidente, tem a ver com esse dilema. Assim,
distintas teorias políticas e econômicas, fundadas em diferentes
ideologias do humano, enfatizam um aspecto ou outro dessa
13 dualidade, seja reclamando uma subordinação dos interesses
individuais aos interesses sociais, ou, ao contrário, afastando o
ser humano da unidade de sua experiência cotidiana. Além
16 disso, cada uma das ideologias em que se fundamentam essas
teorias políticas e econômicas constitui uma visão dos
fenômenos sociais e individuais que pretende firmar-se em uma
19 descrição verdadeira da natureza biológica, psicológica ou
espiritual do humano.

Humberto Maturana. **Biologia do fenômeno social: a ontologia da realidade**. Miriam Graciano (Trad.). Belo Horizonte: UFMG, 2002, p. 195 (com adaptações).

A respeito da organização das estruturas linguísticas e das ideias do texto, julgue os itens a seguir.

- 5 Nas relações de coesão do texto, as expressões “esse dilema” (ℓ.10) e “dessa dualidade” (ℓ.12-13) remetem à condição do ser humano: unitário em “sua experiência cotidiana” (ℓ.15), mas imbricado “com o ser de outros” (ℓ.2).
- 6 Na linha 16, na concordância com “cada uma das ideologias”, a flexão de plural em “fundamentam” reforça a ideia de pluralidade de “ideologias”; mas estaria gramaticalmente correto e textualmente coerente enfatizar “cada uma”, empregando-se o referido verbo no singular.
- 7 A inserção de termo **como** antes de “seres humanos” (ℓ.4) preservaria a coerência entre os argumentos bem como a correção gramatical do texto.
- 8 Na linha 4, o sinal de dois-pontos tem a função de introduzir uma explicação para as orações anteriores; por isso, em seu lugar, poderia ser escrito **porque**, sem prejuízo para a correção gramatical do texto ou para sua coerência.
- 9 Depreende-se do texto que as “condições contraditórias” mencionadas na linha 7 decorrem da dificuldade que o ser humano tem em admitir que suas experiências são intransferíveis porque surgem de “um contínuo devir” (ℓ.5).

1 As diferenças de classes vão ser estabelecidas em dois
 níveis polares: classe privilegiada e classe não privilegiada.
 Nessa dicotomia, um leitor crítico vai perceber que se trata de
 4 um corte epistemológico, na medida em que fica óbvio que
 classificar por extremos não reflete a complexidade de classes
 da sociedade brasileira, apesar de indicar os picos. Em cada um
 7 dos polos, outras diferenças se fazem presentes, mas
 preferimos alçar a dicotomia maior que tanto habita o mundo
 das estatísticas quanto, e principalmente, o mundo do
 10 imaginário social. Estudos a respeito de riqueza e pobreza ora
 dão quitação a classes pela forma quantitativa da ordem do
 ganho econômico, ora pelo grau de consumo na sociedade
 13 capitalista, ora pela forma de apresentação em vestuário, ora
 pela violência de quem não tem mais nada a perder e assim por
 diante. O imaginário, em sua organização dinâmica e com sua
 16 capacidade de produzir imagens simbólicas e estereótipos,
 maneja representações que possibilitam pôr ordem no caos.
 O imaginário, acionado pela imaginação individual, é
 19 pluriespacial e, na interação social, constrói a memória, a
 história museológica. Mesmo que possamos pensar que
 estereótipos são resultado de matrizes, a cultura é dinâmica,
 22 porquanto símbolos e estereótipos são olhados e
 ressignificados em determinado instante social.

Dina Maria Martins Ferreira. *Não pense, veja*. São Paulo: Fapesp&Annablume, p. 62 (com adaptações).

Com base na organização das ideias e nos aspectos gramaticais do texto acima, julgue os itens que se seguem.

- 10 Subentende-se da argumentação do texto que “os picos” (ℓ.6) correspondem aos mais salientes indicadores de classes — a privilegiada e a não privilegiada —, referidos no texto também como “extremos” (ℓ.5) e “polos” (ℓ.7).
- 11 Na linha 11, a ausência de sinal indicativo de crase no segmento “a classes” indica que foi empregada apenas a preposição **a**, exigida pelo verbo **dar**, sem haver emprego do artigo feminino.
- 12 Preservam-se as relações argumentativas do texto bem como sua correção gramatical, caso se inicie o último período por **Ainda**, em lugar de “Mesmo” (ℓ.20).
- 13 De acordo com a argumentação do texto, a diferenciação das classes em “dois níveis polares” (ℓ.1-2), como dois extremos, não atende à complexidade de classes da sociedade brasileira, mas é comum ao “mundo das estatísticas” (ℓ.8-9) e ao “mundo do imaginário social” (ℓ.9-10).
- 14 O uso da forma verbal “se trata” (ℓ.3), no singular, atende às regras de concordância com o termo “um corte epistemológico” (ℓ.4) e seriam mantidas a coerência entre os argumentos e a correção gramatical do texto se fosse usado o termo no plural, **cortes epistemológicos**, desde que o verbo fosse flexionado no plural: **se tratam**.
- 15 Na linha 4, para se evitar a repetição de “que”, seria adequado substituir o trecho “que classificar” (ℓ.4-5) por **ao classificar**, preservando-se tanto a coerência textual quanto a correção gramatical do texto.

1 A característica central da modernidade, não seria
 demais repetir, é a institucionalização do universalismo — e
 seu duplo, a igualdade — como princípio organizador da esfera
 4 pública. Com base nesse pressuposto, argumento que, em nossa
 sociedade, na esfera pública, duas formas de particularismo —
 o das diferenças e o das relações pessoais — se reforçam e se
 7 articulam em diversas arenas e situações, na produção e
 reprodução de desigualdades sociais e simbólicas.
 O particularismo das diferenças produz exclusão social e
 10 simbólica, dificultando os sentimentos de pertencimento e
 interdependência social, necessários para a efetiva
 institucionalização do universalismo na esfera pública.
 13 O particularismo das relações pessoais atravessa os novos
 arranjos institucionais que vêm sendo propostos como
 mecanismos de construção de novas formas de sociabilidade e
 16 ação coletiva na esfera pública. Finalmente, considero que,
 embora a formação de novos sujeitos sociais e políticos e de
 arenas de participação da sociedade na formulação e gestão das
 19 políticas públicas traga as marcas de nossa trajetória histórica,
 constitui, ao mesmo tempo, possibilidade aberta para outra
 equação entre universalismo e particularismo na sociedade
 22 brasileira.

Jeni Vaitsman. *Desigualdades sociais e particularismos na sociedade brasileira*. In: *Cadernos de Saúde Pública*, Rio de Janeiro, n.º 18 (Suplemento), p. 38 (com adaptações).

Julgue os seguintes itens, a respeito dos sentidos e da organização do texto acima.

- 16 Na estrutura sintática em que ocorre, a preposição “em” (ℓ.7) poderia ser omitida, o que não prejudicaria a coerência nem a correção gramatical do texto, pois a preposição ficaria subentendida.
- 17 As relações entre as ideias do texto mostram que a forma verbal “dificultando” (ℓ.10) está ligada a “diferenças” (ℓ.9); por isso, seriam respeitadas as relações entre os argumentos dessa estrutura, como também a correção gramatical, caso se tornasse explícita essa relação, por meio da substituição dessa forma verbal por **e dificultam**.
- 18 Por meio da conjunção “e”, empregada duas vezes na linha 17 e uma vez na linha 18, é estabelecida a seguinte organização de ideias: a primeira ocorrência liga duas características de “novos sujeitos” (ℓ.17); a segunda liga dois complementos de “formação” (ℓ.17); a terceira, dois complementos de “arenas de participação da sociedade” (ℓ.18).
- 19 Na linha 19, é obrigatório o uso do verbo **trazer** no modo subjuntivo — “traga” — porque essa forma verbal integra uma oração iniciada pelo vocábulo “embora” (ℓ.17).
- 20 A coerência entre os argumentos apresentados no texto mostra que o pronome “seu” (ℓ.3) refere-se a “universalismo” (ℓ.2).
- 21 De acordo com as normas de pontuação, seria correto empregar, nas linhas 2 e 3, vírgulas no lugar dos travessões; entretanto, nesse caso, a leitura e a compreensão do trecho poderiam ser prejudicadas, dada a existência da vírgula empregada após “duplo”, no interior do trecho destacado entre travessões.

1 Hipermodernidade é o termo usado para denominar a
 realidade contemporânea, caracterizada pela cultura do
 excesso, do acréscimo sempre quantitativo de bens materiais,
 4 de coisas consumíveis e descartáveis. Dentro desse contexto,
 todas as interações humanas, marcadas pela doença crônica da
 falta de tempo disponível e da ausência de autêntica integração
 7 existencial, se tornam intensas e urgentes. O movimento da
 vida passa a ser uma efervescência constante e as mudanças a
 ocorrer em ritmo quase esquizofrênico, determinando os
 10 valores fugidios de uma ordem temporal marcada pela
 efemeridade. Como tentativas de acompanhar essa velocidade
 vertiginosa que marca o processo de constituição da sociedade
 13 hipermoderna, surge a flexibilidade do mundo do trabalho e a
 fluidez das relações interpessoais. O indivíduo da “cultura”
 tecnicista vivencia uma situação paradoxal: ao mesmo tempo
 16 em que lhe são ofertados continuamente os recursos para
 que possa gozar efetivamente as dádivas materiais da vida,
 ocorre, no entanto, a impossibilidade de se desfrutar
 19 plenamente desses recursos.

Renato Nunes Bittencourt. *Consumo para o vazio existencial*.
 In: *Filosofia*, ano V, n. 48, p. 46-8 (com adaptações).

Julgue os itens a seguir, com relação às ideias e aspectos linguísticos do texto.

- 22 A ausência de vírgula depois de “vertiginosa” (ℓ.12) indica que a oração iniciada por “que marca” (ℓ.12) restringe a ideia de “velocidade vertiginosa” (ℓ.11-12).
- 23 A forma verbal “surge” (ℓ.13) está flexionada no singular porque estabelece relação de concordância com o conjunto das ideias que compõem a oração anterior.
- 24 O uso da preposição “em”, na linha 16, é obrigatório para marcar a relação estabelecida com a forma verbal “vivencia” (ℓ.15); por isso, a omissão dessa preposição provocaria erro gramatical e impossibilitaria a retomada do referente do pronome “que” (ℓ.16).
- 25 Entende-se da leitura do texto que a “realidade contemporânea” (ℓ.2) caracteriza-se pela velocidade vertiginosa e pelo acúmulo de bens materiais, assim como pela ausência de integração existencial e falta de tempo para usufruir “as dádivas materiais da vida” (ℓ.17).

Considerando a organização, a estrutura e os princípios que orientam as atribuições do Ministério Público da União (MPU), julgue os itens a seguir.

- 26 As funções eleitorais do Ministério Público Federal perante os juízes e juntas eleitorais serão exercidas pelo promotor eleitoral.
- 27 O princípio do promotor natural decorre da independência funcional e da garantia da inamovibilidade dos membros da instituição.

Com relação aos procuradores-gerais, julgue os próximos itens.

- 28 A destituição do procurador-geral de justiça do Distrito Federal e territórios exige a deliberação da maioria absoluta dos membros da Câmara Legislativa do Distrito Federal.
- 29 Cabe ao procurador-geral da República, como chefe do Ministério Público Federal, decidir, em grau de recurso, conflitos de atribuições entre órgãos componentes da estrutura do Ministério Público Federal.
- 30 O presidente da República, no uso de suas atribuições de chefe de Estado, nomeia o procurador-geral de justiça nos estados, o procurador-geral militar e o procurador-geral do trabalho.

A respeito das funções do MPU e das garantias de seus membros, julgue os itens que se seguem.

- 31 Compete ao colégio de procuradores da República elaborar, mediante votação obrigatória, lista triplíce para a composição de todos os tribunais superiores.
- 32 A promoção de membros do MPU ocorre por antiguidade ou merecimento, independentemente de solicitação, interesse público ou autorização do órgão colegiado.

A respeito dos princípios fundamentais, da aplicabilidade das normas constitucionais e dos direitos sociais, julgue os itens a seguir.

- 33 Sendo os direitos fundamentais válidos tanto para as pessoas físicas quanto para as jurídicas, não há, na Constituição Federal de 1988 (CF), exemplo de garantia desses direitos que se destine exclusivamente às pessoas físicas.
- 34 A dignidade da pessoa humana, um dos fundamentos da República Federativa do Brasil, apresenta-se como direito de proteção individual em relação ao Estado e aos demais indivíduos e como dever fundamental de tratamento igualitário dos próprios semelhantes.
- 35 O livre exercício de qualquer trabalho, ofício ou profissão, desde que atendidas as qualificações profissionais que a lei estabelecer, é norma constitucional de eficácia contida; portanto, o legislador ordinário atua para tornar exercitável o direito nela previsto.

No que se refere à organização político-administrativa do Estado e às atribuições e responsabilidades do presidente da República, julgue os itens subsequentes.

- 36 A CF autoriza o presidente da República a delegar ao advogado-geral da União o envio de mensagem e de plano de governo ao Congresso Nacional por ocasião da abertura da sessão legislativa.
- 37 Uma vez que, no Estado federal, há mais de uma ordem jurídica incidente sobre o mesmo território e sobre as mesmas pessoas, a repartição de competências entre os entes federativos, prevista pela CF, favorece a eficácia da ação estatal, evitando conflitos e desperdício de esforços e recursos.

Julgue os itens a seguir, referentes ao Poder Judiciário e às funções essenciais à justiça.

- 38 A CF assegura autonomia funcional, administrativa e financeira às defensorias públicas estaduais, por meio das quais o Estado cumpre o seu dever constitucional de garantir às pessoas desprovidas de recursos financeiros o acesso à justiça.
- 39 De acordo com a CF, compete aos juízes federais processar e julgar os crimes políticos e as infrações penais praticadas em detrimento de bens, serviços ou interesse da União ou de suas entidades autárquicas ou empresas públicas, excluídas as contravenções e ressalvadas as competências da justiça militar e da justiça eleitoral.

Com relação aos poderes, atos e contratos administrativos, julgue os itens a seguir.

- 40 A competência constitui elemento ou requisito do ato administrativo vinculado, cabendo, entretanto, ao próprio órgão público estabelecer as suas atribuições.
- 41 As prerrogativas do regime jurídico administrativo conferem poderes à administração, colocada em posição de supremacia sobre o particular; já as sujeições servem de limites à atuação administrativa, como garantia do respeito às finalidades públicas e também dos direitos do cidadão.
- 42 A legalidade dos atos administrativos vinculados e discricionários está sujeita à apreciação judicial.

A respeito da Lei n.º 8.666/1993, julgue os itens que se seguem.





- 43 Toda prorrogação de contrato deve ser previamente justificada pela autoridade detentora da atribuição legal específica; portanto, é nula toda cláusula contratual que disser ser a avença automaticamente prorrogável.
- 44 Os órgãos da administração direta, os fundos especiais, as autarquias, as fundações públicas, as empresas públicas, as sociedades de economia mista e as demais entidades controladas direta ou indiretamente pela União, pelos estados, pelo Distrito Federal e pelos municípios estão subordinados ao regime dessa lei.
- 45 Todos os valores, preços e custos utilizados nas licitações têm como expressão monetária a moeda corrente nacional, ressalvadas as concorrências de âmbito internacional, para as quais o edital deve ajustar-se às diretrizes da política monetária e do comércio exterior e atender às exigências dos órgãos competentes.

Julgue o seguinte item, acerca dos agentes públicos.

- 46 A vacância do cargo público decorre de: exoneração, demissão, promoção, ascensão, transferência, readaptação, aposentadoria, posse em outro cargo inacumulável e falecimento.


	A	B	C	D	E	F
1	N.º Processo	Estado	Valor			
2	23456	SP	R\$ 3.929.100,00			
3	45321	DF	R\$ 634.321,00			
4	98765	SP	R\$ 498.120,00			
5	76222	DF	R\$ 23.400,00			
6	13450	RJ	R\$ 987.600,00			
7	43210	MG	R\$ 876.000,00			
8	Total					
9	Média					
10						
11						

A figura acima ilustra uma planilha em edição no Microsoft Excel 2007 (MSExcels 2007), que apresenta valores hipotéticos de seis processos. Nessa planilha, o total e a média aritmética dos valores dos seis processos serão inseridos nas células C8 e C9, respectivamente. Com base nessas informações, julgue os itens subsequentes.


- 47 Para se obter o valor total desses processos, é suficiente clicar a célula C8; pressionar a ferramenta  e, em seguida, pressionar a tecla .
- 48 O valor da média aritmética dos seis processos pode ser obtido com o seguinte procedimento: clicar a célula C9 e, em seguida, digitar a fórmula =MÉDIA(C2;C7).
- 49 Ao serem selecionados os cabeçalhos apresentados na primeira linha da planilha em edição e se clicar a ferramenta , os cabeçalhos serão automaticamente centralizados tanto horizontal quanto verticalmente.
- 50 Para formatar a fonte dos valores abaixo de R\$ 500.000,00 com a cor vermelha e a dos valores acima de R\$ 500.000,00 com a cor azul, é suficiente selecionar a coluna, clicar o menu Fórmulas, digitar =SE(C2<500000;"vermelho";"azul") e arrastar tudo, copiando a fórmula para as demais células dessa coluna.
- 51 Para classificar os processos do menor valor para o maior, é suficiente selecionar as células de C2 até C7; clicar a ferramenta ; selecionar a opção Classificar do Menor para o Maior e, em seguida, clicar o botão Classificar.

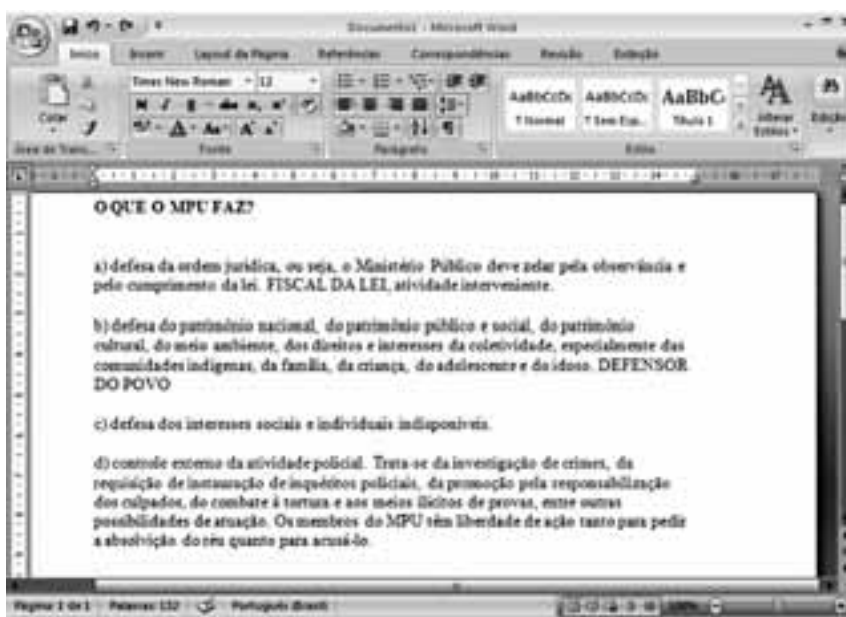



A figura acima mostra uma janela do IE 8.0 aberta em um computador com o Windows XP e conectado à Internet. Com base nessa figura, julgue os itens que se seguem, acerca da utilização de tecnologias, ferramentas, aplicativos e procedimentos associados à Internet.

- 52 Antes de permitir a execução do complemento MSXML 5.0, recomenda-se que o usuário clique a opção **Segurança** e, em seguida, clique Ativar Filtragem InPrivate para executar o antivírus do IE 8.0.
- 53 Ao se clicar a opção **Página** e, em seguida, a opção Zoom, serão exibidas opções que permitem ampliar ou reduzir a exibição da página da Web mostrada na figura.
- 54 Ao se digitar uma palavra na caixa de pesquisa **Busca** e, em seguida, pressionar e manter pressionada a tecla **Alt** e, na sequência, pressionar a tecla **Enter**, serão exibidos, em nova guia, os resultados da pesquisa realizada em todos os sítios da Web em que essa palavra foi encontrada.
- 55 Ao se clicar o botão **Favoritos**, será apresentada a opção Adicionar a Favoritos... Esta, por sua vez, ao ser clicada, permite adicionar o endereço www.mpu.gov.br na lista de favoritos.
- 56 A mensagem de alerta exibida na figura, introduzida pelo símbolo , refere-se ao complemento MSXML 5.0 e solicita permissão do usuário para que esse complemento seja instalado no computador. Existem, no entanto, complementos que podem ser instalados sem o conhecimento do usuário, quando, por exemplo, for parte de outro programa instalado anteriormente.

Com base na figura ao lado, que apresenta um texto em edição no Microsoft Word 2007 (MSWord 2007), julgue os próximos itens, relativos à edição de textos e planilhas.

- 57 Considere que o último parágrafo do texto mostrado na figura seja copiado do MSWord 2007 para uma célula de uma planilha do Microsoft Excel 2007. Nesse caso, é possível tornar todo o conteúdo visível nessa célula, com exibição em várias linhas, formatando-a com a opção Quebrar Texto Automaticamente.
- 58 Ao se clicar o botão **Edição**, são apresentadas opções que permitem alterar o *design* geral do documento, incluindo-se cores, fontes, efeitos e o plano de fundo da página.
- 59 O texto em edição pode ser afastado para a direita usando-se a régua ou a ferramenta .



- 60 Considerando-se que os itens dos parágrafos foram autoformatados pelo MSWord 2007, é possível substituir as letras correspondentes à ordenação por numerais romanos com a utilização da ferramenta .

CONHECIMENTOS ESPECÍFICOS

Em texto publicado pela Sociedade Brasileira para o Progresso da Ciência (SBPC), o professor Aziz Nacib Ab Sáber critica as propostas de modificação do Código Florestal brasileiro e os principais argumentos de seus defensores. Entre as críticas apresentadas pelo professor, listam-se: a proteção da vegetação somente até sete metros e meio da margem de todos os rios do território brasileiro; o plantio de espécies homogêneas, como eucalipto e pínus, em áreas muito desmatadas ou degradadas; a permissão de desmate total para propriedades familiares com até 400 hectares; e a redução, de 80% para 20%, do limite de reserva legal na Amazônia. Reforçando a primeira crítica, Ab Sáber comenta tratar-se de desconhecimento entristecedor sobre a ordem de grandeza das redes hidrográficas do território intertropical brasileiro. A própria comunidade amazônica já reconheceu fatos referentes à tipologia dos rios regionais, denominados, na linguagem local, em ordem crescente, igarapés, riozinhos, rios e parás. Com relação à segunda crítica, o professor argumenta que, ao se arrendarem de incautos proprietários terras para o plantio de eucaliptos ou pínus por 30 anos, sabendo-se que os donos da terra podem morrer quando se completar o prazo, cria-se um grande problema judicial e econômico para os herdeiros, pois o cenário pós-corte dessas árvores impede a posterior reutilização das terras para atividades agrárias. Ab Sáber também prevê que, com a ampliação das áreas desmatáveis nas propriedades rurais, o desmatamento seguirá por rodovias, ramais e sub-ramais. Acerca da redução do limite legal da Amazônia, o professor propõe, aos que defendem que a taxa de proteção interna da vegetação florestal na Amazônia seja de 20%, que analisem o que aconteceu nos espaços ecológicos de São Paulo, Paraná, Santa Catarina e Minas Gerais com a adoção desse percentual. O professor conclui que “seria necessário que os pretensos reformuladores do Código Florestal lançassem sobre o papel os limites de glebas de quinhentos a milhares de hectares e, dentro de cada parcela das glebas, colocassem indicações de 20% correspondentes às florestas ditas preservadas”.

Internet: <www.sbpcnet.org.br> (com adaptações).

Considerando os assuntos abordados no texto acima, julgue os itens de **61 a 75**.

- 61** No caso da região amazônica, a adoção dessa faixa de proteção desde a margem dos cursos de água tende a promover o desmate das áreas de interflúvios de colinas, o que empobreceria a matriz da paisagem.
- 62** A maneira mais adequada de se estabelecer a largura ideal da faixa de proteção da vegetação, a fim de garantir a plena conservação da biodiversidade, após censurar aves e mamíferos em diversas faixas marginais de cursos de água, é comparar o número total de indivíduos, independentemente da espécie, à largura da faixa.
- 63** A limitação do espaço de proteção da vegetação a até sete metros e meio da margem dos rios prejudicaria a função de corredor de deslocamento de fauna ao longo da área de vegetação preservada.
- 64** A área de proteção da vegetação a que se refere o professor é, de fato, irrelevante do ponto de vista físico e no que diz respeito à direção perpendicular ao rio, em face da maior importância da biodiversidade e da direção longitudinal da faixa.
- 65** Do ponto de vista matemático, é correto afirmar que o índice de diversidade da paisagem aumenta se as monoculturas promoverem maior diversificação da matriz da paisagem.
- 66** Considerando-se a mesma área total de plantio, para que as monoculturas atuem efetivamente como barreiras, deve-se promover o cultivo em áreas lineares de pequena largura, e não em áreas circulares.
- 67** A reprodução do modelo de progressão do desmatamento para certa localidade requer que, em sucessivas gerações, o valor numérico de uma célula seja definido em relação ao valor numérico da célula vizinha.
- 68** A reprodução do modelo de progressão do desmatamento, em uma estrutura de grade de células, não comporta um atenuador temporal, ou seja, não permite um retardamento na expressão da transformação.
- 69** Visto em escala regional, o modelo de progressão de desmatamento a que o professor se refere no texto assume a forma de uma espinha de peixe.
- 70** A permissão para o desmate total para propriedades de até 400 hectares provavelmente desencadeará um aumento da razão entre o número de propriedades de até 400 hectares e o de propriedades de maior extensão.
- 71** A crítica do professor à diminuição do limite de reserva legal na Amazônia para 20% não se sustenta com base no conceito de percolação nem com base em argumentos científicos, visto que, mesmo na Amazônia, um índice de proteção de 25% atende os interesses econômicos, dos legisladores e dos ambientalistas.
- 72** Se as propriedades produtoras com até 400 hectares forem totalmente desmatadas, espera-se que a distância média entre fragmentos de vegetação permaneça estável e o tamanho dos fragmentos diminua.
- 73** Nas regiões de floresta, a redução da largura da área de proteção da vegetação às margens dos rios diminuirá a biodiversidade global, tanto no que se refere a espécies nativas quanto a exóticas invasoras.
- 74** Segundo a classificação de Strahler, os parás correspondem a rios de primeira ordem.
- 75** De acordo com a teoria do rio contínuo, espera-se que os igarapés tenham baixa produtividade primária líquida.

No que se refere ao reino animal, julgue o item subsequente.

- 76** Os animais conhecidos popularmente como gambás pertencem ao gênero *Didelphis*, por sua vez pertencentes à ordem Didelphimorphia. A ordem Didelphimorphia pertence à subclasse Rodentia, classe Mammalia e subfilos Vertebrata.

Acerca do ciclo de vida e da estrutura celular das plantas, julgue os itens a seguir.

- 77 Na folha das dicotiledôneas, o parênquima paliádico concentra-se junto à epiderme superior, e o parênquima lacunoso, junto à superfície inferior da folha, onde também é encontrada maior concentração de células-guarda.
- 78 No ciclo de vida dos vegetais, pode ser identificada a alternância de gerações entre as fases gametófito e esporófito. A fase duradoura das plantas vasculares corresponde ao esporófito; por outro lado, nos musgos, essa fase é representada pelo gametófito.

Com relação à teoria ecológica, julgue os itens que se seguem.

- 79 Os estudos de dinâmica de populações utilizam representações gráficas e numéricas para expressar a sobrevivência e a mortalidade dos organismos em diferentes faixas etárias ou estágios de vida. As curvas de sobrevivência com declínio nos estágios iniciais de vida são típicas de populações com prole numerosa.
- 80 Considerando que o ecossistema seja representado pela combinação entre a comunidade biótica e o meio abiótico, o conceito de biocenose é equivalente ao conceito de ecossistema.
- 81 O sincronismo entre as dinâmicas populacionais, nas distintas manchas de *habitat* ocupadas por determinada espécie, garante a persistência de uma metapopulação.
- 82 O conceito de nicho como hipervolume n -dimensional, nicho de Hutchinson, representa simultaneamente a função e o local onde ocorre o organismo ou a espécie.

Com relação ao ecossistema e à biogeografia brasileira, julgue os itens seguintes.

- 83 De acordo com o mapa de biomas do Instituto Brasileiro de Geografia e Estatística (IBGE), os três maiores biomas continentais brasileiros, em ordem decrescente de área, são: amazônia, cerrado e mata atlântica.
- 84 Por se basearem em dados de precipitação e temperatura, as zonas climáticas de Walter e os biomas de Whittaker auxiliam a compreensão da biogeografia para diferentes tipos de vegetação no mundo. As representações de Walter e de Whittaker desconsideram a sazonalidade da precipitação, por isso não contemplam as formas de vegetação das florestas tropicais sazonais.

Acerca da conservação ambiental, julgue os itens que se seguem.

- 85 No Livro Vermelho da Fauna Brasileira Ameaçada de Extinção, publicado pelo Ministério do Meio Ambiente, a metodologia adotada para a revisão da fauna ameaçada abrange as seguintes categorias: extinto, regionalmente extinto, provavelmente extinto, criticamente em perigo, em perigo, e vulnerável.
- 86 O modelo de reserva da biosfera proposto pela Organização das Nações Unidas para a Educação, a Ciência e a Cultura (UNESCO) e adotado pelo Brasil é constituído de três categorias de zonas: zonas-núcleo, zonas de amortecimento e zonas de transição.

Os levantamentos fitossociológicos são realizados por diversas metodologias, entre elas, a metodologia do método das parcelas e o método do ponto-quadrante. Os dados produzidos nessas metodologias permitem calcular índices fitossociológicos diversos. Com base nessas informações, julgue os próximos itens.

- 87 Uma das características do método do ponto-quadrante é que são amostrados apenas quatro indivíduos para cada ponto alocado, não havendo o risco de amostrar o mesmo indivíduo em pontos distintos.
- 88 O índice de valor de importância (IVI), utilizado frequentemente em levantamentos de estrutura de vegetação, considera valores de densidade, frequência e dominância das espécies. Assim, o IVI é afetado tanto pelo número de indivíduos amostrados para a espécie quanto pelo tamanho dos indivíduos.

O desenvolvimento tecnológico das últimas décadas proporcionou avanços rápidos em procedimentos de análise da paisagem, principalmente com o crescimento e a popularização da informática. Os sistemas de informações geográficas (SIG) foram favorecidos de maneira substancial por esse desenvolvimento, pois passaram de procedimentos rudimentares, manuais e analógicos para processos complexos, sofisticados, digitais e semiautomatizados. Acerca dos elementos do SIG, julgue os itens a seguir.

- 89 São exemplos de métodos interpolativos em SIG: o de Krige, ou Kriging, o de Thiessen, o do inverso da distância e o da rede triangular irregular, sendo o método da rede triangular irregular muito utilizado para gerar modelo numérico do terreno, do qual podem ser derivados outros planos de informação, como a declividade.
- 90 Os dados em SIG apresentam dois tipos de formatos: matricial ou vetorial, sendo impraticável qualquer tipo de conversão entre eles.
- 91 A mesa digitalizadora, equipamento importante do SIG, é interface física que permite a transformação de informação analógica em digital por meio de processo manual.

Atualmente, há maior demanda por informações e dados que estejam no espaço, ou seja, georreferenciados. Há vinte anos, essa realidade era algo distante e acessível para poucos especialistas, mas hoje tudo pode ser manuseado e disponibilizado na rede mundial de computadores. No entanto, alguns aspectos elementares do processo cartográfico devem ser observados sempre. A respeito dos sistemas de coordenadas e dos georreferenciamentos, julgue o item subsequente.

- 92 No sistema UTM, o planeta é dividido em 60 fusos, cada qual com 6° de longitude. Para cada fuso, é associado um sistema cartesiano métrico de referência, no qual a longitude tem 500.000 m como limite, e a latitude, 10.000 m.

O estudo do tempo e do clima ocupa uma posição central e importante no amplo campo das ciências ambientais. A respeito desse assunto, julgue os próximos itens.

- 93 Quanto mais límpido for o ar, mais facilmente o vapor de água se condensa à para formar nuvens.
- 94 A causa primordial do movimento do ar é o desenvolvimento e a manutenção de um gradiente de pressão horizontal, que funciona como a força motivadora para o ar se movimentar.
- 95 A umidade relativa, medida de umidade do ar mais popularmente usada para indicar a quantidade de vapor de água existente no ar, é facilmente obtida e computada usando-se termômetros de mercúrio de bulbo seco ou de bulbo úmido.

Determinado perito foi chamado para investigar a ocorrência de grande mortandade de peixes em um corpo de água. Inicialmente, verificou que morriam os peixes pequenos e, nos dias subsequentes, peixes de todos os tamanhos. Constatou, ainda, em sua análise, que os peixes apresentavam comportamento convulsivo e letárgico, que a mortandade ocorria somente durante as horas mais quentes do dia e que o pH da água era elevado.

Com base nessa situação hipotética, julgue os itens a seguir.

- 96 O quadro ambiental apresentado é indicativo de ocorrência seletiva de espécies de peixes mortos, ao final do processo.
- 97 As evidências apresentadas indicam, a floração de algas como causa provável da mortandade dos peixes.

Os javalis *Sus scrofa scrofa*, originários do norte da África e sudoeste da Ásia, são mamíferos artiodátilos, agressivos e resistentes, que vivem em bandos, são robustos, muito corpulentos e cobertos por pelos grossos, podendo atingir até 200 kg de massa. São normalmente menores que suínos domésticos. Esse suídeo, classificado pela União Internacional para a Conservação da Natureza (IUCN) como uma das cem piores espécies exóticas invasoras, causa danos em culturas agrícolas, ataca animais de criação, transmite doenças, dispersa plantas daninhas e altera processos ecológicos por meio do forrageio, sobretudo o de regeneração natural.

Internet: <www.redeprofaua.pr.gov.br> (com adaptações).

Com relação ao assunto abordado no texto acima, julgue os itens de 98 a 103.

- 98 Considerando-se um plano de controle de javalis, é cabível o mapeamento de áreas de ocorrência em simpatria com pecarídeos silvestres (cateto e queixada).
- 99 Entre as formas adequadas de se evitar a presença do javali, inclui-se, além da utilização de substâncias gustativas repelentes, o plantio, nas bordas dos plantios principais, de cultivares menos atrativos a esse animal.
- 100 Além das características já apontadas, o javali apresenta alto potencial reprodutivo.

101 Os dados apresentados no texto são suficientes para se distinguir a classe, a ordem, a família, o gênero e a espécie do animal descrito.

102 A presença, nos javalis, de variantes sorológicas da *Leptospira interrogans*, responsáveis pelos casos de leptospirose em seres humanos, é pouco preocupante, devido à distância taxonômica, que impede a transmissão de doenças, não sendo, portanto, necessárias medidas de biossegurança no trato de exemplares desse animal trazidos a zoológicos.

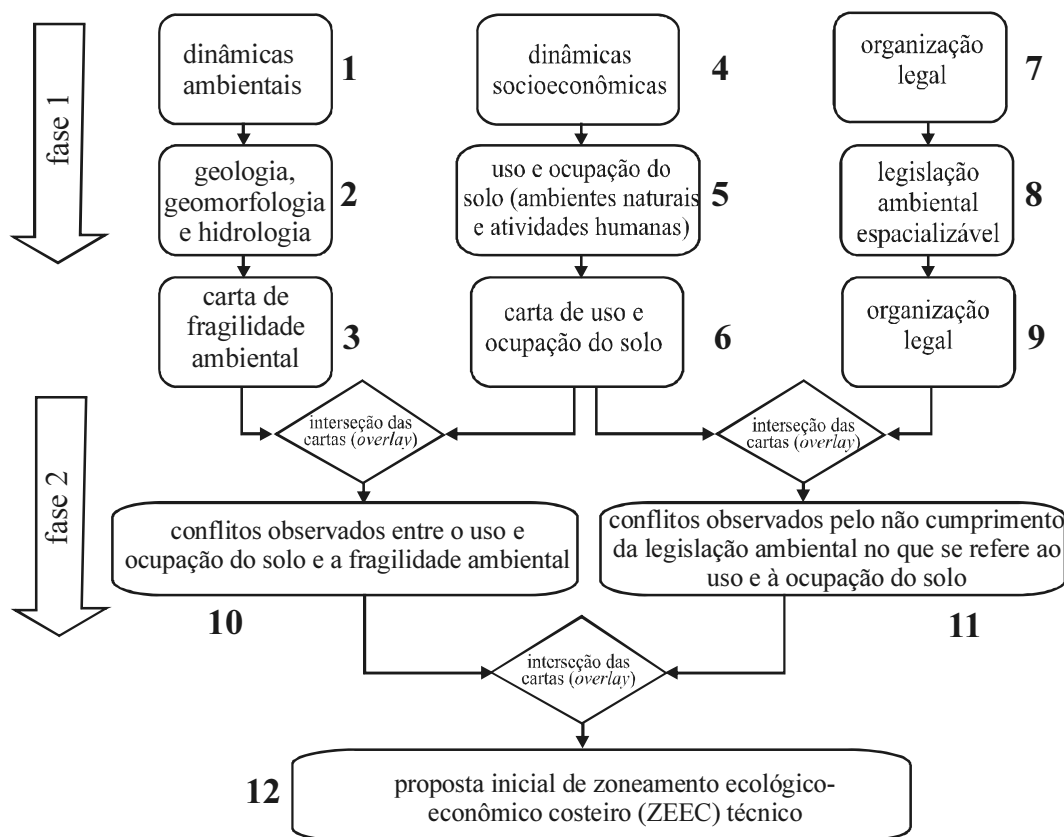
103 Para recuperação de áreas degradadas por alcateias de javalis, é suficiente o plantio de mudas de espécies nativas feito com espaçamento regular, dispensando-se formas de contenção física dos animais.

Existem relatos de pequenos vazamentos de petróleo ocorridos no Brasil, no ano de 1955, quando se fazia, em São Sebastião, o transbordo desse material dos navios maiores para os menores (*ship to ship*), estes com melhores condições de calado para adentrarem no Porto de Santos. O primeiro grande episódio conhecido ocorreu em agosto de 1974, quando o petroleiro Takimya Maru chocou-se com uma rocha no Canal de São Sebastião, litoral norte de São Paulo, causando o vazamento de, aproximadamente, 6.000 toneladas de petróleo. No ano seguinte, em março de 1975, no Rio de Janeiro, ocorreu o acidente com o navio Tarik Ibn Ziyad, tendo sido derramado o mesmo volume de óleo na Baía de Guanabara. Mas o primeiro caso registrado oficialmente pela CETESB foi em janeiro de 1978, quando um acidente com o petroleiro Brazilian Marina provocou grande vazamento no mesmo local, afetando seriamente o litoral norte de São Paulo. Como a CETESB e o governo federal não tinham experiência em lidar com casos dessa gravidade, foi solicitada a colaboração de especialistas da Agência de Proteção Ambiental (EPA) e da Guarda Costeira, ambos dos Estados Unidos da América.

Internet: <www.cetesb.sp.gov.br> (com adaptações).

Considerando as informações do texto acima, julgue os próximos itens.

- 104 O fato motivador da operação *ship to ship*, descrita no texto, deve integrar os estudos de impacto ambiental para a construção de novos portos.
- 105 Dada a inevitabilidade das operações *ship to ship* em qualquer projeto portuário, a análise do processo de licenciamento restringe-se à previsão de medidas mitigadoras.
- 106 Os registros históricos dos impactos ambientais decorrentes dos acidentes com os petroleiros Takimya Maru e Brazilian Marina, embora sirvam de alerta, não são aproveitáveis como parâmetro de previsibilidade de desastres ambientais.
- 107 Conforme determina a Convenção de Marpol, acordo do qual o Brasil é signatário, incidentes semelhantes ao ocorrido com o petroleiro Brazilian Marina devem ser objeto de investigação.



Com base no diagrama acima, julgue os itens seguintes, considerando a elaboração de zoneamento ecológico-econômico (ZEE) em escala regional, em área com presença de grande quantitativo de penínsulas e enseadas rasas, elevada presença de cardumes de peixes de interesse comercial e aves marinhas, e ocorrência de grande atividade de pesca com espinhel.

- 108 Sob o ponto de vista conceitual, o produto correspondente ao número três representa as vulnerabilidades do ambiente, decorrentes, sobretudo, de suas características físicas e topológicas.
- 109 O tipo de atividade pesqueira desenvolvido na região é fator de risco para a captura incidental de aves marinhas.
- 110 Criada para ilhas oceânicas, como São Pedro e São Paulo, a convenção Ramsar deve ser descartada como referência para o estabelecimento de políticas de áreas protegidas na região.
- 111 O produto correspondente ao número seis é obtido apenas por interpretação de imagens de satélite.
- 112 Do ponto de vista conceitual, o produto identificado com o número 12, por estar assentado no diagnóstico da situação no momento da elaboração do estudo, sem incluir projeções futuras e potencialidades, é considerado estático.
- 113 Por ter sido produzido no contexto de um estudo subsidiário do ZEE, a ocorrência identificada com o número 11 não gera autos de infração, diretivas de ajuste de conduta ou políticas públicas de resolução de conflitos.

Considerando que a arara-azul (*Anodorhynchus hyacinthinus*), em seu *habitat* natural, no pantanal, só se alimenta do endosperma de dois cocos, o acuri (*Acrocomia totai*) e a bocaiúva (*Sheelea phalerata*), e, ainda, que o número de indivíduos da população em vida livre dessa espécie animal esteja em declínio, devido, principalmente, ao tráfico de animais silvestres e à destruição do *habitat* por desmatamento e queimadas, julgue os itens que se seguem.

- 114 A confecção e a instalação de ninhos artificiais são estratégias adequadas para o incremento da reprodução dessa espécie animal e sua conservação na natureza.
- 115 A alimentação exclusiva com acuri e bocaiúva garante o suprimento das necessidades nutricionais da arara-azul em cativeiro.

Três municípios brasileiros que abrigam seis sítios arqueológicos reconhecidos pelo Instituto do Patrimônio Histórico e Artístico Nacional (IPHAN) são protegidos por ato do poder público, sendo a área não-edificável. Uma ossada de dinossauro foi descoberta em um sítio paleontológico de um desses municípios, reforçando a importância da preservação da região para pesquisas.

Tendo em vista o interesse público na preservação do patrimônio arqueológico, o Ministério Público Federal (MPF) requisitou aos municípios que informem a atual situação dos sítios arqueológicos e as medidas adotadas para a sua preservação.

Considere que a ação do MPF tenha sido motivada também por denúncias de que os sítios arqueológicos seriam impactados pela expansão da cultura de cana-de-açúcar irrigada. Segundo essas denúncias, os materiais fósseis localizados mais à superfície dos terrenos estariam ameaçados pelas instalações ligadas à monocultura de cana e pelo movimento de máquinas pesadas no plantio. Haveria ainda o risco de a preparação do solo para o cultivo causar o desvio do trajeto da água da chuva, com consequente processo erosivo. Além dos possíveis danos causados pelo plantio, os sítios arqueológicos seriam afetados pelos efeitos da construção, no local, de um silo de armazenagem.

Internet: <www.ecodebate.com.br> (com adaptações).

Com base na situação hipotética descrita no texto acima, julgue os itens a seguir.

- 116 Caso se concretize, a erosão decorrente da preparação do solo para plantio de cana-de-açúcar levará à mudança imediata na classe de enquadramento dos corpos de água afetados.
- 117 De acordo com a legislação em vigor, as terras nas áreas em questão podem ser cultivadas até cinco metros da margem dos rios e córregos da região.
- 118 Em resposta à requisição do MPF, os municípios devem apresentar um diagnóstico detalhado quanto à localização e à vulnerabilidade dos sítios arqueológicos, já que estão obrigados por lei a assegurar a produção da informação solicitada.
- 119 A atividade econômica citada — cultura de cana-de-açúcar — enquadra-se nas situações que requerem outorga de uso de recursos hídricos.
- 120 Se aplicada, a multa pela construção do silo de armazenagem estaria limitada ao máximo de 10 salários mínimos.
- 121 O responsável pela infração caracterizada pela construção do silo está sujeito à pena de reclusão, além do pagamento de multa.

O Parque Estadual Terra Ronca é um dos maiores sítios de cavernas da América Latina, composto também por cachoeiras e uma formação de morros, esculpidos pelos ventos e pelas águas. Está localizado nas cidades de São Domingos, Posse e Guarani de Goiás. O maior atrativo turístico do parque são, sem dúvidas, as grutas e cavernas, que atraem espeleólogos, turistas, aventureiros e curiosos para conhecer os rios de águas cristalinas, que formam lagos subterrâneos, os enormes salões internos das cavernas, ricos em minerais, e as formações rochosas, compostas por belas e expressivas estalactites e estalagmites.

A diversidade biológica do parque é enorme e, dentro das cavernas, a fauna é única. Aí são encontrados peixes da família do bagre com características morfológicas e fisiológicas próprias, como atrofia dos órgãos de visão e despigmentação. Esses peixes não são apenas curiosidades vivas de uma espécie integrante da lista oficial de fauna ameaçada de extinção e integrante do anexo I da CITES, mas representam um patrimônio genético inigualável para estudos sobre a evolução biológica das espécies. Outra surpresa oferecida pelo parque é o fato de uma espécie rara de morcego, também integrante da lista oficial de fauna ameaçada de extinção e integrante do anexo I da CITES, habitar as cavernas locais.

Internet: <www.sitecurupira.com.br> (com adaptações).

Com relação ao assunto abordado no texto e aos temas correlatos, julgue os itens que se seguem.

- 122 Suponha que determinado criatório da região tenha conseguido autorização para realizar a reprodução, em cativeiro, da espécie de bagre citado no texto, para fins comerciais. Nessa situação, a espécie deve continuar listada no anexo I da CITES, embora haja espécimes nascidos em cativeiro autorizado para fins comerciais.
- 123 O texto retrata uma situação de conservação *in situ* da diversidade biológica.
- 124 As ações voltadas à conservação do patrimônio espeleológico e da fauna ameaçada de extinção devem ser integradas às políticas de incentivo ao turismo.
- 125 Considere que um dos municípios da região adquira um lote de carpas trazidas do continente asiático, de coloração vistosa, visando incentivar ainda mais o turismo. Nessa situação hipotética, o prefeito tem competência legal para determinar a introdução das carpas nas lagoas do município, sem necessidade de consulta ou de autorização de órgão ambiental.
- 126 Considere que a espécie de morcego citada no texto deixe de figurar na lista oficial de fauna ameaçada de extinção. Nesse caso, essa espécie poderia passar do anexo I para o anexo II da CITES.

Um projeto original de assentamento de trilhos de ferrovia ameaça sítio arqueológico e importante área de mata atlântica. Se construída, a ferrovia afetará a paisagem da região, pois os trilhos serão assentados também na encosta da montanha mais importante da área, com declividade média de 50 graus no trecho afetado. A comunidade atingida pela estrada de ferro argumenta que o projeto destruirá a fauna, a flora e a beleza da paisagem, além de prejudicar as atividades econômicas, voltadas para o ecoturismo e para a agricultura.

Diante de todos esses riscos, a comunidade exige informações do órgão licenciador, na forma de estudo de impacto ambiental (EIA), para se posicionar frente ao processo de licenciamento ambiental da ferrovia, que atravessa outras unidades da federação.

Internet: <www.corredores.org.br> (com adaptações).

A respeito da situação hipotética descrita no texto acima e dos temas correlatos, julgue os itens que se seguem.

- 127** O EIA deve avaliar possibilidade de traçado alternativo para a estrada de ferro que minimize o impacto sobre o patrimônio arqueológico. Nessa análise, que é focada em aspectos socioculturais, os elementos econômicos são irrelevantes.
- 128** Em um processo de concessão de licenciamento ambiental, a ausência de menção ao patrimônio arqueológico pode motivar um pedido de esclarecimento e complementação pelo órgão ambiental competente, sempre que nenhum pedido de complementação tenha sido feito anteriormente.
- 129** O traçado original da ferrovia mencionada no texto evita as áreas de preservação permanente.
- 130** Na situação descrita, o órgão licenciador competente é o Instituto Brasileiro do Meio Ambiente e dos Recursos Naturais Renováveis (IBAMA).
- 131** Durante o processo de licenciamento da estrada de ferro, o órgão ambiental competente pode conceder uma licença de instalação e estabelecer uma condicionante a ser cumprida, mesmo na ausência de algumas informações.
- 132** A presença do sítio arqueológico deve ser mencionada no estudo de impacto ambiental (EIA) realizado na área.

Em determinado município, um projeto da prefeitura prevê a implantação de depósito de lixo a céu aberto, junto a divisor de águas, em região de terras indígenas (TI). No entorno do terreno a ser destinado ao depósito, há intensa produção hortifrutícola, sendo que tanto a TI quanto as áreas de horticultura estão localizadas a jusante de tal terreno. O estado de que o município faz parte conta com um comitê de bacia hidrográfica, criado para tratar dos assuntos da região.

Com base na situação hipotética acima, julgue os itens de **133** a **135**.

- 133** No comitê de bacia hidrográfica, a comunidade indígena afetada deve ser representada por membros designados pela diretoria da Fundação Nacional do Índio (FUNAI).

- 134** Os interesses dos horticultores que ocupam área vizinha ao depósito de lixo são defendidos no comitê de bacia hidrográfica pelo representante da prefeitura do município.
- 135** A instalação do depósito de lixo, ainda que seja de proporções reduzidas e vise a atender apenas uma municipalidade, deve ser item previsto no plano de recursos hídricos da região.

O Instituto Brasileiro do Meio Ambiente e dos Recursos Naturais Renováveis (IBAMA) e a Polícia Federal, com apoio do Instituto Chico Mendes, deflagraram operação que desmantelou uma das maiores organizações de tráfico de animais silvestres do país. Foram cumpridos diversos mandados de prisão e de busca e apreensão nos estados do Paraná, São Paulo e Santa Catarina, e também no exterior, com apoio da Interpol. No estado do Paraná, até o momento, foram apreendidos mais de mil animais nativos do Brasil e exóticos provenientes de diferentes partes do mundo, a grande maioria deles passeriformes e psitacídeos. O local de apanha ou captura dos animais é desconhecido. Multas já foram aplicadas pelo IBAMA, porém tanto os valores das multas como o número de apreensões deverão crescer, uma vez que os procedimentos referentes aos maiores depósitos ilegais ainda não foram concluídos. Em alguns dos locais de depósito utilizados pela quadrilha e estourados durante a operação, há milhares de animais em cativeiro que precisam ser identificados. Os números finais somente serão conhecidos quando o trabalho terminar. Segundo a Polícia Federal, os trabalhos tiveram como objetivo enquadrar os envolvidos em crimes previstos no Código Penal, como formação de quadrilha, receptação e lavagem de dinheiro, e na Lei de Crimes Ambientais.

Internet: <www.ibama.gov.br> (com adaptações).

Considerando as informações acima e a legislação ambiental, julgue os itens a seguir.

- 136** Os espécimes apreendidos e encaminhados ao depósito provisório devem ser obrigatoriamente identificados por meio de sistema de marcação.
- 137** A reprodução de espécimes mantidos em cativeiro domiciliar, como animais de estimação, deve ser incentivada para posterior soltura das crias na natureza.
- 138** É permitido aos jardins zoológicos comercializar animais da fauna indígena a eles destinados após apreensão.
- 139** A identificação dos animais encontrados nos locais de depósito é necessária para a aplicação de multas.
- 140** De acordo com a legislação, qualquer animal saudável apreendido, sem lesões que possam dificultar sua sobrevivência ou adaptação à vida livre, deve ser devolvido imediatamente à natureza.

Considere que uma usina hidrelétrica será construída em área rural de cerrado e que, a 9 km da futura barragem, haja uma unidade de conservação que será parcialmente alagada pelo lago da usina. Considere ainda que, tendo em vista a preservação da fauna silvestre do local, foram programadas, em meio às diversas etapas desse empreendimento, diversas ações, como o levantamento, o monitoramento e o resgate da fauna silvestre da área a ser alagada, que já constava no plano básico ambiental (PBA) aprovado no processo de licenciamento do empreendimento, e a instalação de um centro de triagem.

A partir dessas informações e do que dispõe a legislação acerca da matéria, julgue os itens de **141** a **148**.

- 141** Para o referido empreendimento obter, no futuro, certificação ISO 14.000, é suficiente que cumpra a legislação ambiental.
- 142** O levantamento de fauna pode ser feito tanto na área de influência desse empreendimento quanto em áreas de características semelhantes próximas ao local de construção da usina.
- 143** No levantamento de fauna, exige-se o emprego de metodologias que atestem a completude e a representatividade do levantamento, comprovadas em documento final com dados sobre esforço e eficiência amostral e sobre estabilização da curva do coletor.
- 144** A fim de atender o que dispõe a legislação vigente acerca de monitoramento posterior, o monitoramento da fauna programado deve ser realizado dezoito meses após o início da operação do empreendimento.
- 145** Uma vez que o resgate da fauna já constava no PBA aprovado no processo de licenciamento do empreendimento, a autorização de resgate é emitida antes da instalação do centro de triagem.

- 146** Do programa de resgate da fauna a ser elaborado, devem constar dados a respeito da velocidade de enchimento do reservatório e dos fragmentos de vegetação nativa submersos e remanescentes por nível de quota de enchimento, que auxiliarão na definição do número necessário de equipes de resgate e na orientação do deslocamento da fauna na execução do resgate.
- 147** Para o cálculo da compensação ambiental, os custos do programa de resgate de fauna não integram os custos totais previstos para a implantação do empreendimento.
- 148** A área de preservação permanente (APP) no entorno das margens do reservatório deve ter largura mínima de 25 m, medida a partir do nível máximo normal em projeção horizontal.

Com base nos dispositivos legais, julgue os itens que se seguem, a respeito de licenciamento e delimitação de APP.

- 149** Em cada um dos projetos que compõem um conjunto de projetos contíguos de assentamento de reforma agrária em área de cerrado ricamente drenada, deve constar processo de licenciamento ambiental. Admite-se, para esses projetos, o corte de 50% das matas de galeria das margens dos rios para tornar economicamente viáveis as culturas irrigadas.
- 150** Para regularização fundiária sustentável de área urbana, a intervenção na vegetação ou a sua supressão em APP pode ser autorizada, pelo órgão ambiental competente, nas áreas ocupadas por população de baixa renda, predominantemente residenciais e incluídas no plano de regularização fundiária sustentável do município.

PROVA DISCURSIVA

- Nesta prova, faça o que se pede, usando o espaço para rascunho indicado no presente caderno. Em seguida, transcreva o texto para a **FOLHA DE TEXTO DEFINITIVO DA PROVA DISCURSIVA**, no local apropriado, pois **não serão avaliados fragmentos de texto escritos em locais indevidos**. Será desconsiderado, também, qualquer fragmento de texto que ultrapassar a extensão máxima de linhas disponibilizadas.
- Na **FOLHA DE TEXTO DEFINITIVO DA PROVA DISCURSIVA**, único documento que servirá de base para a avaliação da Prova Discursiva, escreva com letra legível e respeite rigorosamente as margens. No caso de erro, risque, com um traço simples, a palavra, a frase, o trecho ou o sinal gráfico e escreva em seguida o respectivo substituto. **Atenção:** parênteses não podem ser usados para tal finalidade.

O Ministério Público Federal (MPF) em Governador Valadares – MG instaurou inquérito civil público para investigar o impacto integrado dos empreendimentos hidrelétricos nas bacias hidrográficas daquela região, em especial nas bacias dos rios Doce, Jequitinhonha e Mucuri. A investigação irá abranger tanto as centrais hidrelétricas já construídas como as previstas para serem implantadas nos próximos anos. A preocupação do MPF teve origem em um documento expedido pelo Ministério das Minas e Energia do qual se extrai a possibilidade de construção, nos próximos 15 anos, de aproximadamente 94 novos empreendimentos hidrelétricos apenas na bacia do Rio Doce. “Acontece que não se pode ignorar o alto impacto social e ambiental de tais empreendimentos, que desalojam pessoas, destroem a flora e a fauna locais e alteram o modo de vida de comunidades tradicionais em troca da criação de pouquíssimos empregos, considerando o alto grau de automatização das plantas”, ressalta o procurador da República Edilson Vitorelli. A bacia hidrográfica do rio Doce apresenta uma extensão territorial de cerca de 83 km², dos quais 86% pertencem ao estado de Minas Gerais e o restante, ao Espírito Santo. Seus afluentes banham áreas de 228 municípios, 202 deles em Minas Gerais. A bacia abriga o maior complexo siderúrgico da América Latina e a maior mineradora a céu aberto do mundo. Nos últimos anos, proliferaram as pequenas centrais hidrelétricas (PCH), cujo impacto ambiental, supostamente menor, tem sido utilizado como argumento para a instalação de várias delas no mesmo rio e na mesma bacia hidrográfica do Rio Doce. Para o MPF, é indispensável investigar o impacto ambiental integrado desses empreendimentos, em análise que leve em conta os efeitos causados pelas barragens já existentes somados aos que serão produzidos pelas novas e futuras centrais hidrelétricas.

Internet: <www.ecodebate.com.br> (com adaptações).

Com base nas informações do texto acima, redija um texto dissertativo acerca do questionamento do MPF de Minas Gerais no âmbito da problemática retratada. Ao elaborar seu texto, aborde, necessariamente, os seguintes aspectos:

- ▶ argumento favorável e argumento contrário à instalação de pequenas centrais hidrelétricas (PCH), levando em conta a suposição de que as PCH exercem menor impacto ambiental;
- ▶ impacto dos empreendimentos hidrelétricos sob a óptica da ecologia da paisagem, em especial, no que se refere a alterações que possam ocorrer antes e depois da formação dos reservatórios;
- ▶ pertinência e necessidade da investigação reivindicada pelo MPF no referido inquérito.

RASCUNHO

1	
2	
3	
4	
5	
6	
7	
8	
9	
10	
11	
12	
13	
14	
15	
16	
17	
18	
19	
20	
21	
22	
23	
24	
25	
26	
27	
28	
29	
30	