



# GOVERNO DO ESTADO DO ESPÍRITO SANTO SECRETARIA DE ESTADO DA FAZENDA

Concurso Público

Cargo:  
**CONSULTOR DO EXECUTIVO**

Formação 2:  
**CIÊNCIAS ECONÔMICAS**

## Caderno de Provas

**LEIA COM ATENÇÃO AS INSTRUÇÕES ABAIXO.**

- 1 Confira atentamente se os seus dados pessoais e os dados identificadores do cargo para o qual você concorre, transcritos acima, estão corretos e coincidem com o que está registrado em sua folha de respostas. Confira também o seu nome e o nome do cargo para o qual você concorre em cada página numerada deste caderno de provas. Em seguida, verifique se ele contém a quantidade de itens indicada em sua folha de respostas, correspondentes às provas objetivas. Caso o caderno esteja incompleto, tenha qualquer defeito ou apresente divergência quanto aos seus dados pessoais ou quanto aos dados identificadores do cargo para o qual você concorre, solicite ao fiscal de sala mais próximo que tome as providências cabíveis, pois não serão aceitas reclamações posteriores nesse sentido.
- 2 Quando autorizado pelo chefe de sala, no momento da identificação, escreva, no espaço apropriado da **folha de respostas**, com a sua caligrafia usual, a seguinte frase:  

**Onde há serenidade e justiça, reina a paz.**
- 3 Não se comunique com outros candidatos nem se levante sem autorização de fiscal de sala.
- 4 Na duração das provas, está incluído o tempo destinado à identificação — que será feita no decorrer das provas — e ao preenchimento da folha de respostas.
- 5 Ao terminar as provas, chame o fiscal de sala mais próximo, devolva-lhe a sua folha de respostas e deixe o local de provas.
- 6 A desobediência a qualquer uma das determinações constantes em edital, no presente caderno ou na folha de respostas poderá implicar a anulação das suas provas.

### OBSERVAÇÕES

- Não serão objeto de conhecimento recursos em desacordo com o estabelecido em edital.
- Informações adicionais: telefone 0(XX) 61 3448-0100; Internet – [www.cespe.unb.br](http://www.cespe.unb.br).
- É permitida a reprodução deste material apenas para fins didáticos, desde que citada a fonte.

- De acordo com o comando a que cada um dos itens a seguir se refira, marque na **folha de respostas**, para cada item: o campo designado com o código **C**, caso julgue o item **CERTO**; ou o campo designado com o código **E**, caso julgue o item **ERRADO**. Para as devidas marcações, use a **folha de respostas**, único documento válido para a correção das suas respostas.
- Nos itens que avaliam conhecimentos de informática, a menos que seja explicitamente informado o contrário, considere que: todos os programas mencionados estão em configuração-padrão, em português; o *mouse* está configurado para pessoas destros; expressões como **clicar**, **clique simples** e **clique duplo** referem-se a cliques com o botão esquerdo do *mouse*; **teclar** corresponde à operação de pressionar uma tecla e, rapidamente, liberá-la, acionando-a apenas uma vez. Considere também que não há restrições de proteção, de funcionamento e de uso em relação aos programas, arquivos, diretórios, recursos e equipamentos mencionados.

## CONHECIMENTOS GERAIS

### Jornais, manchetes e números: sejamos sempre um pouco desconfiados...

Jornais — impressos ou eletrônicos — costumam, periodicamente, “retratar” o desempenho da economia e do governo. Para isso, precisam trabalhar com medidas, indicadores quantitativos. Contudo, os indicadores que construímos (nós ou eles) não são neutros, não são independentes do lugar em que estamos, na sociedade. E não são independentes do rumo que pretendemos dar à sociedade — o nosso projeto, a nossa ideologia.

Faz tempo que estava amadurecendo a polêmica sobre esses indicadores — crescimento econômico e emprego. Há poucos meses, no caderno de economia do jornal **O Estado de S. Paulo**, um artigo de colunista oficial do jornal, bastante conservadora, criticava o desempenho da economia e do governo, afirmando, por exemplo, que a economia ia mal e o desemprego crescia. Na mesma edição, mas em outro caderno, um romancista e colunista de jornais e revistas, João Ubaldo Ribeiro, dizia algo similar: nada crescia no Brasil, a não ser os impostos. O assombroso é que a principal matéria desse caderno de economia, nessa mesma edição do **Estadão**, com grande destaque, era algo assim: Cresce o emprego (e emprego formal), e a massa salarial aumenta na velocidade de 30 bi por mês.

O leitor desconfiado perguntaria: o que aconteceu? Os colunistas não leem o próprio jornal? Não, não é isso. A colunista não estava produzindo informação, estava produzindo uma intervenção no debate, uma intervenção motivada, uma informação interessada, motivada pela sua posição política. E o romancista estava se referindo, implicitamente, à Medida Provisória (MP) nº 232, que aumentaria impostos para as tais “empresas prestadoras de serviços”, nas quais, provavelmente, ele iria ser enquadrado. Nada mais natural que esperneiem e que vejam o mundo de outra maneira. É uma percepção do mundo, marcada pelo lugar em que eles estão e pelos fatos que percorrem sua existência diária.

A MP nº 232, tão surrada pela mídia, diminuía o imposto de renda (IR) para os assalariados e pensionistas e, proporcionalmente, aumentava o imposto das tais empresas. Essas, nos últimos anos, tinham sido o dispositivo pelo qual empresas e funcionários qualificados tinham empreendido a terceirização do assalariado, com significativa redução de carga tributária. Algum jornal tocou nessa relação? Não se fala de corda em casa de enforcado.

Regis Moraes. Internet: <www.piratininga.org.br> (com adaptações).

Julgue os itens de 1 a 6, acerca das propriedades textuais e gramaticais do texto acima.

- 1 O emprego das aspas na linha 2 ajuda a construir o tom irônico que o autor imprime ao texto e está relacionado à ideia central. Essa relação pode ser expressa da seguinte forma: supõe-se que os retratos sejam cópias da realidade, mas o autor procura mostrar que a realidade pode ser distorcida pela posição que as pessoas ocupam na sociedade.
- 2 Na linha 9, se a palavra “tempo” fosse substituída pela expressão **dois anos**, a forma verbal “faz” deveria ser substituída por **fazem**.

- 3 No trecho “O assombroso é que a principal matéria desse caderno de economia” (l.18-19), a palavra “assombroso” está empregada como um substantivo, o que se comprova pela presença do artigo que a antecede.
- 4 De acordo com o autor, a colunista do caderno de economia havia lido as matérias escritas pelos colegas de jornal e se opunha a eles, mas eles não tiveram acesso à opinião da colega antes da publicação e da veiculação do jornal.
- 5 O conectivo que inicia o trecho “E o romancista estava se referindo” (l.28) tem valor explicativo e poderia ser substituído por **Pois**, sem prejuízo para os sentidos originais do texto.
- 6 O emprego do acento grave em “E o romancista estava se referindo, implicitamente, à Medida Provisória (MP) n.º 232” (l.28-29) justifica-se pela regência de “referindo” e pelo emprego de artigo feminino antecedendo “Medida Provisória”.

Julgue os itens que se seguem, a respeito de conceitos de informática.

- 7 Para a conexão de um computador à Internet, é necessário ter, entre outros componentes de *hardware*, uma placa de rede ou um *modem*. A placa é usada no caso de o computador pertencer a uma rede de comunicação, enquanto que o *modem* é necessário quando a conexão é realizada via linha telefônica.
- 8 No aplicativo Excel, um sinal de cifrão (\$) deve ser utilizado imediatamente antes de uma referência absoluta a ser fixada. Esse procedimento evita que a referência da célula possa ser alterada ao ser usada uma alça de preenchimento ou comandos, como copiar e colar.
- 9 Por padrão, o sistema operacional Windows disponibiliza, para a realização de cálculos simples, uma calculadora científica que oferece opções práticas para manipulações dos resultados das operações, os quais podem ser salvos em arquivo, para uso por outros programas, ou inseridos em planilhas do Excel.
- 10 Com o uso de programas apropriados, é possível instalar mais de um sistema operacional em um computador, tal que, ao se iniciar uma seção de trabalho, pode-se selecionar qual sistema operacional será utilizado.
- 11 O acesso a um arquivo que esteja armazenado em um diretório oculto ou localizado em uma unidade pertencente a uma rede de computadores pode ser realizado diretamente por meio de um ícone de atalho configurado na área de transferência. Nesse caso, o acesso ao arquivo é obtido com a aplicação de um clique duplo com o botão direito do *mouse* sobre o referido ícone.

Considerando os símbolos lógicos  $\neg$  (negação),  $\wedge$  (conjunção),  $\vee$  (disjunção),  $\rightarrow$  (condicional) e as proposições

$$S: (p \wedge \neg q) \vee (\neg p \wedge r) \rightarrow q \vee r \text{ e}$$

$$T: ((p \wedge \neg q) \vee (\neg p \wedge r)) \wedge (\neg q \wedge \neg r),$$

julgue os itens que se seguem.

- 12 As tabelas-verdade de S e de T possuem, cada uma, 16 linhas.
- 13 A proposição  $T \rightarrow S$  é uma tautologia.
- 14 As proposições compostas  $\neg S$  e T são equivalentes, ou seja, têm a mesma tabela-verdade, independentemente dos valores lógicos das proposições simples p, q, e r que as constituem.

A secretaria de fazenda de determinado estado faculta ao contribuinte o pagamento do valor do IPVA em parcela única ou em três prestações mensais com valores iguais, sem cobrança de juros, sendo que a primeira prestação vence no dia do vencimento da parcela única e as outras duas, nos dois meses consecutivos. Em 2009, um contribuinte que devia pagar o valor de R\$ 1.200,00 de IPVA, com vencimento no dia 14/3/2009, pagou a primeira parcela do imposto em dia, mas deixou de pagar os valores correspondentes às outras duas prestações. No início de julho de 2009, esse contribuinte negociou a dívida com a secretaria de fazenda, a qual reajustou o valor de cada prestação, a partir de seus vencimentos, a uma taxa de juros simples, de modo que os novos valores da segunda e da terceira prestações atrasadas, cujo vencimento passou a ser no dia 14/10/2009, foram iguais, respectivamente, a R\$ 520,00 e R\$ 500,00.

Com base nessa situação hipotética, julgue os itens abaixo.

- 15 A taxa de juros simples usada pela secretaria de fazenda no reajuste das prestações atrasadas foi superior a 4%.
- 16 Supondo que a secretaria de fazenda tivesse reajustado as prestações a uma taxa de juros compostos igual a 4% ao mês, então, considerando-se  $(1,04)^5 = 1,22$ , o valor total das parcelas com vencimento no dia 14/10/2009 seria superior a R\$ 1.020,00.
- 17 Considerando que, de posse dos boletos bancários nos valores de R\$ 500,00 e R\$ 520,00 para pagamento no dia 14/10/2009, o contribuinte tenha resolvido antecipar o pagamento para 14/8/2009, e que a secretaria de fazenda tivesse adotado o sistema de desconto racional simples a uma taxa de 4% ao mês para desconto de antecipações dessa natureza, o valor total pago por esse contribuinte, em 14/8/2009, seria superior a R\$ 950,00.

RASCUNHO

A secretaria de fazenda de determinado estado implantou um plano para parcelamento das dívidas atrasadas dos tributos. De acordo com esse plano, uma empresa que devia R\$ 464.100,00 de ICMS negociou o pagamento dessa dívida em 4 prestações anuais e consecutivas de R\$ 146.410,00, calculadas com base no sistema francês de amortização, a uma taxa de juros de 10% ao ano e com a primeira prestação vencendo um ano após a data do acordo.

A partir dessa situação hipotética, julgue os itens subsequentes.

- 18 O valor dos juros pagos na terceira prestação foi inferior a R\$ 25.000,00.
- 19 Considerando que a taxa anual de inflação seja igual a 7%, a taxa real de juros cobrada pela secretaria de fazenda será inferior a 3%.

órgão	despesa total com salários de pessoal (× R\$ 10.000)	quantidade de cargos comissionados	quantidade de cargos efetivos
A	100	40	180
B	120	40	182
C	150	50	220
D	180	100	230

Considere que, a fim de avaliar despesas com salários do pessoal lotado em órgãos do Poder Executivo, determinada secretaria de fazenda decidiu fazer um levantamento em quatro órgãos em relação ao mês de agosto de 2009. Os dados observados estão apresentados na tabela acima. Com base nessas informações, julgue os próximos itens.

- 20 Em agosto de 2009, os salários médios do pessoal nesses órgãos foram superiores a R\$ 4.500,00.
- 21 Considere que o desvio padrão dos salários do pessoal do órgão A, em agosto de 2009, tenha sido igual a R\$ 40,00. Nessa situação, caso uma amostra aleatória de 25 pessoas desse órgão fosse retirada em agosto de 2009, o erro padrão da média estimada com base nessa amostra seria superior a R\$ 10,00.
- 22 Considerando que a distribuição dos salários siga uma distribuição normal cuja variância seja desconhecida, para situações de pequenas amostras, é correto usar os percentis da distribuição normal padrão na construção de intervalos de confiança para a média dos salários.
- 23 Considere que a correlação linear de Pearson entre as variáveis despesa total com salários de pessoal e quantidade de cargos comissionados seja igual a 0,9. Nesse caso, o coeficiente de determinação do modelo de regressão linear simples entre essas mesmas variáveis será inferior a 0,9.
- 24 O pessoal com cargo comissionado no órgão D representa menos de 40% do total do pessoal lotado nesse órgão.

### Secretaria da Fazenda (SEFAZ/ES) realiza campanha educativa sobre a importância da nota fiscal

Em 2009, o Programa de Educação Fiscal da SEFAZ realizou 48 eventos, entre reuniões, seminários, palestras, capacitações de professores e treinamento de servidores. A atuação abrangeu 27 municípios capixabas.

Internet: <www.sefaz.es.gov.br> (com adaptações).

Suponha que todos os eventos mencionados no texto acima atraíram público e que, entre os participantes, 2 mil pessoas compareceram às palestras, 1.500 pessoas, aos seminários e 500 pessoas, aos demais eventos. Considere também que 500 pessoas participaram de palestras e seminários, 800 pessoas participaram apenas de seminários, 200 pessoas não participaram de palestras ou seminários e 25 pessoas participaram de todos os tipos de eventos. De acordo com essa situação hipotética e com o texto acima, julgue os itens a seguir.

- 25 Menos de 1.400 pessoas participaram apenas de palestras.
- 26 Mais de 750 pessoas participaram de dois ou mais tipos de eventos.

RASCUNHO

Julgue os itens subsequentes, referentes a receitas tributárias.

RASCUNHO

- 27 No estado do Espírito Santo, as taxas podem ter a mesma base de cálculo dos impostos, mas o produto decorrente da sua arrecadação é alocado no órgão responsável pelo respectivo poder de polícia ou pela prestação de serviços que fundamentem a cobrança.
- 28 Se, devido a incentivos fiscais concedidos pelo governo do Espírito Santo, novas empresas produtoras de automóveis instalarem-se no estado, e esse fato contribuir para atrair milhares de trabalhadores de outros estados brasileiros, nesse caso, visando conter o fluxo migratório e para não prejudicar a política de geração de empregos local, o governador poderá instituir um tributo interestadual, limitando a entrada de trabalhadores de outros estados, pelo mesmo período de tempo do incentivo fiscal concedido às montadoras de automóveis.

A tabela a seguir apresenta algumas informações relativas à arrecadação estadual do Espírito Santo, em janeiro de 2010.

receitas	R\$ (em mil)
imposto sobre renda e proventos de qualquer natureza	40.109
IPVA	6.286
imposto sobre transmissão <i>causa mortis</i> e doação bens/direitos	1.862
ICMS	510.159
taxas	25.118
receita de contribuições	16.691
receitas imobiliárias	39
aluguéis	23
receita agropecuária	10
receita industrial	2.799
receita de serviços	274
transferências correntes	193.984
outras receitas correntes	119.236
operações de crédito internas	35.953
operações de crédito externas	25.407
alienação de bens	8
amortização de empréstimos	4
transferências de capital	135
outras receitas de capital	8.742

Internet: <[www.portaldatransparencia.es.gov.br](http://www.portaldatransparencia.es.gov.br)>.

Com base nas informações da tabela acima, julgue os itens seguintes, acerca das receitas públicas.

- 29 A receita agropecuária, a industrial e a de serviços contribuíram com R\$ 3.083 mil para o montante arrecadado com as receitas correntes.
- 30 O montante da receita tributária arrecadada pelo governo do Espírito Santo, em janeiro de 2010, totalizou R\$ 583.534 mil, enquanto as receitas de capital alcançaram R\$ 70.249 mil.
- 31 O governo estadual deve repassar para a União R\$ 56.800 mil decorrentes da arrecadação de imposto sobre renda e proventos de qualquer natureza e da arrecadação das contribuições, pois são tributos de competência exclusiva do governo federal.

Na sua origem, a dívida pública surgiu como instrumento complementar de financiamento de gastos do Estado, sempre que os impostos se mostravam insuficientes para cobrir suas necessidades, e este esbarrava em resistências da sociedade para aumentá-los.

Fabrizio Oliveira. *Economia e política das finanças públicas no Brasil*. São Paulo: Hucitec, 2009, p. 279 (com adaptações).

A respeito da dívida pública e dos limites do endividamento, julgue os itens a seguir.

- 32 A dívida fundada refere-se ao montante, apurado sem duplicidade, das obrigações financeiras do estado do Espírito Santo, assumida em virtude de leis, contratos, convênios ou tratados. Refere-se, também, às obrigações decorrentes de operações de crédito, para amortização em prazo superior a 12 meses.
- 33 Se o estado do Espírito Santo tivesse ultrapassado o limite de endividamento no último quadrimestre de 2009, então ele deveria tomar medidas imperativas de recondução ao limite, no máximo até o término de 2010, enquanto perdurasse o excesso, as operações de crédito ficariam suspensas, até mesmo as de antecipação de receita.
- 34 Os créditos do estado do Espírito Santo, relativos ao ICMS, antes de serem encaminhados à cobrança executiva, devem ser inscritos em dívida ativa, e sua cobrança é efetuada pela Procuradoria Geral do Estado. A dívida regularmente inscrita goza da presunção de certeza e de liquidez e tem o efeito de prova pré-constituída.

Quanto ao orçamento público, julgue os próximos itens.

- 35 Ao examinar o projeto de lei relativo ao orçamento anual da União, os deputados federais podem apresentar emendas modificando os recursos destinados de dotações para pessoal e serviço da dívida. Já os senadores podem aprovar emendas modificando a dotação orçamentária referente às transferências tributárias constitucionais para estados, municípios e Distrito Federal.
- 36 A intervenção do Estado na economia, justificada pela função distributiva, tem por objetivo complementar a ação privada, por meio do orçamento público, com investimentos em infraestrutura e provisão de bens meritórios.

Com relação às disposições constitucionais acerca dos poderes do Estado e dos princípios constitucionais, julgue os itens que se seguem.

- 37 Tanto o Poder Legislativo quanto o Poder Judiciário exercem controle de constitucionalidade de leis.
- 38 Embora a função de administração pública seja exercida precipuamente pelo Poder Executivo, os Poderes Judiciário e Legislativo, relativamente a seus atos administrativos, também a exercem.
- 39 Caso o Congresso Nacional aprove, em cada uma de suas casas, em dois turnos, por três quintos dos votos dos respectivos membros, um tratado internacional acerca dos direitos humanos, tal tratado será equivalente a uma lei complementar.
- 40 O presidente da República não pode extinguir o cargo público de um servidor que deixe de exercê-lo em razão de se aposentar.
- 41 No ordenamento constitucional brasileiro, é admissível que um estado seja anexado por outro, atendidos aos requisitos estabelecidos na própria Constituição Federal de 1988.

No que se refere ao Sistema Tributário Nacional, julgue os itens subsequentes.

- 42 Em respeito ao princípio da legalidade, não é permitido ao chefe do Poder Executivo elevar a alíquota do imposto de importação, mesmo dentro de limites autorizados por lei.
- 43 É admissível que a União, os estados e os municípios institua, desde que por meio de lei, contribuição para custeio da iluminação pública.
- 44 Se a Assembleia Legislativa do Estado do Espírito Santo intentar criar uma taxa, terá de subordinar a respectiva lei de criação às normas gerais de direito tributário relativamente à definição do fato gerador correspondente.
- 45 Considerando que uma lei que criou uma taxa tenha sido promulgada e publicada em 3/12/2009, com vigência a partir da data de publicação, a referida taxa somente deverá ser cobrada a partir 1.º de janeiro de 2010.
- 46 Se dois tributos tiverem o mesmo fato gerador, embora um deles seja denominado taxa, e o outro, imposto, um deles estará com uma incorreta atribuição de natureza jurídica específica.

A respeito do ordenamento jurídico-administrativo brasileiro, julgue os próximos itens.

- 47 Considere que o governo estadual crie novo município em uma região desprovida de distribuição e de fornecimento de energia elétrica. Nessa situação, determinada empresa interessada em prestar o serviço necessita contratar, após vencer o respectivo leilão, o direito de concessão.
- 48 Quando um administrador público executa ato administrativo classificado como discricionário, não cabe, conforme a doutrina e a jurisprudência dominantes, o exame da legalidade desse ato pelo Poder Judiciário.
- 49 Se um município pretende oferecer à sua população a apresentação de um artista consagrado pela opinião pública, em tal contratação é dispensável o processo licitatório.
- 50 Caso um empregado de determinada empresa pública cometa ato que a lei caracterize como improbidade administrativa, ele responderá por esse ato, ainda que não detenha cargo público.

## CONHECIMENTOS ESPECÍFICOS

Julgue os itens seguintes quanto ao comportamento do consumidor, sua demanda individual e às demandas de mercado.

- 51 Supor que as preferências do consumidor são completas é admitir que é possível comparar duas cestas quaisquer de bens.
- 52 A preferência do consumidor atende a uma premissa reflexiva, ou seja, o consumidor sempre preferirá quantidades maiores de cada mercadoria.
- 53 A inclinação para baixo (negativa) das curvas de indiferença deriva do princípio de que as preferências do consumidor são transitivas.
- 54 As curvas de indiferença nunca se cruzam em decorrência de as preferências do consumidor serem transitivas.
- 55 Ao longo da curva de demanda individual, tem-se o mesmo nível de satisfação do consumidor para diferentes níveis de preços e quantidades.
- 56 A agregação de curvas de demanda individuais lineares necessariamente leva a uma curva de demanda de mercado linear.

Suponha que um consumidor gaste otimamente sua renda semanal de R\$ 80,00 com 20 unidades de vestuário, pagando R\$ 2,00 a unidade, e com 40 unidades de alimento, pagando R\$ 1,00 a unidade. Com relação às restrições orçamentárias desse consumidor, julgue o item abaixo.

- 57 Com a mesma renda semanal, caso o preço do alimento caia 50% em determinada semana, a taxa marginal de substituição passa para - 1.

Julgue os próximos itens, acerca do excedente de consumidor, variações compensatórias e equivalentes, aversão ao risco e utilidade esperada.

- 58 Variação equivalente é a variação de renda necessária para levar o consumidor à sua curva de indiferença original depois de uma variação de preço.
- 59 No caso de utilidade quase-linear, as variações compensadora e equivalente são iguais.
- 60 Em decorrência de um aumento de preços, a variação do excedente mede as perdas sofridas pelo consumidor por pagar mais pelas unidades que continua a consumir e pela redução do consumo.
- 61 Para um indivíduo propenso ao risco, a utilidade esperada de riqueza é maior do que o valor esperado de riqueza.

Julgue os itens que se seguem, relativos à teoria dos jogos e dos mercados imperfeitos.

- 62 Um monopolista, ao escolher operar onde a curva de demanda é inelástica, não estará maximizando seu lucro.
- 63 Em um mercado com demanda linear, a imposição de uma tributação indireta sobre uma empresa monopolista com custos marginais constantes leva a um repasse total desse imposto sobre os preços praticados por essa empresa.
- 64 Modelos de Stackelberg são frequentemente utilizados para descrever comportamentos de empresas em um mercado de oligopólio quando elas concorrem nas quantidades produzidas.
- 65 Em um equilíbrio de Nash em estratégias mistas, cada agente escolhe a frequência ótima para jogar as suas estratégias em função das frequências de escolhas do outro agente.
- 66 Suponha que uma empresa A tenha a opção de baixar ou aumentar o preço visando concorrer com a empresa B; simultaneamente, a empresa B terá de tomar uma decisão de entrar, ou não, nesse novo mercado. De acordo com os ganhos e(ou) perdas (-) de ambas, expostos na tabela abaixo, nesse jogo há um equilíbrio de Nash em estratégias puras e não há equilíbrio em estratégias mistas.

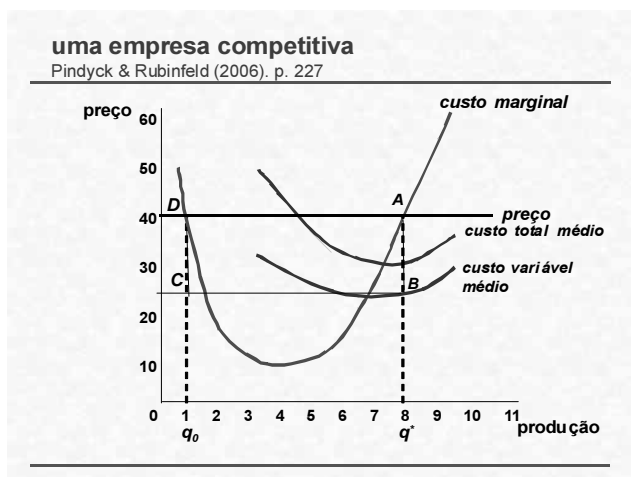
		empresa B	
		entrar	não entrar
empresa A	aumentar preço	0, 0	0, -1
	baixar preço	1, 0	-1, 3

RASCUNHO

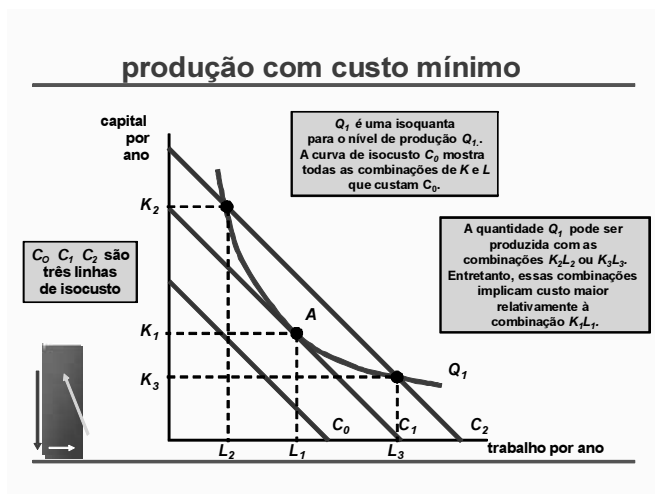
Julgue os itens seguintes, referentes à teoria da firma e da produção.

RASCUNHO

- 67 Para uma função de produção Cobb-Douglas  $f(z_1, z_2) = z_1^\alpha \cdot z_2^\beta$  com  $\alpha, \beta \geq 0$ , a taxa marginal de substituição técnica entre os dois insumos  $z_1$  e  $z_2$  é igual a  $\frac{\alpha z_2}{\beta z_1}$ .
- 68 Quando há rendimentos crescentes de escala, as isoquantas situam-se cada vez mais distantes à medida que os insumos aumentam ao longo da linha.
- 69 Em uma função de produção tradicional, o produto médio é igual ao produto marginal quando a produção é máxima.
- 70 Conforme o gráfico abaixo, o lucro positivo dessa empresa, no mercado competitivo, corresponde ao montante representado pela área ABCD.

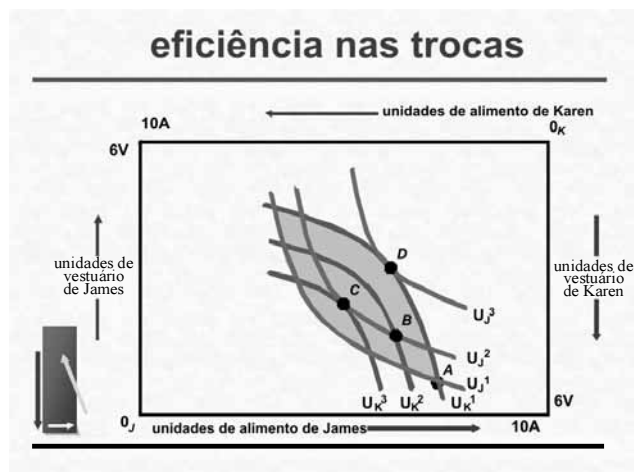


- 71 A empresa que utiliza uma tecnologia com retornos constantes de escala tem lucro positivo a longo prazo.
- 72 Conforme o gráfico abaixo, um aumento dos salários provoca o deslocamento paralelo de  $Q_1$  a um novo ponto de equilíbrio, acima do ponto A.



- 73 A curva de custo marginal de longo prazo é a envoltória inferior das curvas de custo marginal de curto prazo.
- 74 A condição necessária para a minimização do custo é idêntica à condição necessária para a maximização da produção.





Suponha que, em uma economia de trocas, haja apenas dois indivíduos (James e Karen) e dois bens (vestuários e alimentos). Com base no caixa de Edgeworth ilustrado no gráfico acima, julgue os próximos itens.

- 75 Os pontos C e D fazem parte da curva de contrato.
- 76 Qualquer ponto dentro da área sombreada representa uma situação melhor do que o ponto A para ambos os indivíduos.
- 77 Tanto Karen quanto James são indiferentes entre os pontos A e D.
- 78 O segundo teorema do bem-estar é válido para qualquer tipo de preferências.

Com relação às externalidades e à economia da informação, julgue os itens a seguir.

- 79 Em uma economia com externalidades negativas, o custo social de produzir é superior ao custo privado, o que impede o mercado de alcançar a eficiência de Pareto.
- 80 Uma solução para externalidades negativas como a poluição é a criação de um mercado competitivo para esse tipo de dano. O equilíbrio desse novo mercado, porém, não é eficiente no sentido de Pareto.
- 81 O mercado de automóveis usados é um bom exemplo de mercado com risco moral (*moral hazard*).
- 82 A cobrança de franquias, introduzidas pelas empresas seguradoras nas apólices de seguro, podem ser explicadas pelo *moral hazard* presente nesses mercados.
- 83 O problema da relação agente-principal surge quando o principal persegue o próprio objetivo e não considera os objetivos dos agentes.
- 84 Em um mercado com informação assimétrica, em que haja seleção adversa, bens de baixa qualidade tendem a tomar o mercado dos bens de alta qualidade.
- 85 Em um modelo de mercado competitivo de trabalho, em que a produtividade dos trabalhadores é não-observável, o equilíbrio competitivo não é Pareto ótimo devido à seleção adversa por parte dos empregadores.

Acerca dos conceitos de macroeconomia, julgue os itens que se seguem.

- 86 A macroeconomia, que estuda o índice geral de preços e a determinação da renda nacional, também se ocupa do estudo de como é gerado e de como é possível um aumento no nível agregado de recursos da economia.
- 87 O modelo do fluxo circular apresenta os principais agregados da economia, ilustrando a produção de um bem a partir do fator trabalho. O circuito interno representa os fluxos reais, e o circuito externo apresenta os fluxos financeiros ou monetários.
- 88 A diferença entre produto bruto e produto líquido está associada ao fato de que o produto bruto desconsidera a parcela do investimento destinada a repor o desgaste do estoque de capital.
- 89 Quando um país envia mais recursos para o exterior do que recebe, a renda líquida enviada ao exterior é negativa e o produto nacional é superior ao produto interno.
- 90 Considerando os dois tipos de variáveis em uma economia, as variáveis-estoque representam a quantidade medida por unidade de tempo, e as variáveis-fluxo representam a quantidade mensurada em determinado instante de tempo.
- 91 Para uma economia que apresente os valores da tabela a seguir, o PIB a preço de mercado é R\$ 1.070,00.

	valor (em R\$)
salários	500
aluguéis	300
juros	50
lucros	80
depreciação	40
consumo pessoal	700
consumo do governo	200
variação de estoques	100
exportações	100
importações	180
impostos indiretos	200
subsídios	50

RASCUNHO

A respeito da oferta e da demanda agregadas, do modelo IS-LM e da curva de Phillips, julgue os itens subsequentes.

- 92 A curva IS é uma representação gráfica que mostra uma relação direta entre a taxa de juros e a renda no mercado de bens. A magnitude de sua inclinação, que não depende da sensibilidade ao investimento, depende somente da propensão marginal a consumir.
- 93 Dada a demanda agregada inicial, uma inflação de custos desloca a oferta agregada para a direita, resultando um aumento do nível de preços.
- 94 A curva de Phillips surgiu da relação entre salários monetários e taxas de desemprego. Posteriormente, a curva de Phillips moderna adotou a inflação de preços, incorporando a inflação esperada e os choques de oferta.
- 95 Na relação entre a demanda agregada e a curva de Phillips, o aumento na demanda agregada conduz a um deslocamento ao longo dessa mesma curva e o choque de custos desloca toda a curva de Phillips.
- 96 A cruz keynesiana, por mostrar o crescimento da economia para qualquer nível de investimento planejado, é a base da curva LM.
- 97 A teoria da preferência pela liquidez, pelo pressuposto da existência de uma oferta fixa de saldos monetários reais, explica como a oferta e a demanda desses saldos determinam a taxa de juros.
- 98 O modelo econômico de oferta e demanda agregadas permite analisar, por meio das flutuações econômicas geradas, os efeitos de políticas de estabilização.

Com relação ao crescimento econômico, ao consumo e ao investimento, julgue os próximos itens.

- 99 A macroeconomia estuda as flutuações econômicas e o produto efetivo em análises de curto prazo. Já em avaliações de longo prazo, ela estuda o crescimento econômico e produto potencial.
- 100 O desenvolvimento econômico considera as mudanças verificadas no nível do produto, as alterações na sua composição e a alocação de recursos entre os diversos setores da economia analisada.
- 101 O modelo do acelerador aplicado a todo tipo de investimento prevê que o investimento em estoques não é proporcional à variação da produção.
- 102 Quando a taxa real de juros sobe, ocorre um impacto na acumulação de estoques que se tornam mais baratos, levando as empresas racionais a aumentarem seus estoques.

Julgue os itens de 103 a 107, relativos à moeda e à política monetária.

- 103 Em decorrência de as facilidades de realocação de portfólio permitirem que M1 esteja sempre no nível necessário às transações e responda passivamente à elevações no nível de preços, os meios de pagamento ampliados são indicadores melhores que os meios de pagamento restritos.
- 104 A poupança financeira, segundo definição dos meios de pagamentos, corresponde a M2 acrescido das quotas de fundos de renda fixa e das operações compromissadas registradas na SELIC, mas desconsidera os títulos públicos de alta liquidez.
- 105 Moeda, um estoque de ativos usados em transações, possui as funções de reserva de valor, padrão de valor e meio de troca.

- 106 Segundo a teoria quantitativa da moeda, a velocidade de sua circulação e o nível de produto são constantes tanto no curto prazo quanto no longo prazo. Como consequência, qualquer variação na quantidade de moeda resulta variação direta e de mesma intensidade no nível de preços.
- 107 Os instrumentos mais utilizados pelo Banco Central do Brasil (BACEN) para atuar na execução da política monetária são alterações nos níveis de reserva legal dos bancos, operações de mercado aberto e alterações nas taxas de desconto.

Julgue os próximos itens, a respeito da inflação, sua meta, *deficit* público e senhoriagem.

- 108 A inflação inercial, associada à correção monetária, afeta a inflação esperada. O custo da inflação não esperada, entretanto, pode ter um efeito mais danoso que o da esperada por redistribuir arbitrariamente a renda entre os indivíduos.
- 109 Segundo a teoria monetarista da inflação, aumentos gerais de preços são embasados em aumentos na quantidade de moeda existente na economia.
- 110 As causas da inflação, segundo a teoria monetarista, estão no estrangulamento da economia decorrente do crescimento econômico, razão pela qual a ação do Estado se torna necessária para promover melhorias na infraestrutura.
- 111 A senhoriagem não pode ser considerada receita, mesmo que sua obtenção ocorra quando o governo emite moeda para financiar suas despesas.
- 112 No regime de metas de inflação, não se pode atribuir à política monetária metas adicionais, como câmbio e crescimento econômico.

Acerca dos regimes cambiais, julgue os itens a seguir.

- 113 O sistema cambial brasileiro é do tipo flutuante. O BACEN faz intervenções ocasionais e as transações do mercado de câmbio são efetuadas por bancos, corretoras e outras instituições por ele autorizadas.
- 114 No regime de câmbio fixo, o BACEN estabelece o preço internacional da moeda nacional e, para sustentar a paridade, se compromete a comprar ou vender moeda a determinada taxa.
- 115 No regime de câmbio flutuante, a taxa cambial é formada pela interação entre demandantes e ofertantes de moeda estrangeira, com pouca interferência das autoridades monetárias.
- 116 O BACEN tem competência para garantir a estabilidade relativa das taxas de câmbio e o equilíbrio no balanço de pagamentos, podendo promover a contratação de empréstimos, além de representar o Brasil junto ao Fundo Monetário Internacional.
- 117 *Crawling peg* é o sistema de câmbio em que a taxa de câmbio se mantém fixa, embora possa, eventualmente, ser alterada pela autoridade monetária, desde que não configure minidesvalorizações.
- 118 No sistema *currency board*, a autoridade monetária assume o compromisso legal do câmbio da moeda nacional pela estrangeira, atuando como uma caixa de conversão.
- 119 No modelo de Mundell-Fleming com regime de taxas de câmbio fixas, a política monetária não tem efeito sobre a renda porque a oferta de moeda ajusta-se ao nível da taxa de câmbio anunciada.
- 120 No modelo de Mundell-Fleming com regime de taxas de câmbio fixas, a política fiscal é inócua, pois a expansão dos gastos do governo ou a redução de tributos provoca apreciação da moeda, reduz as exportações líquidas e anula seu impacto.