



# ESTADO DO ACRE

SECRETARIA DE ESTADO DA GESTÃO ADMINISTRATIVA (SGA)

Nome do candidato:

Número do documento de identidade:

Número de inscrição:

Sala:

Seqüencial:

Cidade de realização da(s) prova(s):

## Concurso Público

Nível Superior

Aplicação: 24/2/2008

Cargo **5:** CONTADOR

# MANHÃ

### LEIA COM ATENÇÃO AS INSTRUÇÕES ABAIXO.

- 1 Ao receber este caderno, confira inicialmente os seus dados pessoais transcritos acima. Em seguida, verifique se ele contém cento e vinte itens, correspondentes às provas objetivas, corretamente ordenados de 1 a 120.
- 2 Caso o caderno esteja incompleto ou tenha qualquer defeito, solicite ao fiscal de sala mais próximo que tome as providências cabíveis, pois não serão aceitas reclamações posteriores.
- 3 Não utilize lápis, lapiseira (grafite), borracha e(ou) qualquer material de consulta que não seja fornecido pelo CESPE/UnB.
- 4 Não se comunique com outros candidatos nem se levante sem autorização do chefe de sala.
- 5 Recomenda-se não marcar ao acaso: cada item cuja resposta diverja do gabarito oficial definitivo receberá pontuação negativa, conforme consta em edital.
- 6 A duração das provas é de **três horas e trinta minutos**, já incluído o tempo destinado à identificação — que será feita no decorrer das provas —, e ao preenchimento da folha de respostas.
- 7 Você deverá permanecer obrigatoriamente em sala por, no mínimo, **uma hora** após o início das provas e poderá levar este caderno de provas somente no decurso dos últimos **quinze minutos** anteriores ao horário determinado para o término das provas.
- 8 Ao terminar as provas, chame o fiscal de sala mais próximo, devolva-lhe a sua folha de respostas e deixe o local de provas.
- 9 A desobediência a qualquer uma das determinações constantes no presente caderno ou na folha de respostas poderá implicar a anulação das suas provas.

#### AGENDA (datas prováveis)

- I **26/2/2008**, após as 19 h (horário de Brasília) – Gabaritos oficiais preliminares das provas objetivas. Internet — [www.cespe.unb.br/concursos/sgaac2007](http://www.cespe.unb.br/concursos/sgaac2007).
- II **27 e 28/2/2008** – Recursos (provas objetivas): exclusivamente no Sistema Eletrônico de Interposição de Recurso, internet, mediante instruções e formulários que estarão disponíveis nesse sistema.
- III **18/3/2008** – Resultado final das provas objetivas e convocação para os exames médicos. Diário Oficial do Estado do Acre e Internet.

#### OBSERVAÇÕES:

- Não serão objeto de conhecimento recursos em desacordo com o item 19 do Edital n.º 113 – SGA/JAPEN/PCAC/AC, de 14/11/2007.
- Informações adicionais: telefone 0(XX)61 3448-0100; e/Internet — [www.cespe.unb.br/concursos/sgaac2007](http://www.cespe.unb.br/concursos/sgaac2007).
- É permitida a reprodução deste material apenas para fins didáticos, desde que citada a fonte.

- De acordo com o comando a que cada um dos itens de **1 a 120** se refira, marque, na **folha de respostas**, para cada item: o campo designado com o código **C**, caso julgue o item **CERTO**; ou o campo designado com o código **E**, caso julgue o item **ERRADO**. A ausência de marcação ou a marcação de ambos os campos não serão apenadas, ou seja, não receberão pontuação negativa. Para as devidas marcações, use a **folha de respostas**, único documento válido para a correção das suas provas.
- Nos itens que avaliam **Noções de Informática**, a menos que seja explicitamente informado o contrário, considere que todos os programas mencionados estão em configuração-padrão, em português, que o *mouse* está configurado para pessoas destras e que expressões como clicar, clique simples e clique duplo referem-se a cliques com o botão esquerdo do *mouse*. Considere também que não há restrições de proteção, de funcionamento e de uso em relação aos programas, arquivos, diretórios e equipamentos mencionados.

## CONHECIMENTOS BÁSICOS

### Texto para os itens de 1 a 13

1 Uma decisão singular de um juiz da Vara de  
 Execuções Criminais de Tupã, pequena cidade a 534 km da  
 cidade de São Paulo, impondo critérios bastante rígidos para  
 4 que os estabelecimentos penais da região possam receber  
 novos presos, confirma a dramática dimensão da crise do  
 sistema prisional. A sentença determina, entre outras  
 7 medidas, que as penitenciárias somente acolham presos que  
 residam em um raio de 200 km.

Segundo o juiz, as medidas que tomou são previstas  
 10 pela Lei de Execução Penal e objetivam acabar com a  
 violação dos direitos humanos da população carcerária e  
 “abrir o debate a respeito da regionalização dos presídios”.  
 13 Ele alega que muitos presos das penitenciárias da região são  
 de famílias pobres da Grande São Paulo, que não dispõem de  
 condições financeiras para visitá-los semanalmente, o que  
 16 prejudica o trabalho de reeducação e de ressocialização.

Sua sentença foi muito elogiada. Contudo, o governo  
 estadual anunciou que irá recorrer ao Tribunal de Justiça, sob  
 19 a alegação de que, se os estabelecimentos penais não  
 puderem receber mais presos, os juízes das varas de  
 execuções não poderão julgar réus acusados de crimes  
 22 violentos, como homicídio, latrocínio, seqüestro ou estupro.  
 Além disso, as autoridades carcerárias alegam que a decisão  
 impede a distribuição de integrantes de uma quadrilha por  
 diversos estabelecimentos penais, seja para evitar que  
 25 continuem comandando seus “negócios”, seja para coibir a  
 formação de facções criminosas.

Com um *deficit* de mais de 40 mil vagas e várias  
 28 unidades comportando o triplo de sua capacidade de lotação,  
 a já dramática crise do sistema prisional de São Paulo se  
 agrava todos os dias. O mérito da sentença do juiz de Tupã,  
 31 que dificilmente será confirmada em instância superior, é o  
 de refrescar a memória do governo sobre a urgência de uma  
 34 solução para o problema.

Estado de S. Paulo, 13/1/2008, p. A3 (com adaptações).

Com referência às idéias do texto, julgue os itens de 1 a 7.

- 1 De acordo com o texto, não ocorrem crimes violentos, como homicídio, latrocínio, seqüestro e estupro, na cidade de Tupã.
- 2 Depreende-se do texto que a crise do sistema prisional de São Paulo pode ser resolvida com a adoção de medidas que restrinjam o deslocamento dos presos e dos seus familiares.
- 3 Infere-se do texto que o juiz mencionado, ao proferir sua sentença, se preocupou com a reabilitação dos presos.

4 Subentende-se da leitura do terceiro parágrafo que o governo de São Paulo considera inviável cumprir a sentença e recorrerá à instância superior.

5 De acordo com o terceiro parágrafo do texto, o encarceramento de criminosos em diferentes penitenciárias possibilita a desmobilização de quadrilhas.

6 Segundo o autor do texto, a sentença salienta a necessidade de uma solução para a grave situação do sistema prisional de São Paulo.

7 O texto caracteriza-se como texto descritivo devido à sua complexidade e à apresentação de fatos que ocorreram com personagens reais.

Julgue os itens seguintes, referentes às estruturas lingüísticas do texto.

8 As palavras “singular” (l.1) e “dramática” (l.5) qualificam, respectivamente, os substantivos “decisão” (l.1) e “dimensão” (l.5).

9 O trecho “pequena cidade a 534 km da cidade de São Paulo” (l.2-3) encontra-se entre vírgulas por exercer a função de aposto.

10 A correção gramatical do texto seria mantida se, na linha 3, a palavra “bastante” fosse flexionada no plural, para concordar com o substantivo “critérios”.

11 No trecho “para visitá-los semanalmente” (l.15), o pronome refere-se a “presos” (l.13).

12 As orações subordinadas “que as penitenciárias somente acolham presos” (l.7), “que tomou” (l.9) e “que irá recorrer ao Tribunal de Justiça” (l.18) desempenham a função de complemento do verbo.

13 Na linha 17, o emprego da conjunção “Contudo” estabelece uma relação de causa e efeito entre as orações.

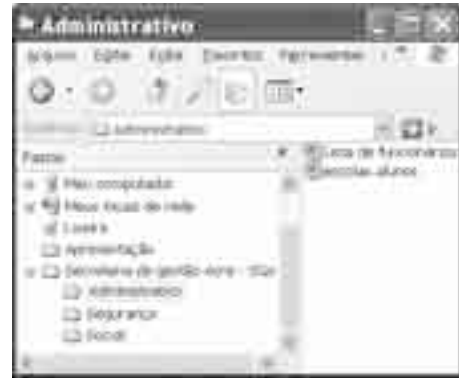
1 Falara com voz sincera, exaltando a beleza da  
paisagem e revelando que, se dependesse só dele, passaria o  
resto da vida ali, morreria na varanda, abraçado à visão do rio  
4 e da floresta. Era isso o que mais queria, se Alicia estivesse  
ao seu lado.

Agora, ao vê-lo assim, suado e nervoso, mudando de  
7 lugar o tempo todo e murmurando palavras que me  
escapavam, temia que me abordasse para conversar sobre o  
filho. Não parecia estar no iate, e sim em sua casa, em  
10 Manaus: sentado, pernas e pés juntos, tronco ereto, a cabeça  
oscilando, como se fizesse um não em câmera lenta.  
Despertava como quem leva um susto, ia lavar o rosto e  
13 retomava sua ronda, que me deixava mareado. Eu esperava  
o fim da tarde com ansiedade; mal escurecia, entrava no  
camarote para ler, mas ficava pensando nos dois: Mundo e  
16 seu pai. Quando não conseguia dormir, subia ao convés e via  
o vulto sentado na popa, o focinho de Fogo no colo; Jano não  
se voltava.






Milton Hatoum. *Cinzas do Norte*. São Paulo: Companhia da Letras, 2005, p. 86-7.

Considerando as idéias e a linguagem do texto acima, julgue os  
itens que se seguem.

- 14 As orações “se dependesse só dele” (ℓ.2) e “se Alicia estivesse ao seu lado” (ℓ.4-5) estabelecem circunstância de condição em relação às orações às quais se subordinam.
- 15 Na linha 3, o emprego da crase antes do substantivo “visão” é optativo, visto que o termo “abraçado” pode ser seguido por complemento direto ou indireto.
- 16 A correção gramatical do texto seria mantida se o pronome “que”, em “que me escapavam” (ℓ.7-8), fosse substituído por **quê**.
- 17 Na linha 8, a forma verbal “temia” concorda com o sujeito de terceira pessoa do singular **ele**, que foi omitido pelo narrador.
- 18 A oração “como se fizesse um não em câmera lenta” (ℓ.11) expressa uma comparação estabelecida pelo narrador.
- 19 A correção gramatical e o sentido do texto seriam mantidos se, na linha 13, a preposição **a** fosse incluída após a forma verbal “esperava”: Eu esperava ao fim da tarde com ansiedade.
- 20 A correção gramatical do texto seria mantida se a vírgula empregada antes da conjunção “mas” (ℓ.15) fosse omitida.





A figura acima mostra uma janela do Windows Explorer, executada em um computador cujo sistema operacional é o Windows XP. Com relação a essa figura, julgue os itens a seguir.

- 21 O item  **escolas alunos** é uma pasta com arquivos do Word.
- 22 A opção  **Painel de controle**, que não está mostrada na figura, tem, como funcionalidade principal, permitir controlar o tamanho máximo dos arquivos criados no Word.
- 23 A pasta  **Administrativo** é uma subpasta da pasta  **Secretaria de Gestão Atre - SGA**.
- 24 Ao se clicar a ferramenta  , a lista de pastas será ocultada.






Considerando a figura acima, que mostra uma janela do navegador Internet Explorer 6 (IE6), julgue os itens que se seguem.

- 25 Para iniciar novamente o *download* da página [www.google.com.br](http://www.google.com.br), é suficiente clicar a ferramenta  .
- 26 No endereço [www.google.com.br](http://www.google.com.br), o termo **.br** indica que o URL é de um sítio do governo brasileiro.
- 27 O acesso à Internet só é possível com a utilização do navegador Internet Explorer.
- 28 Ao se clicar a ferramenta  , é iniciado um processo por meio do qual o sítio atual poderá ser acrescentado a uma lista de favoritos.
- 29 Utilizando-se o *menu* Ferramentas, é possível configurar as opções da Internet.





Considerando a figura acima, julgue os itens subsequentes, acerca do Excel 2003.

- 30 O total de ordens de serviços pode ser calculado utilizando-se a ferramenta Soma que é iniciada por meio do botão .
- 31 O sombreadimento dos títulos pode ser alterado utilizando-se a ferramenta .
- 32 A ferramenta  permite fazer a correção ortográfica da planilha mostrada na figura acima.



Com base na figura acima, julgue os itens que se seguem com relação ao Word 2003.

- 33 O título do texto pode ser formatado com borda utilizando-se a ferramenta .
- 34 O parágrafo selecionado está formatado com alinhamento justificado.
- 35 Considerando-se que a impressora padrão esteja configurada corretamente, para se imprimir o texto é suficiente clicar a ferramenta .

Envelhecimento de consumidores e da força de trabalho, desastres ecológicos de conseqüências imprevisíveis, campanha de consumidores contra empresas que não respeitam o meio ambiente. Até pouco tempo atrás considerados de importância secundária, esses temas hoje já dividem espaço com questões tradicionais, como falta de energia, inflação e aspectos regulatórios na pauta dos mais sérios riscos para a perenidade de grandes corporações globais. É o que aponta recente estudo, que também relaciona alguns problemas que devem ganhar força em breve, como uma desaceleração na China, a briga por talentos e a incapacidade das empresas de inovar.

Gazeta Mercantil, 15/1/2008, capa (com adaptações).

Tendo o texto acima como referência inicial e considerando aspectos relevantes do atual panorama mundial, julgue os itens que se seguem.

- 36 Em seu conjunto, o texto menciona tópicos característicos do atual estágio da economia mundial, marcado pela expansão de suas atividades em escala cada vez mais planetária.
- 37 A globalização pressupõe a necessidade de domínio do conhecimento como forma de se assegurarem as constantes inovações tecnológicas, das quais tanto se nutre o sistema produtivo contemporâneo.
- 38 A questão ambiental, embora com peso crescente na agenda mundial e suscitando preocupação de autoridades e da sociedade, ainda não influi nos rumos do comércio internacional.
- 39 Vítima de séria crise energética em passado recente, popularmente chamada de apagão, o Brasil volta a se preocupar com a possibilidade de eventual escassez de energia motivada pela irregularidade das chuvas.
- 40 Surpreendentemente, o texto não menciona a insegurança gerada pela instabilidade da legislação reguladora da economia como potencial perigo para as grandes empresas transnacionais.
- 41 A China apresenta-se, na atualidade, como país emergente, ostentando um dos mais altos índices de crescimento econômico no mundo e presença crescentemente ampliada no volume de comércio global.
- 42 Infere-se do texto que uma eventual redução do nível de expansão da economia chinesa seria benéfica para as grandes corporações mundiais porque significaria menos concorrência para elas.
- 43 O texto sugere que a capacidade de reciclar-se e de inovar é condição imposta pela globalização para que as empresas não declinem ou desapareçam, tragadas pela extrema competitividade que hoje vigora na economia.
- 44 Ao mencionar as grandes corporações globais, o texto certamente se refere às empresas transnacionais, também conhecidas como multinacionais.
- 45 A Organização Mundial do Comércio (OMC) é o órgão multilateral que tem por finalidade elaborar as regras a serem seguidas no comércio internacional e zelar pela observância delas.

Uma palavra sobre  $\Sigma = \{0, 1\}$  consiste dos próprios símbolos de  $\Sigma$ , 0 e 1, e também de uma concatenação de qualquer dos símbolos de  $\Sigma$ , como, por exemplo, 00, 01, 000, 001, 1001 etc. Uma palavra tem comprimento  $N$  quando possui  $N$  símbolos. Defina por  $\Sigma^N$  o conjunto de todas as palavras sobre  $\Sigma$  que têm comprimento  $N$ .

Com base nessas informações, julgue os itens a seguir.

- 46 O conjunto  $\Sigma^4$  contém exatamente 16 palavras.
- 47 Se  $\Gamma = \{0, 2\}$ , então o conjunto  $\Gamma^3 \cap \Sigma^3$  contém um único elemento, a palavra 012.

Uma proposição é uma afirmação que pode ser julgada como verdadeira — V —, ou falsa — F —, mas não como ambas. Uma proposição é simples quando não contém nenhuma outra proposição como parte de si mesma e, quando a proposição é formada pela combinação de duas ou mais proposições simples, é denominada proposição composta. Uma proposição simples é, normalmente, representada simbolicamente por letras maiúsculas do alfabeto. As expressões  $A \rightarrow B$  e  $A \vee B$  representam proposições compostas, que são lidas, respectivamente, como “se A então B” e “A ou B”. A primeira proposição tem valor lógico F quando A é V e B é F, nos demais casos é V; a segunda tem valor lógico F quando A e B são F, nos demais casos é V. A expressão  $\neg A$  também representa uma proposição composta, lida como “não A”, e tem valor lógico V quando A é F, e tem valor lógico F quando A é V. Com base nessas definições, julgue os itens subsequentes.

- 48 Considere que as proposições listadas abaixo sejam todas V.
- I Se Clara não é policial, então João não é analista de sistemas.
- II Se Lucas não é policial, então Elias é contador.
- III Clara é policial.

Supondo que cada pessoa citada tenha somente uma profissão, então está correto concluir que a proposição “João é contador” é verdadeira.

- 49 As proposições  $A \rightarrow B$  e  $(\neg B) \rightarrow (\neg A)$  têm a mesma tabela verdade.
- 50 A proposição “Se a vítima não estava ferida ou a arma foi encontrada, então o criminoso errou o alvo” fica corretamente simbolizada na forma  $(\neg A) \vee B \rightarrow C$ .

## CONHECIMENTOS ESPECÍFICOS

conta	saldo (em R\$)	
	1/12/2007	31/12/2007
aluguel a pagar	9.850	6.580
aluguel antecipado	6.500	7.650
clientes	3.200	5.400
custo da mercadoria vendida	-	7.348
despesa de aluguel	-	10.200
despesa de combustíveis	-	787
despesa de energia	-	9.987
despesa de salários	-	10.850
energia a pagar	1.258	1.520
estoques	12.000	7.852
fornecedores	3.250	4.800
máquinas	12.580	8.790
receita antecipada	7.500	8.100
receita de vendas	-	35.870
salários a pagar	8.000	3.200
salários antecipados	2.500	1.100
terrenos	6.580	5.252

RASCUNHO

Com base nas informações apresentadas no quadro acima, julgue os itens subseqüentes.

- 51 As compras do período totalizaram R\$ 1.650.
- 52 No período, a empresa pagou R\$ 13.470 de despesas de aluguel.
- 53 No período em análise, a empresa efetuou pagamentos no valor de R\$ 1.650 para seus fornecedores.
- 54 A empresa recebeu R\$ 33.670 de seus clientes, no período em análise.
- 55 A empresa pagou, no período, R\$ 4.800 de salários.
- 56 De despesa de energia, no período, a empresa pagou R\$ 9.725.
- 57 O resultado antes do imposto de renda e contribuição social apurado a partir das informações apresentadas corresponde a R\$ 2.154, devedor.
- 58 A margem bruta apurada após a elaboração da demonstração do resultado do exercício (DRE) é superior a 63,5%.

Acerca da destinação do resultado das empresas, julgue os itens a seguir.

- 59 As participações estatutárias são calculadas em função de percentuais que incidem sobre o lucro auferido no período correspondente. Assim, as participações estatutárias de empregados sempre precedem as participações dos administradores.
- 60 O saldo das reservas de lucros, inclusive as de incentivos fiscais, não poderá ultrapassar o capital social. Caso o valor atinja o montante do capital a assembléia deliberará sobre aplicação do excesso na distribuição de dividendos, na integralização ou no aumento do capital social.
- 61 A companhia aberta pagará o dividendo referente às ações nominativas exclusivamente ao indivíduo que, na data do ato de declaração do dividendo, estiver inscrito como proprietário ou usufrutuário da ação.

Acerca das contribuições para PIS/PASEP e COFINS, julgue os itens a seguir

- 62 As entidades abertas e fechadas de previdência complementar são isentas da contribuição do PIS/PASEP mas recolhem a COFINS de maneira semelhante àquela praticada pelas empresas limitadas e companhias abertas.
- 63 Os partidos políticos e os templos de qualquer culto são isentos do recolhimento do PIS/PASEP incidente sobre a folha de pagamentos.

		custo unitário	custo total
matéria-prima	0,6 kg	R\$ 7,50	R\$ 4,50
mão-de-obra direta	0,5 h	R\$ 8,00	R\$ 4,00
custo unitário direto do produto			R\$ 8,50

capacidade máxima da fábrica: 10.000 unidades ao mês  
custos indiretos de fabricação: R\$ 12.500,00  
despesas administrativas: R\$ 6.200,00

Acerca da relação custo×volume×lucro, julgue os itens subsequentes com base nas informações apresentadas.

- 64 Com uma variação desfavorável, da ordem de 20%, de quantidade de matéria-prima aplicada, o custo unitário direto sofrerá acréscimo inferior a 11% em relação aos dados fornecidos.
- 65 Uma variação desfavorável, da ordem de 20%, do custo da mão-de-obra, provocará um acréscimo no custo unitário superior a 10% em relação aos dados fornecidos.
- 66 Uma variação desfavorável, da ordem de 10%, do custo da mão-de-obra, aliada a uma variação favorável, da ordem de 40%, na aplicação da mão-de-obra, proporcionará uma variação favorável no custo variável final do produto da ordem de 16% em relação aos dados apresentados.
- 67 O ponto de equilíbrio contábil será maior quando a empresa obtiver uma variação desfavorável nos custos de mão-de-obra aplicados na produção.
- 68 Caso a empresa consiga uma variação favorável de aplicação da mão-de-obra de 10%, aliada a uma variação favorável do custo de matéria-prima da ordem de 20%, o custo variável unitário será de R\$ 6,80.
- 69 Considerando as informações apresentadas, se o preço de venda praticado for de R\$ 18,50 a unidade, o ponto de equilíbrio contábil será 1.870 unidades.
- 70 Considerando o preço unitário de R\$ 10,50, o ponto de equilíbrio contábil será 12.000 unidades.
- 71 Para a obtenção de um lucro esperado mínimo de R\$ 6.500, com a prática do preço de venda de R\$ 16,50 a unidade, a empresa terá que produzir e vender 3.150 unidades.

Acerca da utilização de sistemas de custos para a tomada de decisões e para a elaboração de informações gerenciais, julgue os itens de 72 a 76.

- 72 O sistema de custeio por atividades, para a apuração do ponto de equilíbrio contábil da linha de produção, considera a margem de contribuição.
- 73 O custeio por absorção não incorpora o montante dos custos indiretos ao custo unitário dos produtos. Desse modo, o valor da mercadoria produzida só incorpora os custos diretos, fixos ou variáveis.

- 74 O custeio variável utiliza a margem de contribuição como subsídio para a determinação do ponto de equilíbrio contábil e do ponto de equilíbrio econômico.
- 75 A legislação do imposto de renda e da contribuição social sobre o lucro impede a adoção do custeio variável para a determinação do custo unitário dos produtos.
- 76 A empresa que produz, em série, bens ou serviços padronizados deverá adotar o sistema de acumulação por ordem ou encomenda.

RASCUNHO

n.º	contas a receber	saldo (R\$)
1	abatimento sobre compras	125
2	aluguel a pagar	850
3	aluguel antecipado	750
4	assinaturas de revistas antecipadas	985
5	bancos	15.200
6	capital social	21.200
7	compra de mercadorias	8.875
8	computadores e impressoras	8.745
9	contas a receber	2.340
10	depreciação acumulada	21.450
11	despesa de assinaturas	542
12	despesa de depreciação	750
13	despesa de energia	1.151
14	despesa de juros	323
15	despesa de telefone	141
16	despesas de impostos e taxas	441
17	despesas de salários e encargos	5.540
18	despesas de seguros	1.120
19	devolução de compras	178
20	devoluções de vendas	200
21	empréstimos a pagar	2.213
22	energia a pagar	554
23	equipamentos	4.120
24	estoque final de mercadorias para revenda	4.100
25	estoque inicial de mercadorias para revenda	1.120
26	fornecedores	1.147
27	imposto de renda e contribuição social a pagar	6.540
28	imposto de renda e contribuição social sobre o lucro	3.500
29	impostos a recolher	210
30	impostos antecipados	1.120
31	impostos sobre a venda	3.250
32	investimento em ações de coligadas	3.320
33	lucros ou prejuízos acumulados	?????
34	manutenção a pagar	221
35	material de consumo	650
36	móveis e utensílios	3.215
37	provisão para desvalorização de estoques	1.200
38	provisão para devedores duvidosos	1.100
39	receita antecipada	225
40	receita de vendas	32.500
41	receita financeira	2.245
42	reservas	2.250
43	salários a pagar	2.332
44	telefone a pagar	557
45	veículos	32.400

- 77 O ativo permanente é igual a R\$ 33.250.
- 78 A margem bruta é superior a 75%.
- 79 O índice de liquidez corrente é superior a 1,3.
- 80 O índice de endividamento é inferior a 20%.
- 81 O índice de liquidez geral é superior a 1,5.
- 82 A margem líquida é superior a 52%.
- 83 O capital circulante líquido é igual a R\$ 9.196.
- 84 O custo da mercadoria vendida é igual a R\$ 6.142.
- 85 O resultado acumulado, antes da apuração da DRE do período correspondente, é igual a R\$ 2.701, credor.
- 86 O índice de liquidez imediata é inferior a 1,3.

RASCUNHO

Acerca da elaboração, consolidação e análise das demonstrações contábeis, a partir do balancete de verificação apresentado acima, julgue os itens de 77 a 86.



Acerca da avaliação e contabilização de investimentos societários no país, julgue os itens a seguir.

- 87** Ao avaliar um investimento pelo método de custo a empresa investidora incorporará em seu ativo permanente a proporção direta do montante aplicado na sociedade investida, mesmo que a sociedade investida tenha apurado lucros mas não os tenha distribuído.
- 88** A equivalência patrimonial negativa proporcionará débito no resultado da investidora e crédito no ativo permanente da sociedade investida.
- 89** A Lei n.º 6.404/1976 caracteriza a relação entre sociedade investidora e sua subsidiária integral como controle e não como propriedade.
- 90** A Lei n.º 6.404/1976 impede o controle indireto de sociedades, apenas a Comissão de Valores Mobiliários (CVM) permite tal situação.

Acerca da consolidação das demonstrações contábeis, julgue os itens seguintes.

- 91** Considere que uma companhia aberta possua mais de 30% do valor de seu patrimônio líquido representado por investimentos em sociedades controladas. Nesse caso, a companhia deverá elaborar e divulgar, juntamente com suas demonstrações financeiras, demonstrações consolidadas de acordo com a Lei n.º 6.404/1976.
- 92** Os saldos que guardam reciprocidade entre as empresas que apresentarão as demonstrações consolidadas não serão, necessariamente, eliminados. A eliminação prejudica a evidenciação contábil.

Acerca dos registros típicos de uma empresa comercial, julgue os itens a seguir.

- 93** A reversão da provisão para devedores duvidosos aumenta o índice de liquidez corrente.
- 94** A constituição da provisão para contingências reduz o índice de liquidez imediata.
- 95** O registro da constituição da reserva de reavaliação positiva reduz o índice de endividamento da empresa.

Carlos fez três aplicações financeiras: a primeira, na data de hoje (mês 0), a segunda, 3 meses após a data de hoje (início do mês 3), e a terceira, 5 meses após a data de hoje (início do mês 5). Essas aplicações foram feitas em uma instituição financeira que paga juros simples de 5% ao mês e sabe-se que as quantias aplicadas são números diretamente proporcionais a 2, 3 e 5, respectivamente, e que a última quantia aplicada foi de R\$ 3.000,00.

Julgue os itens subseqüentes, com relação a essas aplicações.

- 96** A soma das 3 quantias aplicadas é igual a R\$ 6.000,00.
- 97** Imediatamente após a 2.ª aplicação, o montante de Carlos nessa instituição financeira era inferior a R\$ 3.200,00.
- 98** A taxa de juros simples anual, que é equivalente à taxa das aplicações feitas por Carlos, é inferior a 55%.

Considerando a taxa mensal de juros compostos de 2%, julgue os itens seguintes.

**99** A taxa de juros trimestral equivalente a essa taxa é igual a  $1,02^3$ .

**100** Suponha que, em um período de 6 meses, a inflação tenha sido de 5%. Nesse caso, a taxa de juros aparente, nesse período, terá sido de  $\frac{1,02^6}{1,05} - 1$ .

O preço de um veículo usado, para compra à vista, é igual a R\$ 12.000,00, mas pode ser comprado em 24 prestações mensais, iguais e consecutivas, vencendo a primeira prestação um mês após a compra. Nesse caso, a taxa de juros compostos do financiamento é de 3% ao mês.

Com base nessas informações, julgue o item a seguir.

**101** O valor das prestações, em reais, é igual a  $12.000 \frac{1,03^{24} \times 0,03}{1,03^{24} - 1}$ .

Um empréstimo de R\$ 2.500,00 em que foi utilizado o sistema de amortização constante (SAC) será pago em 5 parcelas, mensais e consecutivas, vencendo a primeira delas um mês após a tomada do empréstimo. Os juros cobrados são de 5% ao mês. Na tabela de amortização apresentada abaixo, constam alguns valores, em reais; outros foram omitidos.

mês	<i>J</i>	<i>A</i>	<i>P</i>	<i>C</i>
0				2.500
1			625	
2	100			
3		500		
4	50			500
5				0

Na tabela,  $J = J(n)$  indica o valor dos juros pagos no mês  $n$ ;  $A = A(n)$  é o valor amortizado no mês  $n$ ;  $P = P(n)$  é o valor da prestação no mês  $n$ ;  $C = C(n)$  é o valor do saldo devedor no mês  $n$ . Com base nessas informações e na tabela, julgue os itens a seguir.

**102**  $A(2) > \text{R\$ } 550,00$ .

**103**  $P(3) = \text{R\$ } 575,00$ .

**104** O total dos juros pagos é igual a R\$ 425,00.

Um investidor dispõe de duas alternativas para investir o capital de R\$ 100.000,00:

I em um empreendimento que lhe renderá R\$ 50.000,00 em cada um dos próximos três anos;

II receber o montante de R\$ 165.000,00 após 3 anos.

Supondo que o investidor pode aplicar seu dinheiro à taxa de juros compostos de 10% ao mês e que  $1,1^{-1} = 0,91$ ;  $1,1^{-2} = 0,83$  e  $1,1^{-3} = 0,75$ , julgue o item a seguir.

**105** A melhor alternativa para o investidor é a I.

Com relação a execução penal, à luz da legislação correlata, julgue os itens de **106** a **115**.

**106** O trabalho do condenado constitui dever social e condição de dignidade humana, tendo finalidade precipuamente lucrativa, e sujeita-se ao regime da Consolidação das Leis do Trabalho (CLT).

**107** O preso tem direito à previdência social e constituição de pecúlio.

**108** Considere a seguinte situação hipotética.

Técio, condenado pela prática de crime de roubo a pena de 5 anos e 4 meses de reclusão em regime fechado, por ser reincidente, praticou, no presídio, fato previsto como crime doloso, que ocasionou subversão da disciplina interna.

Nessa situação, pode se sujeitar o condenado Técio, sem prejuízo da sanção penal, ao regime disciplinar diferenciado, com duração máxima de 360 dias, sem prejuízo de repetição da sanção por nova falta grave de mesma espécie, até o limite de um sexto da pena aplicada.

**109** Considere a seguinte situação hipotética.

Reginaldo, condenado pela prática de crime de tráfico de entorpecentes a pena de 5 anos de reclusão, em regime fechado, por ser reincidente, tentou fornecer para seu comparsa Geraldo, preso na mesma unidade, aparelho de rádio que permitiria a comunicação entre ambos, e com o ambiente externo, mas não logrou êxito em sua empreitada, em face da pronta ação dos agentes penitenciários.

Nessa situação, Reginaldo praticou falta grave, mas, considerando que houve apenas tentativa, será a mesma desclassificada para falta média.

**110** A condenada gestante, desde que beneficiária do regime aberto, poderá se recolher em residência particular.

**111** Considera-se egresso o preso provisório que foi absolvido por sentença criminal transitada em julgado, tendo sido expedido, em consequência, alvará de soltura.

**112** Ao internado é assegurada a liberdade de contratação de médico de sua confiança pessoal, a fim de orientar e acompanhar o tratamento. No caso de divergência entre o médico oficial e o particular, prevalecerá a posição do médico oficial.

**113** Tendo o condenado praticado falta disciplinar grave, será instaurado o respectivo procedimento para a sua apuração, não havendo necessidade, por se tratar de procedimento administrativo, de se assegurar o direito de defesa do condenado.

**114** A autoridade administrativa poderá decretar o isolamento preventivo do faltoso pelo prazo de até dez dias, mas a inclusão do preso no regime disciplinar diferenciado, no interesse da disciplina e da averiguação do fato, dependerá de despacho do juiz competente.

**115** O tempo de isolamento ou de inclusão preventiva no regime disciplinar diferenciado não será computado no período de cumprimento da sanção disciplinar.

No que tange às regras mínimas para o tratamento do preso no Brasil, julgue os itens que se seguem.

**116** Os castigos corporais, clausura em cela escura e sanções coletivas são expressamente proibidos como formas de sanções disciplinares.

**117** As algemas não podem ser usadas pelos agentes penitenciários como instrumento de punição.

**118** Em nenhuma situação poderá ser restringido o direito do preso a se corresponder com o mundo externo.

**119** O preso provisório, assim como o preso definitivo, não tem assegurados os seus direitos políticos.

**120** Em caso de falecimento ou de doença grave de cônjuge do preso, deverá ser permitida a visita do preso a seu cônjuge, sob custódia.