

- Nas questões a seguir, assinale, para cada uma, a única opção correta, de acordo com o respectivo comando. Para as devidas marcações, use a **folha de respostas**, único documento válido para a correção das suas respostas.
- Em sua prova, caso haja opção(ões) constituída(s) pela estrutura **Situação hipotética**: ... seguida de **Assertiva**: ..., os dados apresentados como situação hipotética deverão ser considerados como premissa(s) para o julgamento da assertiva proposta.
- Eventuais espaços livres — identificados ou não pela expressão “Espaço livre” — que constarem deste caderno de provas poderão ser utilizados para anotações, rascunhos etc.
- Caso, em sua prova, haja questão que demande conhecimentos de informática, a menos que seja explicitamente informado o contrário, considere que todos os programas mencionados estão em configuração-padrão, em português, e que não há restrições de proteção, de funcionamento e de uso em relação aos programas, arquivos, diretórios, recursos e equipamentos mencionados.

PROVA OBJETIVA

QUESTÃO 1

A respeito da história da arquitetura e de seus marcos periodológicos, assinale a opção correta.

- Ⓐ A técnica arquitetônica do período medieval desenvolveu-se, principalmente, pela construção das catedrais, cuja monumentalidade e beleza de estilo gótico tornaram-se possíveis graças à invenção do arcobotante, construção que permitia a edificação das abóbodas ogivais no interior dos edifícios.
- Ⓑ Com uma visão de mundo inspirada ao mesmo tempo no Classicismo e no Humanismo, o período renascentista não apresentou avanços em relação à linguagem arquitetônica. Se, por um lado, o Humanismo fundamenta-se na concepção de que o homem é o principal inspirador e destinatário da arquitetura, por outro, o Classicismo firma-se na reprodução de estilos já suficientemente experimentados no período medieval.
- Ⓒ O monumento de Stonehenge, um dos principais registros históricos da arquitetura, é remanescente do período neolítico ou da pedra polida e localiza-se ao sul da Inglaterra, sendo integrado por menires, trilítos, dólmens e cromeleques, elementos formados por pedras na vertical sobre as quais são assentadas lajes.
- Ⓓ A arquitetura do Egito Antigo é marcada pela construção de mastabas, edifícios em forma de tronco de pirâmide construídos com tijolos de argila e palha, secos ao sol, que eram destinados a abrigar os restos mortais dos indivíduos mais ricos, como os primeiros faraós.
- Ⓔ Na chamada Antiguidade Clássica, o templo constitui expressão maior da arquitetura grega e a coluna, sua peculiaridade. As ordens dórica e coríntia são caracterizadas pelo emprego de motivos abstratos ou semiabstratos para simbolizar a vida orgânica, enquanto a ordem jônica é marcada pelo uso de ornamentos inspirados nas formas das folhas de acanto e de outras plantas.

QUESTÃO 2

Em relação às etapas do projeto de arquitetura, assinale a opção correta de acordo com a NBR 13.532:1995.

- Ⓐ O levantamento de dados e o estudo de viabilidade constituem informações de referência utilizadas para a montagem do programa de necessidades.
- Ⓑ O estudo preliminar de arquitetura fundamenta-se no programa de necessidades, devendo nele constar informações técnicas sucintas e suficientes para a caracterização geral da concepção adotada.
- Ⓒ O anteprojeto de arquitetura, cujo texto compõe-se de um memorial descritivo da edificação, é constituído pelas plantas dos pavimentos, de implantação, cortes e fachadas, não abrangendo as plantas e os cortes de terraplenagem e de detalhes.
- Ⓓ O projeto legal de arquitetura, além da fundamentação nas legislações municipal, estadual e federal pertinente, deve apresentar informações técnicas relativas à edificação e seus elementos bem como o detalhamento dos componentes construtivos e a especificação dos materiais de construção que serão empregados.
- Ⓔ O projeto para execução de arquitetura deve constituir-se de plantas, cortes, elevações, perspectivas e detalhes de elementos da edificação, devendo ser entregue juntamente com o memorial descritivo da edificação, o qual tem por elementos obrigatórios texto e recursos audiovisuais, como fotografias, maquetes e perspectivas.

Espaço livre

QUESTÃO 3

Acerca da representação de desenho em arquitetura e das normas pertinentes, assinale a opção correta.

- Ⓐ As figuras I, II e III a seguir representam, respectivamente, uma perspectiva isométrica, uma perspectiva bimétrica e uma perspectiva trimétrica.




Figura I




Figura II

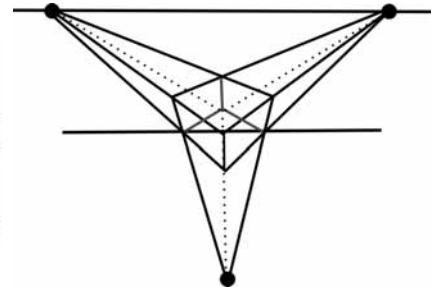
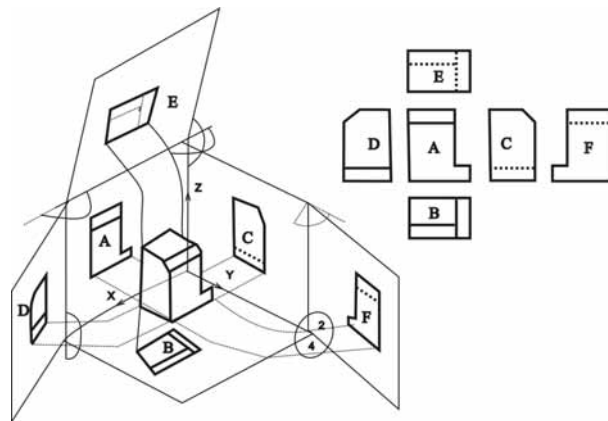
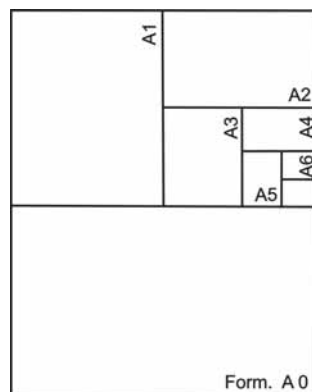


Figura III

- Ⓑ De acordo com a NBR 10.067:1995, as letras A, B, C, D, E e F presentes na imagem do primeiro diedro a seguir indicam, respectivamente, vista posterior, vista inferior, vista lateral direita, vista lateral esquerda, vista superior e vista frontal.



- Ⓒ Conforme a NBR ISO 10.209-2:2005, em que são estabelecidas as expressões relativas aos métodos de projeto, origem é o ponto de intersecção dos eixos de coordenadas polares AA que se interceptam em ângulos retos.
- Ⓓ Segundo a NBR 10.068:1987, o formato de papel maior, o A0, tem retângulo de seção áurea de 841 mm × 1.189 mm, conforme ilustrado abaixo. De suas subdivisões sucessivas em duas partes, são derivados os formatos A1, A2, A3 e A4.



- Ⓔ Na NBR 8.196:1999, em que constam informações sobre o emprego de escala em desenho técnico, as escalas são informadas por meio de frações. As escalas de redução apresentam o fator no denominador (por exemplo, 1:10), enquanto as de ampliação, no numerador (por exemplo, 10:1).

QUESTÃO 4

A Lei do Parcelamento do Solo (Lei n.º 6.766/1979) merece uma releitura pós-vigência da Constituição Federal da República de 1988 (CF) e do Estatuto das Cidades (Lei n.º 10.257/2001), em razão das novas diretrizes lançadas ao desenvolvimento urbano que passaram a nortear todo e qualquer parcelamento do solo urbano.

Ministério Público. **Guia do Parcelamento do Solo Urbano Perguntas e Respostas. Consultas e Modelos.** Florianópolis: MPSC, 2010, p. 8-9 (com adaptações).

À luz das leis citadas e dos diversos aspectos a elas relacionados, assinale a opção correta.

- A** A CF e o Estatuto das Cidades tornaram sem efeito diversos dispositivos constantes da Lei do Parcelamento do Solo.
- B** Urbanismo consiste em um processo de planejamento urbano que deve ser realizado unicamente em territórios submetidos a um processo de crescimento urbano acelerado.
- C** A elaboração dos planos urbanísticos, que contemplam o espaço urbano como um todo, é de responsabilidade do governo federal, ao passo que a dos projetos urbanísticos, que focalizam parte desse todo, é de competência do município.
- D** Para a garantia da gestão democrática do município, no Estatuto das Cidades é reafirmada a necessidade de o plano diretor ser aprovado em audiências públicas com a participação da população e de associações representativas dos diversos segmentos da comunidade, para posteriormente ser transformado em lei pela câmara municipal.
- E** O princípio da função social da propriedade urbana, previsto na CF, foi regulamentado pelo Estatuto das Cidades, por meio da criação dos seguintes instrumentos jurídicos: parcelamento ou edificação compulsórios, imposto predial e territorial urbano (IPTU) progressivo, desapropriação para fins de reforma urbana, consórcio imobiliário, direito de preempção, outorga onerosa e usucapião urbano coletivo.

QUESTÃO 5

Acerca da gestão urbana, no que diz respeito ao parcelamento do solo e à política ambiental, assinale a opção correta.

- A** Gleba é uma área de terreno rural que não pode ser objeto de loteamento ou desmembramento.
- B** O tamanho legal mínimo do lote deverá corresponder à área de pelo menos 120 m² e frente de 4 m, salvo maior restrição da legislação ou o loteamento se destinar à urbanização específica ou à edificação de conjuntos habitacionais de interesse social previamente aprovados.
- C** O parcelamento de solo urbano poderá ocorrer mediante duas modalidades: loteamento ou desmembramento, sendo para este exigido prolongamento, modificação ou ampliação das vias existentes ou abertura de novas vias.
- D** O Estudo de Impacto Ambiental (EIA) e o Relatório de Impacto Ambiental (RIMA) são elaborados por equipe multidisciplinar com o objetivo de determinar o impacto ambiental de um empreendimento sobre os diversos meios: físico, biológico, socioeconômico. O EIA é de acesso restrito, ao passo que o RIMA, respeitado o sigilo industrial, é aberto ao público.
- E** Para fins de implantação de área verde de domínio público em zona urbana, é admissível a sobreposição em área de preservação permanente (APP), desde que prevista no plano diretor e que resulte no máximo em 10% de impermeabilização da APP.

Espaço livre

QUESTÃO 6

Figura I – Lelé, Salvador, 1985



Figura II – R. R. Roberto, Brasília, 1981



Figura III – Sabino Barroso, Brasília, 1961



Figura IV – Manoel Coelho, Curitiba, 2002



Figura V – Abrão Assad, Curitiba, 1989

Considerando as figuras precedentes, que apresentam exemplos de abrigos de ônibus, de diferentes autores, localidades e épocas, assinale a opção correta.

- A** O abrigo representado na figura I, concebido em argamassa armada, apresenta, do ponto de vista estrutural, uma laje nervurada em balanço. Do ponto de vista funcional, o abrigo protege do sol e do vento.
- B** O abrigo ilustrado na figura II corresponde a uma estrutura monolítica, com uma laje biapojada.
- C** O abrigo representado na figura III, que compõe o mobiliário urbano dos primórdios da construção de Brasília, compõe-se estruturalmente de três peças pré-moldadas; e nas duas paredes foram previstos orifícios quadrados destinados a receber placas informativas.
- D** O abrigo da figura IV, feito com tecnologia recente, em aço, possui, do ponto de vista funcional, espaço semelhante ao abrigo da figura III. A parede maior não tem banco e a parede menor propicia a disposição de informações publicitárias.
- E** O abrigo da figura V, chamado de estação tubo, apresenta uma linguagem contemporânea de esqueleto estrutural redondo e metálico, que sustenta a vedação em policarbonato. Do ponto de vista funcional, pouco difere dos quatro exemplos anteriores.

QUESTÃO 7

Com relação aos sistemas de infraestrutura urbana, assinale a opção correta.

- A** Infraestrutura urbana é um sistema estritamente técnico de equipamentos necessários ao desenvolvimento das funções urbanas. Como tal não pode ser vista sob o aspecto social, econômico e institucional.
- B** O subsistema viário está intrinsecamente associado ao subsistema de drenagem pluvial.
- C** O subsistema viário é composto por vias hierarquizadas em três tipos: 1 – expressas, 2 – de trânsito rápido e 3 – locais.
- D** A função fundamental do subsistema energético é prover a população com um tipo específico de energia, a energia elétrica, desde a captação da energia primária até a distribuição para o consumidor residencial.
- E** O subsistema de comunicações compreende a rede telefônica, os canais de televisão, a mídia impressa e, mais recentemente, incorporou a mídia eletrônica e as redes sociais.

QUESTÃO 8

A topografia constitui um instrumento fundamental para a implantação e o acompanhamento de obras, como as de projeto viário, edificações e urbanizações (loteamentos). Com relação a curvas de nível e movimento de terra, assinale a opção correta.

- Ⓐ As curvas de nível indicam se o terreno é plano, de declive suave, ondulado, montanhoso ou íngreme. A distância vertical entre as curvas varia conforme o relevo do terreno e a escala da carta ou do mapa.
- Ⓑ Toda curva de nível fecha-se sobre si mesma, dentro ou fora dos limites do papel. Duas curvas de nível jamais se cruzam, assim como uma curva de nível não se bifurca.
- Ⓒ Quanto mais plano for o terreno, mais próximas serão as curvas de nível. Em terrenos muito acidentados, por exemplo, as curvas de nível encontram-se mais espaçadas umas das outras.
- Ⓓ Comparando-se as imagens mostradas nas figuras I e II a seguir, é correto afirmar que o custo da terraplenagem, que possibilitou a criação do platô, foi bastante alto, porque, além do corte realizado no terreno, foi necessário adquirir material para o aterro.

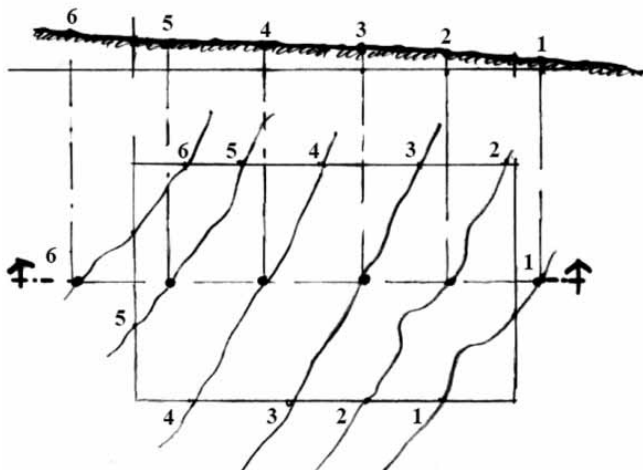


Figura I – Terreno original

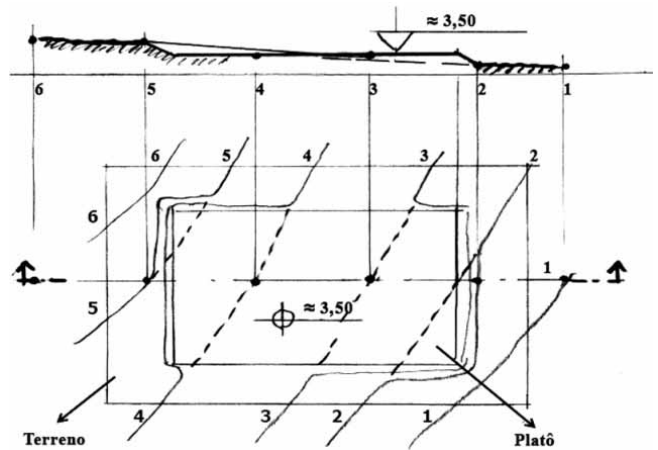
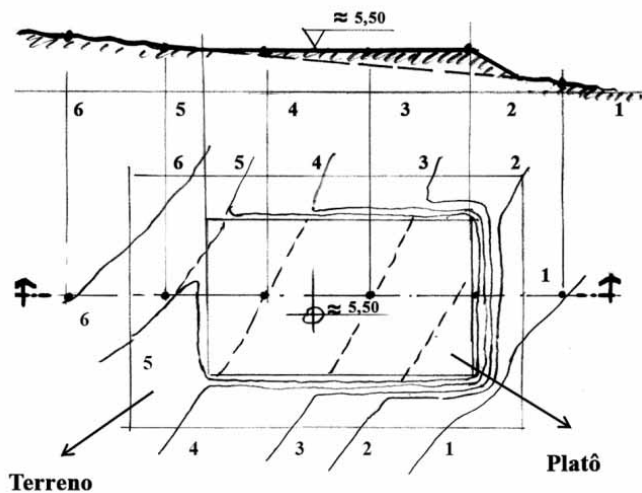


Figura II – Terreno modificado

- Ⓔ Considerando-se a próxima figura e que o comprimento do platô seja igual a 10 m; a largura do platô, 6 m; o desnível entre as curvas, 1 m; e a altura média de aterro, 2 m; é correto afirmar que o volume de aterro será de 240 m³.



Platô obtido com o aterro.

QUESTÃO 9

No que se refere a noções de cartografia, assinale a opção correta.

- A** Ao traçar no papel uma figura semelhante à de um terreno levantado, os ângulos e as distâncias ficam reduzidas em uma proporção constante.
- B** A relação entre a medida na carta e a dimensão no terreno é traduzida por uma fração, em que o numerador representa uma distância no mapa, e o denominador, a distância correspondente no terreno.
- C** Na escala 1:25 mil, qualquer medida linear no mapa corresponde a 25.000 m no terreno.
- D** A escala numérica é representada sob a forma de fração, e a escala gráfica é representada sob a forma de um segmento de reta, normalmente subdividido em seções, ao longo do qual são registradas as distâncias reais correspondentes às dimensões do segmento. Embora seja mais precisa, a escala gráfica é imprópria para ampliações e reduções do desenho.
- E** A informação mínima que um mapa deve ter é a indicação do norte. No caso de haver, em um mesmo mapa, dois sistemas de coordenadas — geográficas e UTM —, poderá haver a indicação de mais de um norte; o norte verdadeiro (NV), contudo, corresponderá à direção apontada pela agulha da bússola.

QUESTÃO 10

Com base nos parâmetros constantes da Agenda 21 e da Agenda *Habitat* acerca dos instrumentos de gestão urbana, é correto afirmar que um dos fatores definidores da habitabilidade é a

- A** estrutura física das residências, ainda que sem garantia técnica de solidez das construções.
- B** moradia pré-fabricada, inadequada para o clima da região que se insere a obra.
- C** especulação imobiliária.
- D** integração das habitações com o tecido urbano.
- E** garantia de água potável, sem que necessariamente se garanta o saneamento ou o tratamento de resíduos.

QUESTÃO 11

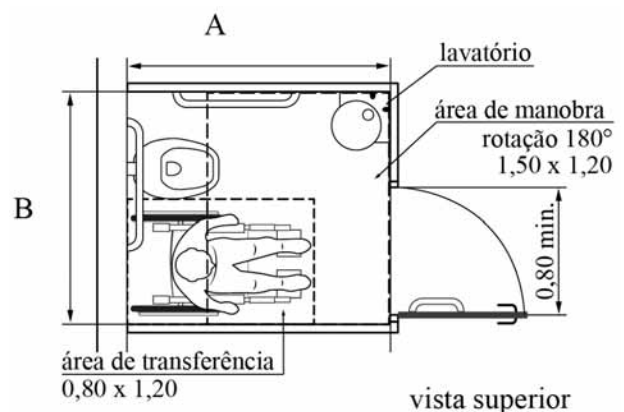
Desde a Conferência *Habitat II*, realizada em Istambul, em 1996, passou-se a considerar como fator de habitabilidade sustentável

- A** o acesso da população em geral a moradias de alto padrão.
- B** a redução da pobreza por meio de políticas públicas.
- C** o equilíbrio entre crescimento econômico e crescimento populacional.
- D** a setorização dos bairros.
- E** a preservação ambiental.

QUESTÃO 12

Com o objetivo de alcançar a integração harmônica com o ambiente, o profissional deve, em seu projeto paisagístico,

- A** mapear os pontos de escoamento da água suja, indicando as correções necessárias para o planejamento dos sistemas de drenagem pluvial.
- B** obedecer às imposições do cliente, mesmo que elas comprometam a qualidade do conjunto de obras a serem executadas.
- C** considerar como item secundário a localização das plantas a partir da posição do sol em relação à área.
- D** avaliar a paisagem predominante e relacioná-la às características modificáveis e remanescentes do cenário ambiental pré e pós-projeto.
- E** estudar a planialtimetria do local para planejar de forma econômica a mobilização dos materiais dentro do canteiro de obras.

QUESTÃO 13

De acordo com a NBR 9.050/2004 (versão corrigida de 2005), o projeto arquitetônico de um banheiro com bacia sanitária acessível deve garantir aos usuários áreas de dimensões mínimas para transferência diagonal, lateral e perpendicular. A respeito desse assunto e com base na figura apresentada, assinale a opção que define corretamente, em metros, as cotas A e B, respectivamente.

- A** 1,70 e 1,50
- B** 1,50 e 1,90
- C** 2,10 e 2,30
- D** 2,30 e 2,10
- E** 1,90 e 1,50

QUESTÃO 14

largura para deslocamento em linha reta

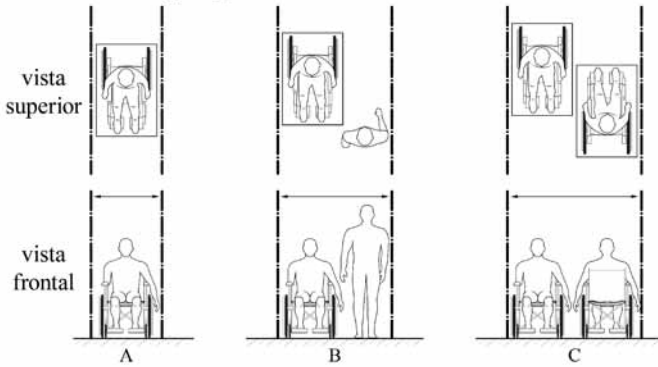


Figura I: uma pessoa em cadeira de rodas
 Figura II: um pedestre e uma pessoa em cadeira de rodas
 Figura III: duas pessoas em cadeiras de rodas

Essas figuras apresentam as dimensões referenciais para o deslocamento, em linha reta, de pessoas em cadeiras de rodas em uma área de circulação. A partir dessas informações e com base na NBR 9.050/2004 (versão corrigida de 2005), assinale a opção que indica corretamente, em metros, as cotas A, B e C, respectivamente.

- A 1,00; 1,20 a 1,60; 1,60 a 1,80
- B 1,00; 1,20 a 1,50; 1,60 a 1,80
- C 0,90; 1,20 a 1,50; 1,50 a 1,80
- D 0,80; 1,20 a 1,40; 1,40 a 1,80
- E 1,10; 1,10 a 1,50; 1,20 a 1,40

QUESTÃO 15

A respeito das sinalizações de segurança contra incêndio, assinale a opção correta.

- A Por meio da sinalização de alerta, os usuários são orientados a seguir o trajeto mais próximo da porta corta-fogo.
- B A sinalização de orientação e salvamento tem como objetivo indicar aos usuários as áreas onde estejam localizados materiais com potencial risco de explosão ou incêndio.
- C A sinalização de equipamentos indica os procedimentos que a brigada de incêndio deve adotar para operar os equipamentos.
- D Sinalização de segurança é a sinalização encaminhada, via mensagem, às equipes que compõem as brigadas de incêndio.
- E Toda edificação deve apresentar a sinalização básica, que consiste em um conjunto mínimo de sinalizações das seguintes categorias: proibição, alerta, orientação e salvamento e equipamentos.

QUESTÃO 16

O programa de necessidades (PN-ARQ) é uma das etapas a serem cumpridas no processo de elaboração de projetos de arquitetura. Assinale a opção em que são apresentados os produtos relativos à etapa do PN-ARQ.

- A esquemas gráficos, diagramas e histogramas em escala conveniente
- B memorial descritivo da edificação, memorial quantitativo dos componentes construtivos e orçamento estimativo
- C esquemas gerais, fotografias e memorial justificativo
- D organograma funcional, memorial com recomendações gerais e planilhas com relação dos ambientes
- E estudos gerais de terraplenagem e implantação, fotografias e relação dos ambientes

QUESTÃO 17

A iluminância, que consiste no limite da razão do fluxo luminoso recebido por uma superfície em torno de um ponto considerado, deve ser medida no campo de trabalho e, quando este não for definido, deve ser adotado o nível relativo

- A à altura de 1,00 m do piso.
- B à altura do cone visual inferior da visão de uma pessoa sentada a 0,51 m do piso, considerando-se um ângulo de 38° da linha do horizonte e 0,75 cm de distância do olho.
- C a um plano horizontal a 0,75 m do piso.
- D à altura da visão de uma pessoa em pé a 1,45 m do piso.
- E à altura da visão de uma pessoa sentada a 1,10 m do piso.

QUESTÃO 18

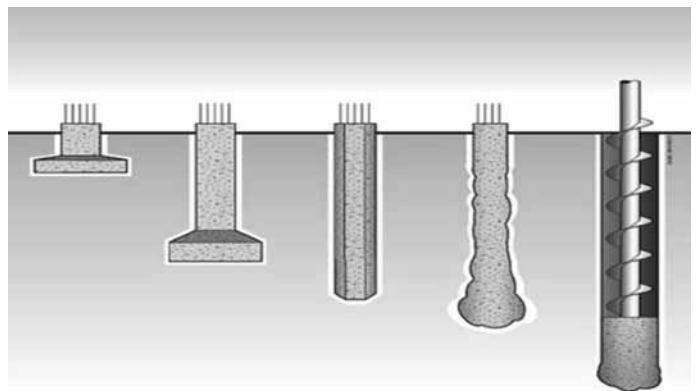


Figura I Figura II Figura III Figura IV Figura V

Internet: <<http://construcaoemercado.pini.com.br/negocios-incorporacao-construcao/142/artigo298938-1.aspx>> (com adaptações).

As figuras mostradas, que ilustram diversos tipos de fundação, correspondem, respectivamente, a fundações dos tipos

- A estaca Franki; sapata; estaca hélice contínua; tubulão; estaca pré-moldada.
- B sapata; estaca Franki; estaca pré-moldada; tubulão; estaca hélice contínua.
- C estaca Franki; sapata; estaca pré-moldada; tubulão; estaca hélice contínua.
- D sapata; tubulão; estaca pré-moldada; estaca Franki; estaca hélice contínua.
- E sapata; tubulão; estaca pré-moldada; estaca hélice contínua; estaca Franki.

QUESTÃO 19

Assinale a opção que apresenta a condição que os acessos das edificações devem satisfazer, conforme a NBR 9.077/2001.

- A Apresentarem pé-direito mínimo de 2,50 m, com exceção de obstáculos representados por vigas, vergas de portas e outros, cuja altura mínima livre deve ser de 2,00 m.
- B Permanecerem desobstruídos apenas os acessos principais de um edifício.
- C Estarem obstruídos caso se trate de edifícios fora de uso.
- D Serem dimensionados em função da largura da área de circulação através da qual a população do edifício irá transitar.
- E Terem pé-direito mínimo de 3,00 m, com exceção de obstáculos representados por vigas, vergas de portas e outros, cuja altura mínima livre deve ser de 2,10 m.

QUESTÃO 20

Assinale a opção que apresenta requisito de conforto de um assento a ser utilizado em postos de trabalho, segundo norma regulamentadora que trata de ergonomia.

- A** altura medida na parte mais alta e frontal do assento entre 0,40 m e 0,45 m
- B** ângulo entre assento e encosto de no mínimo 105° e de no máximo 110°
- C** braços com altura mínima de 0,27 m em relação ao assento
- D** altura ajustável à estatura do trabalhador e à natureza da função exercida
- E** profundidade do assento mínima de 0,47 m e máxima de 0,51 m

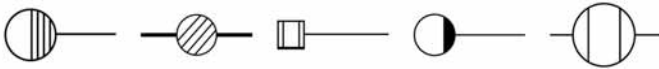
QUESTÃO 21

Figura I Figura II Figura III Figura IV Figura V

Assinale a opção que apresenta a relação correta entre a figura e o elemento hidrossanitário correspondente.

- A** IV – caixa de inspeção
- B** V – válvula de retenção
- C** I – ralo sifonado
- D** II – caixa retentora
- E** III – caixa de passagem

QUESTÃO 22

Para se facilitar as condições de ventilação dos ambientes de uma habitação, o forro deve ser

- A** inclinado e liso, com saída de ar baixa e entrada de ar no alto.
- B** plano e liso, com saída e entrada de ar no alto.
- C** inclinado e rugoso, com saída de ar no alto e entrada de ar baixa.
- D** inclinado (de preferência) e liso, com saída de ar no alto e entrada de ar baixa.
- E** plano e liso, com saída de ar no alto e entrada de ar baixa.

QUESTÃO 23

O uso de modulação nos projetos de arquitetura, um sistema capaz de ordenar e racionalizar as construções,

- A** barateia o processo de construção, uma vez que blocos cerâmicos, divisórias, pisos e telhas existentes no mercado se adéquam a qualquer que seja a medida de referência adotada na modulação do projeto.
- B** facilita posteriores reformas, ampliações, manutenção e adaptações em geral.
- C** possibilita a utilização de diversos pisos e com dimensões variadas, evitando perdas.
- D** dificulta as mudanças de leiaute dos espaços, por atrelar todas as medidas aos módulos.
- E** favorece a variação dos elementos de fachada, como esquadrias, evitando a repetitividade.

QUESTÃO 24

Considerando que, em uma região de clima quente e seco, deseje-se desenvolver um projeto arquitetônico e urbanístico voltado ao conforto ambiental, assinale a opção correta.

- A** A vegetação a ser utilizada no projeto urbanístico não deve impedir a passagem dos ventos, devendo-se limitar a altura mínima das copas para que, ao mesmo tempo, produzam sombra e não façam barreiras à circulação do ar.
- B** O partido arquitetônico deve prever construções alongadas no sentido perpendicular ao vento dominante.
- C** As ruas com direção norte-sul devem ter um traçado extenso e reto, devendo-se evitar desvios para favorecer a canalização dos ventos.
- D** Como a variação da temperatura noturna não é tão significativa nesse tipo de clima, deve-se prever no projeto aberturas suficientemente grandes para permitir ventilação nas horas do dia em que a temperatura externa esteja mais baixa que a interna.
- E** Já que não há conveniência de ventilação, pode-se optar pela realização de pequenas aberturas, que propiciarão a proteção da radiação solar direta na construção.

QUESTÃO 25

De acordo com a NBR 9050:2004 versão corrigida: 2005, assinale a opção correta a respeito da acessibilidade a edificações, mobiliário, espaço e equipamentos urbanos.

- A** Deficiência é uma redução drástica e obrigatoriamente permanente das condições de percepção do ambiente ou de mobilidade.
- B** Área de resgate é a área que dispõe de acesso restrito, devido ao fato de ser destinada a manter, em segurança, pessoas portadoras de deficiência que estejam aguardando socorro.
- C** Área de aproximação é o espaço disponibilizado para que pessoas usuárias de cadeira de rodas se posicionem próximo ao mobiliário para o qual necessitem transferir-se.
- D** Área de transferência é o espaço sem obstáculos disponibilizado para que pessoas usuárias de cadeira de rodas desloquem-se, aproximem-se e utilizem, com autonomia e segurança, determinado mobiliário ou elemento.
- E** Elemento é qualquer dispositivo de comando, acionamento, comutação ou comunicação.

QUESTÃO 26

De acordo com a Lei n.º 12.378/2010, que regulamenta o exercício da arquitetura e cria o Conselho de Arquitetura e Urbanismo do Brasil (CAU/BR), assinale a opção correta.

- Ⓐ Entre as atividades e as atribuições do arquiteto e urbanista incluem-se a supervisão, a coordenação, a gestão e orientação técnica e a elaboração de orçamentos.
- Ⓑ O registro no CAU dos estados e do Distrito Federal é vedado aos portadores de diploma de graduação em arquitetura e urbanismo obtido em instituição estrangeira.
- Ⓒ Os arquitetos e urbanistas deverão ser informados, para fins de conhecimento, a respeito de alterações em projetos ou obras de sua autoria.
- Ⓓ Prescreve em cinco anos contínuos e ininterruptos a pretensão de punição das sanções disciplinares, a contar da data do fato, ainda que o acusado tenha sido intimado a apresentar defesa.
- Ⓔ O acervo técnico, que deve ser devidamente documentado, é propriedade da empresa para a qual o profissional arquiteto e urbanista presta serviços.

QUESTÃO 27

A respeito da avaliação de bens, especificamente dos imóveis urbanos, assinale a opção correta conforme a NBR 14.653-2/2011.

- Ⓐ É vedada a vistoria interna por amostragem em unidades autônomas padronizadas.
- Ⓑ O poder de predição do modelo deve ser mensurado por meio do gráfico de preços observados *versus* os valores estimados pelo modelo.
- Ⓒ A diferença entre os modelos dinâmicos e os estáticos consiste na forma de tratamento dos *outliers*.
- Ⓓ O avaliador deverá utilizar o método comparativo direto de dados do mercado nas situações em que não dispuser de outro método para a identificação do valor de mercado.
- Ⓔ Loteamento, prédio comercial e complexo industrial são exemplos de classificação de imóveis urbanos quanto ao uso.

QUESTÃO 28

Acerca dos requisitos para o sistema de gestão de manutenção de edificações, assinale a opção correta, com base na NBR 5674.

- Ⓐ A manutenção rotineira caracteriza-se por um fluxo constante de serviços, padronizados e cíclicos.
- Ⓑ A norma em questão prevê a obrigatoriedade de planejamento semanal das atividades de manutenção das edificações, processos de controle e controle de documentação.
- Ⓒ Um percentual mínimo de 5% do valor arrecadado anualmente deverá ser destinado exclusivamente para a manutenção das instalações.
- Ⓓ A referida norma não recomenda o uso de indicadores de desempenho para o controle da eficiência da manutenção.
- Ⓔ Os serviços realizados pela manutenção corretiva são programados com antecedência, conforme as solicitações dos usuários, as estimativas da durabilidade esperada dos sistemas e os elementos ou os componentes das edificações.

QUESTÃO 29

Com relação ao programa de condições e meio ambiente no trabalho (PCMAT), assinale a opção correta.

- Ⓐ A implantação do PCMAT nos estabelecimentos é de responsabilidade dos trabalhadores.
- Ⓑ O PCMAT não contempla os programas educativos sobre a temática de acidentes de trabalho.
- Ⓒ O leiaute inicial e o atualizado do canteiro de obras ou da frente de trabalho são partes integrantes do PCMAT.
- Ⓓ O PCMAT deve ser elaborado e executado por profissional legalmente habilitado na área de segurança do trabalho.
- Ⓔ Exigem-se de todos os estabelecimentos, independentemente do número de trabalhadores, a elaboração e o cumprimento do PCMAT.

QUESTÃO 30

Acerca dos diferentes graus de detalhamento de um orçamento, assinale a opção correta.

- Ⓐ A precisão de uma estimativa de custo não está relacionada ao tipo da obra em estudo.
- Ⓑ No orçamento analítico, utiliza-se de custos históricos e comparação com projetos similares.
- Ⓒ Comumente, o orçamento preliminar é mais detalhado que o orçamento analítico.
- Ⓓ A estimativa de custos é feita a partir de indicadores genéricos, a exemplo do custo unitário básico.
- Ⓔ Diferentemente do setor privado, no setor público não há necessidade de estimativa inicial do custo de um empreendimento.

QUESTÃO 31

No que se refere à classificação ABC, ferramenta de controle de obras, assinale a opção correta.

- Ⓐ A classe C reflete os itens mais importantes e que merecem tratamento especial no que se refere a acompanhamento e controle.
- Ⓑ O número de itens que compõe cada uma das faixas deve ser fixo para facilitar o emprego da ferramenta de controle de obras.
- Ⓒ De acordo com a classificação ABC, que permite definir quais os itens de um projeto devem ser controlados, o grau de controle pode e deve ser variável dentro de um mesmo projeto.
- Ⓓ A classificação ABC apresenta-se como um contraponto ao princípio de Pareto.
- Ⓔ Conforme a classificação ABC, os itens do conjunto devem ser ordenados por sua importância relativa, em ordem crescente de importância.

QUESTÃO 32

Assinale a opção correta a respeito da montagem e da desmontagem de fôrmas, conforme as especificações técnicas dos projetos de engenharia.

- A** A fôrma de pilares com altura superior a 2,5 m deve possuir uma janela de inspeção para lançamento do concreto em duas etapas.
- B** Na construção de vigas baldrame para a instalação de fôrmas, a abertura de valas deve ser executada na mesma largura da viga indicada no projeto, nos trechos onde ela estiver enterrada, para evitar a fuga de material durante a concretagem.
- C** Na montagem da armação de pilares, convém manter a nata de cimento depositada na superfície da base do pilar para facilitar a adesão entre os concretos da base e do pilar.
- D** Nas superfícies de concreto aparente, deve-se evitar o emprego de fôrmas metálicas.
- E** De acordo com as normas técnicas, a desforma não deve ser realizada em etapas, mas de única vez, após vinte e oito dias da concretagem.

QUESTÃO 33

No que se refere a especificação, vedação e detalhes executivos de esquadrias utilizadas em edificações, assinale a opção correta.

- A** As partes móveis das esquadrias de ferro deverão ser dotadas de mata-juntas e batedeira interna na direção vertical, de modo a aumentar a resistência mecânica do conjunto.
- B** As portas corta-fogo para saída de emergência são classificadas de acordo com sua resistência à temperatura máxima do fogo a que são submetidas em ensaios.
- C** As razões que justificam a baixa utilização de esquadrias de alumínio anodizado incluem o custo elevado e a baixa durabilidade.
- D** O caixilho das janelas de alumínio precisa dispor de dispositivo que permita a drenagem de água da chuva.
- E** A massa de vidraceiro é a opção mais recomendável para a fixação de vidros.

QUESTÃO 34

Assinale a opção correta a respeito dos princípios fundamentais na Constituição Federal de 1988 (CF).

- A** A valorização social do trabalho e da livre-iniciativa não alcança, indiscriminadamente, quaisquer manifestações, mas apenas atividades econômicas capazes de impulsionar o desenvolvimento nacional.
- B** O conceito atual de soberania exprime o autorreconhecimento do Estado como sujeito de direito internacional, mas não engloba os conceitos de abertura, cooperação e integração.
- C** A cidadania envolve não só prerrogativas que viabilizem o poder do cidadão de influenciar as decisões políticas, mas também a obrigação de respeitar tais decisões, ainda que delas discorde.
- D** A dignidade da pessoa humana é conceito eminentemente ético-filosófico, insuscetível de detalhada qualificação normativa, de modo que de sua previsão na Constituição não resulta grande eficácia jurídica, em razão de seu conteúdo abstrato.
- E** O valor social do trabalho possui como traço caracterizador primordial e principal a liberdade de escolha profissional, correspondendo à opção pelo modelo capitalista de produção.

QUESTÃO 35

Conforme o inciso VII do artigo 5.º da CF, “é assegurada, nos termos da lei, a prestação de assistência religiosa nas entidades civis e militares de internação coletiva”. Considerando-se a aplicabilidade das normas constitucionais e os critérios doutrinários de classificação, é correto afirmar que o referido dispositivo constitui norma

- A** de eficácia limitada programática.
- B** de aplicabilidade imediata.
- C** de eficácia plena programática.
- D** de eficácia plena.
- E** de eficácia limitada de princípio institutivo.

QUESTÃO 36

Assinale a opção correta acerca do que dispõe a CF sobre partidos políticos.

- A** A previsão constitucional de que a lei regrará a função parlamentar autoriza o estabelecimento, pela legislação infraconstitucional, de padrões mínimos de desempenho eleitoral como condição para funcionamento do partido nas casas legislativas.
- B** É inconstitucional, por ofensa ao pluripartidarismo e ao pluralismo político, a fixação de proporcionalidade entre a representatividade partidária e a distribuição do fundo partidário e do tempo na televisão e no rádio.
- C** A exigência de caráter nacional dos partidos políticos visa resguardar o princípio federativo da unidade nacional.
- D** A vedação à utilização de organização paramilitar não obsta que os partidos, em razão da autonomia que lhe é constitucionalmente assegurada, convençionem indumentária uniformizada ou que estabeleçam, em seu âmbito interno, relação de comando e obediência baseada em hierarquia rígida e fidelidade partidária.
- E** Os partidos políticos possuem personalidade jurídica de direito público.

QUESTÃO 37

De acordo com a CF, compete

- A** à União legislar privativamente sobre desapropriação.
- B** à União legislar privativamente sobre direito financeiro.
- C** à União, aos estados, ao Distrito Federal e aos municípios legislar concorrentemente sobre direito agrário.
- D** aos estados elaborar e executar planos regionais de ordenação do território e de desenvolvimento econômico e social.
- E** aos municípios explorar diretamente serviços de radiodifusão.

QUESTÃO 38

À luz do disposto na CF, assinale a opção correta a respeito do concurso público.

- A** É constitucional a limitação de idade para inscrição em concurso público quando essa limitação se justificar em razão das atribuições do cargo.
- B** A constitucionalidade da sujeição de candidato a exame psicotécnico em concurso público depende apenas de haver previsão editalícia nesse sentido.
- C** As provas de títulos em concurso público devem possuir caráter eliminatório e classificatório.
- D** É inconstitucional a disposição, em edital, que limite o número de participantes de cada fase de concurso público e que possa, por isso, eliminar eventuais candidatos que, embora aprovados, não alcancem a classificação mínima exigida.
- E** Os serviços sociais autônomos, embora não integrem a administração pública, submetem-se à regra constitucional de exigência de concurso público para provimento de seus quadros.

QUESTÃO 39

Com base no que dispõe a CF sobre o presidente da República, assinale a opção correta.

- A** A CF admite excepcionalmente a edição, pelo presidente da República, de decreto como fonte normativa primária, o chamado decreto autônomo.
- B** Em processo de *impeachment* por crime de responsabilidade, o contraditório e a ampla defesa somente são exercidos pelo presidente da República perante o Senado Federal, na fase de processo e julgamento.
- C** A renúncia ao mandato pelo presidente da República prejudica, por perda de objeto, o processo de *impeachment* eventualmente em curso, acarretando a sua extinção automática.
- D** Por força do princípio da inafastabilidade jurisdicional, eventual decisão condenatória proferida pelo Senado Federal em julgamento por crime de responsabilidade estará sujeita a controle judicial posterior.
- E** Por ser norma punitiva, o rol de crimes de responsabilidade previsto na CF é taxativo, nele não podendo ser inseridos novos tipos.

QUESTÃO 40

Acerca do processo legislativo, assinale a opção correta de acordo com as disposições da CF.

- A** A aprovação, sem nenhuma emenda ou modificação, de projeto de lei apresentado pelo presidente da República dispensa a sanção.
- B** Há veto tático sempre que o presidente da República deixa de sancionar a lei no prazo constitucionalmente exigido após sua aprovação.
- C** É vedada a apresentação de emenda parlamentar a projeto de lei de iniciativa privativa do presidente da República.
- D** Compete ao presidente da República o esclarecimento sobre em que consiste a contrariedade ao interesse público no veto político a projeto de lei aprovado pelo Congresso Nacional.
- E** A sanção e promulgação de projeto de lei de iniciativa privativa do presidente da República, mas apresentado por parlamentar, sana o vício de iniciativa, por convalidação.

QUESTÃO 41

De acordo com a CF, compete originariamente ao Supremo Tribunal Federal processar e julgar ação

- A** que verse sobre verbas indenizatórias recebidas pela magistratura comuns a outras carreiras públicas.
- B** ordinária que impugne ato do Tribunal de Contas da União.
- C** cível ajuizada contra o presidente da República.
- D** direta de inconstitucionalidade contra lei do Distrito Federal editada no exercício de sua competência municipal.
- E** tipicamente constitucional ajuizada contra o Conselho Nacional de Justiça.

QUESTÃO 42

Após denúncia anônima contendo documentos que permitiram a determinada autarquia federal conhecer indícios de infração administrativa cometida por servidor público a ela vinculado, instaurou-se, no âmbito da entidade, processo administrativo disciplinar (PAD). Para compor a comissão responsável pelo PAD foi designado, entre outros membros, parente de quarto grau em linha colateral do servidor processado. A instrução processual foi ampla e houve necessidade de se prorrogar o prazo para a conclusão dos trabalhos. Ao final, o servidor, que optou por apresentar defesa pessoalmente, dispensando assistência técnica de advogado, foi indiciado.

Superado o prazo para a conclusão do processo, sobreveio decisão proferida pela autoridade competente em que foi reconhecida a prescrição da pretensão punitiva da administração pública e a extinção da punibilidade. Ainda assim, em atendimento ao princípio da publicidade, foi promovido o registro do PAD e do seu resultado nos assentamentos funcionais do servidor.

Com base no disposto na Lei n.º 8.112/1990 e considerando a doutrina e a jurisprudência, é correto afirmar que, na situação apresentada, houve irregularidade decorrente

- A** do registro nos assentamentos funcionais do servidor.
- B** do excesso de prazo para conclusão do processo.
- C** da ausência de defesa técnica por advogado.
- D** do fato de a denúncia que deu origem à instauração do PAD ser anônima.
- E** do fato de a comissão ter sido integrada pelo parente do servidor.

QUESTÃO 43

Com base no disposto na Lei n.º 8.112/1990, assinale a opção correta acerca da acumulação de cargos.

- A** O servidor ocupante de cargo em comissão pode exercer interinamente cargo em comissão diverso, sem prejuízo das atribuições do cargo por ele regularmente ocupado.
- B** O servidor ocupante de cargo em comissão não poderá perceber, adicionalmente, remuneração por eventual participação em conselhos de administração de empresa pública.
- C** O servidor que acumular licitamente dois cargos efetivos poderá ser investido em um terceiro cargo, em comissão, se houver compatibilidade de horários.
- D** A proibição de acumular cargos não alcança cargos dos quadros de entidades da administração indireta.
- E** Proventos de aposentadoria de emprego público não podem ser cumulados com o exercício de cargo temporário.

QUESTÃO 44

A respeito da responsabilidade do servidor, assinale a opção correta à luz da Lei n.º 8.112/1990.

- A** A responsabilidade criminal do servidor alcança contravenções eventualmente por ele praticadas no exercício de suas funções.
- B** A responsabilidade regressiva do servidor por dano praticado contra terceiro é personalíssima, não se estendendo a seus herdeiros e sucessores.
- C** Eventual decisão que absolva servidor público na esfera penal não interfere nas esferas civil e administrativa.
- D** A denúncia feita pelo servidor à autoridade competente a respeito da suspeita de envolvimento de seu superior em ato de improbidade acarreta a sua responsabilidade, se posteriormente verificada a inexistência de infração.
- E** A responsabilidade regressiva do servidor por dano praticado contra terceiro no exercício de suas funções é objetiva.

QUESTÃO 45

Com base no disposto na Lei n.º 11.416/2006, assinale a opção correta.

- A** Exige-se nível superior de escolaridade dos ocupantes de cargos na área de apoio especializado.
- B** As funções comissionadas de natureza gerencial somente podem ser exercidas por servidores com formação superior.
- C** Atividades básicas de apoio operacional são atribuições reservadas aos cargos da carreira de técnico judiciário.
- D** As funções comissionadas de natureza gerencial pressupõem vínculo de subordinação e poder de decisão.
- E** Os critérios para o exercício de função comissionada de natureza não gerencial se inserem na discricionariedade administrativa da autoridade responsável pela nomeação.

QUESTÃO 46

De acordo com a Lei n.º 8.112/1990, estará sujeito à penalidade de demissão o servidor público que

- A** reincidir na retirada de documento da repartição sem prévia autorização da autoridade competente.
- B** coagir subordinado a filiar-se a partido político.
- C** utilizar recurso material da repartição em atividade particular.
- D** negar fé a documento público.
- E** opor resistência injustificada a processo administrativo.

QUESTÃO 47

Conforme a Lei n.º 8.112/1990, o servidor que sofrer acidente que limite sua capacidade física de forma a inviabilizar o exercício pleno das atribuições do cargo por ele ocupado deverá

- A** desempenhar suas funções como excedente em cargo de atribuições afins, com mesmo nível de escolaridade e equivalência de vencimentos, até a ocorrência de vaga disponível.
- B** ser mantido no mesmo cargo que ocupa, com eliminação das atribuições para as quais não mais tiver capacidade.
- C** ser exonerado de ofício.
- D** ser revertido por invalidez.
- E** ser posto em disponibilidade.

QUESTÃO 48

Conforme a Lei n.º 8.112/1990, o deslocamento de cargo de provimento efetivo, ocupado ou vago, no âmbito do quadro geral de pessoal para outro órgão ou entidade do mesmo poder denomina-se

- A** redistribuição.
- B** remoção.
- C** reintegração.
- D** transferência.
- E** substituição.

QUESTÃO 49

Assinale a opção correta a respeito dos princípios da administração pública.

- A** A ofensa ao princípio da moralidade pressupõe afronta também ao princípio da legalidade.
- B** O princípio da eficiência deve ser aplicado prioritariamente, em detrimento do princípio da legalidade, em caso de incompatibilidade na aplicação de ambos.
- C** Os institutos do impedimento e da suspeição no âmbito do direito administrativo são importantes corolários do princípio da impessoalidade.
- D** A administração deve, em caso de incompatibilidade, dar preferência à aplicação do princípio da supremacia do interesse público em detrimento do princípio da legalidade.
- E** A publicidade, princípio basilar da administração pública, não pode sofrer restrições.

As próximas 8 questões deverão ser respondidas à luz da Resolução n.º 198/2014 do Conselho Nacional de Justiça (CNJ) e suas alterações, a qual rege o planejamento estratégico no Poder Judiciário brasileiro para 2020.

QUESTÃO 50

Tendo em vista que o planejamento estratégico permite, a partir da análise do ambiente externo e interno da organização, estabelecer a missão, visão, valores, políticas e diretrizes que norteiam suas decisões a médio e longo prazo, assinale a opção correta.

- A** Os planos estratégicos no Poder Judiciário são elaborados para uma abrangência mínima de quatro anos e máxima de seis anos.
- B** A estratégia do Poder Judiciário para o sexênio 2015/2020 poderá se desdobrar apenas em dois níveis: nacional, com aplicação obrigatória a todo judiciário; e por segmento de justiça, de forma facultativa.
- C** Os planos estratégicos dos tribunais devem estar alinhados ao plano plurianual como forma de garantir os recursos necessários à sua execução.
- D** A missão do Poder Judiciário é promover a justiça social.
- E** A formulação do plano estratégico dos órgãos do Judiciário deve estar alinhada à sua estratégia nacional para o sexênio 2015/2020.

QUESTÃO 51

O macrodesafio do Poder Judiciário, estabelecido como estratégia para 2020, é

- A** a instituição da governança judiciária.
- B** a garantia dos direitos da cidadania.
- C** o combate à improbidade administrativa.
- D** a realização da justiça social.
- E** o aprimoramento da gestão da justiça criminal.

QUESTÃO 52

Na missão institucional descrita no planejamento estratégico de uma organização estabelece-se o propósito ou a razão para a sua existência; portanto, a essência do planejamento estratégico está em definir sua missão organizacional. A missão do Poder Judiciário, segundo a resolução em apreço, é

- A** combater a corrupção.
- B** realizar justiça.
- C** promover a transparência e o controle social.
- D** efetivar a prestação jurisdicional.
- E** promover a responsabilidade socioambiental.

QUESTÃO 53

Na resolução em questão, são assinalados três macrodesafios do Poder Judiciário para 2020: sociedade, processos internos e recursos, os quais se desdobram em uma série de diretrizes que devem nortear as ações do Poder Judiciário. Assinale a opção que apresenta diretriz relacionada ao macrodesafio processo interno.

- A** efetividade na prestação jurisdicional
- B** melhoria da gestão de pessoas
- C** garantia aos direitos da cidadania
- D** instituição da governança judiciária
- E** combate à corrupção e à improbidade administrativa

QUESTÃO 54

O Banco de Boas Práticas e Ideias para o Judiciário (BPIJUS) foi criado mediante a resolução em tela, com o objetivo de aperfeiçoar os serviços judiciais. Entre as ações do BPIJUS inclui-se

- A** a promoção do compartilhamento de informações para organização dos encontros nacionais do Poder Judiciário.
- B** a promoção e o compartilhamento de ideias inovadoras, apresentadas por qualquer pessoa, para a melhoria do Poder Judiciário.
- C** o oferecimento de suporte informacional para os órgãos do Poder Judiciário quando da elaboração do processo orçamentário.
- D** o fomento à gestão da informação estratégica no âmbito do Poder Judiciário.
- E** o compartilhamento de metas nacionais, diretrizes e iniciativas estratégicas para o Poder Judiciário.

QUESTÃO 55

Em relação à Rede de Governança Colaborativa do Poder Judiciário conforme a resolução em apreço, assinale a opção correta.

- A** A Rede de Governança atua, primordialmente, na área de gestão de projetos, otimização de processos de trabalho, assim como na produção de dados estatísticos.
- B** É competência da Rede de Governança Colaborativa do Poder Judiciário alinhar a proposta orçamentária dos tribunais a seus respectivos planos estratégicos.
- C** É competência da Rede de Governança apresentar propostas de aperfeiçoamento da estratégia do Poder Judiciário para 2020, bem como auxiliar a execução, o monitoramento dos trabalhos e a divulgação dos resultados.
- D** Compete à referida Rede manter unidades de gestão estratégica para assessorar a implantação e o monitoramento do planejamento estratégico.
- E** Compete à presidência do CNJ a indicação dos representantes dos órgãos do Poder Judiciário para compor a Rede de Governança Colaborativa do Poder Judiciário.

QUESTÃO 56

A gestão de demandas repetitivas e dos grandes litigantes caracteriza-se como

- A** macrodesafio relacionado a recurso.
- B** visão do Poder Judiciário.
- C** macrodesafio relacionado a processo interno.
- D** missão do Poder Judiciário.
- E** macrodesafio relacionado à sociedade.

QUESTÃO 57

A execução do plano estratégico dos órgãos do Poder Judiciário deve alinhar-se ao plano estratégico do Poder Judiciário para 2020, com possibilidade de revisões periódicas. Para tanto, os órgãos do Poder Judiciário deverão realizar reuniões de análise da estratégia (RAEs) para avaliação e acompanhamentos dos resultados, com vistas a promover os ajustes ou medidas necessárias à melhoria do desempenho institucional. Conforme a referida resolução, as RAEs dos órgãos do Poder Judiciário devem ser realizadas

- A** mensalmente.
- B** semestralmente.
- C** anualmente.
- D** pelo menos quadrimestralmente.
- E** no mês de novembro de cada ano.

QUESTÃO 58

Assinale a opção correta de acordo com o Código de Ética do Tribunal Regional do Trabalho (TRT) da 8.^a Região.

- A** Os servidores nomeados ou designados para o exercício dos cargos em comissão, de direção ou chefia, dada a natureza das atribuições, obedecerão a regras específicas, além das demais normas constantes do Código de Ética.
- B** É vedado ao servidor manter sob sua subordinação hierárquica cônjuge, companheiro ou parente em linha reta, colateral ou por afinidade, até o quarto grau, inclusive.
- C** A Comissão de Ética compõe-se por cinco membros e respectivos suplentes, designados pelo corregedor-geral do tribunal, entre os servidores efetivos e estáveis, que não tiverem sofrido, nos últimos cinco anos, punição penal ou administrativa.
- D** As disposições constantes do Código de Ética aplicam-se a todos os servidores do tribunal e ainda àqueles que, mesmo sendo de outra instituição, prestem serviços de natureza permanente ao tribunal, mas não aos vinculados indiretamente e em caráter excepcional que estarão submetidos à regulação específica de seu órgão de origem.
- E** A prática de ações com visibilidade plena integra a gestão democrática que deve ser observada pelo servidor no cumprimento de suas atribuições.

QUESTÃO 59

Acerca dos dispositivos constantes do Regimento Interno do TRT da 8.^a Região, assinale a opção correta.

- A** Compete originalmente ao presidente do TRT da 8.^a Região, a coordenação da escala de férias dos juizes de primeiro grau e a direção do foro trabalhista.
- B** O depósito público é órgão externo auxiliar do Foro de Belém, não o integrando, portanto.
- C** A Escola da Magistratura, o Conselho da Ordem do Mérito *Jus et Labor* e a Corregedoria Regional são órgãos do TRT da 8.^a Região.
- D** É de competência exclusiva da Seção Especializada II do TRT da 8.^a Região processar e julgar, originariamente, os dissídios coletivos de natureza econômica ou jurídica, bem como homologar os acordos neles celebrados.
- E** É da competência originária do vice-presidente do TRT da 8.^a Região a concessão de licença para servidor acompanhar cônjuge ou de licença capacitação, bem como a concessão de dispensa do ponto.

QUESTÃO 60

No que concerne aos trâmites processuais descritos no Regimento Interno do TRT da 8.^a Região, assinale a opção correta.

- A** A pauta de julgamento será organizada pela ordem cronológica de entrada do processo na distribuição local.
- B** Os julgamentos acerca de dissídios coletivos, embargos de declaração, *habeas corpus* e mandados de segurança preferem aos demais julgamentos, independentemente de requerimento da parte.
- C** As partes serão notificadas dos julgamentos mediante publicação da pauta no órgão oficial, com antecedência mínima de setenta e duas horas.
- D** Independem de publicação e inclusão em pauta de julgamento: *habeas corpus*, conflito de competência e processo administrativo disciplinar.
- E** Nas sessões de julgamento da pauta judiciária, o pronunciamento do desembargador relator precede a manifestação do Ministério Público do Trabalho.