

CONCURSO PÚBLICO

Cargo:

Auxiliar Judiciário

Área de Serviços Gerais

CADERNO DE PROVAS

Aplicação: 26/5/2002 (manhã)



LEIA COM ATENÇÃO AS INSTRUÇÕES ABAIXO.

- 1 Este caderno é constituído de **trinta** questões objetivas, com cinco itens cada uma.
- 2 Caso o caderno esteja incompleto ou tenha qualquer defeito, o candidato deverá solicitar ao fiscal de sala mais próximo que tome as providências cabíveis.
- 3 Recomenda-se não marcar ao acaso: cada item cuja resposta divirja do gabarito oficial acarretará a perda de 0,20 ponto, conforme consta no Edital n.º 1/2002 – TRT, de 28/3/2002.
- 4 Não é permitida a utilização de nenhum material de consulta que não seja fornecido pelo CESPE.
- 5 Durante as provas, o candidato não deverá levantar-se ou comunicar-se com outros candidatos.
- 6 A duração das provas é de **três horas e trinta minutos**, já incluído o tempo destinado à identificação — que será feita no decorrer das provas — e ao preenchimento da folha de respostas.
- 7 A desobediência a qualquer uma das determinações constantes nas presentes instruções, na folha de rascunho ou na folha de respostas poderá implicar a anulação das provas do candidato.

AGENDA

- I 27/5/2002 – Divulgação, a partir das 10 h, dos gabaritos oficiais preliminares das provas objetivas, na Internet — no endereço eletrônico <http://www.cespe.unb.br> — e nos quadros de avisos do CESPE/UnB — em Brasília.
- II 28 e 29/5/2002 – Recebimento de recursos contra os gabaritos oficiais preliminares das provas objetivas, exclusivamente nos locais e no horário que serão informados na divulgação dos referidos gabaritos.
- III 19/6/2002 – Data provável da divulgação (após a apreciação de eventuais recursos), no Diário Oficial da União e nos locais mencionados no item I, do resultado final das provas objetivas e do concurso.

OBSERVAÇÕES

- Não serão objeto de conhecimento recursos em desacordo com o estabelecido no item 9 do Edital n.º 1/2002 – TRT, de 28/3/2002.
- Informações relativas ao concurso poderão ser obtidas pelo telefone 0(XX)-81-448-0100.
- É permitida a reprodução deste material, desde que citada a fonte.

PROVAS OBJETIVAS

De acordo com o comando de cada uma das questões de 1 a 30, marque, na **folha de respostas**, para cada item: o campo designado com o código C, caso julgue o item **CERTO**; o campo designado com o código E, caso julgue o item **ERRADO**; ou o campo designado com o código SR, caso desconheça a resposta correta. Marque, obrigatoriamente, para cada item, um, e somente um, dos três campos da **folha de respostas**, sob pena de arcar com os prejuízos decorrentes de marcações indevidas. A marcação do campo designado com o código SR não implicará anulação. Use a folha de rascunho para as devidas marcações e, posteriormente, a **folha de respostas**.

LÍNGUA PORTUGUESA

QUESTÃO 1

- 1 O Tribunal Regional registrou momentos importantes nos julgamentos dos diversos dissídios coletivos dos canavieiros, já que envolviam os interesses de cerca de 250 mil trabalhadores.
- 4 Um deles terminou de madrugada e foi realizado à luz de velas, tendo em vista a falta de energia verificada naquela noite. Na época, o clima de tensão era grande e os ânimos acirrados.
- 7 Os julgamentos eram realizados sem nenhuma segurança policial ou militar. Outras categorias marcaram presença na justiça do trabalho, prolongando as sessões por horas ininterruptas.

Internet: <<http://www.trt6.gov.br/instit/prhistorico.html>>.

O texto acima manteria o mesmo sentido caso se substituísse

- 1 “registrou” (l.1) por **protocolou**.
- 2 “dissídios” (l.2) por **processos administrativos**.
- 3 “tensão” (l.6) por **ódio**.
- 4 “Outras categorias” (l.8) por **Outros grupos profissionais**.
- 5 “ininterruptas” (l.9) por **com muitas interrupções**.

QUESTÃO 2

Ao longo de sua história, o Tribunal do Trabalho registrou momentos decisivos e dramáticos _____ resolução de conflitos sociais. Exemplo disso foram os julgamentos dos dissídios coletivos dos canavieiros, bancários e comerciários, realizados em 1993.

Idem, ibidem.

No texto acima, seria correto preencher a lacuna com a expressão

- 1 **no que se refere à.**
- 2 **quanto à.**
- 3 **no que diz respeito à.**
- 4 **com relação à.**
- 5 **quando a.**

QUESTÃO 3

Julgue os itens seguintes quanto à correção gramatical.

- 1 Como no caso do reconhecimento do direito dos trabalhadores rurais ao salário-família, o Tribunal do Trabalho da 6.ª Região vem-se destacando na criação de jurisprudência em relação a diversos assuntos.
- 2 O Tribunal do Trabalho da 6.ª Região vem-se destacando (como foi o caso do reconhecimento do direito dos trabalhadores rurais ao salário-família) na criação de jurisprudência em relação a diversos assuntos.
- 3 Na criação de jurisprudência em relação a diversos assuntos, como foi o caso do reconhecimento do direito dos trabalhadores rurais ao salário-família, o Tribunal do Trabalho da 6.ª Região vem se destacando.
- 4 Vem se destacando na criação de jurisprudência em relação a diversos assuntos, como foram o caso do reconhecimento do direito dos trabalhadores rurais ao salário-família, o Tribunal do Trabalho da 6.ª Região.
- 5 Destacam-se o Tribunal do Trabalho da 6.ª Região na criação de jurisprudência em relação a diversos assuntos, como foi o caso do reconhecimento do direito dos trabalhadores rurais ao salário-família.

Itens adaptados. Internet: <<http://www.trt6.gov.br/instit/prhistorico.html>>.

QUESTÃO 4

Do ponto de vista administrativo, o Tribunal Regional do Trabalho da 6.ª Região sofreu várias modificações nos últimos anos, contando, hoje, com três turmas e 53 varas trabalhistas — atual denominação das juntas de conciliação e julgamento —, sendo vinte na capital. Em 1992, foi instituído o cargo de corregedor, com a atribuição de designar juízes substitutos para as varas, apreciar reclamações correcionais, publicar o boletim estatístico, organizar o processo de vitaliciamento dos juízes substitutos, além de correições rotineiras. Antes, todo esse trabalho era executado pelo vice-presidente.

Idem, ibidem (com adaptações).

O texto acima poderia ser corretamente intitulado como

- 1 **Os atuais poderes do vice-presidente do Tribunal Regional do Trabalho da 6.ª Região.**
- 2 **O Tribunal Regional do Trabalho da 6.ª Região e suas modificações.**
- 3 **O Tribunal Regional do Trabalho da 6.ª Região transforma-se.**
- 4 **As mudanças do Tribunal Regional do Trabalho da 6.ª Região.**
- 5 **As transformações administrativas do Tribunal Regional do Trabalho da 6.ª Região.**

QUESTÃO 5

Julgue os itens a seguir quanto ao emprego correto dos sinais de pontuação.

- 1 A exemplo do que aconteceu com a distribuição dos feitos do Recife, as varas do trabalho de Jaboatão dos Guararapes, Olinda e Paulista passaram, a contar, desde o início de janeiro com o funcionamento do protocolo unificado, em suas respectivas distribuições.
- 2 Pelo novo módulo implantado, os setores passaram a receber, petições e devoluções, de autos das varas do trabalho.
- 3 Apenas as petições iniciais e as que requerem adiamento de audiências ainda precisam ser, protocoladas diretamente nas secretarias das respectivas varas.
- 4 Entretanto, por conta da separação geográfica, a corregedoria facultou às partes o protocolo de petições e a devolução de autos referentes à 1.ª Vara do Trabalho de Jaboatão, tanto no protocolo unificado quanto na secretaria da vara.
- 5 A importância da implantação do protocolo unificado está em facilitar a vida dos advogados, uma vez que eles agora podem dirigir-se a um só local e lá protocolar todas as suas peças processuais.

Itens adaptados. Internet: <<http://www.trt6.gov.br/informe/informativo/2002/jornalfev/numeracao.html>>.

Desde o último dia 2 de janeiro, os processos trabalhistas em Pernambuco estão sendo autuados por meio do novo sistema de numeração única, o que facilita o acompanhamento pelos advogados e pelas partes interessadas. O objetivo da justiça do trabalho é fazer com que cada processo tenha um só número, do início até o fim, em qualquer instância, já que a diversidade de números constitui um obstáculo à rápida obtenção de informações processuais. O sistema também permitirá, no futuro, a interligação dos sistemas informatizados de todas as varas e tribunais que integram a justiça do trabalho no país. O atual sistema, com padrões de números de processos diferentes em cada região, dificulta o desenvolvimento de um projeto de interligação por parte do Tribunal Superior do Trabalho.

Internet: <http://www.trt6.gov.br/informe/informativo/2002/jornalfev/numeracao.html> (com adaptações).

QUESTÃO 6

O texto LP manterá a correção gramatical e a coerência se for substituída a expressão

- 1 “por meio do” (l.2) por **como base cujo**.
- 2 “o que” (l.3) por **e isso**.
- 3 “fazer com” (l.5) por **garantir**.
- 4 “já que” (l.6) por **uma vez que**.
- 5 “por parte do” (l.13) por **com a parte do**.

QUESTÃO 7

Em relação às idéias do texto LP, julgue os itens abaixo.

- 1 As informações relativas aos processos trabalhistas podem ser obtidas com mais facilidade quando a numeração única é adotada.
- 2 O protocolo unificado vai prejudicar temporariamente o acompanhamento dos processos trabalhistas.
- 3 A diversidade de numeração para um mesmo processo torna mais difíceis a consulta e a criação de um sistema interligado entre as regiões.
- 4 Já está em pleno funcionamento um sistema informatizado que interliga todas as varas e tribunais da justiça do trabalho.
- 5 No sistema que vigorava e que está em transformação, os processos tomavam números diferentes nas diversas regiões.

QUESTÃO 8

Julgue os itens que se seguem quanto à correção gramatical.

- 1 Fundado em 1.º de maio de 1946, somente a partir dessa data o Tribunal Regional do Trabalho passando a integrar o Poder Judiciário.
- 2 O Tribunal funcionava anteriormente sobre a forma de conselho, vinculando ao Poder Executivo, e os recursos poderiam ser julgados pelo ministro do Trabalho.
- 3 Desde que foi criado, o Conselho Regional do Trabalho (posteriormente, o Tribunal) possuía jurisdição sobre os estados de Pernambuco, Paraíba, Alagoas e Rio Grande do Norte.
- 4 Com o tempo, cada um desses estados foi-se desmembrando da 6.ª Região, a partir da instalação de seus próprios tribunais regionais.
- 5 No início, o Tribunal Regional do Trabalho possuía apenas cinco juntas de conciliação e julgamento, sendo duas no Recife e as demais em Maceió, João Pessoa e Natal.

Itens adaptados. Internet: <http://www.trt6.gov.br/instit/prhistorico.html>

QUESTÃO 9

Para implementar a nova numeração, a Secretaria de Informática vem adaptando diversos sistemas judiciais, _____: sistema de precatórios, sistema de leilões, sistema de distribuição de mandados judiciais, sistema de consulta do Disque-Processo, sistema de consulta por terminal de extrato e sistema de consulta de processos pela Internet. Mesmo com todo o esforço da Secretaria de Informática em promover as alterações necessárias, em face da exigüidade do tempo, ainda estão sendo feitos ajustes nos sistemas de 1.ª e 2.ª instâncias.

Internet: <http://www.trt6.gov.br/informe/informativo/2002/jornalfev/numeracao.html> (com adaptações).

Seria correto preencher a lacuna do texto acima com a expressão

- 1 **entre os quais podem ser destacados**.
- 2 **dos quais destacam-se**.
- 3 **aos quais são destaques**.
- 4 **pelos quais sobressaem**.
- 5 **com os quais se sobressai**.

QUESTÃO 10

Julgue os itens abaixo quanto à correção gramatical.

- 1 Já no final dos anos 90, todo um novo processo econômico e social começou a ser visto de um modo mais sistemático.
- 2 Globalização e reestruturação organizacional seriam, na prática reflexos da impressionante emergência em escala mundial de uma economia do conhecimento.
- 3 Rêdes de conhecimento, de que a Internet é apenas um entre muitos exemplos, começaram a se espalhar por todo o planeta, redefinindo as relações sociais e o pêso das instituições políticas.
- 4 O mais relevante para quem está querendo entender o futuro das profissões é que essas transformações vêm destruindo disciplinas ou redefinindo muitas delas.
- 5 Assim, um engenheiro cada vez menos, sabe em que vai trabalhar no futuro. Não só os problemas tornam-se cada vez mais numerosos, como já não se concebe que a busca de soluções fique nas mãos de um profissional apenas.

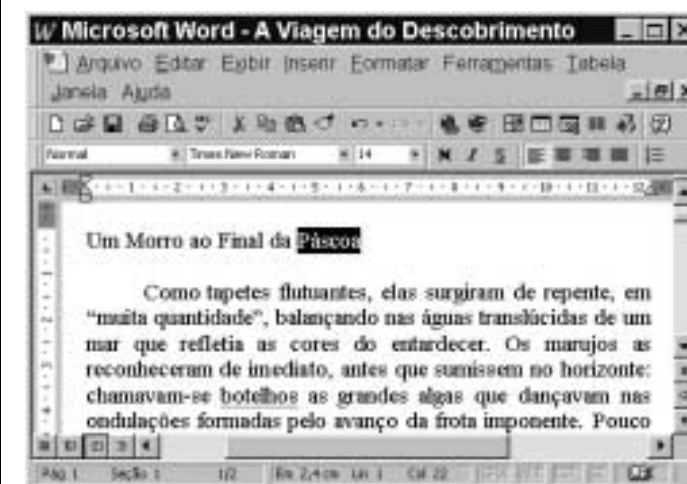
Gilson Schwartz. **As profissões do futuro**. São Paulo: Publifolha, 2000 (com adaptações).

CONHECIMENTOS DE INFORMÁTICA

Nas questões de 11 a 15, a menos que seja explicitamente informado o contrário, considere que todos os programas mencionados estão em configuração-padrão, em português, que o *mouse* está configurado para pessoas destros e que expressões como clicar, clique simples e clique duplo referem-se a cliques com o botão esquerdo do *mouse*. Considere também que não há restrições de proteção e de uso em relação aos programas, arquivos, diretórios e equipamentos mencionados.








Texto CI – questões 11 e 12

A figura a seguir mostra uma janela do Word 97 com um trecho do livro intitulado **A Viagem do Descobrimento**, de Eduardo Bueno, que está sendo digitado por um usuário.









QUESTÃO 11

Com base na figura associada ao texto CI e com relação ao Word 97, julgue os itens seguintes.

- 1 É possível que a palavra “botelhos” tenha sido sublinhada pelo usuário, ao executar a seguinte seqüência de ações: selecionar a referida palavra; clicar , fazendo aparecer a caixa de diálogo Fonte; nessa caixa, selecionar o estilo de sublinhado ondulado; teclar .
- 2 Para aplicar itálico à palavra “botelhos”, é suficiente realizar a seguinte seqüência de ações: selecionar essa palavra; pressionar a tecla  e, mantendo-a pressionada, teclar ; liberar a tecla .
- 3 Para centralizar o título, “Um Morro ao Final da Páscoa”, é suficiente clicar em qualquer palavra desse título e, em seguida, clicar .
- 4 Caso o usuário clique imediatamente à esquerda da palavra “elas” e tecla  quatro vezes seguidas, essa palavra será excluída do texto.
- 5 Considerando que a palavra “Páscoa”, no título, está selecionada, é correto afirmar que o título está localizado na primeira linha da primeira página do documento.

QUESTÃO 12

Ainda com base na figura associada ao texto CI e com respeito ao Word 97, julgue os itens subseqüentes.

- 1 O Word 97 apresenta uma ferramenta para separação silábica que separa automaticamente uma palavra que fique incompleta ao final de uma linha. Para acionar esse modo automático de separação silábica, é suficiente clicar .
- 2 Caso o usuário clique o botão , será exibida a caixa de diálogo Idioma, que permite definir o idioma em que o documento está sendo editado.
- 3 Caso o usuário clique imediatamente à direita da palavra “Páscoa” e, em seguida, clique seis vezes em , essa palavra será excluída do texto.
- 4 Para se inserir uma planilha do Excel em uma determinada posição do texto, é suficiente clicar no local em que se deseja inserir essa planilha, pressionar a tecla  e, mantendo-a pressionada, teclar .
- 5 Caso se clique o menu , aparecerá uma lista de opções, entre as quais a opção Localizar, que permite localizar palavras no documento ativo.



QUESTÃO 13

Com relação a tópicos relacionados à Internet, julgue os itens subseqüentes.

- 1 A seguinte seqüência de caracteres representa um endereço típico de correio eletrônico: carlos.empresa.com@br.
- 2 O programa Internet Explorer 5 pode ser utilizado para se realizar navegação na Internet.
- 3 Quando uma mensagem de correio eletrônico é enviada de um computador a outro por meio da Internet, não existe a possibilidade de que ela seja lida por uma pessoa não-autorizada.
- 4 A seguinte seqüência de caracteres apresenta a estrutura típica de uma página da Web: empresa.com.br.www.
- 5 Para proteger um computador de diversos tipos de vírus que possam vir em arquivos por meio da Internet, é importante ter instalado no computador um antivírus atualizado.


QUESTÃO 14

A figura acima mostra uma janela com uma planilha eletrônica produzida no Excel 2000, em que se observam valores de quatro produtos. Acerca dessa figura e do Excel 2000, julgue os itens abaixo.

- Para se determinar o valor mostrado na célula D3, é suficiente realizar o seguinte procedimento: clicar sobre a referida célula; digitar =B3*C3 e, a seguir, teclar **Enter**.
- Para se determinar quanto, percentualmente, o valor do item 3 representa do valor total dos quatro itens, pondo o resultado na célula D6, é suficiente, depois de formatar a célula D6 para porcentagem, digitar =D3/TOTAL(D1,D5) e, a seguir, teclar **Enter**.
- A formatação das células de C2 a C5 e de D2 a D5 para a categoria de moeda com duas casas decimais, como observado na figura mostrada, pode ser realizada por meio da opção Células, encontrada no menu **Formatar**.
- Caso se selecione as células A2 e B2 e, a seguir, se clique , essas células serão mescladas em uma única célula com conteúdo igual a 26, correspondente à soma dos valores contidos nas células A2 e B2.
- Para se visualizar a soma total das células de D2 a D5, na célula selecionada mostrada na figura, é suficiente clicar  e teclar **Enter**.

QUESTÃO 15

Com relação ao Windows 98, julgue os seguintes itens.

- Caso se clique o botão Iniciar do Windows 98, aparecerá uma lista de opções, entre as quais a opção Localizar, que permite localizar arquivos que estão armazenados no disco rígido do computador.
- Ao se aplicar um clique simples sobre o ícone Meu computador, será aberta a janela Meu computador, que permite acessar arquivos armazenados no disco rígido do computador.
- O Windows 98 apresenta diversos acessórios, como, por exemplo, o Paint, utilizado para criar, editar e visualizar figuras.
- Para maximizar uma janela do Windows 98, é suficiente clicar o botão  encontrado geralmente na barra de títulos dessa janela.
- No Windows 98, todo arquivo excluído é enviado à lixeira, não podendo ser recuperado.

CONHECIMENTOS GERAIS E ESPECÍFICOS

QUESTÃO 16

Um banco adota a seguinte política: não atribui limite para os cheques especiais dos seus clientes, mas permite que o saldo destes fique negativo, cobrando, sobre o saldo negativo, uma taxa de juros proporcional a 10% ao mês. A tabela abaixo apresenta a movimentação de uma conta nesse banco em determinado mês de trinta dias. Nela, as células em branco representam valores desconhecidos, as células marcadas com travessão (—) indicam operações que não ocorreram e as células marcadas com X indicam operações que foram feitas.

dia	saldo anterior (R\$)	depósito (R\$)	saque (R\$)	saldo (R\$)
1	730,00	75,00	—	
5		—	X	690,00
10	690,00	—	250,00	
12		X	—	600,00
17	600,00	—	450,00	
21		—	330,00	
28		280,00	—	
30		—	30,00	

Com base nessa tabela, julgue os itens seguintes.

- O saque efetuado no dia 5 foi menor que R\$ 100,00.
- O depósito realizado no dia 12 foi menor que R\$ 150,00.
- O saldo no dia 21 ficou negativo.
- Se os juros sobre eventuais saldos negativos forem cobrados tão logo o saldo da conta fique positivo, então o saldo dessa conta no dia 28 foi superior a R\$ 100,00.
- O saldo no dia 30 era inferior a R\$ 50,00.

RASCUNHO

QUESTÃO 17

Julgue os itens abaixo.

- Considere que, em uma semana, um juiz tenha julgado 80 processos. Se, de cada grupo de 8 processos, 5 envolviam funcionários públicos, então o total de processos envolvendo funcionários públicos é maior que 52.
- Considere que a areia necessária para a construção de um edifício tenha sido transportada em 10 caminhões com capacidade individual de 3 m³. Se forem usados caminhões com capacidade individual de 2 m³, então serão necessários no mínimo 16 caminhões para se fazer o mesmo serviço.
- Se um carro consumiu 50 litros de gasolina para percorrer 500 km, então, supondo condições equivalentes, esse mesmo carro consumirá menos de 65 litros de gasolina para percorrer 700 km.
- Considere que, na construção de uma casa, 12 pedreiros trabalharam 6 horas por dia e entraram com uma reclamação trabalhista para que fosse pago o total de horas que cada pedreiro trabalhou. Se 9 pedreiros, trabalhando, nas mesmas condições, 5 horas por dia, levarem 8 dias para construir a casa, então cada pedreiro terá trabalhado um total de 30 horas.
- Se um trabalhador ganha R\$ 800,00 líquidos por mês, gasta 25% de seu salário em alimentação, 30% em aluguel, 25% em outras despesas e aplica o restante em uma caderneta de poupança, então o valor aplicado mensalmente é maior que R\$ 150,00.

QUESTÃO 18

João dispõe de R\$ 10.000,00 para aplicar durante três meses. Consultando determinado banco, recebeu as seguintes propostas de investimento:

- I 2% de juros simples ao mês;
- II 1% de juros compostos ao mês;
- III resgate de R\$ 10.300,00 no final de um período de três meses.

Com relação à situação hipotética apresentada acima e considerando que, uma vez aplicado o dinheiro, não seja feita retirada alguma antes de três meses, julgue os seguintes itens.

- Se João optar pela proposta I, ele terá, no final do primeiro mês, R\$ 10.200,00.
- Se João optar pela proposta I, ele terá, no final do segundo mês, mais de R\$ 10.350,00.
- Se João optar pela proposta II, ele terá, no final do segundo mês, mais de R\$ 10.200,00.
- Se João optar pela proposta III, ele terá aplicado seu dinheiro a uma taxa de juros igual a 3% ao trimestre.
- Para João, a proposta financeiramente menos favorável é a III.

QUESTÃO 19

Julgue os itens que se seguem.

- Se a soma de três números ímpares consecutivos é 51, então a soma dos dois números pares que estão entre esses ímpares é maior que 36.
- Considere que certo número seja formado por 3 algarismos cuja soma é 13. Se o algarismo das dezenas é o dobro do algarismo das centenas e este é igual a quatro vezes o das unidades, então esse número é maior que 500.
- Se Antônio e Pedro analisaram juntos 225 processos e Pedro analisou 25% a mais de processos que Antônio, então Antônio analisou 100 processos.
- Se Carlos gasta um terço do seu salário com aluguel e a metade com alimentação e ainda lhe sobram R\$ 80,00, então o salário de Carlos é maior que R\$ 450,00.
- A solução da equação $\frac{x-1}{2} + \frac{x-3}{3} = 6$ é um número natural.

QUESTÃO 20

Julgue os itens a seguir.

- Considere que, em um grupo de galinhas e porcos, existam 60 cabeças e 150 pés. Então, o número de galinhas é o triplo do de porcos.
- Se a soma de dois números é igual a 60 e a diferença é igual a 6, então esses números são ambos ímpares.
- O número 6 pertence ao conjunto-solução da inequação $x + 1 + \frac{x-1}{2} \leq x + 3$.
- Considere que um número natural maior que 9 satisfaça às quatro condições abaixo:
 - i) pertence ao conjunto-solução da inequação $\frac{x-2}{3} - 1 < 10$;
 - ii) é um número par;
 - iii) é divisível por 3;
 - iv) a soma de seus algarismos é 6.
 Então, o produto dos algarismos desse número é igual a 8.
- Considerando que um professor tenha aplicado uma prova com 40 questões, cada uma valendo 0,25 ponto, e tenha estabelecido uma regra segundo a qual cada 3 questões erradas ou deixadas em branco anulam uma certa, então, se um aluno tirou nota 6,0, ele acertou mais de 30 questões.

RASCUNHO

QUESTÃO 21

Julgue os itens seguintes.

- ❶ Considere que uma pessoa toma 3 tipos de remédios regularmente, sendo o primeiro remédio de 6 horas em 6 horas, o segundo, de 4 horas em 4 horas, e o terceiro, de 3 horas em 3 horas. Se ela tomou os 3 remédios juntos hoje às 7 horas da manhã, então a próxima vez que ela tomará novamente os três remédios juntos será amanhã.
- ❷ Considere que, em uma pista circular, dois ciclistas partam juntos e que um deles faça cada volta em 6 minutos e o outro, em 8 minutos. Então, o tempo decorrido, em minutos, para que o ciclista mais veloz fique exatamente uma volta na frente do outro é o mínimo múltiplo comum dos números 6 e 8.
- ❸ Se o máximo divisor comum de dois números é 7, então, se cada um dos números for multiplicado por $2^2 \times 5$, o máximo divisor comum dos números obtidos será 70.
- ❹ Se o máximo divisor comum de três números é 24, então, se cada um dos números for dividido por $2^2 \times 3$, então o máximo divisor comum dos números obtidos será 2.
- ❺ O menor número de lápis que permite que sejam distribuídos, tanto para um grupo de 4 quanto para um de 6 pessoas, em cada caso, a mesma quantidade de lápis entre os indivíduos do grupo, é o máximo divisor comum dos números 4 e 6.

Texto CGE – questões 22 e 23

Em 2002, as exportações de alumínio e seus produtos devem ser de 830 mil toneladas, apresentando um crescimento de 14% sobre as exportações de 2001. As exportações de produtos semimanufaturados deve, em 2002, ter um crescimento de 7% sobre o valor obtido em 2001, que foi de 141 mil toneladas.

Já para as importações de alumínio e seus produtos, em 2002, a previsão é de queda de 10% com relação a 2001, que totalizaram 130 mil toneladas.

Agência Folha (com adaptações).

QUESTÃO 22

Com base nas informações do texto CGE, julgue os itens que se seguem, relativos às exportações e importações de alumínio e seus produtos.

- ❶ De 2001 para 2002, as exportações devem aumentar mais de 83 mil toneladas.
- ❷ De 2001 para 2002, as exportações de produtos semimanufaturados devem aumentar menos de 8 mil toneladas.
- ❸ Em toneladas, as importações em 2002 podem ser obtidas multiplicando-se as importações em 2001 por 1,1.
- ❹ O quociente $\frac{\text{exportações}}{\text{importações}}$ em 2002 deverá ser menor que o registrado em 2001.
- ❺ Em 2002, a previsão para as importações é inferior a 118 mil toneladas.

QUESTÃO 23

Ainda com base no texto CGE, julgue os itens abaixo, relativos às exportações e importações de alumínio e seus produtos.

- ❶ A diferença entre a previsão de exportações para 2002 e as exportações de 2001 é superior a 50 mil toneladas.
- ❷ Em 2002, prevê-se que serão exportadas menos de 145 mil toneladas de produtos semimanufaturados.
- ❸ Em toneladas, as exportações em 2001 são inferiores à previsão de importações para 2002.
- ❹ Em toneladas, a previsão de importações para 2002 é inferior a 15% da previsão de exportações para 2002.
- ❺ Se, para 2003, as exportações crescerem 14% com relação a 2002, então as exportações terão crescido, de 2001 para 2003, exatamente 28%.

RASCUNHO**QUESTÃO 24**

A noção de higiene não esteve presente na humanidade desde o início. Somente nos séculos XIX e XX, com a descoberta de que certos microrganismos causam doenças, a higiene tornou-se fundamental para a manutenção da saúde. Acerca desse assunto, julgue os itens que se seguem.

- ❶ O banho diário não é recomendado pelos médicos, pois a água retira a oleosidade da pele.
- ❷ A falta de higiene individual atinge apenas a própria pessoa; não irá atingir a sociedade.
- ❸ A falta de higiene bucal tem como única consequência o aparecimento de cáries.
- ❹ A coleta de lixo e o tratamento dos esgotos e da água são de grande importância para os hábitos de higiene de uma sociedade.
- ❺ Os hábitos de higiene individual ou coletiva visam à preservação da saúde e à prevenção de doenças.

QUESTÃO 25

As fases que compõem o ciclo documental, também denominadas idades, incluem a fase

- ❶ média ou mediana.
- ❷ corrente.
- ❸ primária e a fase secundária.
- ❹ intermediária.
- ❺ permanente.

QUESTÃO 26

As atividades que envolvem os documentos da instituição pelas quais o setor de protocolo é responsável incluem o(a)

- ❶ recolhimento.
- ❷ registro.
- ❸ recebimento.
- ❹ empréstimo.
- ❺ movimentação.

QUESTÃO 27

O instrumento denominado **tabela de temporalidade**, cuja finalidade é indicar o prazo de guarda e a destinação dos documentos, será aplicado aos documentos da instituição mediante a aprovação pelo(a)

- ❶ autoridade competente.
- ❷ diretor da instituição.
- ❸ Arquivo Nacional.
- ❹ chefe do arquivo.
- ❺ comissão de análise de documentos.

QUESTÃO 28

Julgue os itens abaixo, relativos aos procedimentos adotados durante o trâmite e a finalização dos processos.

- ❶ Logo após o trâmite, o processo deverá ser eliminado.
- ❷ O interessado pode fazer o acompanhamento do processo.
- ❸ O processo será encaminhado ao arquivo geral somente após finalizado o seu trâmite.
- ❹ O processo poderá circular somente no âmbito de duas gerências.
- ❺ Todo processo deve ser anexado a outro de igual teor.

QUESTÃO 29

Acerca da abertura de processo nas instituições, julgue os itens a seguir.

- ❶ Todo processo deve ser numerado.
- ❷ Na capa do processo, serão registradas informações como o nome do interessado e o assunto, entre outras.
- ❸ Os documentos inseridos no processo devem ser obrigatoriamente originais, não sendo aceitas cópias.
- ❹ Nos anexos do processo, devem ser registrados o número e a paginação.
- ❺ Na data de registro do processo, é recomendável a indicação apenas do ano de produção.

QUESTÃO 30

No que se refere aos deveres e direitos dos cidadãos com relação aos problemas enfrentados pelo Brasil, julgue os itens abaixo.

- ❶ A saúde é um direito de todos e uma obrigação do Estado.
- ❷ Os problemas advindos de doenças dizem respeito apenas aos médicos e aos agentes de saúde.
- ❸ O progresso de um país não depende apenas de seus governantes; está também relacionado à conscientização, à participação e à educação de seus cidadãos.
- ❹ Pela Constituição da República, homens e mulheres são iguais em direitos e obrigações.
- ❺ O racismo não é considerado crime no Brasil.