



## NÍVEL MÉDIO

## CARGO 3: TÉCNICO EM FISCALIZAÇÃO

# CADERNO D

## TARDE



### LEIA COM ATENÇÃO AS INSTRUÇÕES ABAIXO.

- 1 Ao receber este caderno, confira atentamente se o tipo de caderno — Caderno D — coincide com o que está registrado em sua folha de respostas. Em seguida, verifique se ele contém cento e vinte itens, correspondentes às provas objetivas, corretamente ordenados de 1 a 120.
- 2 Caso o caderno esteja incompleto ou tenha qualquer defeito, solicite ao fiscal de sala mais próximo que tome as providências cabíveis.
- 3 Recomenda-se não marcar ao acaso: em cada item, se a resposta divergir do gabarito oficial definitivo, o candidato receberá pontuação negativa, conforme consta em edital.
- 4 Não utilize lápis, lapiseira, borracha e(ou) qualquer material de consulta que não seja fornecido pelo CESPE/UnB.
- 5 Não se comunique com outros candidatos nem se levante sem autorização do chefe de sala.
- 6 A duração das provas é de **três horas e trinta minutos**, já incluído o tempo destinado à identificação — que será feita no decorrer das provas — e ao preenchimento da folha de respostas.
- 7 Você deverá permanecer obrigatoriamente em sala por, no mínimo, uma hora após o início das provas.
- 8 Ao terminar as provas, chame o fiscal de sala mais próximo, devolva-lhe a sua folha de respostas e deixe o local de provas.
- 9 A desobediência a qualquer uma das determinações constantes no presente caderno ou na folha de respostas poderá implicar a anulação das suas provas.

#### AGENDA

- I **30/5/2006**, após as 19 h (horário de Brasília) – Gabaritos oficiais preliminares das provas objetivas: Internet — [www.cespe.unb.br/concursos/preflimeira2006](http://www.cespe.unb.br/concursos/preflimeira2006).
- II **31/5/2006** e **1.º/6/2006** – Recursos (provas objetivas): exclusivamente no Sistema Eletrônico de Interposição de Recurso, Internet — [www.cespe.unb.br/concursos/preflimeira2006](http://www.cespe.unb.br/concursos/preflimeira2006), mediante instruções e formulários que estarão disponíveis nesse endereço.
- III **19/6/2006** – Resultados finais das provas objetivas e do concurso: Jornal Oficial do Município de Limeira e Internet — [www.cespe.unb.br/concursos/preflimeira2006](http://www.cespe.unb.br/concursos/preflimeira2006).

#### OBSERVAÇÕES

- Não serão objeto de conhecimento recursos em desacordo com o item 12 do Edital n.º 1/2006 – PREFEITURA MUNICIPAL DE LIMEIRA, de 13/4/2006.
- Informações adicionais: telefone 0(XX) 61 3448-0100; Internet — [www.cespe.unb.br/concursos/preflimeira2006](http://www.cespe.unb.br/concursos/preflimeira2006).
- É permitida a reprodução deste material apenas para fins didáticos, desde que citada a fonte.

- De acordo com o comando a que cada um dos itens de **1 a 120** se refira, marque, na **folha de respostas**, para cada item: o campo designado com o código **C**, caso julgue o item **CERTO**; ou o campo designado com o código **E**, caso julgue o item **ERRADO**. A ausência de marcação ou a marcação de ambos os campos não serão apenadas, ou seja, não receberão pontuação negativa. Para as devidas marcações, use a **folha de respostas**, único documento válido para a correção das suas provas.
- A menos que seja explicitamente informado o contrário, considere que todos os programas mencionados estão em configuração-padrão, em português, que o *mouse* está configurado para pessoas destros e que expressões como clicar, clique simples e clique duplo referem-se a cliques com o botão esquerdo do *mouse*. Considere também que não há restrições de proteção, de funcionamento e de uso em relação aos programas, arquivos, diretórios e equipamentos mencionados.

## CONHECIMENTOS BÁSICOS

1 Assim funciona a lógica da maioria das peças publicitárias: ou você tem ou você não é, ou seja, é preciso ter aquele produto ou serviço para ser algo ou alguém —  
4 rico, feliz, magro, bonito, bem-sucedido, poderoso, saudável etc. As peças publicitárias nos oferecem a solução para todos os problemas: consumir. O ingrediente básico da mensagem  
7 publicitária é a sedução, que nos faz sentir falta ou desejar algo que, possivelmente, não iríamos comprar.

Lisa Gunn. *In*: André Trigueiro. **Mundo sustentável**. São Paulo: Globo, 2005, p. 41.

Com base no texto acima, julgue os itens que se seguem.

- 1 A substituição do termo “Assim” (ℓ.1) pela expressão **Da seguinte maneira** prejudica gramaticalmente o período.
- 2 Pelos sentidos do texto, a expressão “peças publicitárias” (ℓ.1-2) pode ser compreendida como **mensagens publicitárias**.
- 3 Na linha 4, o emprego de vírgulas após “rico”, “feliz”, “magro”, “bonito”, “bem-sucedido”, “poderoso” justifica-se por isolar elementos de mesma função gramatical componentes de uma enumeração.
- 4 Nas linhas 2 e 3, o verbo **ter** concorda com o mesmo sujeito.
- 5 A vírgula após “sedução” (ℓ.7) justifica-se por isolar oração adjetiva restritiva.

1 A pergunta fundamental que precisamos fazer em cada ato de compra é: precisamos realmente desse produto ou serviço? É necessário reagir ao consumo desenfreado a  
4 que as peças publicitárias querem nos induzir. Além de nos habituar a ler rótulos, etiquetas e embalagens, temos de prestar atenção não apenas no preço e na qualidade, mas  
7 também questionar quem produziu, onde produziu, como foi a produção — quais são os impactos sociais e ambientais associados à produção e ao consumo.

10 Precisamos desenvolver nossa capacidade de avaliar criticamente a publicidade para evitar a manipulação da nossa liberdade de escolha. É necessário desenvolver nosso  
13 olhar para ver o que está por trás dos produtos e serviços que consumimos. A partir daí, é preciso deixar de consumir, quando possível — e, quando não, exercer o nosso poder de  
16 compra para escolher produtos e serviços de empresas que minimizem os impactos negativos.

*Idem*, p. 42.

Em relação ao texto acima, julgue os próximos itens.

- 6 O emprego de preposição em “a que” (ℓ.3-4) justifica-se pela regência de “consumo” (ℓ.3).
- 7 O emprego de vírgula após “rótulos” (ℓ.5) justifica-se para isolar aposto explicativo.

- 8 O sinal de travessão após “produção” (ℓ.8) pode, sem prejuízo para a correção gramatical e para a informação original do período, ser substituído pela expressão **ou seja** entre vírgulas.
- 9 No texto, defende-se que a manipulação da liberdade de escolha da sociedade pode ser evitada pelo desenvolvimento da capacidade de avaliar criticamente a publicidade.
- 10 A expressão “A partir daí” (ℓ.14) retoma a idéia antecedente de desenvolver o olhar e a capacidade de avaliar criticamente a publicidade.

1 Estima-se que existam hoje 500 mil catadores de lixo no Brasil. Invariavelmente, são pessoas com idade acima dos 30 anos, baixa escolaridade e muitas dificuldades de  
4 encontrar vagas no mercado de trabalho formal. Esses são os verdadeiros excluídos. Estimular a coleta seletiva de lixo significa abrir novas frentes de trabalho para esse segmento  
7 da população. Segundo estudo do deputado Fernando Gabeira, um programa amplo de governo que estimulasse a reciclagem de lixo no Brasil poderia gerar pelo menos um  
10 milhão de empregos diretos. Outro benefício importante da coleta seletiva é reduzir a quantidade diária de lixo que segue para os aterros.

*Idem*, p. 45.

Com base no texto acima, julgue os itens que se seguem.

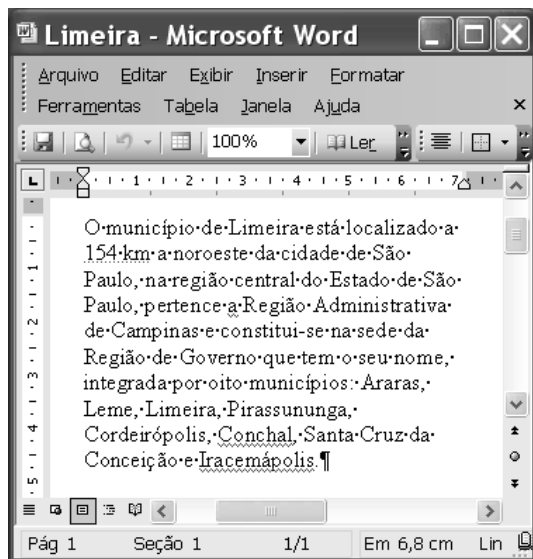
- 11 Em “Estima-se” (ℓ.1), o emprego do “se” tem valor reflexivo.
- 12 Há prejuízo da informação e da correção gramatical do texto ao se inserir a expressão **esses trabalhadores** antes da forma verbal “são” (ℓ.2).
- 13 O pressuposto da expressão “Esses são os verdadeiros excluídos” (ℓ.4-5) é que existem outras formas de exclusão menos degradantes.
- 14 A expressão “esse segmento da população” (ℓ.6-7) retoma a idéia representada pelo antecedente “catadores de lixo” (ℓ.1-2).
- 15 O emprego do futuro do pretérito em “poderia” (ℓ.9) é uma exigência da correlação dos tempos e modos verbais com o emprego do pretérito imperfeito do subjuntivo em “estimulasse” (ℓ.8).

1 A *plasticomania* vem tomando conta do planeta desde que o inglês Alexander Parkes inventou o primeiro plástico, em 1862. O novo material sintético reduziu os custos dos comerciantes e incrementou a sanha consumista da civilização moderna. Mas os estragos causados pelo derrame indiscriminado de plásticos na natureza tornaram o consumidor um colaborador passivo de um desastre ambiental de grandes proporções. Feitos de resina sintética originada do petróleo, os sacos de plástico não são biodegradáveis e levam séculos para se decompor na natureza.

*Idem*, p. 48 (com adaptações).

Com base no texto acima, julgue os itens a seguir.

- 16 A substituição de “desde que” (l.2) por **desde quando** prejudica a correção gramatical do período.
- 17 As expressões “os custos” (l.3-4) e “a sanha” (l.4) têm funções sintáticas diferentes.
- 18 As palavras “plástico (l.3), “sintético” (l.3), “séculos” (l.10) recebem acento gráfico com base na mesma regra gramatical.
- 19 De acordo com o texto, o consumidor é um agente neutralizador do grande desastre ambiental causado pelo derrame indiscriminado de plásticos na natureza.
- 20 Infer-se das informações do texto que os sacos plásticos podem ser facilmente destruídos desde que seja utilizado um agente biológico.

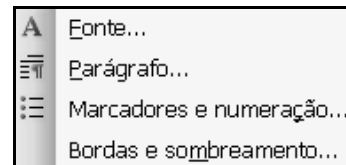


Julgue os itens subsequentes, considerando a figura acima, que ilustra uma janela do Word 2003 contendo um documento em processo de edição.

- 21 Na situação em que se encontra a janela, é correto inferir que o verificador de erros de grafia e gramática do Word está ativo e que, caso se clique **Ler**, serão mostradas as ocorrências desses erros com suas respectivas sugestões de solução.
- 22 Por meio do botão **Tabela** ou de opção encontrada no **menu Tabela**, é possível inserir uma tabela no documento em edição, enquanto que, caso se deseje inserir uma planilha Excel, é possível fazê-lo usando-se recursos encontrados no **menu Inserir**.

23 Sabendo-se que o ponto de inserção está posicionado na última linha mostrada do documento, então, para centralizar apenas essa linha, é suficiente clicar **¶**; por outro lado, caso se deseje centralizar todas as linhas mostradas, é necessário, antes de clicar o referido botão, selecionar todo o texto, o que pode ser feito por meio do procedimento a seguir: pressionar e manter pressionada a tecla **Ctrl**; teclar **Y**; liberar a tecla **Ctrl**.

24 A figura a seguir apresenta parte das opções disponibilizadas no **menu Formatar**. Nessa lista, recursos disponibilizados ao se clicar **¶** **Marcadores e numeração...** permitem personalizar o estilo de lista numerada a ser usada no documento.








Considerando a figura acima, que ilustra uma janela do Excel 2003 contendo uma planilha em processo de elaboração, julgue os itens seguintes.

- 25 Na situação em que se encontra a planilha mostrada, é correto inferir que as células de A3 a A7 podem ter sido preenchidas usando-se recurso de auto preenchimento de células disponibilizado pelo Excel.
- 26 Sabendo-se que o ponto de inserção está posicionado no campo **SOMA(B2:B7)**, então, caso se tecla **Enter**, a célula B8 será preenchida com o número 183.
- 27 No **menu Ferramentas**, existe opção que permite verificar a ocorrência de erros na planilha em elaboração. Por meio dessa opção, seria possível verificar que a quantidade de dias do mês de fevereiro está incorreta.



A figura acima mostra uma janela do Internet Explorer 6, em que está sendo exibida uma página da Web. Com relação a essa janela e à Internet, julgue os itens subseqüentes.

- 28 Ao se clicar o botão , será exibida a hora em que foi realizada a última atualização da página <http://www.limeira.sp.gov.br/>.
- 29 O botão  permite acessar a página definida no Internet Explorer como página inicial, que é a primeira página que deve ser exibida quando o Internet Explorer é iniciado.
- 30 O botão  permite atualizar a página em exibição, de forma que a versão mais recente da página da Web atual seja exibida.
- 31 Por meio do botão , é possível fazer que o navegador volte a exibir a página da Web que havia sido exibida antes da página que está sendo visualizada na janela.
- 32 Para enviar uma mensagem de correio eletrônico que contenha a página atual como corpo da mensagem, é suficiente clicar o botão , digitar o endereço de correio eletrônico e clicar OK. Um exemplo de endereço eletrônico com estrutura correta para um usuário denominado destinatario, que usa o *e-mail* de uma companhia denominada empresa, é [destinatario.empresa.com@www](mailto:destinatario.empresa.com@www).

Com relação a cópia de segurança, julgue os itens seguintes.

- 33 A mídia denominada *compact disc* permite realizar cópia de segurança em um tipo de memória não-volátil também chamada memória RAM.
- 34 Arquivos armazenados em disquetes de 3½" não podem ser apagados, pois essa mídia não permite regravação.
- 35 O termo 80 GB refere-se a capacidade de armazenamento de informação possível de ser encontrada em computadores PC atuais. Essa capacidade, em geral, é acessada por meio de dispositivos denominados discos rígidos.

Para a fiscalização sanitária dos restaurantes de certo município, a prefeitura designou uma equipe de sanitaristas. Em determinado dia, pela manhã, durante 4 horas, 8 desses sanitaristas vistoriam 64% dos restaurantes. Supondo que cada um dos membros da equipe de sanitaristas vistoria cada restaurante em um mesmo tempo, e que o trabalho foi finalizado no final da tarde desse dia, julgue os itens a seguir.

- 36 Se apenas 4 dos sanitaristas fizeram vistorias dos restaurantes no período da tarde, o trabalho foi completado em 4 horas e 30 minutos.
- 37 Considere que, em função do atendimento aos clientes, a vistoria dos restaurantes remanescentes no período da tarde deveria ser feita em 3 horas. Nesse caso, seriam necessários 6 dos sanitaristas para completar a fiscalização.

Em um pequeno município, os números que representam as quantidades de açougues, padarias e bares são diretamente proporcionais a 2, 3 e 5. Julgue os itens seguintes a respeito desses estabelecimentos comerciais.

- 38 A quantidade de açougues acrescida à de padarias pode ser superior ao dobro da quantidade de bares.
- 39 A quantidade de açougues é igual a um quarto da quantidade de bares e padarias.
- 40 Nesse município, a quantidade padarias é superior ao dobro da quantidade de açougues.

Em um município, as dívidas de 5 escolas e de 12 profissionais liberais junto à prefeitura somam R\$ 300.000,00. A soma da média aritmética das dívidas das escolas com a média aritmética das dívidas dos profissionais liberais é igual a R\$ 53.000,00. Com relação a essas dívidas, julgue os itens subseqüentes.

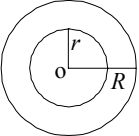
- 41 A dívida média dos profissionais liberais é inferior a R\$ 4.000,00.
- 42 A dívida total das escolas é superior a R\$ 235.000,00.

RASCUNHO

Considere que, em uma pequena indústria, a produção e venda de  $100x$  unidades de determinado produto gera um lucro, em R\$, que pode ser expresso pela função  $f(x) = -800(x^2 - 8x + 7)$ , em que  $0 \leq x \leq 6$ . Nessa situação, julgue os itens a seguir.

- 43** Para que o lucro seja igual ou superior a R\$ 4.000,00, a indústria deve produzir e vender de 200 a 600 unidades desse produto.
- 44** O lucro máximo dessa indústria será atingido quando ela produzir e vender 500 unidades desse produto.

Julgue os itens seguintes.

- 45** Considere que um capital de  $C$  reais seja aplicado à taxa de juros compostos de 10% ao mês. Considere, ainda, que  $M_1, M_2, \dots, M_n$  sejam os montantes, em reais, obtidos ao final do 1.º mês, do 2.º mês, ..., do  $n$ -ésimo mês, respectivamente. Nessa situação, os valores  $C, M_1, M_2, \dots, M_n$  formam, nessa ordem, uma progressão geométrica de razão 1,1.
- 46** Se um reservatório tem a forma de um cubo em que a medida das arestas internas é igual a 5 m, então a sua capacidade máxima é de 125.000 litros.
- 47** Considere que a área do perímetro urbano de um município, representada pela região interna do círculo de raio  $r$  na figura ao lado, seja igual a  $100\pi \text{ km}^2$ . Concêntrico a este círculo, considere um outro círculo, de raio  $R$ , em que  $r < R$ , de modo que a região entre esses círculos, que representa a região de expansão do perímetro urbano do município, tenha área igual a  $21\pi \text{ km}^2$ . Nessa situação, é correto afirmar que a diferença  $R - r = 10.000 \text{ m}$ .
- 
- 48** Considere que Carlos, Maria e Antônio sejam indicados para ocupar um posto em uma empresa, que somente um dos três será contratado, que a probabilidade de Maria ser contratada é igual a duas vezes a probabilidade de Carlos ser contratado e que a probabilidade de Antônio ser contratado é igual a duas vezes a probabilidade de Maria ser contratada. Nesse caso, a probabilidade de Carlos ser contratado é igual a  $\frac{1}{5}$ .

| tipo de acidente | quantidade | custo unitário (R\$) | custo total (R\$) |
|------------------|------------|----------------------|-------------------|
| sem vítimas      | 2.533      | 3.525                | 8.928.825         |
| vítimas leves    | *          | *                    | 15.075.000        |
| vítimas graves   | 122        | 44.075               | 5.377.150         |
| vítimas fatais   | 12         | *                    | *                 |
| total            |            |                      | 33.610.975        |

A tabela acima apresenta os números de acidentes de trânsito em determinado município, no período de 1/1/2005 a 31/12/2005, e os custos provenientes desses acidentes, com hospitalizações, seguros, despesas materiais, perdas de capacidade produtiva etc. Alguns dados foram omitidos devido a falha no sistema de impressão da tabela.

Com base nessa tabela, julgue os itens seguintes.

- 49** Considere que, em média, nesse município, no período considerado, aconteceram 150 acidentes com vítimas leves, por mês. Nesse caso, o custo unitário de cada acidente com vítima leve foi, em média, superior a R\$ 10.000,00.
- 50** Um acidente com vítima fatal custou o equivalente a 100 vezes o custo de um acidente sem vítimas.

## CONHECIMENTOS ESPECÍFICOS

Considere que Flávio, com 22 anos de idade, e Maria, com 32 anos de idade, são brasileiros natos e alfabetizados e que Adalberto, também brasileiro, com 19 anos de idade, é analfabeto, e, em 2006, alistou-se como eleitor. Considere, ainda, que Peter, com 35 anos de idade, alfabetizado, é inglês e reside no Brasil há 15 anos. Em face dessa situação hipotética, sabendo que 2006 é ano eleitoral e que Flávio, Maria, Adalberto e Peter têm vontade de votar e de serem votados, julgue os seguintes itens à luz dos requisitos de elegibilidade e de alistamento eleitoral presentes na Constituição Federal.

- 51 Peter preenche todos os requisitos para ser candidato a deputado federal.
- 52 Adalberto poderá votar, mas não poderá ser candidato a nenhum cargo eletivo nas eleições de 2006, pois a Constituição Federal define como inelegível o analfabeto.
- 53 Maria tem idade para ser candidata a presidente da República.
- 54 Flávio não poderá ser candidato a governador de estado, porque ainda não completou 30 anos de idade.

Considere que Mariano e Carmem são espanhóis e se encontram de férias no Brasil e que Ricardo e Márcia são brasileiros e moram em Madri, na Espanha. Ricardo trabalha, para o Brasil, na embaixada brasileira naquele país. As mulheres desses dois casais deram à luz no mesmo dia. Carmem teve um menino, Ramon, em hospital público do Rio de Janeiro. Márcia teve uma menina, Lúcia, em sua casa, em Madri. Com base nessa situação hipotética e nas regras estabelecidas pela Constituição Federal acerca da nacionalidade, julgue os seguintes itens.

- 55 Ramon, por ter nascido no Brasil e ser filho de espanhóis, é brasileiro naturalizado.
- 56 Lúcia, apesar de não ter nascido no Brasil, é brasileira nata.

Hely Lopes Meirelles define o poder hierárquico como sendo aquele de que dispõe o Poder Executivo para distribuir e escalonar as funções de seus órgãos e ordenar e rever a atuação de seus agentes, estabelecendo a relação de subordinação entre os servidores do seu quadro de pessoal. Do poder hierárquico, decorrem faculdades implícitas para o superior, tais como: dar ordens e fiscalizar o seu cumprimento, delegar, avocar e rever atos inferiores. A respeito desse poder administrativo, julgue os itens a seguir.

- 57 Avocar é chamar para si funções originariamente atribuídas a um subordinado.
- 58 Delegar é conferir a outrem atribuições que originariamente competiam ao delegante.

O Código Civil brasileiro define que são públicos os bens do domínio nacional pertencentes às pessoas jurídicas de direito público interno, considerando todos os outros particulares, independentemente da pessoa a que pertencerem. O mesmo código classifica os bens públicos em: de uso comum do povo, de uso especial e dominicais. Acerca dos bens públicos, julgue os itens abaixo.

- 59 As praças e as ruas são classificados como bens públicos dominicais.
- 60 A sede do Ministério da Fazenda é um bem público classificado como de uso comum do povo.

A respeito dos contratos administrativos, julgue os itens a seguir.

- 61 A administração pública não pode, sob pena de nulidade, celebrar contrato com preterição da ordem de classificação das propostas ou com terceiros estranhos a procedimento licitatório.
- 62 No contrato administrativo, não há necessidade de cláusula que estabeleça o preço e as condições de pagamento.

Julgue os itens que seguem, acerca da lei de introdução ao código civil e sobre as normas que regem o direito civil pátrio.

- 63 Considere-se que determinada lei estadual, que dispõe sobre o valor de taxas a ser cobrado por alguns serviços públicos, tenha sido publicada no dia 2 de maio de 2006. Nesse caso, se a referida lei não dispuser de modo contrário, ela entrará em vigor no dia 16 de junho de 2006.
- 64 Suponha-se que Ivan tenha adquirido, por doação, um apartamento de seu irmão. Nesse caso, o direito de propriedade de Ivan sobre o apartamento constitui um bem imóvel.
- 65 O prédio destinado à câmara de vereadores de determinado município é considerado bem público de uso comum do povo.
- 66 Considere-se que Ana tenha herdado expressivo patrimônio constituído por bens móveis, imóveis e ações de determinada sociedade anônima, cujo capital social é de mais de cinco milhões de reais. Assim que Ana decidiu casar-se com Paulo, sua família a instruiu a firmar pacto antenupcial, para resguardar o patrimônio adquirido por herança. Nesse caso, o pacto antenupcial a ser firmado entre Ana e Paulo, para ter validade, deverá ser celebrado por escritura pública.
- 67 Considere que Cíntia, aos 28 anos de idade, desconfiou que não era filha de seus pais e, ao investigar sua história, obteve de sua mãe a confissão de que ela havia sido abandonada por seus genitores. Soube também, nessa mesma ocasião, que sua mãe biológica havia falecido e que seu verdadeiro pai seria Silveira, homem muito rico, influente e casado, o qual, por essas razões, não teria registrado Cíntia, filha advinda de relacionamento extraconjugal. Nessa situação, Cíntia não poderá ajuizar ação de investigação de paternidade contra Silveira, visto que o prazo para o ajuizamento da referida ação prescreveu quando a mesma completou a maioridade civil.
- 68 Considere-se que Leonel tenha sido designado para exercer a função de leiloeiro em leilão para venda de bens apreendidos pela autoridade fazendária de determinado estado. Nessa situação, caso Leonel se interesse por qualquer dos bens, ele poderá adquiri-lo para si, desde que não pague preço vil.
- 69 Considere que Adão, em perfeita integridade de suas faculdades mentais, decidiu doar para Davi, um de seus sobrinhos prediletos, todo o seu patrimônio, constituído de bens imóveis e aplicações financeiras, sem reservar quantia necessária à sua própria sobrevivência. Nessa situação, considera-se nula a doação levada a efeito por Adão.
- 70 Considere que José, ao passar período de férias em determinada capital nordestina, decidiu alugar veículo para trafegar pelas praias da cidade. Ao fazer um passeio, atropelou Carina, causando-lhe danos materiais e morais. Nessa situação, a empresa que locou o veículo para José não terá qualquer responsabilidade pela reparação dos danos causados a Carina.

Com fundamento nos conceitos e na legislação contábeis, julgue os itens a seguir.

- 71** Os administradores de uma entidade se revestem tanto da condição de usuários externos como internos das informações contábeis: sendo sócios ou acionistas, constituem-se em usuários internos; como profissionais sem participação no capital, como usuários externos.
- 72** Bens imateriais, intangíveis ou incorpóreos também integram o patrimônio das entidades, pois, para elas, têm valor econômico e reconhecimento da ordem jurídica.
- 73** Quando houver patrimônio líquido negativo, e ele estiver representado junto com o ativo, do lado esquerdo do balanço, lançamentos a crédito reduzirão o montante do passivo a descoberto.
- 74** As contas do passivo são dispostas em ordem crescente dos prazos de vencimento, fixados ou estimados. As obrigações com prazo de exigibilidade vencido serão classificadas no circulante.
- 75** Suponha a existência dos saldos abaixo, à data de encerramento de certo exercício (valores em R\$ 1.000,00).  
Receita líquida de vendas: 480  
Compras: 370  
Mercadorias: 130  
Estoque final: 150  
Despesas administrativas e de vendas: 75  
Receitas financeiras: 15  
Resultado (positivo) de participações societárias: 50  
Participações no resultado: 40  
Nessa situação, seria correto apurar um resultado operacional de R\$ 70.000,00.

A propósito dos tipos de sociedades, julgue os itens a seguir.

- 76** Nas sociedades limitadas, o contrato pode permitir a designação de administradores que não sejam sócios, sendo, nesses casos, obrigatória a aprovação unânime dos sócios.
- 77** As companhias de que as sociedades de economia mista participarem, minoritária ou mesmo majoritariamente, estarão sujeitas às disposições da Lei das Sociedades por Ações — Lei n.º 6.404/76 —, mas não estarão sujeitas às disposições específicas aplicáveis às próprias sociedades de economia mista.

Com base nos conceitos e na legislação relativa às Finanças Públicas, julgue os itens a seguir.

- 78** Quando se preconiza submeter tanto os rendimentos do trabalho como os do capital à mesma tabela progressiva do Imposto de Renda, o pressuposto teórico é o da equidade vertical. Quando se isentam da tributação os contribuintes de menor renda, o pressuposto é o da equidade horizontal.
- 79** A instituição de novos impostos é prerrogativa da União, mas eles não poderão ser cumulativos.
- 80** O Município pode cobrar o IPTU de imóvel situado em área de expansão urbana, mesmo que os respectivos loteamentos ainda não tenham sido aprovados. Para tanto, basta que a Prefeitura ofereça algum tipo de serviço público, como água ou esgoto ou energia elétrica.
- 81** De acordo com a suposição tradicional, a utilidade marginal da renda decresce à proporção que a renda aumenta, logo, o sacrifício de quem paga diminui quando a renda aumenta. Nessa situação, a tributação progressiva é a mais adequada.

**82** Supondo-se que as empresas consigam transferir inteiramente o imposto de renda devido para os consumidores, o aumento de impostos como medida de política antiinflacionária é inócua.

**83** A elevada relação entre tributos indiretos e diretos, e a tributação proporcionalmente mais elevada dos estratos inferiores de renda são duas características associadas à progressividade potencial da estrutura tributária brasileira.

Com base na Lei de Responsabilidade Fiscal, julgue os itens seguintes.

**84** Considere que um parlamentar apresentou projeto de lei reduzindo a alíquota de um imposto para determinado grupo de contribuintes, respaldando sua proposta com a estimativa de aumento da arrecadação proveniente da expansão da atividade econômica. Nessa situação, a comissão competente poderia, corretamente, julgar legal a iniciativa, por entender que a expansão da atividade econômica amplia a base de cálculo do imposto, seja pelo aumento do número de contribuintes, seja pelo crescimento das variáveis sujeitas à incidência do tributo.

**85** A instituição, previsão e efetiva arrecadação de todos os tributos da competência constitucional do Município é um requisito essencial da responsabilidade na gestão fiscal, exceto para os Municípios com população não superior a 50 mil habitantes que dependam preponderantemente das transferências constitucionais.

Julgue os itens seguintes acerca de competência tributária.

**86** A Constituição Federal instituiu diversas espécies tributárias exercidas pelos estados, municípios e Distrito Federal.

**87** O Imposto sobre Serviço de Qualquer Natureza (ISSQN) é tributo de competência dos municípios, entretanto, sua arrecadação pode ser feita por outra pessoa política ou mesmo particular.

**88** Considere que determinado município deixou de estabelecer o ISSQN visando o desenvolvimento da indústria de prestação de serviço local e, em face do crescimento de tal setor, passados dez anos, instituiu o imposto. Nessa situação, o imposto não pode ser exigido daqueles que ali estavam estabelecidos em virtude da política de incentivo anteriormente adotada.

**89** Tendo verificado profundas divergências entre os municípios em face de inércia de um deles em instituir o ISSQN, o estado poderá fazê-lo, evitando conflitos e harmonizando as relações intermunicipais.

**90** A competência municipal abrange a possibilidade de instituir ISSQN sobre serviços de comunicação.

Acerca da responsabilidade tributária, julgue os próximos itens.

**91** No caso de condomínios, o IPTU pode ser cobrado, pelo município, de qualquer dos condôminos, à sua escolha, por estes serem solidariamente responsáveis.

**92** O instituto da responsabilidade tributária abrange a do tabelião pelo recolhimento do imposto de transmissão *inter vivos*, quando não for providenciada sua cobrança no ato da escritura pública de compra e venda de bens imóveis.

**93** A responsabilidade do sucessor pelos débitos tributários varia conforme o título da sucessão; assim é que o herdeiro responde pelo tributo devido pelo *de cujus* até a data da partilha, limitado ao montante do quinhão, não abrangendo o montante do legado, já que o mesmo poderá ser recusado.

**94** A responsabilidade pode ser atribuída ao tomador do serviço no caso de o prestador não emitir a nota fiscal referente ao serviço prestado.

Determinada indústria instalou-se na região rural do município de Limeira – SP, dedicando-se à transformação de frutos em doce. Com o decorrer dos anos, seus empregados passaram a morar nas imediações, cujo aglomerado de residências assemelhava-se a uma pequena cidade, onde, inclusive, a sociedade comercial mantinha instituição de ensino particular fundamental. O fisco municipal resolveu fazer verificação no recolhimento dos tributos da sociedade, constatando escrituração irregular de livros fiscais e não-recolhimento de ICMS, ISS e ITR, findando por ser lavrado auto de infração para cobrança de tais débitos, impondo multa pelo não recolhimento dos tributos no prazo e pela irregularidade na escrituração dos livros fiscais, previsto na lei local.

Em face dessa situação hipotética, julgue os itens que se seguem.

- 95** A indústria não pode ser autuada por débito do ISS, já que não presta serviços, dedicando-se à transformação de matéria-prima.
- 96** No que diz respeito ao ITR, em face da localização da indústria, esta é sujeito passivo e o município de Limeira é sujeito ativo da obrigação tributária.
- 97** Na situação descrita, a obrigação tributária principal corresponde ao montante do tributo devido e da multa pelo seu não recolhimento, e a obrigação acessória corresponde à escrituração irregular dos livros fiscais.
- 98** A multa estabelecida em decorrência da escrituração irregular dos livros fiscais converte-se em obrigação principal.
- 99** Na situação considerada, constatado vício formal no auto de infração, por não descrever claramente seu objeto, que invalide a constituição do débito tributário, ainda assim a obrigação tributária não será afetada.

Com referência ao ISSQN, julgue os itens a seguir.

- 100** Sendo da essência das sociedades cooperativas a prestação de serviços a seus associados, tais sociedades são contribuintes do ISSQN.
- 101** O ISSQN pressupõe a prestação de serviços, respeitadas as imunidades tributárias, podendo a pessoa física ser sujeito passivo do referido tributo.
- 102** O ISSQN admite sujeição passiva indireta.
- 103** Considere que uma sociedade comercial que tem por fim a fotografia, com sede no município de São Paulo – SP, foi contratada pela prefeitura de Limeira – SP, para fotografar, no município de Belo Horizonte – MG, celebração de contrato mercantil entre Limeira e a Arábia Saudita. Nessa situação, a competência para cobrar o tributo é do município de São Paulo.
- 104** A exploração de rodovia mediante cobrança de preço ao usuário, envolvendo conservação, manutenção e melhoramento, pode ser objeto de tributação do ISSQN, competindo ao município a parcela respectiva da estrada explorada em seu território.
- 105** As alíquotas do ISSQN são instituídas por cada município, respeitadas as mínimas e máximas estabelecidas por lei complementar.

Julgue os itens que se seguem.

- 106** A instituição tributária por lei ordinária anterior à Constituição Federal de 1988 foi recepcionada, ainda que a nova ordem exija lei complementar.
- 107** No que se refere à matéria tributária, a Constituição adotou as competências institucionais privativa e residuais.
- 108** A União pode criar dois impostos com mesmo fato gerador e base de cálculo, mesmo que estes coincidam com os de imposto já existente.
- 109** O IPTU deverá ser destinado à melhoria das condições para utilização dos imóveis urbanos.
- 110** O município poderá cobrar taxas quando o fato gerador tiver ocorrência relacionada com a utilização, provocação ou disposição de suas atividades.
- 111** O custo da pavimentação de via pública realizada pelo Estado pode ser rateado entre os proprietários de imóveis beneficiados por meio de contribuição de melhoria, que será instituída pelo município.
- 112** A União poderá editar lei complementar para instituir empréstimo compulsório para fazer face a investimento público urgente de relevante interesse nacional, estando vinculado, o produto de arrecadação, à despesa que fundamentou sua edição.

A respeito da limitação ao poder de tributar, julgue os itens subsequentes.

- 113** A definição do prazo para recolhimento dos tributos pode ser delegada pela lei ao regulamento, porque não se sujeita ao princípio da reserva legal.
- 114** A medida provisória não é meio apto para instituir tributo.
- 115** A anuidade dos conselhos de fiscalização profissionais (CRECI, CREA etc.) é revestida de natureza tributária e só pode ser instituída ou majorada por meio de lei específica.
- 116** A Constituição Federal, ao afirmar que é defeso cobrar tributo no mesmo exercício financeiro em que tenha sido publicada a lei que o instituiu ou aumentou, adotou o princípio da anualidade.

Julgue os itens seguintes.

- 117** Quando se faz análise dos atos, fatos, operações e serviços que contêm em si mesmo grandezas econômicas, expressas na norma criadora do ISSQN, está-se estabelecendo a alíquota do tributo.
- 118** Da base de cálculo do ISSQN deverão ser reduzidas os custos realizados pelo prestador de serviços para a prestação contratada.
- 119** Para quantificar o exato valor da obrigação tributária, o ISSQN não poderá ser exigido segundo valores fixos, sem vinculação com percentuais.
- 120** Cabe ao município conceder isenção e imunidade do ISSQN.