



ESTADO DO ACRE SECRETARIA DE ESTADO DA GESTÃO ADMINISTRATIVA

Nome do candidato:

Número do documento de identidade:

Número de inscrição:

Sala:

Seqüencial:

CONCURSO PÚBLICO



Aplicação: 28/5/2006

NÍVEL SUPERIOR

CARGO 22: GEÓGRAFO

CESPEUnB
UNIVERSIDADE DE BRASÍLIA

MANHÃ

Leia com atenção as instruções abaixo.

- 1 Ao receber este caderno, confira inicialmente os seus dados pessoais transcritos acima. Em seguida, verifique se ele contém cinquenta questões, correspondentes às provas objetivas, corretamente ordenadas de 1 a 50.
- 2 Caso os dados pessoais constantes neste caderno não correspondam aos seus, ou, ainda, caso o caderno esteja incompleto ou tenha qualquer defeito, solicite ao fiscal de sala mais próximo que tome as providências cabíveis.
- 3 Recomenda-se não marcar ao acaso: em cada questão, se a resposta divergir do gabarito oficial definitivo, o candidato receberá pontuação negativa, conforme consta em edital.
- 4 Não utilize lápis, lapiseira, borracha e(ou) qualquer material de consulta que não seja fornecido pelo CESPE/UnB.
- 5 Não se comunique com outros candidatos nem se levante sem autorização do chefe de sala.
- 6 A duração das provas é de **três horas e trinta minutos**, já incluído o tempo destinado à identificação — que será feita no decorrer das provas — e ao preenchimento da folha de respostas.
- 7 Você deverá permanecer obrigatoriamente em sala por, no mínimo, uma hora após o início das provas.
- 8 Ao terminar as provas, chame o fiscal de sala mais próximo, devolva-lhe a sua folha de respostas e deixe o local de provas.
- 9 A desobediência a qualquer uma das determinações constantes no presente caderno ou na folha de respostas poderá implicar a anulação das suas provas.

AGENDA

- I 30/5/2006, após as 19 h (horário de Brasília) – Gabaritos oficiais preliminares das provas objetivas: Internet — www.cespe.unb.br/concursos/sga_esp2006.
- II 31/5/2006 e 1.º/6/2006 – Recursos (provas objetivas): exclusivamente no Sistema Eletrônico de Interposição de Recurso, Internet — www.cespe.unb.br/concursos/sga_esp2006, mediante instruções e formulários que estarão disponíveis nesse endereço.
- III 28/6/2006 – Resultados finais das provas objetivas e do concurso: Diário Oficial do Estado do Acre e na Internet — www.cespe.unb.br/concursos/sga_esp2006.

OBSERVAÇÕES

- Não serão objeto de conhecimento recursos em desacordo com o item 10 do Edital n.º 15/2006 – SGA/ESPECIALISTA, de 10/4/2006.
- Informações adicionais: telefone 0(XX) 61 3448-0100; Internet — www.cespe.unb.br/concursos/sga_esp2006.
- É permitida a reprodução deste material apenas para fins didáticos, desde que citada a fonte.

QUESTÃO	RESPOSTA
1	(A) (B) (C) (D)
2	(A) (B) (C) (D)
3	(A) (B) (C) (D)
4	(A) (B) (C) (D)
5	(A) (B) (C) (D)
6	(A) (B) (C) (D)
7	(A) (B) (C) (D)
8	(A) (B) (C) (D)
9	(A) (B) (C) (D)
10	(A) (B) (C) (D)

QUESTÃO	RESPOSTA
11	(A) (B) (C) (D)
12	(A) (B) (C) (D)
13	(A) (B) (C) (D)
14	(A) (B) (C) (D)
15	(A) (B) (C) (D)
16	(A) (B) (C) (D)
17	(A) (B) (C) (D)
18	(A) (B) (C) (D)
19	(A) (B) (C) (D)
20	(A) (B) (C) (D)

QUESTÃO	RESPOSTA
21	(A) (B) (C) (D)
22	(A) (B) (C) (D)
23	(A) (B) (C) (D)
24	(A) (B) (C) (D)
25	(A) (B) (C) (D)
26	(A) (B) (C) (D)
27	(A) (B) (C) (D)
28	(A) (B) (C) (D)
29	(A) (B) (C) (D)
30	(A) (B) (C) (D)

QUESTÃO	RESPOSTA
31	(A) (B) (C) (D)
32	(A) (B) (C) (D)
33	(A) (B) (C) (D)
34	(A) (B) (C) (D)
35	(A) (B) (C) (D)
36	(A) (B) (C) (D)
37	(A) (B) (C) (D)
38	(A) (B) (C) (D)
39	(A) (B) (C) (D)
40	(A) (B) (C) (D)

QUESTÃO	RESPOSTA
41	(A) (B) (C) (D)
42	(A) (B) (C) (D)
43	(A) (B) (C) (D)
44	(A) (B) (C) (D)
45	(A) (B) (C) (D)
46	(A) (B) (C) (D)
47	(A) (B) (C) (D)
48	(A) (B) (C) (D)
49	(A) (B) (C) (D)
50	(A) (B) (C) (D)

- Nas questões de 1 a 50, marque, em cada uma, a única opção correta, de acordo com o respectivo comando. Para as devidas marcações, use, caso deseje, o rascunho acima e, posteriormente, a **folha de respostas**, único documento válido para a correção das suas provas.
- Nas questões que avaliam **Noções de Informática**, a menos que seja explicitamente informado o contrário, considere que todos os programas mencionados estão em configuração-padrão, em português, que o *mouse* está configurado para pessoas destros e que expressões como clicar, clique simples e clique duplo referem-se a cliques com o botão esquerdo do *mouse*. Considere também que não há restrições de proteção, de funcionamento e de uso em relação aos programas, arquivos, diretórios e equipamentos mencionados.

CONHECIMENTOS BÁSICOS

Texto para as questões 1 e 2

Uma mina de ouro no degelo

1 O aquecimento global está produzindo efeitos devastadores no Ártico. No último verão, no Hemisfério Norte, a calota de gelo foi reduzida ao menor tamanho já registrado. A ponto de, pela primeira vez, cientistas russos navegarem até o Pólo Norte sem precisar abrir caminho com navios quebra-gelos. Isso ocorre porque a temperatura na região polar aumenta em média duas vezes mais que no resto do planeta. O fenômeno tem efeitos ecológicos danosos — toda uma fauna adaptada ao frio rigoroso, que inclui ursos polares, baleias, focas e morsas, está ameaçada de extinção —, mas, paradoxalmente, está provocando uma espécie de corrida do ouro ao Círculo Polar. Isso ocorre por dois motivos principais: o derretimento do gelo vai permitir a exploração das reservas de petróleo e gás natural no oceano Ártico e abrir novas e mais curtas rotas de navegação.

16 O Instituto Geológico dos Estados Unidos calcula que 25% das reservas mundiais de petróleo e de gás natural estejam lá, esperando para serem exploradas. Isso significa 2 trilhões de dólares em valores de mercado. O Campo de Stockman, situado na região europeia do Ártico e maior depósito mundial de gás natural, deverá ser explorado pelas estatais de petróleo norueguesa e russa. O objetivo é transportar o gás por dutos submarinos até o continente e, de lá, alimentar a Europa ocidental. Além de reduzir custos, o empreendimento vai criar milhões de empregos em regiões dos dois países, que antes atraíam poucos investimentos. É verdade que, com o degelo, aumenta o perigo dos *icebergs*, mas há compensações, os campos petrolíferos no Ártico não serão ameaçados pela instabilidade política e pelos homens-bomba do Oriente Médio.

31 Até 2015, toda a região poderá ser navegável por um período de seis meses por ano — hoje, esse período não passa de um mês, e a navegação é possível com a ajuda de navios quebra-gelos. Será possível levar mercadorias do Porto de Hamburgo, na Alemanha, para o de Yokohama, no Japão, navegando-se pela costa da Sibéria, reduzindo-se à metade o tempo de viagem, atualmente feita pelo Canal de Suez. Via Ártico, os petroleiros vão poupar 12.000 quilômetros na viagem entre a Venezuela e o Japão. “Os custos de transporte vão cair com essas novas rotas, o que deve causar impacto positivo na economia mundial”, disse a oceanógrafa americana Kathleen Crane, do Centro de Pesquisas do Ártico, órgão do governo norte-americano.

Os interesses econômicos em jogo estão provocando outro tipo de corrida, envolvendo países com ambições territoriais no Ártico: Noruega, Dinamarca, Canadá e Estados Unidos. Cada um deles quer assegurar sua soberania sobre os enormes recursos naturais e também o controle sobre as rotas marítimas que, por ora, estão bloqueadas pelo gelo.

Os limites territoriais são realmente confusos no Ártico. De acordo com a lei marítima internacional, as fronteiras das zonas econômicas nacionais acompanham o limite da plataforma continental de cada país. No Ártico, porém, é impossível demarcar onde terminam as plataformas (boa parte coberta por geleiras) e onde começam as águas internacionais. Quem diria que, há bem pouco tempo, nenhum país ou empresário dava a mínima para a vastidão gelada do Ártico.

José Eduardo Barella. *Veja, Ambiente*, 3/5/2006, p. 124-5 (com adaptações).

QUESTÃO 1

De acordo com o texto, assinale a opção correta.

- A O aquecimento global tem sido prejudicial à fauna do Ártico, que está ameaçada de extinção, na medida em que o derretimento do gelo está favorecendo a exploração das reservas de petróleo e gás natural no Círculo Polar e abrindo rotas mais curtas de navegação.
- B Empresas petrolíferas norueguesas e russas detêm o monopólio da exploração do maior depósito de gás natural do mundo, localizado na região europeia do Ártico.
- C Caso toda a região do Ártico torne-se navegável durante seis meses por ano, as novas rotas de navegação propiciarão economia no tempo de viagem e nos gastos com transporte de mercadorias entre continentes.
- D Como os limites territoriais são confusos no Ártico, alguns países, motivados por interesses econômicos, estão assegurando a sua soberania sobre os recursos naturais e o controle sobre as rotas marítimas nessa região, com base na lei marítima internacional.

QUESTÃO 2

Ainda considerando o texto, assinale a opção correta.

- A No trecho “Isso ocorre por dois motivos principais” (l.12-13), “por” inicia expressão denotadora de finalidade.
- B Em “O objetivo é transportar o gás por dutos submarinos até o continente” (l.22-23), “por” pode ser substituído por **através de**.
- C No fragmento “os campos petrolíferos no Ártico não serão ameaçados pela instabilidade política” (l.28-29), o vocábulo “pela” pode ser substituído pela expressão **por causa da**.
- D No trecho “Será possível levar mercadorias (...) navegando-se pela costa da Sibéria” (l.34-36), “pela” equivale a **por meio de**.

QUESTÃO 3

Assinale a opção gramaticalmente **incorreta**.

- A Cientistas russos, pela primeira vez, navegaram ao Pólo Norte sem utilizar navios quebra-gelos para abrir caminho.
- B Será criado milhões de empregos em regiões da Rússia e da Noruega, que antes atraíam poucos investimentos.
- C Mercadorias serão transportadas, através de dutos submarinos, do Ártico até a Europa Ocidental.
- D Há pouco tempo, nenhum país ou empresário se importava com o Ártico.

QUESTÃO 4

Em cada opção abaixo, apresenta-se uma oração e uma proposta de reescritura empregando-se o pronome oblíquo átono. Assinale a opção em que esse emprego é feito corretamente.

- A O aquecimento global está produzindo efeitos devastadores no Ártico — **O aquecimento global os está produzindo no Ártico**.
- B O derretimento do gelo vai permitir a exploração de reservas de petróleo e gás natural — **O derretimento do gelo vai permiti-las**.
- C Os interesses econômicos estão provocando outro tipo de corrida — **Os interesses econômicos estão lhe provocando**.
- D As fronteiras das zonas econômicas nacionais acompanham o limite da plataforma continental de cada país — **As fronteiras das zonas econômicas nacionais acompanham-na**.

Texto para as questões 5 e 6

Fibras nas dietas: um nutriente importante

1 A fibra é um elemento importante na composição da
dieta por estar relacionada com o bom funcionamento
intestinal. Entretanto, os seus benefícios não se resumem a
4 isso e as fibras podem atuar na prevenção de várias doenças
como, por exemplo, a diabetes. De origem vegetal, a fibra não
é absorvida pelo organismo e não contribui para o valor
7 calórico dos alimentos ou refeições. As fibras classificam-se
em dois tipos: solúveis e insolúveis. A principal fibra solúvel
é a pectina, encontrada em frutas (laranja, maçãs), vegetais
10 (cenoura), nos farelos de aveia e nas leguminosas. Esse tipo
de fibra é classificado como solúvel por reter água e formar
uma estrutura em forma de gel. Esse tipo de fibra ajuda na
13 diminuição do nível de colesterol e previne o aparecimento de
doenças cardiovasculares. As dietas ricas em fibras solúveis
ajudam no combate à obesidade, já que induzem a uma menor
16 ingestão de alimentos e calorias. A fibra solúvel contribui
ainda para a diminuição na glicose sanguínea, devido a uma
redução na absorção dessa substância. As fibras insolúveis
19 são encontradas em todos os alimentos vegetais. Sua maior
fonte são os grãos de cereais como milho, soja, grão de bico
e as frutas consumidas com a casca, como maçã, pêra e
22 ameixa. Ajudam na prevenção de algumas doenças como a
constipação e o câncer colorretal. Como a principal função
desse tipo de fibra é a velocidade do trânsito fecal, ela atua
25 acelerando o movimento do bolo fecal através do intestino.
Com isso, também diminui a exposição do cólon a agentes
que provocam câncer, fazendo com que dietas ricas em fibras
28 insolúveis atuem prevenindo o aparecimento de câncer nesse
local. Para as fibras cumprirem o seu papel no organismo, é
necessária a ingestão de bastante líquido. Recomenda-se pelo
31 menos um litro e meio de água diariamente. Por dia, uma
pessoa deve ingerir entre 25 e 30 gramas de fibras. É
importante uma dieta variada, que contenha farelos, aveia,
34 frutas, verduras, legumes, grãos e pão integral nas refeições,
para que essa quantidade seja alcançada.

Roberta Stella. Internet: <cyberdiet.uol.com.br/> (com adaptações).

QUESTÃO 5

Considerando a estrutura e a tipologia do texto, assinale a opção correta.

- A O texto é narrativo, com passagens descritivas, e poderia ser organizado em cinco parágrafos com um ou mais períodos, de acordo com a distribuição do tema.
- B Como o tema, no texto, é apresentado e descrito como um todo orgânico, não se permite sua divisão em parágrafos, visto que isso comprometeria o entendimento das idéias.
- C Trata-se de texto predominantemente dissertativo, com trechos narrativos e expositivos por meio dos quais a autora explica o tema.
- D O texto poderia ser desmembrado em quatro parágrafos: o primeiro, indo da linha 1 até “insolúveis” (l.8), apresenta o tema; o segundo, iniciando em “A principal fibra solúvel” e indo até a linha 18, terminando com “absorção dessa substância”; o terceiro, iniciando por “As fibras insolúveis”, na linha 18, e indo até “nesse local” (l.28-29); e o quarto, indo de “Para as fibras” (l.29) até o final.

QUESTÃO 6

Em relação ao texto, assinale a opção correta.

- Ⓐ O termo “elemento” (ℓ.1) pode ser substituído por **constituente**, nesse contexto, sem prejuízo do sentido original e da correção gramatical do texto.
- Ⓑ No fragmento “no combate à obesidade” (ℓ.15), é facultativo o emprego do acento indicativo de crase.
- Ⓒ Em “o movimento do bolo fecal através do intestino” (ℓ.25), “através” tem o sentido de **por meio de**.
- Ⓓ O trecho “é necessária a ingestão de bastante líquido” (ℓ.29-30) pode ser reescrito, com correção, da seguinte forma: **é necessário a ingestão de bastantes líquidos**.

Texto para as questões 7 e 8

Avanços tecnológicos dos calçados podem ser desnecessários

1 Saber quais são as exigências de cada esporte é importante para a proteção do pé sem se investir muito em tênis com avanços tecnológicos que, no fim das contas, podem ser desnecessários. Os
4 megassistemas de amortecimento, por exemplo, devem ter sua importância relativizada. Fundamental em alguns esportes, como o basquete e o vôlei, o amortecimento é desnecessário em atividades
7 como o ciclismo; tem pouca importância na musculação; e é indesejável em corridas de obstáculos e de velocidade.

“O sistema de amortecimento deixa o tênis mais pesado e
10 compromete o rendimento em provas de corrida de velocidade”, diz Nélcio Alfano Moura, coordenador nacional de saltos da Confederação Brasileira de Atletismo. Outras características podem
13 acabar gerando problemas de saúde. Maleabilidade e flexibilidade podem ser duas qualidades em um tênis — a não ser que o dono queira usar o calçado para andar de bicicleta ou praticar *spinning*.
16 Nesse caso, o uso de um tênis com a sola mole pode levar a uma inflamação da planta do pé, segundo o médico Moisés Cohen. “Se a pessoa pedalar com um tênis de sola flexível durante uma hora
19 por dia, fatalmente terá uma lesão. O correto é pedalar com a planta do pé, usando um calçado com sola rígida — isso aumenta até o rendimento do atleta. Com o tênis errado, a pessoa terá de fazer
22 muito mais força”, diz Gilson Alvaristo, diretor técnico da Federação Paulista de Ciclismo.

Já o cano alto, indicado para quem pratica basquete por
25 limitar a amplitude de movimentos e, assim, diminuir o risco de torções durante o impacto do pé com o solo, não é recomendado a tenistas, que precisam ter o tornozelo livre para se mexer melhor na
28 quadra. A utilização de um modelo de tênis para atividades às quais ele não está adaptado também leva a um desgaste mais rápido do calçado — nem todas as solas resistem bem, por exemplo, ao tipo
31 de pressão exigida em equipamentos de musculação.

Amarilis Lage. **Folha de S.Paulo**. Internet: <www.folha.uol.com.br> (com adaptações).

QUESTÃO 7

Considerando o texto, assinale a opção correta.

- Ⓐ Preserva-se o sentido original do texto se o trecho “com avanços tecnológicos que, no fim das contas, podem ser desnecessários” (ℓ.2-3) for substituído pela expressão **com avanços tecnológicos desnecessários**.
- Ⓑ Os termos “desnecessário” (ℓ.6), “pouca importância” (ℓ.7) e “indesejável” (ℓ.8) referem-se coesivamente a “megassistemas de amortecimento” (ℓ.4).
- Ⓒ No fragmento “isso aumenta até o rendimento do atleta” (ℓ.20-21), o vocábulo “até” introduz o argumento mais forte em favor do uso de tênis adequado à prática esportiva.
- Ⓓ O trecho “Com o tênis errado (...) Federação Paulista de Ciclismo” (ℓ.21-23) pode ser reescrito, mantendo-se a correção gramatical e o sentido original do texto, do seguinte modo: **De acordo com o diretor da Federação Paulista de Ciclismo, se a pessoa usar errado o tênis, fará muito mais força**.

QUESTÃO 8

No que diz respeito às idéias e estruturas sintáticas do texto, assinale a opção correta.

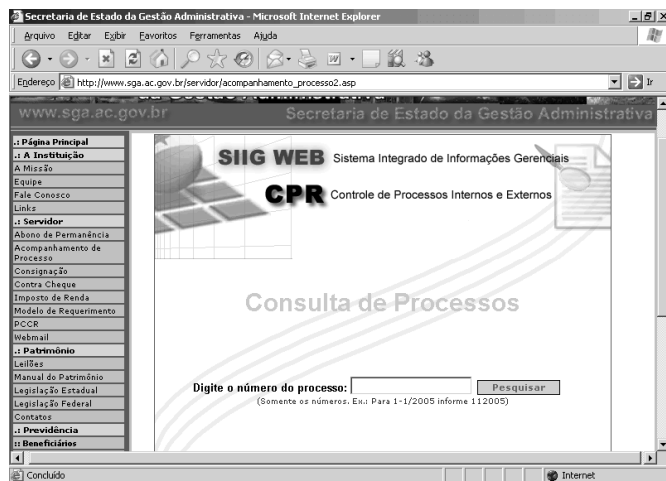
- Ⓐ Na linha 4, “devem” exprime a idéia de que é necessário relativizar a importância dada aos megassistemas de amortecimento dos tênis.
- Ⓑ “Maleabilidade e flexibilidade” (ℓ.13) são características relevantes para o tênis que se pretenda calçar na prática de ciclismo.
- Ⓒ No trecho “A utilização de um modelo de tênis para atividades às quais ele não está adaptado” (ℓ.28-29), o emprego do sinal indicativo de crase é facultativo.
- Ⓓ No período situado nas linhas de 28 a 31, identifica-se a principal causa do desgaste do solado dos tênis: o uso de modelos inadequados a atividades esportivas específicas.

QUESTÃO 9



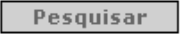
A Internet é considerada um dos mais importantes e revolucionários desenvolvimentos da história da humanidade. A Internet é uma associação informal de redes de computadores que adota padrões comuns de comunicação. Os protocolos de comunicação são padronizados, mas as suas implementações não são necessariamente iguais. Na medida em que padrões técnicos e políticas aceitáveis de uso são observados, um sistema local pode se conectar na Internet e se comunicar com outros sistemas. Com relação aos principais serviços oferecidos na Internet, assinale a opção correta.

- A O FTP permite a transferência de arquivos entre as máquinas da rede.
- B Correio eletrônico, um dos serviços mais utilizados na rede, permite que os usuários enviem informações para outros usuários, que são localizados na rede usando recursos de serviços de GPS.
- C Grupo de notícias é um sítio com *links* de jornais do mundo inteiro que permite acesso rápido a informações globalizadas.
- D Telnet é um serviço telefônico gratuito da Internet.

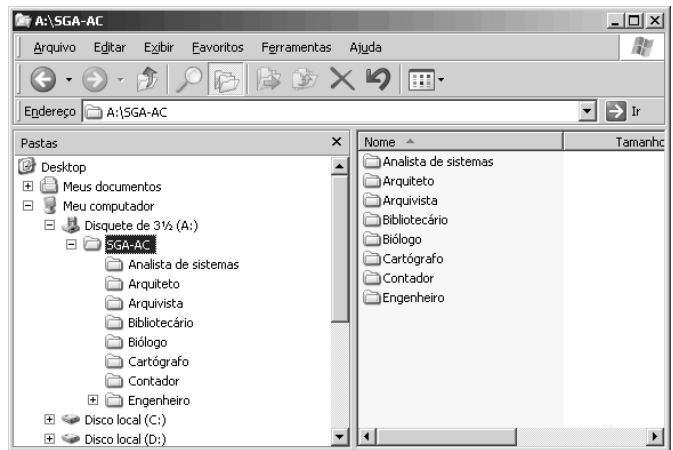
QUESTÃO 10







Desejando obter informações acerca de processos em andamento na Secretaria de Estado da Gestão Administrativa (SGA), um servidor acessou o sítio <http://www.sga.ac.gov.br> e, após algumas operações de navegação, obteve a página *web* mostrada na janela do Internet Explorer 6 (IE6) ilustrada na figura acima. Considerando essa figura, assinale a opção correta.

- A Para consultar dados de determinado processo, é suficiente que o servidor digite o número do processo no campo indicado e clique o botão .
- B Para consultar dados de determinado processo, é suficiente que o servidor digite o número do processo no campo indicado e clique o botão .
- C A pesquisa de processo somente pode ser realizada se o serviço de FTP tiver sido instalado no computador do servidor.
- D Para consultar dados de determinado processo, é suficiente que o servidor digite o número do processo, no campo indicado e clique .

QUESTÃO 11



Considerando a figura acima, que mostra uma janela do Windows Explorer do Windows XP sendo executada em um computador PC, assinale a opção correta.

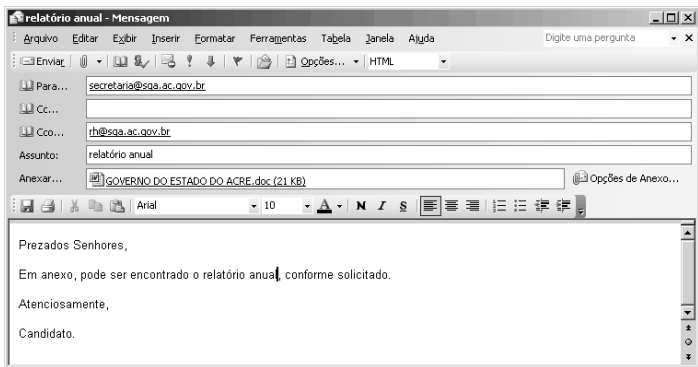
- A A pasta de nome SGA-AC foi criada no HD do computador.
- B Ao clicar no símbolo de subtração em  , os dados existentes na pasta SGA-AC serão excluídos.
- C O símbolo de adição em   indica que a pasta de nome Engenheiro possui subpastas.
- D A área no lado direito da janela do Windows Explorer mostra as subpastas existentes na pasta SGA-AC no modo de exibição ícones.

QUESTÃO 12




Considere que um servidor da SGA deve criar um relatório contendo um texto com explanação acerca das atividades do departamento em que trabalha, bem como uma tabela contendo dados numéricos e um gráfico demonstrativo. Com relação a essa situação hipotética, assinale a opção correta, considerando que o servidor dispõe do Microsoft Word e do Microsoft Excel para a criação do relatório.

- A O servidor deve utilizar somente o Microsoft Excel para a criação do relatório mencionado.
- B Não é possível a criação de parte do relatório no Microsoft Word e outra parte no Microsoft Excel, porque os dados gerados por esses aplicativos não são compatíveis.
- C O gráfico pode ser criado no Microsoft Excel, que permite a criação de planilhas eletrônicas e gráficos, mas não pode ser criado no Microsoft Word, que permite apenas a edição de textos.
- D O relatório pode ser criado utilizando-se apenas o Microsoft Word, que permite a edição de textos, a criação de tabelas e a geração de gráficos.

QUESTÃO 13



Considerando a figura acima, que ilustra uma janela do Outlook 2003 sendo executada, assinale a opção correta.

- A A opção  **Cco...** permite o envio de uma cópia do arquivo anexado para o endereço rh@sga.ac.gov.br com o conhecimento do destinatário do endereço secretaria@sga.ac.gov.br.
- B O botão  possibilita a consulta de endereços eletrônicos cadastrados.
- C Quando o *e-mail* ilustrado acima for enviado, o destinatário do endereço rh@sga.ac.gov.br receberá a mensagem mostrada, mas não receberá o arquivo anexado.
- D O botão  permite a correção ortográfica do texto da mensagem.

QUESTÃO 14

A dependência dos recursos computacionais é uma realidade, portanto, a necessidade de gerar cópias de segurança é uma cautela comum entre os usuários de computador. Com relação a esse assunto, assinale a opção correta.

- A Apesar de o custo de gravadoras de CD-RW estar diminuindo, ainda não é conveniente utilizar esse tipo de mídia para *backup*, porque, tipicamente, a capacidade de armazenamento de um CD é de apenas 1,44 MB.
- B A ferramenta Opção de acessibilidade disponibilizada no Painel de controle do Windows XP permite a criação e o acesso de arquivos de segurança com rapidez.
- C Por meio do aplicativo de *backup* denominado Scandisk, é possível detectar os arquivos mais utilizados e gerar cópias de segurança.
- D O Windows XP possui um utilitário de nome Backup que ajuda a criar cópias das informações contidas no disco rígido do computador. Caso os dados originais no disco rígido sejam apagados ou substituídos por engano ou se tornem inacessíveis devido a falhas, normalmente é possível usar essas cópias para restaurar dados perdidos ou danificados.

Texto para as questões de 15 a 17

As repercussões dos atentados terroristas contra os Estados Unidos da América (EUA), ocorridos em 11 de setembro de 2001 ultrapassaram em muito a tragédia humana, materializada em número expressivo de mortos e feridos. De um lado, a questão terrorista ganhou dimensão mundial, até mesmo pelas ações violentas que voltaram a se repetir em outros locais, como os que atingiram Madri e Londres. De outro, o comportamento assumido desde então pelo governo norte-americano repercutiu tanto no âmbito interno quanto em sua política externa. Além disso, há consenso quanto aos efeitos danosos dos ataques ao Pentágono e às torres do World Trade Center, concretizados por meio de aviões seqüestrados, sobre a aviação internacional. Não foram poucas as empresas aéreas que entraram ou aprofundaram a crise em que se debatiam. O Brasil não saiu ileso de todo esse quadro.

QUESTÃO 15

Relativamente às ações empreendidas pelos EUA após o 11 de setembro de 2001, assinale a opção **incorreta**.

- A Uma das primeiras providências adotadas foi a invasão do Afeganistão, motivada, entre outras razões, pela intenção de capturar Osama bin Laden, considerado mentor do ataque terrorista.
- B Apesar da adoção de medidas de controle mais rígidas, o governo norte-americano desistiu de impor restrições aos estrangeiros que se dirigem ao país para não prejudicar sua elevada receita com o turismo.
- C A decisão de invadir o Iraque também se inscreve na lógica da política de George W. Bush de combater inimigo onde ele estiver e antes que ele possa agir contra os EUA.
- D Passado o impacto inicial dos ataques de 11 de setembro, verifica-se a ampliação de um sentimento que muitos classificam de antiamericanismo, em várias partes do mundo, em face da política externa agressiva conduzida por Washington.

QUESTÃO 16

Um fato lamentável, envolvendo o cenário mundial, produzido pelo terrorismo contemporâneo, acabou por atingir o Brasil. Assinale a opção que corresponde a esse fato.

- A Rompimento das relações diplomáticas entre Brasil e EUA, haja vista que o governo americano insistia na existência de células terroristas internacionais em Foz do Iguaçu.
- B Envio de tropas brasileiras ao Iraque, ainda que em número reduzido, para compor a coalizão anglo-americana que invadiu aquele país árabe.
- C Fechamento das missões diplomáticas brasileiras em países muçulmanos que se recusaram a condenar explicitamente o terrorismo.
- D Assassinato, pela polícia britânica, em estação do metrô de Londres, de um imigrante brasileiro, confundido com terrorista.

QUESTÃO 17

A atual crise da aviação mundial tem, no Brasil, exemplo expressivo, conforme se pode verificar corretamente no caso da

- Ⓐ VARIG, a mais antiga empresa aérea brasileira, que, ao longo dos anos, ampliou consideravelmente um montante de dívidas a ponto de afetar sua capacidade operacional.
- Ⓑ VASP, empresa privatizada há alguns anos, que, premida por dívidas monumentais, se vê na contingência de manter poucas linhas domésticas em operação e apenas uma rota internacional em atividade.
- Ⓒ TRANSBRASIL, que, com graves problemas administrativos e envolvida em disputa judicial pelo seu controle acionário, hoje só consegue manter vôos regionais na Amazônia.
- Ⓓ TAM, que, com seu desequilíbrio financeiro, ficou impedida de operar linhas internacionais desde os episódios de 11 de setembro de 2001.

Texto para as questões de 18 a 20

O caráter globalizado da economia contemporânea traz conseqüências que não se restringem ao sistema produtivo propriamente dito. Entre outros aspectos relevantes, pode-se afirmar que a globalização altera o papel e a forma de atuação dos Estados nacionais, modifica significativamente o mundo do trabalho, incentiva o contínuo desenvolvimento científico e tecnológico, subordina às leis do mercado atividades esportivas e artístico-culturais, e agiliza, sobremaneira, a circulação de bens e de capitais. Contudo, ao mesmo tempo em que faz avançar o turismo mundial, impõe barreiras à imigração, sobretudo quando se trata de egressos de áreas pobres que partem em busca de melhores condições de vida nos países mais ricos. Além disso, cada vez mais, condiciona as relações internacionais aos interesses econômicos.

QUESTÃO 18

Tomando por base o texto, assinale a opção que traduz corretamente o cenário mundial marcado pela globalização.

- Ⓐ Os analistas estão convictos de que a razão essencial para o êxito da globalização consiste na decisão dos governos de manter intactas as leis de proteção ao trabalho, como forma de eliminar as pressões dos trabalhadores.
- Ⓑ A ordem global levou os Estados nacionais a adotar políticas voltadas para o bem-estar social, de modo a ampliar, por exemplo, o alcance da previdência, e, conseqüentemente, reduzir o tempo de trabalho para a aposentadoria e aumentar seus gastos com saúde e educação.
- Ⓒ A crise de desemprego, que parece ser estrutural, pode ser debitada a vários fatores, como as incessantes inovações tecnológicas introduzidas no sistema produtivo, mas certamente está na raiz de boa parte do movimento migratório dos dias atuais.
- Ⓓ Esporte com o maior número de praticantes e de admiradores em todo o planeta, o futebol contemporâneo conseguiu ficar imune à ação dos interesses econômico-financeiros, o que pode ser explicado pela enorme paixão que suscita nas mais diversas camadas sociais.

QUESTÃO 19

Entre as opções abaixo, assinale a que **não** corresponde a característica da globalização contemporânea.

- Ⓐ A ampliação dos mercados em decorrência da eliminação de políticas protecionistas por parte dos países economicamente mais poderosos.
- Ⓑ A formação de blocos regionais e continentais com o objetivo de melhor inserção na economia mundial.
- Ⓒ O aumento da capacidade de produção, assentada na tecnologia e voltada para um mercado extremamente competitivo.
- Ⓓ A grande mobilidade financeira, com os capitais — produtivos ou especulativos — circulando com facilidade pelos mercados mundiais.

QUESTÃO 20

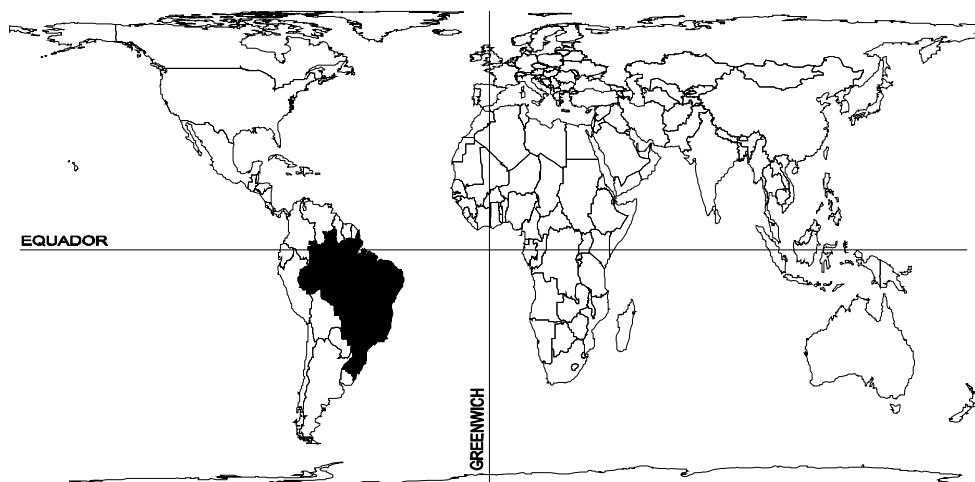
Assinale a opção que condiz com a afirmação do texto de que a globalização condiciona as relações internacionais aos interesses econômicos.

- Ⓐ A presença militar dos EUA no Iraque se explica pela pressão da opinião pública norte-americana e mundial sobre o governo de Washington, amplamente favorável ao uso da força.
- Ⓑ Na atual crise envolvendo a Bolívia e o Brasil, com repercussões em outros países da região, é central o papel representado pela questão energética.
- Ⓒ A União Européia é caso singular de integração entre países voltada para aspectos políticos, sociais e culturais, mas optando por passar ao largo da integração econômica.
- Ⓓ A ação internacional das grandes potências mundiais, na atualidade, é pautada, prioritariamente, pela convicção de que a Organização das Nações Unidas (ONU) precisa ser fortalecida.

CONHECIMENTOS ESPECÍFICOS

Mapa para as questões de 21 a 24

MAPA-MÚNDI PROJEÇÃO ARNO PETERS



QUESTÃO 21

Tomando como referência a representação gráfica da divisão política do planeta Terra no mapa-múndi, assinale a opção **incorreta**.

- A A principal função de uma projeção cartográfica é permitir a representação da superfície esférica da Terra em um plano — o mapa.
- B A projeção elaborada pelo alemão Arno Peters resulta da distorção da proporção entre as áreas das terras emersas do globo.
- C Esta representação cartográfica da Terra, ao revelar graficamente as reais proporções das terras emersas, questiona a tradicional visão eurocêntrica do mundo.
- D A Projeção de Peters é uma maneira de representar informações globais de uma forma “politicamente mais correta”.

QUESTÃO 22

Considerando o contexto dos limites e das fronteiras do Brasil na América do Sul, assinale a opção **incorreta**.

- A O Brasil tem fronteiras comuns com todas as nações da América do Sul.
- B A oeste, o Brasil limita-se com a Argentina, o Paraguai, a Bolívia e o Peru.
- C O espaço geográfico do Brasil limita-se ao sul com o Uruguai.
- D Ao norte, o território brasileiro faz fronteira com a Venezuela, o Suriname, a Guiana Francesa e o Oceano Atlântico.

QUESTÃO 23

Com referência à posição estratégica do Brasil no mapa-múndi, assinale a opção **incorreta**.

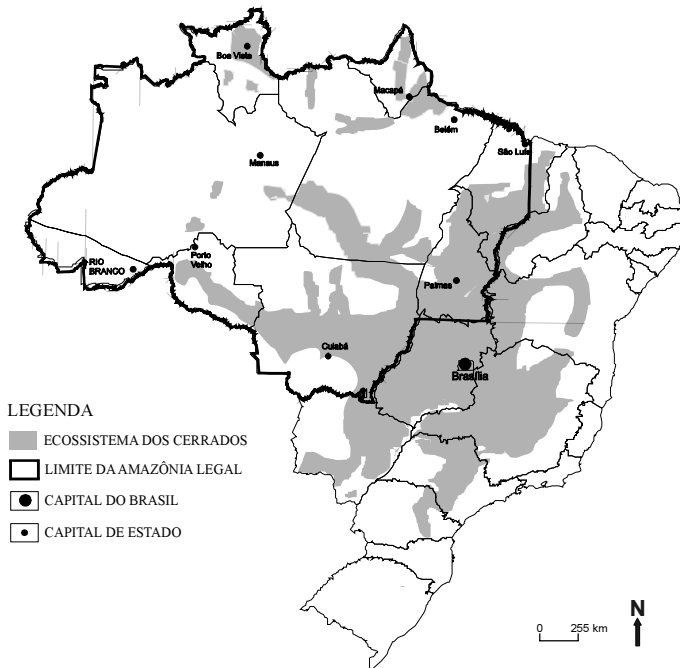
- A A significativa maioria do território brasileiro está no hemisfério sul.
- B No ocidente, o Canadá, os Estados Unidos da América e o Brasil formam o bloco dos três maiores países.
- C Na América Latina, o Brasil é o país de maior expressão territorial.
- D Na América do Sul, a Argentina é a porção territorial de maior grandeza em extensão.

QUESTÃO 24

Tendo em vista o Brasil em relação ao Equador e a Greenwich, assinale a opção **incorreta**.

- A O território brasileiro é cortado na sua porção norte pelo Equador.
- B Em relação ao meridiano inicial, o Brasil está localizado no ocidente.
- C O estado do Acre situa-se no hemisfério norte.
- D Brasília, a capital do Brasil, está no hemisfério sul e no ocidente.

O BRASIL, O BIOMA DO CERRADO E A AMAZÔNIA LEGAL



Fonte: ROMARIZ, D. A. Aspectos da Vegetação do Brasil, 2ª edição, São Paulo, 1996 / Ações Prioritárias para a Conservação da Biodiversidade do Cerrado e do Pantanal. Ministério do Meio Ambiente, Brasília, 1999.

QUESTÃO 25

Em relação à área do bioma do cerrado e aos estados brasileiros, assinale a opção **incorreta**.

- A O ecossistema do cerrado na região central do Brasil ocupa quase que a totalidade dos estados de Goiás e Tocantins.
- B Na região Norte, o único estado sem registro de cerrado é Rondônia.
- C O Paraná constitui a única unidade política da região Sul com ocorrência do bioma do cerrado.
- D O nordeste brasileiro é a região do país onde existe o maior número de estados sem registro do ecossistema do cerrado.

QUESTÃO 26

Assinale a opção **incorreta** quanto aos estados da Amazônia Legal do Brasil.

- A Os estados do Piauí, da Bahia, de Goiás e do Mato Grosso do Sul fazem fronteira com a Amazônia Legal do Brasil.
- B O estado de Mato Grosso, cuja capital é Cuiabá, faz parte da região da Amazônia Legal.
- C A porção extremo leste do território do estado do Maranhão faz parte da região da Amazônia Legal brasileira.
- D Rondônia e Roraima, fazem parte do território da Amazônia Legal.

QUESTÃO 27

Observando a escala e a indicação do norte nesse mapa temático, assinale a opção **incorreta**.

- A A escala de um mapa corresponde a uma relação numérica que indica a quantidade de vezes que o espaço geográfico real foi reduzido para a representação cartográfica no papel.
- B A escala representada no mapa é do tipo gráfica e a unidade de medida básica corresponde a 255 km.
- C Essa é uma escala classificada como cadastral, em que é possível ver os detalhes do espaço urbano.
- D A representação da indicação do norte no mapa temático corresponde ao norte geográfico ou norte verdadeiro.

QUESTÃO 28

Assinale a opção **incorreta** com referência às capitais de estados da Amazônia Legal.

- A São Luís é a capital da Amazônia Legal mais próxima de Brasília.
- B Belém é a capital de maior contingente populacional da região da Amazônia Legal.
- C Boa Vista constitui a capital de maior distância da capital federal.
- D Palmas constitui a capital de formação urbana mais recente.

QUESTÃO 29

Com relação à forte associação entre urbanização e industrialização brasileira, assinale a opção **incorreta**.

- A De uma economia de base agrária, o país se transformou, em um espaço de tempo de 30 anos, em uma sociedade altamente urbanizada e industrializada.
- B Nos anos 70, o Brasil cresceu a uma taxa média anual de 8,6%.
- C A taxa anual média de 9% foi o registro do crescimento da produção industrial no Brasil, nos anos 70.
- D O período mais dinâmico da produção industrial ocorreu na década passada.

QUESTÃO 30

No que se refere a evolução da população brasileira ao longo do século XX, assinale a opção **incorreta**.

- A O ritmo de crescimento da população não se deu de forma linear, havendo sucessivos períodos em que as taxas de crescimento vegetativo aumentaram, com posteriores períodos de estabilização e declínio das taxas para, em seguida, acompanhar o processo de evolução econômica e social do país.
- B No século XX, ocorreu um processo de inversão no local de residência da população brasileira, deixando de ser urbana e passando a ser rural.
- C Ocorreu um processo de crescimento extremamente dinâmico, diferenciado no tempo e no espaço.
- D Entre 1940 e 2000, quadruplicou-se a população brasileira, ao passo que a população urbana se multiplicou por 11 no mesmo período.

As questões de 31 a 33 referem-se ao anexo I, incluído no final deste caderno de provas.

QUESTÃO 31

Assinale a opção **incorreta** no que se refere à concentração dos territórios quilombolas no Brasil.

- A A maior concentração das ocorrências das comunidades está nos estados das regiões Nordeste e Norte do país.
- B A Bahia é o segundo estado brasileiro com maior número de municípios com registros no cadastro em questão.
- C Na região Sul do país, o estado do Paraná apresenta os maiores registros.
- D Em Goiás, existe uma concentração de registros no norte do estado.

QUESTÃO 32

Com referência aos registros oficiais de territórios quilombolas nas fronteiras internacionais, assinale a opção **incorreta**.

- A No Pará, os municípios a noroeste fazem fronteira com a Guiana.
- B Em Rondônia, não existem registros municipais na fronteira internacional.
- C O Mato Grosso apresenta ocorrências municipais de registro de territórios quilombolas na fronteira internacional com a Bolívia.
- D Os estados do Acre e de Roraima são as únicas unidades políticas do país sem registro oficial de terras quilombolas.

QUESTÃO 33

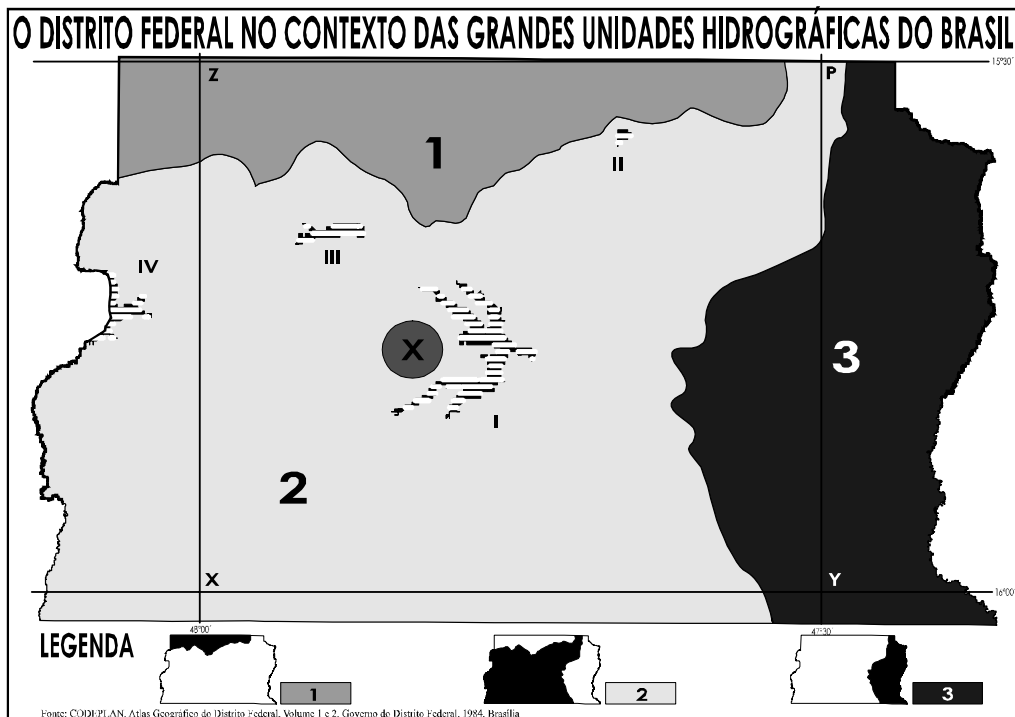
No que se refere à estrutura do documento cartográfico e ao tipo de simbologia utilizada no mapa temático em apreço, assinale a opção **incorreta**.

- A Os estados sem registros oficiais de territórios quilombolas estão identificados com uma simbologia de manchas brancas na extensão das unidades políticas.
- B Os encartes foram utilizados para detalhar áreas de grande concentração de informações.
- C Os municípios com registro de territórios quilombolas estão representados sob a forma de manchas e na cor vermelha para possibilitar uma melhor leitura.
- D Os limites dos estados brasileiros representados com linhas brancas e das áreas dos encartes, com linhas tracejadas, também brancas, facilitam a identificação dos registros municipais e da sua concentração no mapa temático.

QUESTÃO 34

Acerca da questão ambiental e da dinâmica do espaço geográfico, assinale a opção **incorreta**.

- A As metrópoles consomem grandes quantidades de energia e matérias-primas e produzem toneladas de dejetos que não são decompostos ou reciclados pela natureza, podendo levar a prejuízos ambientais irreversíveis ao sistema urbano.
- B As extensas monoculturas desequilibram as cadeias alimentares naturais no campo e favorecem o aparecimento de insetos, que, à falta de predadores, transformam-se em pragas.
- C As ilhas de calor nas cidades são ocasionadas, basicamente, pela diminuição da irradiação de calor para a atmosfera e redução da concentração de gases, como o CO₂.
- D A devastação das florestas tropicais e equatoriais é uma grande ameaça para a biodiversidade e para o desenvolvimento sustentável.



QUESTÃO 35

Assinale a opção **incorreta** acerca do Distrito Federal.

- A O quadrilátero que constitui o DF tem uma área superior a 5.000 km².
- B O DF está situado no estado de Minas Gerais.
- C O limite leste é feito pelo rio Preto.
- D O rio Descoberto faz o limite no oeste do DF.

QUESTÃO 36

No que se refere ao conjunto urbano de Brasília, assinale a opção **incorreta**.

- A Brasília, como nova capital, foi construída próxima de outras grandes cidades brasileiras para estreitar os contatos comerciais entre elas.
- B Brasília foi construída numa área pouco ocupada da região Centro-Oeste como um novo modelo urbano e como um pólo de desenvolvimento.
- C A grande migração para a construção de Brasília levou à implantação das denominadas cidades-satélites, para abrigar a população que migrava para trabalhar e se aventurar na região.
- D O Plano Piloto, de Lúcio Costa, foi tombado como patrimônio da humanidade por sua concepção urbanística moderna e arrojada.

QUESTÃO 37

No mapa em questão o X no círculo ao centro **não** representa

- A o Plano Piloto de Brasília.
- B a área tombada pela UNESCO.
- C a localidade de Taguatinga.
- D o centro do conjunto urbano de Brasília.

QUESTÃO 38

Com relação às grandes bacias hidrográficas brasileiras correspondentes aos números 1, 2 e 3 no mapa, assinale a opção **incorreta**.

- A Na área do número 1, está a nascente da bacia do sistema Tocantins-Araguaia.
- B A extensão representada pelo número 2 corresponde ao início da bacia do Paraná.
- C As nascentes da bacia do rio São Francisco no DF estão representadas pela área de número 3.
- D O espaço representado pelo número 2 corresponde à bacia do rio Amazonas.

QUESTÃO 39

A respeito dos recursos hídricos do DF identificados com algarismos romanos no mapa, assinale a opção que apresenta associação **incorreta**.

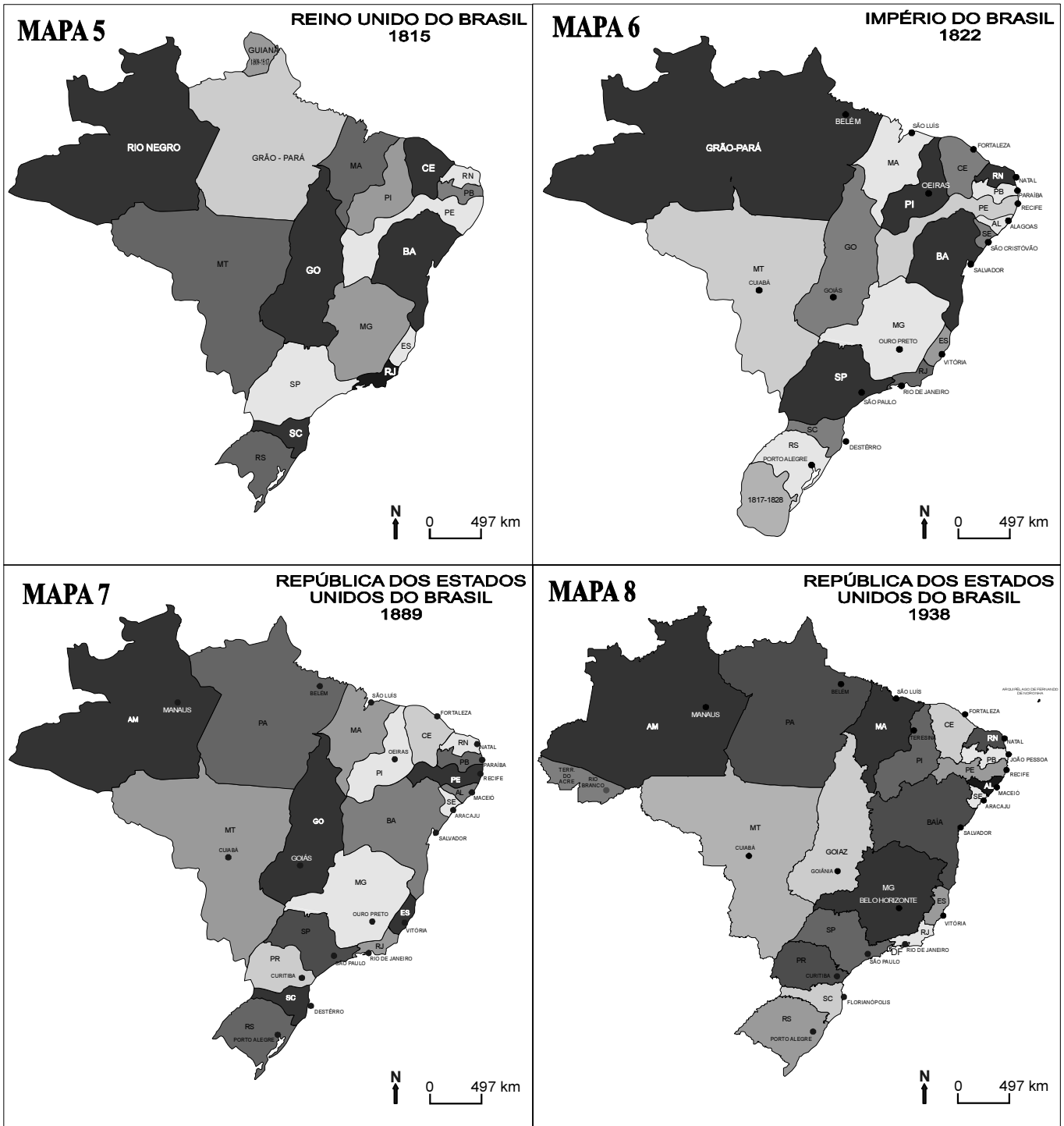
- A I barragem do Paranoá
- B II lagoa do Paranoá
- C III represa de Santa Maria
- D IV barragem do Descoberto

QUESTÃO 40

Considerando a rede de paralelos e meridianos representada no mapa com a indicação dos cruzamentos pelas letras X, Y, Z e P, assinale a opção **incorreta**.

- A As coordenadas geográficas do ponto Z são: 48°00' longitude oeste e 15°30' latitude sul.
- B 48°00' longitude leste e 16°00' latitude norte são as coordenadas terrestres do ponto X.
- C 47°30' longitude oeste e 16°00' latitude sul são as coordenadas geográficas do ponto Y.
- D As coordenadas terrestres do ponto P são as seguintes: 47°30' longitude oeste e 15°30' latitude sul.

MONITORAMENTO DA EVOLUÇÃO DA DIVISÃO POLÍTICO-ADMINISTRATIVA DO BRASIL 1815 - 1822 - 1889 - 1938



LEGENDA

- SIGLA/NOME DAS UNIDADES POLÍTICO-ADMINISTRATIVAS
- EXTENSÃO TERRITORIAL DA UNIDADE POLÍTICO-ADMINISTRATIVA
- CAPITAL DA UNIDADE POLÍTICO-ADMINISTRATIVA

QUESTÃO 41

Observando o mapa da divisão política do Reino Unido do Brasil (1815), assinale a opção **incorreta**.

- A O estado do Acre já estava incorporado no Brasil.
- B O Grão-Pará ainda abrangia o posterior território do Amapá.
- C O estado de Pernambuco se prolongava por todo o vale do rio São Francisco.
- D São Paulo se apresenta muito maior que a atual divisão, porque, naquele período, o território do atual Paraná lhe estava incorporado.

QUESTÃO 42

Acerca da divisão política do Império do Brasil (1822), assinale a opção **incorreta**.

- A O Grão-Pará, com capital em Belém, se apresenta com a anexação do antigo estado do Rio Negro.
- B O Mato Grosso é a segunda maior unidade política em extensão territorial.
- C Pernambuco já se apresenta com divisão política próxima à dos limites atuais.
- D O território correspondente ao atual país Uruguai aparece anexado ao estado brasileiro.

QUESTÃO 43

Observando a divisão política da República dos Estados Unidos do Brasil (1889), assinale a opção **incorreta**.

- A Os estados do Amazonas e do Pará já aparecem desmembrados.
- B O estado de Tocantins já se apresenta desmembrado de Goiás.
- C O Paraná já se encontra desmembrado de São Paulo.
- D O Mato Grosso apresenta a mesma configuração territorial que possuía na divisão política do Brasil em 1822.

QUESTÃO 44

Com referência à divisão político-administrativa brasileira de 1938, assinale a opção **incorreta**.

- A Os estados da Bahia e de Pernambuco vão apresentar fronteiras estaduais próximas às das suas configurações espaciais atuais.
- B O território do Acre já aparece com as suas fronteiras definidas.
- C O território de Roraima ainda não aparece com os seus limites políticos definidos.
- D O território do Amapá já aparece com as suas fronteiras definidas.

QUESTÃO 45

Quanto às características fundamentais de um sistema de informações geográficas (SIG), assinale a opção **incorreta**.

- A Um SIG possui recursos para armazenamento, manipulação e apresentação de informações geográficas.
- B O desenvolvimento dessa tecnologia está associado aos avanços computacionais, com marcos nas décadas de 50 e 60.
- C Os SIGs não são sistemas interativos nem detentores de recursos para organização e cruzamento de dados do território.
- D Esse tipo de sistema consegue manipular informações de várias fontes e formatos dentro de um ambiente computacional ágil.

QUESTÃO 46

Assinale a opção **incorreta** no que se refere aos componentes básicos de um SIG.

- A Não necessita de entrada e integração de dados.
- B Possui funções de processamento gráfico de imagens.
- C É possível a visualização e a plotagem dos trabalhos.
- D Necessita de um banco de dados geográficos.

QUESTÃO 47

Com referência às possibilidades para a entrada e integração de dados em um SIG, assinale a opção **incorreta**.

- A É possível realizar digitalização óptica.
- B Há como proceder à entrada de dados via caderneta de campo.
- C É possível realizar a leitura de dados na forma digital.
- D Não é possível a digitalização em mesa.

QUESTÃO 48

Com referência a procedimentos e combinações para a análise geográfica em um SIG, assinale a opção **incorreta**.

- A É possível realizar superposição e ponderação.
- B Há como elaborar mapas de distâncias (*buffer*).
- C Não há como elaborar medidas dos tipos área e perímetros.
- D É possível realizar tabulação cruzada e consulta a banco de dados.

QUESTÃO 49

No que se refere a modelos gráficos do território, assinale a opção **incorreta**.

- A As modelagens gráficas do território perdem em generalização da informação geográfica representada, mas ganham em aproximação da realidade interpretada.
- B A referência é o recurso com o qual se apresentam estruturas espaciais complexas para explicar sistemas simples.
- C Ao modelo territorial está associada uma representação simplificada ou complexa do mundo real.
- D No modelo, os aspectos selecionados do mundo real, devem ser relacionados e explorados, visando a uma representação, uma simplificação.

QUESTÃO 50

A respeito da rede urbana brasileira recente, assinale a opção **incorreta**.

- A O modelo de desenvolvimento econômico adotado no país conduziu à descentralização de esforços e investimentos, gerando um grande processo de migração externa.
- B Está composta por sistemas regionais de cidades distribuídas ao longo da faixa litorânea e adentrando na região Sudeste.
- C As regiões Sul e Sudeste foram as primeiras a desenvolver maior articulação entre as cidades, acelerando o processo de divisão territorial do trabalho e conduzindo ao avanço dos índices de urbanização.
- D Nos anos 80 do século passado, o ciclo de expansão urbana apresentou uma desaceleração do crescimento urbano quanto à população e ao grau de urbanização.