

Tribunal de Justiça do Estado do Pará

CONCURSO PÚBLICO

Nível Superior

Cargo: 6 ANALISTA JUDICIÁRIO
Área: Apoio Especializado/Especialidade:
Arquitetura

Aplicação: 7/5/2006



MANHÃ

Caderno 25

Leia com atenção as instruções abaixo.

- 1 Ao receber este caderno, confira atentamente se o tipo de caderno — CADERNO 25 — coincide com o que está registrado em sua folha de respostas. Em seguida, verifique se ele contém quarenta questões, correspondentes às provas objetivas, corretamente ordenadas de 1 a 40, seguidas da prova discursiva.
- 2 Caso o caderno esteja incompleto ou tenha qualquer defeito, solicite ao fiscal de sala mais próximo que tome as providências cabíveis.
- 3 O espaço para rascunho da prova discursiva é de uso opcional; não contará, portanto, para efeito de avaliação.
- 4 Não utilize lápis, lapiseira, borracha e(ou) qualquer material de consulta que não seja fornecido pelo CESPE/UnB.
- 5 Não serão distribuídas folhas suplementares para rascunho nem para texto definitivo.
- 6 Não se comunique com outros candidatos nem se levante sem autorização do chefe de sala.
- 7 A duração das provas é de **quatro horas**, já incluído o tempo destinado à identificação — que será feita no decorrer das provas —, ao preenchimento da folha de respostas e à transcrição do texto definitivo da prova discursiva para a folha de texto definitivo.
- 8 Na prova discursiva, não será avaliado texto escrito a lápis, texto escrito em local indevido ou texto que tenha identificação fora do local apropriado.
- 9 Ao terminar as provas, chame o fiscal de sala mais próximo, devolva-lhe a sua folha de respostas e a folha de texto definitivo da prova discursiva e deixe o local de provas.
- 10 A desobediência a qualquer uma das determinações constantes no presente caderno, na folha de respostas ou na folha de texto definitivo da prova discursiva poderá implicar a anulação das suas provas.

AGENDA

- I 9/5/2006, após as 19 h (horário de Brasília) – Gabaritos oficiais preliminares das provas objetivas: Internet — www.cespe.unb.br/concursos/tjpa2006.
- II 10 e 11/5/2006 – Recurso (provas objetivas): exclusivamente no Sistema Eletrônico de Interposição de Recurso, Internet — www.cespe.unb.br/concursos/tjpa2006, mediante instruções e formulários que estarão disponíveis nesse endereço.
- III 31/5/2006 – Resultado final das provas objetivas, resultado provisório da prova discursiva e convocação para avaliação de títulos: Diário da Justiça do Estado do Pará e Internet — www.cespe.unb.br/concursos/tjpa2006.
- IV 1.º e 2/6/2006 – Recurso (prova discursiva) e entrega de títulos: em locais e horários que serão informados na divulgação do resultado provisório.

OBSERVAÇÕES

- Não serão objeto de conhecimento recursos em desacordo com o item 13 do Edital n.º 1/2006 – TJPA, de 1.º/3/2006.
- Informações adicionais: telefone 0(XX) 61 3448-0100; Internet — www.cespe.unb.br/concursos/tjpa2006.
- É permitida a reprodução deste material apenas para fins didáticos, desde que citada a fonte.

CESPE UnB
UNIVERSIDADE DE BRASÍLIA

QUESTÃO	RESPOSTA
1	(A) (B) (C) (D)
2	(A) (B) (C) (D)
3	(A) (B) (C) (D)
4	(A) (B) (C) (D)
5	(A) (B) (C) (D)
6	(A) (B) (C) (D)
7	(A) (B) (C) (D)
8	(A) (B) (C) (D)
9	(A) (B) (C) (D)
10	(A) (B) (C) (D)

QUESTÃO	RESPOSTA
11	(A) (B) (C) (D)
12	(A) (B) (C) (D)
13	(A) (B) (C) (D)
14	(A) (B) (C) (D)
15	(A) (B) (C) (D)
16	(A) (B) (C) (D)
17	(A) (B) (C) (D)
18	(A) (B) (C) (D)
19	(A) (B) (C) (D)
20	(A) (B) (C) (D)

QUESTÃO	RESPOSTA
21	(A) (B) (C) (D)
22	(A) (B) (C) (D)
23	(A) (B) (C) (D)
24	(A) (B) (C) (D)
25	(A) (B) (C) (D)
26	(A) (B) (C) (D)
27	(A) (B) (C) (D)
28	(A) (B) (C) (D)
29	(A) (B) (C) (D)
30	(A) (B) (C) (D)

QUESTÃO	RESPOSTA
31	(A) (B) (C) (D)
32	(A) (B) (C) (D)
33	(A) (B) (C) (D)
34	(A) (B) (C) (D)
35	(A) (B) (C) (D)
36	(A) (B) (C) (D)
37	(A) (B) (C) (D)
38	(A) (B) (C) (D)
39	(A) (B) (C) (D)
40	(A) (B) (C) (D)

• Nas questões de 1 a 40, marque, em cada uma, a única opção correta, de acordo com o respectivo comando. Para as devidas marcações, use, caso deseje, o rascunho acima e, posteriormente, a **folha de respostas**, único documento válido para a correção das suas provas.

• Nas questões que avaliam **Noções de Informática**, a menos que seja explicitamente informado o contrário, considere que todos os programas mencionados estão em configuração-padrão, em português, que o *mouse* está configurado para pessoas destros e que expressões como clicar, clique simples e clique duplo referem-se a cliques com o botão esquerdo do *mouse*. Considere também que não há restrições de proteção, de funcionamento e de uso em relação aos programas, arquivos, diretórios e equipamentos mencionados.

CONHECIMENTOS BÁSICOS

Texto para as questões 1 e 2

- 1 É preciso ter cuidado com as palavras. Elas são
verdadeiras armas. Algumas vezes mortais. Certas pessoas
têm o dom de dizer as mais afiadas, que entram feito uma
4 flecha envenenada. Porém, em muitos casos, o atingido é
aquele que usou a arma, ou seja, o falador. Esse, por exemplo,
pode sofrer horríveis arrependimentos por ter dito o que não
7 deveria ter dito. Mas como não dizer aquilo que pensamos?

Há maneiras de dizer sem dizer, e de dizer, desdizendo.

Ana Miranda. **O oráculo insondável**. In: **Correio Brasileiro**, Caderno C, p. 10, 2/4/2006 (com adaptações).

QUESTÃO 1

Assinale a opção **incorreta** com relação à argumentação do texto.

- (A) As palavras podem ter conseqüências tão perigosas quanto as armas, que têm a capacidade de ferir mortalmente.
(B) Palavras devem ser usadas com cuidado, pois podem ter conseqüências nefastas tanto para quem as ouve quanto para quem as pronuncia.
(C) Em todas as circunstâncias, é mais prudente não dizer nada porque as palavras são perigosas e, uma vez ditas, não são recolhidas.
(D) O perigo das palavras recomenda que se empregue cautela ao dizê-las, pois a maneira de dizer pode ser tão importante quanto o próprio dizer.

QUESTÃO 2

Constrói-se a textualidade estabelecendo-se relações de retomadas de sentido, em que certas palavras remetem a outras, em uma verdadeira cadeia de elos de coesão. Nesse sentido, assinale a opção **incorreta**.

- (A) “Algumas” (l.2) retoma “palavras” (l.1).
(B) “que” (l.3) retoma a idéia de “palavras” (l.1).
(C) “o falador” (l.5) retoma “o atingido” (l.4).
(D) “Esse” (l.5) retoma e demonstra “o falador” (l.5).

Texto para as questões de 3 a 5

- 1 A democracia do Estado contemporâneo necessita, de
maneira imprescindível, da consagração da supremacia
constitucional e do respeito aos direitos fundamentais, que
4 somente estarão presentes nos países em que houver um
Judiciário forte, dotado de plena independência e que possa
efetivar suas decisões. A independência judicial constitui
7 direito dos cidadãos, e é triste um país que não a possui.

O magistrado, no momento de julgar, não pode receber ordens de nenhuma autoridade interna ou externa, sendo essa
10 idéia essencial à independência do Judiciário.

A maioria esmagadora dos juizes brasileiros dedicam suas vidas à luta por uma magistratura independente,
13 democrática, transparente e justa e jamais se esquecem da lição do grande Rui: “A autoridade da Justiça é moral, e sustenta-se pela moralidade de suas decisões”.

Alexandre de Moraes. **União pelo fortalecimento**. In: **Folha de S. Paulo**, 25/3/2006 (com adaptações).

QUESTÃO 3

Assinale a opção que apresenta a idéia em torno da qual a argumentação do texto se organiza.

- (A) O direito dos cidadãos, consubstanciado em um Poder Judiciário forte, só é respeitado em uma democracia independente, transparente, soberana e justa.
(B) Um Poder Judiciário forte e independente é direito dos cidadãos e pilar de sustentação da supremacia constitucional em um Estado democrático.
(C) O respeito à independência do magistrado no momento de julgar, negando-se a receber ordens de autoridade interna ou externa, já foi lema de Rui Barbosa.
(D) A luta dos juizes brasileiros por uma magistratura independente e democrática vai de encontro ao direito dos cidadãos que acreditam que a ‘autoridade da Justiça é moral’ (l.14).

QUESTÃO 4

No desenvolvimento da argumentação do texto, as formas verbais que indicam uma probabilidade ou suposição **não** incluem

- A “estarão” (l.4).
- B “houver” (l.4).
- C “possa” (l.5).
- D “sendo” (l.9).

QUESTÃO 5

Assinale a opção **incorreta** a respeito do emprego das estruturas lingüísticas no texto.

- A No trecho “A democracia (...) necessita, **de** maneira imprescindível, **da** consagração **da** supremacia constitucional e **do** respeito aos direitos fundamentais” (l.1-3), o uso da preposição **de** nos termos destacados é exigência da forma verbal “necessita”, para que sejam respeitadas as regras de regência gramatical.
- B As regras gramaticais do padrão culto da língua portuguesa exigem o emprego da preposição no termo “em que” (l.4), o que indica que esse termo pode ser substituído pelo pronome **onde**.
- C Nas linhas 4 e 5, a flexão de singular na forma verbal “possa” indica que o pronome “que” refere-se a “Judiciário” e não a “países”, como poderia ser depreendido da organização textual.
- D Seria preservada a coerência textual e a correção gramatical também com a alternativa de emprego da forma verbal “dedicam” (l.11) no singular: **dedica**.

Texto para as questões de 6 a 8

1 Desde que eu vou ao Fórum Econômico Mundial em Davos, nenhum país atçou a imaginação da conferência e dominou a discussão como a Índia em 2006.

4 O Estado indiano foi um estrondoso sucesso em uma frente. A democracia indiana é uma maravilha a ser observada. Um dos países mais pobres do mundo, ela manteve um governo democrático por mais de 60 anos. E essa é, certamente, uma das maiores virtudes do país quando comparado a muitos outros países em desenvolvimento.

10 A democracia dá lugar ao populismo, politicagem e perda de tempo. Mas também dá lugar à estabilidade no longo prazo. Há elementos da democracia que ferem, principalmente em um país com pobreza, feudalismo e analfabetismo galopantes. Democracia na Índia freqüentemente significou não a vontade da maioria, mas a vontade das minorias organizadas. Mas a democracia tem seus próprios meios de se reequilibrar.

Fareed Zakaria. **Por que a Índia é um exemplo.**
In: *Época*, 6/3/2006 (com adaptações).

QUESTÃO 6

Julgue os seguintes itens, a respeito das idéias do texto.

- I O autor considera o regime democrático positivo, mesmo quando sofre adaptações.
- II O texto usa a Índia como exemplo de uma proposta de intervenção e reestruturação dos sistemas democráticos de governo nos países mais pobres.
- III A tese defendida pela argumentação do texto é a de que o Fórum Econômico Mundial de Davos tem valorizado aspectos políticos, como a democracia nos países pobres.

A quantidade de itens certos é igual a

- A 0.
- B 1.
- C 2.
- D 3.

QUESTÃO 7

Pelo tema abordado, o texto pode integrar um documento oficial, como um relatório ou um parecer, por exemplo. Assinale a opção que representa uma alteração necessária para que o texto respeite, também na forma, as normas de redação de documentos oficiais.

- A Reescrever a primeira oração de maneira menos pessoal: **Desde que existe o Fórum Econômico Mundial de Davos.**
- B Substituir a preposição “por” (l.7) por outra de regência mais formal: **durante**.
- C Retirar a idéia de avaliação sugerida pela comparação com “outros países em desenvolvimento” (l.9).
- D Substituir as duas ocorrências da expressão coloquial “dá lugar” (l.10) pelo verbo, mais formal, **cede**.

QUESTÃO 8

No texto, os trechos que se apresentam na voz passiva, ou seja, estabelecem uma relação em que o sujeito verbal recebe a ação incluem

- I “O Estado indiano foi um estrondoso sucesso” (l.4).
- II “uma maravilha a ser observada” (l.5-6).
- III “quando comparado a muitos outros países” (l.8-9).
- IV “Há elementos da democracia” (l.12).
- V “seus próprios meios de se reequilibrar” (l.16-17).

Estão certos apenas os itens

- A I e IV.
- B I e V.
- C II e III.
- D III, IV e V.

Texto para as questões 9 e 10

1 Se separarmos da palavra civilização as noções de utilitarismo e progressismo, dadas pelo senso comum e pelo pensamento conservador (“desenvolvimento da indústria e do comércio, aquisição de bens materiais e de luxo”), e restituirmos a ela o sentido original, “fineza dos costumes”, “educação dos espíritos”, “desenvolvimento da polidez”, 4 “cultura das artes e das ciências”, podemos dizer então que a civilização está a perigo.

No plano político, no lugar da antiga idéia de 10 Constituição e respeito à cidadania, o termo civilização passou a ser associado a *performance*, espetáculo, *marketing*, simulação e, principalmente, eficácia.

Adauto Novaes. *Sobre tempo e história*. In: Adauto Novaes (Org.). *Tempo e história* (com adaptações).

QUESTÃO 9

Infere-se da argumentação do texto que “a civilização está a perigo” (l.8) porque

- A não se separa, do pensamento conservador, a noção de espetáculo e *performance*.
- B passou a representar o pensamento conservador do senso comum, em lugar da Constituição.
- C a eficácia, em lugar da civilização, deu lugar ao utilitarismo e progressismo, associando-se a simulação.
- D não representa mais ‘fineza dos costumes’ (l.5), ‘educação dos espíritos’ (l.6), ‘desenvolvimento da polidez’ (l.6) ou ‘cultura das artes e das ciências’ (l.7).

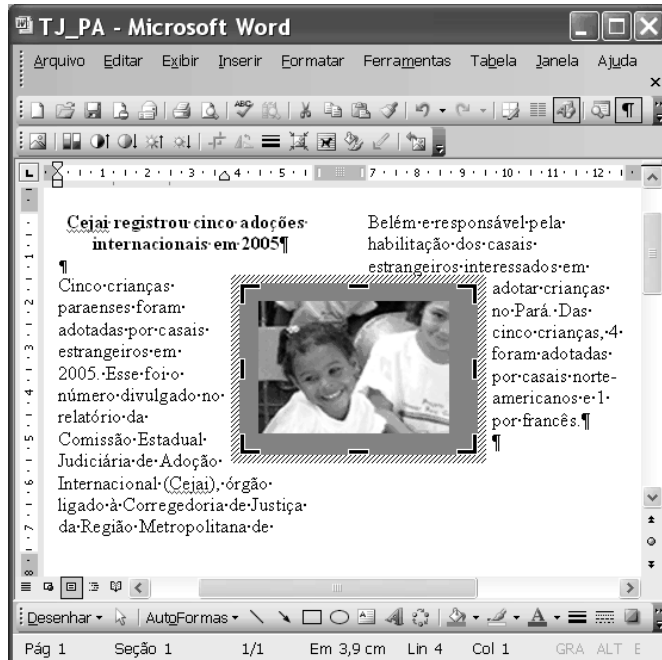
QUESTÃO 10

Assinale a opção em que a alteração proposta para o texto prejudica sua coerência ou resulta em incorreção gramatical.

- A Inserção de duas vírgulas, na linha 1: depois de “separarmos” e depois de “civilização”.
- B Substituição de “restituirmos a ela” (l.5) por **lhe restituirmos**.
- C Retirada da vírgula que antecede a oração iniciada por “podemos” (l.7).
- D Inserção da preposição **a** antes de “eficácia” (l.12).





Texto para as questões de 11 a 13

A figura a seguir ilustra uma janela do Word 2003 que está sendo executado em um computador cujo sistema operacional é o Windows XP. O documento em elaboração contém texto e imagem que foram extraídos de uma página *web* do sítio www.tj.pa.gov.br. A imagem está sobre uma tela de desenho.



QUESTÃO 11

Considerando as informações do texto, assinale a opção correta.

- A Na situação em que se encontra a janela do Word, caso se teclasse , apenas a tela de desenho mencionada no texto será excluída, enquanto a imagem nela contida permanecerá no documento em edição.
- B O botão  permite abrir documento do tipo Word armazenado no computador, desde que o arquivo associado não esteja definido como somente para leitura. Caso o arquivo esteja com a referida definição, ele pode ser aberto por meio do botão .
- C O texto mostrado na janela do Word pode ter sido inserido no documento, a partir da página *web* mencionada, por meio de recursos de copiar e colar do Windows XP. No entanto, esse procedimento não funciona no caso de imagem, sendo necessário que ela seja copiada em arquivo, antes de ser inserida no documento.
- D Por meio de recursos disponibilizados ao se clicar , é possível realizar procedimento para inserir uma imagem no documento em edição, desde que ela esteja armazenada em arquivo.





QUESTÃO 12

Ainda considerando as informações do texto, assinale a opção **incorreta**.

- A É possível inserir o termo **Tribunal de Justiça do Pará** como cabeçalho do documento em edição por meio de recursos acessados no menu **Editar**.
- B É possível salvar o documento em edição com o nome TJ_PA_versão_2.doc por meio de procedimento realizado unicamente via teclado.
- C O procedimento descrito a seguir permite alterar a fonte, seu estilo e seu tamanho na primeira linha mostrada da primeira coluna do documento: selecionar a referida linha; clicar o botão direito do *mouse*; na lista disponibilizada, clicar opção que permite realizar as alterações mencionadas; na janela que é aberta em decorrência dessa ação, realizar as alterações desejadas.
- D Na situação em que se encontra a janela do Word, é correto afirmar que o documento está formatado para duas colunas. É possível alterar essa formatação por meio de opção encontrada no menu **Formatar**.

QUESTÃO 13

Considerando a situação em que se encontra a janela do Word mostrada no texto, assinale a opção correta.

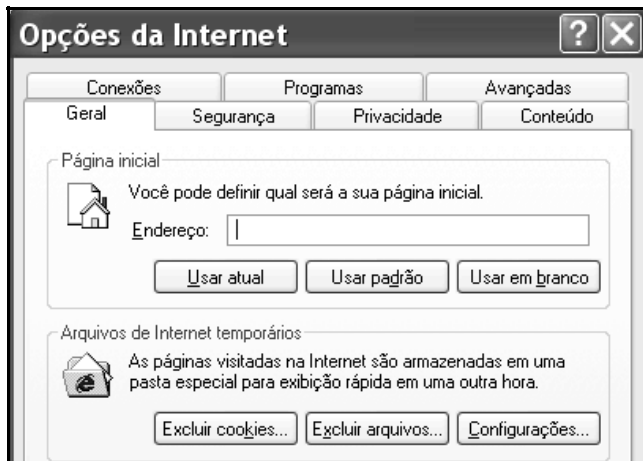
- A Em função do posicionamento da tela de desenho com relação ao texto, é correto inferir que os parágrafos mostrados do documento não podem ser justificados às margens esquerda e direita.
- B A tela de desenho mostrada pode ter sido inserida no documento por meio de recursos disponibilizados ao se clicar o botão .
- C Os botões  e  permitem alterar a cor de fundo da tela de desenho que está sob a imagem mostrada no documento.
- D É possível inserir uma moldura na tela de desenho mostrada por meio do botão .

QUESTÃO 14

A figura acima ilustra parte da janela que contém as propriedades de uma conta de *e-mail* configurada no Outlook Express 6 (OE6). Considerando essa figura, assinale a opção correta.

- A Ao se clicar a guia **Avançado**, será disponibilizado recurso que permite configurar o OE6 de modo que, ao se receber uma mensagem de correio eletrônico, o nome e o endereço de *e-mail* do remetente seja adicionado ao catálogo de endereços do OE6.
- B Para evitar que pessoas não-autorizadas acessem a conta “José”, pode-se configurar uma senha, por meio de recursos encontrados na guia **Servidores**, de maneira que seja feita a solicitação para fornecimento dessa senha toda vez que se execute o OE6 para realizar procedimento de enviar ou receber uma mensagem de *e-mail*.
- C O OE6 permite que se faça, em pasta específica do computador, *backup* das respostas às mensagens recebidas. Para isso, é suficiente digitar no campo **Endereço para resposta:** o endereço da pasta em que se deseja fazer o *backup*.
- D Caso a marcação mostrada na janela — referente a incluir esta conta ao receber ou sincronizar *e-mails* — seja desabilitada, a conta “José” não poderá ser utilizada para enviar ou receber mensagens de correio por meio do OE6.

QUESTÃO 15



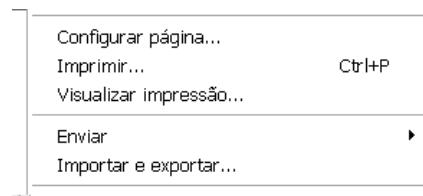
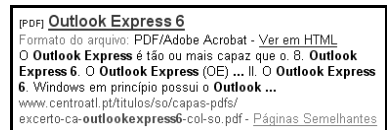
A figura acima ilustra parte da janela Opções da Internet que foi executada em um computador cujo sistema operacional é o Windows XP, a partir do *menu* Ferramentas do Internet Explorer 6 (IE6). Considerando essa figura, assinale a opção correta.

- A Por meio do botão **Excluir cookies...**, é possível excluir todos os *cookies* que estejam armazenados no computador como resultado de sessões de uso do IE6, enquanto que o botão **Configurações...** disponibiliza recursos que permitem excluir apenas *cookies* selecionados.
- B Considere que se deseje configurar o IE6 de forma que seja gerada uma mensagem de alerta quando se acessar determinado sítio na Internet. Nessa situação, a guia **Conexões** disponibiliza recursos que permitem elaborar uma lista de sítios para os quais, quando forem acessados, o IE6 gerará a mensagem mencionada.
- C Recursos da guia **Programas** permitem definir o programa antivírus que será usado quando se acessar a Internet por meio do IE6. Esses recursos permitem definir também o tipo de certificado de segurança que será usado ao se acessar sítios em que são realizadas transações sigilosas, como no acesso a sítios de bancos.
- D Na guia **Privacidade**, existem recursos que permitem definir, em uma lista, todos os sítios da Web que se deseja ter acesso permitido. Dessa forma, apenas os sítios que estejam nessa lista podem ser acessados por meio do IE6.

QUESTÃO 16

Assinale a opção correta, com relação a conceitos de Internet, correio eletrônico e aplicativos desenvolvidos para uso em redes de computadores.

- A Os programas de correio eletrônico Outlook e Outlook Express foram desenvolvidos pela Microsoft para serem executados em computadores com o Windows XP instalado. Ao contrário do Outlook, que pode ser obtido gratuitamente na Internet por *download*, o Outlook Express faz parte do pacote de aplicativos Microsoft Office e, portanto, necessita de licença para uso.
- B Mozilla é uma organização que desenvolve aplicativos voltados para a Internet que podem ser utilizados gratuitamente. Entre eles está o Firefox, o qual é uma família de aplicativos que inclui *browser*, correio eletrônico e editor de HTML, que é a linguagem de criação de páginas *web* na Internet.
- C Considere que as informações mostradas no quadro ao lado tenham sido obtidas como resultado de uma pesquisa realizada na Internet. Nessa situação, é correto inferir que a página *web* associada a essas informações não pertence a um sítio brasileiro e, caso se clique o *hyperlink* **Outlook Express 6**, será realizado o *download* de um arquivo no formato PDF.
- D A figura a seguir mostra parte das opções do *menu* **Arquivo** do IE6. Recursos disponibilizados ao se clicar **Importar e exportar...** permitem salvar a página atual do IE6 como arquivo do tipo Word, bem como permitem inserir o conteúdo de um arquivo do tipo Word em página *web* em desenvolvimento.



QUESTÃO 17

Considere a situação em que um usuário deseja gravar uma cópia de segurança de cinco arquivos que, juntos, ocupem uma quantidade de memória de 1,5 *megabytes*. Com relação a essa situação, assinale a opção correta.

- A Com o uso do programa WinZip 8.1, é possível compactar o grupo de arquivos citado, salvando-os em apenas um arquivo do tipo WinZip.
- B Esses cinco arquivos não poderiam ser armazenados sem compactação em um dispositivo do tipo *pen-drive*, pois o limite de memória desse tipo de dispositivo é inferior a 1 bilhão de *bytes*, que é inferior a 1,5 *megabyte*.
- C Uma grande desvantagem dos dispositivos do tipo CD-ROM é o fato de terem capacidade máxima de armazenamento de 300 milhões de *bytes*.
- D Os dispositivos não-voláteis de armazenamento mais eficientes disponíveis atualmente são as memórias RAM, que, além disso, não consomem energia.

QUESTÃO 18

Em computadores que utilizam como sistema operacional o Windows XP, é possível configurar a resolução da tela do monitor de vídeo por meio da janela Propriedades de vídeo. Assinale a opção que apresenta uma forma correta de abrir essa janela.

- A) Clicar, com o botão direito do *mouse*, um ponto sem ícones da *desktop* do Windows e clicar Propriedades.
- B) Clicar, com o botão direito do *mouse*, um ponto sem ícones da barra de tarefas do Windows e clicar Propriedades.
- C) Clicar, com o botão direito do *mouse*, sobre o ícone associado à lixeira do Windows e clicar Propriedades.
- D) Aplicar um clique duplo no ícone associado à pasta Meu computador.

Texto para as questões 19 e 20

A janela do Excel 2003 ilustrada a seguir apresenta algumas tabelas de custas judiciais extrajudiciais, em processo de edição, extraídas e adaptadas do sítio www.tj.pa.gov.br. A janela encontra-se em execução em um computador PC cujo sistema operacional é o Windows XP.

	A	B	C
1	Tabelas de custas judiciais extrajudiciais		
2			
3			valor (R\$)
4		casamento nos cartórios	111,40
5		casamento a domicilio	222,80
6		casamento após as 18 h	223,70
7		Máximo valor da tabela	223,70
8		assentos no prazo	37,60
9		assentos fora do prazo	68,80
10		assentos fora do prazo legal	66,80
11		Máximo valor da tabela	
12			

QUESTÃO 19

Com base na situação em que se encontra a janela mencionada no texto, assinale a opção **incorreta** acerca do Excel 2003.

- A) O conteúdo da célula C7 pode ter sido obtido utilizando-se recursos disponibilizados pelo conjunto de botões .
- B) O conteúdo da célula C11 será igual a 68,80 após a execução do seguinte procedimento: clicar a célula C7; pressionar e manter pressionada a tecla ; teclar ; clicar a célula C11; teclar ; liberar a tecla .
- C) Considere que o conteúdo da célula C5 contenha a fórmula =2*C\$4. Caso esse conteúdo seja copiado e colado na célula C9, o valor numérico da célula C9 passará a ser igual a 75,20.
- D) O efeito mostrado no conjunto de células mescladas A3 e B3 pode ter sido obtido por meio de recursos disponibilizados ao se clicar a guia na janela do Excel 2003 parcialmente mostrada na figura a seguir.

**QUESTÃO 20**

Ainda com base na situação em que se encontra a janela mencionada no texto, assinale a opção correta acerca do Excel 2003.

- A) O comentário associado à célula C7 pode ter sido inserido na planilha ao se clicar o botão e digitar o comentário apresentado na figura.
- B) Ao se clicar o botão , será executada uma janela do Internet Explorer.
- C) O conteúdo da célula C9 será igual a 688,0, caso o botão seja clicado, após se ter clicado a referida célula.
- D) Pelo efeito de texto mostrado na janela do Excel, o conjunto de células mescladas de A1 a C2 pode estar formatado para alinhamento horizontal e vertical central e para retorno automático de texto.

CONHECIMENTOS ESPECÍFICOS

QUESTÃO 21

A respeito das fases do trabalho do arquiteto, assinale a opção correta.

- A O estudo preliminar consiste da análise das condicionantes geográficas, ambientais, legais, técnicas, econômicas e sociais para o estabelecimento do programa a ser seguido, em termos de funções, quantidades e áreas.
- B O projeto executivo, que sucede o anteprojeto, tem por finalidade orientar e esclarecer a execução da obra.
- C O estudo preliminar inclui os desenhos e memoriais necessários à aprovação do projeto arquitetônico junto aos poderes públicos.
- D O anteprojeto consiste em plantas, cortes, seções parciais, elevações e detalhes suficientes para que fiquem consolidadas todas as dimensões e características do projeto.

QUESTÃO 22

dimensão do desenho (em cm)	escala	dimensão real do objeto (em m)
20,00 × 10,00	1:25	5,00 × 2,50
I	1:50	20,00 × 20,00
10,00 × 2,00	1:100	II
30,00 × 20,00	III	3,00 × 2,00
20,00 × 10,00	1:500	IV
15,00 × 7,50	V	3,00 × 1,50

Seguindo-se o exemplo apresentado na primeira linha da tabela acima, é correto concluir que os campos indicados por I, II, III, IV e V são respectivamente iguais a

- A 40,00 × 40,00; 10,00 × 2,00; 1:10; 100,00 × 50,00; 1:20.
- B 2,00 × 2,00; 100,00 × 20,00; 1:10; 100,00 × 50,00; 1:5.
- C 4,00 × 4,00; 10,00 × 2,00; 1:100; 1.000,00 × 500,00; 1:20.
- D 2,00 × 2,00; 10,00 × 2,00; 1:1; 1.000,00 × 500,00; 1:5.

QUESTÃO 23

Antes do estudo de viabilidade técnico-financeira, o arquiteto deve providenciar alguns itens. Esses **não** incluem

- A criar um programa de necessidades.
- B reunir as informações pertinentes à legislação arquitetônica e urbanística referente ao local para onde o projeto se destina.
- C reunir os dados geo-climáticos e ambientais do terreno e do seu entorno.
- D conhecer a legislação ambiental referente ao local para onde o projeto se destina.

Texto para as questões 24 e 25

Considere quatro escadas que possuem as quantidades de pisos e de espelhos e as suas respectivas larguras, como indicadas a seguir:

escada 1: 14 pisos de 27,00 cm e 15 espelhos de 17,00 cm;
escada 2: 14 pisos de 27,00 cm e 15 espelhos de 17,50 cm;
escada 3: 14 pisos de 27,00 cm e 15 espelhos de 18,00 cm;
escada 4: 14 pisos de 27,00 cm e 15 espelhos de 18,50 cm.

QUESTÃO 24

Assinale a opção que apresenta a escada indicada para substituir uma rampa de 33,75 m de comprimento e 8% de inclinação.

- A escada 1
- B escada 2
- C escada 3
- D escada 4

QUESTÃO 25

Uma referência usual para o dimensionamento de escadas é a fórmula de Blondel: $62 \text{ cm} \leq p + 2e \leq 64 \text{ cm}$, em que p é a medida do piso e e é a medida da altura do espelho do degrau, ambas em cm. A quantidade de escadas apresentadas no texto acima que atendem à fórmula de Blondel é igual a

- A 4.
- B 3.
- C 2.
- D 1.

RASCUNHO

QUESTÃO 26

Instalações elétricas e telefônicas e redes de computadores devem seguir a normas técnicas para funcionarem adequadamente. Com relação a esse assunto, assinale a opção **incorreta**.

- Ⓐ Considere que em uma construção convencional, o projeto preveja as instalações de lógica, de telefone e de energia elétrica pelo forro. Essa situação é aceitável desde que cada sistema tenha um caminhamento independente.
- Ⓑ Em uma construção modulada, com as instalações percorrendo canaletas pré-fixadas, as instalações elétricas, telefônicas e de lógica podem usar os mesmos caminhamentos, desde que sejam isoladas para evitar a indução eletromagnética.
- Ⓒ Distribuições de lógica e de telefone podem ser compatibilizadas com a elétrica, desde que a elétrica esteja isolada em eletrodutos plásticos.
- Ⓓ O volume das instalações de lógica, com o incremento das redes internas de computadores em empresas nos últimos anos, exigiu que a arquitetura previsse espaços específicos para este tipo de instalação.

QUESTÃO 27

Considerando um edifício de 3 andares, 4 apartamentos por andar, ocupação média de 6 pessoas por apartamento, consumo diário médio de 200 litros de água por pessoa, armazenamento de $\frac{2}{3}$ da água no reservatório inferior e $\frac{1}{3}$ no superior e uma reserva de água para dois dias, assinale a opção **incorreta**.

- Ⓐ O reservatório inferior deve ter capacidade para 19.200 litros de água.
- Ⓑ O reservatório superior deve comportar 9.600 litros de água.
- Ⓒ O consumo diário do edifício é de 14.400 litros de água.
- Ⓓ A reserva de água para dois dias corresponde a 14.400 litros de água.

QUESTÃO 28

Cada vez mais, a linguagem por meio da imagem ganha importância. Isso pode ser constatado a qualquer momento, no cenário cotidiano veiculando mensagens que regulamentam o comportamento dos indivíduos na esfera da prática social, mostrando-lhes os comportamentos permitidos ou proibidos, advertindo-lhes acerca da existência de perigo ou necessidade de cautela, ainda, orientando seus passos ou a sua proximidade de objetos: são mil placas e setas indicando locais e direções, pictogramas substituindo frases, marcas e produtos, telas e monitores teleguiando nossas emoções, *outdoors* e a mídia eletrônica servindo de orientação para o nosso dia-a-dia, enfim, *backlights* em profusão!

I. Minami. Paisagem urbana de São Paulo. Publicidade externa e poluição visual. In: *Arquitextos* 13, Texto Especial 74, jun./2001 (com adaptações).

O texto acima aborda o tema da poluição visual causada pela profusão de imagens nas cidades contemporâneas. Nesse contexto, considera-se inadequada uma programação visual que tenha como objetivo

- Ⓐ valorizar os espaços urbanos e arquitetônicos.
- Ⓑ garantir a orientabilidade do usuário nos espaços urbanos e arquitetônicos.
- Ⓒ contribuir para a fluidez dos espaços urbanos e arquitetônicos.
- Ⓓ transformar os espaços urbanos e arquitetônicos em objetos de consumo.

QUESTÃO 29

Um recurso muito utilizado para ventilar e iluminar ambientes é a colocação de *sheds*. Eles devem ser projetados dentro de critérios específicos e adequados a condicionantes externos. Com base nesses critérios e condicionantes, assinale a opção **incorreta**.

- Ⓐ As plantas quadradas, com grandes áreas, são as que mais demandam o uso de *sheds*.
- Ⓑ Um *shed* serve para iluminar e ventilar, mas deve-se evitar a insolação direta para não interferir nas atividades nos ambientes.
- Ⓒ Do ponto de vista da iluminação, a abertura do *shed* deve estar orientada para a menor insolação (sul, no hemisfério Sul) e, do ponto de vista da ventilação, a orientação do *shed* deve favorecer a entrada dos ventos dominantes vindos do Leste. Portanto, a abertura para Sudeste é a ideal.
- Ⓓ Uma maneira de se evitar a entrada de raios solares diretamente nos ambientes é criar obstáculos que favoreçam a luz indireta sem obstruir o ar.

QUESTÃO 30

As paredes de um imóvel comercial de 2,50 m de pé-direito, com uma sala de 5 m × 9 m e um lavabo de 1,5 m × 1,30 m, deverão ser revestidas de fórmica texturizada. Considere que:

- ▶ cada folha de fórmica *standard* mede 1,53 m × 3,66 m;
- ▶ só serão permitidas juntas verticais, com espaço de, no mínimo, 70 cm;
- ▶ a porta de entrada da sala mede 0,80 m × 2,10 m e está localizada na face de 5 m;
- ▶ a porta do lavabo mede 0,60 m × 2,10 m e está localizada na outra face de 5 m da sala e na parede de 1,30 m do lavabo;
- ▶ a janela mede 3 m × 1,50 m e está a uma altura $h = 1$ m do piso, localizando-se em uma das paredes de 9 m;
- ▶ a ventilação do lavabo se dá pelo teto, ou seja, não há abertura na parede.

Nessa situação, assinale a opção que apresenta o número de folhas de fórmica necessárias para o revestimento, considerando-se um mínimo de perdas.

- Ⓐ 18 folhas
- Ⓑ 19 folhas
- Ⓒ 20 folhas
- Ⓓ 21 folhas

RASCUNHO

QUESTÃO 31

Conforme o art. 9.º da Lei n.º 8.666/1993, (Lei das Licitações), **não** poderão participar, direta ou indiretamente, da licitação ou da execução de obra de responsabilidade da administração pública,

- A os autores do projeto básico ou executivo.
- B as empresas responsáveis pela elaboração do projeto básico ou executivo.
- C os servidores ou dirigentes de órgão ou entidade contratante ou responsável pela licitação.
- D os parentes consanguíneos de qualquer dos agentes responsáveis pela licitação.

QUESTÃO 32

Considere as seguintes características dos processos de licitação:

- A Licitação entre interessados do ramo, escolhidos e convidados pela unidade administrativa, a qual afixará, em local apropriado, cópia do instrumento convocatório.
- B Licitação entre interessados devidamente cadastrados ou que atenderem a todas as condições exigidas para cadastramento até o terceiro dia anterior à data do recebimento das propostas.
- C Licitação entre quaisquer interessados para escolha de trabalho técnico, científico ou artístico, mediante a instituição de prêmios ou remuneração.
- D Licitação entre quaisquer interessados que, na fase inicial de habilitação preliminar, comprovem possuir os requisitos mínimos de qualificação exigidos no edital para execução de seu objeto.

Considere também as seguintes modalidades de licitação:

1 – concorrência; 2 – tomada de preços; 3 – carta convite; 4 – concurso.

Considere ainda os seguintes limites financeiros nos processos licitatórios:

I – até cento e cinquenta mil reais; II – variável; III – até um milhão e quinhentos mil reais; IV – acima de um milhão e quinhentos mil reais.

Assinale a opção correspondente à associação correta entre características dos processos de licitação, modalidades de licitação e limites de valores nos processos licitatórios, de acordo com a Lei n.º 8.666/1993, para serviços de engenharia na administração pública.

- A B-1-IV, A-2-III, C-2-I, D-4-II
- B D-1-IV, B-2-III, A-3-I, C-4-II
- C A-1-I, B-2-II, C-3-III, D-4-IV
- D C-1-II, B-2-III, A-3-I, D-4-IV

QUESTÃO 33**Tabela I**

1 - vistoria

2 - perícia

3 - avaliação

4 - laudo

Tabela II

A - relato das observações e das conclusões sobre um determinado evento

B - determinação técnica do valor de um bem

C - apuração das causas que motivaram determinado evento

D - constatação de um fato, após um exame circunstanciado

A tabela I acima lista 4 atribuições dos engenheiros, conforme a Resolução n.º 345/1990 do Conselho Federal de Engenharia, Arquitetura e Agronomia (CREA). Já a tabela II contém uma lista com 4 descrições que podem ser associadas às atribuições na tabela I. Assinale a opção que contém a associação correta entre os itens da tabela I e os da tabela II.

- A 1D, 2C, 3B, 4A
- B 1C, 2D, 3A, 4B
- C 1B, 2C, 3D, 4A
- D 1A, 2B, 3C, 4D

QUESTÃO 34

Considere as seguintes causas de rachaduras em edifícios com estrutura de concreto e paredes de alvenaria:

1 – recalque; 2 – sobrecarga; 3 – variação térmica; 4 – cargas excêntricas; 5 – corrosão.

Tais causas têm relação com os seguintes fatores:

A – cobertura insuficiente; B – subdimensionamento da estrutura; C – ausência de juntas de dilatação; D – subestimativa da tensão admissível do solo.

Assinale a opção que contém a relação correta entre as causas e os fatores indicados acima.

- A 1C, 2A, 3B, 4B, 5E
- B 1E, 2B, 3C, 4B, 5A
- C 1B, 2D, 3C, 4B, 5E
- D 1E, 2A, 3B, 4E, 5C

QUESTÃO 35

No AutoCAD 14, a área *MODES* contém algumas opções. Acerca dessas opções, julgue os itens a seguir.

- I *Solid Fill* determina se os pequenos marcadores de tela temporários serão acionados quando houver seleção ou inserção de pontos.
- II *Highlight* determina se os objetos serão destacados quando selecionados.
- III *Blips* limita os movimentos do cursor a linhas verticais e horizontais.
- IV *Ortho* controla se certos objetos devem ser exibidos na forma de preenchimento ou de contorno.

A quantidade de itens certos é igual a

- A 1.
- B 2.
- C 3.
- D 4.

QUESTÃO 36

Segundo definição dada pela Associação Internacional de Ergonomia (IEA) em 2000, a ergonomia é uma disciplina científica relacionada ao entendimento das interações entre os seres humanos e outros elementos ou sistemas, e à aplicação de teorias, princípios, dados e métodos a projetos a fim de otimizar o bem estar humano e o desempenho global do sistema. Nesse contexto, para o arquiteto, a ergonomia tem como função

- A proporcionar conforto por meio da adequação dos ambientes à anatomia humana.
- B prevenir acidentes pela redução dos movimentos repetitivos.
- C otimizar a relação custo/benefício nos ambientes de trabalho.
- D criar cenários adequados às demandas psicológica e cognitiva dos indivíduos.

QUESTÃO 37

Tabela I elementos	Tabela II altura h (m)
1. bancada de cozinha	a. $0,15 < h < 0,20$
2. cais (desnível) para carga e descarga	b. $0,35 < h < 0,50$
3. corrimão	c. $0,60 < h < 0,90$
4. lavatório para cadeira de rodas	d. $1,00 < h < 1,20$
5. peitoril	e. $1,50 < h < 2,00$
6. porta	f. $2,10 < h < 2,50$
7. degrau de escada	

A tabela I acima mostra alguns elementos que fazem parte do ambiente arquitetônico e a tabela II apresenta uma série de intervalos de altura (h) medidos em metros (m). Assinale a opção que estabelece a correspondência ergonomicamente correta entre os elementos da tabela I e os intervalos de altura da tabela II.

- A 1e, 2d, 3c, 4d, 5b, 6c, 7a
- B 1d, 2e, 3d, 4c, 5c, 6d, 7a
- C 1c, 2d, 3c, 4c, 5c, 6f, 7a
- D 1e, 2d, 3b, 4b, 5d, 6f, 7b

QUESTÃO 38

Com relação a vaga de estacionamento a NBR 9050, que trata da acessibilidade, estabelece, no item 10.6.1.2, — que, junto à vaga, a circulação para a pessoa portadora de deficiência ambulatoria deve ser sinalizada por meio de faixa de 1,20 m de largura, pintada em amarelo e complementada por rebaixamento de guias e passeios. Considerando que uma faixa de estacionamento, oblíquo a 45°, conta com 10 vagas comuns e duas para portador de deficiência, assinale a opção que mais se aproxima do comprimento correto do estacionamento nesse trecho.

- A 30 m
- B 32 m
- C 42 m
- D 45 m

As questões 39 e 40 devem ser respondidas de acordo com o Regimento Interno do Tribunal de Justiça do Estado do Pará.

QUESTÃO 39

Antes do início de uma sessão do TJPA, o advogado Lúcio, que residia no Rio de Janeiro e que fora contratado para atuar em um processo que tramitava no tribunal, solicitou preferência de julgamento, pois desejava fazer sustentação oral. Porém, o advogado Caio, que residia em Belém, já havia solicitado a preferência de julgamento, também por desejar proferir sustentação oral. Nessa situação,

- A Lúcio pode ter concedida a preferência em prejuízo de Caio, pelo simples fato de residir em local diverso da sede do TJPA.
- B nem Lúcio nem Caio podem pedir preferência de julgamento, pois ambos desejam fazer sustentação oral, o que causará demora no julgamento dos seus processos.
- C o prazo para Lúcio ou Caio fazerem a sustentação oral será de 20 minutos, caso não haja outro prazo previsto em lei.
- D o Ministério Público poderá obter, em decorrência da solicitação de sustentação oral realizada por Lúcio e Caio, prazo em dobro para também fazer sustentação oral.

QUESTÃO 40

A Corregedoria de Justiça, dividida para efeito de jurisdição em Corregedoria de Justiça da Região Metropolitana de Belém e Corregedoria de Justiça das Comarcas do Interior do Estado, tem funções administrativas, de orientação, fiscalização e disciplinares, a serem exercidas por dois desembargadores eleitos na forma da lei. Os corregedores de justiça serão auxiliados em suas tarefas por juízes corregedores, sendo dois para cada corregedoria, e exercerão, por delegação, suas atribuições relativas aos juízes de direito e servidores da justiça. A respeito dos juízes corregedores, assinale a opção correta.

- A Os juízes corregedores, quando designados, não ficam desligados do exercício de suas varas.
- B Os juízes corregedores têm acrescida à remuneração dos seus cargos parcela remuneratória referente à nova função para a qual foram designados.
- C Ao final do mandato do corregedor-geral, os juízes corregedores não ficam obrigados a reverterem ao exercício de suas varas, sendo-lhes facultada a escolha de nova vara para servir.
- D Os juízes corregedores são escolhidos entre os juízes de direito de entrância final e designados pelo presidente do tribunal, ouvido o Conselho de Magistratura.

RASCUNHO

PROVA DISCURSIVA

- Nesta prova — que vale **dez** pontos —, faça o que se pede, usando os espaços indicados no presente caderno para rascunho. Em seguida, transcreva o texto para a **FOLHA DE TEXTO DEFINITIVO DA PROVA DISCURSIVA**, no local apropriado, pois **não serão avaliados fragmentos de texto escritos em locais indevidos**.
- Qualquer fragmento de texto além da extensão máxima de **trinta** linhas será desconsiderado.
- Na **folha de texto definitivo**, identifique-se apenas no cabeçalho da primeira página, pois **não será avaliado** texto que tenha qualquer assinatura ou marca identificadora fora do local apropriado.

Olhar também é perigoso. E caímos no dilema: ver ou não ver?

Ana Miranda. *O oráculo insondável*. In: *Correio Braziliense*, 2/4/2006 (com adaptações).

Se interrogarmos nossa experiência, podemos circunscrever, sem dificuldade, o universo de nossas palavras e concluir que vivemos hoje a lenta agonia ou morte de algumas das que ajudaram a fundar a civilização.

(...)

A prática do sofrimento invalida a própria idéia de civilização. Ou melhor, a sensibilidade enfraquece e exige, paradoxalmente, excitações cada vez mais fortes: esse enfraquecimento é proporcional ao crescimento generalizado da brutalidade.

Por que as cidades transformaram-se tão violentamente no espaço do temor e da tristeza?

Adauto Novaes. *Sobre tempo e história*. In: *Tempo e história* (com adaptações).

Tomando os fragmentos acima como motivadores de reflexão e argumentação, redija um texto dissertativo acerca de palavras e ações que contribuem para a justiça social. Em seu texto, inclua, necessariamente:

- ▶ aspectos causadores/estimuladores da injustiça social;
- ▶ possíveis soluções para a diminuição da injustiça social;
- ▶ caracterização/exemplos de justiça social.

1	
2	
3	
4	
5	
6	
7	
8	
9	
10	
11	
12	
13	
14	
15	
16	
17	
18	
19	
20	
21	
22	
23	
24	
25	
26	
27	
28	
29	
30	

