

Tribunal de Justiça do Estado do Pará

CONCURSO PÚBLICO Nível Superior

Aplicação: 7/5/2006

Cargo: 12 ANALISTA JUDICIÁRIO
Área: Apoio Especializado/Especialidade:
Medicina



MANHÃ

Caderno 25

Leia com atenção as instruções abaixo.

- 1 Ao receber este caderno, confira atentamente se o tipo de caderno — CADERNO 25 — coincide com o que está registrado em sua folha de respostas. Em seguida, verifique se ele contém quarenta questões, correspondentes às provas objetivas, corretamente ordenadas de 1 a 40, seguidas da prova discursiva.
- 2 Caso o caderno esteja incompleto ou tenha qualquer defeito, solicite ao fiscal de sala mais próximo que tome as providências cabíveis.
- 3 O espaço para rascunho da prova discursiva é de uso opcional; não contará, portanto, para efeito de avaliação.
- 4 Não utilize lápis, lapiseira, borracha e(ou) qualquer material de consulta que não seja fornecido pelo CESPE/UnB.
- 5 Não serão distribuídas folhas suplementares para rascunho nem para texto definitivo.
- 6 Não se comunique com outros candidatos nem se levante sem autorização do chefe de sala.
- 7 A duração das provas é de **quatro horas**, já incluído o tempo destinado à identificação — que será feita no decorrer das provas —, ao preenchimento da folha de respostas e à transcrição do texto definitivo da prova discursiva para a folha de texto definitivo.
- 8 Na prova discursiva, não será avaliado texto escrito a lápis, texto escrito em local indevido ou texto que tenha identificação fora do local apropriado.
- 9 Ao terminar as provas, chame o fiscal de sala mais próximo, devolva-lhe a sua folha de respostas e a folha de texto definitivo da prova discursiva e deixe o local de provas.
- 10 A desobediência a qualquer uma das determinações constantes no presente caderno, na folha de respostas ou na folha de texto definitivo da prova discursiva poderá implicar a anulação das suas provas.

AGENDA

- I 9/5/2006, após as 19 h (horário de Brasília) – Gabaritos oficiais preliminares das provas objetivas: Internet — www.cespe.unb.br/concursos/tjpa2006.
- II 10 e 11/5/2006 – Recurso (provas objetivas): exclusivamente no Sistema Eletrônico de Interposição de Recurso, Internet — www.cespe.unb.br/concursos/tjpa2006, mediante instruções e formulários que estarão disponíveis nesse endereço.
- III 31/5/2006 – Resultado final das provas objetivas, resultado provisório da prova discursiva e convocação para avaliação de títulos: Diário da Justiça do Estado do Pará e Internet — www.cespe.unb.br/concursos/tjpa2006.
- IV 1.º e 2/6/2006 – Recurso (prova discursiva) e entrega de títulos: em locais e horários que serão informados na divulgação do resultado provisório.

OBSERVAÇÕES

- Não serão objeto de conhecimento recursos em desacordo com o item 13 do Edital n.º 1/2006 – TJPA, de 1.º/3/2006.
- Informações adicionais: telefone 0(XX) 61 3448-0100; Internet — www.cespe.unb.br/concursos/tjpa2006.
- É permitida a reprodução deste material apenas para fins didáticos, desde que citada a fonte.

CESPE UnB
UNIVERSIDADE DE BRASÍLIA

QUESTÃO	RESPOSTA
1	(A) (B) (C) (D)
2	(A) (B) (C) (D)
3	(A) (B) (C) (D)
4	(A) (B) (C) (D)
5	(A) (B) (C) (D)
6	(A) (B) (C) (D)
7	(A) (B) (C) (D)
8	(A) (B) (C) (D)
9	(A) (B) (C) (D)
10	(A) (B) (C) (D)

QUESTÃO	RESPOSTA
11	(A) (B) (C) (D)
12	(A) (B) (C) (D)
13	(A) (B) (C) (D)
14	(A) (B) (C) (D)
15	(A) (B) (C) (D)
16	(A) (B) (C) (D)
17	(A) (B) (C) (D)
18	(A) (B) (C) (D)
19	(A) (B) (C) (D)
20	(A) (B) (C) (D)

QUESTÃO	RESPOSTA
21	(A) (B) (C) (D)
22	(A) (B) (C) (D)
23	(A) (B) (C) (D)
24	(A) (B) (C) (D)
25	(A) (B) (C) (D)
26	(A) (B) (C) (D)
27	(A) (B) (C) (D)
28	(A) (B) (C) (D)
29	(A) (B) (C) (D)
30	(A) (B) (C) (D)

QUESTÃO	RESPOSTA
31	(A) (B) (C) (D)
32	(A) (B) (C) (D)
33	(A) (B) (C) (D)
34	(A) (B) (C) (D)
35	(A) (B) (C) (D)
36	(A) (B) (C) (D)
37	(A) (B) (C) (D)
38	(A) (B) (C) (D)
39	(A) (B) (C) (D)
40	(A) (B) (C) (D)

• Nas questões de 1 a 40, marque, em cada uma, a única opção correta, de acordo com o respectivo comando. Para as devidas marcações, use, caso deseje, o rascunho acima e, posteriormente, a **folha de respostas**, único documento válido para a correção das suas provas.

• Nas questões que avaliam **Noções de Informática**, a menos que seja explicitamente informado o contrário, considere que todos os programas mencionados estão em configuração-padrão, em português, que o *mouse* está configurado para pessoas destras e que expressões como clicar, clique simples e clique duplo referem-se a cliques com o botão esquerdo do *mouse*. Considere também que não há restrições de proteção, de funcionamento e de uso em relação aos programas, arquivos, diretórios e equipamentos mencionados.

CONHECIMENTOS BÁSICOS

Texto para as questões 1 e 2

1 É preciso ter cuidado com as palavras. Elas são verdadeiras armas. Algumas vezes mortais. Certas pessoas têm o dom de dizer as mais afiadas, que entram feito uma
4 flecha envenenada. Porém, em muitos casos, o atingido é aquele que usou a arma, ou seja, o falador. Esse, por exemplo, pode sofrer horríveis arrependimentos por ter dito o que não
7 deveria ter dito. Mas como não dizer aquilo que pensamos?
Há maneiras de dizer sem dizer, e de dizer, desdizendo.

Ana Miranda. O oráculo insondável. In: Correio Braziliense, Caderno C, p. 10, 2/4/2006 (com adaptações).

QUESTÃO 1

Assinale a opção **incorreta** com relação à argumentação do texto.

- (A) As palavras podem ter conseqüências tão perigosas quanto as armas, que têm a capacidade de ferir mortalmente.
- (B) Palavras devem ser usadas com cuidado, pois podem ter conseqüências nefastas tanto para quem as ouve quanto para quem as pronuncia.
- (C) Em todas as circunstâncias, é mais prudente não dizer nada porque as palavras são perigosas e, uma vez ditas, não são recolhidas.
- (D) O perigo das palavras recomenda que se empregue cautela ao dizê-las, pois a maneira de dizer pode ser tão importante quanto o próprio dizer.

QUESTÃO 2

Constrói-se a textualidade estabelecendo-se relações de retomadas de sentido, em que certas palavras remetem a outras, em uma verdadeira cadeia de elos de coesão. Nesse sentido, assinale a opção **incorreta**.

- (A) “Algumas” (l.2) retoma “palavras” (l.1).
- (B) “que” (l.3) retoma a idéia de “palavras” (l.1).
- (C) “o falador” (l.5) retoma “o atingido” (l.4).
- (D) “Esse” (l.5) retoma e demonstra “o falador” (l.5).

Texto para as questões de 3 a 5

1 A democracia do Estado contemporâneo necessita, de maneira imprescindível, da consagração da supremacia constitucional e do respeito aos direitos fundamentais, que
4 somente estarão presentes nos países em que houver um Judiciário forte, dotado de plena independência e que possa efetivar suas decisões. A independência judicial constitui
7 direito dos cidadãos, e é triste um país que não a possui.

O magistrado, no momento de julgar, não pode receber ordens de nenhuma autoridade interna ou externa, sendo essa
10 idéia essencial à independência do Judiciário.

A maioria esmagadora dos juizes brasileiros dedicam suas vidas à luta por uma magistratura independente,
13 democrática, transparente e justa e jamais se esquecem da lição do grande Rui: “A autoridade da Justiça é moral, e sustenta-se pela moralidade de suas decisões”.

Alexandre de Moraes. União pelo fortalecimento. In: Folha de S. Paulo, 25/3/2006 (com adaptações).

QUESTÃO 3

Assinale a opção que apresenta a idéia em torno da qual a argumentação do texto se organiza.

- (A) O direito dos cidadãos, consubstanciado em um Poder Judiciário forte, só é respeitado em uma democracia independente, transparente, soberana e justa.
- (B) Um Poder Judiciário forte e independente é direito dos cidadãos e pilar de sustentação da supremacia constitucional em um Estado democrático.
- (C) O respeito à independência do magistrado no momento de julgar, negando-se a receber ordens de autoridade interna ou externa, já foi lema de Rui Barbosa.
- (D) A luta dos juizes brasileiros por uma magistratura independente e democrática vai de encontro ao direito dos cidadãos que acreditam que a ‘autoridade da Justiça é moral’ (l.14).

QUESTÃO 4

No desenvolvimento da argumentação do texto, as formas verbais que indicam uma probabilidade ou suposição **não** incluem

- A “estarão” (l.4).
- B “houver” (l.4).
- C “possa” (l.5).
- D “sendo” (l.9).

QUESTÃO 5

Assinale a opção **incorreta** a respeito do emprego das estruturas lingüísticas no texto.

- A No trecho “A democracia (...) necessita, **de** maneira imprescindível, **da** consagração **da** supremacia constitucional e **do** respeito aos direitos fundamentais” (l.1-3), o uso da preposição **de** nos termos destacados é exigência da forma verbal “necessita”, para que sejam respeitadas as regras de regência gramatical.
- B As regras gramaticais do padrão culto da língua portuguesa exigem o emprego da preposição no termo “em que” (l.4), o que indica que esse termo pode ser substituído pelo pronome **onde**.
- C Nas linhas 4 e 5, a flexão de singular na forma verbal “possa” indica que o pronome “que” refere-se a “Judiciário” e não a “países”, como poderia ser depreendido da organização textual.
- D Seria preservada a coerência textual e a correção gramatical também com a alternativa de emprego da forma verbal “dedicam” (l.11) no singular: **dedica**.

Texto para as questões de 6 a 8

1 Desde que eu vou ao Fórum Econômico Mundial em Davos, nenhum país atçou a imaginação da conferência e dominou a discussão como a Índia em 2006.

4 O Estado indiano foi um estrondoso sucesso em uma frente. A democracia indiana é uma maravilha a ser observada. Um dos países mais pobres do mundo, ela manteve um governo democrático por mais de 60 anos. E essa é, certamente, uma das maiores virtudes do país quando comparado a muitos outros países em desenvolvimento.

10 A democracia dá lugar ao populismo, politicagem e perda de tempo. Mas também dá lugar à estabilidade no longo prazo. Há elementos da democracia que ferem, principalmente em um país com pobreza, feudalismo e analfabetismo galopantes. Democracia na Índia freqüentemente significou não a vontade da maioria, mas a vontade das minorias organizadas. Mas a democracia tem seus próprios meios de se reequilibrar.

Fareed Zakaria. **Por que a Índia é um exemplo.**
In: *Época*, 6/3/2006 (com adaptações).

QUESTÃO 6

Julgue os seguintes itens, a respeito das idéias do texto.

- I O autor considera o regime democrático positivo, mesmo quando sofre adaptações.
- II O texto usa a Índia como exemplo de uma proposta de intervenção e reestruturação dos sistemas democráticos de governo nos países mais pobres.
- III A tese defendida pela argumentação do texto é a de que o Fórum Econômico Mundial de Davos tem valorizado aspectos políticos, como a democracia nos países pobres.

A quantidade de itens certos é igual a

- A 0.
- B 1.
- C 2.
- D 3.

QUESTÃO 7

Pelo tema abordado, o texto pode integrar um documento oficial, como um relatório ou um parecer, por exemplo. Assinale a opção que representa uma alteração necessária para que o texto respeite, também na forma, as normas de redação de documentos oficiais.

- A Reescrever a primeira oração de maneira menos pessoal: **Desde que existe o Fórum Econômico Mundial de Davos.**
- B Substituir a preposição “por” (l.7) por outra de regência mais formal: **durante**.
- C Retirar a idéia de avaliação sugerida pela comparação com “outros países em desenvolvimento” (l.9).
- D Substituir as duas ocorrências da expressão coloquial “dá lugar” (l.10) pelo verbo, mais formal, **cede**.

QUESTÃO 8

No texto, os trechos que se apresentam na voz passiva, ou seja, estabelecem uma relação em que o sujeito verbal recebe a ação incluem

- I “O Estado indiano foi um estrondoso sucesso” (l.4).
- II “uma maravilha a ser observada” (l.5-6).
- III “quando comparado a muitos outros países” (l.8-9).
- IV “Há elementos da democracia” (l.12).
- V “seus próprios meios de se reequilibrar” (l.16-17).

Estão certos apenas os itens

- A I e IV.
- B I e V.
- C II e III.
- D III, IV e V.

Texto para as questões 9 e 10

1 Se separarmos da palavra civilização as noções de utilitarismo e progressismo, dadas pelo senso comum e pelo pensamento conservador (“desenvolvimento da indústria e do comércio, aquisição de bens materiais e de luxo”), e restituirmos a ela o sentido original, “fineza dos costumes”, “educação dos espíritos”, “desenvolvimento da polidez”, 4 “cultura das artes e das ciências”, podemos dizer então que a civilização está a perigo.

No plano político, no lugar da antiga idéia de 10 Constituição e respeito à cidadania, o termo civilização passou a ser associado a *performance*, espetáculo, *marketing*, simulação e, principalmente, eficácia.

Adauto Novaes. *Sobre tempo e história*. In: Adauto Novaes (Org.). *Tempo e história* (com adaptações).

QUESTÃO 9

Infere-se da argumentação do texto que “a civilização está a perigo” (l.8) porque

- A não se separa, do pensamento conservador, a noção de espetáculo e *performance*.
- B passou a representar o pensamento conservador do senso comum, em lugar da Constituição.
- C a eficácia, em lugar da civilização, deu lugar ao utilitarismo e progressismo, associando-se a simulação.
- D não representa mais ‘fineza dos costumes’ (l.5), ‘educação dos espíritos’ (l.6), ‘desenvolvimento da polidez’ (l.6) ou ‘cultura das artes e das ciências’ (l.7).

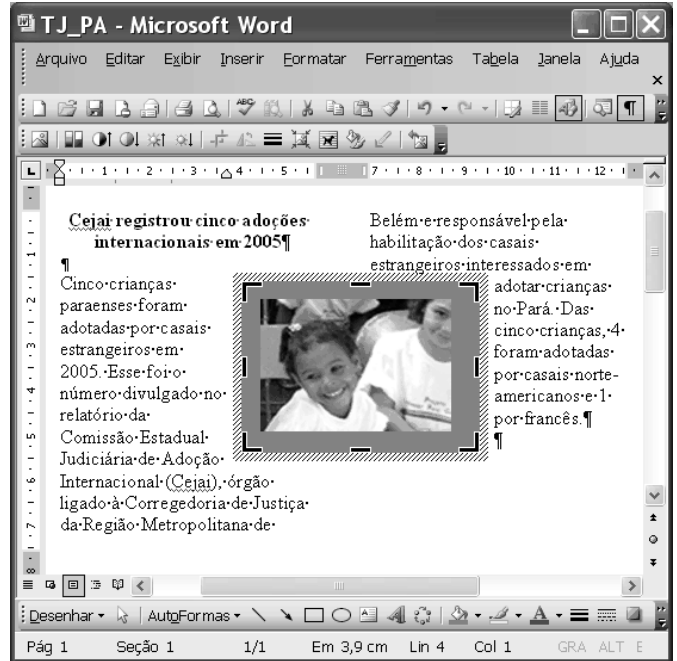
QUESTÃO 10

Assinale a opção em que a alteração proposta para o texto prejudica sua coerência ou resulta em incorreção gramatical.

- A Inserção de duas vírgulas, na linha 1: depois de “separarmos” e depois de “civilização”.
- B Substituição de “restituirmos a ela” (l.5) por **lhe restituirmos**.
- C Retirada da vírgula que antecede a oração iniciada por “podemos” (l.7).
- D Inserção da preposição **a** antes de “eficácia” (l.12).





Texto para as questões de 11 a 13

A figura a seguir ilustra uma janela do Word 2003 que está sendo executado em um computador cujo sistema operacional é o Windows XP. O documento em elaboração contém texto e imagem que foram extraídos de uma página *web* do sítio www.tj.pa.gov.br. A imagem está sobre uma tela de desenho.



QUESTÃO 11

Considerando as informações do texto, assinale a opção correta.

- A Na situação em que se encontra a janela do Word, caso se tecele , apenas a tela de desenho mencionada no texto será excluída, enquanto a imagem nela contida permanecerá no documento em edição.
- B O botão  permite abrir documento do tipo Word armazenado no computador, desde que o arquivo associado não esteja definido como somente para leitura. Caso o arquivo esteja com a referida definição, ele pode ser aberto por meio do botão .
- C O texto mostrado na janela do Word pode ter sido inserido no documento, a partir da página *web* mencionada, por meio de recursos de copiar e colar do Windows XP. No entanto, esse procedimento não funciona no caso de imagem, sendo necessário que ela seja copiada em arquivo, antes de ser inserida no documento.
- D Por meio de recursos disponibilizados ao se clicar , é possível realizar procedimento para inserir uma imagem no documento em edição, desde que ela esteja armazenada em arquivo.





QUESTÃO 12

Ainda considerando as informações do texto, assinale a opção **incorreta**.

- A É possível inserir o termo **Tribunal de Justiça do Pará** como cabeçalho do documento em edição por meio de recursos acessados no *menu* **Editar**.
- B É possível salvar o documento em edição com o nome TJ_PA_versão_2.doc por meio de procedimento realizado unicamente via teclado.
- C O procedimento descrito a seguir permite alterar a fonte, seu estilo e seu tamanho na primeira linha mostrada da primeira coluna do documento: selecionar a referida linha; clicar o botão direito do *mouse*; na lista disponibilizada, clicar opção que permite realizar as alterações mencionadas; na janela que é aberta em decorrência dessa ação, realizar as alterações desejadas.
- D Na situação em que se encontra a janela do Word, é correto afirmar que o documento está formatado para duas colunas. É possível alterar essa formatação por meio de opção encontrada no *menu* **Formatar**.

QUESTÃO 13

Considerando a situação em que se encontra a janela do Word mostrada no texto, assinale a opção correta.

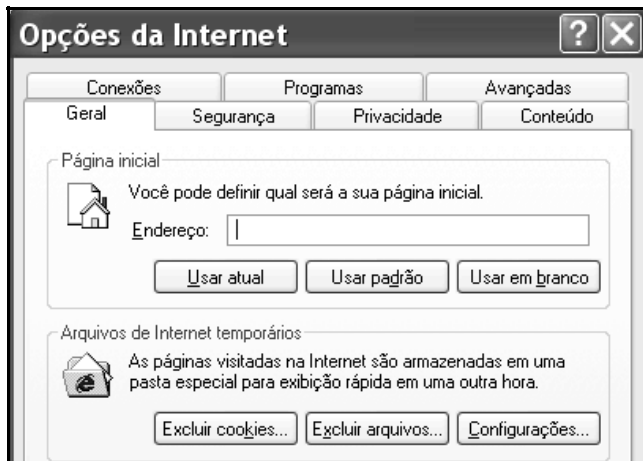
- A Em função do posicionamento da tela de desenho com relação ao texto, é correto inferir que os parágrafos mostrados do documento não podem ser justificados às margens esquerda e direita.
- B A tela de desenho mostrada pode ter sido inserida no documento por meio de recursos disponibilizados ao se clicar o botão .
- C Os botões  e  permitem alterar a cor de fundo da tela de desenho que está sob a imagem mostrada no documento.
- D É possível inserir uma moldura na tela de desenho mostrada por meio do botão .

QUESTÃO 14

A figura acima ilustra parte da janela que contém as propriedades de uma conta de *e-mail* configurada no Outlook Express 6 (OE6). Considerando essa figura, assinale a opção correta.

- A Ao se clicar a guia **Avançado**, será disponibilizado recurso que permite configurar o OE6 de modo que, ao se receber uma mensagem de correio eletrônico, o nome e o endereço de *e-mail* do remetente seja adicionado ao catálogo de endereços do OE6.
- B Para evitar que pessoas não-autorizadas acessem a conta “José”, pode-se configurar uma senha, por meio de recursos encontrados na guia **Servidores**, de maneira que seja feita a solicitação para fornecimento dessa senha toda vez que se execute o OE6 para realizar procedimento de enviar ou receber uma mensagem de *e-mail*.
- C O OE6 permite que se faça, em pasta específica do computador, *backup* das respostas às mensagens recebidas. Para isso, é suficiente digitar no campo **Endereço para resposta:** o endereço da pasta em que se deseja fazer o *backup*.
- D Caso a marcação mostrada na janela — referente a incluir esta conta ao receber ou sincronizar *e-mails* — seja desabilitada, a conta “José” não poderá ser utilizada para enviar ou receber mensagens de correio por meio do OE6.

QUESTÃO 15



A figura acima ilustra parte da janela Opções da Internet que foi executada em um computador cujo sistema operacional é o Windows XP, a partir do *menu* Ferramentas do Internet Explorer 6 (IE6). Considerando essa figura, assinale a opção correta.

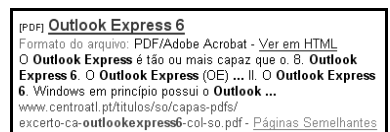
- A Por meio do botão **Excluir cookies...**, é possível excluir todos os *cookies* que estejam armazenados no computador como resultado de sessões de uso do IE6, enquanto que o botão **Configurações...** disponibiliza recursos que permitem excluir apenas *cookies* selecionados.
- B Considere que se deseje configurar o IE6 de forma que seja gerada uma mensagem de alerta quando se acessar determinado sítio na Internet. Nessa situação, a guia **Conexões** disponibiliza recursos que permitem elaborar uma lista de sítios para os quais, quando forem acessados, o IE6 gerará a mensagem mencionada.
- C Recursos da guia **Programas** permitem definir o programa antivírus que será usado quando se acessar a Internet por meio do IE6. Esses recursos permitem definir também o tipo de certificado de segurança que será usado ao se acessar sítios em que são realizadas transações sigilosas, como no acesso a sítios de bancos.
- D Na guia **Privacidade**, existem recursos que permitem definir, em uma lista, todos os sítios da Web que se deseja ter acesso permitido. Dessa forma, apenas os sítios que estejam nessa lista podem ser acessados por meio do IE6.

QUESTÃO 16

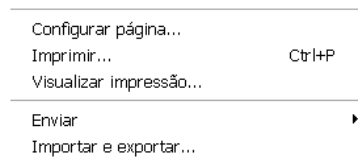
Assinale a opção correta, com relação a conceitos de Internet, correio eletrônico e aplicativos desenvolvidos para uso em redes de computadores.

- A Os programas de correio eletrônico Outlook e Outlook Express foram desenvolvidos pela Microsoft para serem executados em computadores com o Windows XP instalado. Ao contrário do Outlook, que pode ser obtido gratuitamente na Internet por *download*, o Outlook Express faz parte do pacote de aplicativos Microsoft Office e, portanto, necessita de licença para uso.
- B Mozilla é uma organização que desenvolve aplicativos voltados para a Internet que podem ser utilizados gratuitamente. Entre eles está o Firefox, o qual é uma família de aplicativos que inclui *browser*, correio eletrônico e editor de HTML, que é a linguagem de criação de páginas *web* na Internet.

C Considere que as informações mostradas no quadro ao lado tenham sido obtidas como resultado de uma pesquisa realizada na Internet. Nessa situação, é correto inferir que a página *web* associada a essas informações não pertence a um sítio brasileiro e, caso se clique o *hyperlink* **Outlook Express 6**, será realizado o *download* de um arquivo no formato PDF.



- D A figura a seguir mostra parte das opções do *menu* **Arquivo** do IE6. Recursos disponibilizados ao se clicar **Importar e exportar...** permitem salvar a página atual do IE6 como arquivo do tipo Word, bem como permitem inserir o conteúdo de um arquivo do tipo Word em página *web* em desenvolvimento.



QUESTÃO 17

Considere a situação em que um usuário deseje gravar uma cópia de segurança de cinco arquivos que, juntos, ocupem uma quantidade de memória de 1,5 *megabytes*. Com relação a essa situação, assinale a opção correta.

- A Com o uso do programa WinZip 8.1, é possível compactar o grupo de arquivos citado, salvando-os em apenas um arquivo do tipo WinZip.
- B Esses cinco arquivos não poderiam ser armazenados sem compactação em um dispositivo do tipo *pen-drive*, pois o limite de memória desse tipo de dispositivo é inferior a 1 bilhão de *bytes*, que é inferior a 1,5 *megabyte*.
- C Uma grande desvantagem dos dispositivos do tipo CD-ROM é o fato de terem capacidade máxima de armazenamento de 300 milhões de *bytes*.
- D Os dispositivos não-voláteis de armazenamento mais eficientes disponíveis atualmente são as memórias RAM, que, além disso, não consomem energia.

QUESTÃO 18

Em computadores que utilizam como sistema operacional o Windows XP, é possível configurar a resolução da tela do monitor de vídeo por meio da janela Propriedades de vídeo. Assinale a opção que apresenta uma forma correta de abrir essa janela.

- A) Clicar, com o botão direito do *mouse*, um ponto sem ícones da *desktop* do Windows e clicar Propriedades.
- B) Clicar, com o botão direito do *mouse*, um ponto sem ícones da barra de tarefas do Windows e clicar Propriedades.
- C) Clicar, com o botão direito do *mouse*, sobre o ícone associado à lixeira do Windows e clicar Propriedades.
- D) Aplicar um clique duplo no ícone associado à pasta Meu computador.

Texto para as questões 19 e 20

A janela do Excel 2003 ilustrada a seguir apresenta algumas tabelas de custas judiciais extrajudiciais, em processo de edição, extraídas e adaptadas do sítio www.tj.pa.gov.br. A janela encontra-se em execução em um computador PC cujo sistema operacional é o Windows XP.

	A	B	C
1	Tabelas de custas judiciais extrajudiciais		
2			
3			valor (R\$)
4		nos cartórios	111,40
5	casamento	a domicilio	222,80
6		após as 18 h	223,70
7		Máximo valor da tabela	223,70
8		no prazo	37,60
9	assentos	fora do prazo	68,80
10		fora do prazo legal	66,80
11		Máximo valor da tabela	
12			

QUESTÃO 19

Com base na situação em que se encontra a janela mencionada no texto, assinale a opção **incorreta** acerca do Excel 2003.

- A) O conteúdo da célula C7 pode ter sido obtido utilizando-se recursos disponibilizados pelo conjunto de botões .
- B) O conteúdo da célula C11 será igual a 68,80 após a execução do seguinte procedimento: clicar a célula C7; pressionar e manter pressionada a tecla ; teclar ; clicar a célula C11; teclar ; liberar a tecla .
- C) Considere que o conteúdo da célula C5 contenha a fórmula =2*C\$4. Caso esse conteúdo seja copiado e colado na célula C9, o valor numérico da célula C9 passará a ser igual a 75,20.
- D) O efeito mostrado no conjunto de células mescladas A3 e B3 pode ter sido obtido por meio de recursos disponibilizados ao se clicar a guia na janela do Excel 2003 parcialmente mostrada na figura a seguir.

**QUESTÃO 20**

Ainda com base na situação em que se encontra a janela mencionada no texto, assinale a opção correta acerca do Excel 2003.

- A) O comentário associado à célula C7 pode ter sido inserido na planilha ao se clicar o botão e digitar o comentário apresentado na figura.
- B) Ao se clicar o botão , será executada uma janela do Internet Explorer.
- C) O conteúdo da célula C9 será igual a 688,0, caso o botão seja clicado, após se ter clicado a referida célula.
- D) Pelo efeito de texto mostrado na janela do Excel, o conjunto de células mescladas de A1 a C2 pode estar formatado para alinhamento horizontal e vertical central e para retorno automático de texto.

CONHECIMENTOS ESPECÍFICOS

QUESTÃO 21

O adequado diagnóstico e abordagem terapêutica das anormalidades do equilíbrio acidobásico baseiam-se na compreensão das bases fundamentais envolvidas. Com relação a alcalose metabólica primária (que inicia o distúrbio acidobásico), assinale a opção correta.

- A Sempre que houver comprometimento da taxa de ventilação alveolar, ocorrerá acidose respiratória.
- B O cálculo do hiato aniônico é necessário para a determinação da etiologia dessa desordem.
- C São características básicas dessa anormalidade: redução dos níveis sanguíneos do pH (acidemia), do bicarbonato e da pressão parcial de gás carbônico (CO₂).
- D Na grande maioria das vezes, a infusão de sais alcalinizantes (bicarbonato de sódio, por exemplo), tendo por base o valor do pH, é o recurso terapêutico básico e de uso imediato visando à correção da acidemia sanguínea.

QUESTÃO 22

As doenças glomerulares (glomerulopatias) podem ser causadas por lesão na estrutura elementar dos glomérulos renais — epitélio (podócitos), membrana basal, endotélio capilar ou mesângio. Essas afecções podem se expressar sob a forma de síndromes renais — nefrítica e nefrótica. O conjunto de manifestações da síndrome nefrótica inclui a

- A elevação do paratormônio (PTH) – hiperparatireoidismo secundário.
- B presença de cilindros hemáticos no sedimento urinário.
- C osteodistrofia renal.
- D perda urinária de albumina acima de 3,5 g/24 h/m² de área de superfície corporal.

QUESTÃO 23

O diabetes melito representa um grupo de alterações metabólicas que a longo prazo resultam em lesão, disfunção e falência de vários órgãos, em especial de olhos, rins, nervos, coração e vasos sanguíneos. Os critérios atualmente usados para o diagnóstico dessa afecção em adultos, excetuadas as gestantes, incluem

- I glicemias de jejum com valores maiores ou iguais a 126 mg/dL, colhidas em duas amostras coletadas em dias diferentes.
- II glicemia casual com valor abaixo de 200 mg/dL, aleatoriamente colhida a qualquer momento do dia, mesmo na ausência de sintomas clássicos.
- III glicemia com valor acima de 140 mg/dL e abaixo de 200 mg/dL, coletada aos 120 minutos do teste de tolerância à glicose oral (TTGO).
- IV glicemia maior ou igual a 200 mg/dL, colhida aos 120 minutos do TTGO.

Estão certos apenas os itens

- A I e II.
- B I e IV.
- C II e III.
- D III e IV.

Texto para as questões 24 e 25

Durante o exame físico de uma consulta de *check-up* em uma mulher de 43 anos de idade, assintomática, constatou-se uma glândula tireóide palpável, indolor, aumentada simetricamente de volume — cerca de 3 vezes o tamanho normal —, de consistência firme e com superfície irregular. A avaliação laboratorial subsequente revelou elevação dos níveis sanguíneos de TSH, redução leve dos níveis de T4 livre e aumento dos níveis circulantes de anticorpos antiperoxidase e antitireoglobulina.

QUESTÃO 24

No caso clínico descrito, os possíveis diagnósticos incluem

- I hipotireoidismo.
- II tireoidite de Hashimoto.
- III hipertireoidismo.
- IV tireoidite supurativa.

Estão certos apenas os itens

- A I e II.
- B I e IV.
- C II e III.
- D III e IV.

QUESTÃO 25

O tratamento medicamentoso recomendado e mais útil para situação descrita no texto é a administração de

- A tiroxina por via oral.
- B corticosteróides por via intravenosa.
- C iodeto de sódio por via intravenosa.
- D propiltiouracil (PTU) por via oral.

QUESTÃO 26

O estado de mal epiléptico convulsivo (*status epilepticus*) pode ser definido como uma emergência médica na qual há atividade convulsiva contínua ou convulsões intermitentes sem recuperação da consciência entre os ataques, com duração maior do que 30 minutos. Nessa situação emergencial, que exige a tomada de decisão imediata e apropriada, entre as opções de tratamento do paciente inclui-se o uso de

- I propofol.
- II fenitoína.
- III fenobarbital.
- IV lorazepam.

A quantidade de itens certos é igual a

- A 1.
- B 2.
- C 3.
- D 4.

QUESTÃO 27**Menina de três anos morre com sintomas de gripe aviária no Camboja**

Uma menina de três anos de idade morreu com sintomas de gripe aviária na capital do Camboja, após ter sido internada esta semana em um hospital, confirmaram nesta sexta-feira fontes sanitárias do país asiático. O diretor da seção de controle de doenças do Ministério da Saúde daquele país declarou que é muito provável que a menina tenha sido infectada pelo agente etiológico da gripe aviária antes de morrer.

Internet: <www1.folha.uol.com.br> (com adaptações).

Com relação à gripe aviária, julgue os itens a seguir.

- I A gripe aviária é uma doença infecciosa que acomete basicamente as aves, causada por cepas do vírus da *influenza* do tipo A.
- II Cepas altamente patogênicas do agente etiológico dessa doença passaram de aves para humanos e causaram uma doença fatal.
- III No Brasil, o antiviral preconizado pelo Ministério da Saúde para tratamento e profilaxia dos contatos com casos confirmados dessa infecção é o aciclovir.
- IV Não há vacina disponível para prevenir a gripe aviária.

Estão certos apenas os itens

- A I e II.
- B I e IV.
- C II e III.
- D III e IV.

QUESTÃO 28

O exame de urina tem valor inestimável no diagnóstico de cálculos urinários, infecção urinária e doenças sistêmicas que acometem os rins, por exemplo. Assinale a opção que apresenta a relação correta entre as alterações encontradas na análise da urina e a causa mais provavelmente associada.

- A cetonúria – pielonefrite aguda
- B cilindros eritrocitários e eritrócitos espiculados (disformes) – litíase renal
- C piúria maciça associada a resultado de leucoesterase positivo – infecção das vias urinárias
- D bilirrubinúria (++) – presença de bilirrubina indireta (não-conjugada) na urina por hemólise grave

QUESTÃO 29

Um paciente com infarto do miocárdio recente em parede anterior extensa está internado no boxe de emergência de um hospital geral. É mantido sob monitorização eletrocardiográfica contínua, acesso venoso periférico calibroso e recebendo oxigenoterapia suplementar sob cateter nasofaríngeo (fluxo a 3 L/min). Durante a visita médica, o profissional constata que o paciente está apresentando parada cardíaca por fibrilação ventricular vista ao monitor. Nessa situação hipotética, deve-se, como procedimento imediato,

- A manter as vias aéreas pérvias e realizar intubação orotraqueal.
- B iniciar massagem cardíaca externa com frequência de 100 compressões/minuto.
- C administrar lidocaína por via intravenosa.
- D proceder a desfibrilação elétrica cardíaca.

QUESTÃO 30

Acerca da tuberculose (TB), assinale a opção correta.

- A É uma doença infecciosa e contagiosa, cujo diagnóstico preventivo é feito por meio da coleta de secreção do pulmão conhecido como teste de Mantoux.
- B O médico (e a equipe de saúde) deve estar preparado para realizar a busca sistemática de sintomáticos respiratórios (pessoas maiores de 15 anos de idade que buscam serviços de saúde por qualquer motivo e têm queixas de tosse e expectoração por três semanas ou mais), pois, entre eles, pode estar um doente com TB pulmonar bacilífera.
- C A grande maioria das pessoas infectadas com o agente etiológico da tuberculose adoece (apresenta tuberculose doença) nos primeiros dois anos após a infecção.
- D O esquema básico para tratamento de casos novos de TB pulmonar e extrapulmonar (exceto meningite) é: rifampicina, isoniazida, pirazinamida e etambutol por 2 meses, seguido de rifampicina, isoniazida e etambutol por 4 meses.

QUESTÃO 31

Com relação à monitorização ambulatorial da pressão arterial (MAPA) — método não-invasivo que possibilita a medida indireta e intermitente da pressão arterial durante 24 horas —, assinale a opção correta.

- A Deve ser realizada em todos os pacientes com suspeita de hipertensão arterial sistêmica, pois, além de não-invasivo, permite fazer esse diagnóstico com alta precisão.
- B Uma das vantagens desse exame é permitir uma avaliação não-invasiva do comportamento da pressão arterial durante o sono.
- C Nesse exame, pode-se usar um único tipo manguito/bolsa inflável com largura e comprimento padrão para todos os pacientes, independentemente do valor da circunferência do braço.
- D Apesar das vantagens relacionadas ao diagnóstico, as variáveis obtidas na análise da MAPA não possibilitam nenhuma avaliação prognóstica da hipertensão arterial, segundo os estudos atuais.

QUESTÃO 32

Dentro do planejamento dos cuidados gerais que devem ser adotados na população de adultos e idosos, deve-se considerar a vacinação, que ainda consiste no melhor meio de prevenção de várias doenças infecciosas. O Programa Nacional de Imunizações (PNI) do Ministério da Saúde instituiu, desde 1999, um calendário de vacinação para cobertura dessa população. Esse esquema oficial **não** inclui a vacinação

- A anual contra *influenza* (gripe) para idosos.
- B contra pneumonia causada pelo pneumococos, aplicada nos idosos que vivem em instituições fechadas (casas geriátricas e asilos, por exemplo).
- C contra o rotavírus para idosos.
- D contra febre amarela de adulto ou idoso que resida em área endêmica ou que irá viajar para esse tipo de área.

QUESTÃO 33

A taquicardia ventricular é um dos problemas de saúde mais comuns na prática clínica. É uma arritmia que se origina em focos ventriculares ectópicos geralmente com frequência maior do que 100 batimentos por minuto. Pode ser classificada em monomórfica ou polimórfica. Acerca da taquicardia ventricular polimórfica (também chamada de *torsades des pointes*), assinale a opção correta.

- Ⓐ Esse tipo de arritmia pode associar-se a afecções congênitas ou adquiridas.
- Ⓑ Associa-se à presença de encurtamento do intervalo QT do eletrocardiograma (ECG).
- Ⓒ Nunca ocorre em indivíduos que apresentam intervalo QT do ECG com duração normal.
- Ⓓ Representam opções terapêuticas para essa arritmia a quinidina ou a amiodarona.

QUESTÃO 34

Um paciente de 38 anos de idade relata que há 40 dias passou a apresentar cansaço, falta de ar para realizar atividades físicas acima das habituais e agora tem esses sintomas em repouso, além de edema de membros inferiores (inicialmente nos pés e agora em toda a extensão desses membros), aumento do volume abdominal, inapetência e empachamento pós-prandial. Nega quaisquer sintomas prévios. Refere etilismo intenso há 10 anos, que parou há 1 semana, e tabagismo. Nunca residiu em área endêmica para doença de Chagas. Nega hipertensão arterial e diabetes melito. Ao exame físico, o paciente apresentou-se ortopnéico, afebril, acianótico, anictérico, consciente e orientado, fundo de olho sem anormalidades, pressão arterial de 90 mmHg × 50 mmHg, frequência cardíaca de 110 bpm. Pulmões com estertores em terços inferiores de ambos os hemitóraces. Precórdio agitado, *ictus cordis* visível e palpável no 6.º espaço intercostal esquerdo, na linha axilar anterior, ritmo cardíaco irregularmente irregular, em 3 tempos (B3), bulhas hipofonéticas, sopro holossistólico de grau 2, suave em foco mitral, e sopro holossistólico grau 2, em foco tricúspide (intensificado pela manobra de Rivero-Carvalho), pulsos filiformes. Abdome com sinais de ascite e hepatomegalia dolorosa (pulso hepático). Extremidades com edema de membros inferiores, mole, frio indolor até a raiz das coxas.

Com referência ao caso hipotético acima relatado, assinale a opção que indica o diagnóstico mais provável.

- Ⓐ insuficiência mitral reumática
- Ⓑ cardiopatia hipertensiva
- Ⓒ miocardiopatia dilatada
- Ⓓ miocardiopatia hipertrófica

QUESTÃO 35

Uma paciente comerciária, com 18 anos de idade, procura atendimento ambulatorial informando que apresenta, desde os quatro anos de idade, *ataques* constituídos por falta de ar, tosse, chiados no peito e opressão torácica. Esses episódios ocorrem em média 2 dias por semana (geralmente um paroxismo por dia), sendo pelo menos um deles no período da madrugada. Várias vezes teve que ser atendida na sala de emergência para combater os sintomas. Em nenhum momento, necessitou internação em UTI ou ficou internada por mais de 24 h. Eventualmente, falta às suas atividades laborais devido a esses problemas clínicos. Faz uso de salbutamol 200 mg, via aerossol, quando os sintomas aparecem.

Com base nas informações clínicas apresentadas nessa situação hipotética, é correto classificar a paciente como portadora de quadro de asma brônquica

- Ⓐ intermitente.
- Ⓑ persistente leve.
- Ⓒ persistente moderada.
- Ⓓ persistente grave.

QUESTÃO 36

Uma paciente de 44 anos de idade é admitida no pronto-socorro com quadro clínico, iniciado há 2 dias, de febre alta, calafrios, tosse produtiva com expectoração piossanguinolenta, dor em hemitórax direito ventilatório-dependente, astenia e anorexia. O exame físico revela paciente sonolenta, febril, cianose labial e de extremidades, pressão arterial de 85 mmHg × 50 mmHg, frequência cardíaca de 120 bpm, diminuição do murmúrio vesicular, estertores e atrito pleural no terço inferior dos hemitóraces esquerdo e direito, ausculta cardíaca com ritmo regular e bulhas hipofonéticas. Abdome sem anormalidades. Recebe oxigenoterapia suplementar com máscara de Venturi a 40%. A gasometria arterial ($FiO_2 = 0,40$) mostra acidose respiratória ($pH = 7,19$), hipercapnia ($PaCO_2 = 58$ mmHg) e hipoxemia ($PaO_2 = 50$ mmHg).

Com base no caso hipotético acima relatado e nos critérios usados para classificar a gravidade da doença apresentada pela paciente, deve-se proceder a

- Ⓐ tratamento em regime ambulatorial.
- Ⓑ internação curta na enfermaria do pronto-socorro.
- Ⓒ internação em enfermaria de clínica médica.
- Ⓓ internação em unidade de terapia intensiva.

QUESTÃO 37

As doenças inflamatórias intestinais (retocolite ulcerativa e doença de Crohn) representam um grupo de doenças inflamatórias crônicas do trato gastrointestinal. As complicações associadas a essas doenças incluem

- I espondilite anquilosante.
- II hepatite crônica ativa.
- III megacólon tóxico.
- IV obstrução do intestino delgado.

Estão certos apenas os itens

- A I e II.
- B I e IV.
- C II e III.
- D III e IV.

QUESTÃO 38

O lúpus eritematoso sistêmico é uma desordem inflamatória auto-imune que pode acometer vários órgãos da economia. A causa mais freqüente de morte associada a essa colagenose refere-se a

- A manifestações neurológicas (comprometimento do sistema nervoso central) ligadas à atividade lúpica.
- B doença renal associada à atividade lúpica.
- C infecções, especialmente por microrganismos oportunistas.
- D infarto do miocárdio associado a processo de aterosclerose acelerada.

As questões 39 e 40 devem ser respondidas de acordo com o Regimento Interno do Tribunal de Justiça do Estado do Pará.

QUESTÃO 39

Antes do início de uma sessão do TJPA, o advogado Lúcio, que residia no Rio de Janeiro e que fora contratado para atuar em um processo que tramitava no tribunal, solicitou preferência de julgamento, pois desejava fazer sustentação oral. Porém, o advogado Caio, que residia em Belém, já havia solicitado a preferência de julgamento, também por desejar proferir sustentação oral. Nessa situação,

- A Lúcio pode ter concedida a preferência em prejuízo de Caio, pelo simples fato de residir em local diverso da sede do TJPA.
- B nem Lúcio nem Caio podem pedir preferência de julgamento, pois ambos desejam fazer sustentação oral, o que causará demora no julgamento dos seus processos.
- C o prazo para Lúcio ou Caio fazerem a sustentação oral será de 20 minutos, caso não haja outro prazo previsto em lei.
- D o Ministério Público poderá obter, em decorrência da solicitação de sustentação oral realizada por Lúcio e Caio, prazo em dobro para também fazer sustentação oral.

QUESTÃO 40

A Corregedoria de Justiça, dividida para efeito de jurisdição em Corregedoria de Justiça da Região Metropolitana de Belém e Corregedoria de Justiça das Comarcas do Interior do Estado, tem funções administrativas, de orientação, fiscalização e disciplinares, a serem exercidas por dois desembargadores eleitos na forma da lei. Os corregedores de justiça serão auxiliados em suas tarefas por juízes corregedores, sendo dois para cada corregedoria, e exercerão, por delegação, suas atribuições relativas aos juízes de direito e servidores da justiça. A respeito dos juízes corregedores, assinale a opção correta.

- A Os juízes corregedores, quando designados, não ficam desligados do exercício de suas varas.
- B Os juízes corregedores têm acrescida à remuneração dos seus cargos parcela remuneratória referente à nova função para a qual foram designados.
- C Ao final do mandato do corregedor-geral, os juízes corregedores não ficam obrigados a reverterem ao exercício de suas varas, sendo-lhes facultada a escolha de nova vara para servir.
- D Os juízes corregedores são escolhidos entre os juízes de direito de entrância final e designados pelo presidente do tribunal, ouvido o Conselho de Magistratura.

PROVA DISCURSIVA

- Nesta prova — que vale **dez** pontos —, faça o que se pede, usando os espaços indicados no presente caderno para rascunho. Em seguida, transcreva o texto para a **FOLHA DE TEXTO DEFINITIVO DA PROVA DISCURSIVA**, no local apropriado, pois **não serão avaliados fragmentos de texto escritos em locais indevidos**.
- Qualquer fragmento de texto além da extensão máxima de **trinta** linhas será desconsiderado.
- Na **folha de texto definitivo**, identifique-se apenas no cabeçalho da primeira página, pois **não será avaliado** texto que tenha qualquer assinatura ou marca identificadora fora do local apropriado.

Olhar também é perigoso. E caímos no dilema: ver ou não ver?

Ana Miranda. *O oráculo insondável*. In: *Correio Braziliense*, 2/4/2006 (com adaptações).

Se interrogarmos nossa experiência, podemos circunscrever, sem dificuldade, o universo de nossas palavras e concluir que vivemos hoje a lenta agonia ou morte de algumas das que ajudaram a fundar a civilização.

(...)

A prática do sofrimento invalida a própria idéia de civilização. Ou melhor, a sensibilidade enfraquece e exige, paradoxalmente, excitações cada vez mais fortes: esse enfraquecimento é proporcional ao crescimento generalizado da brutalidade. Por que as cidades transformaram-se tão violentamente no espaço do temor e da tristeza?

Adauto Novaes. *Sobre tempo e história*. In: *Tempo e história* (com adaptações).

Tomando os fragmentos acima como motivadores de reflexão e argumentação, redija um texto dissertativo acerca de palavras e ações que contribuem para a justiça social. Em seu texto, inclua, necessariamente:

- ▶ aspectos causadores/estimuladores da injustiça social;
- ▶ possíveis soluções para a diminuição da injustiça social;
- ▶ caracterização/exemplos de justiça social.

1	
2	
3	
4	
5	
6	
7	
8	
9	
10	
11	
12	
13	
14	
15	
16	
17	
18	
19	
20	
21	
22	
23	
24	
25	
26	
27	
28	
29	
30	

