

Tribunal de Justiça do Estado do Pará

CONCURSO PÚBLICO Nível Superior

Aplicação: 7/5/2006

Cargo: 14 ANALISTA JUDICIÁRIO
Área: Apoio Especializado/Especialidade:
Odontologia



MANHÃ

Caderno 25

Leia com atenção as instruções abaixo.

- 1 Ao receber este caderno, confira atentamente se o tipo de caderno — CADERNO 25 — coincide com o que está registrado em sua folha de respostas. Em seguida, verifique se ele contém quarenta questões, correspondentes às provas objetivas, corretamente ordenadas de 1 a 40, seguidas da prova discursiva.
- 2 Caso o caderno esteja incompleto ou tenha qualquer defeito, solicite ao fiscal de sala mais próximo que tome as providências cabíveis.
- 3 O espaço para rascunho da prova discursiva é de uso opcional; não contará, portanto, para efeito de avaliação.
- 4 Não utilize lápis, lapiseira, borracha e(ou) qualquer material de consulta que não seja fornecido pelo CESPE/UnB.
- 5 Não serão distribuídas folhas suplementares para rascunho nem para texto definitivo.
- 6 Não se comunique com outros candidatos nem se levante sem autorização do chefe de sala.
- 7 A duração das provas é de **quatro horas**, já incluído o tempo destinado à identificação — que será feita no decorrer das provas —, ao preenchimento da folha de respostas e à transcrição do texto definitivo da prova discursiva para a folha de texto definitivo.
- 8 Na prova discursiva, não será avaliado texto escrito a lápis, texto escrito em local indevido ou texto que tenha identificação fora do local apropriado.
- 9 Ao terminar as provas, chame o fiscal de sala mais próximo, devolva-lhe a sua folha de respostas e a folha de texto definitivo da prova discursiva e deixe o local de provas.
- 10 A desobediência a qualquer uma das determinações constantes no presente caderno, na folha de respostas ou na folha de texto definitivo da prova discursiva poderá implicar a anulação das suas provas.

AGENDA

- I 9/5/2006, após as 19 h (horário de Brasília) – Gabaritos oficiais preliminares das provas objetivas: Internet — www.cespe.unb.br/concursos/tjpa2006.
- II 10 e 11/5/2006 – Recurso (provas objetivas): exclusivamente no Sistema Eletrônico de Interposição de Recurso, Internet — www.cespe.unb.br/concursos/tjpa2006, mediante instruções e formulários que estarão disponíveis nesse endereço.
- III 31/5/2006 – Resultado final das provas objetivas, resultado provisório da prova discursiva e convocação para avaliação de títulos: Diário da Justiça do Estado do Pará e Internet — www.cespe.unb.br/concursos/tjpa2006.
- IV 1.º e 2/6/2006 – Recurso (prova discursiva) e entrega de títulos: em locais e horários que serão informados na divulgação do resultado provisório.

OBSERVAÇÕES

- Não serão objeto de conhecimento recursos em desacordo com o item 13 do Edital n.º 1/2006 – TJPA, de 1.º/3/2006.
- Informações adicionais: telefone 0(XX) 61 3448-0100; Internet — www.cespe.unb.br/concursos/tjpa2006.
- É permitida a reprodução deste material apenas para fins didáticos, desde que citada a fonte.

CESPE UnB
UNIVERSIDADE DE BRASÍLIA

QUESTÃO	RESPOSTA
1	(A) (B) (C) (D)
2	(A) (B) (C) (D)
3	(A) (B) (C) (D)
4	(A) (B) (C) (D)
5	(A) (B) (C) (D)
6	(A) (B) (C) (D)
7	(A) (B) (C) (D)
8	(A) (B) (C) (D)
9	(A) (B) (C) (D)
10	(A) (B) (C) (D)

QUESTÃO	RESPOSTA
11	(A) (B) (C) (D)
12	(A) (B) (C) (D)
13	(A) (B) (C) (D)
14	(A) (B) (C) (D)
15	(A) (B) (C) (D)
16	(A) (B) (C) (D)
17	(A) (B) (C) (D)
18	(A) (B) (C) (D)
19	(A) (B) (C) (D)
20	(A) (B) (C) (D)

QUESTÃO	RESPOSTA
21	(A) (B) (C) (D)
22	(A) (B) (C) (D)
23	(A) (B) (C) (D)
24	(A) (B) (C) (D)
25	(A) (B) (C) (D)
26	(A) (B) (C) (D)
27	(A) (B) (C) (D)
28	(A) (B) (C) (D)
29	(A) (B) (C) (D)
30	(A) (B) (C) (D)

QUESTÃO	RESPOSTA
31	(A) (B) (C) (D)
32	(A) (B) (C) (D)
33	(A) (B) (C) (D)
34	(A) (B) (C) (D)
35	(A) (B) (C) (D)
36	(A) (B) (C) (D)
37	(A) (B) (C) (D)
38	(A) (B) (C) (D)
39	(A) (B) (C) (D)
40	(A) (B) (C) (D)

• Nas questões de 1 a 40, marque, em cada uma, a única opção correta, de acordo com o respectivo comando. Para as devidas marcações, use, caso deseje, o rascunho acima e, posteriormente, a **folha de respostas**, único documento válido para a correção das suas provas.

• Nas questões que avaliam **Noções de Informática**, a menos que seja explicitamente informado o contrário, considere que todos os programas mencionados estão em configuração-padrão, em português, que o *mouse* está configurado para pessoas destras e que expressões como clicar, clique simples e clique duplo referem-se a cliques com o botão esquerdo do *mouse*. Considere também que não há restrições de proteção, de funcionamento e de uso em relação aos programas, arquivos, diretórios e equipamentos mencionados.

CONHECIMENTOS BÁSICOS

Texto para as questões 1 e 2

1 É preciso ter cuidado com as palavras. Elas são verdadeiras armas. Algumas vezes mortais. Certas pessoas têm o dom de dizer as mais afiadas, que entram feito uma
4 flecha envenenada. Porém, em muitos casos, o atingido é aquele que usou a arma, ou seja, o falador. Esse, por exemplo, pode sofrer horríveis arrependimentos por ter dito o que não
7 deveria ter dito. Mas como não dizer aquilo que pensamos?
Há maneiras de dizer sem dizer, e de dizer, desdizendo.

Ana Miranda. *O oráculo insondável*. In: *Correio Brasileiro*, Caderno C, p. 10, 2/4/2006 (com adaptações).

QUESTÃO 1

Assinale a opção **incorreta** com relação à argumentação do texto.

- (A) As palavras podem ter conseqüências tão perigosas quanto as armas, que têm a capacidade de ferir mortalmente.
- (B) Palavras devem ser usadas com cuidado, pois podem ter conseqüências nefastas tanto para quem as ouve quanto para quem as pronuncia.
- (C) Em todas as circunstâncias, é mais prudente não dizer nada porque as palavras são perigosas e, uma vez ditas, não são recolhidas.
- (D) O perigo das palavras recomenda que se empregue cautela ao dizê-las, pois a maneira de dizer pode ser tão importante quanto o próprio dizer.

QUESTÃO 2

Constrói-se a textualidade estabelecendo-se relações de retomadas de sentido, em que certas palavras remetem a outras, em uma verdadeira cadeia de elos de coesão. Nesse sentido, assinale a opção **incorreta**.

- (A) “Algumas” (l.2) retoma “palavras” (l.1).
- (B) “que” (l.3) retoma a idéia de “palavras” (l.1).
- (C) “o falador” (l.5) retoma “o atingido” (l.4).
- (D) “Esse” (l.5) retoma e demonstra “o falador” (l.5).

Texto para as questões de 3 a 5

1 A democracia do Estado contemporâneo necessita, de maneira imprescindível, da consagração da supremacia constitucional e do respeito aos direitos fundamentais, que
4 somente estarão presentes nos países em que houver um Judiciário forte, dotado de plena independência e que possa efetivar suas decisões. A independência judicial constitui
7 direito dos cidadãos, e é triste um país que não a possui.

O magistrado, no momento de julgar, não pode receber ordens de nenhuma autoridade interna ou externa, sendo essa
10 idéia essencial à independência do Judiciário.

A maioria esmagadora dos juizes brasileiros dedicam suas vidas à luta por uma magistratura independente,
13 democrática, transparente e justa e jamais se esquecem da lição do grande Rui: “A autoridade da Justiça é moral, e sustenta-se pela moralidade de suas decisões”.

Alexandre de Moraes. *União pelo fortalecimento*. In: *Folha de S. Paulo*, 25/3/2006 (com adaptações).

QUESTÃO 3

Assinale a opção que apresenta a idéia em torno da qual a argumentação do texto se organiza.

- (A) O direito dos cidadãos, consubstanciado em um Poder Judiciário forte, só é respeitado em uma democracia independente, transparente, soberana e justa.
- (B) Um Poder Judiciário forte e independente é direito dos cidadãos e pilar de sustentação da supremacia constitucional em um Estado democrático.
- (C) O respeito à independência do magistrado no momento de julgar, negando-se a receber ordens de autoridade interna ou externa, já foi lema de Rui Barbosa.
- (D) A luta dos juizes brasileiros por uma magistratura independente e democrática vai de encontro ao direito dos cidadãos que acreditam que a ‘autoridade da Justiça é moral’ (l.14).

QUESTÃO 4

No desenvolvimento da argumentação do texto, as formas verbais que indicam uma probabilidade ou suposição **não** incluem

- A “estarão” (l.4).
- B “houver” (l.4).
- C “possa” (l.5).
- D “sendo” (l.9).

QUESTÃO 5

Assinale a opção **incorreta** a respeito do emprego das estruturas lingüísticas no texto.

- A No trecho “A democracia (...) necessita, **de** maneira imprescindível, **da** consagração **da** supremacia constitucional e **do** respeito aos direitos fundamentais” (l.1-3), o uso da preposição **de** nos termos destacados é exigência da forma verbal “necessita”, para que sejam respeitadas as regras de regência gramatical.
- B As regras gramaticais do padrão culto da língua portuguesa exigem o emprego da preposição no termo “em que” (l.4), o que indica que esse termo pode ser substituído pelo pronome **onde**.
- C Nas linhas 4 e 5, a flexão de singular na forma verbal “possa” indica que o pronome “que” refere-se a “Judiciário” e não a “países”, como poderia ser depreendido da organização textual.
- D Seria preservada a coerência textual e a correção gramatical também com a alternativa de emprego da forma verbal “dedicam” (l.11) no singular: **dedica**.

Texto para as questões de 6 a 8

1 Desde que eu vou ao Fórum Econômico Mundial em Davos, nenhum país atçou a imaginação da conferência e dominou a discussão como a Índia em 2006.

4 O Estado indiano foi um estrondoso sucesso em uma frente. A democracia indiana é uma maravilha a ser observada. Um dos países mais pobres do mundo, ela manteve um governo democrático por mais de 60 anos. E essa é, certamente, uma das maiores virtudes do país quando comparado a muitos outros países em desenvolvimento.

10 A democracia dá lugar ao populismo, politicagem e perda de tempo. Mas também dá lugar à estabilidade no longo prazo. Há elementos da democracia que ferem, principalmente em um país com pobreza, feudalismo e analfabetismo galopantes. Democracia na Índia freqüentemente significou não a vontade da maioria, mas a vontade das minorias organizadas. Mas a democracia tem seus próprios meios de se reequilibrar.

Fareed Zakaria. **Por que a Índia é um exemplo.**
In: **Época**, 6/3/2006 (com adaptações).

QUESTÃO 6

Julgue os seguintes itens, a respeito das idéias do texto.

- I O autor considera o regime democrático positivo, mesmo quando sofre adaptações.
- II O texto usa a Índia como exemplo de uma proposta de intervenção e reestruturação dos sistemas democráticos de governo nos países mais pobres.
- III A tese defendida pela argumentação do texto é a de que o Fórum Econômico Mundial de Davos tem valorizado aspectos políticos, como a democracia nos países pobres.

A quantidade de itens certos é igual a

- A 0.
- B 1.
- C 2.
- D 3.

QUESTÃO 7

Pelo tema abordado, o texto pode integrar um documento oficial, como um relatório ou um parecer, por exemplo. Assinale a opção que representa uma alteração necessária para que o texto respeite, também na forma, as normas de redação de documentos oficiais.

- A Reescrever a primeira oração de maneira menos pessoal: **Desde que existe o Fórum Econômico Mundial de Davos.**
- B Substituir a preposição “por” (l.7) por outra de regência mais formal: **durante**.
- C Retirar a idéia de avaliação sugerida pela comparação com “outros países em desenvolvimento” (l.9).
- D Substituir as duas ocorrências da expressão coloquial “dá lugar” (l.10) pelo verbo, mais formal, **cede**.

QUESTÃO 8

No texto, os trechos que se apresentam na voz passiva, ou seja, estabelecem uma relação em que o sujeito verbal recebe a ação incluem

- I “O Estado indiano foi um estrondoso sucesso” (l.4).
- II “uma maravilha a ser observada” (l.5-6).
- III “quando comparado a muitos outros países” (l.8-9).
- IV “Há elementos da democracia” (l.12).
- V “seus próprios meios de se reequilibrar” (l.16-17).

Estão certos apenas os itens

- A I e IV.
- B I e V.
- C II e III.
- D III, IV e V.

Texto para as questões 9 e 10

1 Se separarmos da palavra civilização as noções de utilitarismo e progressismo, dadas pelo senso comum e pelo pensamento conservador (“desenvolvimento da indústria e do comércio, aquisição de bens materiais e de luxo”), e restituirmos a ela o sentido original, “fineza dos costumes”, “educação dos espíritos”, “desenvolvimento da polidez”, 4 “cultura das artes e das ciências”, podemos dizer então que a civilização está a perigo.

No plano político, no lugar da antiga idéia de 10 Constituição e respeito à cidadania, o termo civilização passou a ser associado a *performance*, espetáculo, *marketing*, simulação e, principalmente, eficácia.

Adauto Novaes. *Sobre tempo e história*. In: Adauto Novaes (Org.). *Tempo e história* (com adaptações).

QUESTÃO 9

Infere-se da argumentação do texto que “a civilização está a perigo” (l.8) porque

- A não se separa, do pensamento conservador, a noção de espetáculo e *performance*.
- B passou a representar o pensamento conservador do senso comum, em lugar da Constituição.
- C a eficácia, em lugar da civilização, deu lugar ao utilitarismo e progressismo, associando-se a simulação.
- D não representa mais ‘fineza dos costumes’ (l.5), ‘educação dos espíritos’ (l.6), ‘desenvolvimento da polidez’ (l.6) ou ‘cultura das artes e das ciências’ (l.7).

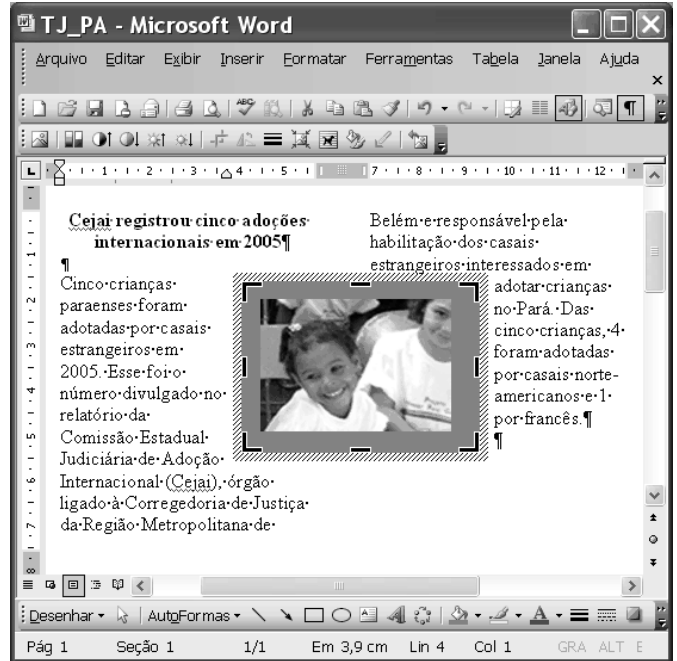
QUESTÃO 10

Assinale a opção em que a alteração proposta para o texto prejudica sua coerência ou resulta em incorreção gramatical.

- A Inserção de duas vírgulas, na linha 1: depois de “separarmos” e depois de “civilização”.
- B Substituição de “restituirmos a ela” (l.5) por **lhe restituirmos**.
- C Retirada da vírgula que antecede a oração iniciada por “podemos” (l.7).
- D Inserção da preposição **a** antes de “eficácia” (l.12).





Texto para as questões de 11 a 13

A figura a seguir ilustra uma janela do Word 2003 que está sendo executado em um computador cujo sistema operacional é o Windows XP. O documento em elaboração contém texto e imagem que foram extraídos de uma página *web* do sítio www.tj.pa.gov.br. A imagem está sobre uma tela de desenho.



QUESTÃO 11

Considerando as informações do texto, assinale a opção correta.

- A Na situação em que se encontra a janela do Word, caso se teclasse , apenas a tela de desenho mencionada no texto será excluída, enquanto a imagem nela contida permanecerá no documento em edição.
- B O botão  permite abrir documento do tipo Word armazenado no computador, desde que o arquivo associado não esteja definido como somente para leitura. Caso o arquivo esteja com a referida definição, ele pode ser aberto por meio do botão .
- C O texto mostrado na janela do Word pode ter sido inserido no documento, a partir da página *web* mencionada, por meio de recursos de copiar e colar do Windows XP. No entanto, esse procedimento não funciona no caso de imagem, sendo necessário que ela seja copiada em arquivo, antes de ser inserida no documento.
- D Por meio de recursos disponibilizados ao se clicar , é possível realizar procedimento para inserir uma imagem no documento em edição, desde que ela esteja armazenada em arquivo.





QUESTÃO 12

Ainda considerando as informações do texto, assinale a opção **incorreta**.

- A É possível inserir o termo **Tribunal de Justiça do Pará** como cabeçalho do documento em edição por meio de recursos acessados no *menu* **Editar**.
- B É possível salvar o documento em edição com o nome TJ_PA_versão_2.doc por meio de procedimento realizado unicamente via teclado.
- C O procedimento descrito a seguir permite alterar a fonte, seu estilo e seu tamanho na primeira linha mostrada da primeira coluna do documento: selecionar a referida linha; clicar o botão direito do *mouse*; na lista disponibilizada, clicar opção que permite realizar as alterações mencionadas; na janela que é aberta em decorrência dessa ação, realizar as alterações desejadas.
- D Na situação em que se encontra a janela do Word, é correto afirmar que o documento está formatado para duas colunas. É possível alterar essa formatação por meio de opção encontrada no *menu* **Formatar**.

QUESTÃO 13

Considerando a situação em que se encontra a janela do Word mostrada no texto, assinale a opção correta.

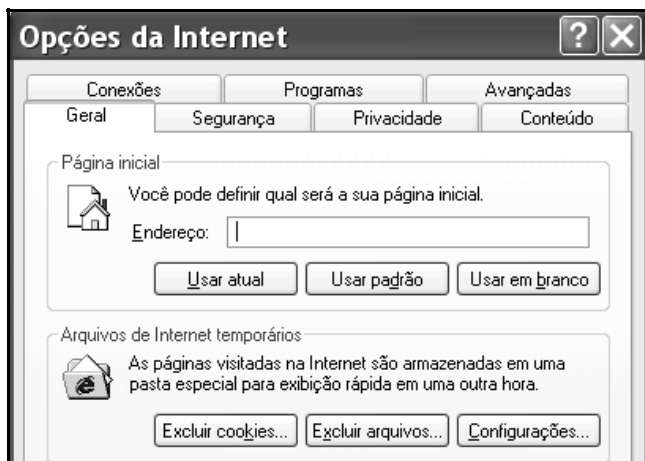
- A Em função do posicionamento da tela de desenho com relação ao texto, é correto inferir que os parágrafos mostrados do documento não podem ser justificados às margens esquerda e direita.
- B A tela de desenho mostrada pode ter sido inserida no documento por meio de recursos disponibilizados ao se clicar o botão .
- C Os botões  e  permitem alterar a cor de fundo da tela de desenho que está sob a imagem mostrada no documento.
- D É possível inserir uma moldura na tela de desenho mostrada por meio do botão .

QUESTÃO 14

A figura acima ilustra parte da janela que contém as propriedades de uma conta de *e-mail* configurada no Outlook Express 6 (OE6). Considerando essa figura, assinale a opção correta.

- A Ao se clicar a guia **Avançado**, será disponibilizado recurso que permite configurar o OE6 de modo que, ao se receber uma mensagem de correio eletrônico, o nome e o endereço de *e-mail* do remetente seja adicionado ao catálogo de endereços do OE6.
- B Para evitar que pessoas não-autorizadas acessem a conta “José”, pode-se configurar uma senha, por meio de recursos encontrados na guia **Servidores**, de maneira que seja feita a solicitação para fornecimento dessa senha toda vez que se execute o OE6 para realizar procedimento de enviar ou receber uma mensagem de *e-mail*.
- C O OE6 permite que se faça, em pasta específica do computador, *backup* das respostas às mensagens recebidas. Para isso, é suficiente digitar no campo **Endereço para resposta:** o endereço da pasta em que se deseja fazer o *backup*.
- D Caso a marcação mostrada na janela — referente a incluir esta conta ao receber ou sincronizar *e-mails* — seja desabilitada, a conta “José” não poderá ser utilizada para enviar ou receber mensagens de correio por meio do OE6.

QUESTÃO 15



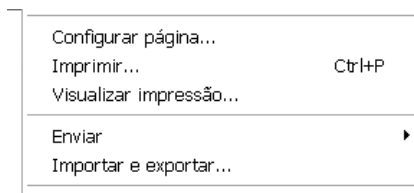
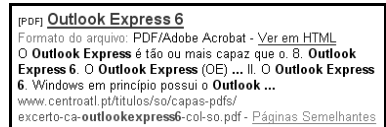
A figura acima ilustra parte da janela Opções da Internet que foi executada em um computador cujo sistema operacional é o Windows XP, a partir do *menu* Ferramentas do Internet Explorer 6 (IE6). Considerando essa figura, assinale a opção correta.

- A Por meio do botão **Excluir cookies...**, é possível excluir todos os *cookies* que estejam armazenados no computador como resultado de sessões de uso do IE6, enquanto que o botão **Configurações...** disponibiliza recursos que permitem excluir apenas *cookies* selecionados.
- B Considere que se deseje configurar o IE6 de forma que seja gerada uma mensagem de alerta quando se acessar determinado sítio na Internet. Nessa situação, a guia **Conexões** disponibiliza recursos que permitem elaborar uma lista de sítios para os quais, quando forem acessados, o IE6 gerará a mensagem mencionada.
- C Recursos da guia **Programas** permitem definir o programa antivírus que será usado quando se acessar a Internet por meio do IE6. Esses recursos permitem definir também o tipo de certificado de segurança que será usado ao se acessar sítios em que são realizadas transações sigilosas, como no acesso a sítios de bancos.
- D Na guia **Privacidade**, existem recursos que permitem definir, em uma lista, todos os sítios da Web que se deseja ter acesso permitido. Dessa forma, apenas os sítios que estejam nessa lista podem ser acessados por meio do IE6.

QUESTÃO 16

Assinale a opção correta com relação a conceitos de Internet, correio eletrônico e aplicativos desenvolvidos para uso em redes de computadores.

- A Os programas de correio eletrônico Outlook e Outlook Express foram desenvolvidos pela Microsoft para serem executados em computadores com o Windows XP instalado. Ao contrário do Outlook, que pode ser obtido gratuitamente na Internet por *download*, o Outlook Express faz parte do pacote de aplicativos Microsoft Office e, portanto, necessita de licença para uso.
- B Mozilla é uma organização que desenvolve aplicativos voltados para a Internet que podem ser utilizados gratuitamente. Entre eles está o Firefox, o qual é uma família de aplicativos que inclui *browser*, correio eletrônico e editor de HTML, que é a linguagem de criação de páginas *web* na Internet.
- C Considere que as informações mostradas no quadro ao lado tenham sido obtidas como resultado de uma pesquisa realizada na Internet utilizando-se o sítio Google. Nessa situação, é correto inferir que a página *web* associada a essas informações não pertence a um sítio brasileiro e, sabendo-se que **Outlook Express 6** consiste em um *hyperlink*, caso este *hyperlink* seja clicado será realizado o *download* de um arquivo no formato PDF.
- D A figura a seguir mostra parte das opções do *menu* **Arquivo** do IE6. Recursos disponibilizados ao se clicar **Importar e exportar...** permitem salvar a página atual do IE6 como arquivo do tipo Word, bem como permitem inserir o conteúdo de um arquivo do tipo Word em página *web* em desenvolvimento.



QUESTÃO 17

Considere a situação em que um usuário deseje gravar uma cópia de segurança de cinco arquivos que, juntos, ocupem uma quantidade de memória de 1,5 *megabytes*. Com relação a essa situação, assinale a opção correta.

- A Com o uso do programa WinZip 8.1, é possível compactar o grupo de arquivos citado, salvando-os em apenas um arquivo do tipo WinZip.
- B Esses cinco arquivos não poderiam ser armazenados sem compactação em um dispositivo do tipo *pen-drive*, pois o limite de memória desse tipo de dispositivo é inferior a 1 bilhão de *bytes*, que é inferior a 1,5 *megabyte*.
- C Uma grande desvantagem dos dispositivos do tipo CD-ROM é o fato de terem capacidade máxima de armazenamento de 300 milhões de *bytes*.
- D Os dispositivos não-voláteis de armazenamento mais eficientes disponíveis atualmente são as memórias RAM, que, além disso, não consomem energia.

QUESTÃO 18

Em computadores que utilizam como sistema operacional o Windows XP, é possível configurar a resolução da tela do monitor de vídeo por meio da janela Propriedades de vídeo. Assinale a opção que apresenta uma forma correta de abrir essa janela.

- A Clicar, com o botão direito do *mouse*, um ponto sem ícones da *desktop* do Windows e clicar Propriedades.
- B Clicar, com o botão direito do *mouse*, um ponto sem ícones da barra de tarefas do Windows e clicar Propriedades.
- C Clicar, com o botão direito do *mouse*, sobre o ícone associado à lixeira do Windows e clicar Propriedades.
- D Aplicar um clique duplo no ícone associado à pasta Meu computador.






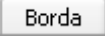
Texto para as questões 19 e 20

A janela do Excel 2003 ilustrada a seguir apresenta algumas tabelas de custas judiciais extrajudiciais, em processo de edição, extraídas e adaptadas do sítio www.tj.pa.gov.br. A janela encontra-se em execução em um computador PC cujo sistema operacional é o Windows XP.

	A	B	C
1	Tabelas de custas judiciais extrajudiciais		
2			
3			valor (R\$)
4		casamento	111,40
5		nos cartórios	222,80
6		a domicílio	223,70
7		após as 18 h	223,70
8		Máximo valor da tabela	223,70
9		assentos	37,60
10		no prazo	68,80
11		fora do prazo	66,80
12		fora do prazo legal	
		Máximo valor da tabela	




QUESTÃO 19

Com base na situação em que se encontra a janela mencionada no texto, assinale a opção **incorreta** acerca do Excel 2003.

- A O conteúdo da célula C7 pode ter sido obtido utilizando-se recursos disponibilizados pelo conjunto de botões .
- B O conteúdo da célula C11 será igual a 68,80 após a execução do seguinte procedimento: clicar a célula C7; pressionar e manter pressionada a tecla ; teclar ; clicar a célula C11; teclar ; liberar a tecla .
- C Considere que o conteúdo da célula C5 contenha a fórmula =2*C\$4. Caso esse conteúdo seja copiado e colado na célula C9, o valor numérico da célula C9 passará a ser igual a 75,20.
- D O efeito mostrado no conjunto de células mescladas A3 e B3 pode ter sido obtido por meio de recursos disponibilizados ao se clicar a guia  na janela do Excel 2003 parcialmente mostrada na figura a seguir.

**QUESTÃO 20**

Ainda com base na situação em que se encontra a janela mencionada no texto, assinale a opção correta acerca do Excel 2003.

- A O comentário associado à célula C7 pode ter sido inserido na planilha ao se clicar o botão  e digitar o comentário apresentado na figura.
- B Ao se clicar o botão , será executada uma janela do Internet Explorer.
- C O conteúdo da célula C9 será igual a 688,0, caso o botão  seja clicado, após se ter clicado a referida célula.
- D Pelo efeito de texto mostrado na janela do Excel, o conjunto de células mescladas de A1 a C2 pode estar formatado para alinhamento horizontal e vertical central e para retorno automático de texto.

CONHECIMENTOS ESPECÍFICOS

QUESTÃO 21

Uma paciente com 18 anos de idade procurou atendimento, queixando-se da aparência estética do sorriso. Ao exame, foi observado que os dentes apresentavam alteração de cor moderada com envolvimento de praticamente todos os dentes, com coloração amarelo-acastanhada. Segundo informação da paciente, os dentes tinham-se erupcionado assim e não tinha havido mudança de padrão desde então. Na anamnese, ela informou que, até os cinco anos de idade, teve muitos problemas de saúde e fez uso sistemático de antibióticos, entre eles, tetraciclina.

Com relação a essa situação hipotética, julgue os itens a seguir.

- I O provável diagnóstico é o de alteração de cor provocada pela utilização de tetraciclina.
- II A coloração intrínseca pode ser removida parcial ou totalmente pelo uso, por período mais longo que o usual, de clareador externo em baixa concentração.
- III A colocação de facetas indiretas de porcelana pode ser indicada para a solução do referido problema estético.
- IV A associação de clareamento externo e facetas indiretas é uma das possibilidades de solução do problema apresentado.

A quantidade de itens certos é igual a

- A 1.
- B 2.
- C 3.
- D 4.

QUESTÃO 22

Parcela significativa da população apresenta sinais detectáveis de disfunções da articulação temporomandibular (DTMs). O cirurgião-dentista deve estar apto a identificar, tratar e prevenir esses distúrbios funcionais. A esse respeito, julgue os itens abaixo.

- I As DTMs são mais frequentes em pessoas do sexo masculino.
- II A artrite reumatóide e a artrite psoríaca podem comprometer a articulação temporomandibular.
- III Indivíduos com mordida aberta anterior, mordida cruzada unilateral e sem os dentes posteriores têm maiores chances de desenvolver DTMs.
- IV As abordagens oclusais corretivas são as mais recomendadas para tratamento inicial de pacientes com DTM.

Estão certos apenas os itens

- A I e II.
- B I e IV.
- C II e III.
- D III e IV.

QUESTÃO 23

Os princípios da oclusão mutuamente protegida ou desocclusão organizada incluem

- I coincidência entre RC e MIH.
- II existência de contatos bilaterais efetivos somente nos dentes posteriores.
- III relação oclusal do tipo cúspide/fossa.
- IV direcionamento axial da carga oclusal, segundo o longo eixo dos dentes posteriores.

A quantidade de itens certos é igual a

- A 1.
- B 2.
- C 3.
- D 4.

QUESTÃO 24

O diagnóstico de cárie é extremamente importante como base para a tomada de decisões de tratamento odontológico. Por muitos anos, dentistas, no mundo inteiro, têm usado os olhos e as radiografias para diagnosticar cárie dentária. A respeito dos exames visual e radiográfico, assinale a opção **incorreta**.

- A O exame visual permite ao dentista avaliar a atividade de cárie do paciente.
- B O exame radiográfico permite a detecção da perda mineral e da profundidade da lesão de cárie.
- C A remoção de placa bacteriana deve, sempre, preceder o exame clínico visual.
- D O exame radiográfico determina se há ou não cavidade de cárie.

QUESTÃO 25

A cárie dentária, doença multifatorial, tem como um dos seus fatores determinantes a dieta. A cariogenicidade dos alimentos depende de vários fatores, como composição química, forma física, tamanho das partículas, solubilidade, adesão, textura e sabor. O período e as concentrações em que os carboidratos permanecem na boca após as refeições são relevantes e influenciam o poder cariogênico dos alimentos. A respeito do tempo de eliminação dos carboidratos, assinale a opção correta.

- A É longo o tempo de eliminação dos carboidratos de frutas, vegetais e bebidas.
- B Chocolates, pastilhas de hortelã, caramelos, balas, biscoitos e doces, embora pegajosos, possuem textura firme, o que exige mastigação vigorosa que diminua o tempo de permanência de carboidratos na boca.
- C A escovação dentária após as refeições é um procedimento que ajuda a diminuir o tempo de permanência dos carboidratos na cavidade bucal.
- D O uso de aparelhos ortodônticos fixos e o de próteses dentárias não interferem no tempo de contato dos alimentos com as superfícies dentárias.

QUESTÃO 26

A saliva, fluido corporal produzido pelas glândulas salivares, apresenta como componentes as aglutininas, lisozimas, imunoglobulinas e bicarbonato, os quais podem afetar a microflora cariogênica. As funções da saliva **não** incluem a

- A lubrificação do bolo alimentar.
- B limpeza da superfície dentária por meio da capacidade de tampão salivar.
- C remoção de carboidratos solúveis.
- D inibição da perda mineral dos dentes.

QUESTÃO 27

Os selantes, que constituem importante tecnologia de prevenção da cárie dentária, são, idealmente, utilizados, em combinação com a educação do paciente, a higiene bucal efetiva, o uso de fluoretos e as visitas regulares ao dentista. A respeito dos selantes, julgue os itens a seguir.

- I A avaliação do risco de cárie é um importante determinante da necessidade de uso do selante.
- II A adesão dos selantes independente da presença de resíduos ou camada de proteína sobre as superfícies a serem seladas.
- III Na superfície a ser selada, o ácido fosfórico em gel ou líquido deve cobrir uma ampla área, para que não haja margem de esmalte sem-condicionamento.
- IV A principal causa de falhas dos selantes deve-se à contaminação, pela umidade, da superfície de esmalte condicionada.

A quantidade de itens certos é igual a

- A 1.
- B 2.
- C 3.
- D 4.

QUESTÃO 28

Em Odontologia, o uso de fluoretos é, provavelmente, o mais importante fator, se considerado isoladamente, para explicar a significativa redução de cárie dentária ocorrida em diferentes partes do mundo. Nesse contexto, os fluoretos de aplicação tópica merecem destaque. Toda vez que o flúor tópico é utilizado, ocorre reação química com a estrutura mineralizada dos dentes, formando-se produtos que interferem na progressão de cárie. O produto de maior reação entre o fluoreto e a apatita é o fluoreto de cálcio (CaF_2), que funciona como reservatório, buscando manter o flúor constante no meio bucal. Nesse sentido, assinale a opção correta acerca da reação dos fluoretos com a estrutura mineralizada dos dentes.

- A Forma-se mais CaF_2 sobre esmalte íntegro do que sobre esmalte com lesão de cárie.
- B Quando se aplica fluorofosfato acidulado, forma-se mais CaF_2 do que quando é usado flúor neutro.
- C O esmalte dentário é mais reativo ao flúor do que a dentina, devido à disponibilidade de cálcio na forma de apatita carbonatada e fosfato de cálcio amorfo.
- D Quanto maior o tempo de aplicação de flúor, maior a tendência de se formar CaF_2 , o que se reflete no efeito clínico dos produtos fluoretados.

QUESTÃO 29

Pela necessidade de preservação, a polpa, apesar de ter boa capacidade de reação e autodefesa, acaba sofrendo conseqüências de procedimentos realizados sem os devidos cuidados na prática da Odontologia. Para a proteção do complexo dentina-polpa (CDP), é importante a forma como esse tecido é tratado e a aplicação de selamento ou vedamento das margens do tratamento restaurador. Com relação a materiais e técnicas de proteção do CDP, assinale a opção **incorreta**.

- A Condicionamento ácido da polpa seguido de aplicação de sistemas adesivos, como agentes capeadores, são procedimentos clínicos aceitáveis.
- B Entre as vantagens do hidróxido de cálcio, incluem-se a alta alcalinidade, a capacidade de estimular ações dos fibroblastos e a capacidade bactericida e bacteriostática.
- C A falta de adesão e a degradação pela condensação do amálgama e pelo condicionamento ácido, são, entre outras, desvantagens do hidróxido de cálcio.
- D A secagem do campo operatório com jatos de ar diretamente sobre a dentina umedecida pode causar sensibilidade pós-operatória e dano pulpar.

QUESTÃO 30

É praticamente impossível que qualquer forma de injúria à polpa seja totalmente evitada durante procedimentos restauradores. Além do trauma decorrente do preparo cavitário, agentes químicos provenientes dos materiais e infiltração bacteriana podem provocar reações pulpares adversas. Julgue os itens a seguir relativos a procedimentos de proteção do CDP em que se utiliza sistema adesivo.

- I Em cavidades muito profundas (menos de 0,5 mm de espessura dentinária), a proteção de agentes forradores e bases pode ser substituída pela hibridização.
- II Imperfeições na hibridização da dentina podem resultar em sensibilidade pós-operatória prolongada ao frio e sensibilidade à pressão mastigatória.
- III A contração das fibras colágenas expostas, após condicionamento ácido na dentina, é que permite a penetração do sistema adesivo.
- IV A capacidade do material restaurador de selar as margens da cavidade e de prevenir a microinfiltração é a variável mais importante na determinação da reação pulpar, após condicionamento ácido sobre a dentina.

A quantidade de itens certos é igual a

- A 1.
- B 2.
- C 3.
- D 4.

QUESTÃO 31

Para o preparo cavitário, são necessários instrumentos que proporcionem acesso à lesão que afeta a estrutura dentária. Entre os instrumentos operatórios disponíveis, os instrumentos cortantes manuais e rotatórios são muito utilizados na prática odontológica. Com relação a esses instrumentos, assinale a opção **incorreta**.

- A As enxadas têm seu uso indicado principalmente para acabamento final das paredes internas das cavidades.
- B As brocas esféricas são indicadas principalmente para remoção de tecido cariado, confecção de retenções e acesso a cavidades de dentes anteriores, ao passo que as de cone invertido são utilizadas para determinar sulcos e canaletas em cavidades para restaurações metálicas fundidas.
- C Quando o instrumento rotatório gira a mais de 4.000 rpm, ele deve ser refrigerado com *spray* água-ar lançados sobre a parte ativa da broca, a fim de serem evitados danos pulpares.
- D As vibrações provocadas por instrumentos rotatórios podem produzir lesões pulpares na região correspondente ao preparo cavitário.

QUESTÃO 32

Por muito tempo, acreditou-se que a dentística restauradora tradicional, assim como a visita regular ao dentista, resultava em saúde oral. Em muitas partes do mundo, desenvolveu-se uma maneira mecânica para solucionar problemas relacionados a doenças bacteriológicas, porém essa abordagem não promoveu um tratamento efetivo da doença cárie. Ao contrário, o processo bacteriológico prosseguia e surgiam novas lesões de cárie ou cárie secundária, o que criava um novo problema: a manutenção e a restauração do dente restaurado, o chamado ciclo restaurador repetitivo. Chegou a hora de corrigir esse equívoco e se estabelecer um novo patamar de conhecimento, para se avançar na direção de um modelo de promoção de saúde.

Elderton. *In*: ABOPREV — Promoção de Saúde Bucal, 2003 (com adaptações).

Com referência ao tema do texto acima, julgue os itens subseqüentes.

- I As restaurações não são duráveis e não curam a cárie.
- II Sob a ótica do tratamento tradicional, ressalta a urgência em produzir restaurações e em intervir invasivamente no dente.
- III A cada retratamento, os dentes tornam-se inevitavelmente menos resistentes e a complexidade das restaurações aumenta.
- IV As restaurações estão fadadas ao fracasso, a menos que se observem os fatores etiológicos prevalentes.

A quantidade de itens certos é igual a

- A 1.
- B 2.
- C 3.
- D 4.

QUESTÃO 33

O sucesso do tratamento restaurador depende, entre outros fatores, do conhecimento integral das propriedades, da estrutura e da função do CDP, o que constitui a base biológica necessária para a tomada de decisões clínicas. Com relação ao conhecimento sobre o CDP e suas reações, assinale a opção **incorreta**.

- A A dentina terciária ou reacional localizada é formada por uma nova geração de odontoblastos, enquanto a dentina reparadora forma-se às expensas dos odontoblastos primários.
- B Os túbulos dentinários encontram-se dispostos radialmente, com seu maior diâmetro direcionado para a câmara pulpar.
- C A resposta imediata e o declínio rápido da dor à estimulação térmica com frio indicam que a polpa se encontra em estado potencialmente reversível.
- D O efeito dos procedimentos cortantes, como o de preparo cavitário, é maior em áreas de exposição dentinária recente.

QUESTÃO 34

Os cimentos de ionômero de vidro surgiram da associação do ácido proveniente do cimento de poliacrilato com o pó do cimento de silicato. Suas propriedades físicas e biológicas possibilitam sua ampla aplicação clínica em Odontologia. A respeito desses cimentos, assinale a opção **incorreta**.

- A Os cimentos ionoméricos apresentam adesão à estrutura dental por meio dos radicais carboxílicos que se unem ao cálcio da dentina e do esmalte.
- B O cimento ionomérico apresenta, durante o primeiro estágio de presa, alta suscetibilidade ao ganho (sinérese) e perda de líquido (embebição).
- C As propriedades mecânicas dos cimentos ionoméricos dependem da sua proporção pó-líquido. Um aumento na quantidade de pó reduz a adesividade e a translucidez do material.
- D Entre as principais indicações dos cimentos ionoméricos, incluem-se o selamento de cicatrículas e fissuras, as restaurações atraumáticas (ART), a dessensibilização dentinária e a cimentação de próteses.

QUESTÃO 35

A cárie dentária tem afetado a humanidade desde a sua pré-história. Em diferentes culturas e épocas, o homem tem exibido grande variação na suscetibilidade à doença. O conhecimento de como se dá o início, o desenvolvimento e o estacionamento da cárie dentária levaram a um aperfeiçoamento do seu diagnóstico, o que tem possibilitado tratamentos mais biologicamente orientados. Assinale a opção **incorreta** acerca do diagnóstico da cárie dentária.

- A Inflamação na gengiva marginal pode ser um dos indicadores de atividade de cárie na superfície oclusal.
- B A bateria labial inferior constitui área de imunidade relativa ao desenvolvimento de lesão de cárie, devido ao fluxo salivar intenso nessa região.
- C A presença de lesões incipientes de cárie em superfície oclusal, durante o período de erupção dentária, deve-se à redução da função mecânica oral, que favorece o acúmulo de placa com potencial cariogênico.
- D Manchas brancas, rugosas e opacas no esmalte ou dentina amolecida de cor marrom-clara são características de lesão ativa de cárie.

QUESTÃO 36

Uma das maiores dificuldades para a realização de restauração de resina composta em dentes posteriores está na obtenção de ponto de contato adequado em cavidades de classe II. Assinale a opção **incorreta** acerca da colocação de matriz e obtenção de ponto de contato adequado em cavidades da referida classe.

- A O uso de matriz transparente sem pré-cunhamento pode resultar em ponto de contato deficiente.
- B É indispensável o pré-cunhamento para restabelecimento do ponto de contato.
- C A utilização de cunha excessivamente alta pode resultar em ausência de contato.
- D A utilização de matriz de aço sem pré-contorno pode resultar em ausência de contato.

QUESTÃO 37

As ligas de fase dispersa diferem das ligas convencionais na sua composição e nas propriedades físicas. Com relação às ligas de fase dispersa, assinale a opção **incorreta**.

- A Elas apresentam resultado inferior no que diz respeito à adaptação marginal por não estarem sujeitas ao fenômeno da corrosão, que, com seus produtos, veda a interface dente/restauração.
- B O conteúdo total de cobre utilizado nelas varia de 9% a 20%.
- C As partículas prata-cobre conferem rigidez à matriz de amálgama.
- D O amálgama rico em cobre é catódico em relação ao amálgama convencional.

QUESTÃO 38

Julgue os próximos itens relativos às características clínicas do processo saúde/doença periodontal.

- I A cor da gengiva não é parâmetro para se avaliar a saúde gengival.
- II O sangramento e a secreção do fluido gengival determinam os primeiros sinais clínicos da gengivite.
- III A mobilidade dentária não é sinal de doença periodontal: pode ser seqüela desta ou estar associada, por exemplo, a traumatismos e processos periapicais.
- IV Na gengivite, importam a presença e a distribuição da placa bacteriana supragengival e o sangramento gengival.

A quantidade de itens certos é igual a

- A 1.
- B 2.
- C 3.
- D 4.

As questões 39 e 40 devem ser respondidas de acordo com o Regimento Interno do Tribunal de Justiça do Estado do Pará.

QUESTÃO 39

Antes do início de uma sessão do TJPA, o advogado Lúcio, que residia no Rio de Janeiro e que fora contratado para atuar em um processo que tramitava no tribunal, solicitou preferência de julgamento, pois desejava fazer sustentação oral. Porém, o advogado Caio, que residia em Belém, já havia solicitado a preferência de julgamento, também por desejar proferir sustentação oral. Nessa situação,

- A Lúcio pode ter concedida a preferência em prejuízo de Caio, pelo simples fato de residir em local diverso da sede do TJPA.
- B nem Lúcio nem Caio podem pedir preferência de julgamento, pois ambos desejam fazer sustentação oral, o que causará demora no julgamento dos seus processos.
- C o prazo para Lúcio ou Caio fazerem a sustentação oral será de 20 minutos, caso não haja outro prazo previsto em lei.
- D o Ministério Público poderá obter, em decorrência da solicitação de sustentação oral realizada por Lúcio e Caio, prazo em dobro para também fazer sustentação oral.

QUESTÃO 40

A Corregedoria de Justiça, dividida para efeito de jurisdição em Corregedoria de Justiça da Região Metropolitana de Belém e Corregedoria de Justiça das Comarcas do Interior do Estado, tem funções administrativas, de orientação, fiscalização e disciplinares, a serem exercidas por dois desembargadores eleitos na forma da lei. Os corregedores de justiça serão auxiliados em suas tarefas por juízes corregedores, sendo dois para cada corregedoria, e exercerão, por delegação, suas atribuições relativas aos juízes de direito e servidores da justiça. A respeito dos juízes corregedores, assinale a opção correta.

- A Os juízes corregedores, quando designados, não ficam desligados do exercício de suas varas.
- B Os juízes corregedores têm acrescida à remuneração dos seus cargos parcela remuneratória referente à nova função para a qual foram designados.
- C Ao final do mandato do corregedor-geral, os juízes corregedores não ficam obrigados a reverterem ao exercício de suas varas, sendo-lhes facultada a escolha de nova vara para servir.
- D Os juízes corregedores são escolhidos entre os juízes de direito de entrância final e designados pelo presidente do tribunal, ouvido o Conselho de Magistratura.

PROVA DISCURSIVA

- Nesta prova — que vale **dez** pontos —, faça o que se pede, usando os espaços indicados no presente caderno para rascunho. Em seguida, transcreva o texto para a **FOLHA DE TEXTO DEFINITIVO DA PROVA DISCURSIVA**, no local apropriado, pois **não serão avaliados fragmentos de texto escritos em locais indevidos**.
- Qualquer fragmento de texto além da extensão máxima de **trinta** linhas será desconsiderado.
- Na **folha de texto definitivo**, identifique-se apenas no cabeçalho da primeira página, pois **não será avaliado** texto que tenha qualquer assinatura ou marca identificadora fora do local apropriado.

Olhar também é perigoso. E caímos no dilema: ver ou não ver?

Ana Miranda. *O oráculo insondável*. In: *Correio Braziliense*, 2/4/2006 (com adaptações).

Se interrogarmos nossa experiência, podemos circunscrever, sem dificuldade, o universo de nossas palavras e concluir que vivemos hoje a lenta agonia ou morte de algumas das que ajudaram a fundar a civilização.

(...)

A prática do sofrimento invalida a própria idéia de civilização. Ou melhor, a sensibilidade enfraquece e exige, paradoxalmente, excitações cada vez mais fortes: esse enfraquecimento é proporcional ao crescimento generalizado da brutalidade. Por que as cidades transformaram-se tão violentamente no espaço do temor e da tristeza?

Adauto Novaes. *Sobre tempo e história*. In: *Tempo e história* (com adaptações).

Tomando os fragmentos acima como motivadores de reflexão e argumentação, redija um texto dissertativo acerca de palavras e ações que contribuem para a justiça social. Em seu texto, inclua, necessariamente:

- ▶ aspectos causadores/estimuladores da injustiça social;
- ▶ possíveis soluções para a diminuição da injustiça social;
- ▶ caracterização/exemplos de justiça social.

1	
2	
3	
4	
5	
6	
7	
8	
9	
10	
11	
12	
13	
14	
15	
16	
17	
18	
19	
20	
21	
22	
23	
24	
25	
26	
27	
28	
29	
30	

