



PODER JUDICIÁRIO TRIBUNAL SUPERIOR ELEITORAL (TSE)

CONCURSO PÚBLICO
NÍVEL SUPERIOR

Aplicação: 14/1/2007

CARGO 18: ANALISTA JUDICIÁRIO ÁREA: APOIO ESPECIALIZADO ESPECIALIDADE: ODONTOLOGIA

MANHÃ

Caderno

18-BURUNDI

LEIA COM ATENÇÃO AS INSTRUÇÕES ABAIXO.

- 1 Ao receber este caderno, confira atentamente se o tipo de caderno — Caderno 18-BURUNDI — coincide com o que está registrado em sua folha de respostas. Em seguida, verifique se ele contém oitenta questões, correspondentes às provas objetivas, corretamente ordenadas de 1 a 80, seguidas da prova discursiva e de espaço para rascunho.
- 2 Quando autorizado pelo chefe de sala, no momento da identificação, escreva, no espaço apropriado na sua folha de respostas, com sua caligrafia usual, o seguinte provérbio:
Podemos escolher o que semear; mas colhemos o que plantamos.
- 3 Caso o caderno esteja incompleto ou tenha qualquer defeito, solicite ao fiscal de sala mais próximo que tome as providências cabíveis.
- 4 O espaço para rascunho da prova discursiva é de uso opcional; não contará, portanto, para efeito de avaliação.
- 5 Não utilize lápis, lapiseira, borracha e(ou) qualquer material de consulta que não seja fornecido pelo CESPE/UnB.
- 6 Não serão distribuídas folhas suplementares para rascunho nem para texto definitivo.
- 7 Não se comunique com outros candidatos nem se levante sem autorização do chefe de sala.
- 8 Na prova discursiva, não será avaliado texto escrito a lápis, texto escrito em local indevido ou texto que tenha identificação fora do local apropriado.
- 9 A duração das provas é de **cinco horas**, já incluído o tempo destinado à identificação — que será feita no decorrer das provas —, ao preenchimento da folha de respostas e à transcrição do texto definitivo da prova discursiva para a folha de texto definitivo.
- 10 Você deverá permanecer obrigatoriamente em sala por, no mínimo, uma hora após o início das provas e poderá levar o seu caderno de provas somente no decurso dos últimos **quinze minutos** anteriores ao horário determinado para o término das provas.
- 11 Ao terminar as provas, chame o fiscal de sala mais próximo, devolva-lhe a sua folha de respostas e a folha de texto definitivo da prova discursiva e deixe o local de provas.
- 12 A desobediência a qualquer uma das determinações constantes no presente caderno, na folha de respostas ou na folha de texto definitivo da prova discursiva poderá implicar a anulação das suas provas.

AGENDA (DATAS PROVÁVEIS)

- I 16/1/2007, após as 9 h (horário de Brasília) – Gabaritos oficiais preliminares das provas objetivas: Internet — www.cespe.unb.br/concursos/tse2006.
- II 16 a 18/1/2007 – Recursos (provas objetivas): exclusivamente no Sistema Eletrônico de Interposição de Recurso, Internet — www.cespe.unb.br/concursos/tse2006, mediante instruções e formulários que estarão disponíveis nesse endereço.

OBSERVAÇÕES

- Não serão objeto de conhecimento recursos em desacordo com o item 12 do Edital n.º 1/2006 – TSE, de 13/11/2006.
- Informações adicionais: telefone 0(XX) 61 3448-0100; Internet — www.cespe.unb.br/concursos/tse2006.
- É permitida a reprodução deste material apenas para fins didáticos, desde que citada a fonte.

CESPEUnB
UNIVERSIDADE DE BRASÍLIA

- Nas questões de 1 a 80, marque, em cada uma, a única opção correta, de acordo com o respectivo comando. Para as devidas marcações, use a **folha de respostas**, único documento válido para a correção das suas provas.
- Nas questões que avaliam **Noções de Informática**, a menos que seja explicitamente informado o contrário, considere que todos os programas mencionados estão em configuração-padrão em português, que o *mouse* está configurado para pessoas destros e que expressões como clicar, clique simples e clique duplo referem-se a cliques com o botão esquerdo do *mouse*. Considere também que não há restrições de proteção, de funcionamento e de uso em relação aos programas, arquivos, diretórios e equipamentos mencionados.

CONHECIMENTOS BÁSICOS

Texto para as questões 1 e 2

1 Falei de esquisitices. Aqui está uma, que prova ao
mesmo tempo a capacidade política deste povo e a grande
observação dos seus legisladores. Refiro-me ao processo
4 eleitoral. Assisti a uma eleição que aqui se fez em fins de
novembro. Como em toda a parte, este povo andou em busca
da verdade eleitoral. Reformou muito e sempre; esbarrava-se,
7 porém, diante de vícios e paixões, que as leis não podem
eliminar. Vários processos foram experimentados, todos
deixados ao cabo de alguns anos. É curioso que alguns deles
10 coincidiram com os nossos de um e de outro mundo. Os
males não eram gerais, mas eram grandes. Havia eleições
boas e pacíficas, mas a violência, a corrupção e a fraude
13 inutilizavam em algumas partes as leis e os esforços leais dos
governos. Votos vendidos, votos inventados, votos destruídos,
era difícil alcançar que todas as eleições fossem puras e
16 seguras. Para a violência havia aqui uma classe de homens,
felizmente extinta, a que chamam pela língua do país,
kapangas ou *kapengas*. Eram esbirros particulares,
19 assalariados para amedrontar os eleitores e, quando fosse
preciso, quebrar as urnas e as cabeças. Às vezes quebravam
só as cabeças e metiam nas urnas maços de cédulas. Estas
22 cédulas eram depois apuradas com as outras, pela razão
especiosa de que mais valia atribuir a um candidato algum
pequeno saldo de votos que tirar-lhe os que deveras lhe foram
25 dados pela vontade soberana do país. A corrupção era menor
que a fraude; mas a fraude tinha todas as formas. Enfim,
muitos eleitores, tomados de susto ou de descrença, não
28 acudiam às urnas.

Machado de Assis. *A semana. Obra completa*, v. III.
Rio de Janeiro: Aguilar, 1973, p. 757.

QUESTÃO 1

Em relação ao texto, assinale a opção **incorreta**.

- A Após o termo “uma” (l.1), subentende-se a elipse da palavra **esquisitice**.
- B Caso a expressão “aqui se fez” (l.4) seja substituída por **aqui foi feita**, prejudica-se a correção gramatical do período.
- C Em “esbarrava-se” (l.6), o termo “se” indica indeterminação do sujeito.
- D O emprego da vírgula após “paixões” (l.7) justifica-se porque a oração subsequente é explicativa.

QUESTÃO 2

De acordo com o texto, julgue os itens a seguir.

- I A reiteração da palavra “votos” (l.14) confere ênfase à idéia apresentada no período.
- II Pelos sentidos do texto, conclui-se que a palavra “esbirros” (l.18) está sendo empregada com o mesmo significado que tem atualmente a palavra **capanga**.
- III A expressão “lhe foram dados” (l.24-25) pode, sem prejuízo para a correção gramatical do período, ser substituída por **foram dados a ele**.
- IV A palavra “corrupção” (l.25) está sendo empregada como sinônima de “fraude” (l.26).

A quantidade de itens certos é igual a

- A 1.
- B 2.
- C 3.
- D 4.

QUESTÃO 3

Assinale a opção que apresenta **erro** de pontuação.

- A Pela primeira vez, a população de Belo Horizonte vai poder escolher, por meio da Internet, as obras que serão executadas na cidade. Disponível no período de 1.º a 30 de novembro, a nova modalidade, conhecida por **Orçamento Participativo Digital**, tem parceria entre a Prefeitura Municipal de Belo Horizonte (PBH) e o Tribunal Regional Eleitoral de Minas Gerais (TRE-MG).
- B O novo sistema baseia-se em dados fornecidos pelo TRE-MG à PBH (quantitativo de eleitores, número do título de eleitor etc.), e foi solicitado pelo prefeito de BH, Fernando Pimentel, há cerca de seis meses, ao então presidente da instituição, Armando Pinheiro Lago.
- C O voto via Internet será permitido apenas para aqueles com domicílio eleitoral na capital (aproximadamente 1,7 milhão de pessoas), que poderão decidir pelo conjunto de nove obras (quatro em cada regional) que serão feitas no município em um prazo máximo de dois anos.
- D Para votar, o cidadão deve entrar no sítio da PBH. Quem não tiver acesso à Internet em casa pode ir até um dos 175 postos públicos montados, pela PBH onde haverá monitores para ajudar aqueles que não estão acostumados a lidar com computador.

Opções adaptadas. Internet: <www.tse.gov.br>.

QUESTÃO 4

O diretor-geral do Tribunal Superior Eleitoral (TSE), Athayde Fontoura Filho, reafirmou que a urna eletrônica apresenta risco zero de fraude e que a segurança pode ser aferida por meio da votação paralela, realizada no dia da eleição, concomitantemente ao pleito oficial.

Assinale a opção que **não** representa continuação coesa e coerente para o trecho acima.

- A Porquanto, no período entre o primeiro e o segundo turno das eleições, o TSE tradicionalmente aproveita para verificar e corrigir as urnas de locais em que foram verificados problemas.
- B Athayde Fontoura destacou que, nos estados em que a eleição for só para presidente da República, o tempo de votação deverá ser de apenas 10 segundos. Nos estados onde houver eleição também para governador, o TSE estima que cada pessoa leve, em média, 20 segundos para votar.
- C Também lembrou a estimativa de que 90% dos votos de todo o país para presidente da República estarão totalizados até às 22 h de domingo. Segundo o diretor, até a meia-noite do mesmo dia, 99% dos votos devem estar totalizados.
- D O diretor-geral informou ainda que seis estados pediram ao TSE tropas federais para garantir a segurança do segundo turno das eleições. De acordo com ele, no total, 120 municípios do Amazonas, Rio Grande do Norte, Paraíba, Piauí, Tocantins e Pará receberão reforço na segurança.

Opções adaptadas. Internet: <www.tse.gov.br>.

Texto para as questões 5 e 6

Caro eleitor,

1 Nos últimos meses, a campanha política mobilizou
vivamente os brasileiros. No primeiro turno, foram alcançadas
2 marcas extraordinárias: além do alto índice de comparecimento às
4 urnas e de uma irrepreensível votação, em que tudo aconteceu de
forma tranqüila e organizada, a apuração dos resultados foi rápida
e segura, o que coloca o Brasil como modelo nessa área.

7 Amanhã serão definidos os nomes do presidente da
República e dos governadores de alguns estados. O país, mais do
que nunca, conta com você.

10 Democracia é algo que lhe diz respeito e que se aperfeiçoa
no dia-a-dia. É como uma construção bem-preparada, erguida sobre
fortes alicerces. Esses alicerces são exatamente os votos de todos
13 os cidadãos. Quanto mais fiel você for no exercício do direito de
definir os representantes, mais sólidas serão as bases da nossa
democracia. Por isso, é essencial que você valorize essa escolha,
16 elegendo, de modo consciente, o candidato que julgar com mais
condições para conduzir os destinos do país e de seu estado.

19 Você estará determinando o Brasil que teremos nos
próximos quatro anos. Estará definindo o amanhã, o seu próprio
bem-estar e de sua família, o crescimento geral, a melhoria do
emprego, da habitação, da saúde e segurança públicas, do
22 transporte, o preço dos alimentos. O momento é decisivo e em suas
mãos — entenda bem, em suas mãos — está depositada a confiança
em dias felizes.

25 Compareça, participe. Não se omita, não transfira a outros
uma escolha que é sua. Pense e vote com a firmeza de quem sabe
o que está fazendo, com a responsabilidade de quem realmente
28 compreende a importância de sua atitude para o progresso da nação
brasileira. Esta é a melhor contribuição que você poderá dar a sua
Pátria.

Ministro Marco Aurélio de Mello. **Pronunciamento oficial.** Internet: <www.tse.gov.br> (com adaptações).

QUESTÃO 5

Em relação ao texto, assinale a opção correta.

- A Considerando-se o gênero textual, é correto afirmar que o emprego de “você”, no decorrer do texto, indica um interlocutor único.
- B Na linha 3, a substituição do sinal de dois-pontos por ponto final e o emprego de inicial maiúscula em “além” provocam truncamento sintático, o que prejudica a coerência do texto.
- C A expressão “nessa área” (l.6) retoma a idéia implícita, no parágrafo, de **processo eleitoral**.
- D A substituição da expressão “serão definidos” (l.7) por **definir-se-ão** garante a correção gramatical do período.

QUESTÃO 6

Assinale a opção em que a substituição sugerida prejudica a correção gramatical do texto.

- A “lhe diz respeito” (l.10) por **diz respeito a você**
- B “se aperfeiçoa” (l.10) por **é aperfeiçoado**
- C “no exercício do” (l.13) por **ao exercitarem o**
- D “serão” (l.14) por **vão ser**

QUESTÃO 7

A ética é o dia-a-dia de uma sociedade. Sociedades não existem no abstrato: elas precisam de alguma espécie de cimento que mantenha as suas peças bem-ajustadas e sólidas. Antigamente, esse cimento era fornecido pelos valores religiosos. Uma das diferenças entre o Ocidente moderno e os países islâmicos é que lá o cimento continua a ser religioso; enquanto aqui, chegou-se à conclusão de que era melhor laicizar a política, deixando as crenças para a consciência ou a convicção de cada um.

E assim, o que nos mantém unidos em torno deste ou daquele projeto político é a idéia — concreta ou difusa — de uma ética; de um tipo de comportamento que preste homenagem a certos princípios. Esses princípios poderiam ser resumidos em um só: o da coisa pública.

O Globo, 30/11/2006, p. 6 (com adaptações).

Em relação às idéias do texto acima, assinale a opção correta.

- A O cimento que mantém a sociedade ocidental bem-ajustada e sólida são os valores religiosos.
- B Os países islâmicos laicizaram a política em busca de um princípio ético.
- C O princípio da coisa pública resume os princípios a que uma ética que embasa um projeto político presta homenagem.
- D Os países islâmicos relegam as crenças à consciência ou à convicção de cada um.

QUESTÃO 8

O terreno da ética é o próprio chão onde estão firmadas as bases de uma sociedade. Essa construção é feita todos os dias. Há algo de imaterial em todos os edifícios políticos. Eles não estão aí por obra divina. Precisam ser reforçados permanentemente, por meio de atos significativos em que as pessoas reconheçam o interesse público. É isso que mantém a ordem pública, e não somente, nem, sobretudo, a força policial. Se as pessoas deixam de acreditar em uma ética subjacente ao dia-a-dia em um código de conduta que rege a ação dos políticos, pode-se prever que todo o edifício da sociedade estará ameaçado.

O Globo, 30/11/2006, p. 6 (com adaptações).

Acerca das relações lógico-sintáticas textuais, as opções seguintes apresentam propostas de associação, mediante o emprego de conjunção, entre períodos sintáticos do texto acima. Assinale a opção que apresenta proposta de associação **incorreta**.

	período	conjunção	período
A	primeiro	e	segundo
B	terceiro	entretanto	quarto
C	quarto	conquanto	quinto
D	quinto	já que	sexto

QUESTÃO 9

Assinale a opção que apresenta fragmento de texto gramaticalmente correto.

- A O presidente do TSE, Marco Aurélio de Mello, atribuiu ao “aprimoramento” do processo eleitoral eletrônico a velocidade da totalização dos votos. Nesta última eleição, o TSE bateu o recorde histórico, alcançando a totalização de 90% dos votos às 19 h. Às 21 h 15 min, já haviam sido apuradas 99% das urnas.
- B “Estamos num caminho certo, no caminho que consagra o sistema que preserva, acima de tudo, a vontade do eleitor”, destacou. O presidente lembrou de que a expectativa inicial era de chegar ao patamar de 90% dos votos totalizados em todo o país às 22 horas, mas o índice foi alcançado às 19 h 30 min.
- C O presidente do TSE avaliou que o sistema de votação brasileiro é “satisfatório”, tendo sido preservado a vontade do eleitor. Marco Aurélio ponderou que, diante da agilidade na apuração dos votos, a antecipação do resultado final em todo o país não é o mais importante no momento.
- D Ao responder uma questão sobre os resultados apontados na apuração do segundo turno presidencial, o ministro Marco Aurélio considerou que, “sem dúvida alguma, a diferença maior de votos resulta por legitimidade para o candidato eleito”. O ministro Marco Aurélio congratulou aos eleitores brasileiros que, mais uma vez, compareceram às urnas para exercer “esse direito inerente à cidadania, que é o direito de escolher os representantes”.

Opções adaptadas. Internet: <www.tse.gov.br>.

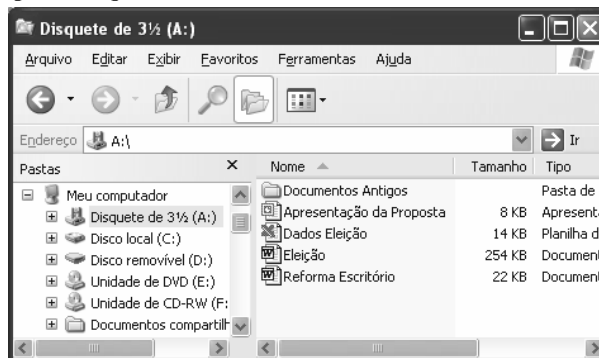
QUESTÃO 10

- 1 Um fator a ser revisto no MERCOSUL é o foco: não adianta debater uma agenda mirabolante, com 40 ou 50 temas. É preciso focar as ações de modo pragmático, com as seguintes prioridades:
- 4 concluir a união aduaneira; eliminar barreiras jurídicas e monetárias; facilitar os negócios entre as empresas dos países-membros e obter financiamentos em nome do bloco no Banco
- 7 Mundial, para ampliar a infra-estrutura regional, o que até agora sequer foi pleiteado. As questões alfandegária e fitossanitária devem ser harmonizadas o mais rapidamente possível, pois não
- 10 haverá bloco econômico viável enquanto houver entrave no intercâmbio entre os Estados-membros. Finalmente, é preciso considerar que, no mundo globalizado, as relações externas afetam
- 13 o cotidiano das empresas e das pessoas. O atual impasse no MERCOSUL só será superado se os empresários se organizarem na defesa de seus interesses e direitos, por meio da informação e da
- 16 mobilização da sociedade sobre as implicações internas das decisões tomadas em fóruns internacionais.

Abram Szajman. O Globo, 26/11/2006 (com adaptações).

Em relação ao texto acima, assinale a opção correta.









- A Na linha 1, a substituição do sinal de dois-pontos por ponto final, com a modificação de inicial minúscula para maiúscula na palavra “não”, prejudica a correção gramatical do texto.
- B O emprego de sinal de ponto-e-vírgula (l.4-5) justifica-se por isolar elementos de uma enumeração.
- C Na linha 7, o termo “o que” retoma o antecedente “ampliar a infraestrutura regional”.
- D O vocábulo “se” (l.14) exerce a mesma função sintática em ambas as ocorrências.

Texto para as questões 11 e 12



A figura acima mostra uma janela do Windows Explorer, executado em um computador que usa o Windows XP como sistema operacional.











QUESTÃO 11

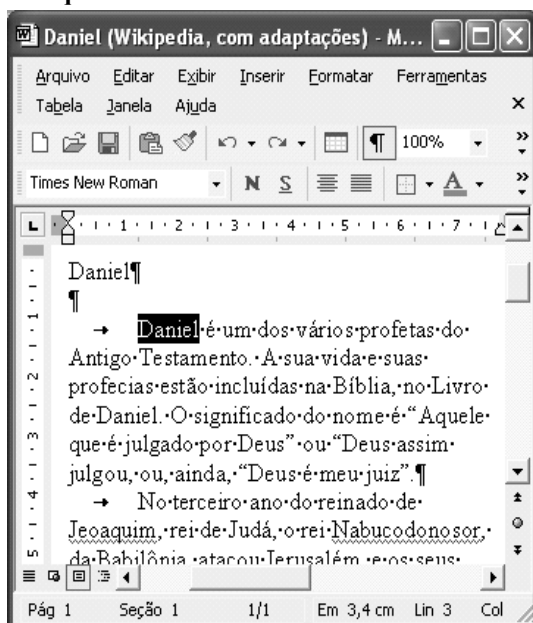
Com relação à figura, ao Windows Explorer e ao Windows XP, assinale a opção correta.

- A Ao se clicar o símbolo , imediatamente à esquerda do ícone  Disquete de 3 1/2 (A:), abre-se uma janela cuja função é a de formatar o disquete.
- B Ao final da seguinte seqüência de ações, o ícone  Disco local (C:) estará selecionado: clicar o ícone  Apresentação da Proposta; clicar .
- C Ao se clicar o ícone  Documentos Antigos e, em seguida, clicar , à esquerda de **Nome**, a pasta Documentos Antigos será apagada.
- D Ao se clicar o ícone  Dados Eleição e, em seguida, se clicar o **menu Arquivo**, será exibida uma lista de opções, incluindo a opção Abrir, que permite abrir o arquivo Dados Eleição.

QUESTÃO 12

Ainda com relação à janela do Windows Explorer, assinale a opção que contém um procedimento que permite mover o arquivo  Eleição para dentro da pasta  Documentos Antigos.






- A Aplicar um clique duplo no ícone  Eleição, o que faz surgir uma lista com diversos comandos; na lista de comandos, clicar Copiar; abrir, de alguma forma, a pasta  Documentos Antigos; pressionar simultaneamente as teclas  e .
- B Com o botão direito do *mouse*, clicar o ícone  Eleição; na lista de opções que surge, clicar Recortar; aplicar um duplo clique na pasta  Documentos Antigos; clicar o *menu* **Editar** e, na lista que surge em decorrência dessa ação, clicar Colar.
- C Com o botão direito do *mouse*, clicar o ícone  Eleição; na lista de opções que surge, clicar Recortar; aplicar um clique simples na pasta  Documentos Antigos; clicar o *menu* **Editar** e, na lista que surge em decorrência dessa ação, clicar Colar.
- D Com o botão direito do *mouse*, clicar o ícone  Eleição; na lista de opções que surge, clicar Recortar; aplicar um duplo clique na pasta  Documentos Antigos; clicar o *menu* **Editar** e, na lista que surge em decorrência dessa ação, clicar Copiar.

Texto para as questões de 13 a 15

A figura acima mostra uma janela do Word 2002, executado em um computador que usa o Windows XP como sistema operacional.



QUESTÃO 13

Com relação à figura e ao Word 2002, assinale a opção correta.

- A Considerando que a palavra “Daniel” esteja selecionada, caso se pressione a tecla , a letra “o” aparecerá à esquerda da palavra “Daniel”, que será, então, afastada um espaço para a direita.
- B Para centralizar o título — “Daniel” —, é suficiente clicá-lo e, em seguida, clicar . Ao se clicar, em seguida, o botão , essa ação será desfeita.
- C Ao se clicar o botão , é aberta uma outra janela, mostrando o conteúdo da área de transferência do Windows XP.
- D Para se esconder a barra de ferramentas padrão, é suficiente clicar o botão , à direita dessa barra.





QUESTÃO 14

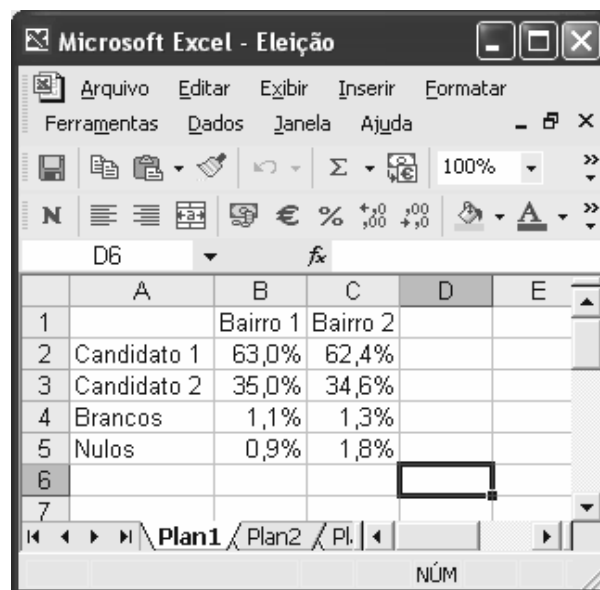
Ainda com relação à figura e ao Word 2002, assinale a opção correta.

- A Ao se aplicar um duplo clique em qualquer local do texto, o Assistente do Office é acionado automaticamente, o que permite a busca de respostas sobre dúvidas a respeito de funcionalidades do Word 2002.
- B Para se abrir uma janela do PowerPoint, é suficiente clicar o botão .
- C Considerando que a palavra “Daniel”, no título, esteja selecionada, ao se clicar o *menu* **Editar** e, depois, a opção Copiar, essa palavra será copiada para a área de transferência.
- D Ao se clicar o ícone , no canto superior esquerdo da janela, a janela será minimizada.

QUESTÃO 15

Ainda com relação à figura e ao Word 2002, assinale a opção correta.




- A Considerando que a palavra “Daniel” esteja selecionada, caso se clique o botão , todo o parágrafo iniciado em “Daniel é um dos” será circundado com uma borda retangular.
- B É correto concluir, pela análise da figura mostrada, que a palavra “Nabucodonosor” foi sublinhada pelo usuário por meio do botão .
- C A ferramenta  permite definir a cor da fonte usada em um texto selecionado.
- D Como o botão  está exibido, no canto superior direito da janela, é correto afirmar que a mesma está maximizada.

Texto para as questões 16 e 17

A figura acima mostra uma janela do Excel 2002, executado em um computador que usa como sistema operacional o Windows XP.



















QUESTÃO 16

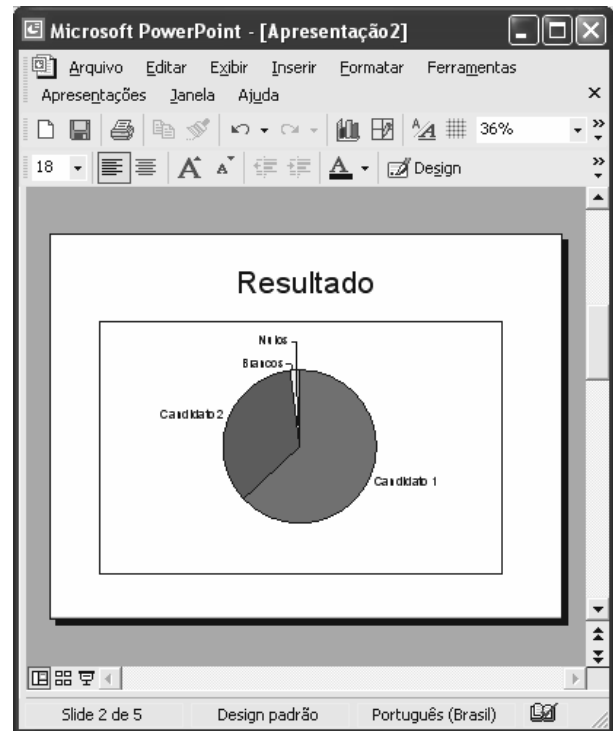
Com relação à figura e ao Excel 2002, assinale a opção correta.

- Ⓐ Ao se clicar o menu **Formatar**, é exibida uma lista de opções, sendo que algumas permitem alterar a largura da coluna ou a altura da linha em que está contida a célula selecionada.
- Ⓑ Ao se clicar o botão , todas as células da planilha assumirão a cor atualmente associada a esse botão.
- Ⓒ Ao se clicar o botão , é aberta a caixa de diálogo Assistente de gráfico, que auxilia o usuário na elaboração de gráficos com os dados da planilha.
- Ⓓ Ao se clicar a célula B2 e se clicar o botão , o conteúdo da célula B2 será exibido como 63,00%.





QUESTÃO 17

Ainda com relação à figura e ao Excel 2002, assinale a opção que apresenta a descrição correta de uma forma de aplicar negrito às células B1, C1, A4 e A5.

- Ⓐ Clicar a célula B1; pressionar e manter pressionada a tecla , e clicar a célula C1, liberando então a tecla ; clicar ; clicar ; com o ponteiro do *mouse* posicionado no centro da célula A4, pressionar e manter pressionado o botão esquerdo do *mouse*; mover o *mouse* de forma a posicionar seu ponteiro no centro da célula A5, liberando então o botão esquerdo do *mouse*.
- Ⓑ Clicar a célula B1; clicar a célula B2; pressionar simultaneamente as teclas  e ; clicar a célula A4; pressionar e manter pressionada a tecla , clicando então a célula A5; clicar .
- Ⓒ Aplicar um duplo clique na célula B1 e outro duplo clique na célula C1; pressionar simultaneamente as teclas  e ; selecionar as células A4 e A5; pressionar simultaneamente as teclas  e .
- Ⓓ Clicar a célula B1; clicar ; clicar a célula C1; pressionar simultaneamente as células  e ; clicar a célula A4; pressionar e manter pressionada a tecla  e clicar A5, liberando então a tecla ; clicar .

QUESTÃO 18

A figura acima mostra uma janela do PowerPoint 2002, com um *slide* de uma apresentação. Com relação a essa janela e ao PowerPoint 2002, assinale a opção correta.

- Ⓐ Para se fazer que o *slide* seja exibido de forma que ocupe toda a tela do monitor de vídeo, é suficiente clicar o botão .
- Ⓑ Ao se clicar o gráfico mostrado na figura e se alterar o número 18, em , para 9, o gráfico será exibido com metade do tamanho.
- Ⓒ As funcionalidades do botão  **Design** permitem alterar o *design* do *slide*, por meio da seleção de modelos de *design*.
- Ⓓ Para se aplicar itálico ao título do *slide* mostrado na figura, é suficiente selecionar esse título e clicar .


QUESTÃO 19

A respeito da Internet e de conceitos a ela relacionados, assinale a opção correta.

- Ⓐ A linguagem html é útil na elaboração de páginas da Web que contenham figuras. Entretanto, essa linguagem não permite a elaboração de páginas que contenham apenas texto e *hyperlinks*.
- Ⓑ O TCP/IP é usado em redes do tipo Ethernet, mas não tem função relevante na comunicação realizada por meio da *www*.
- Ⓒ Uma característica da *www* é a absoluta segurança e privacidade. Como todas as informações que circulam na Web são fortemente criptografadas, não existe o risco de interceptação ou uso indevido de informações transmitidas por computadores a ela conectados.
- Ⓓ As funcionalidades do FTP podem ser úteis na transferência de arquivos entre dois computadores conectados à Internet.

QUESTÃO 20

A figura acima mostra uma janela do Internet Explorer 6, com uma página da Web em exibição. Com relação a essa janela, assinale a opção correta.

- A** A página *web* em exibição é um *website* cuja principal aplicação é permitir o envio de mensagens de correio eletrônico.
- B** Considerando que a palavra **Imagens** seja um *hyperlink*, então, ao se clicar essa palavra, será aberto o aplicativo Paint, do Windows XP, que permite a elaboração de desenhos e a edição de imagens.
- C** Ao se clicar o botão , é aberta uma janela cuja principal função é permitir a configuração das opções de segurança do Internet Explorer 6.
- D** Ao se clicar o menu **Ferramentas**, será exibida uma lista de opções, incluindo uma denominada Opções da Internet, que permite configurar diversos parâmetros que controlam o funcionamento do Internet Explorer 6.

QUESTÃO 21

Considere a seguinte assertiva: o Supremo Tribunal Federal (STF) elegeu, em votação aberta e nominal, entre seus componentes, três juízes para comporem o Tribunal Superior Eleitoral (TSE). Essa assertiva é **errada** porque

- A** apenas o presidente do TSE é integrante do STF.
- B** os membros do STF que fazem parte do TSE são eleitos pelo Conselho Nacional da Magistratura.
- C** os membros do STF que fazem parte do TSE são eleitos em votação secreta.
- D** os membros do STF que fazem parte do TSE não são eleitos, mas escolhidos pelo presidente da República.

QUESTÃO 22

Recentemente, os jornais noticiaram o falecimento do jurista Rui, que, desde a promulgação da atual Constituição da República, foi o único brasileiro a ter ocupado cargos de presidente, vice-presidente e de corregedor do TSE.

Para que essa notícia hipotética fosse verdadeira, seria necessário que Rui tivesse sido

- A** ministro do STF e também ministro do Superior Tribunal de Justiça (STJ).
- B** presidente do STF.
- C** indicado pela Ordem dos Advogados do Brasil (OAB) para ocupar no TSE vaga destinada a advogados.
- D** membro do Ministério Público Eleitoral.

QUESTÃO 23

Na qualidade de advogado, Walter foi ministro do TSE no período de 5/3/1995 a 5/2/1999 e também no período compreendido entre 7/7/2002 e 6/7/2006. Quanto aos dois períodos em que Walter foi membro do TSE, assinale a opção correta.

- A** Houve irregularidade nos dois períodos, pois é vedado a qualquer membro do TSE permanecer na Corte por mais de dois anos consecutivos.
- B** Houve irregularidade no segundo período, pois é vedado a qualquer membro permanecer no TSE por mais de quatro anos.
- C** Houve irregularidade no segundo período, porque Walter não poderia ter sido reconduzido ao TSE antes de 2003.
- D** As informações não indicam irregularidade.

QUESTÃO 24

Considerando que Augusto atualmente seja juiz do Tribunal Regional Eleitoral de São Paulo (TRE-SP), é correto inferir que ele **não** é

- A** integrante de tribunal regional federal.
- B** juiz de direito do estado de São Paulo.
- C** membro do Ministério Público.
- D** advogado regularmente inscrito na OAB.

QUESTÃO 25

O TSE, em decisão tomada por maioria absoluta, indeferiu um mandado de segurança impetrado contra ato do presidente do TRE-PE. Nesse caso, com base na Constituição da República, a decisão do TSE é recorrível, pois

- A** as decisões do TSE são recorríveis, exceto quando tomadas por maioria qualificada de dois terços.
- B** as decisões do TSE são recorríveis, exceto quando unânimes.
- C** são recorríveis as decisões do TSE que indefiram recursos.
- D** cabe recurso da denegação de mandado de segurança pelo TSE.

QUESTÃO 26

Considere a seguinte afirmação: diversamente da aposentadoria, o falecimento de servidor ocupante de cargo comissionado acarreta vacância do cargo público que ele ocupava. Essa afirmação é

- A** correta.
- B** incorreta, porque a aposentadoria acarreta vacância do cargo.
- C** incorreta, porque o falecimento do servidor não gera vacância do cargo.
- D** incorreta, porque não ocorre vacância de cargo público comissionado.

QUESTÃO 27

Beatriz ocupa cargo de provimento efetivo lotado na sede do TRE-BA. Seu marido foi nomeado para cargo de provimento efetivo no TRE-MT, razão por que Beatriz solicitou à administração do TRE-BA sua remoção para cargo idêntico no TRE-MT.

Nessa situação hipotética, a solicitação da servidora

- A deve ser indeferida, pois só há previsão legal de remoção de ofício.
- B deve ser indeferida, pois é descabida a remoção de servidores de um TRE para outro.
- C deve ser deferida, independentemente de haver interesse da administração na remoção de Beatriz.
- D pode ser deferida, desde que haja interesse da administração.

QUESTÃO 28

Arnaldo tomou posse, mediante ato de um procurador constituído especificamente para essa finalidade, em cargo de analista judiciário do TSE. Porém, passado um mês da nomeação, ele não se apresentou para entrar em exercício, por ter desistido de ingressar no serviço público.

Diante dessa situação hipotética, assinale a opção correta.

- A Arnaldo deve ser demitido por abandono de cargo.
- B Arnaldo deve ser exonerado de ofício.
- C A nomeação de Arnaldo deve ser anulada, por decurso de prazo.
- D A posse de Arnaldo é inválida, pois a lei veda expressamente a posse mediante procuração.

QUESTÃO 29

Considere a seguinte assertiva: a nomeação é uma forma de provimento inaplicável a cargos públicos comissionados, pois a investidura nesses cargos independe da aprovação em concurso público. Esta assertiva é

- A correta.
- B errada, pois nomeação não é uma forma de provimento, mas um tipo específico de investidura.
- C errada, pois o provimento de cargos comissionados é tipicamente feito mediante nomeação.
- D errada, pois a investidura em qualquer cargo público depende de prévia aprovação em concurso.

QUESTÃO 30

Adalberto foi condenado administrativamente a pena de demissão, pela prática de corrupção. Um ano depois, ele foi absolvido, por falta de provas, no processo penal em que era acusado da prática do ato de corrupção que originou seu desligamento do serviço público. Nessa situação,

- A Adalberto deve ser reinvestido no seu cargo original, mediante reintegração.
- B Adalberto deve ser reinvestido no seu cargo original, mediante recondução.
- C a demissão deve ser anulada, de ofício, pela autoridade competente.
- D a absolvição penal de Adalberto, por falta de provas, não invalida sua demissão.

CONHECIMENTOS ESPECÍFICOS**Texto para as questões de 31 a 33**

Um rapaz com 22 anos de idade, estudante, atleta amador, procurou atendimento odontológico, queixando-se de dor difusa ao se alimentar. Há 2 anos, após entrar na faculdade e em seguida a um estágio profissional, ele mudou seus hábitos em função da nova rotina e da prática esportiva, conforme relatado a seguir.

Hábitos de higiene: escovação 3 vezes ao dia e uso diário de fio dental. Hábitos dietéticos: alimentação rica em carboidratos, sem horários fixos e consumo de refrigerantes, bebidas energéticas e café com açúcar várias vezes ao dia.

Exame extra-oral apresenta aspectos de normalidade, músculos da mastigação muito desenvolvidos, mas dentro do padrão normal.

Exame intra-oral indica: presença de todos os dentes; gengivite marginal nos dentes posteriores nas faces linguais e vestibulares; áreas de desgaste no esmalte vestibular dos incisivos centrais superiores e vertentes de cúspides de molares e pré-molares com exposição em forma circular de dentina; manchas brancas em forma de colar nos pré-molares e molares; restaurações de resina composta extensas MOD muito desgastadas nos primeiros molares inferiores.

No exame radiográfico da arcada superior, observam-se: restaurações oclusais em material estético nos molares, pré-molares com radiolucidez nas proximais em terço externo do esmalte; arcada inferior com radiolucidez atingindo toda a extensão do esmalte na face mesial do dente 37, restauração estética MOD no dente 36, dente 45 com radiolucidez na face distal envolvendo esmalte e dentina, restauração MOD estética no dente 46 e dente 47 com radiolucidez na face mesial e oclusal atingindo terço interno da dentina.

QUESTÃO 31

Considerando o quadro clínico apresentado no texto, julgue os itens a seguir, relativos aos hábitos de higiene e dietéticos.

- I É necessário corrigir a técnica de escovação.
- II O consumo desregrado de sacarose contribui para a atividade da doença cárie.
- III O consumo excessivo de energéticos e refrigerantes explica, em função do pH ácido, as erosões nos incisivos centrais.
- IV As erosões nas superfícies oclusais não têm relação com hábitos dietéticos.

A quantidade de itens certos é igual a

- A 1.
- B 2.
- C 3.
- D 4.

QUESTÃO 32

Com relação ao tratamento restaurador indicado para o caso apresentado no texto, assinale a opção correta.

- Ⓐ Os dentes 36 e 46 devem ser tratados por meio do resselamento das margens, pois, radiograficamente, não apresentam imagem compatível com recidiva de lesão cariiosa.
- Ⓑ Para se restaurar todos os pré-molares superiores direito e esquerdo, devem ser feitos preparos cavitários do tipo *slots* verticais.
- Ⓒ A lesão cariiosa do dente 47 é muito profunda, o que torna obrigatório o tratamento expectante.
- Ⓓ O dente 45 pode ser restaurado com resina composta.

QUESTÃO 33

Ainda considerando o quadro clínico apresentado no texto, assinale a opção **incorreta** acerca do tratamento não-restaurador.

- Ⓐ As lesões de mancha branca devem ser monitoradas, devendo-se, ainda, introduzir a fluoroterapia para remineralização dessas lesões.
- Ⓑ A presença de gengivite marginal reflete a má higiene e é fator de risco para novas lesões.
- Ⓒ A orientação dietética deve incluir restrição de consumo de sacarose nos intervalos das refeições principais.
- Ⓓ A fluoroterapia indicada deve consistir em aplicação tópica de flúor na forma de verniz na concentração de 5%, diariamente, por uma semana.

QUESTÃO 34

Considerando-se que a erosão/abrasão tem sido muito freqüentemente encontrada, mesmo em adultos jovens, julgue os itens abaixo.

- I As lesões cervicais não-caríicas denominadas abfração se localizam na vestibular dos dentes, têm forma de V ou cunha, término nítido e superfície irregular e rugosa.
- II As lesões denominadas erosão se diferenciam da abfração apenas por apresentarem superfície em esmalte lisa e polida.
- III As lesões denominadas abrasão se localizam na região vestibular ou lingual, apresentam forma de U ou pires, são rasas em profundidade, têm término imperceptível e superfície lisa e sem brilho.
- IV O tratamento clínico da erosão por abrasão consiste na remoção ou controle do fator etiológico. Nos casos em que a perda de estrutura for discreta ou quase imperceptível, clinicamente não há necessidade de tratamento restaurador das lesões.

Estão certos apenas os itens

- Ⓐ I e II.
- Ⓑ I e IV.
- Ⓒ II e III.
- Ⓓ III e IV.

QUESTÃO 35

Considerando-se que o clareamento dental tem sido bastante difundido e freqüentemente utilizado nas mais diversas situações, assinale a opção **incorreta**.

- Ⓐ A técnica termo catalítica para clareamento em dentes com defeitos cervicais na junção amelocementária constitui fator de risco para o desenvolvimento de reabsorção cervical.
- Ⓑ O clareamento intracoronário com peróxido de hidrogênio a 30% produz uma reação química que aumenta a microdureza da dentina e do esmalte, mas enfraquece as propriedades mecânicas da dentina.
- Ⓒ A utilização das minociclina indicadas comumente para tratamento de acne pode causar alterações de cor em dentes e ossos em alguns pacientes.
- Ⓓ O uso de ciprofloxacina para tratamento de infecções com *klebsiela* na primeira infância tem sido associado com alterações de cor dos dentes em tons esverdeados que não são removidos com técnicas de clareamento.

QUESTÃO 36

O amálgama dental tem sido utilizado na prática odontológica há mais de 100 anos. Atualmente, seu uso vem declinando por diversas razões. Acerca da utilização do amálgama em relação a outros materiais de uso direto, assinale a opção correta.

- Ⓐ O amálgama é indicado em dentes posteriores, em que a estética não é primordial, e constitui um material de escolha para uso direto quando a escolha se baseia no critério da longevidade.
- Ⓑ Em dentes pré-molares com tratamento endodôntico prévio, a indicação do amálgama se deve às suas melhores propriedades mecânicas em relação aos outros materiais diretos.
- Ⓒ Em algumas situações, a utilização do amálgama requer menor desgaste de estrutura dentária no que diz respeito à profundidade da cavidade.
- Ⓓ A razão principal para o declínio da utilização do amálgama é a contaminação ambiental.

QUESTÃO 37

Em relação à proteção do complexo dentinopulpar e à terapia pulpar, assinale a opção **incorreta**.

- Ⓐ As pulpotomias são contra-indicadas em dentes com dor espontânea e contínua, que não cessa com uso de analgésicos comuns, ou em casos de ausência de respostas a estímulos térmicos.
- Ⓑ A curetagem pulpar envolve a excisão de uma pequena quantidade de tecido conjuntivo pulpar, expondo um tecido subjacente livre de inflamação e aumentando a área de contato com o material de proteção.
- Ⓒ A utilização do cimento ionomérico como material protetor se deve a algumas propriedades, como menor potencial de irritação do complexo dentinopulpar, adesividade às estruturas dentárias, ação antimicrobiana e coeficiente térmico linear bem menor que o da estrutura dentária.
- Ⓓ As propriedades biológicas do agregado de trióxido mineral (MTA) são, praticamente, as mesmas do hidróxido de cálcio. As partículas hidrofílicas de fosfato de cálcio e óxido de cálcio, em presença de água, transformam-se em hidróxido de cálcio.

QUESTÃO 38

As restaurações estéticas diretas têm como vantagens a adesividade conferida pelo emprego de sistemas adesivos cada vez mais desenvolvidos. Acerca desses materiais e de suas técnicas operatórias, assinale a opção correta.

- Ⓐ Os sistemas adesivos têm como mecanismo de união a hibridização obtida por meio do condicionamento ácido, o qual, ao remover minerais, expõe as fibrilas colágenas da matriz dentinária, que são infiltradas por monômeros adesivos, criando um embricamento entre os polímeros e a matriz biológica.
- Ⓑ O sistema adesivo autocondicionante de um passo tornou possível a simplificação da técnica adesiva sem perda de propriedades a curto e longo prazo.
- Ⓒ A hibridização, por selar a cavidade, pode substituir adequadamente outros protetores pulpares, mesmo em cavidades muito profundas a serem restauradas com material resinoso.
- Ⓓ Quando aplicada sobre esmalte, a técnica do condicionamento ácido o transforma em estrutura irregular e permeável por meio da dissolução dos cristais de hidroxiapatita. Quando aplicada sobre a dentina, seus efeitos são diversos: ação desmineralizadora, causando a coagulação de parte orgânica; ação de desnaturação do colágeno; e também ação hipertônica.

QUESTÃO 39

Acerca das resinas acrílicas, assinale a opção correta.

- Ⓐ Os polímeros de acrílico modificados com borracha possuem menor resistência ao impacto quando comparados com o polimetilmetacrilato.
- Ⓑ Os polímeros de acrílico reforçados com borracha possuem menor estabilidade de cor na presença de luz quando comparados com polímeros de acrílico para base de prótese.
- Ⓒ A função do dióxido de titânio como componente de material acrílico é fornecer radiopacidade.
- Ⓓ O monômero é um líquido volátil que não é tóxico, mesmo quando inalado por um longo período de tempo.

QUESTÃO 40

Os amálgamas pré-capsulados

- I garantem a proporção correta da liga de prata-mercúrio.
- II asseguram a pureza do mercúrio.
- III diminuem o risco da contaminação do ambiente do consultório.

Assinale a opção correta.

- Ⓐ Apenas os itens I e II estão certos.
- Ⓑ Apenas os itens I e III estão certos.
- Ⓒ Apenas os itens II e III estão certos.
- Ⓓ Todos os itens estão certos.

QUESTÃO 41

Assinale a opção **incorreta** acerca de facetas estéticas.

- Ⓐ A ocorrência em pacientes jovens que têm polpa volumosa de defeitos de desenvolvimento dentário, de alterações de cor e de traumatismos em dentes anteriores é significativo na clínica odontológica. A técnica de faceta estética direta ou indireta tem grande resolutividade para a maioria desses casos.
- Ⓑ Além da resolutividade estética, as facetas podem ser indicadas para restabelecer função oclusal ou, ainda, mudar o contorno de dentes para suporte de próteses parciais removíveis.
- Ⓒ É necessário que pelo menos 50% da superfície dentária preparada para receber a faceta esteja coberta por esmalte, principalmente nas margens cavitárias.
- Ⓓ A faceta estética é indicada para pacientes com bruxismo, hábito de apertar os dentes ou mesmo morder objetos como lápis ou cachimbo.

QUESTÃO 42

Em relação às restaurações *onlays* e *inlays* de porcelana, assinale a opção correta.

- Ⓐ O preparo cavitário do ângulo cavo-superficial oclusal deve ser biselado.
- Ⓑ A linha de terminação cervical das caixas proximais é em forma de chanfro ou em ombro 90 graus arredondado no diedro axiocervical e no ângulo axiopulpar.
- Ⓒ As caixas oclusais devem ter largura mínima de 4 mm.
- Ⓓ Pode haver contatos oclusais efetivos na linha de junção dente/restauração.

QUESTÃO 43

Com relação a terapia antibiótica em clínica odontológica, assinale a opção **incorreta**.

- Ⓐ As penicilinas e as cefalosporinas têm ação bactericida e atuam na parede bacteriana.
- Ⓑ As tetraciclina são bactericidas e seu efeito ocorre pela inibição da síntese protéica.
- Ⓒ A terapia antibiótica é indicada em indivíduos sadios nos casos de abscesso periapical, periodontite agressiva, periodontite necrótica, periodontite refratária, pericoronarite, celulites, osteíte infecciosas, estomatites bacterianas e infecções bacterianas das glândulas salivares.
- Ⓓ A indicação de terapia antibiótica profilática é limitada aos procedimentos que expõem a um meio séptico um sítio normalmente estéril em pacientes saudáveis.

QUESTÃO 44

A epidemiologia é aplicada para se conhecer a saúde de uma população, para investigar os fatores que influenciam na saúde, assim como para avaliar o impacto de ações propostas para alterar a situação encontrada. Considerando que os levantamentos epidemiológicos são fundamentais para se conhecer e melhorar a saúde bucal da população, assinale a opção correta.

- A Índice de prevalência é a quantidade de casos novos que surgem em um intervalo de tempo.
- B Índice de incidência é a quantidade de doença em determinado momento.
- C O índice mais utilizado para se avaliar a doença cárie em dentes decíduos é o CPO-D.
- D O sítio preferencial de câncer de boca é a língua.

QUESTÃO 45

Considerando que existem inúmeros estudos científicos que associam o consumo de sacarose à doença cárie, assinale a opção **incorreta**.

- A A sacarose refinada, proveniente da cana-de-açúcar ou da beterraba, é o açúcar mais presente na dieta familiar em quase todo o mundo e, portanto, é considerado o dissacarídeo mais cariogênico.
- B A cariogenicidade dos alimentos é somente um entre os vários componentes que poderão determinar a atividade de cárie de um indivíduo.
- C O mel é um alimento natural com menor potencial cariogênico que a sacarose.
- D A avaliação da cariogenicidade é importante para a aplicação de medidas de controle e terapêuticas relacionadas com a doença cárie.

QUESTÃO 46

O conceito de promoção de saúde pressupõe o adequado conhecimento dos métodos preventivos de saúde bucal. O flúor tem sido utilizado durante décadas no controle da doença cárie. Acerca desse assunto, assinale a opção **incorreta**.

- A O flúor é um halogênio que pode reagir com elementos menos eletronegativos, formando grande número de compostos orgânicos e inorgânicos.
- B A ingestão de flúor proveniente dos alimentos é aparentemente pequena, pois somente um terço do flúor contido nos alimentos é biodisponível.
- C Os sinais e sintomas de intoxicação aguda de flúor são alterações gastrointestinais, neurológicas, cardiovasculares, acidose, hipocalcemia e hipomagnesemia.
- D A ingestão crônica de flúor durante a formação dos dentes, acima dos níveis adequados, pode produzir hipoplasia de esmalte, ou seja, manchas esbranquiçadas em forma de linhas seguindo as periquimácias.

QUESTÃO 47

Em relação à epidemiologia das doenças periodontais, julgue os itens abaixo.

- I A gengivite é a doença bucal de maior prevalência.
- II Os estudos mostram que existem diferenças na distribuição da periodontite crônica entre os gêneros.
- III A periodontite agressiva é de alta prevalência em adolescentes.
- IV Estudos mostram que o fumo e o diabetes não podem ser considerados fatores de risco para a periodontite crônica.

Estão certos apenas os itens

- A I e II.
- B I e IV.
- C II e III.
- D III e IV.

QUESTÃO 48

Acerca da etiopatogenia da doença cárie, assinale a opção correta.

- A Evidências científicas sugerem que o *Streptococcus gordonii*, o *Streptococcus mutans* e o *Streptococcus sobrinus* estão relacionados à progressão de lesão de cárie em dentina.
- B Microscopicamente, a lesão de cárie em esmalte é visualizada como uma desmineralização subsuperficial do esmalte.
- C A resposta do complexo dentina-polpa ao estímulo causado pelo ataque dos ácidos de bactérias acidogênicas é a formação de dentina secundária.
- D A lesão de cárie nas superfícies radiculares é de progressão rápida e de difícil controle.

QUESTÃO 49

Em relação ao trauma dental, assinale a opção **incorreta**.

- A Um traumatismo dental deve ser considerado uma emergência e tratado imediatamente para aliviar a dor e melhorar o prognóstico.
- B Devido às diferenças de resiliência entre tecidos periodontais que suportam os dentes decíduos e permanentes, um impacto em um dente decíduo resulta, geralmente, em deslocamento dental, enquanto que, nos dentes permanentes, resulta em fratura dos tecidos mineralizados dentários.
- C A subluxação é o descolamento do dente para dentro do osso alveolar.
- D As fraturas radiculares em dentes permanentes são traumatismos raros.

QUESTÃO 50

Nos últimos anos, diversos estudos têm sugerido que doenças infecciosas bucais podem ter repercussões sistêmicas nos indivíduos. Quanto a esse assunto, assinale a opção **incorreta**.

- A As bacteremias de origem bucal geralmente são transitórias, porém, em indivíduos comprometidos imunologicamente, a bacteremia pode persistir, possibilitando a ocorrência de septicemia.
- B Fortes evidências sugerem que indivíduos com periodontite agressiva podem estar predispostos a disfunções valvulares adquiridas.
- C Estudo realizado em gestantes com periodontite crônica grave mostrou que a doença periodontal pode ser um fator de predisposição ao nascimento de bebês prematuros e com baixo peso.
- D Estudos clínicos e epidemiológicos têm sugerido relação entre doença periodontal e doenças cardiovasculares; entretanto, ainda não foi estabelecida a relação causa-efeito entre elas.

QUESTÃO 51

Julgue os itens seguintes com relação às manifestações bucais de doenças sistêmicas.

- I A principal manifestação bucal da síndrome de Sjögren, desordem auto-imune, é a redução do fluxo salivar, o que pode resultar em lesões de cárie generalizadas.
- II Pacientes com neutropenia cíclica podem apresentar úlceras na mucosa bucal e perda precoce de dentes.
- III Agenesia dentária é frequentemente observada na displasia ectodérmica hipodróica.
- IV A síndrome de Ehlers-Danlos representa um grupo de condições hereditárias que afetam o tecido conjuntivo. Nos pacientes com essa síndrome, podem ser observadas, nos dentes, anomalias radiculares, nódulos pulpares e defeitos de esmalte.

A quantidade de itens certos é igual a

- A 1.
- B 2.
- C 3.
- D 4.

QUESTÃO 52

Um garoto com 4 anos de idade foi encaminhado ao odontopediatra devido à perda precoce de incisivos centrais inferiores e mobilidade de caninos inferiores. A anamnese e os exames radiográfico e histopatológico dos dentes exfoliados mostraram história familiar de perda prematura de dentes decíduos e permanentes, raízes bem formadas com importante perda óssea e ausência de cimento radicular.

Na situação clínica acima, a hipótese diagnóstica correta é

- A síndrome de Papillon Léfèvre.
- B síndrome de Haim-Munk.
- C hipofosfatasia.
- D doença de Crohn.

QUESTÃO 53

A articulação temporomandibular (ATM) é uma articulação sinovial que permite amplos movimentos da mandíbula. Em relação à anatomia e à função dos componentes da ATM, assinale a opção **incorreta**.

- A As partes ósseas da ATM são a cabeça da mandíbula, ou côndilo, a eminência articular e a fossa mandibular do temporal.
- B A face articular temporal da ATM está coberta por cartilagem hialina.
- C O disco articular regulariza a discrepância anatômica entre as faces articulares, absorve os choques e promove a movimentação da articulação.
- D A borda anterior do disco articular se funde com a cápsula articular e com fibras do músculo pterigóideo lateral.

QUESTÃO 54

Em relação ao câncer de boca, assinale a opção **incorreta**.

- A A etiologia do carcinoma de células escamosas é multifatorial e a hereditariedade não parece ser um fator etiológico importante.
- B Evidências sugerem que muitos carcinomas de células escamosas na boca podem se apresentar inicialmente como lesões pré-malignas, tais como a leucoplasia.
- C O carcinoma de células escamosas intrabucal afeta mais comumente mulheres jovens.
- D A disseminação metastática do carcinoma de células escamosas bucal ocorre dos vasos linfáticos para os linfonodos cervicais.

QUESTÃO 55

Atraso na erupção dentária é uma das manifestações clínicas em

- I osteoporose.
- II doença de Paget.
- III osteopetrose.
- IV displasia cleidocraniana.

A quantidade de itens certos é igual a

- A 1.
- B 2.
- C 3.
- D 4.

QUESTÃO 56

Em relação à anatomia de cabeça, face e boca, assinale a opção **incorreta**.

- A A tuberosidade da maxila é a região mais posterior da mandíbula que mantém relação com o processo pterigóide.
- B O músculo masseter retrai a mandíbula.
- C As papilas filiformes distribuem-se por todo o dorso da língua.
- D A glândula sublingual situa-se no assoalho da boca, descansa sobre o músculo milo-hióideo e faz saliência na mucosa.

QUESTÃO 57

Acerca dos recursos utilizados no diagnóstico em endodontia, julgue os seguintes itens.

- I Por meio do teste elétrico, pode-se verificar a condição da circulação pulpar pela medida da sensibilidade das fibras do tipo A-delta, o que torna esse teste confiável para se avaliar a condição pulpar.
- II O tetrafluoretano e o diclorodifluormetano são substâncias utilizadas na avaliação pulpar que produzem dor rápida, localizada e com regressão imediata após a remoção do estímulo nos casos de pulpíte irreversível.
- III O teste de cavidade é utilizado para se verificar a condição pulpar apenas quando os outros testes aplicados produzirem respostas negativas ou duvidosas e que dificultam o diagnóstico.
- IV O teste de palpação na região correspondente ao ápice radicular é fundamental para o estabelecimento do diagnóstico das infecções periapicais de natureza aguda.

Estão certos apenas os itens

- A I e II.
- B I e IV.
- C II e III.
- D III e IV.

Texto para as questões 58 e 59

Pedro relata dor no dente 25 ao tocar a escova sobre esse dente ou quando toma água. Segundo ele, após a deglutição da água, a dor desaparece rapidamente. Esse desconforto acompanha-o há 30 dias. No teste de vitalidade pulpar realizado nesse paciente, houve dor rápida e imediata ao estímulo, com regressão rápida após a remoção do estímulo e intensidade semelhante à dos dentes vizinhos.

QUESTÃO 58

O diagnóstico provável para o caso relatado no texto é

- A pulpíte reversível.
- B pulpíte irreversível assintomática.
- C sensibilidade dentinária.
- D síndrome do dente rachado.

QUESTÃO 59

No caso relatado no texto, as fibras nervosas pulpares afetadas pelo toque da escova no dente e pelo contato da água com o dente são, respectivamente,

- A A-delta e C.
- B A-delta e A-delta.
- C C e A-delta.
- D C e C.

Texto para as questões 60 e 61

Um paciente relata dor pulsátil constante que se intensifica durante a mastigação, no local do dente 36. Ao exame clínico, observa-se mobilidade dentária, presença de cárie e ausência de aumento volumétrico vestibular ou lingual. O teste de vitalidade pulpar foi negativo e o de percussão, positivo.

QUESTÃO 60

Com relação ao caso apresentado no texto, julgue os itens a seguir.

- I Se o exame radiográfico mostrar ligeiro aumento do espaço periodontal apical, com perda da lâmina dura, é correto diagnosticar abscesso periapical agudo em estágio inicial.
- II Se o exame radiográfico mostrar rarefação óssea periapical localizada circunscrita, é correto diagnosticar abscesso fênix.
- III A abordagem inicial para o caso consiste em remoção da cárie, acesso coronário, limpeza progressiva do sistema de canais e ampliação do forame apical com lima de calibre 25. É recomendado, ainda, deixar o dente aberto para possibilitar a drenagem e maior conforto do paciente.
- IV É necessária a prescrição de antibióticos e analgésicos para o paciente.

A quantidade de itens certos é igual a

- A 1.
- B 2.
- C 3.
- D 4.

QUESTÃO 61

Ainda com relação ao caso apresentado no texto, suponha que o paciente tenha sido considerado especial e que houve indicação para o uso profilático de antibiótico. Assinale a opção que apresenta os medicamentos corretos de primeira e segunda escolha indicados para esse paciente e seus respectivos mecanismos de ação.

- A penicilina, para inibição da parede celular; clindamicina, para inibição da síntese protéica.
- B penicilina, para inibição da síntese protéica; azitromicina, para inibição da parede celular.
- C metronidazol, para alteração do DNA bacteriano; clindamicina, para inibição da parede celular.
- D claritromicina, para inibição da síntese protéica; azitromicina, para inibição da parede celular.

QUESTÃO 62

Considerando que o uso da medicação intracanal se faz necessário em muitas situações, assinale a opção correspondente à substância que atua sobre o lipídeo-A da molécula de LPS bacteriano.

- A tricresol formalina
- B paramonoclorofenol canforado
- C hidróxido de cálcio
- D formocresol

QUESTÃO 63

Quanto às características do periodonto de proteção, assinale a opção **incorreta**.

- A O epitélio que recobre a gengiva livre se diferencia em epitélio oral, sulcular e juncional.
- B A mucosa ceratinizada está firmemente inserida no osso alveolar e no cemento subjacente.
- C A mucosa ceratinizada é comparativamente imóvel em relação aos tecidos subjacentes.
- D A área do col é recoberta por epitélio ceratinizado.

QUESTÃO 64

Considere que um paciente de 45 anos de idade apresente doença periodontal, sem perda dentária e com bolsas com profundidade média de 6 mm, e que, após a raspagem periodontal, a doença seja controlada. Em face dessas considerações, assinale a opção correta com relação aos índices clínicos e aspectos microscópicos que indicam o controle da referida doença.

- A O fato de as distâncias biológicas permanecerem alteradas implica permanência da bolsa na sondagem.
- B A resistência à penetração da sonda não implica, necessariamente, formação de novo tecido de inserção.
- C A resistência à penetração da sonda é uma indicação da formação de novo tecido ósseo.
- D Removidos todos os fatores locais, o epitélio juncional migra, mas, por ser frágil, não resiste à penetração da sonda.

QUESTÃO 65

Para a raspagem supra e subgengival realizada com curetas Gracey, assinale a opção correta acerca do apoio dos dedos e mãos para ativação do instrumento.

- A O apoio convencional dificulta o estabelecimento do paralelismo da porção inferior da haste com o dente.
- B A força pode permanecer a mesma quando o apoio é feito tanto na arcada oposta quanto em qualquer outro ponto.
- C O apoio reforçado é aquele realizado quando os dedos são apoiados longe do dente que está sendo raspado.
- D Os dedos médio e anelar, durante o apoio, devem ficar separados.

QUESTÃO 66

Quanto às fases da patogenia da doença periodontal, assinale a opção correta.

- A Na lesão precoce, apesar das alterações clínicas como aumento do volume gengival, edema e alterações do contorno gengival, ao exame microscópico, observa-se a integridade da maior parte das fibras colágenas.
- B A presença de eventuais cristas epiteliais indica que a lesão está estabelecida.
- C Na lesão inicial, há predominância de neutrófilos ou leucócitos polimorfonucleares (PMN).
- D Do ponto de vista clínico-radiográfico, a fase da lesão estabelecida significa que a periodontite foi determinada pela presença de bolsa periodontal e pela perda óssea, simultaneamente.

QUESTÃO 67

Fazem parte da mucosa mastigatória

- A gengiva e dorso da língua.
- B dorso da língua e revestimento do palato duro.
- C gengiva e revestimento do palato duro.
- D mucosa alveolar e revestimento do palato duro.

QUESTÃO 68

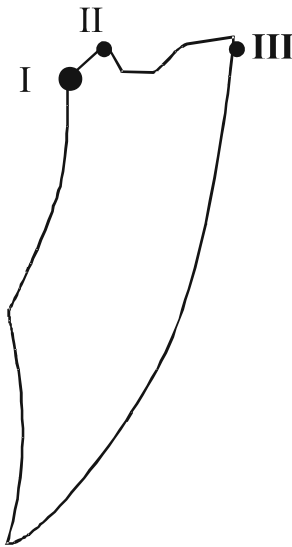
O grupo de fibras do ligamento periodontal que impede a intrusão do dente é o grupo

- A da crista alveolar.
- B oblíquo.
- C horizontal.
- D apical.

QUESTÃO 69

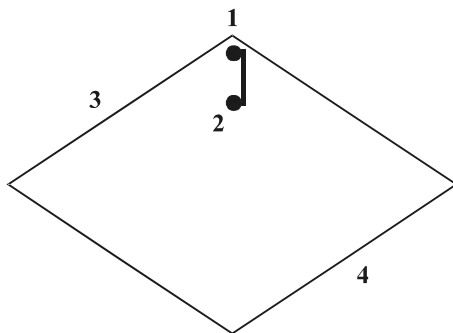
Com relação à oclusão mutuamente protegida, assinale a opção **incorreta**.

- A Nesse tipo de oclusão, todos os dentes estão em contato firme na relação cêntrica.
- B Quando a mandíbula faz movimentos de lateralidade, o lado de não-trabalho (balanceio) não deve apresentar contato.
- C Durante o movimento de protrusão, os dentes anteriores desocluem os dentes posteriores.
- D Na relação cêntrica, o contato dentário ocorre normalmente em um ou em mais de um par de dentes antagônicos posteriores.

QUESTÃO 70

No gráfico de Posselt acima, que representa os movimentos bordejantes que a mandíbula consegue realizar, os pontos I, II e III correspondem, respectivamente, a

- A máxima retrusão, relação cêntrica e máxima protrusão.
- B relação cêntrica, protrusão e máxima protrusão.
- C relação cêntrica, máxima intercuspidação e máxima protrusão.
- D máxima retrusão, oclusão cêntrica e protrusão.

QUESTÃO 71

Com relação aos movimentos mandibulares bordejantes no plano horizontal representados no esquema acima, assinale a opção que apresenta a identificação correta dos números de 1 a 4.

- A 1 – posição de intercuspidação, 2 – relação cêntrica, 3 – lateral esquerdo, 4 – direito continuado com protrusão
- B 1 – relação cêntrica, 2 – posição de intercuspidação, 3 – lateral esquerdo, 4 – direito continuado com protrusão
- C 1 – posição de intercuspidação, 2 – relação cêntrica, 3 – lateral direito, 4 – esquerdo continuado com protrusão
- D 1 – relação cêntrica, 2 – posição de intercuspidação, 3 – lateral direito, 4 – esquerdo continuado com protrusão

QUESTÃO 72

Acerca dos determinantes verticais da morfologia oclusal, assinale a opção correta.

- A Um ângulo maior da eminência proporciona cúspides menos altas.
- B Se o trespasse vertical for constante, um aumento no trespasse horizontal acarreta diminuição do ângulo da guia anterior, menos componentes verticais de movimento mandibular e cúspides posteriores baixas.
- C Se o trespasse horizontal for constante, um aumento no trespasse vertical acarreta diminuição do ângulo da guia anterior, menos componentes verticais ao movimento mandibular e cúspides posteriores baixas.
- D À medida que o plano de oclusão torna-se quase paralelo ao ângulo da eminência articular, as cúspides posteriores devem ser mais altas.

QUESTÃO 73

Assinale a opção correta relativamente aos determinantes horizontais da morfologia oclusal.

- A Quanto maior for a distância do dente em relação ao côndilo de rotação, mais agudo será o ângulo formado pelos trajetos laterotrusivo e mediotrusivo.
- B Quanto maior for a distância do dente em relação ao plano sagital mediano, menor será o ângulo formado pelos trajetos laterotrusivo e mediotrusivo.
- C Quanto maior for o movimento de translação lateral (movimento de Bennett), menor será o ângulo formado pelos trajetos laterotrusivo e mediotrusivo.
- D Quanto maior for a distância intercondilar, menor será o ângulo entre os trajetos laterotrusivo e mediotrusivo.

QUESTÃO 74

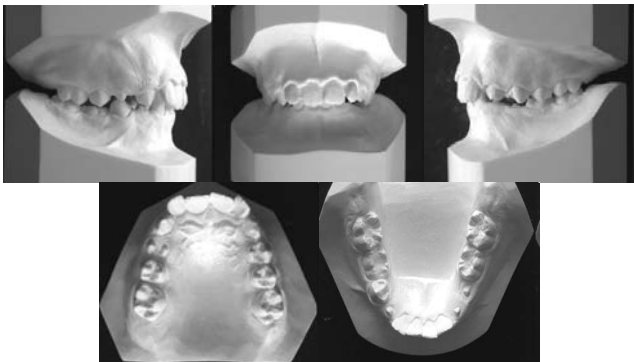
Com relação ao desgaste seletivo, assinale a opção **incorreta**.

- A O principal objetivo do desgaste seletivo é desenvolver uma posição de contato dentário estável quando os côndilos estão em relação cêntrica.
- B O deslize em relação cêntrica pode ser classificado como ântero-inferior, ântero-superior, ântero-superior para a direita e ântero-superior para a esquerda.
- C O deslize ântero-superior para a direita deve-se às vertentes interna e externa dos dentes posteriores.
- D O entendimento da exata localização dos contatos nas vertentes ajuda muito no procedimento do desgaste seletivo.

QUESTÃO 75

No que se refere às características de um paciente portador de má oclusão de classe II, divisão 1, de Angle, assinale a opção **incorreta**.

- Ⓐ Os incisivos centrais superiores são verticalizados em relação aos incisivos laterais superiores.
- Ⓑ A cúspide mesiovestibular do primeiro molar permanente superior é mesial em relação ao sulco mesiovestibular do primeiro molar permanente inferior.
- Ⓒ Os caninos superiores são mesializados em relação aos caninos inferiores.
- Ⓓ Esse paciente pode apresentar diastemas na região anterior do arco dentário superior.

QUESTÃO 76

As figuras apresentadas acima apresentam os moldes das arcadas dentárias de um paciente. Assinale a opção correta quanto à fase da dentição em que o paciente se encontra e o tipo de má oclusão apresentado, de acordo com a classificação proposta por Angle.

- Ⓐ 1.º período transitório da dentadura mista e classe II, divisão 1
- Ⓑ 2.º período transitório da dentadura mista e classe II, divisão 2
- Ⓒ período inter-transitório da dentadura mista e classe II, divisão 2
- Ⓓ 2.º período transitório da dentadura mista e classe II, divisão 1

QUESTÃO 77

Na transição da dentadura mista para a permanente, os primeiros molares permanentes podem sofrer ajustes no posicionamento, conforme o padrão esquelético de crescimento e o tamanho dos segundos molares decíduos. Nesse caso, da dentição decídua para a dentição permanente é menos provável que ocorra transição de

- Ⓐ degrau distal para uma relação de classe I de molar.
- Ⓑ plano terminal reto para uma relação de classe I de molar na dentição permanente.
- Ⓒ degrau mesial suave para uma relação de classe I de molar na dentição permanente.
- Ⓓ plano terminal reto para uma relação de classe II de molar na dentição permanente.

QUESTÃO 78

As características da condição de normalidade da dentição decídua **não** incluem

- Ⓐ presença de espaços primatas.
- Ⓑ plano terminal reto.
- Ⓒ dentes anteriores vestibularizados.
- Ⓓ arco de forma ovóide.

QUESTÃO 79

Um dos fatores etiológicos da má oclusão, a perda de dentes decíduos se torna um fato importante a ser prevenido ou interceptado. Com relação à perda dos segundos molares decíduos, julgue os itens a seguir.

- I Essa perda não traz comprometimentos a longo prazo.
- II Ocorre, com essa perda, uma mesialização dos primeiros molares permanentes.
- III Pode ocorrer impacção dos segundos pré-molares permanentes.

Assinale a opção correta.

- Ⓐ Apenas o item I está certo.
- Ⓑ Apenas o item II está certo.
- Ⓒ Apenas os itens I e III estão certos.
- Ⓓ Apenas os itens II e III estão certos.

QUESTÃO 80

Relativamente aos fatores etiológicos da má oclusão, assinale a opção correta.

- Ⓐ As condições das discrepâncias esqueléticas são determinadas pelo ambiente funcional anormal.
- Ⓑ A respiração bucal e os hábitos deletérios são os fatores etiológicos das mordidas cruzadas posteriores e da má oclusão de classe II esquelética.
- Ⓒ Os fatores hereditários são os únicos determinantes das más oclusões.
- Ⓓ As más oclusões e as discrepâncias esqueléticas sofrem influências epigenéticas.

PROVA DISCURSIVA

- Nesta prova — que vale **dez** pontos —, faça o que se pede, usando os espaços indicados no presente caderno para rascunho. Em seguida, transcreva o texto para a **FOLHA DE TEXTO DEFINITIVO DA PROVA DISCURSIVA**, nos locais apropriados, pois **não será avaliado fragmento de texto escrito em local indevido**.
- Qualquer fragmento de texto além da extensão máxima de **oitenta** linhas será desconsiderado.
- Na **folha de texto definitivo**, identifique-se apenas no cabeçalho da primeira página, pois **não será avaliado** texto que tenha qualquer assinatura ou marca identificadora fora do local apropriado.

A democracia, na América Latina, vem avançando pela via formal. Eleições, posses de novos governantes, crescimento econômico médio e saudável caracterizam o ambiente democrático na região.

Considerando o tema acima, redija um texto dissertativo, abordando, necessariamente, os seguintes aspectos:

- relações entre as regras da democracia formal e os avanços da democracia participativa na América Latina;
- novos governos eleitos em 2006 e suas proposições políticas;
- lugar dos setores sociais menos favorecidos nesse ambiente democrático;
- lugar da educação nas democracias latino-americanas.

1	
2	
3	
4	
5	
6	
7	
8	
9	
10	
11	
12	
13	
14	
15	
16	
17	
18	
19	
20	
21	
22	
23	
24	
25	
26	
27	
28	
29	
30	
31	
32	
33	
34	
35	
36	
37	
38	
39	
40	

41	
42	
43	
44	
45	
46	
47	
48	
49	
50	
51	
52	
53	
54	
55	
56	
57	
58	
59	
60	
61	
62	
63	
64	
65	
66	
67	
68	
69	
70	
71	
72	
73	
74	
75	
76	
77	
78	
79	
80	

