



# PREFEITURA MUNICIPAL DE RIO BRANCO

CONCURSO PÚBLICO  
Nível Superior

Aplicação: 2/9/2007

## Cargo **20**: **ENGENHEIRO DE SEGURANÇA DO TRABALHO**

# Caderno **R**

# MANHÃ

**LEIA COM ATENÇÃO AS INSTRUÇÕES ABAIXO.**

- 1 Ao receber este caderno, confira atentamente se o tipo de caderno — Caderno R — coincide com o que está registrado em sua folha de respostas. Em seguida, verifique se ele contém cento e vinte itens, correspondentes às provas objetivas, corretamente ordenados de 1 a 120.
- 2 Caso o caderno esteja incompleto ou tenha qualquer defeito, solicite ao fiscal de sala mais próximo que tome as providências cabíveis.
- 3 Não utilize lápis, lapiseira, borracha e(ou) qualquer material de consulta que não seja fornecido pelo CESPE/UnB.
- 4 Não se comunique com outros candidatos nem se levante sem autorização do chefe de sala.
- 5 Recomenda-se não marcar ao acaso, cada item cuja resposta diverja do gabarito oficial definitivo receberá pontuação negativa, conforme consta em edital.
- 6 A duração das provas é de **três horas e trinta minutos**, já incluído o tempo destinado à identificação — que será feita no decorrer das provas — e ao preenchimento da folha de respostas.
- 7 Você deverá permanecer obrigatoriamente em sala por, no mínimo, uma hora após o início das provas e poderá levar o seu caderno de provas somente no decurso dos últimos **quinze minutos** anteriores ao horário determinado para o término das provas.
- 8 Ao terminar as provas, chame o fiscal de sala mais próximo, devolva-lhe a sua folha de respostas e deixe o local de provas.
- 9 A desobediência a qualquer uma das determinações constantes no presente caderno ou na folha de respostas poderá implicar a anulação das suas provas.

#### AGENDA (datas prováveis)

- I **4/9/2007**, após as 19 h (horário de Brasília) – Gabaritos oficiais preliminares das provas objetivas: Internet — [www.cespe.unb.br/concursos/pmrb2007](http://www.cespe.unb.br/concursos/pmrb2007).
- II **5 e 6/9/2007** – Recursos (provas objetivas): exclusivamente no Sistema Eletrônico de Interposição de Recurso, Internet, mediante instruções e formulários que estarão disponíveis nesse sistema.
- III **25/9/2007** – Resultado final das provas objetivas e convocação para a avaliação de títulos: Diário Oficial do Estado do Acre e Internet.

#### OBSERVAÇÕES

- Não serão objeto de conhecimento recursos em desacordo com o item 14 do Edital n.º 1 – PMRB, de 5/7/2007.
- Informações adicionais: telefone 0(XX) 61 3448-0100; Internet — [www.cespe.unb.br/concursos/pmrb2007](http://www.cespe.unb.br/concursos/pmrb2007).
- É permitida a reprodução deste material apenas para fins didáticos, desde que citada a fonte.

- De acordo com o comando a que cada um dos itens de 1 a 120 se refira, marque, na **folha de respostas**, para cada item: o campo designado com o código **C**, caso julgue o item **CERTO**; ou o campo designado com o código **E**, caso julgue o item **ERRADO**. A ausência de marcação ou a marcação de ambos os campos não serão apenadas, ou seja, não receberão pontuação negativa. Para as devidas marcações, use a **folha de respostas**, único documento válido para a correção das suas provas.
- Nos itens que avaliam **Noções de Informática**, a menos que seja explicitamente informado o contrário, considere que todos os programas mencionados estão em configuração-padrão, em português, que o *mouse* está configurado para pessoas destros e que expressões como clicar, clique simples e clique duplo referem-se a cliques com o botão esquerdo do *mouse*. Considere também que não há restrições de proteção, de funcionamento e de uso em relação aos programas, arquivos, diretórios e equipamentos mencionados.

## CONHECIMENTOS BÁSICOS

1 À semelhança do Brasil, o Acre compõe-se de uma  
grande diversidade de povos indígenas, cujas situações frente  
à sociedade nacional também são muito variadas. Enquanto  
4 a grande maioria dos grupos se encontra em contato  
permanente ou regular com a população regional (mestiça ou  
branca), alguns ainda são classificados pelo órgão indigenista  
7 como “isolados”.

As sociedades indígenas acreanas dividem-se de  
maneira desigual em duas grandes famílias lingüísticas: Pano  
10 e Arawak. Alguns desses povos encontram-se também nas  
regiões peruanas e bolivianas fronteiriças ao Acre. Do ponto  
de vista da antropologia, o conhecimento sobre as sociedades  
13 indígenas do estado é muito desigual. Se alguns povos, como  
os Kaxinawá ou os Ashaninka, atraíram o interesse de vários  
pesquisadores, as informações etnográficas disponíveis sobre  
16 a maior parte dos povos indígenas acreanos ainda são muito  
incipientes.

Os povos indígenas ocuparam um lugar marginal na  
19 historiografia do Acre. Como no resto da Amazônia, o  
imaginário ocidental sobre a natureza e a alteridade humana  
projetou seus fantasmas na região acreana e nos seus  
22 primeiros habitantes indígenas. A “conquista do deserto  
ocidental” e a incorporação do Acre à nação revelam alguns  
mitos fundadores do pensamento ocidental e brasileiro sobre  
25 a Amazônia e os povos indígenas.

José Pimenta. Internet: <ambienteacreano.blogspot.com> (com adaptações).

Em relação ao texto acima, julgue os itens que se seguem.

- 1 A substituição de “cujas” (l.2) por **as quais** mantém a correção gramatical do período e as relações lógicas originais.
- 2 Na linha 4, a forma verbal “encontra” está no singular para concordar com “a grande maioria”.
- 3 A substituição de “dividem-se” (l.8) por **são divididas** mantém a correção gramatical do período.
- 4 Em “encontram-se” (l.10), o pronome “se” indica que o sujeito da oração é indeterminado, o que contribui para a impessoalização do texto.
- 5 A palavra “incipientes” (l.17) está sendo empregada no sentido de **pouco confiáveis, suspeitos**.
- 6 O emprego da palavra “alteridade” (l.20) está relacionado ao sentido de **diferença, diversidade, distinção**, ou seja, ao sentido de **outro**.

1 Viajando pelas bocas dos rios Juruá e Purus no  
início do século XIX, os naturalistas alemães Spix e Martius  
anotaram, em seus diários, a presença de “índios selvagens”  
4 e a falta de “civilização”, que, segundo os autores,  
caracterizavam a região. Além da exploração da região e de  
suas riquezas naturais, as primeiras expedições oficiais ao  
7 Purus e ao Juruá, lideradas, respectivamente, por João  
Rodrigues Cameté e Romão José de Oliveira, em meados do  
século XIX, tinham como objetivo a atração e a pacificação  
10 dos índios.

Essas *entradas* permaneceram limitadas, subindo os  
rios apenas parcialmente, mas inauguraram uma série de  
13 explorações da região durante as décadas de 50 e 60 do  
século XIX. Entre essas expedições, destaca-se a viagem, a  
mando da Royal Geographical Society de Londres, do  
16 geógrafo inglês William Chandless, que subiu o Purus em  
1864/65 e o Juruá em 1867. Todavia, a historiografia  
regional consagrou os nomes de Manoel Urbano, explorador  
19 do Purus em 1858, e de João da Cunha Corrêa, que percorreu  
o Juruá em 1861, como os primeiros “desbravadores” e  
“descobridores” das terras acreanas.

*Idem, ibidem* (com adaptações).

Considerando o texto acima, julgue os itens a seguir.

- 7 De acordo com o texto, os alemães Spix e Martius integraram as primeiras expedições oficiais aos rios Juruá e Purus.
- 8 Os objetivos das expedições lideradas por João Rodrigues Cameté e Romão José de Oliveira, de acordo com o texto, circunscreviam-se à pacificação dos índios da região.
- 9 O emprego de itálico em “*entradas*” (l.11) indica que essa expressão está sendo utilizada com sentido adaptado ao contexto, pois seu sentido original não abrange expedições da região Norte.
- 10 O uso de vírgula após “Chandless” (l.16) justifica-se por isolar oração subordinada adjetiva explicativa.
- 11 O termo “Todavia” (l.17) pode, sem prejuízo para a correção gramatical e para as informações originais do período, ser substituído por qualquer um dos seguintes: Porém, Contudo, Entretanto, No entanto, Porquanto, Conquanto.

Considerando que os fragmentos incluídos nos itens seguintes, na ordem em que são apresentados, são partes sucessivas de um texto de José Pimenta (Internet: <ambienteacreato.blogspot.com>), julgue-os quanto à correção gramatical.

- 12 Última tentativa do governo boliviano para ocupar a região acreana, a criação do Bolivian Syndicate exigiu da antiga colônia espanhola concessões enormes de soberania. Segundo os termos do contrato assinado em julho de 1901, a Bolívia oferecia a companhia internacional, compostas por grandes grupos financeiros, principalmente norte-americanos, uma concessão de trinta anos para a exploração da seringueira na região.
- 13 O consórcio capitalista dispunha de plena autoridade sobre o comércio da borracha e também de direitos políticos e judiciais essenciais. Ele usufruía o direito de compra e venda dos seringais, o direito de navegar e de controlar os rios por meio de uma polícia própria e o direito de estabelecer as leis e exercer a justiça. Em contrapartida, a Bolívia recebia 60% da arrecadação realizada pela companhia.
- 14 A criação do Bolivian Syndicate foi um dos momentos-chave do conflito acreano, um evento crítico que levou à incorporação do Acre ao Brasil. Para os seringueiros brasileiros, o Bolivian Syndicate surgiu como uma espécie de companhia colonial que controlava não só a terra, mas também toda a organização do trabalho extrativista da borracha. Essa situação revoltou a população acreana, que conseguiu superar suas divisões internas e se organizar contra o inimigo comum.
- 15 O sentimento do povo acreano espalhou-se além das bacias do Purus e do Juruá e comoveu o país que deu um apoio decisivo à luta dos seringueiros. A formação do Bolivian Syndicate criou um fervor nacionalista e patriótico que cimentou a nação, contra os inimigos do Brasil. Manifestações contra os americanos e bolivianos se organizaram em Manaus, Belém e Rio de Janeiro. Orgulho da nação, a Amazônia era novamente cobiçada pelo capital estrangeiro.

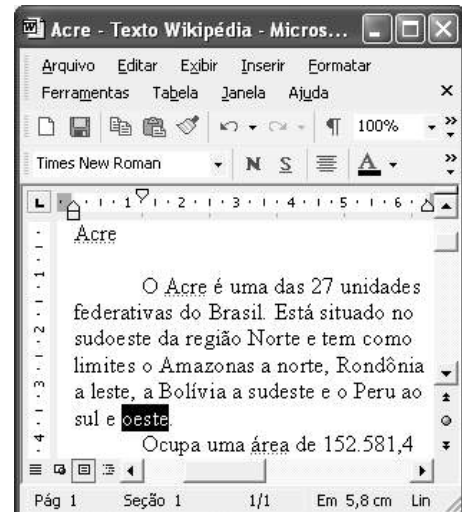
1 Poderíamos definir o *amazonismo* como um conjunto de idéias e de discursos, produzidos pelo imaginário ocidental sobre a Amazônia e as populações nativas, destinado a  
4 viabilizar interesses políticos e econômicos. Como espaço imaginado pelo Ocidente, o *amazonismo* partilha muitas características com o *orientalismo*. Todavia, enquanto Said  
7 nos apresenta um Oriente construído de maneira negativa por um Ocidente hegemônico, o *amazonismo* constituiu um campo ambíguo, catalisador de imagens e de discursos  
10 contraditórios, que podem ser mobilizados para servir a interesses muito divergentes.

Primeiras testemunhas da Amazônia e de seus  
13 habitantes, Carvajal (1542) e Acuña (1641) elaboraram relatos em que combinaram o fantástico e o exótico e edificaram as bases do *amazonismo*: mito das Amazonas, inferno verde,  
16 Eldorado, seres canibais e nobre selvagem. A Amazônia e seus primeiros habitantes concentraram e continuam concentrando sentimentos e fantasias ocidentais. Símbolo de riqueza e  
19 miséria, de medo e esperanças, de sonhos e pesadelos, de futuro e passado, de inferno e paraíso. A alteridade é o espelho invertido do ocidente e é manipulada conforme os interesses  
22 em jogo. Essas imagens contraditórias acompanharam e informaram a conquista da América e o encontro com as populações indígenas. Além de legitimarem a ocupação e a  
25 exploração econômica, os mitos também serviram para sustentar os interesses políticos e ideológicos da Europa.







*Idem, ibidem* (com adaptações).

Considerando o texto acima, julgue os itens de 16 a 20.

- 16 Pelo emprego de expressões coloquiais, pela informalidade, pelas escolhas lexicais e sintáticas, a linguagem do texto é inadequada para documentos oficiais.
- 17 O emprego do plural em “Poderíamos” (ℓ.1) é suficiente para se considerar o texto subjetivo e pessoal, em oposição a um texto impessoal, neutro, objetivo.
- 18 O termo “catalisador” (ℓ.9) está sendo empregado no mesmo sentido que tem na seguinte frase: O mito é catalisador de sentimentos e fantasias em relação ao universo amazônico.
- 19 O sinal de dois-pontos após “*amazonismo*” (ℓ.15) justifica-se por anteceder uma enumeração de itens.
- 20 O termo “manipulada” (ℓ.21) está no feminino singular para concordar com “alteridade” (ℓ.20).



A figura acima mostra uma janela do Word 2002, com parte de um texto em processo de edição, no qual a palavra “oeste” está destacada. Com relação a esse texto, ao Word 2002 e à situação ilustrada na figura, julgue os itens que se seguem.



- 21 Para se centralizar e aplicar negrito ao título do texto — “Acre” —, é suficiente aplicar um clique duplo entre duas letras desse título, clicar **N** e, a seguir, pressionar simultaneamente as teclas **Ctrl** e **C**.
- 22 Ao se clicar o botão , passam a ser exibidas algumas marcas de formatação, como, por exemplo, marcas de parágrafo. Embora essas marcas sejam exibidas na janela mostrada, elas não são impressas em papel quando é realizada impressão.
- 23 A ferramenta **100%**  permite ampliar ou reduzir a exibição do documento ativo.
- 24 Caso se pressione a tecla **Delete** , a palavra “oeste”, que está selecionada, será excluída do texto. Caso se deseje desfazer essa exclusão, é suficiente clicar, logo após a exclusão, o botão .
- 25 Para se copiar a palavra “Acre”, no título do texto, para o final do parágrafo iniciado em “O Acre é uma”, é suficiente: selecionar a referida palavra; clicar ; clicar onde se deseja colar a referida palavra, no final do parágrafo; clicar .

Com relação a conceitos de Internet e *intranet*, julgue os próximos itens.

- 26 Não é possível, em uma *intranet*, a troca de mensagens de correio eletrônico entre dois usuários de dois computadores pertencentes a essa *intranet*.
- 27 A seqüência de caracteres joao@empresa.com.br é um exemplo de URL, ou endereço de página da Web, e a seqüência de caracteres www.empresa.com.br é um exemplo de endereço de correio eletrônico.







A figura acima mostra uma janela do Internet Explorer 6 (IE6), em que é exibida uma página da Web. Com relação a essa figura, ao IE6 e à Internet, julgue os itens subseqüentes.

- 28 Ao se clicar o botão , é disponibilizada uma ferramenta que tem como função principal permitir ao usuário a visualização de detalhes na página em exibição.
- 29 Ao se clicar o botão , será exibida a página da Web que havia sido acessada anteriormente à atual.





A figura acima mostra uma janela do Excel 2002, com uma planilha contendo os preços, em reais, de vários componentes de um equipamento. Com relação a essa figura e ao Excel 2002, julgue os itens seguintes.

- 30 Para se aplicar itálico ao conteúdo da célula A5, é suficiente clicar essa célula e, em seguida, clicar .
- 31 Para se calcular a soma dos preços contidos nas células de B2 a B5 e pôr o resultado na célula B6, é suficiente clicar essa célula, digitar =B2+B3+B4+B5 e, em seguida, teclar .
- 32 O botão  tem a função de permitir o salvamento de alterações em um arquivo que já havia sido salvo anteriormente, e ao qual já foi atribuído um nome. Já o botão , ao ser clicado, causa a abertura da janela Salvar como, que permite salvar apenas o arquivo que ainda não foi salvo, nem teve um nome atribuído a ele.



Considerando a figura acima, que mostra uma janela exibida em um computador cujo sistema operacional é o Windows XP, julgue os itens a seguir.

- 33 Ao se aplicar um clique com o botão esquerdo do *mouse* sobre o ícone Planejamento, o arquivo do Word de nome Planejamento será aberto. Caso se clique com o botão direito, o ícone será excluído e enviado para a Lixeira.
- 34 Para se maximizar a janela mostrada, é suficiente clicar o botão .

Com relação a mensagens de correio eletrônico, julgue o item abaixo.

- 35 Normalmente, os programas que viabilizam o uso de correio eletrônico possuem funcionalidade que permite encaminhar uma mensagem recebida para um outro endereço de correio eletrônico.

A alta nos preços do petróleo e a necessidade de conter o aquecimento global estão fazendo os japoneses voltarem a olhar em direção ao Brasil, depois de 25 anos de afastamento nas relações bilaterais. Atendendo à solicitação do governo japonês e de empresários, o ministro de Negócios Estrangeiros, Taro Aso, chegou ao Brasil para conhecer de perto as etapas de produção e exportação do etanol.

*Jornal do Brasil, 20/8/2007, p. A19 (com adaptações).*

Tendo o texto acima como referência inicial e considerando a amplitude e a inserção do tema por ele focalizado no mundo contemporâneo, julgue os itens seguintes.

- 36** Após a derrota na Segunda Guerra Mundial, o Japão empreendeu vitorioso esforço de recuperação material, para o qual contou com apoio norte-americano. Em algumas décadas, o país se transformou em uma das maiores potências econômicas mundiais, posição que ainda preserva.
- 37** O texto menciona uma questão que está na ordem do dia do mundo atual e que se identifica com o perigoso aumento do efeito estufa, em larga medida gerado pela emissão descontrolada de gases poluentes na atmosfera.
- 38** O petróleo deixou de ser a base propulsora do sistema produtivo mundial a partir do momento em que a principal região produtora e exportadora, o Oriente Médio, viu-se em acentuada instabilidade política, com sucessivas guerras e a ação desvoluta de grupos terroristas.
- 39** A utilização da cana-de-açúcar para a produção de combustíveis é inovação brasileira recente, surgida após o fim do regime militar, possível graças à disponibilidade financeira decorrente da auto-suficiência de petróleo conquistada pelo Brasil.
- 40** Ao visitar recentemente o México e países da América Central, o presidente Lula enfatizou a importância da tecnologia brasileira para a produção do etanol e frisou que a expansão dessa atividade não implica redução da capacidade de produção de alimentos.

Poucos sabem que o aquecimento global também tem conseqüências positivas. Uma delas é permitir a agricultura em altas latitudes. Diante do impacto distinto em diferentes áreas do planeta, os cientistas, entre outros, apontam os perigos regionais como importantes. Em certas áreas, como o semi-árido, pode surgir o deserto, em outras, podem desaparecer ecossistemas inteiros.

Aqui no Brasil, determinamos que apenas 20% das propriedades na Amazônia podem ser exploradas. No cerrado, essa cota é de 35%. A medida conseguiu deter um pouco o desmatamento. Mas é questionada, porque 80% é um número cabalístico diante de uma região diversa. Daí a proposta de fazer zoneamento ecológico e econômico para precisar muito claramente o que se pode ou não se pode fazer.

Todas essas observações nos levam a reforçar uma tendência que já existe no Brasil, inspirada pelo geógrafo Milton Santos, que é a de colocar o território no centro das políticas públicas. Mesmo as cidades terão de ser delimitadas, claramente, para que se possa orientar o seu desenvolvimento sustentável.

*Fernando Gabeira. Política e território. In: Folha de S.Paulo, 16/6/2007, p. A2 (com adaptações).*

Tendo o texto acima como referência inicial e considerando as múltiplas implicações do tema por ele abordado, julgue os itens de **41 a 50**.

- 41** O fenômeno do aquecimento global é consensualmente considerado uma tragédia ambiental justamente porque deteriora, de maneira ampla e igualmente negativa, as condições de vida em todas as regiões do planeta.
- 42** Cientistas alertam para o fato de que o aquecimento global acarreta, entre outras conseqüências, o derretimento de geleiras, o que pode determinar a elevação do nível dos mares e seu potencial de destruição, particularmente nas zonas litorâneas.
- 43** Apesar do cenário de seca com o qual convive historicamente, o Nordeste brasileiro, segundo o texto, estaria a salvo de eventuais efeitos negativos causados pelo aquecimento global.
- 44** Ao se fixar na homogeneidade que caracteriza a Amazônia, o texto sugere que o percentual de área permitido à exploração econômica é compatível com as necessidades da região e positivo para o país.
- 45** A urbanização do Brasil contemporâneo, acompanhada de significativo despovoamento do campo, mostra-se demasiado rápida e, em geral, desprovida do necessário planejamento, o que contribui para a ampliação dos problemas que tendem a caracterizar, especialmente, as grandes regiões metropolitanas.
- 46** O conceito de desenvolvimento sustentável ganha força nos dias atuais e se fundamenta no princípio de que atender às necessidades do presente não pode significar a destruição dos recursos indispensáveis à vida das gerações futuras.
- 47** O Protocolo de Kyoto é um texto de abrangência que se pretende planetária, suscitado pela crescente compreensão de que algo precisa ser feito para minimizar as conseqüências negativas de um modelo de desenvolvimento econômico consagrado pela Revolução Industrial.
- 48** Ao propor medidas que levem à redução dos níveis de emissão de gases ampliadores do efeito estufa, o Protocolo de Kyoto foi referendado pelo conjunto dos Estados integrantes da Organização das Nações Unidas, a começar pelos sete países mais ricos (G-7).
- 49** Como reconhecido no texto, o Brasil não consegue deter a marcha do desmatamento de suas florestas, razão por que sofre pressão de setores ambientalistas, de organizações não-governamentais e de organismos multilaterais.
- 50** O texto salienta o que foi uma das grandes contribuições teóricas oferecidas por Milton Santos, geógrafo brasileiro falecido há poucos anos, cuja produção intelectual colheu reconhecimento internacional.

## CONHECIMENTOS ESPECÍFICOS

Uma empresa de construção civil, especializada em obras viárias, foi contratada pela prefeitura de uma grande cidade para execução de obras de pavimentação asfáltica. A contratada, com 87 empregados, regidos pela Consolidação das Leis do Trabalho (CLT), registrou, no segundo mês de atividade, 4 acidentes com afastamento, computando 40 dias perdidos e um total de 16.000 horas-homem de exposição ao risco. Um dos empregados acidentados, calçando sandália de tiras, teve seu pé esquerdo queimado com piche aquecido, após 3 horas de trabalho ao Sol.

Com base nessa situação hipotética, nas normas regulamentadoras (NR) do Ministério do Trabalho e Emprego (MTE) e na NBR-14.280, que trata de cadastro de acidentes, julgue os itens seguintes.

- 51** Segundo a NR-4, a contratada é classificada com grau de risco 4.
- 52** De acordo com a NR-9 e o Programa de Prevenção de Riscos Ambientais (PPRA), o piche é um agente físico.
- 53** A contratada é obrigada a constituir Serviço Especializado em Engenharia de Segurança e em Medicina do Trabalho (SESMT) que poderá ter apenas um técnico de segurança do trabalho.
- 54** A empresa contratada registrou no segundo mês de atividade uma taxa de frequência de acidentes inferior a 260.
- 55** A taxa de gravidade da empresa contratada no segundo mês de atividade foi superior a 3.000.
- 56** Em razão da quantidade de empregados e da classificação da atividade, a empresa contratada está desobrigada a constituir Comissão Interna de Prevenção de Acidentes (CIPA).
- 57** O empregado que sofreu queimadura no pé teve perda total temporária da capacidade laborativa.
- 58** Com base na NR pertinente, o empregado acidentado deveria usar calçado de segurança para proteção dos pés.

Na área de expedição de uma fábrica de embalagens plásticas, uma empilhadeira chocou-se com um painel elétrico energizado e provocou curto-circuito, dando origem a um princípio de incêndio. O fogo atingiu um motor elétrico e materiais de plástico. A brigada de incêndio foi acionada e prontamente os brigadistas desligaram a energia elétrica do setor e iniciou-se o combate ao fogo. Extintores de CO<sub>2</sub> e de água pressurizada foram usados no painel elétrico, no motor e nos plásticos em chama. Os trabalhadores foram conduzidos à saída de emergência, que tem 1,20 m de largura e abertura para dentro do recinto.

Tendo como referência essas informações e com base na legislação sobre proteção a incêndios e na NR 23, julgue os itens subseqüentes.

- 59** O agente extintor CO<sub>2</sub> atua no fogo pelo princípio de abafamento.
- 60** O comburente é um dos componentes responsáveis pela manutenção do fogo.

- 61** Fogo em componentes elétricos energizados é classificado como de tipo B.
- 62** Para combater o fogo do motor e outros componentes elétricos, os brigadistas agiram corretamente.
- 63** A saída de emergência está dentro dos padrões estabelecidos pela legislação vigente.

A ergonomia visa tornar o trabalho uma atividade agradável e, ao mesmo tempo, produtiva. A respeito desse tema, julgue os itens a seguir.

- 64** O transporte manual de cargas, compreendendo o levantamento e a deposição da carga, designa todo transporte no qual o peso da carga é suportado inteiramente por um único trabalhador.
- 65** A organização do trabalho, para efeito da NR-17, deve levar em consideração a exigência de tempo e o conteúdo das tarefas.
- 66** A antropometria estática é determinada pelas diferentes estruturas do corpo humano, nas diferentes posições, em movimento.
- 67** Os assentos utilizados nos postos de trabalho devem ter altura fixa, determinada pelo padrão da empresa, e mesas ajustáveis.

RASCUNHO

A higiene industrial ou do trabalho tem por objetivo o reconhecimento, a avaliação e o controle dos riscos ambientais, físicos, químicos ou biológicos, originadas no local de trabalho, que podem provocar doenças, prejuízos à saúde ou ao bem-estar, desconforto significativo e ineficiência nos trabalhadores ou entre as pessoas da comunidade. Acerca desse assunto e do PPRA, julgue os itens seguintes.

- 68** O ruído e a vibração provocados por um martelo picador hidráulico são considerados agentes químico e físico, respectivamente.
- 69** Considere que um operário de coleta de lixo urbano tenha se queixado do odor exalado por material em estado de deterioração com produção de bactérias. Nesse caso, é correto afirmar que o operário está exposto a agente biológico.
- 70** Os gases expelidos na preparação de uma cisterna são exemplos de agentes químicos.
- 71** No desenvolvimento do PPRA a etapa de reconhecimento envolve a análise de projetos de novas instalações, visando identificar os riscos potenciais e introduzir medidas de proteção para sua redução ou eliminação.
- 72** A avaliação quantitativa dos agentes ambientais deverá ser realizada sempre que necessária para dimensionar a exposição dos trabalhadores.
- 73** Os dados do PPRA devem ser mantidos por um período mínimo de 5 anos.

A respeito da CIPA, disciplinada pela NR-5, julgue os itens seguintes.

- 74** Empresa de limpeza urbana e esgoto contratada por prefeitura municipal é dispensada de constituir CIPA, independentemente da quantidade de empregados.
- 75** As atribuições da CIPA incluem a divulgação e promoção do cumprimento das normas regulamentadoras, bem como de cláusulas de acordos e convenções coletivas de trabalho relativas à segurança e saúde no trabalho.
- 76** O mandato dos membros eleitos da CIPA terá a duração de um ano, permitidas reeleições por decisão do empregado.
- 77** O presidente da CIPA é designado pelo empregador e escolhido entre os representantes deste.
- 78** Os membros da CIPA, eleitos e designados, serão empossados no prazo máximo de 30 dias após o término do mandato anterior.

Em referência às NRs 1 – Disposições gerais, 2 – Inspeção prévia e 3 – Embargo ou interdição, julgue os itens a seguir.

- 79** As NRs relativas à segurança e medicina do trabalho são de observância obrigatória pelas empresas privadas com regime de contratação pela (CLT). Essa observância é facultativa para empresas públicas e órgãos públicos da administração direta e indireta, bem como para os órgãos dos Poderes Legislativo e Judiciário, mesmo com empregados regidos pela CLT.
- 80** O embargo é configurado pela paralisação total ou parcial da obra.
- 81** É facultado às empresas submeter à apreciação prévia do órgão regional do MTE os projetos de construção e respectivas instalações.

**82** Por irregularidade de funcionamento dos itens de segurança e proteção de uma máquina, uma entidade sindical poderá solicitar, ao setor de segurança e medicina do trabalho do MTE, a interdição da máquina.

**83** A observância das NRs não desobriga as empresas do cumprimento de outras disposições que, com relação à matéria, sejam incluídas em códigos de obras ou regulamentos sanitários dos estados ou municípios, e outras, oriundas de convenções e acordos coletivos de trabalho.

Uma empresa de construção civil instalou seu canteiro de obras para 55 empregados, sendo 10 do sexo feminino. Do total de empregados, 20 ficam alojados no canteiro. O projeto é construir uma escola no prazo de onze meses. Considerando essas informações e com base na NR 18 – Condições e meio ambiente de trabalho na indústria da construção, julgue os próximos itens.

**84** A empresa não é obrigada a elaborar e cumprir o Programa de Condições e Meio Ambiente de Trabalho na Indústria da Construção (PCMAT).

**85** A empresa não é obrigada a manter lavanderia.

**86** Proporcionalmente à quantidade de empregados, a empresa deverá construir 3 sanitários.

**87** É obrigatório o fornecimento de água potável, filtrada e fresca, para os trabalhadores, por meio de bebedouro de jato inclinado ou outro dispositivo equivalente, sendo permitido o uso de copos coletivos.

**88** É permitida a queima de lixo ou qualquer outro material no interior do canteiro de obras.

**89** As instalações sanitárias deverão ser separadas por sexo.

**90** Nos canteiros de obras, é obrigatória a existência de local adequado para refeições.

Com relação a acidentes e doenças do trabalho, julgue os itens subseqüentes.

**91** É considerada doença do trabalho a doença endêmica adquirida por segurado habitante de região em que ela se desenvolva, sem a necessidade da comprovação de que é resultante de exposição ou contato direto determinado pela natureza do trabalho.

**92** As pneumopatias relacionadas etiológicamente à inalação de poeiras em ambientes de trabalho são genericamente designadas como pneumoconioses. A siderose é uma pneumoconiose provocada por fibras de amianto.

**93** Para efeito da Lei n.º 8.213/1991, não é equiparado a acidente do trabalho o acidente sofrido pelo segurado no local e no horário do trabalho, em consequência de desabamento, inundação ou incêndio.

**94** A empresa deverá comunicar o acidente do trabalho à previdência social até o 1.º dia útil seguinte ao da ocorrência e, em caso de morte, de imediato, à autoridade competente, sob pena de multa. Na falta de comunicação por parte da empresa, podem formalizá-la o próprio acidentado, seus dependentes, a entidade sindical competente, o médico que o assistiu ou qualquer autoridade pública.

**95** Considera-se como dia do acidente, no caso de doença profissional ou do trabalho, a data do início da incapacidade laborativa para o exercício da atividade habitual, ou o dia da segregação compulsória, ou o dia em que for realizado o diagnóstico, valendo para este efeito o que ocorrer primeiro.

Diversas ferramentas e técnicas contribuem para o gerenciamento de riscos no campo da engenharia de segurança do trabalho. A esse respeito, julgue os itens seguintes.

- 96** Considere que, para a execução de uma conexão de um duto a um tanque de combustível, a equipe de trabalho tenha detalhado as etapas de execução, com os riscos prováveis, os efeitos e as medidas preventivas. Nessa situação, a técnica aplicada pela equipe de trabalho é denominada série de riscos.
- 97** A análise preliminar de riscos (APR) tem o objetivo de estudar passo a passo todas as fases da ocorrência de um acidente, buscando-se dados para evitar-se novo acontecimento.
- 98** Considere a seguinte situação hipotética.  
Após um mês de levantamento de dados na empresa, o engenheiro de segurança selecionou um dos eventos cuja probabilidade de ocorrência deveria ser determinada. Fez revisão dos fatores intervenientes, como ambiente, dados do projeto, exigências do sistema, determinando as condições ou falhas que poderiam contribuir para a ocorrência do evento indesejado.  
Nessa situação, a técnica aplicada pelo engenheiro é denominada análise de árvores de falhas (AAF).

Com referência a poluição do solo, da água e do ar, julgue os itens que se seguem.

- 99** Considere a seguinte situação hipotética.  
Durante obra de escavação, uma retroescavadeira danificou a tubulação da rede de esgoto de uma indústria de produtos alimentícios, o que provocou intenso vazamento. O conteúdo atingiu um córrego, e forte odor causou desconforto na população vizinha.  
Nessa situação, o acidente provocou poluição apenas da água.
- 100** Poluição pode ser definida como a introdução, no meio ambiente, de qualquer matéria ou energia que venha a alterar as propriedades físicas, químicas ou biológicas desse meio, afetando, ou podendo afetar, a saúde das espécies animais ou vegetais.
- 101** O local onde é feito o tratamento de esgoto nas empresas é denominado estação de tratamento de afluente.

Na oficina de manutenção, solicitado para verificar a máquina de soldar, um electricista, usando luvas contra choque elétrico e botina com biqueira de aço, desligou o quadro geral de força, no qual percebeu fusível queimado, e efetuou inspeção na máquina. Após essa verificação, o soldador, usando máscara de solda de segurança, retomou suas atividades, que consistiam na confecção de um alambado de tubos metálicos. Nessa atividade, por meio de biombos, evitou que as emissões de fumos e radiações atingissem os trabalhadores nas proximidades.

Nessa situação hipotética,

- 102** a desenergização elétrica foi uma medida de proteção coletiva.
- 103** o electricista usou equipamentos de proteção individual (EPI) apropriado.
- 104** o soldador usou EPI para os olhos e face.
- 105** o biombo é classificado como um tipo de EPI.
- 106** os fumos e a radiação são agentes físico e químico, respectivamente.

A respeito da NR-15, que trata das atividades e operações insalubres, e da NR-16, que trata de atividades e operações perigosas, julgue os itens subseqüentes.

- 107** O trabalho em contato permanente com esgotos e lixo urbano é classificado como insalubridade de grau mínimo.
- 108** Níveis de radiações ionizantes com radioatividade superior aos limites de tolerância têm grau de insalubridade igual a 40% sobre o salário mínimo.
- 109** As atividades ou operações que exponham os trabalhadores a níveis de ruído, contínuo ou intermitente, superiores a 115 dB(A), sem proteção adequada, oferecem risco grave e iminente.
- 110** O trabalho em condições de periculosidade assegura ao empregado um adicional de 15% sobre seu salário-base.
- 111** O empregado com direito a adicional de insalubridade e periculosidade não poderá optar por um deles. Cabe à empresa a decisão.

A respeito de trabalhos a céu aberto, contemplados pela NR-21, julgue os itens seguintes.

- 112** Nos trabalhos realizados a céu aberto, é facultada à empresa a construção de abrigos, ainda que rústicos, capazes de proteger os trabalhadores contra intempéries.
- 113** Para os trabalhos realizados em regiões pantanosas ou alagadiças, serão imperativas as medidas de profilaxia de endemias, de acordo com as normas de saúde pública.
- 114** Os locais destinados às privadas têm de ser arejados, com ventilação abundante, mantidos limpos, em boas condições sanitárias e devidamente protegidos contra a proliferação de insetos, ratos, animais e pragas.

Acerca das condições sanitárias e de conforto nos locais de trabalho, disciplinadas pela NR-24, julgue os itens seguintes.

- 115** A empresa que contratar terceiro para a prestação de serviços em seus estabelecimentos deve estender aos trabalhadores da contratada as mesmas condições de higiene e conforto oferecidas aos seus próprios empregados.
- 116** Nos dormitórios dos alojamentos, é permitida instalação para eletrodomésticos e o uso de fogareiro.

No que se refere ao Programa de Controle Médico de Saúde Ocupacional (PCMSO), previsto na NR-7, julgue os itens a seguir.

- 117** A empresa contratante de mão-de-obra prestadora de serviços deve informar à empresa contratada os riscos existentes e auxiliar na elaboração e implementação do PCMSO nos locais de trabalho onde os serviços estejam sendo prestados.
- 118** O exame médico admissional deverá ser realizado até 30 dias depois que o trabalhador assumir suas funções.
- 119** Para cada exame médico realizado, o médico tem de emitir o atestado de saúde ocupacional (ASO) em duas vias: a primeira via deve ficar no arquivo da empresa e a segunda, ser entregue ao trabalhador.
- 120** Todo estabelecimento deverá estar equipado com material necessário à prestação de primeiros socorros, considerando-se as características da atividade desenvolvida. Deverá também manter esse material guardado em local adequado e aos cuidados de pessoa treinada para esse fim.