

Concurso Público



PREFEITURA MUNICIPAL DE ARACAJU
SECRETARIA MUNICIPAL DE ADMINISTRAÇÃO

Nível Superior

Cargo 3: Professor de 5.^a a 8.^a Série (6.^o ao 9.^o Ano)
Área: Geografia

Caderno C

TARDE

Aplicação: 27/1/2008

LEIA COM ATENÇÃO AS INSTRUÇÕES ABAIXO.

- 1 Confira atentamente se o tipo deste caderno — Caderno C — coincide com o que está registrado em sua folha de resposta. Em seguida, verifique se ele contém cento e vinte itens, correspondentes às provas objetivas, corretamente ordenados de 1 a 120.
- 2 Caso o caderno esteja incompleto ou tenha qualquer defeito, solicite ao fiscal de sala mais próximo que tome as providências cabíveis.
- 3 Não utilize lápis, lapiseira/grafite, borracha e(ou) qualquer material de consulta que não seja fornecido pelo CESPE/UnB.
- 4 Não se comunique com outros candidatos nem se levante sem autorização do chefe de sala.
- 5 Recomenda-se não marcar ao acaso: cada item cuja resposta divirja do gabarito oficial definitivo receberá pontuação negativa, conforme consta em edital.
- 6 A duração das provas é de **três horas e trinta minutos**, já incluído o tempo destinado à identificação — que será feita no decorrer das provas — e ao preenchimento da folha de respostas.
- 7 Você deverá permanecer obrigatoriamente em sala por, no mínimo, **uma hora** após o início das provas e poderá levar este caderno de provas somente no decurso dos últimos **quinze minutos** anteriores ao horário determinado para o término das provas.
- 8 Ao terminar as provas, chame o fiscal de sala mais próximo, devolva-lhe a sua folha de respostas e deixe o local de provas.
- 9 A desobediência a qualquer uma das determinações constantes no presente caderno ou na folha de respostas poderá implicar a anulação das suas provas.

AGENDA (datas prováveis)

- I 28 e 29/1/2008 – Entrega de títulos.
- II 29/1/2008, após as 19 h (horário de Brasília) – Gabaritos oficiais preliminares das provas objetivas: Internet — www.cespe.unb.br/concursos/prefaracaju_professor2007.
- III 30 e 31/1/2008 – Recursos (provas objetivas): exclusivamente no Sistema Eletrônico de Interposição de Recurso, Internet, mediante instruções e formulários que estarão disponíveis nesse sistema.
- IV 19/2/2008 – Resultados finais das provas objetivas e provisório da avaliação de títulos: Diário Oficial do Município de Aracaju e Internet.
- V 20 e 21/2/2008 – Recursos (avaliação de títulos): exclusivamente no Sistema Eletrônico de Interposição de Recurso, Internet, mediante instruções e formulários que estarão disponíveis nesse sistema.
- VI 7/3/2008 – Resultados finais da avaliação de títulos e do concurso: Diário Oficial do Município de Aracaju e Internet.

OBSERVAÇÕES

- Não serão objeto de conhecimento recursos em desacordo com o item 12 do Edital n.º 1 – SEMAD/PROFESSOR, de 29/11/2007.
- Informações adicionais: telefone (XX)61 3448-0100; Internet — www.cespe.unb.br/concursos/prefaracaju_professor2007.
- É permitida a reprodução deste material apenas para fins didáticos, desde que citada a fonte.

- De acordo com o comando a que cada um dos itens de 1 a 120 se refira, marque, na **folha de respostas**, para cada item: o campo designado com o código **C**, caso julgue o item **CERTO**; ou o campo designado com o código **E**, caso julgue o item **ERRADO**. A ausência de marcação ou a marcação de ambos os campos não serão apenadas, ou seja, não receberão pontuação negativa. Para as devidas marcações, use a **folha de respostas**, único documento válido para a correção das suas provas.
- Nos itens que avaliam **Noções de Informática**, a menos que seja explicitamente informado o contrário, considere que todos os programas mencionados estão em configuração-padrão, em português, que o *mouse* está configurado para pessoas destros e que expressões como clicar, clique simples e clique duplo referem-se a cliques com o botão esquerdo do *mouse*. Considere também que não há restrições de proteção, de funcionamento e de uso em relação aos programas, arquivos, diretórios e equipamentos mencionados.

CONHECIMENTOS BÁSICOS

1 A inauguração das transmissões da TV digital em
São Paulo é muito mais que o início da convivência com uma
4 novidade tecnológica. São incalculáveis as possibilidades
de desenvolvimento de produtos que a TV digital passa
a oferecer à indústria e à criatividade brasileira.
7 O telespectador poderá congelar uma imagem e, em um
clique, pedir mais detalhes. Poderá fazer compras
diretamente no vídeo, solicitar a repetição de um programa
e responder a enquetes.

10 E, para os que se impressionaram com os
improvisos que marcaram os primeiros passos da nova fase,
impõe-se lembrar o arrojo de um dos brasileiros que mais
13 bem souberam apostar no futuro do país. Assis
Chateaubriand logo se deu conta da potencialidade da
televisão e, ao enfrentar a descrença e as dificuldades do pós-
16 guerra, inaugurou no Brasil a primeira emissora de tevê da
América Latina e a quarta do mundo. Em 18 de setembro de
1950, a TV Tupi entrou no ar e deu exemplo que deve ser
19 lembrado aos jovens empreendedores.

Mas de que adiantaria ligar o transmissor da TV
Tupi, se em São Paulo ninguém, em 1950, tinha um
22 televisor? Ele não se intimidou. Comprou nos Estados
Unidos 200 aparelhos e os distribuiu em pontos estratégicos
da cidade. Nos anos seguintes, para consolidar a televisão no
25 país, instalou várias emissoras, como a TV Itacolomi, de
Belo Horizonte, em 1955.

O resultado da aposta é que, atualmente, 94% dos
28 lares brasileiros têm pelo menos um aparelho de tevê,
representando um dos maiores mercados do mundo,
perfeitamente capaz de viabilizar, a curto prazo, a TV digital.
31 É com a coragem de empreender e com a determinação de
superar obstáculos que o Brasil precisa contar para não
sucumbir à competição internacional e para vencer os atrasos
34 de que ainda padece.

Correio Braziliense, 9/12/2007 (com adaptações).

Em relação às idéias e às estruturas do texto acima, julgue os
itens a seguir.

- 1 Na linha 5, em “à indústria e à criatividade”, o sinal indicativo de crase justifica-se pela regência do verbo “oferecer”, que exige preposição, e pela presença de artigo definido feminino.
- 2 O termo “arrojo” (l.12) está sendo empregado com o sentido de audácia, ousadia.
- 3 A substituição de “souberam” (l.13) pelo singular **soube** prejudica a correção gramatical do período.
- 4 Depreende-se das informações do texto que Assis Chateaubriand encontrou as circunstâncias ideais para inaugurar a televisão no Brasil em 1950, no pós-guerra.
- 5 As duas ocorrências da preposição “com” na linha 31 devem-se à regência do verbo “contar” (l.32).
- 6 A presença da preposição “de” (l.34) justifica-se pela regência de “vencer”.

1 A reunião internacional na Indonésia recoloca na
mesa de debates todos os impasses, grandes e pequenos, que
dificultam uma política global de preservação do ambiente
4 e de controle do efeito estufa. Há várias incógnitas à espera
de interpretações. A primeira delas é em relação ao que o
mundo fará para preservar o patrimônio natural depois de
7 2012, quando expiram os compromissos da primeira fase do
Protocolo de Kyoto, que, bem ou mal, representaram o
principal marco da luta global para deter a emissão
10 descontrolada de gases que levam ao aquecimento do
planeta. A outra incógnita, de máximo interesse para países
como o nosso, é a respeito da preservação das florestas
13 tropicais, em especial a maior de todas, a Amazônia, que
ocupa uma parte importante do território brasileiro e sul-
americano e que ocupa também uma parcela crescente na
16 preocupação dos ambientalistas do planeta.

O principal temor dos ambientalistas é com os
prazos com que a questão da proteção da natureza é tratada.
19 Nas negociações mundiais, tal prazo se conta em anos ou
décadas, como ocorreu para se chegar ao Protocolo de
Kyoto. Nas necessidades do ambiente, os prazos já se
22 esgotaram e as ações de preservação não podem esperar.

Zero Hora, 3/12/2007 (com adaptações).

Julgue os itens seguintes, relativos às idéias e a aspectos
gramaticais do texto acima.

- 7 O pronome “delas” (l.5) é elemento coesivo que retoma o antecedente “incógnitas” (l.4).
- 8 As palavras “patrimônio” e “Amazônia” recebem acento gráfico com base na mesma regra de acentuação gráfica.
- 9 O pronome “nosso” (l.12) insere no texto o autor e todos os brasileiros.
- 10 A expressão “a Amazônia” (l.13) exerce a função de vocativo.
- 11 O emprego da vírgula após “ambiente” (l.21) justifica-se por isolar oração subordinada adjetiva explicativa.

1 O resultado choca, mas não surpreende. Entre 57 países, em 2006, o Brasil é o 52.º no aprendizado de ciências. Ficou
à frente só da Colômbia, Tunísia, Azerbaijão, Qatar e Quirguistão. Aplicado a cada três anos pela Organização para a Cooperação
e o Desenvolvimento Econômico (OCDE), o Programa Internacional de Avaliação de Alunos (PISA) testa estudantes de 15 anos,
4 tanto de escolas públicas quanto de particulares. De uma escala que vai de 0 a 800, os brasileiros estacionaram na nota média de
390 pontos.

7 Não é a primeira vez que o Brasil figura na rabeira do ranque do PISA. Em 2000, quando 32 nações participavam da
disputa cujo foco era a habilidade em leitura, ficamos em último lugar. A classificação se repetiu três anos depois. Dessa vez, o
número de competidores havia subido para 41 e a ênfase era matemática. Vale lembrar que o destaque de uma ou outra área de
conhecimento não significa que as questões se restrinjam a ela. Cada edição enfatiza uma disciplina, mas testa as demais.

10 A trajetória verde-amarela deixa uma mensagem clara. O país vive um apagão educacional. Aos 15 anos, os jovens, que
freqüentaram regularmente o ensino básico, não aprenderam o essencial. São incapazes de ler e entender um texto, de resolver
questões simples de matemática, de adquirir conhecimento científico. Pior: não se vislumbra luz no fim do túnel. Faltam quadros
13 para levar avante um projeto sério de recuperação do tempo perdido.

Correio Braziliense, 3/12/2007 (com adaptações).

Com relação às idéias e estruturas do texto acima, julgue os itens a seguir.

- 12 O emprego da vírgula logo após “choca” (l.1) justifica-se por isolar oração subordinada adjetiva explicativa.
- 13 Depreende-se das informações do texto que os problemas educacionais do Brasil são provenientes da falta de pessoal preparado na área educacional.
- 14 Em 2000, participaram do PISA 32 países, em 2003, 41 países, e em 2006, 52 países.
- 15 Haveria erro gramatical caso se substituísse o trecho “Pior: não se vislumbra” (l.12) pelo seguinte: O pior é que não se vislumbra.

O final do século XVI é marco inicial da formação do atual estado de Sergipe. Lutas entre colonizadores e índios, além da figura de Cristóvão de Bastos, compuseram o enredo daquele momento histórico e suas conseqüências no tempo. A respeito desse assunto, julgue os itens que se seguem.

- 16 A formação histórica de Sergipe está bastante vinculada à concessão de sesmarias aos colonizadores que venceram as guerras contra os índios.
- 17 A fundação da cidade de São Cristóvão remete à personagem histórica de Cristóvão de Barros, que liderou as lutas contra os índios em fins do século XVI.
- 18 Por não ter tido qualquer participação na economia açucareira, Sergipe foi a última área do Nordeste a ser colonizada por Portugal.
- 19 A criação do gado, com mão-de-obra intensiva africana, foi base do povoamento de Sergipe.
- 20 A Estrada da Boiada e o rio dos Currais constituem símbolos históricos da dinâmica empreendida pela economia sergipana no período colonial inicial.

A formação política de Sergipe, bem como seu peso econômico, social e cultural, da emancipação aos dias atuais, acompanhou o compasso da história nacional. A respeito desses temas, julgue os itens a seguir.

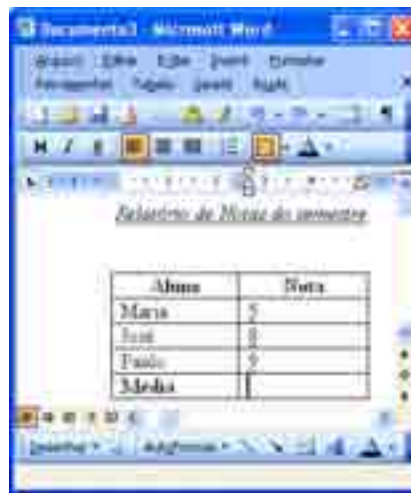
- 21 A emancipação política vincula-se, em Sergipe, à concessão de carta régia de D. João VI e às lutas posteriores que levaram ao reconhecimento da autoridade de D. Pedro I.
- 22 Sergipe assistiu, no período regencial do século XIX, tranquilidade política que contrastou com os tumultos políticos do resto do país.
- 23 O algodão, especialmente depois da Guerra de Secessão nos Estados Unidos da América, passou a ocupar papel importante na economia sergipana nos fins do século XIX.
- 24 Seguindo os caminhos da história nacional, os militares ocuparam o poder em Sergipe no início da República Velha, ampliando e diversificando o quadro político das elites.
- 25 A cultura na formação social sergipana é modesta, sendo o Estado apenas tributário dos movimentos intelectuais nordestinos como a Escola do Recife.

Com relação a Internet, *intranet* e navegadores, julgue os itens que se seguem.



- 26 Enquanto a Internet permite o acesso a páginas de todo o mundo, a *intranet* permite o acesso a páginas restritas de uma organização.
- 27 No Internet Explorer 6, é possível definir a página de uma secretaria de educação como página inicial, e também como página favorita.
- 28 Uma desvantagem do Outlook Express 6 é a impossibilidade de encaminhar em uma mesma mensagem anexos com arquivos de tipos diferentes.

Julgue os itens a seguir, relacionados a cópias de segurança e a sistema de arquivo.

- 29 Fazer *backup* significa compactar os arquivos para liberar espaço em disco.
- 30 O disquete está entrando em desuso porque já existem alternativas de memórias removíveis com capacidade maior, como, por exemplo, o *pendrive*.
- 31 O *menu* Arquivo do Internet Explorer possui uma opção que permite criar pastas de arquivos para organizar os dados.



Com relação ao Word e ao Excel 2003 e considerando a figura acima, que mostra uma janela do Word com um documento em edição que contém uma tabela, julgue os itens seguintes.

- 32 Para se inserir na tabela uma nova coluna é suficiente clicar a opção Coluna, do *menu* Inserir.
- 33 Para centralizar os conteúdos das células da tabela é suficiente selecioná-los e clicar a ferramenta .
- 34 Ao se clicar a ferramenta , o texto será formatado com letra normal.
- 35 A tabela pode ser copiada para o Excel sem perder a formatação.

CONHECIMENTOS COMPLEMENTARES

Vive-se hoje uma crise de paradigmas, afirmam os historiadores da educação. Alguns a denominam de pós-modernidade e outros de neomodernidade, mas todos concordam que a escola não pode deixar de incorporar esses novos valores por meio de uma dinâmica diferenciada.

Tendo o texto acima como referência, julgue os itens a seguir.

- 36** Na atualidade, a atitude nostálgica de se valorizar a velha ordem, seja no ambiente familiar seja na escola, favorece a violência e reforça a falta de humildade para reconhecer o novo.
- 37** Diante das transformações da alta tecnologia, novas profissões vão aparecendo e outras sendo extintas, daí a necessidade de uma educação permanente, ou seja, de uma formação sólida que dispense atualizações constantes.
- 38** A dificuldade de um só indivíduo reter todo o conhecimento leva a uma gestão escolar que favorece a participação da comunidade, o que não quer dizer que todos os usuários poderão intervir na gestão da escola.
- 39** A formação dos professores, há alguns anos, baseava-se em uma perspectiva curricular eurocêntrica, excludente e preconceituosa. A educação anti-racista e com foco na diversidade é fruto de discussões recentes que abordam a inclusão e o respeito ao pluralismo cultural.
- 40** Educar para a diversidade significa estar aberto à inclusão. A inclusão escolar hoje se traduz especificamente na possibilidade oferecer vagas em escolas regulares aos portadores de necessidades educativas especiais.

Após a publicação da Lei n.º 10.639/2003, o Conselho Nacional de Educação aprovou o parecer CNE/CP 3/2004, que institui as diretrizes curriculares para a educação das relações étnico-raciais e o ensino de história e cultura afro-brasileiras e africanas a serem executadas pelas escolas nos diferentes níveis e modalidades de ensino. Acerca desse tema, julgue os itens a seguir.

- 41** Tanto a lei quanto as diretrizes citadas se configuram como políticas públicas e não como políticas partidárias ou de governo, uma vez que passam a incorporar os ideais universais de igualdade e participação que apresentam o multiculturalismo como ponto de referência.
- 42** É sabido que existe um currículo manifesto que se apresenta nos planos de ensino, curso e aula, e um currículo oculto que representa o *corpus* ideológico das práticas que não estão explícitas no currículo manifesto. Nesse sentido, é no currículo manifesto que se identificam os preconceitos, as intolerâncias e as discriminações enraizadas nas relações de classe, gênero, orientação sexual, raça, religião e cultura.
- 43** A sensibilização dos educadores (professores e gestores) para apropriação de uma pedagogia anti-racista e de valorização da diversidade é desnecessária, uma vez que a lei e as diretrizes citadas já estão aprovadas e vigorando nos estabelecimentos de ensino.

Organização e gestão constituem o conjunto das condições e dos meios utilizados para assegurar o bom funcionamento da escola para que se alcancem os objetivos educacionais esperados. Com relação a esse assunto, julgue os itens que se seguem.

- 44** O exercício profissional do professor inclui as três atribuições seguintes: a docência, a atuação na gestão e organização da escola e a produção de conhecimento pedagógico.
- 45** Na elaboração do projeto pedagógico da escola, deve-se levar em conta a cultura organizacional que se revela no currículo, na estrutura organizacional, nas relações humanas, nas ações de formação continuada e nas práticas de avaliação.
- 46** Na proposta democrático-participativa de gestão escolar, existe uma articulação entre todas as pessoas que se relacionam com a escola (pais, alunos, professores, funcionários e comunidade em geral) no acompanhamento das ações e nas avaliações sistemáticas, nas quais todos avaliam e são avaliados.

Na sociedade democrática, a escola tem um importante papel que é o de proporcionar o desenvolvimento de capacidades que permitam a intervenção na realidade para transformá-la. Para que um projeto pedagógico alcance esse objetivo, deverá fazer que os educandos se posicionem frente às questões sociais, tratando os valores não apenas como conceitos ideais mas incluindo essa perspectiva nos conteúdos do ensino das áreas do conhecimento escolar. A partir dessas informações, julgue os itens subseqüentes, acerca da organização curricular.

- 47** Uma escola que prepare moral e intelectualmente seus alunos para assumirem posições na sociedade, focando seus conteúdos nos valores sociais acumulados pelas gerações adultas, desvinculando-os dos problemas sociais, atende às necessidades da sociedade democrática.
- 48** Nos parâmetros curriculares elaborados pelo MEC, em 1998, há uma orientação no trabalho por áreas de conhecimento. Nesse sentido, é necessário que sejam trabalhados temas como educação ambiental, sexualidade, pluralidade cultural, entre outros, não de forma abrangente e integrada, mas como disciplinas autônomas denominadas genericamente de temas transversais.
- 49** O trabalho pedagógico organizado por temas deve levar em conta as diversas decisões tomadas pela comunidade escolar, o que demanda o envolvimento de todos no processo de decisão dos temas e das prioridades a serem eleitas.
- 50** O planejamento escolar é um processo de racionalização, organização e coordenação da ação docente que deve articular a atividade escolar e a problemática do contexto social. Na concepção de gestão participativa, o plano de ensino ou de curso é de responsabilidade exclusiva do professor.
- 51** Os projetos são formas de elaborar o trabalho didático, que pode integrar diferentes modos de organização curricular. Na organização dos conteúdos a serem trabalhados nos projetos, esses conteúdos devem ser elencados pelos professores, sem a participação direta dos alunos.

Avaliar é uma tarefa didática necessária e permanente do trabalho docente que deve acompanhar passo a passo o processo de ensino e aprendizagem. Julgue os itens seguintes, acerca da avaliação.

- 52** Sendo o professor o responsável direto pelo processo de ensino e aprendizagem, compete a ele avaliar e opinar sobre o rendimento dos seus alunos. Ao conselho de classe cabe acatar as opiniões do professor, corroborando as decisões tomadas.
- 53** A avaliação escolar cumpre ao menos três funções: pedagógico-didática, de diagnóstico e de controle. Entende-se por função didático-pedagógica da avaliação aquela que permite identificar os progressos e as dificuldades dos alunos e a atuação do professor, modificando o processo de ensino para mais bem cumprir os objetivos.
- 54** Por avaliação institucional entende-se o processo de verificação das condições de ensino oferecidas pelo estabelecimento de ensino no qual estão envolvidos todos os atores, atitude que permite a tomada de novas decisões.
- 55** A avaliação do rendimento escolar deve ser realizada por meio de provas bimestrais, sem a preocupação com o entendimento de que as capacidades do aluno se expressam no processo da atividade em diversas situações didáticas.

Considerando que, de acordo com a Lei de Diretrizes e Bases da Educação Nacional (LDB), Lei n.º 9.394/1996, a organização da educação nacional dar-se-á por diferentes níveis e modalidades, julgue os itens que se seguem.

- 56** A educação básica compreende a educação infantil, o ensino fundamental e o ensino médio.
- 57** A educação superior faz parte da formação do cidadão e, por isso, deve ser entendida como educação básica.
- 58** A carga horária mínima anual exigida para a educação básica é de 800 horas, distribuídas por, no mínimo, 180 dias letivos de trabalho escolar.
- 59** Conforme disposto na LDB, a formação do docente, para atuar na educação básica, incluirá prática de ensino de, no mínimo, 300 horas.
- 60** A educação de jovens e adultos (EJA) é uma modalidade educacional que visa atender àqueles que não tiveram acesso ou continuidade de estudos. A essa modalidade é assegurado o acesso no nível fundamental para os maiores de 15 anos, e no nível médio, para os maiores de 18 anos.

O primeiro Plano Nacional de Educação (PNE) surgiu em 1962, elaborado já na vigência da LDB de 1961. Era, basicamente, um conjunto de metas quantitativas e qualitativas a serem alcançadas em oito anos. Em 1965, sofreu revisão em que foram introduzidas normas descentralizadoras e estimuladoras da elaboração de planos estaduais. Hoje, encontra-se em vigor a Lei n.º 10.172/2001, que estabelece o PNE. De acordo com essa lei, julgue os seguintes itens.

- 61** Uma das metas do PNE em vigor é universalizar o atendimento do ensino fundamental, em cinco anos, garantindo o acesso e a permanência de todas as crianças na escola, estabelecendo programas específicos nas regiões em que isso se demonstrar necessário, com a colaboração da União, dos estados, dos municípios e do Distrito Federal (DF).
- 62** De acordo com o PNE atual, o ensino médio deverá preparar os jovens para o mercado de trabalho por meio da aquisição de competências relacionadas à inserção produtiva, preparando, assim, jovens e adultos para os desafios da modernidade.
- 63** As metas do atual PNE incluem a adoção de medidas para ampliar a oferta de vagas no ensino médio noturno, incentivando, assim, o adolescente a trabalhar e estudar.

O Estatuto da Criança e do Adolescente (ECA), Lei n.º 8.069/1990, dispõe sobre a proteção integral da criança e do adolescente, que devem gozar de todos os direitos fundamentais inerentes à pessoa humana. Com referência a essa lei, julgue os itens a seguir.

- 64** O ECA considera como criança a pessoa de zero a doze anos de idade incompletos, e adolescente aquela entre doze e dezoito anos de idade completos. Por essa razão, o ECA não pode ser aplicado às pessoas maiores de dezoito anos.
- 65** Compete aos dirigentes de estabelecimentos de ensino comunicar ao conselho tutelar os casos de maus-tratos envolvendo seus alunos, a reiteração de faltas injustificadas e de evasão escolar e os casos de elevados níveis de repetência.
- 66** É proibido qualquer trabalho a menores de quatorze anos de idade, salvo na condição de aprendiz. Considera-se aprendizagem a formação técnico-profissional ministrada segundo as diretrizes e bases da legislação de educação em vigor, ou seja, o aprendiz não pode ser caracterizado como empregado.
- 67** O conselho tutelar é órgão permanente e autônomo. Encarregado, pela sociedade, de zelar pelo cumprimento dos direitos da criança e do adolescente, tem como funções julgar e aplicar as penas cabíveis às crianças e(ou) adolescentes infratores.
- 68** Pena de detenção, de seis meses a dois anos, pode ser aplicada ao responsável por estabelecimento de ensino que privar a criança ou o adolescente de sua liberdade, sem que o indivíduo estivesse em flagrante de ato infracional ou inexistindo ordem escrita da autoridade judiciária competente.

A respeito da Constituição Federal de 1988, e com referência a educação, cultura e desporto, julgue os itens subseqüentes.

- 69** É facultativo aos docentes da rede pública de ensino o ingresso por concurso público de provas e títulos.
- 70** Aos profissionais da educação escolar pública, seja da rede federal, estadual ou municipal, é garantido pela Constituição um piso salarial profissional nacional.

CONHECIMENTOS ESPECÍFICOS

Fatores de consolidação e fragmentação combinam-se no processo de democratização pós-Guerra Fria, processo esse enquadrado na globalização, como força também impulsionadora e simultaneamente limitadora. O desejo de participação nos processos econômicos internacionais como fator de progresso e desenvolvimento das economias tem-se revelado como elemento motor de ambos os processos de democratização e globalização. A submissão, no entanto, de valores sociais e culturais a esses mesmos processos tem-se afirmado, por sua vez, difícil em virtude de uma certa homogeneização e absorção de identidades nacionais ou regionais, inaceitáveis para muitos grupos sociais. Movimentos antiglobalização têm aqui um papel relevante, chamando a atenção para os perigos de uma globalização sem regras. Centrando-se na dimensão da igualdade inerente ao conceito de democracia, apelam a uma globalização mais altruísta e solidária, em que os países disponham dos meios necessários à concretização de projetos de desenvolvimento dos países menos favorecidos, de modo a diminuir o fosso entre ricos e pobres.

F. A. Souza. *Democracia, face política da globalização?*
RBPI, ano 49, n.º 1, 2006 (com adaptações).

Tendo o texto acima como referência inicial e considerando a diversidade dos temas nele tratados, julgue os itens a seguir.

- 71** De acordo com as idéias do texto, a globalização é um processo em curso no mundo que eliminou as disparidades socioeconômicas até então existentes entre países e regiões.
- 72** A soberania dos países foi anulada pela participação, cada vez mais intensa, deles “nos processos econômicos internacionais como fator de progresso”.
- 73** O desenvolvimento do capitalismo no mundo por meio da difusão de tecnologias, valores e modalidades de consumo tem avançado sobre diferentes culturas sem encontrar resistência.
- 74** Um processo paralelo e ao mesmo tempo oposto à globalização é a regionalização, a qual tende a desaparecer com a formação dos blocos econômicos.
- 75** A globalização, ao promover a circulação de mercadorias e capitais, contribui para a diminuição das migrações internacionais.

76 Os processos de consolidação e de fragmentação mencionados no início do texto dizem respeito ao estabelecimento de novas fronteiras nacionais com a criação de novos países e o surgimento de novos organismos internacionais.

77 O período pós-Guerra Fria inaugurou uma nova geopolítica, marcada pela bipolaridade que dividiu o espaço mundial em duas esferas de poder controladas por grandes potências.

78 O chamado conflito Norte/Sul retrata uma situação de antagonismo em função de diferenças étnicas entre países dos hemisférios Norte e Sul.

Ao mesmo tempo em que variações específicas na expansão internacional do capital levam a diferenças cada vez maiores entre os países *subdesenvolvidos*, gerando uma situação de enorme heterogeneidade socioeconômico-espacial, uma “convergência gradual nos padrões de urbanização/industrialização dos grandes centros metropolitanos” também vem se dando no Terceiro Mundo, especialmente na América Latina, o que teria a ver com a integração das economias no mercado mundial e com o papel costurador do grande capital (ou seja, com o processo hoje comumente denominado de globalização).

M. J. L. Souza. *Urbanização e desenvolvimento no Brasil atual*. Ática, série Princípios, p. 27.

A partir das idéias apresentadas no texto acima, julgue os itens subseqüentes.

- 79** A concentração da população mundial vivendo em cidades é um evento marcante do século XX entre países subdesenvolvidos.
- 80** O espaço urbano facilita o acesso à cultura, à educação e à saúde.
- 81** A segregação socioespacial tem prevalecido nas grandes cidades brasileiras, muito embora seja verificada a diminuição da concentração de renda.
- 82** O aumento demográfico, que apresenta ritmo variável entre as cidades brasileiras, é resultado da urbanização e do crescimento vegetativo.

83 De acordo com o texto, a urbanização nos chamados países subdesenvolvidos é um indicador de desenvolvimento e de decréscimo das desigualdades econômicas.

84 O Brasil faz parte do processo de “integração das economias no mercado mundial” citado no texto, o que repercutiu no processo de urbanização e industrialização.

85 Em decorrência do desenvolvimento industrial brasileiro, observa-se uma redistribuição da população no território nacional, com a movimentação de grandes fluxos migratórios.

A migração internacional e a migração temporária interna são frutos do mesmo processo: a reprodução da grande propriedade no Brasil, envolvendo, agora, novos personagens. Os antigos latifundiários foram substituídos pelas grandes empresas capitalistas, nacionais e multinacionais, com interesses agropecuários, beneficiados pelos grandes incentivos do Estado, como assistência técnica gratuita e empréstimos bancários com juros subsidiados.”

A. Damiani. **Geografia e população**. Contexto, coleção Caminhos da Geografia, p. 42 (com adaptações).

Tendo o texto acima como referência inicial, julgue os itens que se seguem.

86 Um exemplo de migração temporária interna compreende o movimento de trabalhadores rurais conhecidos por bóias-frias, contratados para realizar determinadas tarefas temporárias como a colheita em grandes propriedades.

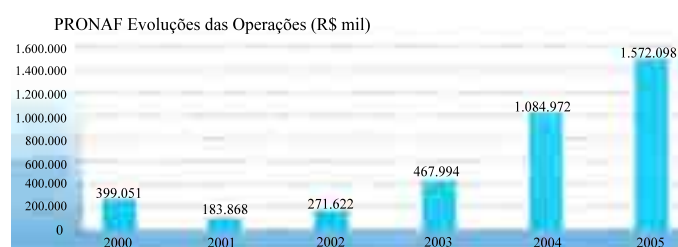
87 Segundo o texto, o número de latifúndios tem diminuído no país, com a criação de empresas agropecuárias modernas.

88 No cenário da produção agrícola do país, verifica-se a diminuição das culturas de produtos agrícolas para a exportação, voltada agora para atender a crescente demanda interna decorrente da urbanização.

89 A articulação verificada entre a indústria e a agricultura no Brasil está relacionada à execução de políticas que desconsideram a aplicação de tecnologia moderna na produção do campo.

90 A demarcação de terras indígenas e a criação de reservas extrativistas no Brasil são processos que envolvem a disputa pelo espaço e a luta contra a expropriação.

91 A crescente falta de integração e articulação no território brasileiro se deve à modernização agrícola, gerando grandes espaços e paisagens agrícolas.



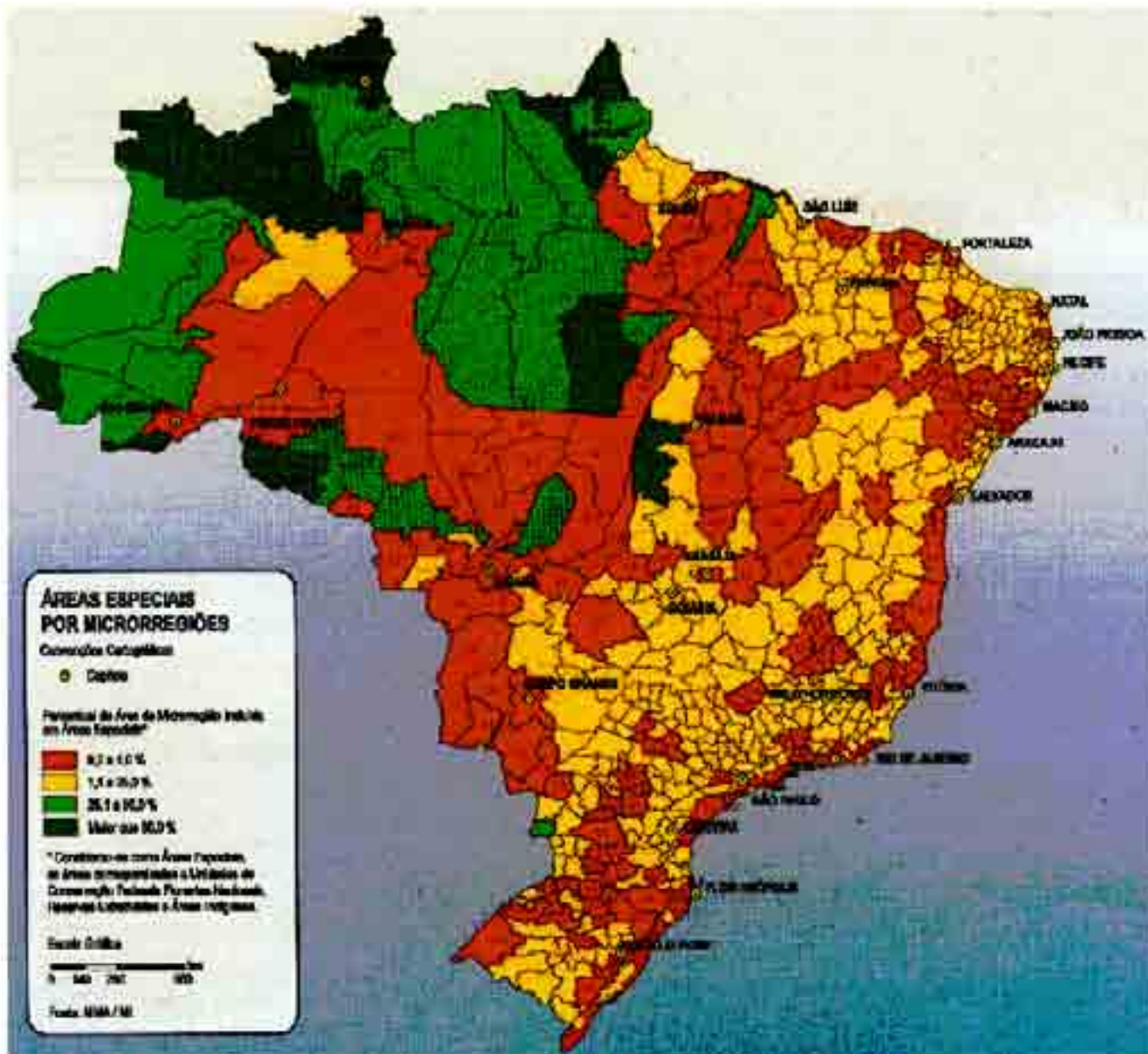
Ministério da Integração Nacional. **Construindo um Brasil de todas as regiões**. Brasília, DF, 2006, p. 64.

O Programa de Fortalecimento da Agricultura Familiar (PRONAF) tem como objetivo o apoio aos agricultores que exercem atividades com utilização da força de trabalho familiar. Com o auxílio da tabela acima, julgue os próximos itens, referentes a essa modalidade de agricultura.

92 A partir dos dados do gráfico, é possível inferir que o número de pequenas propriedades agrícolas está diminuindo, enquanto o volume da produção tem aumentado.

93 Na agricultura familiar o acesso ao crédito contribui para fixar o trabalhador rural no campo, ajudando a evitar também sua expropriação, o que justifica os incentivos concedidos conforme mostra o gráfico.

94 A agricultura familiar, por seu pequeno volume de produção, não contribui para o abastecimento da cidade, porém apresenta a vantagem de ajudar na subsistência dos seus trabalhadores.



A criação de espaços territoriais protegidos nos níveis federal, estadual e municipal é um dos instrumentos utilizados pelo poder público para a execução da Política Nacional de Meio Ambiente. Julgue os itens que se seguem.

- 95 A designação de áreas especiais de interesse ambiental visa a preservação de paisagens naturais para a proteção da biodiversidade e o uso sustentável dos recursos naturais.
- 96 As áreas mais urbanizadas do país exibem os menores percentuais de áreas de especial interesse ambiental.
- 97 A região Norte é a que apresenta as menores extensões físicas demarcadas como áreas de especial interesse ambiental.
- 98 O conceito de microrregião iguala-se ao conceito de paisagem em Geografia.

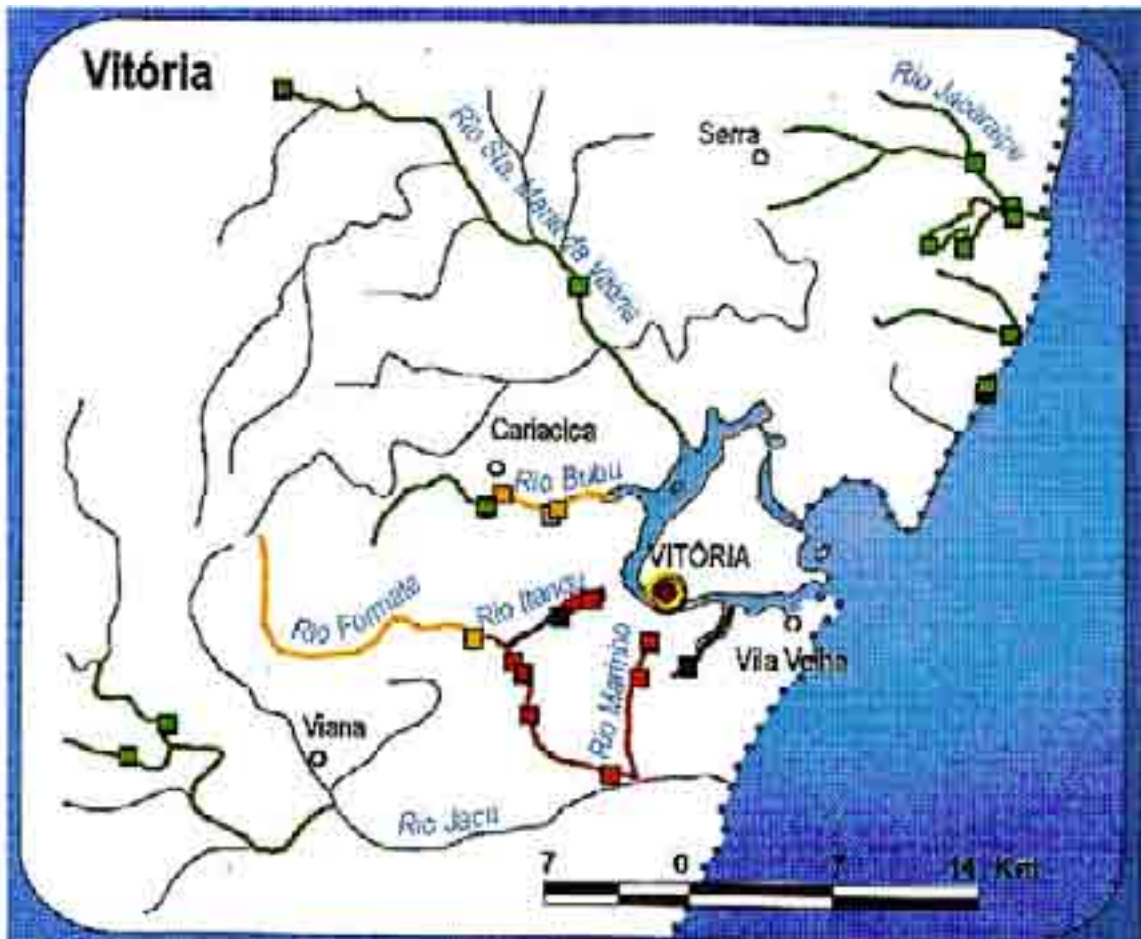
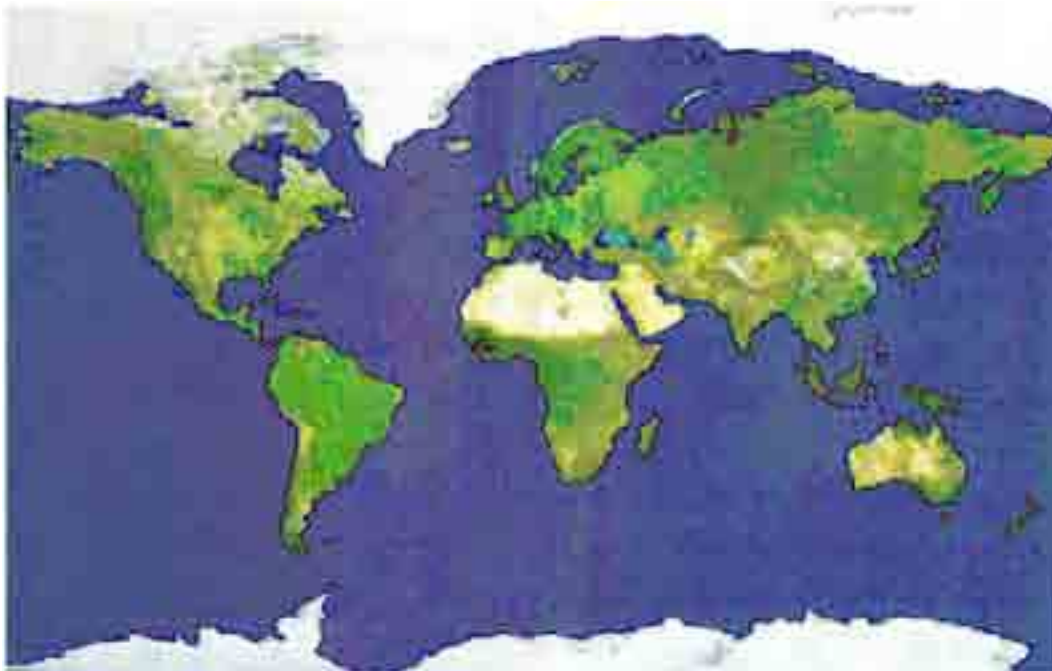


Figura 34 – Índice de Qualidade das Águas na Região Hidrográfica Atlântico Sudeste em 2002



A partir da análise do mapa acima, julgue os itens seguintes.

- 99 As áreas de maior densidade populacional são também aquelas que apresentam melhor índice de qualidade da água devido à existência de unidades de tratamento de esgoto.
- 100 Podem ser observadas no mapa áreas referentes a mais de uma bacia hidrográfica.
- 101 A utilização de fertilizantes e pesticidas na agricultura, bem como a prática de queimadas, são formas de degradação das águas correntes.
- 102 A escala apresentada no mapa indica que cada centímetro no mapa corresponde a 14 km no terreno.



The mini satellite Atlas of the world. AND. 1998 (dados obtidos do satélite NOAA).

Tendo em vista que, com auxílio do mapa acima, podem ser feitas considerações sobre aspectos geocológicos do globo, julgue os itens a seguir.

- 103** As tonalidades apresentadas no mapa se referem a diferentes biomas, cujas características são influenciadas pela altitude, como no caso das áreas mais claras.
- 104** Observa-se que a transição de um bioma para outro se faz de forma abrupta, bem marcada, ajustando-se às faixas de temperatura do globo.
- 105** Na região tropical, onde é grande a incidência solar, podem ser encontrados tanto climas úmidos como climas áridos.
- 106** As áreas caracterizadas pela presença da tundra correspondem a áreas localizadas nas altas latitudes, de menor incidência solar.
- 107** As áreas oceânicas, por apresentarem uma dinâmica própria, não influenciam as características climáticas de áreas continentais.
-
- Geografia tem passado por um intenso processo de discussão. Claro está que esse debate repercute no ensino dessa disciplina em seus níveis fundamental e médio. Sobre o ensino da Geografia tendo o espaço como seu objeto, julgue os itens.
- 108** Em relação ao espaço, objeto da Geografia, cabe compreender a apropriação que a sociedade faz da natureza, utilizando seus recursos.
- 109** A produção do espaço pelas sociedades implica sua contínua reorganização diante das novas realidades impostas, por exemplo, pelo desenvolvimento científico e tecnológico.
- 110** A localização e a representação dos dados socioeconômicos e naturais contribuem para o entendimento do espaço geográfico.
- 111** O espaço geográfico é concebido como espaço social em que se manifestam conflitos sociais e disputas pelos seus recursos.
- 112** Sendo a Geografia uma disciplina de caráter social, justifica-se a importância e a prevalência do estudo dos aspectos sociais sobre o conhecimento dos atributos naturais, físicos.
- 113** Com a internacionalização da economia, perdeu importância a compreensão de novas espacialidades, como exemplifica a União Européia.
- 114** Os impactos ambientais desde a escala local até a global, causados pelas atividades humanas, é tema a ser abordado no contexto do ensino da Geografia.
- 115** No ensino da Geografia, dever ser compreendido que no processo de construção do espaço há uma dinamicidade que o coloca em constante transformação.
-
- Com relação à metodologia e aos recursos utilizados no ensino da Geografia, bem como aos seus objetivos, julgue os próximos itens.
- 116** A instrumentação do aluno para uma leitura crítica do mundo, abarcando conflitos, lutas e contradições existentes, é um dos objetivos da Geografia como disciplina escolar.
- 117** Apesar de ser considerada uma ciência social, a Geografia deixa de contribuir para a formação do aluno como cidadão ao ter como meta o estudo dos lugares.
- 118** Representar no mapa o espaço cotidiano vivido pelos alunos auxilia na aquisição de conceitos de orientação e de escala.
- 119** Relações espaciais entre atributos, físicos e sociais, são percebidas por meio da análise de mapas.
- 120** Cada lugar geográfico se diferencia dos demais, logo importa levar o aluno a comparar locais de modo a constatar os processos, as potencialidades e as relações estabelecidos entre os lugares.



cespeUnB

Centro de Seleção e de Promoção de Eventos