

CONCURSO PÚBLICO
(Aplicação: 18/3/2001)

Cargo:
ESCRITURÁRIO

CADERNO DE PROVAS

LEIA COM ATENÇÃO AS INSTRUÇÕES NO VERSO.

INSTRUÇÕES

- 1 Este caderno consta de **cinquenta** questões objetivas, assim distribuídas: **sete** questões de **Língua Portuguesa**, **seis** questões de **Conhecimentos Gerais**, **seis** questões de **Conhecimentos de Informática**, **três** questões de **Língua Inglesa** e **vinte e oito** questões de **Conhecimentos Específicos**.
- 2 Caso este caderno esteja incompleto ou tenha qualquer defeito, o candidato deverá solicitar ao fiscal de sala mais próximo que o substitua.
- 3 Recomenda-se não marcar ao acaso: cada questão cuja resposta diverja do gabarito oficial definitivo acarretará a perda de 0,25 ponto, conforme consta no Edital n.º 1/2000 – BRB, de 14/12/2000.
- 4 Não é permitida a consulta a livros, dicionários, apontamentos, apostilas, régua, calculadoras ou qualquer outro material.
- 5 Durante as provas, o candidato não deve levantar-se nem comunicar-se com outros candidatos.
- 6 A duração das provas é de **quatro horas e trinta minutos**, já incluído o tempo destinado à identificação (que será feita no decorrer das provas e incluirá a coleta de impressão digital, conforme o Edital n.º 1/2000 – BRB, de 14/12/2000) e ao preenchimento da Folha de Respostas.
- 7 A desobediência a qualquer uma das recomendações constantes nas presentes Instruções, na Folha de Rascunho ou na Folha de Respostas poderá implicar a anulação das provas do candidato.

AGENDA

- I **19/3/2001** – divulgação do gabarito oficial preliminar das provas objetivas, na Internet — no endereço <http://www.cespe.unb.br> — e nos quadros de avisos do CESPE/UnB — em Brasília.
- II **20 a 22/3/2001** – recebimento de recursos das provas objetivas na Gerência de Atendimento – CESPE/UnB, em Brasília.
- III **3/4/2001** – data provável da divulgação (após a apreciação de eventuais recursos), no Diário Oficial do Distrito Federal e nos locais mencionados no item I, do resultado final do concurso.

Observações:

- Não serão objeto de conhecimento recursos em desacordo com o estabelecido no título **8 DOS RECURSOS** do Edital n.º 1/2000 – BRB, de 14/12/2000.
 - Em nenhuma hipótese o CESPE e o BRB informarão resultado por telefone.
 - É permitida a reprodução deste material, desde que citada a fonte.
-

Nas questões de 1 a 50, marque, em cada uma, a única opção correta, de acordo com o respectivo comando. A indicação do campo SR na Folha de Respostas não contará para efeito de avaliação; servirá somente para caracterizar que o candidato desconhece a resposta correta.

LÍNGUA PORTUGUESA

Texto LP-I – questões 1 e 2

1 O que tem de começar a mudar, já, é a idéia de vida no mundo e a idéia do que fazer com a nova tecnologia. Informação, a rigor, é o que muda um estado de coisas, um 4 comportamento; o resto é mensagem.

Quando aciono um interruptor e jorra luz em uma sala escura, posso encontrar o jornal e saber se o dólar subiu; a 7 informação está na notícia, mas, antes disso, está na luz. Mas acender a luz em uma sala clara ou em uma sala escura sem que eu tenha algo para procurar não é obter informação: é apenas 10 expor-me à mensagem. A Internet ainda é um amontoado de mensagens. Muita coisa tem de mudar nas idéias sobre a vida e o mundo e sobre a informação na vida e no mundo, para que 13 a informação de fato mude, para melhor, a vida e o mundo.

Teixeira Coelho. "Mais!". In: *Folha de S. Paulo*, 31/12/2000, p. 12 (com adaptações).

QUESTÃO 1

Assinale a opção que **não** está de acordo com as idéias do texto LP-I.

- A Para que haja informação realmente é preciso que exista alguma forma de transformação.
- B A mensagem pode ser anterior ao que se compreende como informação.
- C As mensagens apresentadas na Internet necessitam de uma ação para que possa ser gerada informação.
- D Atualmente, a tecnologia da informação está assimilada e já mudou a vida para melhor.
- E Ter acesso à mensagem, sem ter interesse ou necessidade, não é o suficiente para obter informação.

QUESTÃO 2

Em relação aos elementos que estruturam o texto LP-I, assinale a opção **incorreta**.

- A O uso da primeira pessoa reflete o interesse em tornar o texto mais subjetivo e coloquial.
- B As expressões “o resto” (l.4), “amontoado” (l.10) e “Muita coisa” (l.11) conferem informalidade ao texto.
- C As escolhas sintáticas e vocabulares do texto configuram um modelo do nível de linguagem próprio da correspondência oficial e dos textos acadêmicos.
- D O sinal de dois-pontos após a palavra “informação” (l.9) pode ser substituído por vírgula sem prejuízo da correção do texto.
- E No último período, as repetições constituem um jogo de palavras que se configura como recurso estilístico para enfatizar a idéia central do texto.

QUESTÃO 3

Parece que, com a nova tecnologia da informação, o mundo em 2025 será tão diferente de hoje quanto o mundo de 2000 é diverso daquele de 1900. Prever qual será a mudança é muito difícil. Quem viu Santos Dumont contornar a torre Eiffel em 1901, com seu improvável n.º 6, de modo algum poderia antecipar o aeroporto Kennedy, o Jumbo 747 e a travessia Paris–São Paulo em dez horas, para não mencionar a indignidade da classe econômica dos aviões de carreira. Se isso aconteceu com o avião, que é *duro* e grande, imagine o que pode acontecer com a informação, toda *mole*, leve e invisível.

Idem, ibidem (com adaptações).

Com relação às idéias expressas no texto acima, julgue os itens seguintes.

- I Provavelmente, a mesma proporção de mudança que aconteceu no mundo em 100 anos vá ocorrer em apenas 25.
- II Há menos dificuldade para prever a quantidade que a natureza da mudança que será provocada pela “nova tecnologia da informação”.
- III No futuro, há maior possibilidade de transformação da informação do que houve na aviação no século passado.
- IV Era previsível o avanço tecnológico dos aviões a partir da aventura de Santos Dumont, no começo do século XX.
- V A exemplo da divisão dos aviões em primeira classe e classe econômica, as conseqüências do avanço tecnológico nem sempre são positivas.

A quantidade de itens certos é igual a

- A 1. B 2. C 3. D 4. E 5.

QUESTÃO 4

Considere os seguintes trechos de texto.

- I A TV a cabo, por exemplo, só fez multiplicar incontáveis vezes o lixo e a mesmice da TV aberta, assim como a Internet que, até agora, não provou sua efetiva utilidade.
- II A mudança na tecnologia acaba acarretando mudanças nas idéias e no imaginário, algum tempo depois que surge. Às vezes, muito tempo depois.
- III Mas nem sempre para melhor.
- IV E uma rede que sirva apenas para vender flores ou *laptop* usado para 2% da humanidade não vai mudar coisa alguma.

Itens adaptados de Teixeira Coelho. “Mais!”. In: *Folha de S. Paulo*, 31/12/2000, p. 12.

Assinale a opção cuja ordem numérica estabelece uma seqüência textual coesa e coerente para os fragmentos acima.

- A I, II, IV e III C II, IV, III e I E IV, I, III e II
- B II, III, I e IV D III, II, I e IV

QUESTÃO 5

Ao longo de todo o século XX, predominaram idéias sobre o funcionamento da economia herdadas do século XIX. O pensamento dominante tratou os mecanismos de mercado como um sistema impessoal cuja operação apenas reforçaria a própria lógica. Empresas e trabalhadores, consumidores e investidores interagem como átomos. O resultado é o mercado, espaço no qual tudo acaba tendendo ao equilíbrio por meio do contraponto entre forças de oferta e procura. Os preços apenas refletem o processo, são um resultado e uma garantia de que a cada momento é possível calcular com exatidão os ganhos e as perdas de cada agente individual. Alguns economistas perceberam, já no início do século XX, que essa aproximação com a engenharia e esse ideal de uma física social eram infundados e ideológicos.

Gilson Schwarz. "Mais!". *Jr: Folha de S. Paulo*, 31/12/2000, p. 16 (com adaptações).

Assinale a opção cujo fragmento de texto nela apresentado poderia constituir uma seqüência coesa e coerente para o parágrafo acima.

- A Mas somente agora, com a disseminação explosiva das tecnologias de informação e comunicação, os economistas começam a abrir mão dessa herança. A primeira vítima é o próprio conceito de mercado.
- B Apesar disso, um dos problemas centrais na noção convencional do mercado era tomar a informação e o conhecimento como parâmetros, não como elementos que mudavam com o próprio funcionamento do sistema.
- C Sem essa interação, entretanto, a maioria dos modelos se tornou presa de uma visão linear da economia, na qual causa e efeito seguem padrões regulares e previsíveis, a despeito da instabilidade histórica das economias capitalistas.
- D Dados, informação e conhecimento, apesar dessa interação, tornam-se fatores produtivos. No lugar do mercado feito de átomos, surgem sistemas em evolução, com rupturas, crises e estratégias diferenciadas, econômicas e políticas.
- E Ele percebeu uma forma de descrever essa nova realidade econômica, fazendo referência a ativos abstratos, em oposição à abordagem tradicional que leva em conta variáveis quantitativas como trabalho, capital e terra.

QUESTÃO 6

1 A capacidade de produzir conhecimento e transformar tecnologia vem hoje em primeiro plano. Cultura organizacional, redes para compartilhar conhecimento e 4 qualidade das instituições, sistemas nacionais de inovação, propriedade intelectual e desenvolvimento de marcas formam o campo no qual se cria e se acumula riqueza. 7 O mercado torna-se um espaço informacional. É com a aceleração tecnológica e financeira dos últimos anos que as empresas e os governos começam a dar a devida 10 atenção a essas questões.

Nesse novo mercado, é preciso reformar quase tudo: 13 das normas contábeis aos modelos de política econômica, passando pelas estratégias de administração de empresas e pela legislação sobre os limites da propriedade privada e da regulação estatal. No futuro, ao mercado informacional vai 16 corresponder uma sociedade do conhecimento.

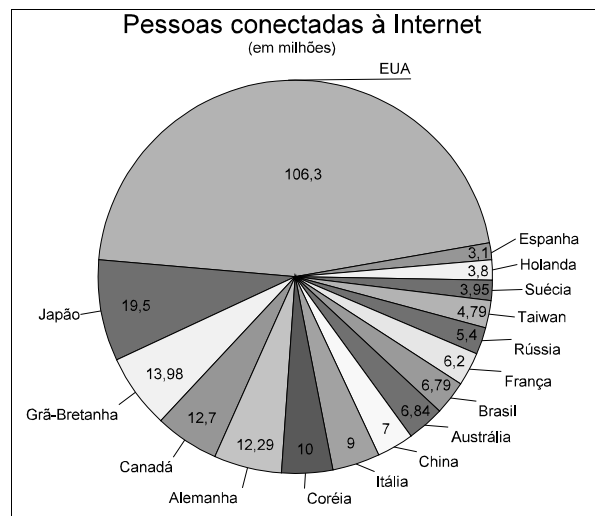
Idem, ibidem (com adaptações).

Em relação ao texto acima, assinale a opção **incorreta**.

- A As vírgulas das linhas 3 e 4 justificam-se porque separam expressões que compõem o sujeito da oração, constituído por uma enumeração.
- B Nas linhas 6 e 7, nas três ocorrências existentes, o termo “se” tem a mesma função sintática.
- C A substituição do trecho “as empresas e os governos” (l.9) por **todos** implicaria alteração do sentido textual.
- D A expressão “essas questões” (l.10) resume e retoma as idéias dos períodos anteriores, referentes ao que seja “espaço informacional” (l.7).
- E A expressão “quase tudo” (l.11) tem seu sentido explicitado após o sinal de dois-pontos.

QUESTÃO 7

O gráfico abaixo representa a quantidade de pessoas conectadas à Internet, em dezembro de 1999, em 16 países.



Fonte: NUA Internet Surveys (dados de dez./99). Internet: <<http://www.mct.gov.br/temas/info/default.htm>> (com adaptações).

Assinale a opção que, além de gramaticalmente correta, apresenta de forma coerente informações mostradas no gráfico.

- A O número de usuários da Internet nos EUA supera a soma dos usuários dos demais países listados.
- B Na Rússia, a quantidade de pessoas conectadas à Internet é maior que Taiwan.
- C Em face dos números apresentados, a China está aproximadamente, para a Grã-Bretanha, bem como a Coréia, está aproximadamente, para o Japão.
- D No universo considerado, dezesseis países, apenas apresenta-se quatro países com número superior a décima-parte das pessoas conectadas à Internet nos EUA.
- E Comparativamente, o número de pessoas conectadas à Internet no Brasil supera em mais de cem por cento o número de pessoas conectadas à Internet na Espanha.

CONHECIMENTOS GERAIS

QUESTÃO 8



"Internacional". In: *Jornal do Brasil*, 12/2/2001, p. 8.

A charge acima reproduzida faz óbvia referência ao atual contencioso entre Brasil e Canadá. A partir do que ela informa — ou sugere — julgue os itens abaixo, relativos aos problemas comerciais que, nos dias de hoje, envolvem os dois países.

- I Os problemas começaram a ganhar vulto a partir da acirrada disputa por mercados internacionais entre duas empresas fabricantes de aviões: a canadense Bombardier e a brasileira EMBRAER.
- II Por ser uma empresa estatal, a EMBRAER teria sido fortemente auxiliada pelo governo brasileiro, que lhe concedeu vantagens a que uma empresa privada normalmente não tem acesso; daí, a reação do Canadá.
- III No clima de confronto que se seguiu à decisão canadense de proibir a importação de carne bovina brasileira, o presidente Fernando Henrique Cardoso admitiu a hipótese de não participar da reunião de cúpula da Área de Livre Comércio das Américas (ALCA), marcada para abril, em Quebec.
- IV A suspensão das importações de carne brasileira pelo Canadá, tendo como pretexto o temor de contaminação pelo *mal da vaca louca*, levou o governo brasileiro a chamar seu embaixador no Canadá a Brasília, primeiro passo para o rompimento das relações diplomáticas com o governo de Ottawa.
- V A presença de capitais e empresas canadenses no Brasil é bastante reduzida, não atuando em setores tecnologicamente avançados, como o das telecomunicações, o que permite imaginar que os efeitos da atual crise serão mínimos para a economia de ambos os países.

Estão certos apenas os itens

- A** I e II. **C** II e IV. **E** IV e V.
B I e III. **D** III e V.

QUESTÃO 9

Quem não tem, põe, quem tem, tira tudo. Essa inversão do ditado pode bem descrever a atuação da Organização Mundial do Comércio (OMC), instituição criada para defender a ordem de direito nas transações comerciais entre países e que está falhando nessa missão. É o que alerta o advogado Durval de Noronha Goyos Júnior, árbitro indicado pelo Brasil na OMC e especialista em direito internacional. Representante do Brasil na última fase da Rodada Uruguai, série de reuniões diplomáticas que, em 1995, transformaram o Acordo Geral de Tarifas e Comércio (GATT) na OMC, Noronha adverte: “Se analisarmos o retrospecto da instituição, vemos que, na maior parte das decisões, em mais de 90% das disputas que envolveram países desenvolvidos contra os em desenvolvimento, a vitória foi para aqueles”.

“Economia”. In: *Jornal do Brasil*, 11/2/2001, p. 1 (com adaptações).

Com o auxílio do texto acima, julgue os seguintes itens, relativos à OMC e ao comércio internacional contemporâneo.

- I A OMC é um órgão antigo, surgido ao mesmo tempo que o Banco Internacional de Reconstrução e Desenvolvimento (BIRD) e o Fundo Monetário Internacional (FMI).
- II De acordo com o árbitro indicado pelo Brasil, a OMC está falhando em sua missão porque, nas ocasiões em que é chamada a intervir para a resolução de disputas, em menos de 10% dos casos a vitória é obtida por países em desenvolvimento.
- III Tal como o texto deixa transparecer, a Rodada Uruguai correspondeu a uma série de encontros diplomáticos ao cabo dos quais foi sacramentada a criação do GATT.
- IV A frase “Quem não tem, põe, quem tem, tira tudo” exprime a hegemonia das economias mais avançadas no funcionamento do sistema comercial contemporâneo, domínio esse legitimado pela maioria das decisões da OMC, como afirma o texto.
- V Nos recentes episódios de disputas comerciais entre o Brasil e o Canadá, envolvendo denúncias de subsídios ilegais a empresas fabricantes de aviões, a OMC sempre se pronunciou favoravelmente às posições brasileiras.

Estão certos apenas os itens

- A** I e II. **C** II e IV. **E** IV e V.
B I e III. **D** III e V.

QUESTÃO 10

O processo de eleição das Mesas do Senado Federal e da Câmara dos Deputados adquiriu, neste início de ano, feições de acirrada disputa, como normalmente não se via. Assim, sobretudo a escolha dos novos presidentes das duas Casas do Congresso Nacional ganhou enorme projeção, transformando-se em grande fato político nacional. A esse respeito, julgue os itens que se seguem.

- I No quadro sucessório do Senado, Antonio Carlos Magalhães (PFL-BA), que presidiu a Casa por quatro anos, insurgiu-se contra a candidatura do líder e presidente nacional do PMDB, Jader Barbalho, tendo ambos protagonizado cenas de pesadas acusações recíprocas.
- II Um dos aspectos mais comentados do recente processo sucessório das Mesas Diretores da Câmara e do Senado é o fato de ter explicitado um quadro de confronto entre os maiores partidos políticos que dão sustentação ao governo federal.
- III A importância da Mesa Diretora — especialmente de sua presidência — em ambas as Casas do Congresso Nacional pode ser medida, entre outros aspectos, pelo controle de um orçamento semelhante ao de cidades de médio porte, pela possibilidade de influir decisivamente na organização da pauta do que será debatido e votado e pela projeção política conferida pelo cargo.
- IV Ser eleito presidente da Câmara dos Deputados significa, também, entrar na linha sucessória do Poder Executivo: na vacância da presidência da República, ele é o terceiro na ordem para ocupar o cargo, depois do presidente e do vice-presidente do país.
- V O senador eleito para presidir seus pares passa a ser, também, o presidente do Congresso Nacional (Câmara e Senado atuando em conjunto), mas, para respeitar a independência do Poder Legislativo, de quem é o representante máximo, não integra a linha sucessória do Poder Executivo.

A quantidade de itens certos é igual a

- A** 1. **B** 2. **C** 3. **D** 4. **E** 5.

QUESTÃO 11

Em uma economia cada vez mais globalizada, os blocos econômicos desempenham importante papel para o estabelecimento de relações privilegiadas entre os países que os compõem. A partir da pioneira Comunidade Econômica Européia (1957) aos dias de hoje, o processo se expandiu e muitos são os blocos regionais que se formaram. Na América, onde já existem, entre outros, o NAFTA e o MERCOSUL, continuam as tratativas com o objetivo de implantar um bloco hemisférico, a ALCA. A respeito desse tema, assinale a opção correta.

- A** De acordo com seus idealizadores, a ALCA, lançada em 1994, deve ser implantada ao longo da primeira década do século XXI, englobando, sem exceção, todos os países americanos.
- B** Por motivos estratégicos, o Brasil e o MERCOSUL têm especial interesse na antecipação da data prevista para a implantação da ALCA, pois crêem que o rico mercado norte-americano será muito mais facilmente conquistado.
- C** De uma forma geral, os países latino-americanos estão preparados para a abertura total do mercado continental preconizado pela ALCA, graças às políticas econômicas liberais que lhes foram aplicadas nos últimos anos.
- D** Por paradoxal que seja, a ação do governo e das organizações empresariais dos Estados Unidos da América (EUA) é que tem posto obstáculo à efetiva implantação da ALCA, temerosos da invasão dos produtos latino-americanos em seu país.
- E** Para os críticos da ALCA, o vigor da economia da América do Norte é tão evidente que, eliminadas as barreiras alfandegárias no continente, os mercados das Américas Central e do Sul sucumbirão ante a impossibilidade de concorrência com o Norte.

QUESTÃO 12

Na estrutura governamental vigente no Brasil, segundo os preceitos constitucionais, o Poder Executivo é exercido pelo presidente da República, auxiliado pelos ministros de Estado. A propósito dos mecanismos de escolha dos ocupantes desses cargos, assinale a opção **incorreta**.

- A** Em face da vigência do sistema parlamentar de governo, os ministros de Estado, escolhidos pelo presidente da República, têm seus nomes aprovados pelo Congresso Nacional e, quando necessário, dependem do voto de confiança dos parlamentares para permanecerem em seus cargos.
- B** Ao se votar em um candidato à presidência da República, automaticamente estar-se-á votando no candidato a vice com ele registrado.
- C** Uma emenda constitucional de 1997 tornou possível a reeleição, para um único período subsequente, do presidente da República, bem como dos governadores de estados e do Distrito Federal e dos prefeitos.
- D** Para ser eleito em primeiro turno, o candidato a presidente da República, registrado por partido político, terá de obter a maioria absoluta de votos, não sendo computados os em branco e os nulos.
- E** Na eleição presidencial, havendo segundo turno, concorrerão os dois candidatos mais votados, sendo vitorioso aquele que obtiver a maioria dos votos válidos.

QUESTÃO 13

Também conhecido por Banco Mundial, o BIRD foi criado em 1944, juntamente com o FMI, pelos acordos de Bretton Woods. O BIRD utiliza técnicas de um banco comercial, pois fornece recursos financeiros aos países-membros, cobrando juros e auferindo lucros que permitem a sua sustentação. Além disso, capta recursos no mercado de capitais e nas disponibilidades oferecidas pelos países-membros. O FMI presta ajuda monetária e, mais recentemente, desempenha o papel de conselheiro sobre políticas públicas.

Ricardo Seitenfus. **Manual das organizações internacionais**. Porto Alegre: Livraria do Advogado, 1977, p. 146-7 (com adaptações).

Com o auxílio do texto acima, assinale a opção correta relativamente aos organismos de crédito multilaterais nele referidos.

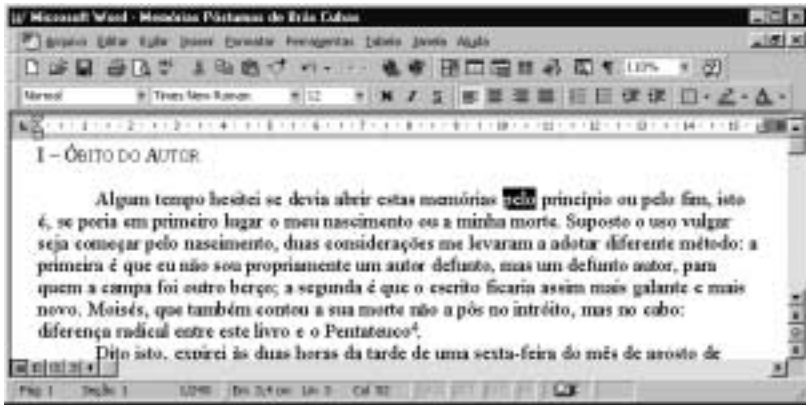
- A** Surgidos no mesmo contexto histórico, final da Segunda Guerra Mundial, BIRD e FMI desempenham idêntico papel: fomentar o desenvolvimento das áreas periféricas.
- B** A especificidade de sua atuação, voltada para a reconstrução e o desenvolvimento, impede que o Banco Mundial se confunda com o sistema financeiro tradicional.
- C** Por disposição estatutária, como se pode inferir do texto, o Banco Mundial está proibido de captar recursos junto aos países que o integram; essa captação é feita nos mercados mundiais.
- D** Na atualidade, críticas — inclusive internas — estão sendo formuladas a respeito do “papel de conselheiro sobre políticas públicas” desempenhado pelo FMI.
- E** Os empréstimos feitos pelo Banco Mundial aos países que deles necessitam obedecem a normas singulares, que excluem qualquer tipo de remuneração do capital emprestado.

CONHECIMENTOS DE INFORMÁTICA

Nas questões de 14 a 19, considere que todos os programas mencionados estão em configuração-padrão, em português, e que o *mouse* está configurado para pessoas destras. Assim, a menos que seja explicitamente informado o contrário, expressões como clicar, clique simples e clique duplo referem-se a cliques com o botão esquerdo do *mouse*. Considere também que não há restrições de proteção em relação aos programas, arquivos e diretórios utilizados.



Figura CI-I – questões 14 e 15

A figura a seguir mostra uma tela de trabalho do Word 97, em computador que opera com o Windows 95, em que foi digitado um trecho de um texto de Machado de Assis.



QUESTÃO 14

Com relação ao Word 97 e à tela de trabalho mostrada na figura CI-I, julgue os itens abaixo.









- I A palavra “considerações” pode ser corretamente digitada no Word 97 por meio do seguinte procedimento: com a função Caps Lock desativada, pressionar sucessivamente as teclas **C**, **O**, **N**, **S**, **I**, **D**, **E**, **R**, **A**, **C**, **Backspace**, **,**, **O**, **Backspace**, **~**, **E** e **S**.
- II Um clique no botão  fará que seja aberta a pasta Impressoras, que contém aplicativos que permitem instalar uma nova impressora que tenha sido conectada ao computador, bem como definir a impressora a ser usada pelo Word 97 para imprimir o documento atual.
- III Caso o usuário queira selecionar a palavra “contou”, na sexta linha do primeiro parágrafo mostrado na tela da figura CI-I, ele poderá adotar a seguinte seqüência de ações: clicar imediatamente à esquerda da letra “c” da referida palavra; pressionar a tecla **Shift** e, mantendo-a pressionada, acionar a tecla **→** seis vezes; liberar a tecla **Shift**.
- IV Para digitar o trecho “Pentateuco⁴”, ao final do primeiro parágrafo, com o número 4 em sobrescrito, é efetivo o seguinte procedimento: digitar “Pentateuco4”; selecionar apenas o número 4; pressionar a tecla **↑**.
- V Caso o usuário deseje copiar a palavra “Algun”, localizada na primeira linha do primeiro parágrafo da figura CI-I, para a posição imediatamente à direita do ponto final do primeiro parágrafo, ele poderá fazê-lo com sucesso executando a seguinte seqüência de ações: clicar imediatamente à esquerda da palavra “Algun”; pressionar a tecla **Shift** e, mantendo-a pressionada, clicar imediatamente à direita dessa mesma palavra, liberando, em seguida, a tecla **Shift**; clicar em ; clicar na posição imediatamente à direita do ponto final do primeiro parágrafo; pressionar a tecla **Ctrl** e, mantendo-a pressionada, acionar a tecla **V**, liberando, em seguida, a tecla **Ctrl**.

Estão certos apenas os itens

- A** I e II. **B** I e IV. **C** II e III. **D** III e V. **E** IV e V.

QUESTÃO 15

Ainda com relação ao Word 97 e à figura CI-I, julgue os itens que se seguem.

- I Para sublinhar a palavra “tempo”, na primeira linha do primeiro parágrafo, é suficiente, após selecionar essa palavra, clicar em . Um clique subsequente nesse botão fará que o sublinhado com linha simples seja modificado para um sublinhado com linha dupla.
- II Uma grande diferença dos editores de texto, como o Word 97, em relação às máquinas de escrever mecânicas é que para os primeiros não é necessário que o digitador se preocupe com o alinhamento do texto junto à margem direita, pois esse alinhamento pode ser automaticamente realizado pelo *software*. No Word 97, para que um parágrafo seja automaticamente alinhado tanto à esquerda quanto à direita, dando ao texto um aspecto mais organizado que o de um texto sem alinhamento à direita, como o mostrado na figura CI-I, é correto o seguinte procedimento: com o ponto de inserção no parágrafo a ser alinhado, clicar em  e, em seguida, clicar em .
- III Caso o usuário deseje ir rapidamente para a página 20 do texto, ele poderá usar o botão , pois um clique nesse botão fará aparecer a caixa de diálogo Ir para, que permite ao usuário digitar o número da página para onde deseja ir.
- IV Os botões , ,  e , próximos ao canto inferior esquerdo da tela mostrada na figura CI-I, permitem alternar entre diversos modos de exibição, entre os quais o modo normal e o modo de estrutura de tópicos.
- V Caso o usuário queira inserir com sucesso uma quebra de página logo após o primeiro parágrafo mostrado na figura CI-I, ele poderá utilizar, em uma seqüência de ações, após posicionar o ponto de inserção no local apropriado, a opção Quebra..., que é uma das opções constantes na lista obtida quando se clica no menu **Inserir**.




A quantidade de itens certos é igual a

- A** 1. **B** 2. **C** 3. **D** 4. **E** 5.

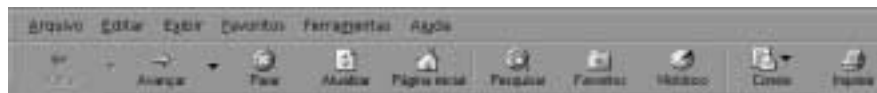
QUESTÃO 16

Um empregado de um banco elaborou, a pedido de seu chefe, um levantamento dos depósitos feitos em cadernetas de poupança, nos três primeiros meses de um determinado ano, por três pequenos poupadores, e colocou os dados obtidos em uma planilha do Excel 97, mostrada na figura ao lado. Com relação à figura e ao Excel 97, assinale a opção correta.






	A	B	C	D	E	F	G	H	I
1		Jan	Fev	Mar					
2	Cliente A	100	200	150					
3	Cliente B	130	150	120					
4	Cliente C	90	110	120					
5									
6									

- A) Caso o empregado pretenda calcular o total depositado por esses três poupadores no mês de janeiro, colocando a soma na célula B5, ele poderá obter o resultado desejado, utilizando os seguintes passos: clicar na célula B5 e digitar soma(B2,B4).
- B) Para apagar os conteúdos das células B2 e B3, o empregado poderá adotar o seguinte procedimento: selecionar tais células; pressionar a tecla **Ctrl** e, mantendo-a pressionada, pressionar a tecla **A**.
- C) Caso o empregado clique sobre a célula B3 e aplique dois cliques simples, separados por um intervalo mínimo de dois segundos, no botão , próximo ao canto inferior direito da tela, a referida célula será selecionada.
- D) Caso o empregado deseje multiplicar todos os valores numéricos mostrados na planilha por 1.000, ele poderá fazê-lo por meio da seguinte seqüência de ações: selecionar todas as células com valores numéricos; clicar em .
- E) O ato de clicar na célula D4 e, em seguida, em  fará que apareça em tal célula o seguinte conteúdo: 12000%.

QUESTÃO 17



A figura acima ilustra parte da tela que agrupa alguns dos recursos do Internet Explorer 5. Acerca dos recursos do Internet Explorer 5 e da figura mostrada, julgue os itens a seguir.

- I Uma página WWW (*world wide web*) pode possuir diversos *hyperlinks*, por meio dos quais o usuário pode acessar os diversos recursos e informações disponíveis na página. Caso o usuário queira acessar os *hyperlinks* na ordem decrescente de prioridade ou de importância preestabelecida pelo servidor, ele poderá utilizar o botão .
- II Caso, em um processo de *download* de arquivos pela Internet, o usuário queira interromper a recepção das informações e, posteriormente, retomar o processo do ponto em que foi interrompido, ele poderá utilizar o botão : um clique com o botão direito do *mouse* nesse botão interrompe o processo de *download* em execução, enquanto um clique duplo com o botão esquerdo do *mouse* faz aparecer uma caixa de diálogo que permite recomeçar o processo de *download* do início ou do ponto em que estava o processo antes da interrupção.
- III A partir do Internet Explorer 5, o usuário pode definir uma página inicial que será sempre acessada cada vez que o *software* for iniciado. Desde que tecnicamente possível, a página inicial predefinida pode também ser acessada a qualquer momento que o usuário desejar, bastando, para isso, clicar em .
- IV Apesar da quantidade enorme de informação e de *sites* que podem ser acessados na Internet, é comum que o usuário tenha um conjunto restrito de *sites* de interesse, que ele acessa costumeiramente. Para facilitar o acesso a esses *sites* preferenciais, o Internet Explorer 5 permite que o usuário os defina como favoritos e catalogue os seus endereços WWW para acesso posterior, recurso esse que pode ser obtido por meio da utilização do botão .
- V Caso o usuário queira acessar o seu *e-mail* ao mesmo tempo que esteja acessando o Internet Explorer 5, ele poderá fazê-lo por meio do botão , que, com apenas um clique simples, executa automaticamente o Outlook Express, *software* de correio eletrônico do Internet Explorer 5.

Estão certos apenas os itens

- A) I e II.
- B) I e V.
- C) II e III.
- D) III e IV.
- E) IV e V.

QUESTÃO 18

Acerca dos procedimentos e das técnicas para transmissão e recepção de informação, no formato de arquivos, por meio da Internet, assinale a opção correta.

- A) Ao realizar-se *download*, por meio da Internet, de arquivos que ocupam grande quantidade de memória, é possível que esses arquivos sejam compactados antes da sua transmissão, utilizando-se para isso *software* específico e devendo o usuário ter disponível em seu computador *software* adequado para a descompactação dos arquivos recebidos.
- B) Uma das formas de se transmitir arquivos entre computadores conectados à Internet é por meio do FTP (*file transfer protocol*). Um dos maiores inconvenientes desse recurso é a necessidade de o usuário fornecer uma senha para entrar no banco de dados do *site* que disponha dos arquivos para *download*, eliminando o seu anonimato na busca de informações, que é uma das características mais importantes da Internet.
- C) No âmbito da Internet, a seguinte instrução ftp::http://www.departamento.empresa.net poderia corresponder a um URL de um servidor FTP, que tem como característica principal a capacidade de transmitir arquivos no formato HTML (*hypertext markup language*).
- D) Quando o usuário faz um *download* de arquivos a partir de um *site* e por meio de um *hyperlink*, a velocidade na qual os arquivos são transmitidos e recebidos depende unicamente da velocidade do *modem* do usuário, em quaisquer circunstâncias.
- E) Supondo que um usuário acesse um *site* que possibilite o recurso de envio de arquivos de informação de forma anexada a uma mensagem de correio eletrônico (*e-mail*), será necessário que esses arquivos estejam em formato Word, pois somente arquivos Word podem ser anexados em *e-mail* enviado pela Internet.

CONHECIMENTOS ESPECÍFICOS

QUESTÃO 23

José Ricardo, presidente da associação dos empregados do banco privado em que trabalha, por desconfiar que a administração dessa instituição vinha praticando irregularidades de natureza financeira, decidiu procurar o órgão governamental responsável pela fiscalização das instituições financeiras no Brasil para solicitar providências.

Em face dessa situação hipotética e consoante a legislação vigente no país, José Ricardo deverá solicitar providências junto

- A ao Tribunal de Contas da União (TCU).
- B à Comissão de Valores Mobiliários (CVM).
- C ao Conselho Monetário Nacional (CMN).
- D ao Banco Central do Brasil (BACEN).
- E ao Ministério da Fazenda.

QUESTÃO 24

Considere que uma instituição financeira possua as características seguintes:

- é definida legalmente como sociedade anônima;
- tem por objetivo principal proporcionar o suprimento oportuno e adequado de recursos necessários ao financiamento, a médio e longo prazos, de programas e projetos que visem a promover o desenvolvimento econômico e social do estado onde tem sede.

Tais características especificam um(a)

- A sociedade de crédito, financiamento e investimento.
- B sociedade distribuidora de títulos e valores mobiliários.
- C banco de investimento.
- D sociedade de arrendamento mercantil.
- E banco de desenvolvimento.

QUESTÃO 25

O BACEN estabelece as normas operacionais de todas as instituições financeiras, definindo suas características e possibilidades de atuação. Com base nas normas vigentes, assinale a opção **incorreta**.

- A O objetivo principal dos bancos comerciais é proporcionar o suprimento oportuno e adequado de recursos necessários para financiar, a curto e médio prazos, o comércio, a indústria, as empresas prestadoras de serviços e as pessoas físicas.
- B As cooperativas de crédito atuam basicamente no setor primário da economia, com o objetivo de permitir uma melhor comercialização de produtos rurais e de criar facilidades para o escoamento das safras agrícolas para os centros consumidores, destacando que os usuários finais dos créditos que concedem são sempre os cooperados.
- C As sociedades distribuidoras de títulos e valores mobiliários têm uma faixa operacional menos ampla que as sociedades corretoras de títulos e valores mobiliários.
- D As companhias hipotecárias podem captar depósitos a prazo com correção monetária, por meio de letras imobiliárias (LI), e estabelecer convênios com bancos comerciais para funcionarem como agentes do Sistema Financeiro da Habitação (SFH).
- E As sociedades de arrendamento mercantil nasceram do reconhecimento de que o lucro de uma atividade produtiva pode advir da simples utilização do equipamento e não de sua propriedade.

QUESTÃO 26

Acerca do mercado de ações, parte importante do Sistema Financeiro Nacional, assinale a opção correta.

- A As bolsas de valores são instituições financeiras com fins lucrativos, criadas para fornecer a infra-estrutura do mercado de ações.
- B O mercado primário é aquele que corresponde à negociação das ações nas bolsas de valores.
- C Bonificação é a distribuição gratuita de novas ações aos acionistas pela diluição do capital em uma quantidade maior de ações com o objetivo de dar liquidez aos títulos no mercado.
- D No mercado a termo, o investidor compromete-se a comprar ou a vender uma quantidade certa de uma ação-objeto, por um preço fixado e dentro de um prazo predeterminado. As operações contratadas poderão ser liquidadas no vencimento ou em data antecipada solicitada pelo comprador, pelo vendedor ou por acordo mútuo das partes.
- E O mercado a termo de ações representa um aperfeiçoamento do mercado futuro, permitindo a ambos os participantes de uma transação reverter sua posição, antes da data do vencimento.

QUESTÃO 27

Com a globalização econômica, as operações de câmbio crescem de importância para as instituições financeiras. A respeito dessas operações, assinale a opção **incorreta**.

- A As operações no *mercado pronto* são geralmente expressas em termos da quantidade de moeda estrangeira necessária para se adquirir uma unidade de moeda nacional. É o chamado método direto ou sistema do incerto.
- B Arbitragem é a escolha ou o julgamento do meio mais vantajoso para efetuar-se uma operação de câmbio. Resulta, geralmente, da comparação de uma operação de câmbio direto com outra de câmbio indireto.
- C Taxa de repasse é aquela pela qual o BACEN adquire a moeda estrangeira dos bancos comerciais.
- D Para se determinar as taxas *outright*, quando os prêmios ou descontos são dados sob a forma de pontos, estes devem ser adicionados à taxa *pronta*, se a taxa futura estiver a prêmio. Se a taxa futura estiver a desconto, os pontos devem ser subtraídos da taxa *pronta*.
- E Semelhantemente a uma mercadoria exposta à venda, as divisas estrangeiras estão sujeitas à lei da oferta e da procura, motivo pelo qual a taxa cambial, ou seja, o preço dessas divisas, poderá ser explicada mediante utilização dos mesmos artifícios gráficos comumente utilizados para explicar-se a formação dos preços em geral.

QUESTÃO 28

O adiantamento sobre os contratos de câmbio (ACC) é modalidade contratual de largo uso no mercado de câmbio. Acerca das características desse contrato, assinale a opção correta.

- A Os ACCs consistem, sempre, na antecipação total dos reais, equivalentes à quantia em moeda estrangeira comprada a termo de exportadores pelo banco.
- B A primeira fase dos ACCs ocorre quando a mercadoria já está pronta e embarcada, aproveitando o máximo possível a variação cambial.
- C O valor adiantado poderá ser averbado no próprio contrato de câmbio, ou por meio de instrumento em separado que se integrará ao contrato.
- D O objetivo dos ACCs é proporcionar recursos antecipados ao importador, de modo a incrementar o comércio internacional.
- E O ACC pode ser utilizado como um instrumento de ganho financeiro pelo importador.

QUESTÃO 29

Uma operação de *leasing* pode ser conceituada como uma operação efetuada mediante contrato, na qual o arrendador concede a outrem — arrendatário — a utilização de bem do qual é proprietário, por prazo determinado. Nesse tipo de operação, as vantagens para a empresa arrendatária incluem

- I a possibilidade de atualização dos equipamentos durante a vigência do contrato.
- II uma aceleração da depreciação, gerando maior eficiência fiscal.
- III a simplificação da sua contabilidade.
- IV uma melhoria de seus índices financeiros.
- V aumento dos pagamentos de imposto de renda.

Estão certos apenas os itens

- A** II e V.
- B** I, III e IV.
- C** I, IV e V.
- D** II, III e V.
- E** I, II, III e IV.

QUESTÃO 30

Nas operações de fomento mercantil (*factoring*),

- I não há captação de recursos.
- II os financiamentos são efetuados mediante o desconto de títulos.
- III ocorrem transações de natureza mercantil.
- IV o devedor é a empresa sacada.

A quantidade de itens certos é igual a

- A** 0.
- B** 1.
- C** 2.
- D** 3.
- E** 4.

QUESTÃO 31

Uma empresa descontou um título de R\$ 70.000,00 junto a um banco, em data 46 dias anterior à de seu vencimento. Na operação, foi cobrada taxa de desconto de 2,7% ao mês. O IOF incidente na operação foi de 0,0041%. O banco cobrou, ainda, taxa de abertura de crédito de 6% sobre o valor nominal do título, no ato da liberação dos recursos.

Com base na situação hipotética apresentada e consoante a normatização vigente no país, assinale a opção correta.

- A** A cobrança de taxa de abertura de crédito nessa operação contrariou normas do BACEN.
- B** Não poderia ter incidido IOF nesse tipo de operação.
- C** O valor líquido liberado foi inferior a R\$ 67.000,00.
- D** O custo efetivo da operação foi superior a 3,5% ao mês.
- E** O valor do desconto, na operação, foi superior a R\$ 3.000,00.

RASCUNHO**QUESTÃO 32**

Existem, no Sistema Financeiro Nacional, dois sistemas que geram taxas de juros amplamente aplicadas pelos agentes do mercado: o Sistema Especial de Liquidação e Custódia (SELIC) e a Central de Liquidação Financeira e de Custódia de Títulos (CETIP). Acerca dessas taxas, denominadas taxa SELIC e taxa CETIP, assinale a opção correta.

- A** Os títulos negociados na CETIP são de grande liquidez e teoricamente de riscos mínimos (títulos públicos); por isso, a taxa definida no âmbito desse sistema é aceita como uma taxa livre de riscos da economia.
- B** Na CETIP, os negócios não são liquidados imediatamente como no SELIC; por isso, a taxa SELIC é denominada D0 e a CETIP, D1.
- C** A taxa SELIC costuma apresentar-se ligeiramente mais elevada que a CETIP.
- D** Como balizamento do mercado, a taxa CETIP é mais importante, referenciando o custo do dinheiro no mercado financeiro.
- E** Por ser liquidada mediante cheques administrativos dos bancos, a taxa SELIC é também denominada taxa ADM.

QUESTÃO 33

Com base na legislação que rege o sistema de previdência complementar no país, assinale a opção **incorreta**.

- A** No resguardo da economia pública e dos interesses dos depositantes e investidores, o interventor, o liquidante ou o conselho diretor de instituição submetida aos regimes de intervenção, liquidação extrajudicial ou administração especial temporária, quando prévia e expressamente autorizado pelo BACEN, poderá proceder à constituição ou reorganização de sociedade ou sociedades para as quais sejam transferidos, no todo ou em parte, bens, direitos e obrigações da instituição sob intervenção, liquidação extrajudicial ou administração especial temporária, objetivando a continuação geral ou parcial de seu negócio ou atividade.
- B** As entidades de previdência privada, as companhias seguradoras e as de capitalização são equiparadas às instituições financeiras e às instituições do sistema de distribuição do mercado de valores mobiliários, com relação às suas operações realizadas nos mercados financeiro e de valores mobiliários, respectivamente, inclusive em relação ao cumprimento das diretrizes do CMN quanto às suas aplicações, para efeito de fiscalização do BACEN e da CVM.
- C** O total do superávit apurado pelas entidades fechadas de previdência privada será destinado à formação de reserva de contingência, que será utilizada para a redução das taxas de contribuições das patrocinadoras e dos participantes, na proporção em que contribuírem para o custeio.
- D** As patrocinadoras somente poderão assumir as contribuições previstas nos respectivos planos de custeio, sendo-lhes vedada a assunção de encargos destinados à operação e ao funcionamento das entidades fechadas de previdência privada, ressalvada a cessão de pessoal às entidades, desde que ressarcidos os respectivos custos.
- E** As despesas relativas à administração e operação das entidades fechadas de previdência privada não poderão exceder 15% do total da receita de contribuições.

QUESTÃO 34

É atribuição da Superintendência de Seguros Privados (SUSEP)

- I fiscalizar a constituição, a organização, o funcionamento e a operação das sociedades seguradoras, das sociedades de capitalização, das entidades de previdência privada aberta e resseguradores, na qualidade de executora da política traçada pelo Conselho Nacional de Seguros Privados (CNSP).
- II atuar no sentido de proteger a captação de poupança popular que se efetua por meio das operações de seguro, de previdência privada aberta, de capitalização e resseguro.
- III zelar pela liquidez e solvência das sociedades que integram o mercado.
- IV disciplinar e acompanhar os investimentos das entidades privadas de seguro, em especial os efetuados em bens garantidores de provisões técnicas.

A quantidade de itens certos é igual a

- A** 0. **B** 1. **C** 2. **D** 3. **E** 4.

QUESTÃO 35

Junto a uma instituição bancária, o Fundo Garantidor de Créditos (FGC) garante integralmente os(as)

- A** depósitos à vista no valor de até R\$ 30.000,00.
- B** depósitos em caderneta de poupança no valor de até R\$ 20.000,00.
- C** CDBs no valor de até R\$ 45.000,00.
- D** aplicações no FIF no valor de até R\$ 14.000,00.
- E** aplicações em fundos de ações no valor de até R\$ 17.000,00.

QUESTÃO 36

A respeito da administração de cartões de crédito, assinale a opção **incorreta**.

- A** O cartão de crédito é um serviço de intermediação que permite ao consumidor adquirir bens e serviços em estabelecimentos comerciais previamente credenciados mediante a comprovação de sua condição de usuário. Essa comprovação é geralmente realizada no ato da aquisição, com a apresentação de cartão ao estabelecimento comercial.
- B** O cartão é emitido pelo prestador do serviço de intermediação, chamado genericamente de **administradora de cartão de crédito**, que não pode ser um banco, pois precisa ser empresa criada única e especificamente para esse fim.
- C** A empresa emitente do cartão, de acordo com o contrato firmado com o consumidor, fica responsável pelo pagamento das aquisições feitas por ele com o uso do cartão, até o valor-limite combinado.
- D** O BACEN não autoriza nem fiscaliza empresas administradoras de cartão de crédito, mas apenas as instituições financeiras e assemelhadas. As instituições financeiras, únicas que podem conceder financiamentos quando o usuário opta por não pagar total ou parcialmente a fatura mensal, estão subordinadas ao BACEN. As operações realizadas pelas instituições financeiras, inclusive o financiamento aos usuários para o pagamento da fatura mensal, estão sujeitas à legislação própria e às normas editadas pelo CMN e pelo BACEN.
- E** O estabelecimento comercial registra a transação com o uso de máquinas mecânicas ou informatizadas, fornecidas pela administradora do cartão de crédito, gerando um débito do usuário-consumidor a favor da administradora e um crédito do fornecedor do bem ou do serviço contra a administradora, de acordo com o contrato firmado entre essas partes. Periodicamente, a administradora do cartão de crédito emite e apresenta a fatura ao usuário-consumidor, com a relação e o valor das compras efetuadas.

QUESTÃO 37

Assinale a opção em que a situação hipotética apresentada obedeceu às normas vigentes quanto à abertura e à finalidade de contas bancárias.

- A** Na condição de pessoa física, Alberta abriu uma conta-corrente; para isso, ela apresentou unicamente a carteira de identidade e o documento de inscrição no Cadastro de Pessoa Física (CPF).
- B** Um jovem com quatorze anos de idade abriu uma conta bancária, para o que foi representado por seu irmão, de dezessete anos de idade.
- C** A Infovia Ltda. abriu, como pessoa jurídica, uma conta-corrente; para tal apresentou apenas seu documento de constituição; os documentos que qualificavam e autorizavam seus representantes, mandatários ou prepostos a movimentarem a conta; a inscrição no Cadastro Geral dos Contribuintes (CGC) e o alvará de funcionamento.
- D** Um analfabeto abriu conta bancária em seu nome, tendo assinado com a impressão de seu polegar.
- E** Arnaldo abriu conta de depósito a prazo, pois necessitava que o dinheiro ficasse à sua disposição para ser sacado a qualquer momento.

QUESTÃO 38

Acerca dos depósitos em caderneta de poupança, assinale a opção **incorreta**.

- A** O depósito realizado por meio de cheque, desde que este não seja devolvido, deve ser considerado somente a partir da data de sua liberação.
- B** Os valores depositados e mantidos em depósito por prazo inferior a um mês não recebem nenhuma remuneração.
- C** O banco pode cobrar pela manutenção de conta de poupança, desde que esta apresente saldo igual ou inferior a R\$ 20,00 e não registre depósito ou saque pelo período de seis meses.
- D** A data de remuneração de depósitos em cadernetas de poupança efetuados nos dias 29, 30 ou 31 será o dia 1.º de cada mês, aplicando-se o índice correspondente ao dia 1.º do mês anterior.
- E** Os valores depositados em poupança são atualizados com base na taxa referencial (TR), acrescida de juros de 0,5% ao mês. A TR utilizada é aquela do dia do depósito.

QUESTÃO 39

Os serviços bancários que devem ser gratuitamente fornecidos aos correntistas incluem

- I fornecimento, a critério do correntista, de cartão magnético ou de um talão de cheques, com pelo menos dez folhas, por mês.
- II substituição do cartão magnético no vencimento de sua validade.
- III devolução de cheques pelo Serviço de Compensação de Cheques e Outros Papéis, mesmo se por motivo de insuficiência de fundos.
- IV fornecimento de um extrato trimestral, contendo toda a movimentação da conta no período.
- V fornecimento dos documentos que liberem garantias de qualquer espécie.

Estão certos apenas os itens

- A** I, II e III. **C** I, IV e V. **E** III, IV e V.
B I, II e V. **D** II, III e IV.

QUESTÃO 40

Podem operar no segmento livre do mercado de câmbio os(as)

- A agências de turismo.
- B meios de hospedagem de turismo.
- C corretoras e distribuidoras de títulos e valores mobiliários.
- D sociedades de arrendamento mercantil.
- E bancos.

QUESTÃO 41

Na qualidade de pessoa física, um cidadão contratou o *leasing* de seu microcomputador, por um prazo de 36 meses. Pagou R\$ 42,35 de IOF pela transação. No fim do contrato, optou por permanecer com o bem.

Na situação hipotética apresentada acima, consoante as normas vigentes sobre o tema no país, há **incorreção**, pois

- A pessoas físicas, no Brasil, não podem realizar contratos de *leasing*.
- B o prazo do contrato é inferior ao mínimo estabelecido em normas do BACEN.
- C o bem, no fim do contrato, tem de ser restituído ao arrendador.
- D microcomputadores não podem ser objeto de *leasing*, pois sua obsolescência tecnológica é muito rápida.
- E não incide IOF sobre operações de *leasing*.

QUESTÃO 42

O Sistema Integrado de Comércio Exterior (SISCOMEX) é um instrumento que integra as atividades de registro, acompanhamento e controle das operações de comércio exterior, por meio de um fluxo único, computadorizado, de informações, cujo processamento é efetuado exclusiva e obrigatoriamente pelo sistema. É administrado pela Secretaria de Comércio Exterior (SECEX), pela Secretaria da Receita Federal (SRF) e pelo BACEN, órgãos gestores no comércio exterior. As operações de exportação e de importação, no sistema, foram implantadas, respectivamente, em 1993 e em 1997. Desde então, para todos os fins e efeitos legais, as guias de exportação e de importação e outros documentos pertinentes vêm sendo substituídos por registros eletrônicos. Uma das principais conseqüências da implantação do SISCOMEX foi o(a)

- A harmonização de conceitos utilizados pelos órgãos governamentais que atuam na área de comércio exterior.
- B redução dos pontos de atendimento no país, devido às dificuldades de utilização peculiares ao meio eletrônico.
- C ampliação da coexistência de controles e sistemas de coleta de dados.
- D aumento da complexidade das operações de comércio exterior.
- E ampliação de custos administrativos para todos os envolvidos no sistema.

QUESTÃO 43

Uma empresa decidiu agraciar os empregados Antônio, Pedro e João, que tiveram a menor quantidade de faltas ao serviço durante o ano de 2000, com 42 cotas de determinado título de capitalização. Antônio, Pedro e João registraram, em 2000, respectivamente, 3, 5 e 6 faltas, e a empresa destinará a cada um deles uma quantidade de cotas inversamente proporcional ao número de suas faltas. Dessa forma, o número de cotas destinadas a Antônio será igual a

- A 7.
- B 10.
- C 12.
- D 14.
- E 20.

QUESTÃO 44

Um turista comprou 650 dólares em espécie, no valor de R\$ 2,00 cada dólar, e 1.950 dólares em cheques de viagem, no valor de R\$ 1,96 cada dólar. Assim, o preço médio, em reais, pago pelo turista por um dólar foi de

- A 1,96.
- B 1,97.
- C 1,98.
- D 1,99.
- E 2,00.

RASCUNHO

QUESTÃO 45

Um eletrodoméstico adquirido ao preço de R\$ 240,00 será pago em 6 parcelas mensais consecutivas, *postecipadas*, com juros de 2,5% ao mês, pelo sistema de amortização constante (SAC). Na tabela de amortização abaixo, estão inseridos alguns valores, em reais, correspondentes a essa situação, em que, para o k -ésimo mês após a compra, $0 \leq k \leq 6$, D_k indica o estado da dívida, A_k , o valor da amortização, J_k , o valor dos juros devidos e P_k indica o valor da prestação.

mês	D_k	A_k	J_k	P_k
0	240	–	–	–
1		40		
2	160			
3				44
4	80		3	
5			2	
6	0			41

Com base nesses dados, julgue os itens a seguir.

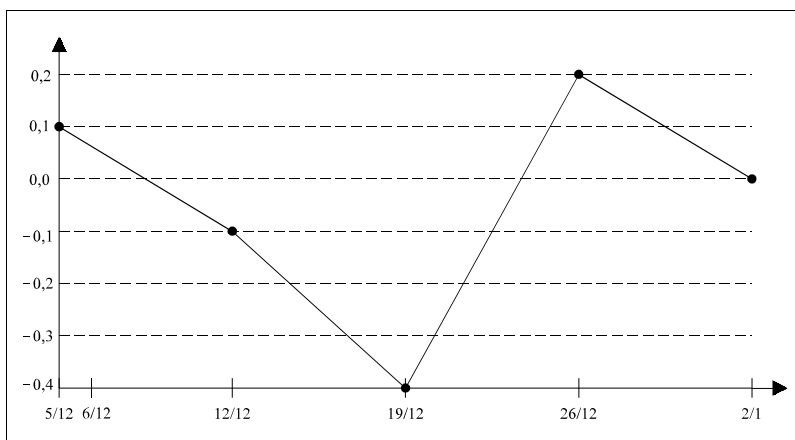
- I $A_5 = \text{R\$ } 40,00$. III $D_3 = \text{R\$ } 108,00$.
 II $P_2 = \text{R\$ } 45,00$. IV $J_1 + J_2 + J_3 + J_4 + J_5 + J_6 = \text{R\$ } 21,00$.

A quantidade de itens certos é igual a

- A** 0. **B** 1. **C** 2. **D** 3. **E** 4.

QUESTÃO 46

O gráfico abaixo, composto por segmentos de reta, representa a rentabilidade diária, em percentagem, de um fundo cambial, no período de 5/12/2000 a 2/1/2001.



Dinheiro, 10/1/2001, p. 81 (com adaptações).

Supondo que um capital tenha sido aplicado nesse fundo no dia 5/12/2000, julgue os seguintes itens.

- I Na semana de 5/12 a 12/12, o montante aplicado apresentou crescimento seguido de decréscimo.
 II Na semana de 26/12 a 2/1, o montante que o investidor possuía no início da semana decresceu.
 III No período considerado no gráfico, o montante aplicado atingiu seu valor mínimo em 19/12.

Assinale a opção correta.

- A** Nenhum item está certo. **D** Apenas o item III está certo.
B Apenas o item I está certo. **E** Todos os itens estão certos.
C Apenas o item II está certo.

RASCUNHO

Texto CE-I – questões 47 e 48

1 Em julho de 2000, uma pesquisa semanal do BACEN indicava
que o mercado projetava uma inflação, pelo IPCA, de 5,9% para 2000
e de 4,2% para 2001. Como o mercado já sabia, à época, que o IPCA
4 tinha acumulado 1,64% até junho, imaginava que, de julho a dezembro,
a inflação ficaria em torno de 4,2%. Supondo que a projeção para 2001
estava distribuída igualmente nos dois semestres do ano, o IPCA
7 projetado para o primeiro semestre de 2001 seria de uns 2,1%.
Portanto, em julho, o mercado imaginava uma inflação de uns 6,4% nos
doze meses seguintes, até o final de junho de 2001. Quer dizer, a taxa
10 de juros (taxa SELIC) de 16,5% embutia um juro real projetado pouco
inferior a 10%.

Em dezembro de 2000, pela mesma pesquisa do BACEN, o
13 mercado projetou uma inflação de 4,3% até o final de 2001.

Folha de S. Paulo, 28/12/2000 (com adaptações).

QUESTÃO 47

Em dezembro de 2000, levando em conta a inflação projetada naquele mês
para o ano de 2001, o BACEN reduziu a taxa SELIC para 15,75%. A partir
das informações do texto CE-I e considerando essa medida adotada pelo
BACEN, se J indica o juro real projetado para o ano de 2001, embutido na
taxa SELIC, então

- A** $J \leq 9,5\%$. **D** $11,5\% < J \leq 12,5\%$.
B $9,5\% < J \leq 10,5\%$. **E** $J > 12,5\%$.
C $10,5\% < J \leq 11,5\%$.

QUESTÃO 48

Com base nos dados do texto CE-I, o índice percentual previsto para a
inflação de julho a dezembro de 2000, mencionado nas linhas 4 e 5, seria
corretamente calculado, sem arredondamento, pela expressão

- A** $\left(\frac{1,059}{1,0164} - 1 \right) \times 100$.
B $\left(\frac{1,064}{1,021} - 1 \right) \times 100$.
C $5,90 - 1,64$.
D $\left[\left(1 + \frac{0,059}{12} \right)^{12} \right] - \left[\left(1 + \frac{0,0164}{6} \right)^6 \right] \times 100$.

E $\left[\left(1 + \frac{0,042}{6} \right)^6 - 1 \right] \times 100$.

RASCUNHO

O proprietário de um imóvel poderia optar pelo pagamento dos R\$ 100,00 referentes ao IPTU em dez parcelas mensais e iguais, ou em parcela única, com desconto de 5% do valor. A data de vencimento para pagamento em parcela única era a mesma que a da primeira parcela, no caso de pagamento parcelado. Nessa mesma data, o proprietário, embora dispusesse do exato montante para pagamento à vista, optou pelo pagamento parcelado e pela aplicação do restante em uma conta de poupança específica, com rendimentos fixos de 0,6% ao mês. Dos saldos mensais corrigidos, ele foi retirando as parcelas subseqüentes.

QUESTÃO 49

Considerando o procedimento adotado pelo proprietário referido no texto CE-II, julgue os itens a seguir.

- I O depósito inicial feito por ele na poupança foi de R\$ 90,00.
- II O saldo disponível na poupança, imediatamente após o pagamento da segunda parcela do IPTU, era de R\$ 75,51.
- III O rendimento da poupança feita por ele, nos dois primeiros meses de aplicação, foi inferior a R\$ 1,00.

Assinale a opção correta.

- A** Apenas um item está certo.
- B** Apenas os itens I e II estão certos.
- C** Apenas os itens I e III estão certos.
- D** Apenas os itens II e III estão certos.
- E** Todos os itens estão certos.

QUESTÃO 50

Considerando o texto CE-II e admitindo que $1,006^9 = 1,055$ e que $\frac{1,006^9 - 1}{0,006} = 9,22$, o saldo da poupança disponível para o proprietário do imóvel efetuar o pagamento da última parcela do IPTU, na data do seu vencimento, era

- A** inferior a R\$ 8,00.
- B** superior a R\$ 8,00 e inferior a R\$ 8,50.
- C** superior a R\$ 8,50 e inferior a R\$ 9,00.
- D** superior a R\$ 9,00 e inferior a R\$ 10,00.
- E** superior a R\$ 10,00.