



**Governo do Estado da Paraíba**  
**Secretaria de Estado da Administração**  
**Companhia Estadual de Habitação Popular (CEHAP)**

CONCURSO PÚBLICO  
Nível Superior

Aplicação: 15/2/2009

# CADERNO DE PROVAS – PARTE I

## CONHECIMENTOS BÁSICOS

(Para todos os cargos de nível superior)

# MANHÃ

**LEIA COM ATENÇÃO AS INSTRUÇÕES ABAIXO.**

- Confira atentamente seu caderno de provas, que é constituído de duas partes, da seguinte forma:  
Parte I – **20** questões, ordenadas de **1** a **20**, correspondentes à prova objetiva de **Conhecimentos Básicos**;  
Parte II – **30** questões, ordenadas de **21** a **50**, correspondentes à prova objetiva de **Conhecimentos Específicos**. **Atenção:** confira o número e o nome de seu cargo transcritos na **folha de respostas**, na capa e no rodapé de cada página numerada da parte II do seu caderno de provas.
- Caso haja alguma divergência quanto ao número ou nome de seu cargo ou alguma parte do caderno esteja incompleta ou tenha qualquer defeito, solicite ao aplicador mais próximo que tome as providências cabíveis, pois não serão aceitas reclamações posteriores nesse sentido.
- Não utilize lápis, lapiseira (grafite), borracha e(ou) qualquer material de consulta que não seja fornecido pelo CESPE/UnB.
- Não se comunique com outros candidatos nem se levante sem autorização de um aplicador.
- A duração das provas é de **quatro horas**, já incluído o tempo destinado à identificação — que será feita no decorrer das provas — e ao preenchimento da folha de respostas.
- Você deverá permanecer obrigatoriamente em sala por, no mínimo, **uma hora** após o início das provas e poderá levar este caderno de provas (partes I e II) somente no decurso dos últimos **quinze minutos** anteriores ao horário determinado para o término das provas.
- Ao terminar as provas, chame o aplicador mais próximo, devolva-lhe a sua folha de respostas e deixe o local de provas.
- A desobediência a qualquer uma das determinações constantes no caderno de provas (partes I e II) ou na folha de respostas poderá implicar a anulação das suas provas.



- Nas questões de **1 a 20**, marque, para cada uma, a única opção correta, de acordo com o respectivo comando. Para as devidas marcações, use a **folha de respostas**, único documento válido para a correção das suas provas.
- Nas questões que avaliam **Noções de Informática**, a menos que seja explicitamente informado o contrário, considere que: todos os programas mencionados estão em configuração-padrão, em português; o *mouse* está configurado para pessoas destros; expressões como **clique**, **clique simples** e **clique duplo** referem-se a cliques com o botão esquerdo do *mouse*; **teclar** corresponde à operação de pressionar uma tecla e, rapidamente, liberá-la, acionando-a apenas uma vez. Considere também que não há restrições de proteção, de funcionamento e de uso em relação aos programas, arquivos, diretórios, recursos e equipamentos mencionados.

## CONHECIMENTOS BÁSICOS

### Texto para as questões 1 e 2

1 As vivências do tempo e do espaço constituem  
dimensões fundamentais de todas as experiências humanas.  
O ser, de modo geral, só é possível nas dimensões reais e  
4 objetivas do espaço e do tempo. Portanto, o tempo e o espaço  
são, ao mesmo tempo, condicionantes fundamentais do  
universo e estruturantes básicos da experiência humana. Para  
7 o físico Newton e para o filósofo Leibnitz, o espaço e o tempo  
se produzem exclusivamente fora do homem e têm uma  
realidade objetiva plena. São realidades independentes do ser  
10 humano. Em contraposição a essa noção, Kant defende que o  
espaço e o tempo são dimensões básicas que possibilitam  
todo e qualquer conhecimento, intrínsecas ao ser humano  
13 enquanto ser cognoscente. Em sua opinião, não se pode  
conhecer realmente nada que exista fora do tempo e do  
espaço.

Paulo Dalgalarondo. *Psicopatologia e semiologia dos transtornos mentais*. Porto Alegre: ARTMED, 2000, p. 77 (com adaptações).

#### QUESTÃO 1

A relação entre as estruturas linguísticas e as ideias do texto mostra que

- Ⓐ são preservadas a coerência e a correção gramatical ao se ligarem os dois primeiros períodos sintáticos do texto pela conjunção **porque**, do seguinte modo: humanas, porque o ser.
- Ⓑ o tempo é o condicionante fundamental do universo; o espaço é o estruturante básico da experiência humana.
- Ⓒ o tempo ter “realidade objetiva plena” (l.9) significa possibilitar “todo e qualquer conhecimento” (l.12).
- Ⓓ a expressão “Em sua opinião” (l.13) remete às opiniões de Newton, Leibnitz e Kant.

#### QUESTÃO 2

Assinale a opção correta a respeito das estruturas linguísticas do texto.

- Ⓐ Na linha 3, o termo “só é possível” indica que “ser” está empregado como verbo, não como substantivo, sinônimo de **pessoa**.
- Ⓑ Preserva-se a correção gramatical do texto e torna-se a argumentação mais clara ao se inserir o pronome **isso** imediatamente antes de “têm uma realidade objetiva plena” (l.8-9).
- Ⓒ Na linha 12, a preposição em “ao ser humano” é exigida pelo adjetivo “intrínsecas”; por isso, a preposição teria de ser mantida no caso da substituição do artigo por **qualquer**, escrevendo-se **a qualquer ser humano**.
- Ⓓ O termo “enquanto” (l.13), empregado como conjunção de valor temporal, reforça que o tempo é a dimensão do “ser humano” (l.12).

### Texto para as questões de 3 a 5

1 Em nosso continente, a colonização espanhola  
caracterizou-se largamente pelo que faltou à portuguesa: por  
uma aplicação insistente em assegurar o domínio militar,  
4 econômico e político da metrópole sobre as terras  
conquistadas, mediante a criação de grandes núcleos de  
povoação estáveis e bem ordenados. Um zelo minucioso e  
7 previdente dirigiu a fundação das cidades espanholas na  
América.

Já à primeira vista o próprio traçado dos centros  
10 urbanos denuncia o esforço determinado de vencer e retificar  
a fantasia caprichosa da paisagem agreste: é um ato definido  
da vontade humana. As ruas não se deixam modelar pela  
13 sinuosidade e pelas asperezas do solo: impõem-lhes antes o  
acento voluntário da linha reta. O plano regular não nasce,  
aqui, nem ao menos de uma ideia religiosa, como a que  
16 inspirou a construção das cidades do Lácio e mais tarde a das  
colônias romanas de acordo com o rito etrusco; foi  
simplesmente um triunfo da aspiração de ordenar e dominar  
19 o mundo conquistado. O traço retilíneo, em que se exprime a  
direção da vontade a um fim previsto e eleito, manifesta bem  
essa deliberação.

Sérgio Buarque de Holanda. *Raízes do Brasil*. São Paulo: Companhia das Letras, 2000, p. 95-6 (com adaptações).

#### QUESTÃO 3

Com referência às ideias do texto, julgue os seguintes itens.

- I Os estáveis núcleos de povoação criados pela colonização portuguesa tinham por objetivo assegurar o domínio da metrópole sobre a colônia.
- II Nos casos em que a vontade humana vence a força da natureza, o traçado dos centros urbanos é retilíneo e regular.
- III A organização de cidades estáveis e bem ordenadas teve inspiração religiosa, com a aspiração de dominar a natureza.

Assinale a opção correta.

- Ⓐ Apenas o item I está certo.
- Ⓑ Apenas o item II está certo.
- Ⓒ Apenas os itens I e III estão certos.
- Ⓓ Apenas os itens II e III estão certos.

**QUESTÃO 4**

Preservam-se a correção gramatical e a coerência textual ao se

- A escrever **pela** em lugar de “por uma” (ℓ.2-3).
- B deslocar o pronome átono, em “se deixam” (ℓ.12), para depois do verbo, escrevendo: deixam-se.
- C eliminar a expressão “a que” (ℓ.15).
- D substituir “em que” (ℓ.19) por **na qual**.

**QUESTÃO 5**

Assinale a opção **incorreta** a respeito do uso das estruturas linguísticas no texto.

- A Na linha 2, o sinal de dois-pontos depois de “portuguesa” introduz um esclarecimento para o “que faltou”.
- B Na linha 5, o autor evita a repetição da preposição **por** ao usar o termo “mediante a”, que estabelece relações significativas semelhantes.
- C Em “impõem-lhes” (ℓ.13), o plural no verbo é exigido por “ruas” (ℓ.12) e o plural no pronome átono é exigido por “sinuosidades” e “asperezas” (ℓ.13).
- D Na linha 20, a flexão de singular em “manifesta” deve-se ao singular de “um fim”.

**Texto para as questões 6 e 7**

1 Se a cidade moderna era a libertação do homem, ela tirava sua singularidade; desiguais em suas características, viraram miseravelmente iguais no aglomerado urbano, vulneráveis, 4 segregados, enfim, menos do que homens: macacos. “Nosso trabalho é estudar os mecanismos materiais e simbólicos que articulam a reprodução da desigualdade e também do bem-estar em 7 grandes centros urbanos”, afirma o diretor do Centro de Estudos da Metrópole (CEM), em São Paulo. O foco dos esforços analíticos, hoje, é verificar que a reprodução social da pobreza é resultado de 10 uma combinação de processos econômicos e mecanismos sociopolíticos. A partir dessa constatação, o CEM passou a pesquisar formas de socialização, redes sociais, padrões de 13 segregação residencial e eficácia e extensão das políticas públicas sobre esse estado de coisas. As pesquisas igualmente revelaram que havia uma ênfase excessiva no aspecto econômico na análise 16 da dinâmica da metrópole. Entraram em cena, então, duas variáveis, as redes sociais e o espaço urbano, que ajudaram no entendimento dos mecanismos que associam processos macro e 19 estruturas com ações micro, ligadas ao indivíduo e ao comportamento familiar, cujo impacto poderia reduzir ou reforçar as desigualdades. Mesmo a religião e o lazer entraram no escopo 22 das pesquisas.

Pesquisa Fapesp nº135. Suplemento especial. maio/2007, p. 51-2 (com adaptações).

**QUESTÃO 6**

Assinale a opção correta a respeito das relações de coesão no desenvolvimento das ideias do texto.

- A Apesar de os verbos e adjetivos da oração depois do ponto-e-vírgula, na linha 2, estarem no plural, eles referem-se à ideia de “cidade” (ℓ.1).
- B A expressão “dessa constatação” (ℓ.11) refere-se à identificação das causas da “reprodução social da pobreza” (ℓ.9).
- C A expressão “esse estado de coisas” (ℓ.14) retoma a ideia de “esforços analíticos” (ℓ.8).
- D O pronome relativo “cujo” (ℓ.20) mostra que o “impacto” (ℓ.20) que “poderia reduzir ou reforçar as desigualdades” (ℓ.20-21) é o das “pesquisas” (ℓ.22).

**QUESTÃO 7**

Provoca erro gramatical ou incoerência entre os argumentos do texto a substituição

- A da conjunção “Se” (ℓ.1) por **Ao mesmo tempo em que**.
- B do sinal de dois-pontos logo após “homens” (ℓ.4) por travessão simples.
- C da conjunção “e” logo após “residencial” (ℓ.13) pela expressão **além de**, precedida de vírgula.
- D do verbo “havia” (ℓ.15) por **existiam**.

**QUESTÃO 8**

Instruções para criação e extinção de cargos nas repartições públicas do estado da Paraíba. Com alterações introduzidas pelas resoluções n.º 1.111/2000, 2.222/2000 e 3.333/2000, e pela lei n.º 10.000/2007.

Para que a ementa de resolução acima respeite as normas de redação de documentos oficiais, é necessário

- A tornar o texto mais claro, usando verbos em lugar de “Instruções” e “alterações”, por exemplo.
- B inserir uma vírgula depois de “cargos” e retirar a vírgula depois de “3.333/2000”, para que sejam respeitadas as regras gramaticais.
- C escrever “estado”, “resoluções” e “lei” com iniciais maiúsculas, para atender à padronização e à uniformidade.
- D conferir ao texto clareza e objetividade, escrevendo o termo “pelas resoluções” no singular.

**QUESTÃO 9**

A respeito de conceitos de informática, assinale a opção correta.

- A Para se armazenar em arquivo dados de vídeo com tamanho de 290 MB, a mídia DVD é mais indicada que a CD-RW, pois esta é incompatível com esse tipo de arquivo.
- B A impressora *laser*, por apresentar melhor qualidade, tem velocidade de impressão inferior às impressoras do tipo *deskjet*.
- C A BIOS é um dispositivo que permite o acesso sem fio à Internet.
- D Um *pendrive* de capacidade de 1 GB permite armazenar arquivo com tamanho igual a 560 KB.

**QUESTÃO 10**

Com relação ao Microsoft Word 2003, considerando que esse aplicativo esteja em uso para a edição de um documento, assinale a opção correta.



- A O Word permite criar gráficos de diversos tipos, como *pizza* e barra, além daqueles que são personalizados pelo usuário.
- B Para se adicionar número de página no documento Word, é necessário definir cabeçalho e rodapé.
- C A configuração da orientação da página deve ser definida antes do início da digitação do texto no documento.
- D O recurso de borda na página é exclusivo para páginas configuradas para formato A4.

Figura para as questões 11 e 12



**QUESTÃO 11**

Considerando a figura apresentada, assinale a opção correta acerca do sistema operacional Windows XP.

- A Quando um ícone associado a um arquivo é arrastado de uma pasta no disco rígido para um *pendrive*, esse arquivo é eliminado do disco rígido.
- B A janela Lixeira é associada a um dispositivo que armazena os arquivos excluídos da memória ROM.
- C Ao se clicar o botão , será iniciado *upload* dos arquivos existentes na janela mostrada.
- D A opção  Meus locais de rede apresenta os caminhos da rede que foram mapeados.

**QUESTÃO 12**

Ainda considerando a figura apresentada, assinale a opção correta.


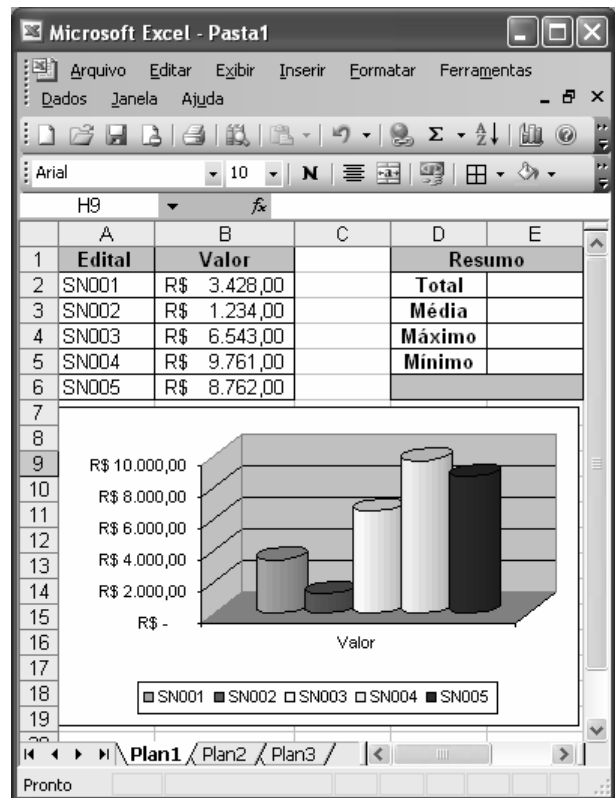
- A Se [www.sectma.pb.gov.br](http://www.sectma.pb.gov.br) for um endereço eletrônico válido, para acessar o sítio correspondente, é suficiente digitar o referido endereço na barra **Endereço** e pressionar a tecla .
- B O Outlook Express é um cliente de *e-mail* que permite a configuração de apenas uma conta de *e-mail* por usuário.
- C Sítios de busca como o Google são remunerados por cada pesquisa realizada, e essa cobrança é enviada automaticamente para o provedor de acesso.
- D O Internet Explorer, da mesma forma que o Word, permite gravar documentos em arquivos com extensão *.doc*.




Figura para as questões 13 e 14

A figura a seguir ilustra uma janela do Excel 2003 com uma planilha em processo de elaboração.



**QUESTÃO 13**

Considerando a figura mostrada, assinale a opção correta.

- A Para se calcular o valor total das células de B2 até B6, equivalente ao Resumo Total, é suficiente clicar a célula E2; clicar o botão ; e, a seguir, pressionar a tecla .
- B O valor máximo das células de B2 até B6, equivalente ao Resumo Máximo, pode ser calculado por meio da fórmula =Máximo(B2:B6).
- C A média aritmética dos valores das células de B2 até B6 pode ser calculada por meio do seguinte procedimento: clicar a célula E3; digitar =B2+B3+B4+B5+B6/5; e, a seguir, teclar .
- D O valor mínimo das células de B2 até B6 é calculado por meio da função contar-se.

**QUESTÃO 14**

Ainda considerando a planilha apresentada, assinale a opção correta.

- A Para que sejam alteradas as cores do gráfico mostrado na figura, é suficiente selecioná-lo; clicar a opção Cores do menu **Formatar**; selecionar a cor desejada, e clicar OK.
- B Após a criação do gráfico personalizado, não é possível alterar a estrutura e o tipo de gráfico, sendo necessário recriá-lo.
- C Caso os valores da planilha sejam alterados, o gráfico também será atualizado automaticamente.
- D As três barras cilíndricas mais à direita do gráfico correspondem aos valores Mínimo, Máximo e Média, pois ele foi criado com base nos valores das células de A1 até E6.

## Texto para questões 15 e 16

A crise econômica que se abateu sobre o mundo está levando muitos brasileiros que foram morar e trabalhar no estrangeiro a voltarem ao país. Em um cenário externo que já vinha sendo pouco receptivo à migração — com a tendência antimigratória na Europa —, junta-se agora a desaceleração econômica, além do fato de o câmbio não estar mais tão favorável quanto foi no passado, o que significa que o ganho lá fora e a poupança que o emigrante consegue fazer já não são mais tão significativos.

Correio Braziliense, 14/12/2008, p. 29 (com adaptações).

### QUESTÃO 15

Considerando o texto acima apenas como referência inicial, assinale a opção **incorreta** a respeito da atual crise econômica mundial.

- A Há consenso entre economistas e especialistas de que a crise financeira global tem impacto de mesma proporção nas economias centrais e nos países emergentes.
- B Iniciada no campo financeiro, a crise alastrou-se para a chamada economia real.
- C A desregulamentação excessiva do capital foi uma das causas relevantes para a crise econômica mundial.
- D O crescimento modesto e(ou) mesmo a recessão são fatos que já se notam nas economias desenvolvidas.

### QUESTÃO 16

Assinale a opção correta com relação ao tema das migrações internacionais e à crise econômica global.

- A Apesar de os impactos da crise serem fortes na Europa, mantém-se, naquele continente, política positiva em relação aos imigrantes.
- B O Brasil, por não ter sido atingido pela crise internacional, não assiste à mudança no padrão clássico de migração internacional.
- C O sonho dourado de tempos felizes nos países ricos passou a ser revisto pelo migrante econômico de países da América Latina e da África.
- D O fluxo de imigrantes brasileiros para a Europa vem aumentando significativamente.

### QUESTÃO 17

Com relação aos temas referentes ao clima e ao meio ambiente e suas implicações para as negociações em curso no mundo, assinale a opção correta.

- A Devido ao consenso de que o clima é assunto vital para o equilíbrio do planeta, esse tema não é politizado.
- B A Conferência Mundial da ONU voltada para o meio ambiente e para o desenvolvimento (Rio-92) deixou propostas pouco relevantes na agenda internacional no que tange a iniciativas para o desenvolvimento sustentável do planeta.
- C O modelo de produção e de consumo do mundo atual é compatível com o futuro da segurança humana e o bem-estar da sociedade de maneira global.
- D O Brasil vem obtendo reconhecimento internacional por se mostrar preocupado com matérias ambientais e climáticas.

### QUESTÃO 18

No que tange aos temas de segurança pública no mundo e no Brasil, assinale a opção correta.

- A A segurança pública ocupa, nas pesquisas de opinião pública na América Latina, posição inferior às preocupações com assuntos como educação, saúde e habitação.
- B A ocorrência de assaltos à mão armada nas grandes cidades do Brasil, assunto habitual nos jornais diários, limita a livre circulação das pessoas em suas rotinas de trabalho e lazer, sendo um entrave ao pleno exercício da cidadania pela população.
- C A solução para os problemas advindos da formação de quadrilhas e bandos urbanos está no armamento da população, única capaz de se defender ante a falência do sistema de proteção cidadã.
- D Em um país continental como o Brasil, o sistema de segurança pública, para ser eficiente, deve ser gerido pelos municípios e governos locais, pois seus gestores estão próximos da população e bem informados acerca dos acontecimentos na região.

### QUESTÃO 19

O Estado deve garantir saúde pública, habitação, emprego e educação, essenciais à segurança social na democracia moderna. Com relação a esse assunto, assinale a opção correta.

- A Para a tranquilidade e a paz do cidadão nas sociedades democráticas, é necessário que estas apresentem elevados índices de realização na área da educação, na distribuição de renda e no acesso ao trabalho pela população.
- B O Estado é a única instituição que deve prover os meios para a construção de cidadania e civilidade na sociedade moderna.
- C A ação política, como uma faceta da vida organizada na sociedade, consiste em possibilitar que, a qualquer custo, ideias e projetos garantam a estabilidade da população.
- D A saúde e a habitação são os dois elementos centrais na formação da sociedade democrática moderna.

### QUESTÃO 20

As relações internacionais do início do século XXI não só mantiveram algumas tendências com relação à situação mundial, como também agregaram tendências novas. A propósito dessas tendências, assinale a opção correta.

- A No século XXI, a maioria dos países assentiu, sem contestação, à hegemonia norte-americana no mundo.
- B A Europa, região com longa experiência no sistema de integração entre países, consolidou, sem problemas, a integração política e constitucional da União Europeia.
- C Ao iniciar-se o século XXI, ao contrário do que ocorreu no século anterior, evidenciam-se vários países da América do Sul com regimes políticos nacionalistas e tendentes ao centralismo.
- D A Ásia tem perdido força econômica e política nesta primeira década do século XXI.