



MINISTÉRIO DA CIÊNCIA E TECNOLOGIA  
FINANCIADORA DE ESTUDOS E PROJETOS

CONCURSO PÚBLICO

# CARGOS 14 e 15: TÉCNICO

ÁREA: ADMINISTRAÇÃO GERAL  
SUBÁREAS: APOIO ADMINISTRATIVO (14)  
SECRETARIADO (15)

Nível Médio  
**TARDE**

**LEIA COM ATENÇÃO AS INSTRUÇÕES ABAIXO.**

- 1 Confira inicialmente os seus dados pessoais transcritos acima com o que está registrado em sua folha de respostas e na sua folha de texto definitivo da prova discursiva. Confira também o seu nome no rodapé de cada página numerada deste caderno. Em seguida, verifique se ele contém a quantidade de questões indicada em sua folha de respostas, correspondentes à prova objetiva de conhecimentos gerais, e a prova discursiva, acompanhada de espaço para rascunho. Caso o caderno esteja incompleto, tenha qualquer defeito ou apresente divergência quanto aos seus dados pessoais, solicite ao fiscal de sala mais próximo que tome as providências cabíveis, pois não serão aceitas reclamações posteriores nesse sentido.
- 2 Quando autorizado pelo chefe de sala, no momento da identificação, escreva, no espaço apropriado da **folha de respostas**, com a sua caligrafia usual, a seguinte frase:

*O que o primeiro filósofo ensinou, o último terá de repetir.*

- 3 Não se comunique com outros candidatos nem se levante sem autorização de fiscal de sala.
- 4 Na duração das provas, está incluído o tempo destinado à identificação — que será feita no decorrer das provas —, ao preenchimento da folha de respostas e à transcrição do texto definitivo da prova discursiva para a folha de texto definitivo da prova discursiva.
- 5 Ao terminar as provas, chame o fiscal de sala mais próximo, devolva-lhe a sua folha de respostas e a sua folha de texto definitivo da prova discursiva e deixe o local de provas.
- 6 A desobediência a qualquer uma das determinações constantes em edital, no presente caderno, na folha de respostas ou na folha de texto definitivo da prova discursiva poderá implicar a anulação das suas provas.

## OBSERVAÇÕES

- Não serão objeto de conhecimento recursos em desacordo com o estabelecido em edital.
- Informações adicionais: telefone 0(XX) 61 3448-0100; Internet – [www.cespe.unb.br](http://www.cespe.unb.br).
- É permitida a reprodução deste material apenas para fins didáticos, desde que citada a fonte.

- Nas questões a seguir, marque, para cada uma, a única opção correta, de acordo com o respectivo comando. Para as devidas marcações, use a **Folha de Respostas**, único documento válido para a correção das suas respostas.
- Nas questões que avaliam conhecimentos de informática, a menos que seja explicitamente informado o contrário, considere que: todos os programas mencionados estão em configuração-padrão, em português; o *mouse* está configurado para pessoas destros; expressões como **clicar**, **clique simples** e **clique duplo** referem-se a cliques com o botão esquerdo do *mouse*; **teclar** corresponde à operação de pressionar uma tecla e, rapidamente, liberá-la, acionando-a apenas uma vez. Considere também que não há restrições de proteção, de funcionamento e de uso em relação aos programas, arquivos, diretórios, recursos e equipamentos mencionados.

## CONHECIMENTOS GERAIS

### QUESTÃO 1

1 Quando a Consolidação das Leis do Trabalho (CLT) foi  
 instituída por Getúlio Vargas, em 1943, o Brasil era um país  
 4 agrário, com indústria incipiente, fechado ao exterior muito mais  
 do que é hoje. O próprio mundo era outro. Em 66 anos, houve a  
 revolução da microeletrônica, surgiu a Internet e com ela a  
 possibilidade de se trabalhar fora dos escritórios. O Brasil  
 7 tornou-se menos refratário à competição externa, mas a CLT e o  
 relógio de ponto resistem como peças de museu de um tempo que  
 passou. Mas a vida continua, e patrões e empregados são obrigados  
 10 a desenvolver modalidades de contratos de trabalho à margem da  
 multiplamente esclerosada CLT.

O Globo. Editorial, 11/4/2009 (com adaptações).

Com base no texto acima, assinale a opção correta.

- A A palavra “incipiente” (l.3) está sendo empregada com o sentido de **consolidada, forte**.
- B Em “se trabalhar” (l.6), o pronome “se” indica voz passiva.
- C Em “tornou-se” (l.7), o pronome “se” indica sujeito indeterminado.
- D Na linha 7, o emprego de sinal indicativo de crase, em “à competição” justifica-se pela regência de “refratário”, que exige preposição **a**, e pela presença de artigo definido feminino.
- E A palavra “esclerosada” (l.11) está sendo empregada em sentido denotativo.

### QUESTÃO 2

As opções a seguir, na ordem em que se encontram, constituem um texto adaptado do jornal **Zero Hora**, de 11/4/2009. Assinale a opção em que o emprego do sinal indicativo de crase, no trecho sublinhado, está **incorreto**.

- A A transformação do Brasil de devedor em credor do Fundo Monetário Internacional (FMI), com o aporte à instituição de até US\$ 4,5 bilhões, significa um avanço importante para o país e, ao mesmo tempo, um marco de protagonismo dos emergentes na nova geografia moldada pela crise.
- B O dinheiro a ser empregado corresponde às reservas cambiais. Por isso, nada tem a ver com o que poderia ser destinado a combater mazelas indiscutíveis da realidade brasileira, como a miséria, a fome e a degradação quase generalizada dos serviços públicos.
- C Desde o período posterior à II Guerra Mundial, quando foram fundadas instituições multilaterais como o FMI e o Banco Mundial (BIRD), hoje em processo de reformulação, a participação de países como os Estados Unidos da América (EUA) caiu da metade para menos de um quarto do produto interno bruto mundial, enquanto o centro propulsor da economia desloca-se cada vez mais para a Ásia, particularmente para China e Índia.
- D É em meio a esse processo que o Brasil, oportunamente, candidata-se à exercer maior influência na redefinição desses organismos, como ficou acertado na última reunião do G-20, que reúne as nações mais influentes do mundo.
- E Em nenhum dos cenários debatidos desde a eclosão da crise global, há alguma mencão à possibilidade de os EUA perderem sua força hegemônica na economia global.

### QUESTÃO 3

1 O espetáculo da Paixão de Cristo, em  
 Fazenda Nova, no agreste pernambucano, é encenado  
 em um teatro hoje considerado o maior teatro ao ar  
 4 livre do mundo, o que colocou o nosso estado  
 definitivamente na pauta do turismo nacional e  
 internacional. Mas a Paixão de Fazenda Nova existe  
 7 desde 1951, como espetáculo teatral. No início, era  
 simplesmente uma manifestação religiosa de iniciativa  
 do morador local Epaminondas Mendonça.

10 As primeiras apresentações eram feitas pelas  
 ruas do povoado de Fazenda Nova, a um quilômetro  
 da atual cidade-teatro, com a participação de artistas  
 13 amadores, familiares e amigos. A ideia de construir  
 uma réplica dos locais onde se desenrolaram os  
 sofrimentos e a morte de Jesus Cristo, em Jerusalém,  
 16 partiu do gaúcho Plínio Pacheco, que chegou a  
 Fazenda Nova em 1956. O projeto só começou a se  
 concretizar em 1968, quando foi realizada a primeira  
 19 encenação na hoje chamada Nova Jerusalém. Uma  
 obra monumental cercada por uma muralha de pedras  
 e 70 torres.

22 Mais recentemente, atraída pela fama  
 adquirida ao longo de anos pelo espetáculo da Nova  
 Jerusalém, a Rede Globo interessou-se em patrociná-lo  
 25 e emprestar-lhe a participação de atores de seu elenco.  
 Isso deu maior visibilidade na mídia às encenações,  
 mas a fama e o prestígio do espetáculo encenado  
 28 anualmente ali são mais antigos.

Jornal do Commercio. Editorial, 10/4/2009 (com adaptações).

Quanto ao emprego de vírgulas no texto acima, assinale a opção correta.

- A As vírgulas das linhas 1 e 2 justificam-se por isolar aposto.
- B Na linha 7, após “início”, a vírgula justifica-se por isolar oração subordinada de valor explicativo.
- C A vírgula após “amadores” (l.13) é empregada para isolar elementos de mesma função gramatical componentes de uma enumeração.
- D A vírgula após “Pacheco” (l.16) justifica-se por isolar oração subordinada de valor restritivo.
- E A vírgula após “encenações” (l.26) é empregada para isolar oração coordenada assindética.

## Texto para as questões 4 e 5

1 Por causa das sensíveis mudanças climáticas  
ocorridas na Terra, nove em cada dez desastres e sinistros  
naturais acontecidos nas duas últimas décadas têm direta  
4 relação com a instabilidade do clima. Segundo parecer da  
Secretaria de Assuntos Humanitários da Organização das  
Nações Unidas (ONU), o advento dessas condições extremas  
7 tem íntima conexão com inúmeros malefícios paralelos, entre  
eles a exacerbação da fome crônica e a desnutrição em  
grande parte do mundo em desenvolvimento. Desastres de  
10 tal ordem obviamente não fazem distinção entre nações ricas  
e pobres, podendo ter potencial ainda mais destrutivo, no  
futuro próximo, do que a crise econômica mundial  
13 deflagrada desde meados do ano passado. Os perigos  
proporcionados pela natureza não resultam apenas em  
devastadoras calamidades ambientais. Seus efeitos indiretos  
16 relacionam-se, também, com setores aparentemente tão  
diversos quanto a falta de alimentos, o baixo rendimento da  
aprendizagem escolar causado pela desnutrição e, até  
19 mesmo, a crescente onda de instabilidade política de vários  
países, em face da interligação socioeconômica dos  
problemas a que dão origem. Salienta a análise realizada  
22 pela ONU que é premente a necessidade de uma revolução  
verde, no mais amplo sentido da expressão, com a finalidade  
de abranger o estímulo à produtividade agrícola, à garantia  
25 da sustentabilidade ambiental e às correlações desse contexto  
com os índices de lucratividade da economia.

Diário do Nordeste. Editorial, 10/4/2009 (com adaptações).

### QUESTÃO 4

Em relação ao significado das palavras do texto, assinale a opção correta.

- A O termo “sinistros” (l.2) está sendo empregado com o sentido de **medo**.
- B A palavra “advento” (l.6) está sendo empregada com o sentido de **aprofundamento**.
- C O termo “exacerbação” (l.8) tem, no texto, o sentido de **atenuação**.
- D O termo “premente” (l.22) está sendo utilizado com o sentido de **evidente**.
- E A palavra “deflagrada” (l.13) está sendo empregada com o sentido de **irrompida**.

### QUESTÃO 5

Em relação ao texto, assinale a opção correta.

- A Na linha 3, a forma verbal “têm” está no plural porque concorda com “últimas décadas”.
- B A eliminação de “do” em “mais destrutivo (...) do que a crise econômica” (l.11-12) prejudica a correção gramatical do período.
- C Na linha 16, o termo “relacionam-se” está no plural porque concorda com “setores”.
- D O emprego de preposição “a”, em “dos problemas a que dão origem” (l.20-21), é exigido pela regência de “origem”.
- E A eliminação do sinal indicativo de crase em “à garantia” (l.24) e “às correlações” (l.25) não altera o sentido original do texto.

### QUESTÃO 6

1 Estão-se confirmando as tristes previsões de que  
a ação das autoridades logo esmoreceria e a Lei  
n.º 11.705/2008, mais conhecida como Lei Seca, teria  
4 dificuldades para se impor. Nos primeiros meses de vigência  
da legislação, a partir de junho de 2008, eram frequentes, em  
todo o país, as cenas de motoristas flagrados em estado de  
7 embriaguez e punidos com rigor. O resultado imediato  
disso foi o recuo, mês a mês, no número de acidentes  
provocados pela explosiva combinação de álcool e direção,  
10 consequência da queda do percentual de motoristas que  
admitiam guiar embriagados a uma margem que passou a  
variar entre 0,9% e 1,3%. Mas o avanço só durou até  
13 outubro. Em novembro, esse patamar já havia subido para  
2,1%. Em março, bateu em 2,2%. É a volta à situação  
anterior, uma frustração que exige resposta imediata do  
16 Estado. A vigilância inicial, com barreiras em horários e  
pontos estratégicos, não foi suficiente para despertar a  
consciência do cidadão e provocar mudança de  
19 comportamento. Tampouco sensibiliza os motoristas a  
informação de que tamanha irresponsabilidade resulta, no  
Brasil, na morte de 17 mil pessoas por ano, além de fazer  
22 milhares de outras vítimas que escapam com vida, mas se  
ferem gravemente, muitas vezes de modo irreversível,  
condenadas a paraplegias ou tetraplegias. O Sistema  
25 Único de Saúde registrou, em 2006, mais de 123 mil  
atendimentos a acidentados em transportes terrestres.  
A tragédia tem, pois, as proporções de uma guerra e, como  
28 tal, deve ser enfrentada sem trégua.

Correio Braziliense. Editorial, 9/4/2009 (com adaptações).

Em relação ao texto acima, assinale a opção correta.

- A O emprego do futuro do pretérito em “esmoreceria” (l.2) e em “teria” (l.3) justifica-se por se tratar de uma afirmativa indiscutível, categórica.
- B O termo “Mas” (l.12) pode, sem prejuízo para a correção gramatical do período e para a informação original do texto, ser substituído por qualquer um dos seguintes termos, seguidos de vírgula: **Porém, Contudo, Todavia, No entanto, Entretanto**.
- C O termo “disso” (l.8) é elemento coesivo que retoma o antecedente “primeiros meses de vigência da legislação” (l.4-5).
- D O emprego do sinal indicativo de crase em “É a volta à situação anterior” (l.14-15) justifica-se pela regência de “É” e pela presença de artigo definido feminino.
- E Em “mas se ferem gravemente” (l.22-23) o termo “mas” tem a noção de condição.

**QUESTÃO 7**

As opções seguintes constituem, na ordem em que se encontram, um texto adaptado do jornal **Zero Hora**, de 9/4/2009. Assinale a opção que está gramaticalmente correta e de acordo com as exigências da norma culta.

- Ⓐ Menos de um ano depois de ter entrado em vigor, a chamada Lei Seca está longe de demonstrar a eficácia do período inicial, quando o recrudescimento na fiscalização contribuiu para uma redução considerável no número de acidentes provocados por pessoas embriagadas ao volante.
- Ⓑ O Brasil com cerca de 17 mil mortes anuais em ocorrências de trânsito associadas ao álcool, precisa resgatar uma lei cheia de boas intenções enquanto é tempo.
- Ⓒ A divulgação do levantamento coincide com o início de uma nova campanha publicitária de âmbito nacional, advertindo que dirigir alcoolizado, quando não dá morte, pode dar cadeia e choca por algumas razões específicas.
- Ⓓ Uma delas é a particularidade de demonstrar que o percentual de 2,3% de motoristas que admitem o hábito de dirigir depois de beber superam o de um ano antes da lei ter tornado-se mais rigorosa, então de 2,2%.
- Ⓔ Nos meses posteriores a vigência das novas normas, quando a fiscalização mostrou-se mais presente, o percentual chegou à cair para 0,9%, considerado menos desastroso por especialistas.

**QUESTÃO 8**

As opções seguintes constituem, na ordem apresentada, um texto adaptado do jornal **Zero Hora**, de 9/4/2009. Assinale a opção correspondente ao trecho que apresenta erro de concordância.

- Ⓐ O abrandamento na fiscalização é o principal responsável pelo salto no número de motoristas com o hábito de dirigir depois de ingerir álcool, o que exige a volta do rigor contra infratores e a ênfase em campanhas permanentes de conscientização.
- Ⓑ Como ficou provado no período imediatamente posterior à vigência da lei, no ano passado, só as punições têm o poder de intimidar quem costuma assumir o volante mesmo tendo bebido.
- Ⓒ Isso significa que é preciso desfazer de imediato a sensação de que o poder público vai continuar a tolerar abusos desse tipo por parte dos condutores de veículos.
- Ⓓ As novas normas foram impropriamente batizadas de Lei Seca, pois não impõe qualquer restrição a quem gosta e quer beber.
- Ⓔ A punição prevista é unicamente para quem, mesmo depois de beber além da conta, põe em risco a própria vida e a dos outros ao assumir o volante.

**QUESTÃO 9**

1 Depois de 45 anos, os episódios ocorridos entre a  
renúncia do presidente Jânio Quadros, em 1961, e a  
deposição do seu sucessor legal, o vice João Goulart, em  
4 1964, continuam a ser vistos com os olhos da época e  
interpretados da mesma maneira. Falta visão de conjunto  
pela perspectiva dos antecedentes, desde a Proclamação da  
7 República em 1889, por iniciativa militar e com participação  
civil complementar. Em 1964, faltou bom senso às  
esquerdas e capacidade de recomposição ao centro liberal,  
10 para evitar a derrapagem à direita. O sonho republicano  
converteu-se em pesadelo e, mais do que um erro, em 1964  
o radicalismo golpista cometeu o crime de acordar  
13 preconceitos equivocados nas relações entre militares e  
civis. Nos episódios anteriores, como o suicídio de Getúlio  
Vargas, a eleição de JK, a renúncia de Jânio e a posse de  
16 Jango, os militares foram assediados pelos políticos, que  
contavam certo com a devolução das rédeas do poder logo  
depois. Mas, em 1964, os militares resolveram assumir a  
19 empreitada e completar o serviço. Sobraram-lhes a culpa  
histórica e o ressentimento com a sociedade. Neste século,  
amplia-se a aposta de que a história do Brasil proscreveu os  
22 golpes de Estado.

Wilson Figueiredo. *Jornal do Brasil*, 9/4/2009 (com adaptações).

Em relação ao texto acima, assinale a opção **incorreta**.

- Ⓐ Em “converteu-se” (ℓ.11), o pronome “se” funciona como objeto indireto.
- Ⓑ Os termos “continuam a ser vistos” (ℓ.4) e “interpretados” (ℓ.5) estão no plural porque concordam com “episódios” (ℓ.1).
- Ⓒ O emprego de sinal indicativo de crase em “às esquerdas” (ℓ.8-9) justifica-se pela regência de “faltou” (ℓ.8) e pela presença de artigo definido feminino.
- Ⓓ A palavra “assediados” (ℓ.16) está sendo empregada com o sentido de **procurados, adulados**.
- Ⓔ Em “Sobraram-lhes” (ℓ.19) o pronome “lhes” tem a função de objeto indireto.

**QUESTÃO 10**

1 O tempo das relações internacionais acelerou-se. É como se a mesa em que está posta a agenda política global tivesse ficado pequena para acomodar simultaneamente as  
4 questões que competem entre si com urgência renovada pelas deliberações dos líderes mundiais. Os motivos disso são evidentes. O primeiro é a mudança radical de atitude dos  
7 EUA adotada pelo presidente Barack Obama e acentuada pela crise financeira *made in USA*. Ela tornou insustentáveis os padrões convencionais de exercício da hegemonia  
10 norte-americana e intensificou os efeitos da nova configuração de poder no globo, resultante da ascensão das principais economias emergentes, a começar por China e  
13 Brasil. O outro motivo de aceleração do ritmo da política internacional também tem relação com a crise. A retração econômica alertou os governos dos principais países para o  
16 imperativo de se abrirem a novas iniciativas multilaterais, em um ambiente propenso antes ao entendimento do que à reiteração de antigas divergências.

O Estado de S.Paulo. Editorial, 7/4/2009 (com adaptações).

Quando ao uso no texto acima, a palavra

- A “hegemonia” (l.9) não tem o sentido de **supremacia**.
- B “retração” (l.14) não tem o sentido de **recuo**, de **contração**.
- C “imperativo” (l.16) não tem o sentido de **necessidade absoluta**.
- D “propenso” (l. 17) não tem o sentido de **tendente**.
- E “reiteração” (l.18) não tem o sentido de **mitigação**.

**Texto para as questões de 11 a 13**

1 Uma das controvérsias que envolviam o tratamento da AIDS era a respeito do momento de se iniciá-lo. Muitos especialistas defendiam que isso deveria ser feito o mais cedo possível. Outra corrente argumentava, porém, que o uso de remédios contra o HIV antes do aparecimento de sintomas poderia ser uma exposição desnecessária aos  
4 efeitos colaterais das drogas — entre eles, o aumento do colesterol. Dois importantes estudos puseram fim à polêmica. Eles comprovam que o combate ao HIV deve ser, sim, o mais precoce possível.

Essa estratégia é a melhor forma de proteger o sistema de defesa do corpo do ataque do vírus. Os principais  
7 alvos do HIV são as células CD-4, integrantes desse sistema. Ele as usa para se replicar e acaba destruindo-as. É por isso que, à medida que o vírus se multiplica, a resistência imunológica fica cada vez mais enfraquecida.

O que as pesquisas confirmaram foi que, quanto mais cedo o vírus for enfrentado, mais preservadas ficam as defesas e maior é a sobrevida dos pacientes. “Durante anos começamos a terapia quando o quadro imunológico já estava comprometido. Agora temos evidências de que a instituição precoce da terapia salva vidas”, afirma Mari Kitahata, da  
13 Universidade de Washington, autora de um dos trabalhos.

As conclusões desses estudos devem mudar a  
16 conduta atual, segundo a qual a terapia deve ser iniciada quando a contagem de CD-4 é inferior a 350 cel/mm<sup>3</sup>. Na opinião do infectologista Jamal Suleiman, algumas questões  
19 ainda precisam ser solucionadas. Uma delas é como fazer que o paciente não abandone o tratamento por causa dos efeitos colaterais. Para Mari, esse é um problema menor: “Os  
22 efeitos colaterais do HIV são maiores. Eles são a morte”.

Greice Rodrigues. Sem trégua para o HIV. In: IstoÉ, ano 32, n.º 2.057, 15/4/2009 (com adaptações).

**QUESTÃO 11**

Assinale a opção correta de acordo com as ideias do texto.

- A A pesquisadora Kitahata minimiza a questão relacionada aos efeitos colaterais do HIV.
- B Ainda não há consenso entre os médicos no que diz respeito ao melhor momento para dar início ao tratamento da AIDS.
- C Se um indivíduo possui o vírus HIV, mas ainda não apresenta os sintomas da doença, seu sistema imunológico mantém-se tão preservado quanto o de uma pessoa que não o possui.
- D O vírus HIV ataca as células do sistema imunológico, utiliza-as para se reproduzir e as enfraquece.
- E Pesquisas comprovam que o tratamento da AIDS deve começar o mais cedo possível, para evitar que o HIV destrua as defesas do corpo.

**QUESTÃO 12**

Com respeito às estruturas linguísticas do texto, assinale a opção correta.

- A O texto permaneceria correto caso se substituísse o trecho “o combate ao HIV” (l.9) por **o combate a doença**.
- B O uso do vocábulo “sim” (l.10) entre vírgulas reforça a intenção do autor de comprovar que não há dúvidas quanto ao melhor momento para o tratamento da AIDS.
- C O trecho “integrantes desse sistema” (l.13) equivale, sintaticamente, a **os quais integram esse sistema**.
- D O verbo “replicar” (l.14) possui a mesma regência que em: O acusado falou sem que ninguém replicasse.
- E O vocábulo ‘instituição’ (l.21) está empregado no texto com sentido equivalente ao empregado em: A ONU é uma instituição internacional criada para manter a paz e a segurança no mundo.

**QUESTÃO 13**

No que se refere aos recursos coesivos do texto, assinale a opção **incorreta**.

- A O pronome “desse” (l.13) refere-se a “sistema de defesa do corpo” (l.12).
- B Na linha 14, o pronome “as”, em suas duas ocorrências, tem o mesmo referente.
- C Na linha 25, a expressão “a qual” refere-se a “terapia”.
- D O pronome “esse” (l.30) refere-se a “paciente” (l.29).
- E O pronome “Eles” (l.31) refere-se a ‘efeitos colaterais do HIV’ (l.31).

## Texto para as questões 14 e 15

1 O Brasil possui mais de 1,6 milhão de quilômetros de estradas, o suficiente para colocá-lo em quarto lugar no ranque das vinte maiores economias do mundo nesse quesito, atrás apenas dos EUA, da China e da Índia. Mas uma análise mais criteriosa da situação das rodovias nacionais trata com a devida medida esse desempenho. Apenas 12,2% das estradas brasileiras estão pavimentadas, ou aproximadamente 196 mil quilômetros.

7 Ao incluir no cálculo variáveis relacionadas à extensão territorial, população e frota de veículos, de acordo com o modelo estatístico criado pelo italiano Giorgio Mortara, nos anos 10 70 do século XX, o Brasil passa a ocupar a última colocação entre as principais economias, com um quarto da cobertura russa e um décimo da existente nos EUA.

13 “O Brasil tem a décima maior economia do planeta, mas está na lanterna da infraestrutura rodoviária entre as vinte maiores economias mundiais”, pontua o consultor de transportes Geraldo Vianna, ex-presidente da Associação do Transporte de Cargas e Logística. “Costuma-se dizer que o Brasil só precisa investir na manutenção das rodovias já existentes, mas não é bem assim. Ainda mais se levarmos em consideração que mais de 60% da produção nacional são escoados exclusivamente por estradas”.

22 Entretanto, Vianna acredita que, diante da histórica escassez de investimentos em infraestrutura, o melhor seria se concentrar na malha existente, em vez de investir maciçamente na criação de novas estradas, como se fez nas décadas de 50, 60 e 70 do último século.

Rodrigo Martins. *Aos trancos e barrancos*. In: *Carta Capital*, ano XV, n.º 541, 15/4/2009 (com adaptações).

### QUESTÃO 14

Julgue os itens que se seguem, considerando as ideias do texto.

- I O Brasil é uma das dez maiores potências mundiais no que se refere à infraestrutura rodoviária.
- II O Brasil é uma das quatro maiores potências mundiais no que se refere à extensão da malha rodoviária.
- III A Rússia possui infraestrutura rodoviária apenas 25% superior à do Brasil.
- IV A atual situação da malha rodoviária nacional requer que haja mais investimentos na manutenção das estradas já existentes.

Estão certos apenas os itens

- A I e II.
- B I e III.
- C II e III.
- D II e IV.
- E III e IV.

### QUESTÃO 15

Quanto à correção gramatical, assinale a opção correta.

- A A substituição da vírgula por ponto-e-vírgula, na linha 17, estaria de acordo com as regras de pontuação da norma culta da língua portuguesa.
- B O emprego de singular na expressão “estão pavimentadas” (l.7) manteria a correção gramatical do período.
- C O texto permaneceria correto caso se substituísse a palavra ‘lanterna’ (l.15) por **última colocação**.
- D Os complementos do verbo **acreditar** na linha 23 e em **Eu acredito na sua recuperação** são equivalentes sintaticamente.
- E A palavra “malha” (l.25) está empregada no sentido figurado.

### QUESTÃO 16

Em determinado município, constatou-se que existiam 2.000 crianças em idade escolar, mas apenas 1.850 delas encontravam-se matriculadas na rede de ensino. Sabe-se, ainda, que 85% das crianças desse município em idade escolar estão inscritas no programa bolsa-família do governo federal, das quais 1.600 estão matriculadas em alguma escola da referida rede de ensino.

Com relação a essa situação hipotética, é correto afirmar que o número de crianças do referido município em idade escolar que não estão matriculadas na rede de ensino desse município e não estão inscritas no programa bolsa-família do governo federal é igual a

- A 50.
- B 100.
- C 150.
- D 200.
- E 250.

### QUESTÃO 17

Em uma cidade em que 30% da população costuma assistir a jogos de futebol pela televisão, constatou-se que 10% da população torce por um time A, 15%, por um time B, e que esses dois times não têm torcedores em comum. Sabe-se, ainda, que, nessa cidade, apenas metade dos torcedores do time A e dois terços dos torcedores do time B assistem a jogos de futebol pela TV.

Nessa situação, a porcentagem de pessoas que não assistem a jogos de futebol pela TV nem são torcedoras de um dos dois times é igual a

- A 30%.
- B 40%.
- C 50%.
- D 60%.
- E 70%.

### RASCUNHO

**QUESTÃO 18**

Em determinada região produtora de tomates, observou-se que 10% da produção é perdida no momento da colheita, que 20% do restante dessa produção não é vendido por se estragar durante o transporte ou comercialização e que o restante é vendido. Sabe-se, ainda, que os consumidores desperdiçam  $\frac{1}{6}$  do que compram. Nessa situação, a porcentagem da produção de tomates, nessa região, que não é de fato consumida é

- A inferior a 36%.
- B superior a 36% e inferior a 39%.
- C superior a 39% e inferior a 42%.
- D superior a 42% e inferior a 45%.
- E superior a 45%.

**QUESTÃO 19**

Uma árvore cuja altura é igual a  $8^{\frac{2}{3}}$  m mede

- A menos de 3 m de altura.
- B mais de 3 m e menos de 5 m de altura.
- C mais de 5 m e menos de 7 m de altura.
- D mais de 7 m e menos de 9 m de altura.
- E mais de 9 m de altura.

**QUESTÃO 20**

Um reservatório na forma de um cilindro circular reto, com o raio da base e a altura iguais a 1 m, contém 15 L de água e deverá ser completado com água fornecida por uma torneira cuja vazão é de 5 L de água por minuto. Nessa situação, considerando 3,14 como valor aproximado para  $\pi$ , é correto concluir que o tempo necessário para encher completamente o referido reservatório será igual a

- A 10 h e 25 min.
- B 6 h e 25 min.
- C 6 h e 15 min.
- D 1 h e 25 min.
- E 1 h e 15 min.

**QUESTÃO 21**

Se  $s = r\sqrt{2}$ , em que  $r$  e  $s$  são números racionais, e se  $s \in [-2, 2]$ , então  $s$  é igual a

- A -2.
- B -1.
- C 0.
- D 1.
- E 2.

**QUESTÃO 22**

Se  $x = \frac{a\sqrt{2}-6}{3-2\sqrt{2}}$ , em que  $a$  é um número real, e se  $x$  for um número racional, então  $x$  será igual a

- A -4.
- B -2.
- C 0.
- D 2.
- E 4.

RASCUNHO

**QUESTÃO 23**

Em determinada cidade, 1.260 funcionários com capacidade de trabalho idêntica iniciam diariamente o serviço de limpeza urbana às 22 h e o concluem às 7 h e 20 min do dia seguinte. Durante o período do horário de verão, deseja-se que o tempo necessário para a realização desse trabalho seja reduzido em 1 hora e 20 minutos e, para isso, a prefeitura da cidade pretende contratar novos funcionários com a mesma capacidade de trabalho dos funcionários que já realizam a atividade.

Na situação descrita, a quantidade de novos funcionários que a prefeitura deverá contratar será igual a

- A 126.
- B 140.
- C 180.
- D 189.
- E 210.

**QUESTÃO 24**

Considerando que os 20 empregados da central de atendimento telefônico de uma grande empresa atendam diariamente, em média, a 2.400 telefonemas no período de trabalho de 8 horas, e que essa empresa deseje aumentar o número de empregados da central de atendimento telefônico em 50% e reduzir em 25% o período de trabalho diário desses empregados, então o número médio diário de atendimentos telefônicos da central

- A aumentará em 12,5%.
- B diminuirá em 12,5%.
- C aumentará em 25%.
- D diminuirá em 25%.
- E diminuirá em 50%.

**QUESTÃO 25**

Os indivíduos X, Y e Z investiram conjuntamente suas economias em determinada aplicação financeira da seguinte forma: X investiu R\$ 8.000 durante 5 meses, Y investiu R\$ 6.000 durante 7 meses e Z investiu R\$ 6.000 durante 8 meses. Se essa aplicação produziu um lucro de R\$ 19.500, que deverá ser dividido entre os três investidores, proporcionalmente às quantidades investidas e aos tempos de investimento, então X, Y e Z deverão receber, respectivamente,

- A R\$ 7.800, R\$ 5.850 e R\$ 5.850.
- B R\$ 6.500, R\$ 6.500 e R\$ 6.500.
- C R\$ 6.000, R\$ 6.300 e R\$ 7.200.
- D R\$ 4.875, R\$ 6.825 e R\$ 7.800.
- E R\$ 3.900, R\$ 7.280 e R\$ 8.320.

**QUESTÃO 26**

Se uma fazenda de área igual a 1,04 km<sup>2</sup> for vendida por R\$ 46.800.000, então o preço de cada metro quadrado dessa fazenda custará, em média,

- A R\$ 4,50.
- B R\$ 45,00.
- C R\$ 450,00.
- D R\$ 4.500,00.
- E R\$ 45.000,00.

RASCUNHO

**QUESTÃO 27**

RASCUNHO

Um consumidor desejava comprar um computador em determinada loja, mas não dispunha da quantia necessária ao pagamento do preço à vista, que era de R\$ 1.400. Por isso, o vendedor aceitou que o consumidor desse um valor qualquer de entrada, no momento da compra, e pagasse o restante em uma única parcela, no prazo máximo de seis meses, a contar da data da compra, com juros mensais iguais a 4% ao mês, sob o regime de juros simples. Exatamente cinco meses após a compra, o consumidor pagou a parcela restante, no valor de R\$ 660,00.

Nessa situação, é correto concluir que o valor da entrada paga pelo consumidor foi igual a

- A R\$ 280.
- B R\$ 475.
- C R\$ 740.
- D R\$ 850.
- E R\$ 1.120.

**QUESTÃO 28**

Determinada instituição financeira reajusta o capital investido à taxa de juros compostos de 5% ao mês, nos primeiros seis meses, e 10% ao mês, após o sexto mês. Considerando que o capital de R\$ 5.000 tenha sido investido nessa instituição e que  $1,16$  seja um valor aproximado para  $1,05^3$ , é correto concluir que o valor dos juros resultantes dessa aplicação, ao final do oitavo mês, será

- A inferior a R\$ 1.500.
- B superior a R\$ 1.500 e inferior a R\$ 3.000.
- C superior a R\$ 3.000 e inferior a R\$ 4.500.
- D superior a R\$ 4.500 e inferior a R\$ 6.000.
- E superior a R\$ 6.000.

**QUESTÃO 29**

Se um título de valor nominal igual a R\$ 8.000 for descontado 5 meses antes de seu vencimento, à taxa de desconto racional simples de 5% ao mês, então o valor pago por esse título será igual a

- A R\$ 7.680,00.
- B R\$ 7.600,00.
- C R\$ 6.400,00.
- D R\$ 6.190,25.
- E R\$ 6.000,00.

**QUESTÃO 30**

RASCUNHO

Considerando que o valor atual de um título, após ter sido efetuado o desconto comercial simples à taxa de 2,5% ao mês, seja igual a 80% do seu valor nominal, é correto concluir que o vencimento desse título ocorrerá daqui a

- A 8 meses.
- B 10 meses.
- C 32 meses.
- D 50 meses.
- E 160 meses.

**QUESTÃO 31**

Um levantamento efetuado entre os 100 jovens inscritos em um projeto de inclusão social desenvolvido por uma instituição mostra a seguinte distribuição etária.

idade ( $X$ , em anos)	frequência
16	40
17	30
18	20
19	10

Com base nessas informações, assinale a opção **incorreta**.

- A A mediana da distribuição etária é igual a 17,5 anos.
- B A variável  $X$  apresentada na tabela de frequências é uma variável discreta.
- C A média das idades dos jovens observados no levantamento é igual a 17 anos.
- D A moda da distribuição etária é igual a 16 anos.
- E Dos jovens inscritos no referido projeto de inclusão social, 30% possuem idades maiores ou iguais a 18 anos.

**QUESTÃO 32**

Considerando que, de uma urna que contém 3 bolas amarelas, 5 bolas brancas e 4 bolas vermelhas, 6 bolas sejam escolhidas aleatoriamente, sem reposição, assinale a opção correta.

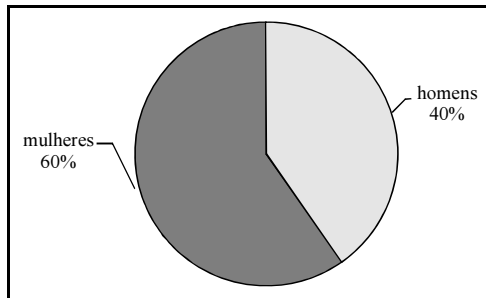
- A A probabilidade de que a escolha contenha duas bolas de cada cor é maior que 20%.
- B A probabilidade de que a escolha não contenha bolas brancas é maior que 1%.
- C O número esperado de bolas vermelhas na escolha é igual a 4.
- D A probabilidade de que o número de bolas vermelhas na escolha seja igual ao número de bolas brancas é de  $5/21$ .
- E A probabilidade de que a escolha contenha todas as 5 bolas brancas é maior que 1%.

**QUESTÃO 33**

X	Y		
	0	1	2
0	0	0,1	0,1
1	0,05	0,1	0,15
2	0,2	0,2	0,1

As linhas de produção I e II fabricam, cada uma, um tipo de peça diferente. Os números de peças produzidas pelas linhas I e II são iguais a X e Y, respectivamente. A distribuição de probabilidade do par (X, Y) é apresentada na tabela acima. Com base nessas informações e na tabela apresentada, assinale a opção correta.

- Ⓐ Em 10% dos casos, a linha de produção I produz uma peça.
- Ⓑ A probabilidade de a linha de produção II produzir uma ou duas peças é igual a 0,25.
- Ⓒ A probabilidade de que a produção total das duas linhas seja superior a 2 é igual a 0,45.
- Ⓓ As duas linhas produzem a mesma quantidade de peças com probabilidade igual a 0,3.
- Ⓔ A produção da linha II é maior do que a produção da linha I, com probabilidade 0,45.

**QUESTÃO 34**

O gráfico acima apresenta a distribuição percentual, por gênero, de uma grande população. Se cinco indivíduos dessa população forem selecionados ao acaso, a probabilidade de serem encontradas, nessa amostra, exatamente 3 mulheres será

- Ⓐ inferior a 0,2.
- Ⓑ superior a 0,2 e inferior a 0,3.
- Ⓒ superior a 0,3 e inferior a 0,4.
- Ⓓ superior a 0,4 e inferior a 0,5.
- Ⓔ superior a 0,5.

**QUESTÃO 35**

Considerando que o capital inicial  $C_0$  seja aplicado em uma instituição financeira que paga juros compostos à taxa de  $i\%$  ao ano, que o montante obtido no final de  $n$  anos seja representado por  $C_n$  ( $n = 0, 1, 2, \dots$ ) e que 1,34 é um valor aproximado de  $1,05^6$ , assinale a opção correta.

- Ⓐ Se  $C_0 = \text{R\$ } 5.000$  e  $i = 5$ , então o montante no final de 6 anos,  $C_6$ , é inferior a  $\text{R\$ } 6.500$ .
- Ⓑ Se  $\frac{C_7}{C_5} = 1,5$ , então  $\frac{C_8}{C_6} = 1,5$ .
- Ⓒ Se  $C_2 = 2C_0$ , então  $i = 100$ .
- Ⓓ Se  $C_3 = \text{R\$ } 13.310$  e  $i = 10$ , então  $C_0$  era superior a  $\text{R\$ } 10.500$ .
- Ⓔ Se  $C_5 = \text{R\$ } 5.200$  e  $C_6 = \text{R\$ } 5.512$ , então  $i = 12$ .

RASCUNHO

**QUESTÃO 36**

Com relação à Internet, assinale a opção correta.

- A A Internet é uma rede comercial que possui um servidor central localizado nos EUA e em que o acesso de usuários deve ser feito por meio de provedores de acesso comerciais conectados ao servidor central.
- B Para que um usuário utilize a Internet, o endereço físico, com o código de endereçamento postal (CEP), do local de instalação do computador de determinado usuário deve estar registrado em um provedor de acesso, para que seja liberado um ponto de acesso para esse usuário.
- C Entre os serviços que estão disponíveis na Internet, incluem-se o de acesso a páginas da Web, de correio eletrônico, de grupos de discussão e o de acesso a bases de dados e de transferência de arquivos (FTP).
- D O acesso à Internet no Brasil é mais rápido e barato via linha telefônica, principalmente por meio de tecnologia *dial-up*, sendo esse meio de acesso disponível a toda a população.
- E O usuário precisa ter, obrigatoriamente, endereço de *e-mail* para poder ter acesso à Internet.

**QUESTÃO 37**

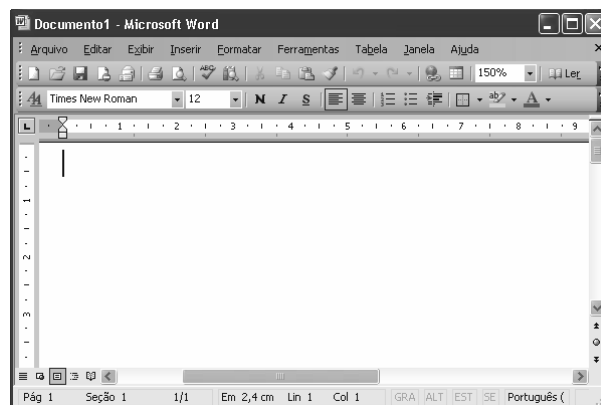
A respeito de *intranet*, assinale a opção correta.

- A *Intranet* é o mesmo que Internet, mudando-se apenas a grafia do termo, em alguns países, em razão da pronúncia.
- B Com as tecnologias de *intranet*, é possível disponibilizar serviços exclusivos para grupos restritos de usuários, como os de uma empresa, por exemplo.
- C Para se acessar uma *intranet* corporativa, é obrigatório usar a Internet, pois seus usuários precisam de um provedor de acesso externo à *intranet* para poderem fazer *login* nessa rede corporativa.
- D Na *intranet*, serviços de acesso a páginas *web* e de acesso a *e-mail* não estão disponíveis, por motivos de segurança.
- E A Internet é formada por um conjunto de *intranets*.







**QUESTÃO 38**

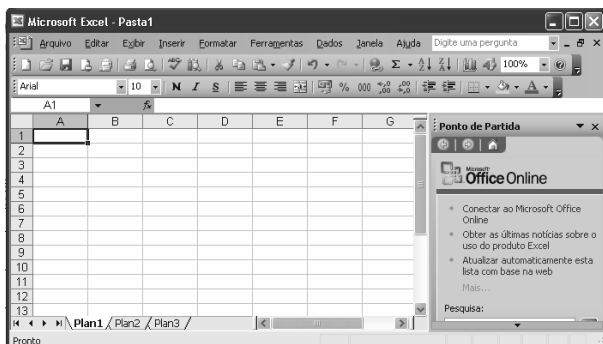
Assinale a opção que apresenta apenas navegadores de acesso à Internet.

- A Opera, Windows e Internet Explorer
- B Mozilla Firefox, Messenger e Microsoft Office
- C Internet Explorer, Outlook Express e Windows
- D Linux, Internet Explorer e Mozilla
- E Internet Explorer, Netscape Navigator e Mozilla Firefox


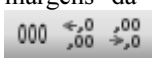




**QUESTÃO 39**

A partir da janela do Microsoft Word 2003, para Windows, ilustrada na figura acima, assinale a opção correta.

- A O alinhamento do texto de documento pode ser alterado por meio das opções do *menu* de configuração de páginas e margens ou a partir das marcas de tabulação contidas na régua .
- B Por meio de funcionalidades disponibilizadas ao se clicar o botão , é possível alterar as opções de justificar as margens e a tabulação do texto no documento.
- C Se for aberto um arquivo do tipo *.doc* armazenado no computador e o documento associado for alterado, então, caso seja clicado o botão , será disponibilizada uma janela em que é solicitada a confirmação de salvar esse arquivo com outro nome.
- D A opção para verificação ortográfica, que realça as palavras erradas encontradas no documento, é acionada ao se clicar o botão .
- E Por meio dos botões  e , respectivamente, podem ser acionadas, de forma automática, opções para copiar e colar trecho do documento.

**QUESTÃO 40**

Considerando a figura acima, que ilustra uma janela do Microsoft Excel 2003, assinale a opção correta.

- A O botão  permite a expansão das margens da planilha em um ponto por vez.
- B Para avançar ou recuar os números nas células conforme as margens da planilha, devem ser acionados os botões  da barra de ferramentas de formatação.
- C O preenchimento do fundo da planilha inteira ou de uma célula selecionada, pintando-o com determinada cor, é ativado por meio do botão .
- D O botão  oferece a opção automática para o cálculo da soma ou de outras funções dos números em um dado intervalo de células.
- E Para serem classificados os conteúdos da planilha em ordem alfabética, podem ser usados os botões  e, em ordem numérica, usa-se o botão .

**QUESTÃO 41**

A realização de cópias de segurança, ou *backup*, dos arquivos armazenados em um computador é importante para garantir a disponibilidade das informações criadas ou utilizadas pelos usuários. A esse respeito, assinale a opção correta.

- A Todos os aplicativos utilizados pelos usuários devem ter cópia de segurança gerada semanalmente.
- B As cópias de arquivos podem ser realizadas manualmente por meio da opção de copiar e colar, de uma mídia para outra, ou podem ser utilizadas ferramentas de *backup* disponibilizadas pelo sistema operacional.
- C O *backup* do tipo incremental copia todos os arquivos selecionados, independentemente de terem sido alterados ou utilizados, ou mesmo que tenham tido o *backup* anterior atualizado.
- D A cópia de segurança deve ser sempre guardada na mesma unidade de disco que os arquivos originais, para que, quando for feita a restauração da cópia, ela possa ser copiada para o destino original com facilidade e rapidez.
- E Toda vez que se faz um *backup*, devem ser feitas cópias do sistema operacional em uso no computador, para se garantir que, quando restaurado, esse sistema funcionará com a licença corrente.

**QUESTÃO 42**

Com relação ao uso do correio eletrônico, assinale a opção correta.

- A Uma mensagem de correio eletrônico pode ser enviada para diversos destinatários da Internet de maneira oculta, ou seja, sem que ela contenha o endereço de *e-mail* do remetente.
- B Para que possa haver troca de mensagens de correio eletrônico na Internet, é necessário que os usuários tenham endereço de *e-mail*, em que constem a identificação do usuário, o símbolo @ e o domínio onde está localizado o servidor de *e-mail*.
- C Todos os programas de correio eletrônico acessíveis via Web, conhecidos como WebMail, oferecem uso ilimitado de caixa postal, permitem o envio de arquivos em qualquer tamanho e impedem, automaticamente, o envio e recebimento de *spam* por usuários não autorizados.
- D HTTP é o protocolo utilizado para a transmissão de mensagens via Internet, com ou sem anexo.
- E O programa Messenger, ou qualquer programa de *chat* ou ICQ, permite enviar uma mensagem de correio eletrônico instantânea, com resposta imediata do destinatário.

**QUESTÃO 43**

Acerca de sistemas de arquivos, assinale a opção **incorreta**.

- A O Windows Explorer permite navegar pela estrutura de arquivos e diretórios armazenados no computador local ou nas unidades em que o usuário tenha permissão de acesso, como, por exemplo, o ambiente de rede.
- B Em um computador que utiliza o sistema operacional Windows XP, é possível criar e armazenar quantos arquivos e diretórios forem necessários, dependendo apenas da capacidade de armazenamento dos discos e unidades disponíveis.
- C As partições de um disco indicam uma parcela que foi considerada uma unidade independente, mesmo que esta esteja contida na mesma mídia do disco; a essa unidade é atribuído um novo nome de disco, como D: ou E:, por exemplo.
- D Os *pendrives*, ou dispositivos de armazenamento móveis, são úteis pela facilidade e mobilidade do uso para tarefas de armazenamento ou cópia de arquivos.
- E Os discos rígidos de um computador são unidades de memória secundária e permitem a leitura e a gravação de arquivos de maneira muito mais rápida que as memórias RAM.

**QUESTÃO 44**

Com relação aos conceitos de *software* livre, assinale a opção correta.

- Ⓐ Atualmente, é possível encontrar *software* gratuito que realiza tarefas como edição de textos e de planilhas, e criação de apresentações e de imagens, por exemplo, com funcionalidades equivalentes àquelas disponíveis em *software* comercial.
- Ⓑ O conceito de *software* livre é limitado à distribuição do *software*, que é gratuita, ao passo que o desenvolvimento é pago, pois é realizado por empresas especializadas.
- Ⓒ O Linux e o Unix são sistemas compatíveis com *software* livre que têm versões gratuitas apenas para usuários domésticos; as versões para usuários comerciais são pagas.
- Ⓓ As licenças comerciais do tipo GNU ou GPL, por serem facilmente burladas, tornaram-se ilegalmente gratuitas em todo mundo.
- Ⓔ Um *software* do tipo *open-source* pode ser utilizado por qualquer usuário, desde que não sejam feitas alterações em seu código-fonte.

**QUESTÃO 45**

Assinale a opção correta a respeito de funcionalidades dos componentes da suíte BOffice.

- Ⓐ Para se imprimir arquivos de qualquer natureza, inclusive arquivos em qualquer formato do Windows, utiliza-se o aplicativo Impress.
- Ⓑ O Writer é o editor de textos do BOffice, com funcionalidades equivalentes às do Microsoft PowerPoint.
- Ⓒ O Calc é um *software* editor de planilhas eletrônicas, com funcionalidades equivalentes às do Microsoft Excel.
- Ⓓ O Math é um *software* gratuito utilizado para desenho e edição de imagens, matrizes e modelos em três dimensões.
- Ⓔ Uma das limitações do editor de texto do BOffice é não prover suporte a arquivos HTML.

**QUESTÃO 46**

De acordo com o código de ética profissional, no exercício do cargo ou função, ou fora dele, os primados maiores que devem nortear as condutas do servidor público incluem

- Ⓐ proatividade, decência, dignidade e zelo, bem como consciência nacionalista.
- Ⓑ eficiência, decoro, desvelo e resiliência, assim como consciência dos juízos valorativos apriorísticos.
- Ⓒ zelo, responsividade, resiliência e bom senso, bem como interiorização da norma coibitória fundamental.
- Ⓓ dignidade, decoro, zelo, eficácia e consciência dos princípios morais.
- Ⓔ decoro, integridade, desmesura e consciência dos preceitos democráticos que permeiam a gestão da coisa pública.

**QUESTÃO 47**

Os deveres fundamentais do servidor público incluem

- Ⓐ o dever de ser cortês, ter urbanidade, disponibilidade e atenção, respeitando a capacidade e as limitações individuais de todos os usuários do serviço público, sem qualquer espécie de preconceito ou distinção de raça, sexo, nacionalidade, cor, idade, religião, cunho político e posição social, abstendo-se, dessa forma, de causar-lhes dano moral.
- Ⓑ o respeito incondicional e irrestrito à hierarquia, porém sem nenhum temor de cumprir todas as ordens de superiores hierárquicos, de contratantes, interessados e outros que visem obter quaisquer favores ou vantagens desde que não ocasionem qualquer comprometimento indevido da estrutura em que se funda o poder estatal.
- Ⓒ o dever de ter consciência de que seu trabalho é regido por princípios éticos que se materializam na adequada remuneração dos serviços públicos por ele prestados.
- Ⓓ o dever de divulgar e informar a todos os integrantes da sua classe a respeito da existência do código de ética, estimulando o seu integral cumprimento, bem como incentivando a delação premiada de todas as condutas imorais, ilegais ou aéticas e o expurgo dos indivíduos dissonantes.
- Ⓔ a participação nos movimentos políticos e estudantis que se relacionem com a melhoria do exercício de suas funções, tendo por escopo a realização do bem comum, bem como a apresentação ao trabalho trajado com dignidade, decência e decoro, sendo-lhe vedados o uso de perfumes fortes, adornos e vestimentas coloridas.

**QUESTÃO 48**

É vedado ao servidor público

- I deixar de utilizar os avanços técnicos e científicos ao seu alcance ou do seu conhecimento para atendimento do seu mister, bem como fazer uso de informações privilegiadas obtidas no âmbito interno de seu serviço, em benefício próprio, de parentes, de amigos ou de terceiros.
- II permitir que perseguições, simpatias, antipatias, caprichos, paixões ou interesses de ordem pessoal interfiram no trato com o público, com os jurisdicionados administrativos ou com colegas hierarquicamente superiores ou inferiores.
- III alterar ou deturpar o teor de documentos que deva encaminhar para providências, bem como retirar da repartição pública, sem estar legalmente autorizado, qualquer documento, livro ou bem pertencente ao patrimônio público.
- IV iludir ou tentar iludir qualquer pessoa que necessite do atendimento em serviços públicos, bem como desviar servidor público para atendimento a interesse particular.

A quantidade de itens certos é igual a

- A 0.
- B 1.
- C 2.
- D 3.
- E 4.

**QUESTÃO 49**

Segundo o Código de Ética Profissional do Servidor Público Civil do Poder Executivo Federal, a Comissão de Ética está encarregada de

- A processar e julgar os atos lesivos ao bem comum e ao patrimônio do Estado, bem como decidir, em instância recursal máxima, a dosimetria das penas impostas aos infratores.
- B orientar e aconselhar o Conselho de Governo acerca das normas de responsabilidade social, bem como estabelecer os parâmetros necessários ao credenciamento do governo brasileiro no Comitê Internacional de Ética Pública.
- C orientar e aconselhar a respeito de ética profissional do servidor, no tratamento com as pessoas e com o patrimônio público, competindo-lhe conhecer concretamente de imputação ou de procedimento suscetível de censura.
- D publicizar a listagem oficial dos infratores para que esses possam passar pela reprovação social como meio de autoaprimoramento e correção de conduta.
- E informar ao Congresso Nacional acerca do funcionamento das comissões de ética em todo o território nacional, bem como submeter à Comissão de Constituição e Justiça os recursos impetrados pelos condenados.

**QUESTÃO 50**

De acordo com o Decreto n.º 6.029/2007, compete ao Sistema de Gestão da Ética do Poder Executivo Federal

- A promover o procedimento inquisitorial dos indiciados, bem como estabelecer as penas e medidas corretivas aplicáveis aos infratores, incluindo-se o arbitramento do valor pecuniário das multas e compensações devidas.
- B contribuir para a implementação de políticas públicas tendo a transparência e o acesso à informação como instrumentos fundamentais para o exercício de gestão da ética pública.
- C promover o remanejamento dos servidores apenados, bem como clarificar as confluências ambíguas situadas entre as obrigações para com os cargos e a utilização inadequada dos instrumentos de poder político dos órgãos dirigentes.
- D dirimir as contradições legais e a morosidade do processo jurídico com relação ao governo, que controla os procedimentos investigatórios.
- E elaborar reformas na legislação vigente em tudo o que se relacionar com os processos punitivos especiais, bem como tornar positivas as condutas exemplares por meio de prêmios e incentivos fiscais.

**QUESTÃO 51**

A comissão de ética pública (CEP) será integrada por

- A um representante da sociedade civil organizada, dois membros dos sindicatos de trabalhadores, um do empresariado, bem como por um membro da OAB e dois membros do Poder Judiciário, designados pelo ministro chefe da Casa Civil.
- B um representante da sociedade civil organizada, dois membros do Conselho Nacional de Justiça, um do empresariado, bem como por um membro da OAB e dois membros do Ministério Público da União, designados pelo ministro da Justiça.
- C um representante da sociedade civil organizada, dois membros do Conselho Nacional de Justiça, um do empresariado, bem como por um membro da OAB e dois membros do Ministério Público da União, designados pelo ministro chefe da Casa Civil.
- D sete representantes da sociedade civil organizada e designada pelo ministro chefe da Casa Civil.
- E sete brasileiros que preencham os requisitos de idoneidade moral, reputação ilibada e notória experiência em administração pública, designados pelo presidente da República.

**QUESTÃO 52**

As competências da CEP incluem

- Ⓐ atuar como instância consultiva do presidente da República e dos ministros de Estado em matéria de ética pública, bem como coordenar, avaliar e supervisionar o Sistema de Gestão da Ética Pública do Poder Executivo Federal.
- Ⓑ propor um dos nomes que integrarão a lista tríplice a ser submetida ao ministro chefe da Casa Civil, a partir da qual será indicado o presidente da CEP.
- Ⓒ coordenar e supervisionar o Sistema Nacional de Auditoria Ética do Serviço Público, bem como avaliar seus resultados.
- Ⓓ aprovar o regimento interno da Comissão Nacional de Auditores Éticos do Serviço Público.
- Ⓔ atuar como instância consultiva e deliberativa do ministro chefe da Casa Civil em matéria de ética pública, bem como coordenar e implementar a Rede Nacional de Gerenciamento Ético do Poder Executivo.

**QUESTÃO 53**

Ao administrar a aplicação do Código de Conduta da Alta Administração Federal, a CEP deve

- Ⓐ denunciar condutas em desacordo com normas previstas no código, quando praticadas por autoridades a ele submetidas.
- Ⓑ apresentar ao presidente do Supremo Tribunal Federal medidas para o aprimoramento desse código.
- Ⓒ dirimir dúvidas a respeito da interpretação de normas contidas no código, deliberando sobre casos omissos.
- Ⓓ postular em juízo, representando os interesses maiores da sociedade brasileira.
- Ⓔ arguir descumprimento de preceito fundamental sempre que ato lesivo ao interesse público for perpetrado por autoridade submetida ao código.

**QUESTÃO 54**

A CEP conta com uma secretaria-executiva que está

- Ⓐ vinculada ao Ministério da Justiça, à qual compete editar medidas de fiscalização e controle da conduta da alta administração do Estado.
- Ⓑ submetida ao ministro chefe da Casa Civil, à qual compete coordenar e controlar o funcionamento das comissões setoriais de base.
- Ⓒ submetida à Casa Civil da Presidência da República, à qual compete nomear os integrantes do Conselho Pleno que têm direito a voto.
- Ⓓ submetida ao ministro chefe da Casa Civil, à qual compete coordenar as câmaras técnicas do Conselho Nacional de Ética Pública.
- Ⓔ vinculada à Casa Civil da Presidência da República. A esta secretaria compete prestar apoio técnico e administrativo aos trabalhos da CEP.

**QUESTÃO 55**

Qualquer cidadão, agente público, pessoa jurídica de direito privado, associação ou entidade de classe pode provocar a atuação da CEP ou de comissão de ética, visando à apuração de infração ética imputada a agente público, órgão ou setor específico de ente estatal. Nesse sentido, entende-se por agente público todo aquele que

- Ⓐ preste serviços de natureza permanente, mediante retribuição financeira, a órgão ou entidade da administração pública federal, direta e indireta, por força de lei, contrato ou qualquer ato jurídico.
- Ⓑ preste serviços de natureza permanente, temporária, excepcional ou eventual, ainda que sem retribuição financeira, a órgão ou entidade da administração pública federal, direta e indireta, por força de lei, contrato ou qualquer ato jurídico.
- Ⓒ exerça atividade juridicamente relevante e socialmente responsável para o Estado, ainda que sem retribuição financeira, por força de lei ou contrato.
- Ⓓ aja em nome do Estado na persecução do interesse público e visando ao bem comum e receba, em troca, retribuição financeira ou benefícios fiscais, por força de lei, contrato ou qualquer ato jurídico.
- Ⓔ aja em nome do Estado com vistas ao atendimento do interesse público.

## PROVA DISCURSIVA

- Nesta prova, faça o que se pede, usando o espaço para rascunho indicado no presente caderno. Em seguida, transcreva o texto para a **FOLHA DE TEXTO DEFINITIVO DA PROVA DISCURSIVA**, no local apropriado, pois **não serão avaliados fragmentos de texto escritos em locais indevidos**.
- Qualquer fragmento de texto além da extensão máxima de linhas disponibilizadas será desconsiderado.
- Na **folha de texto definitivo**, identifique-se apenas no cabeçalho da primeira página, pois **não será avaliado** texto que tenha qualquer assinatura ou marca identificadora fora do local apropriado.

### **Considerações socioantropológicas sobre a ética na sociedade brasileira**

Uma das maiores fontes de resistência ao trabalho da Comissão de Ética não diz respeito apenas a sua novidade, mas especialmente ao fato de que a comissão dissemina e faz com que os agentes situados no mais alto escalão do Estado tenham consciência do seu papel e, assim, atuem de acordo com premissas universais, válidas para todos, inclusive e principalmente, eis a grande novidade, para eles próprios. Como, pois, tornar aceitável, em uma sociedade personalista, relacional e hierárquica, o fato de que todos, inclusive (e especialmente) os agentes do Estado, estão submetidos aos mesmos princípios e devem ser tratados do mesmo modo que o cidadão comum quanto aos seus conflitos de interesses. Essa é uma das dimensões críticas do trabalho deste novo órgão.

Para que isso venha a ocorrer, será preciso redesenhar os estilos de conceber e de exercer o poder político-administrativo no Brasil. E não se chega a essa mudança sem garantir a continuidade do programa e da comissão, no que seria um impulso na implementação de posturas isonômicas, algo inovador e sem paralelo na história do país. Paralelamente, será preciso divulgar com todas as letras algumas das implicações sociológicas desse sistema, algo de difícil realização, considerando-se, como estou buscando revelar aqui, as premissas básicas do sistema que, como vemos, mas não gostamos de enxergar, confunde nome de família, parentesco, o cargo ocupado e as relações pessoais, com privilégio, arrogância, irresponsabilidade pública e impunidade.

Roberto Da Matta. Informe de consultoria apresentado ao Banco Interamericano de Desenvolvimento, 20/11/2001 (com adaptações).

---

Considerando que o texto acima tem caráter unicamente motivador, redija um texto dissertativo acerca do seguinte tema.

### **RELACIONAMENTO HUMANO NO SERVIÇO PÚBLICO**

Ao elaborar seu texto, aborde, necessariamente, os seguintes aspectos:

- ▶ postura do servidor no atendimento ao público;
- ▶ trabalho e relações pessoais;
- ▶ ética no trabalho.

1	
2	
3	
4	
5	
6	
7	
8	
9	
10	
11	
12	
13	
14	
15	
16	
17	
18	
19	
20	
21	
22	
23	
24	
25	
26	
27	
28	
29	
30	