


## CONHECIMENTOS ESPECÍFICOS




**DECLARAÇÃO**

Brasília, 31 de fevereiro de 2010.

Declaramos para os devidos fins, que José José de José, é aluno regularmente matriculado no curso de Licenciatura em Letras, Habilitação Português desta universidade, sob número de matrícula 1.234/08.

Atenciosamente,



João João de João  
Diretor do Instituto de Letras

Tendo como referência o exemplo de texto acima e considerando as normas de redação de expedientes, julgue os próximos itens.

- 51 A declaração exemplificada atende aos requisitos de correção gramatical, clareza, objetividade e concisão, exigidos pelos princípios da redação de correspondências oficiais.
- 52 De acordo com as normas de redação de correspondências oficiais, não se admite em declarações fecho com saudação, razão pela qual o termo “Atenciosamente” deve ser suprimido do documento acima apresentado.

Julgue os itens a seguir, relativos à redação de documentos oficiais.

- 53 O exemplo a seguir respeita as regras de redação para ser usado como fecho de um ofício.

Atenciosamente,



Pedro Álvares Cabral  
Chefe do Almoarifado

- 54 Está adequada para compor o vocativo de aviso ou carta circular expedidos por diretor de faculdade aos docentes da instituição a seguinte forma de tratamento: **Excelentíssimos Senhores e Senhoras; Prezados Professores da Faculdade X.**

- 55 O fragmento a seguir atende aos requisitos gramaticais e formais da redação de uma ata.

Aos dezoito dias do mês de Março, as 9 (nove) horas e trinta minutos reuniram-se os membros do colegiado do Departamento Tal, da Faculdade Tal, da Universidade de Brasília, para deliberar sobre a seguinte pauta:

1. Leitura e aprovação da ata anterior;
2. Apresentação da servidora Fulana de Tal;
3. Solicitação do Prof. Beltrano da Silva de financiamento para participação em congresso;
4. Informes gerais.

Estavam presentes os seguintes membros: Fulano, Fulano e Fulano.

Considere a seguinte passagem, com adaptações, de **A República**, de Platão, nas palavras de Glauco.

Vamos provar que a justiça só é praticada contra a própria vontade dos indivíduos e devido à incapacidade de se fazer a injustiça. Ao que parece não encontraremos ninguém suficientemente dotado de força de vontade para permanecer justo e resistir à tentação de tomar o que pertence a outro, já que poderia impunemente tomar o que quisesse no mercado, invadir as casas e ter relações sexuais com quem quisesse, matar e quebrar as armas dos outros. Nada o distinguiria do injusto, ambos tenderiam a fazer o mesmo e veríamos nisso a prova de que ninguém é justo porque deseja, mas por imposição.

Platão, H. (1980). **A República**. Ed. Tempos Modernos.

Tendo como referência o texto acima, julgue os itens que se seguem.

- 56 A história da cidadania no Brasil é praticamente inseparável da história das lutas pelos direitos fundamentais da pessoa, marcadas por massacres, violência, exclusão, entre outros acontecimentos que caracterizam a história do Brasil desde os tempos da colonização.
- 57 Cidadania e outros conceitos modernos de ideais políticos, como os de justiça, liberdade, governo constitucional e respeito às leis, originaram-se de conceitos formulados por pensadores helênicos sobre as instituições da cidade-estado.
- 58 A igualdade resulta da organização humana, que propicia a igualização das diferenças por intermédio das instituições.
- 59 Para fins de definição de quem será membro desse estado, o conceito de cidadania é equivalente aos conceitos de nacionalidade ou naturalidade.
- 60 Atualmente, o conceito de cidadania deixou de ser cambiante, tornando-se algo acabado, visto que o anseio por liberdade, mais direitos e melhores garantias individuais arrefeceu em razão dos patamares de evolução já alcançados.

Acerca das relações humanas no trabalho, julgue os itens a seguir.

- 61 A comunicação não verbal não fornece quaisquer bases formais e sólidas para orientar o comportamento das pessoas nas organizações.
- 62 A execução de trabalhos em equipe requer divisão clara das atividades e atribuições entre os membros, com o objetivo de diminuir as possibilidades de conflitos de relacionamento intragrupal.
- 63 Dinâmicas e palestras são recursos eficientes e suficientes para a elaboração de programas de melhoria da qualidade do relacionamento entre as pessoas no local de trabalho.
- 64 Desde o advento da Revolução Industrial, o aumento no tamanho e na complexidade das organizações trouxe consigo o avanço tecnológico e uma visão centrada na lucratividade e produtividade, levando os homens a não se identificarem com o produto de seu trabalho. Essa não identificação afeta profundamente a qualidade do relacionamento no trabalho.
- 65 A compreensão do gerente de que os subordinados são indivíduos diferentes e que, em razão disso, necessitam ser tratados por ele de modo diferenciado, tende a beneficiar as relações humanas no ambiente de trabalho.
- 66 No ambiente organizacional, ao se lidar com vários tipos de pessoas, deve-se adotar uma forma de comunicação interpessoal desprovida de emoção, dada a impossibilidade de prever a reação das pessoas em face de uma comunicação com conteúdo emocional, ainda que este seja positivo.

A respeito de relações públicas nas organizações, julgue os próximos itens.

- 67 As relações públicas têm em comum com o *marketing* o campo de atuação e o público-alvo.
- 68 Administrar as relações conflituosas entre a organização e seus públicos consiste em uma ação linguística cujos efeitos podem resultar em mudanças no estado mental dos indivíduos e na realidade organizacional.
- 69 A função administrativa de relações públicas compreende a avaliação das atitudes públicas, a identificação de diretrizes e conduta individual ou da organização na busca do interesse público, o planejamento e a execução de programas de ação para conquistar a compreensão e a aceitação do público.
- 70 Por se tratar de atividade com foco interno, as ações de relações públicas repercutem somente nos comportamentos dos empregados da organização.

### Um país loteado

A parcela do território do Brasil destinada à preservação do meio ambiente, a comunidades indígenas e quilombolas e à reforma agrária já chega a quase 90%. Nos próximos anos, esse número deve subir ainda mais, haja vista a meta do governo de demarcar mais 334 reservas ambientais, 232 áreas indígenas, 948 quilombos e de fornecer 50.000 lotes para a reforma agrária. Para o desenvolvimento da agricultura e das demais atividades econômicas serão destinados apenas 8% do território.

I Extensão territorial já demarcada atualmente:

→ reservas ambientais e demais áreas de preservação ambiental: 5,5 milhões de quilômetros quadrados, equivalentes a 64,5% do território nacional ou ao território dos estados do Acre, Amazonas, Rondônia, Amapá, Mato Grosso, Mato Grosso do Sul, Tocantins, Pará e Maranhão;

→ cidades e infraestrutura: 255 mil quilômetros quadrados, equivalentes a 3% do território nacional ou ao território dos estados do Ceará, Rio Grande do Norte e Paraíba;

→ reservas indígenas e quilombos: 1,11 milhões de quilômetros quadrados, equivalentes a 13,1% do território nacional ou ao território dos estados de Goiás, Sergipe, Distrito Federal, Minas Gerais, Espírito Santo e Rio de Janeiro;

→ assentamentos de reforma agrária: 850 mil quilômetros quadrados, equivalentes a 10% do território nacional ou ao território dos estados de São Paulo, Paraná, Santa Catarina, Rio Grande do Sul e Alagoas.

II Extensão a ser demarcada, equivalente ao território do estado de Pernambuco:

→ reservas indígenas e quilombos: 72,6 mil quilômetros quadrados ou 0,85% do território nacional;

→ assentamentos de reforma agrária: 15 mil quilômetros quadrados ou 0,2% do território nacional;

→ reservas e demais áreas de preservação ambiental: 15 mil quilômetros quadrados ou 0,2% do território nacional.

III Quanto sobraria do território nacional para a produção agrícola e o desenvolvimento de atividades econômicas:

→ 700 mil quilômetros quadrados, equivalentes a 8% do território nacional ou ao território dos estados da Bahia e do Piauí.

A farrã da antropologia oportunista. In: Veja, ed. n.º 2.163, 5/5/2010, p. 154-61 (com adaptações).

Tendo o texto acima como referência, julgue os próximos itens.

- 71 Considere que a área dos territórios dos estados do Pará e Amazonas corresponda a 40% da área já demarcada de reservas ambientais e demais áreas de preservação ambiental. Nessa situação, é correto afirmar que a área desses estados equivale a mais de  $\frac{1}{4}$  da área do território nacional.
- 72 Se as áreas dos terrenos das reservas indígenas e dos quilombos a serem demarcadas forem iguais, então cada um desses terrenos terá área superior a 60 km<sup>2</sup>.
- 73 Infere-se do texto que a extensão territorial do Brasil é inferior a sete milhões de quilômetros quadrados.
- 74 Considerando-se 3,14 como valor aproximado para  $\pi$ , é correto afirmar que a área ocupada pelos estados do Ceará, Rio Grande do Norte e Paraíba é inferior à de um círculo de raio igual a 300 km.

Julgue os itens que se seguem, relativos a proporções.

- 75 Na proporção  $\frac{x}{2} = \frac{y}{3} = \frac{z}{5}$ , sabe-se que  $(x + y + z)^2 + 50x + 10y + 14z = 4.800$ . Nesse caso, é correto afirmar que  $x + y + z = 30$  ou  $x + y + z = -30$ .
- 76 Considere que os preços de venda de dois veículos sejam inversamente proporcionais aos seus tempos de uso e diretamente proporcionais aos seus rendimentos, expressos em km/L, e que o primeiro, com três anos e seis meses de uso, tenha sido vendido por R\$ 40.000,00. Nessa situação, se o segundo tiver três anos e oito meses de uso e se o seu rendimento for  $\frac{3}{4}$  do rendimento do primeiro, então esse segundo veículo deverá ser vendido por menos de R\$ 30.000,00.
- 77 Na proporção  $\frac{x}{5} = \frac{y}{7} = \frac{z}{11}$ , sabe-se que  $2x + y + 3z = 250$ . Nesse caso, é correto afirmar que  $x + y + z < 110$ .

Em cada um dos itens a seguir, é apresentada uma situação hipotética acerca de porcentagem e matemática financeira, seguida de uma assertiva a ser julgada.

- 78 Em determinado dia, um indivíduo fez uma aplicação de R\$ 500,00 em um investimento que rende juros mensais de 10%. Nos 11 meses seguintes, sempre no dia do aniversário da aplicação, esse mesmo indivíduo fazia uma nova aplicação, de mesmo valor. Nessa situação, considerando-se que o regime de juros é o composto e 3,14 como valor aproximado para  $1,1^{12}$ , é correto afirmar que, sem ter feito, nesse período, nenhuma retirada, o montante acumulado por esse investidor, no dia em que fez a sua última aplicação, corresponde a mais de R\$ 12.000,00.
- 79 Em determinado dia, um indivíduo fez uma aplicação de R\$ 500,00 em um investimento que rende juros mensais de 10%. Nos 11 meses seguintes, sempre no dia do aniversário da aplicação, esse mesmo indivíduo fazia uma nova aplicação, de mesmo valor. Nessa situação, sabendo-se que o regime de juros foi o simples, é correto afirmar que, sem ter feito, nesse período, nenhuma retirada, o montante acumulado por esse investidor, no dia em que fez a sua última aplicação, corresponde a mais de R\$ 9.000,00.

Em um concurso público para cargos de nível superior e médio, 1.098 candidatos se inscreveram para concorrer a 109 vagas.

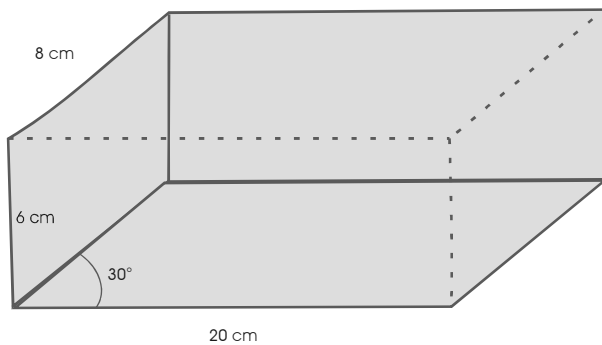
Considerando essa situação, julgue os itens a seguir.

- 80 Suponha que a quantidade de candidatos concorrendo aos cargos de nível médio tenha sido igual ao dobro da quantidade de candidatos que concorreram aos cargos de nível superior. Nessa situação, escolhendo-se ao acaso um candidato entre os inscritos, a probabilidade de esse candidato escolhido estar concorrendo a algum cargo de nível superior é igual a  $\frac{1}{3}$ .
- 81 Considerando-se que, para os cargos de nível superior, houve seis candidatos para cada vaga e que, para os de nível médio, 12 candidatos por uma vaga, é correto afirmar que a quantidade de vagas para os cargos de nível médio foi inferior ao dobro do número de vagas para os cargos de nível superior.

Para realizar concurso público de nível nacional de órgão federal, uma empresa cobra R\$ 20.000,00 fixos e mais R\$ 5,00 para cada candidato inscrito. Outra empresa cobra R\$ 15.000,00 fixos e mais R\$ 7,00 para cada candidato inscrito. Com base nessas informações, julgue os itens que se subseguem.

- 82 Representando-se, em um sistema de coordenadas cartesianas ortogonais  $xOy$ , os gráficos das funções que descrevem os custos, em função da quantidade de candidatos inscritos, com a contratação dessas duas empresas, é correto afirmar que esses gráficos são retas que não se interceptam no primeiro quadrante.
- 83 Independentemente da quantidade de candidatos inscritos, para o órgão que arcará com as despesas do concurso, a escolha da segunda empresa é a mais vantajosa.

RASCUNHO



A figura acima ilustra um paralelepípedo de bases retangulares medindo  $20\text{ cm} \times 6\text{ cm}$ , faces laterais retangulares, medindo  $8\text{ cm} \times 6\text{ cm}$ , inclinadas de  $30^\circ$  com relação ao plano da base. A face frontal e a oposta são paralelogramos. Considerando essas informações, julgue os seguintes itens.

- 84 A área lateral desse sólido é inferior a  $490\text{ cm}^2$ .  
 85 O volume do paralelepípedo é superior a  $460\text{ cm}^3$ .

Com relação à organização do Estado, julgue os seguintes itens.

- 86 Os objetivos fundamentais da República brasileira incluem a garantia do desenvolvimento nacional, a erradicação da pobreza e da marginalização, a redução das desigualdades sociais e regionais e a promoção do bem de todos, sem quaisquer preconceitos ou outras formas de discriminação.  
 87 O Brasil, como signatário de tratados e convenções internacionais, repudia a igualdade entre os Estados, já que os países menos desenvolvidos recebem ajuda financeira e humanitária dos países mais ricos como forma de cooperação entre os povos para o progresso da humanidade.  
 88 É vedado aos estados-membros da República Federativa do Brasil incorporar-se entre si, subdividir-se ou desmembrar-se para se anexarem a outros, ou ainda formarem novos estados ou territórios federais.  
 89 Os fundamentos da República Federativa do Brasil compreendem a soberania, a cidadania, o pluralismo, a dignidade da pessoa humana e os valores sociais do trabalho e da livre iniciativa.

Acerca dos direitos fundamentais previstos pela Constituição Federal de 1988 (CF), julgue os itens a seguir.

- 90 A CF preceitua que o Estado não pode usar de meios coercitivos para garantir a efetividade dos direitos fundamentais.  
 91 Se o cidadão não exercer as prerrogativas que lhe são conferidas por seus direitos fundamentais, então ele poderá a elas renunciar.  
 92 São características inerentes aos direitos fundamentais a sua historicidade e universalidade.  
 93 Os direitos fundamentais são imprescritíveis, visto que podem ser exercidos ou reclamados a qualquer tempo.

Julgue os itens que se seguem, relativos à organização dos poderes.

- 94 Consiste em uma função típica do Poder Legislativo julgar tanto os parlamentares quanto os demais cidadãos pelos crimes que praticarem contra o Tesouro Nacional.  
 95 Os órgãos do Poder Judiciário incluem o Supremo Tribunal Federal (STF) e o Conselho Nacional de Justiça (CNJ).

Julgue os próximos itens, relativos a procedimentos administrativos e rotinas de arquivamento.

- 96 Protocolo designa o serviço encarregado de recebimento, registro, distribuição e expedição de documentos. Também pode ser o responsável pela classificação, pelo controle da tramitação e pela autuação de documentos, ação mediante a qual o documento passa a constituir um processo.  
 97 As páginas *web* e a correspondência eletrônica ou *e-mail*, ainda que produzidos ou recebidos no decorrer das atividades da instituição, não são considerados documentos de arquivo por não constituírem provas dessas atividades, visto que carecem de suporte material e de elementos de validação, como assinaturas e carimbos.  
 98 A classificação de documentos, que deve ser realizada por servidores treinados, consiste na leitura de cada documento, com vistas à verificação de sua procedência, e na confecção de uma capa para acondicioná-lo, onde conste a sigla da unidade de origem desse documento.  
 99 O ciclo de vida dos documentos divide-se em duas idades: a primeira delas, denominada arquivo de gestão, abrange a fase de produção e uso do documento, até o encerramento do fato que motivou a sua criação; a segunda idade, chamada de arquivo morto, compreende a fase de guarda dos documentos que contêm informações sobre a história da instituição.  
 100 As atividades de arquivamento incluem a inspeção ou o exame do documento, com vistas a verificar se, de fato, ele deverá ser arquivado; a ordenação, que consiste na reunião de documentos com mesma classificação, formando-se dossiês; e o arquivamento, que é a guarda do documento em local apropriado conforme a classificação a ele atribuída.

RASCUNHO