

TRIBUNAL REGIONAL ELEITORAL DE GOIÁS (TRE/GO)

CONCURSO PÚBLICO

NÍVEL MÉDIO

Aplicação: 1.º/2/2009

Cargo **12**: TÉCNICO JUDICIÁRIO ÁREA: SERVIÇOS GERAIS ESPECIALIDADE: ELETRICIDADE E TELECOMUNICAÇÕES

TARDE CADERNO **ÔMEGA**

LEIA COM ATENÇÃO AS INSTRUÇÕES ABAIXO.

- 1 Confira atentamente se o tipo deste caderno — Caderno ÔMEGA — coincide com o que está registrado em sua folha de respostas e em cada página numerada deste caderno de provas. Em seguida, verifique se ele contém oitenta questões, correspondentes às provas objetivas, corretamente ordenadas de 1 a 80.
- 2 Quando autorizado pelo aplicador, no momento da identificação, escreva, no espaço apropriado da folha de respostas, com a sua caligrafia usual, a seguinte frase:

A bondade consiste em estimar e amar os outros para além do que eles merecem.
- 3 Caso o caderno esteja incompleto ou tenha qualquer defeito, ou haja divergência quanto ao tipo de caderno, solicite ao aplicador mais próximo que tome as providências cabíveis, pois não serão aceitas reclamações posteriores.
- 4 Não utilize lápis, lapiseira (grafite), borracha e(ou) qualquer material de consulta que não seja fornecido pelo CESPE/UnB.
- 5 Não se comunique com outros candidatos nem se levante sem autorização de um aplicador.
- 6 A duração das provas é de **quatro horas**, já incluído o tempo destinado à identificação — que será feita no decorrer das provas — e ao preenchimento da folha de respostas.
- 7 Você deverá permanecer obrigatoriamente em sala por, no mínimo, **uma hora** após o início das provas e poderá levar este caderno de provas somente no decurso dos últimos **quinze minutos** anteriores ao horário determinado para o término das provas.
- 8 Ao terminar as provas, chame o aplicador mais próximo, devolva-lhe a sua folha de respostas e deixe o local de provas.
- 9 A desobediência a qualquer uma das determinações constantes no presente caderno ou na folha de respostas, poderá implicar a anulação das suas provas.

AGENDA (datas prováveis)

- I **3/2/2009**, após as 19 h (horário de Brasília) – Gabaritos oficiais preliminares das provas objetivas: Internet — www.cespe.unb.br.
- II **4 e 5/2/2009** – Recursos (provas objetivas): exclusivamente no Sistema Eletrônico de Interposição de Recurso, Internet, mediante instruções e formulários que estarão disponíveis nesse sistema.
- III **3/3/2009** – Resultado final das provas objetivas e convocação para a perícia médica: Diário Oficial da União e Internet.

OBSERVAÇÕES

- Não serão objeto de conhecimento recursos em desacordo com o item 10 do Edital n.º 1 – TRE/GO, de 21/10/2008.
- Informações adicionais: telefone 0(XX) 61 3448-0100; Internet – www.cespe.unb.br.
- É permitida a reprodução deste material apenas para fins didáticos, desde que citada a fonte.

- Nas questões de 1 a 80, marque, para cada uma, a única opção correta, de acordo com o respectivo comando. Para as devidas marcações, use a **Folha de Respostas**, único documento válido para a correção das suas provas.
- Nos itens que avaliam **Noções de Informática**, a menos que seja explicitamente informado o contrário, considere que: todos os programas mencionados estão em configuração-padrão, em português; o *mouse* está configurado para pessoas destros; expressões como **clicar**, **clique simples** e **clique duplo** referem-se a cliques com o botão esquerdo do *mouse*; **teclar** corresponde à operação de pressionar uma tecla e, rapidamente, liberá-la, acionando-a apenas uma vez. Considere também que não há restrições de proteção, de funcionamento e de uso em relação aos programas, arquivos, diretórios, recursos e equipamentos mencionados.

CONHECIMENTOS BÁSICOS

Texto para as questões de 1 a 3

1 Até hoje, os que estão de um lado ou de outro veem o processo civilizatório como uma consequência de um tripé sinérgico em que avanço técnico, igualdade e liberdade
4 articulam-se positivamente, cada um como um vetor que induz o outro a crescer. Em nossos dias, porém, essa sinergia morreu e o avanço técnico, longe de construir a igualdade,
7 está ampliando a desigualdade e, em lugar de ampliar o número de pessoas livres, está limitando a liberdade a poucos (mesmo nesses casos, trata-se de uma liberdade condicionada,
10 consumida nos engarrafamentos de trânsito, nos muros dos condomínios).

Cristovam Buarque. *Os círculos dos intelectuais*. In: Ari Roitman (Org.). *O desafio ético*. Rio de Janeiro: Garamond, 2000, p. 109 (com adaptações).

QUESTÃO 1

Depreende-se do desenvolvimento das ideias do texto acima que

- A existem discordâncias sobre as causas do “processo civilizatório” (l.2).
- B um dos elementos que compõem o “tripé sinérgico” (l.2-3) é o “processo civilizatório” (l.2).
- C a ampliação da “desigualdade” (l.7), nos dias atuais, deve-se à limitação da “liberdade” (l.8).
- D as expressões “engarrafamentos de trânsito” (l.10) e “muros dos condomínios” (l.10-11) exemplificam a limitação da liberdade.

QUESTÃO 2

Assinale a opção correta a respeito do uso das estruturas linguísticas no texto.

- A A retirada do artigo “uma” (l.2) provocaria incorreção gramatical e incoerência na argumentação do texto, visto ser elemento de uso obrigatório.
- B A expressão “essa sinergia” (l.5) resume a ideia anterior, que é de articulação entre os três vetores que se ajudam mutuamente a crescer.
- C A flexão do verbo estar, no singular, em “está ampliando” (l.7) e “está limitando” (l.8), deve-se à concordância com “essa sinergia” (l.5).
- D Na linha 9, a flexão da forma verbal, no singular, em “trata-se”, deve-se à concordância com “uma liberdade”.

QUESTÃO 3

Preservam-se a coerência na argumentação e a correção gramatical do texto ao usar

- A **têm visto** em lugar de “veem” (l.1).
- B **mas** em lugar de “porém” (l.5).
- C **à liberdade** em lugar de “a liberdade” (l.8).
- D **aos poucos** em lugar de “a poucos” (l.8).

Texto para as questões de 4 a 7

1 A liberdade não assegura a igualdade: ao contrário, sob o regime do livre mercado, está sendo construída a mais desigual de todas as sociedades humanas da história, com
4 exclusão das desigualdades por justificativas divinas como aquelas que davam a reis, sacerdotes ou faraós um poder total sobre os homens. E note-se que esses monarcas e suas cortes
7 viviam o mesmo número de anos que os camponeses, sofriam quase as mesmas dificuldades de conforto que estes e levavam o mesmo tempo para se deslocarem de um lugar a outro, por
10 mais que o fizessem sobre o ombro dos servos. Finalmente, a imposição da igualdade, em um tempo de graves problemas ecológicos, elimina a liberdade de escolha que o mercado
13 oferece e limita os sonhos de riqueza, mesmo que em nome do fim da pobreza.

Idem, Ibidem, p. 109-110 (com adaptações).

QUESTÃO 4

Assinale a proposta de alteração dos sinais de pontuação que preserva a coerência e a correção gramatical de trecho do texto.

- A Substituir o sinal de dois-pontos depois de “igualdade” (l.1) pelo sinal de ponto-e-vírgula.
- B Inserir uma vírgula depois de “monarcas” (l.6).
- C Substituir o ponto depois de “servos” (l.10) por vírgula, escrevendo-se “Finalmente” com inicial minúscula.
- D Retirar a vírgula depois de “igualdade” (l.11).

QUESTÃO 5

Com base no texto acima, julgue os seguintes itens.

- I Vive-se, na atualidade, em um regime de livre mercado e com graves problemas ecológicos.
- II O período iniciado por “E note-se” (l.6) justifica a maior desigualdade da história.
- III A liberdade de escolha provoca desigualdade porque limita os sonhos de riqueza.

Assinale a opção correta.

- A Apenas I está de acordo com as ideias do texto.
- B Apenas I e II estão de acordo com as ideias do texto.
- C Apenas II e III estão de acordo com as ideias do texto.
- D Apenas III está de acordo com as ideias do texto.

QUESTÃO 6

No que se refere à organização da textualidade, assinale a opção em que a relação de referência está **incorreta**.

- Ⓐ O termo “aquelas” (ℓ.5) refere-se a “as sociedades humanas da história” (ℓ.3).
- Ⓑ Na linha 6, “esses monarcas” refere-se a “reis, sacerdotes ou faraós” (ℓ.5).
- Ⓒ O pronome “estes” (ℓ.8) refere-se a “os camponeses” (ℓ.7).
- Ⓓ Na linha 12, o termo “que” refere-se a “a liberdade de escolha”.

QUESTÃO 7

Respeitam-se as regras gramaticais e a coerência textual ao se reescrever a frase “mesmo que em nome do fim da pobreza” (ℓ.13-14) da seguinte forma:

- Ⓐ embora isso põe fim na pobreza.
- Ⓑ mesmo que isso significa o fim da pobreza.
- Ⓒ embora que isso seja em nome do fim da pobreza.
- Ⓓ mesmo que isso seja feito em nome do fim da pobreza.

Texto para as questões de 8 a 10

1 No sistema democrático, há uma tensão permanente entre liberdade e igualdade. A primeira está associada à direita democrática, para a qual existe um conjunto
4 indissociável de liberdades: a de expressão e organização, a econômica e a de pluralidade de opiniões. Já o conceito de igualdade está associado à esquerda democrática, que defende
7 a necessidade de restringir um pouco a liberdade econômica para que as desigualdades não cresçam muito. As democracias maduras oscilam entre a direita e a esquerda, em busca ora de
10 mais liberdade, ora de mais igualdade. Trata-se de algo muito diferente dos conceitos de esquerda e direita não-democráticas, estes, sim, ultrapassados.

Demétrio Magnoli. **Uma vitória da razão**.
Veja, 5/nov/2008, Entrevista (com adaptações).

QUESTÃO 8

De acordo com as ideias do texto acima, assinale a opção que apresenta as duas associações corretas.

- Ⓐ direita: liberdade econômica; esquerda: liberdade de expressão.
- Ⓑ direita: pluralidade de opiniões; esquerda: restrições à liberdade econômica.
- Ⓒ direita: preocupação com as desigualdades; esquerda: liberdade de expressão.
- Ⓓ direita: restrições à liberdade econômica; esquerda: preocupação com as desigualdades.

QUESTÃO 9

No texto, provoca-se erro gramatical ao se

- Ⓐ substituir “uma tensão permanente” (ℓ.1) por **tensões permanentes**.
- Ⓑ substituir “a qual” (ℓ.3) por **que**.
- Ⓒ inserir a palavra **liberdade** antes de “de expressão” (ℓ.4).
- Ⓓ retirar na linha 9, a conjunção “ora” que se segue a “busca”.

QUESTÃO 10

Na organização textual,

- Ⓐ na linha 2, a expressão “A primeira” refere-se a “liberdade” e, por isso, poderia ser substituída pelo pronome **aquela**.
- Ⓑ o advérbio “Já” (ℓ.5) situa a ideia de “liberdade” no passado, enquanto “igualdade” está no presente.
- Ⓒ na linha 6, o pronome “que” refere-se a “igualdade” e, por isso, flexiona-se “defende”, no singular.
- Ⓓ o emprego da forma verbal “cresçam” (ℓ.8), no modo subjuntivo, permite afirmar que o crescimento das desigualdades é uma hipótese que não se realiza porque não ocorre, efetivamente, restrição de “liberdade econômica” (ℓ.7).

QUESTÃO 11

1 art. 63 – A requerimento do órgão de direção do respectivo partido, o Juiz Eleitoral devolverá as fichas de filiação partidária existentes no cartório da respectiva zona eleitoral,
4 nos termos do art. 32, destas instruções, obedecidas as normas estatutárias da lei n. 9.096/95, art. 58.

§1.º – Para efeito de candidatura a cargo eletivo, será
7 considerada como primeira filiação a constante das listas de que trata este artigo (*caput*).

Para que o fragmento de texto acima respeite as normas de elaboração de documentos oficiais, como impessoalidade, objetividade, clareza, e as regras gramaticais da modalidade padrão da língua portuguesa, será necessário

- Ⓐ substituir “A requerimento” (ℓ.1) por **Ao requerimento**.
- Ⓑ escrever “art. 63” (ℓ.1) com letra inicial maiúscula, e **Lei n.º 9.096/95**, em lugar de “lei n. 9.096/95” (ℓ.5).
- Ⓒ retirar a vírgula depois de “instruções” (ℓ.4) e inserir uma vírgula depois de “filiação” (ℓ.7).
- Ⓓ escrever “art. 58” (ℓ.5) entre parênteses, em lugar de separar esse termo do número da lei por vírgula; e, na linha 8, eliminar os parênteses de “*caput*”, separando-o de “artigo” por vírgula.

QUESTÃO 12

Desconsiderando o espaçamento e supondo que *Fulano de Tal* seja a assinatura do emissor do documento, assinale a opção correta para o fecho do documento oficial indicado.

- A** MEMORANDO
Aguardando pronto atendimento, despedimo-nos, atenciosamente,

Fulano de Tal

Goiânia, 18 de fevereiro de 2009
- B** OFÍCIO
Atenciosamente,

Fulano de Tal
Coordenador-Geral

Goiânia, 18 de fevereiro de 2009
- C** PARECER
É o Parecer.
Procuradoria, em 18 de fevereiro de 2009
Procurador-Geral
- D** ATESTADO
Goiânia, 18 de fevereiro de 2009

Fulano de Tal
Fulano de Tal
Diretor de Pessoal

Texto para as questões de 13 a 15

1 Podemos considerar o processo de crescimento sadio uma série interminável de situações de livre escolha com que cada indivíduo se defronta a todo o instante, ao longo da vida, 4 quando deve escolher entre os prazeres da segurança e do crescimento, dependência e independência, regressão e progressão, imaturidade e maturidade. A segurança tem suas 7 angústias e seus prazeres; o crescimento tem suas angústias e seus prazeres. Progredimos quando os prazeres do crescimento e a ansiedade da segurança são maiores do que a 10 ansiedade do crescimento e os prazeres da segurança.

É claro que essa formulação do crescimento por meio do prazer também nos vincula à necessária postulação de que 13 o que sabe bem também é, no sentido de crescimento, “melhor” para nós. Fundamo-nos aqui na crença de que, se a livre escolha é realmente livre e se quem escolhe não está 16 demasiado doente ou assustado para escolher, escolherá sensatamente, em uma direção saudável e progressiva, na maioria das vezes.

A. H. Maslow. *Introdução à psicologia do ser*. Rio de Janeiro: Eldorado, 1962, p. 74-5 (com adaptações).

QUESTÃO 13

É correto afirmar que, no texto acima, a preposição no termo

- A** “com que” (l.2) é exigida por “se defronta” (l.3).
B “do que” (l.9) é exigida por “prazeres” (l.8).
C “de que” (l.12) é exigida por “necessária” (l.12).
D “de que” (l.14) é exigida por “Fundamo-nos” (l.14).

QUESTÃO 14

Assinale a opção correspondente à ideia que está no centro da argumentação do texto de Maslow.

- A** O crescimento faz de toda escolha livre uma escolha sadia.
B Em um crescimento sadio, o prazer está na base das escolhas.
C Maturidade e imaturidade dependem do processo de crescimento.
D O crescimento apoia-se na segurança equilibrada entre angústias e prazeres.

QUESTÃO 15

Preservam-se a correção gramatical e a coerência entre os argumentos do texto **Introdução à psicologia do ser** ao se

- A** inserir **como** depois de “sadio” (l.1), escrevendo **crescimento sadio**.
B inserir **se** depois de “deve” (l.4), escrevendo **deve-se**.
C substituir “a ansiedade” (l.9) por **da ansiedade**.
D substituir “o que” (l.13) por **aquele que**.

QUESTÃO 16

Com relação à conceitos de informática, assinale a opção correta.

- A** A memória ROM permite leitura e escrita de informações.
B As impressoras jato de tinta são classificadas como unidade de entrada.
C O *pendrive* é um tipo de memória de massa que permite que os dados sejam lidos, gravados e regravados.
D A memória RAM permite apenas leitura das informações.

QUESTÃO 17

Ainda com relação a conceitos de informática, assinale a opção correta.

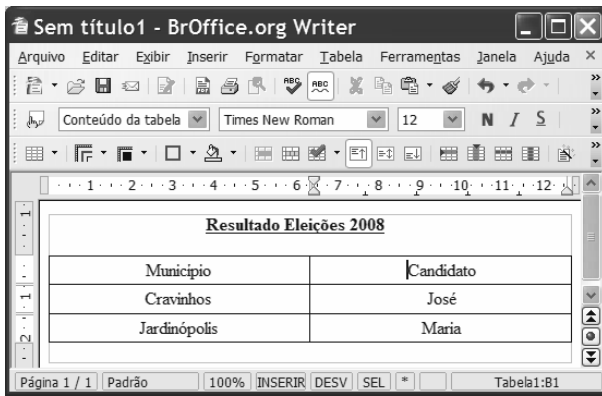
- A** Sistema operacional é um aplicativo que tem como função principal a edição de textos e figuras.
B Um *software* livre pode ser usado, copiado, estudado, modificado e redistribuído sem restrição.
C Arquivo é a parte física da memória que retém informações com tamanho pré-definido.
D Pasta é um tipo de disco que armazena informações de documentos de forma ordenada.

QUESTÃO 18

A respeito do sistema operacional Linux, assinale a opção correta.

- A** *Kernel* é a interface gráfica do Linux, que tem visual muito similar à interface do sistema operacional Windows XP.
B O Linux funciona em dezenas de plataformas, desde *mainframes* até relógios de pulso, passando por várias arquiteturas e dispositivos.
C O KDE é o navegador nativo do Linux que permite acesso à Internet e envio de *e-mail*.
D O Linux adota a GPL, uma licença que permite aos interessados usá-lo, mas sem a possibilidade de redistribuí-lo.





Texto para as questões de 19 a 21



A figura acima ilustra uma janela do editor Writer, com um documento em processo de edição.



QUESTÃO 19

A partir da figura apresentada no texto, assinale a opção correta.

- A** Para inserir uma linha na tabela mostrada no documento em edição, é suficiente clicar o botão .
- B** Ao se clicar o botão , o corretor ortográfico do Writer será iniciado.
- C** Para definir sombreamento da primeira linha da tabela mostrada, é suficiente selecioná-la e clicar o botão .
- D** Após selecionar a segunda coluna da tabela mostrada e clicar o botão , os nomes dos candidatos, nessa tabela, ficarão permutados.


QUESTÃO 20

Considerando a figura apresentada no texto, assinale a opção correta.

- A** Ao se clicar a ferramenta , um novo documento em branco será criado.
- B** Para excluir a segunda linha da tabela mostrada, é suficiente selecioná-la e clicar a opção Excluir no *menu* **Editar**.
- C** Ao se clicar o botão , será iniciado *upload* do arquivo para um sítio da Internet, desde que seja informado o endereço eletrônico desse sítio.
- D** Ao selecionar a opção Salvar como do *menu* **Arquivo**, é possível salvar o documento em edição como um arquivo do tipo .doc do Microsoft Word.

QUESTÃO 21

Para se transferir a tabela apresentada no documento em edição para o editor Calc, é suficiente

- A** selecionar a tabela, clicar a opção Exportar do *menu* **Arquivo** e selecionar a opção Calc.
- B** selecionar a tabela, clicar a seta da ferramenta  e selecionar a opção Calc.
- C** selecionar a tabela, clicar a opção Recortar do *menu* **Editar**, abrir o Calc, clicar a opção Colar do *menu* **Editar** deste aplicativo.
- D** selecionar a tabela, clicar a opção Copiar do *menu* **Exibir**, abrir o Calc, clicar a opção Colar do *menu* **Exibir**.


Texto para as questões de 22 a 24



A figura acima ilustra uma janela do aplicativo Calc com uma planilha em processo de edição.


QUESTÃO 22

Considerando os cálculos de Total, Média e Máximo, assinale a opção correta.

- A** Para calcular a média do eleitorado das regiões contidas na planilha é suficiente selecionar as células de B3 até B7 e clicar a ferramenta .
- B** O valor máximo do eleitorado pode ser encontrado selecionando as células de B3 até B7 e clicando na opção Máximo do *menu* **Dados**.
- C** Ao se selecionar a célula C8 e clicar a opção Soma do *menu* **Inserir**, essa célula ficará preenchida com o valor de 1,00.
- D** Considerando que o valor da célula C3 seja calculado dividindo-se o número do Eleitorado do Centro-oeste pelo Total, é correto afirmar que esse valor pode ser determinado pela fórmula =B3/B8.





QUESTÃO 23

Com relação ao gráfico apresentado na planilha, assinale a opção correta.

- A Uma opção para alterar o tipo de gráfico é clicar sobre a área do gráfico com o botão direito do *mouse*, selecionar a opção Tipo de gráfico, selecionar o gráfico desejado e clicar OK.
- B Para modificar o intervalo de dados do gráfico, é suficiente clicar a opção Intervalo do menu **Dados**, selecionar o novo intervalo e clicar OK.
- C A alteração das cores do gráfico pode ser realizada seguindo o procedimento: selecionar o gráfico; clicar a opção Cores do menu **Formatar**; selecionar a cor desejada e clicar OK.
- D Para ajustar o tamanho do gráfico, é suficiente selecioná-lo, clicar a ferramenta , definir a nova dimensão e clicar OK.

QUESTÃO 24

Ainda com referência à janela apresentada no texto, assinale a opção correta.

- A Ao se clicar a célula B8 e pressionar a tecla , será apresentada a janela Excluir Conteúdo, a qual disponibiliza diversas opções para a exclusão do conteúdo da célula.
- B Ao selecionar as células de C3 até C7 e clicar a ferramenta , os valores dessas células serão multiplicados por 100 e o símbolo % será apresentado ao lado de cada número.
- C Ao se clicar , uma nova janela do programa Calc será exibida permitindo a edição de um novo arquivo.
- D Ao se clicar a ferramenta , será ativado um assistente de fórmula que identifica erros de digitação nelas.

QUESTÃO 25

Com relação a conceitos de Internet, assinale a opção correta.





- A O *post office protocol* (POP3) é utilizado no acesso remoto a sítios corporativos, realizando tunelamento para prevenir acessos indevidos.
- B HTTP (*hypertext transfer protocol*) é um protocolo utilizado para enviar *e-mails* com arquivos de texto anexados.
- C Métodos comuns de acesso à Internet incluem acesso discado, banda larga por cabos, rádio, acesso dedicado, sem fio (Wi-Fi), por satélite ou por telefones celulares 3G.
- D Apesar de utilizar uma tecnologia revolucionária, a conexão sem fio apresenta problema de segurança, o que impede a sua utilização em *intranet*.

Texto para as questões de 26 a 28

A figura acima apresenta uma janela do Internet Explorer 6 (IE6) que está sendo usado para acesso à Internet.

QUESTÃO 26

Com base na figura apresentada no texto, assinale a opção correta.

- A Ao se clicar a ferramenta , será encaminhado um *e-mail* contendo o endereço da página acessada, para um destinatário de correio eletrônico.
- B Por meio de funcionalidades disponibilizadas na ferramenta , é possível a busca de livros disponíveis na Internet para *upload*.
- C Ao se clicar a ferramenta , é apresentada uma janela com opção de *download* e de *upload*.
- D Para cadastrar o sítio em exibição como favorito do IE6, é suficiente clicar a ferramenta , a seguir, o botão Adicionar e, finalmente, OK.

QUESTÃO 27

Considerando a figura mostrada, assinale a opção **incorreta**, acerca de correio eletrônico.

- A *Webmail* é uma interface da World Wide Web que permite ler e escrever *e-mail* usando-se um navegador como o IE6 mostrado na figura.
- B Microsoft Outlook Express é um programa cliente de *e-mail* e de notícias da Microsoft que permite administrar mais de uma conta de *e-mail*.
- C Microsoft Outlook é integrante do pacote Office e, diferentemente do Outlook Express que é usado basicamente para receber e enviar *e-mails*, possui funções de *e-mail* e de um calendário completo, para agendar compromissos.
- D O *link* Gmail apresentado na janela do IE6 é utilizado para receber e enviar *e-mails* desde de que o computador em uso tenha instalado pelo menos o Outlook Express.

QUESTÃO 28

Com relação ao sítio de busca apresentado na janela do IE6, assinale a opção correta.

- A O link Efetuar login permite acessar a *intranet* da empresa que tenha sido previamente configurada.
- B A opção Pesquisa avançada apresenta página de pesquisa com opções de países e cidades por meio de mapas.
- C Ao se clicar o botão Estou com sorte, o navegador é automaticamente conduzido à primeira página Web gerada pela consulta, portanto o tempo de procura é reduzido.
- D A opção Preferência permite armazenar as páginas favoritas da pesquisa.

QUESTÃO 29

Para armazenar três arquivos de tamanhos 800 KB, 2 MB e 3 GB, o dispositivo adequado é o

- A CD-ROM.
- B *pendrive* com capacidade de 1 *gigabyte*.
- C CD-RW.
- D DVD-R 12 cm *double layer*.

QUESTÃO 30

Acerca do sistema operacional Linux, assinale a opção correta.

- A No Linux, um usuário comum não pode causar danos ao sistema operacional da máquina de forma acidental.
- B Para gravar um CD em computadores que utilizam o Linux, é necessário instalar o programa Ubuntu que permite gerar discos de áudio e vídeo.
- C O Gnome é um programa nativo do Linux para tratamento de imagens.
- D Uma das desvantagens do Linux é a necessidade do usuário digitar comandos para realizar tarefas como gravar arquivos.

CONHECIMENTOS ESPECÍFICOS**QUESTÃO 31**

A respeito de sistemas de áudio, é correto afirmar que, antes de ser encaminhado para o processo de equalização, o sinal passa por um tratamento na mesa de som, que consiste em

- A elevação de nível (amplificação).
- B envio às caixas de alta potência.
- C redução do nível de sinal e de ruído para adaptação à tensão de entrada da mesa de som.
- D ajuste de graves realizado por meio de *jacks de insert* de sinal.

QUESTÃO 32

Os instrumentos de medição normalmente utilizados por técnicos na instalação de sistemas de antena coletiva incluem o(a)

- I analisador de espectro.
- II wattímetro para medição de potência na ordem de kW.
- III medidor de intensidade de sinal.
- IV bússola.

Estão certos apenas os itens

- A I e II.
- B I e III.
- C II e IV.
- D III e IV.

QUESTÃO 33

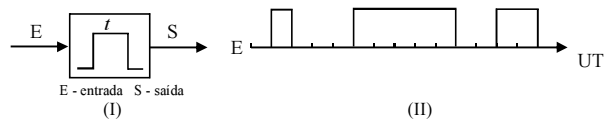
Em um sistema de som, os ruídos podem ser causados

- I por *plugs* oxidados ou com mau contato.
- II pela rede elétrica.
- III por equipamentos e cabos de baixa qualidade e instalação precária do sistema.
- IV por aterramento inadequado.

A quantidade de itens certos é igual a

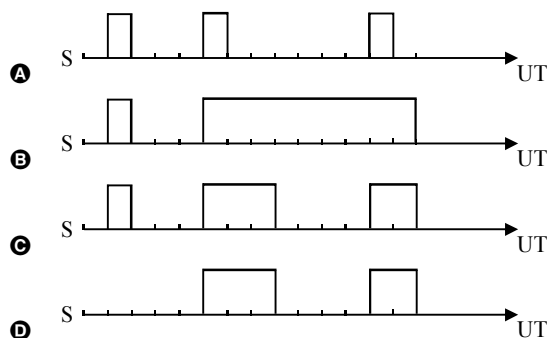
- A 1.
- B 2.
- C 3.
- D 4.

QUESTÃO 34



Um controle de processo precisa que o sinal de saída seja controlado por meio de um temporizador limitador de tempo. Esse temporizador, quando na posição ligado, faz a saída permanecer ligada por no máximo 3 unidades de tempo (UTs).

Se, na entrada do temporizador mostrado na figura I acima, for aplicado o sinal mostrado na figura II, o sinal na saída do temporizador será



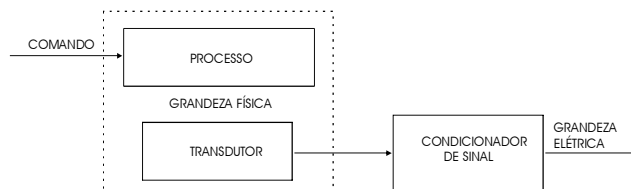
RASCUNHO

QUESTÃO 35

Um controlador lógico programável (CLP) **não** tem

- A CPU.
- B CD-ROM.
- C memória.
- D processador.

QUESTÃO 36



F. Natale. *Automação industrial – série brasileira de tecnologia*. Érica, p. 152.

A figura acima mostra um diagrama de blocos que ilustra um processo analógico de transdução, no qual um sinal de comando é convertido em grandeza elétrica por meio da atuação de um transdutor e de um condicionador de sinal. Nesse sistema, o condicionador de sinal

- A desempenha a mesma função de um relé de tempo (de pulso ou de retardo).
- B converte uma grandeza elétrica em outra também elétrica, mas cuja saída é ajustada em função da aplicação específica requerida e do nível de sinal de interesse.
- C funciona como um transdutor auxiliar, mas cujo sinal de entrada é uma tensão elétrica na faixa de 20 V a 200 V.
- D atua como um transformador de corrente, para reduzir a corrente da ordem de amperes que sai do transdutor, para níveis de miliamperes.

QUESTÃO 37

Procedimentos de automação industrial podem ser utilizados em edifícios inteligentes, como, por exemplo, na detecção automática de incêndios, por meio da localização do foco e transmissão de sinais para uma central de controle. A respeito desse assunto, assinale a opção correta.

- A Detectores de fumaça por ionização possuem baixa sensibilidade à fumaça. Por isso, são incapazes de sinalizar previamente uma erupção de fogo.
- B Entre os detectores de fumaça, os únicos incapazes de emitir alarme são os do tipo termovelocimétricos.
- C Para condições ambientais que não permitem a utilização de detectores mais sensíveis, podem ser usados detectores térmicos como o XP95.
- D Um detector de fumaça por ionização com elevada eficiência protege, em média, uma área de 1 m² a 2 m².

QUESTÃO 38

A respeito de sistemas de automação predial, assinale a opção correta.

- A Em um sistema dessa natureza, é possível supervisionar equipamentos, podendo ser enviadas informações de estados e ocorrências, para monitor ou impressora.
- B Nesse sistema, todos os comandos são automatizados, não havendo qualquer tipo de controle manual.
- C Nesse tipo de sistema, é proibido o uso de alarmes sonoros.
- D Os aplicativos relativos ao sistema de automação predial são feitos apenas em linguagem de baixo nível, a fim de tornar a programação mais ágil.

QUESTÃO 39

Assinale a opção correta, acerca de um sistema elétrico de potência de grande porte, no qual se tem geração, transmissão e distribuição de energia elétrica.

- A Nesse sistema, ocorre, em geral, redução do nível de tensão do lado da geração para o lado de transmissão de energia.
- B O suprimento a um consumidor em baixa tensão ocorre diretamente através do setor de transmissão de energia elétrica.
- C A transmissão de energia elétrica ocorre, em geral, em tensão superior a 13,8 kV.
- D A geração de energia elétrica na forma hidráulica tem sido preferencialmente substituída pela do tipo eólica, por esta última ser mais barata e ecologicamente correta.

QUESTÃO 40

Um dispositivo para comando que pode ser usado em um circuito elétrico de uma rede elétrica predial é

- A o fusível NH.
- B o termopar.
- C o interruptor *four-way*.
- D a tomada com três pinos.

QUESTÃO 41

A periodicidade da manutenção em instalações elétricas prediais em baixa tensão deve ser adequada a cada tipo de instalação. Na manutenção preventiva, **não** é necessário

- A avaliar o estado de condutores.
- B avaliar o estado dos quadros de distribuição e painéis.
- C avaliar a qualificação do pessoal que irá executar o serviço.
- D avaliar se os enrolamentos internos de transformadores de força estão desgastados.

QUESTÃO 42

A respeito de um transformador de potência com dois enrolamentos, julgue os itens que se seguem.

- I Um transformador de potência pode ser modificado, por meio de ligações externas em seus terminais, de modo a funcionar como um autotransformador.
- II Por meio do ensaio em curto-circuito, é possível avaliar, com boa precisão, a relação de transformação de tensão do transformador.
- III Todo transformador de potência tem como isolante o óleo mineral.
- IV Se os enrolamentos de um transformador estiverem ligados em triângulo-estrela, no lado em estrela pode ser medida uma tensão de fase para neutro e uma outra entre duas fases, ambas apresentando valores diferentes.

Estão certos apenas os itens

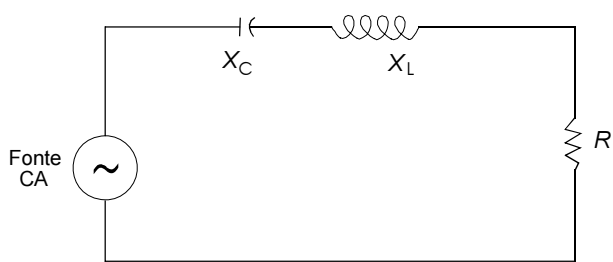
- A I e III.
- B I e IV.
- C II e III.
- D II e IV.

QUESTÃO 43

Determinado instrumento, que utiliza uma corrente com nível que varia entre zero e 5 A, deve ser instalado em local onde a corrente varia aproximadamente entre 0 e 50 A. Nessa situação, o equipamento apropriado que deve ser utilizado a fim de permitir a alimentação adequada do instrumento é um

- A transformador de potência.
- B autotransformador.
- C estabilizador de tensão.
- D transformador de corrente.

QUESTÃO 44



No circuito *RLC* acima, a fonte de alimentação apresenta frequência de 60 Hz e tensão eficaz igual a 100 V; as reatâncias capacitiva X_C e indutiva X_L são iguais a 6 Ω e 2 Ω , respectivamente; e o resistor tem resistência igual a 3 Ω .

Considerando que o circuito funcione em regime permanente senoidal, julgue os itens subsequentes.

- I A corrente eficaz que circula pelo resistor é inferior a 18 A.
- II A potência aparente fornecida pela fonte à rede *RLC* é igual a 2 kVA.
- III O fator de potência da rede *RLC* é indutivo.
- IV O fornecimento de potência ativa da fonte à rede *RLC* ficaria inalterado, caso o valor da resistência do resistor fosse reduzido para 2 Ω e a reatância capacitiva fosse elevada para 7 Ω .

A quantidade de itens certos é igual a

- A 1.
- B 2.
- C 3.
- D 4.

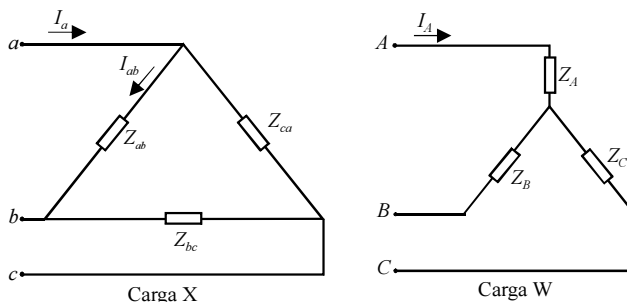
RASCUNHO

QUESTÃO 45

Uma carga monofásica apresenta potência aparente igual a 1,0 kVA e fator de potência indutivo igual a 0,8. Considerando que as potências ativa e reativa da carga sejam mantidas constantes e que um capacitor seja ligado em paralelo à carga, de modo a elevar o fator de potência da instalação para 0,9 indutivo, a potência aparente da instalação, em kVA, nessas novas condições, será

- A $\frac{4}{9}$.
- B $\frac{6}{9}$.
- C $\frac{7}{9}$.
- D $\frac{8}{9}$.

QUESTÃO 46



As figuras acima ilustram duas cargas (X e W), ambas alimentadas por uma mesma rede CA trifásica equilibrada, cujo valor da tensão eficaz e de linha é igual a 220 V. Considerando que, nessas figuras, Z_A , Z_B , Z_C , Z_{ab} , Z_{bc} e Z_{ca} sejam impedâncias com valores não necessariamente iguais, julgue os itens a seguir.

- I A carga X está ligada em triângulo, e a carga W está conectada em estrela.
- II Caso $Z_A = Z_B = Z_C$ e $Z_{ab} = Z_{bc} = Z_{ca}$, as cargas são ditas equilibradas.
- III As magnitudes das correntes I_a e I_A são iguais, uma vez que ambas as cargas são alimentadas por idênticas tensões trifásicas.
- IV Na carga X, a corrente I_a é uma grandeza de linha, enquanto a corrente I_{ab} é uma grandeza de fase.

A quantidade de itens certos é igual a

- A 1.
- B 2.
- C 3.
- D 4.

QUESTÃO 47**RASCUNHO**

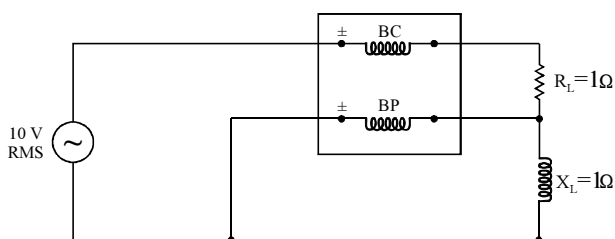
Uma carga trifásica equilibrada, quando alimentada por tensão de linha eficaz igual a 220 V, absorve da rede elétrica potência ativa total igual a 12 kW, com fator de potência indutivo igual a 0,8. A respeito dessa situação hipotética, assinale a opção correta.

- A A corrente de linha que alimenta a carga tem valor eficaz superior a 37 A.
- B A carga absorve no total 10 kvar de potência reativa.
- C A potência aparente trifásica absorvida pela carga é igual a 21 kVA.
- D O fator de potência da instalação ficaria unitário caso, em paralelo à carga, fosse ligado um banco trifásico de capacitores com potência igual a 2 kVA.

QUESTÃO 48

Assinale a opção correta acerca de componentes simétricas em sistemas elétricos de potência trifásicos, para os quais as tensões nas fases a , b e c são representadas, respectivamente, por V_a , V_b e V_c .

- A Se V_{a1} , V_{b1} e V_{c1} forem componentes simétricas de sequência positiva das tensões de fase, nesse caso, as intensidades das tensões de sequência positiva serão sempre iguais, mesmo que as magnitudes das tensões de fase forem diferentes.
- B As magnitudes das grandezas de sequência negativa têm sempre valores idênticos aos da sequência positiva, mas as fases são diferentes nesses dois tipos de sequência.
- C A componente de sequência zero V_{a0} referente às grandezas de fase de tensão é igual à soma algébrica $V_a + V_b + V_c$.
- D A componente de sequência negativa V_{a2} das tensões de fase V_a , V_b e V_c é sempre nula, caso a componente de sequência zero V_{a0} dessas mesmas tensões de fase seja nula.

QUESTÃO 49

A figura acima mostra uma conexão que utiliza o wattímetro para se efetuar a medida de potência em uma carga CA hipotética. Na representação do instrumento de medida, são indicadas a bobina de corrente (BC) e a bobina de potencial (BP). Nessa ligação, considerando-se que o instrumento seja ideal, a potência medida será

- A 0 W.
- B 12,5 W.
- C 50 W.
- D 75 W.

QUESTÃO 50

Para se medir a potência ativa trifásica de uma carga trifásica desequilibrada ligada em triângulo, é utilizado o instrumento wattímetro. Essa carga foi conectada à rede por meio de três condutores apropriadamente dimensionados. Considerando (caso necessário) que a soma das leituras dos instrumentos constitui uma única medida, o número mínimo necessário de wattímetros para efetuar a medida da potência ativa trifásica na carga é igual a

- A 1.
- B 2.
- C 3.
- D 4.

QUESTÃO 51

Em um retificador controlado de silício (*silicon controlled rectifier* – SCR), o disparo é controlado por meio do(a)

- A ânodo.
- B cátodo.
- C porta (*gate*).
- D junção PN.

QUESTÃO 52

Acerca de equipamentos utilizados em sistemas elétricos de potência, julgue os itens a seguir.

- I Os contactores são utilizados com a função de proteção de circuitos de motores para evitar sobrecargas.
- II Relés térmicos adequadamente projetados e conectados aos circuitos são apropriados para proteção contra sobrecargas.
- III Pára-raios adequadamente projetados e inseridos nos circuitos de um sistema elétrico são apropriados para a proteção de correntes de curto-circuito oriundas de descargas atmosféricas.
- IV Alguns tipos de disjuntores para circuitos de baixa tensão em instalações elétricas servem para proteção contra sobrecargas e curto-circuitos.

Estão certos apenas os itens

- A I e II.
- B I e III.
- C II e IV.
- D III e IV.

QUESTÃO 53

Um diodo emissor de luz LED

- A apresenta queda de tensão normalmente superior a 10 V, para correntes no sentido direto.
- B não é feito de silício, ao contrário dos diodos comuns.
- C tem vida útil muito curta, menor que a de um diodo comum.
- D é inadequado para uso em circuitos com chaveamento.

QUESTÃO 54

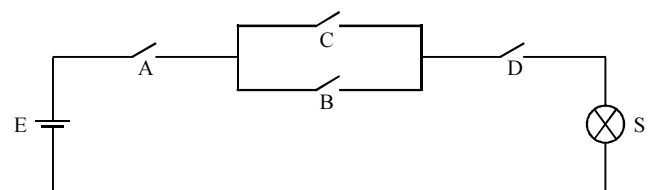
Uma carga trifásica equilibrada está ligada em estrela à rede elétrica de uma concessionária de energia elétrica. Considerando-se que a ligação da carga ocorra a três fases e o neutro, e a tensão de linha (fase-fase) seja igual a 380 V, assinale a opção correta.

- A A tensão fase-neutro na carga é inferior a 227 V.
- B Caso fosse conectada uma carga monofásica entre duas fases da carga em estrela, as magnitudes da corrente elétrica circulando por cada um dos condutores provenientes da rede elétrica não seriam alteradas.
- C O condutor neutro proveniente da rede elétrica é ligado normalmente a uma das fases da carga.
- D Caso a carga estivesse desequilibrada, a conexão do condutor neutro ao centro estrela da carga não seria possível.

QUESTÃO 55

O número decimal 4,375 é representado em uma base binária por

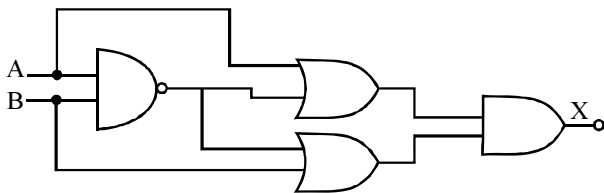
- A 100,011.
- B 010,011.
- C 100,100.
- D 010,100.

QUESTÃO 56

No circuito elétrico mostrado acima, os componentes A, B, C e D são chaves que estão ou na posição aberta (situação de repouso ou nível lógico zero) ou na posição fechada (acionada ou nível 1). O componente S é uma lâmpada, que está apagada (nível zero) ou ligada (nível 1). A função lógica que descreve o estado (ligada/desligada) da lâmpada é

- A $S = ABCD$.
- B $S = AD(B + C)$.
- C $S = AB + CD$.
- D $S = ABC + D$.

QUESTÃO 57



No circuito lógico mostrado acima, a variável lógica de saída X é igual a

- A zero.
- B 1.
- C AB.
- D $\overline{AB} + A$.

QUESTÃO 58

A respeito de sistemas de comunicação óptica, assinale a opção correta.

- A Um sistema de comunicação óptica em espaço livre não pode ser usado para estabelecer comunicação digital *wireless* devido à elevada perda de transmissão de dados que ocorre pelo ar.
- B Para formar um sistema de comunicação óptica através do espaço livre, são necessários pelo menos dez transceptores atuando.
- C Os sistemas de comunicação óptica em espaço livre apresentam desvantagem em relação aos sistemas de comunicação por fibra óptica, pois apresentam baixíssima taxa de transmissão de dados. O seu uso é limitado a espaços cujo raio é inferior a 30 m.
- D Comunicação óptica em espaço livre e por fibra óptica diferem essencialmente quanto ao meio de comunicação. No caso da comunicação por espaço livre, o canal é a atmosfera.

QUESTÃO 59

As redes locais *wireless*

- A operam, em geral, com taxas de transferência de dados nominais entre 100 kbps e 500 kbps.
- B utilizam tecnologia que não é normatizada pelo IEEE.
- C cobrem normalmente distâncias de até 70 km.
- D são também conhecidas como redes *Wi-Fi*.

QUESTÃO 60

Em uma rede de comunicação, a função de comutação se refere à alocação dos recursos da rede com a finalidade de permitir a transmissão de dados pelos diversos dispositivos conectados. A respeito da comutação de circuitos, assinale a opção correta.

- A A comutação de circuitos é também denominada de comutação de mensagem.
- B Na comutação de circuito, é necessário haver um circuito dedicado para a comunicação entre duas entidades.
- C Se, em uma rede de comutação por circuitos, ocorrer sobrecarga no fluxo de dados na conexão em curso, pedidos de novas conexões terão prioridade em relação àquelas em curso.
- D O tipo de transmissão conhecido como modo de transferência assíncrona (*asynchronous transfer mode - ATM*) não utiliza nem comutação de circuitos nem de pacotes.

QUESTÃO 61

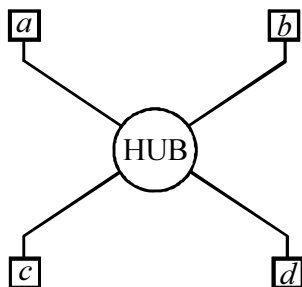
Considerando que a comunicação entre determinados grupos de usuários, localizados em diferentes regiões geográficas, seja realizada por meio de transmissão via satélite, assinale a opção **incorreta**.

- A A comunicação entre os grupos ocorre necessariamente sempre em uma mesma faixa de frequência.
- B Um satélite de comunicação permite a conexão de dois ou mais transmissores-receptores (estações terrestres).
- C Nesse tipo de transmissão, dois tipos de satélites podem ser usados para comunicação: os geoestacionários e os de baixa altitude.
- D Esse tipo de transmissão pode ser usado em redes telefônicas.

QUESTÃO 62

Os enlaces físicos em um sistema de comunicação de dados podem ser organizados em diferentes formas de transmissão, sendo que, quanto ao tipo de ligação física, isso pode ocorrer na forma ponto-a-ponto ou multiponto. Quanto à utilização do meio físico que conecta as estações, normalmente, na prática, não é explorada a comunicação do tipo

- A *simplex*.
- B *multiplex*.
- C *half-duplex*.
- D *full-duplex*.

QUESTÃO 63

A figura acima mostra um esquema usual de uma topologia de rede de comunicação de dados, em que *a*, *b*, *c* e *d* são estações de trabalho e o HUB atua como um concentrador. Essa topologia é do tipo

- A** barramento.
- B** anel.
- C** triângulo.
- D** estrela.

QUESTÃO 64

A respeito do cabo de par trançado não-blindado (cabo UTP), julgue os itens a seguir.

- I UTP cat.1 é utilizado apenas para transmissão de dados.
- II UTP cat.2 é utilizado apenas para transmissão de voz.
- III UTP cat.3 é utilizado para transmissão de voz ou dados.
- IV UTP cat.4 é utilizado para transmissão de voz ou dados, mas com velocidades superiores às que podem ser alcançadas no UTP cat.3.

Estão certos apenas os itens

- A** I e II.
- B** I e III.
- C** II e IV.
- D** III e IV.

QUESTÃO 65

Elementos com a capacidade de segmentar uma rede local em subredes a fim de reduzir o tráfego de informações ou de converter diferentes padrões de LANs, por exemplo, de *ethernet* para *token ring*, são conhecidos como

- A** roteadores.
- B** bridges.
- C** hubs.
- D** switches.

QUESTÃO 66

Um dos protocolos de comunicação definido com base no modelo OSI é o

- A** conector BNC.
- B** cartão de interface de rede.
- C** iNDX.
- D** TCP/IP.

QUESTÃO 67

Acerca do funcionamento de um sistema operacional utilizado em redes de comunicação, assinale a opção correta.

- A** Esse tipo de sistemas operacionais foram introduzidos apenas recentemente, por volta de 2007.
- B** O *kernel* desse tipo de sistemas é também conhecido como *driver* de dispositivos de disco.
- C** Um sistema operacional usado em redes de comunicação pode realizar diversas tarefas simultaneamente (multitarefa).
- D** O *scheduler*, que é uma partição do referido sistema, tem como função armazenar os programas aplicativos, os quais podem rodar em um servidor de rede.

QUESTÃO 68

Acerca das rede *peer-to-peer*, assinale a opção **incorreta**.

- A Cada microcomputador nessa rede pode ser tanto um cliente quanto um servidor.
- B O usuário de um microcomputador pode acessar diretórios específicos de outros microcomputadores da rede.
- C Em geral, com mais de dez microcomputadores esse tipo de rede se torna mais rápida que redes embasadas em servidores dedicados.
- D Apresentam-se como vantajosas, por exemplo, na situação em que o grupo em rede é pequeno, formado por menos de cinco usuários.

QUESTÃO 69

A respeito de redes locais (*local area networks – LANs*), redes metropolitanas (*metropolitan area networks – MANs*) e redes geograficamente distribuídas (*wide area networks – WANs*), assinale a opção **incorreta**.

- A As WANs permitem o compartilhamento de recursos especializados por uma comunidade de usuários geograficamente dispersos.
- B Uma rede MAN apresenta, em geral, características semelhantes a uma rede local, mas cobrem distâncias maiores que as LANs.
- C Redes WANs utilizam circuitos por satélites e enlaces de micro-ondas.
- D As redes LANs apresentam baixas taxas de transmissão, mas, em compensação, na maior parte do tempo, têm taxa de erro nula.

QUESTÃO 70

Com relação a uma rede de comunicação de dados, assinale a opção que **não** representa uma camada de mídia do modelo (padrão) OSI.

- A aplicações
- B física
- C rede
- D *link* de dados

As questões de **71** a **80** devem ser respondidas com base nas regras previstas do regimento interno do TRE/GO.

QUESTÃO 71

Assinale a opção correta acerca da composição do TRE/GO.

- A Os substitutos dos juízes efetivos do Tribunal são escolhidos mediante a adoção do mesmo processo e correspondem à metade do número de juízes efetivos em cada categoria.
- B No caso de impedimento ou de suspeição de algum dos juízes efetivos, a convocação do substituto pode ser realizada sem que seja obrigatória a substituição pelo juiz substituto da mesma classe do impedido ou suspeito.
- C Os juízes do TRE oriundos da magistratura são sempre escolhidos pelo Tribunal do qual o indicado é oriundo. Assim, no caso do juiz federal, a indicação será feita pelo TRF da 1.ª Região, e, no caso dos desembargadores e dos juízes de direito, a indicação é feita pelo Tribunal de Justiça do Estado.
- D Os dois juízes do TRE que são oriundos da advocacia são nomeados pela OAB.

QUESTÃO 72

Ainda acerca da composição do TRE/GO, assinale a opção correta.

- A Independentemente do período eleitoral, quando ocorrer afastamento de um juiz, por motivo de férias ou licença de suas funções na justiça comum, tal afastamento não se aplica de forma automática às funções da Justiça Eleitoral, sendo necessário que o magistrado interessado faça requerimento nesse sentido, a fim de conjugar seu afastamento nas duas funções.
- B Quando um juiz do TRE/GO for reconduzido, é desnecessária nova posse. Apenas deve ser realizada uma anotação no termo de posse originário do juiz.
- C Em caso de vacância do cargo de juiz do TRE/GO, o juiz substituto que for convocado permanecerá em exercício até o fim do mandato do juiz que se afastou da corte.
- D Como regra, cônjuges, companheiros e parentes não podem ter assento concomitante no tribunal, mas essa regra apenas tem validade quando se trata de juízes indicados pela mesma classe ou categoria de juízes. Desta forma, caso um juiz seja indicado como magistrado oriundo do Tribunal de Justiça do Estado e o seu cônjuge seja indicado como representante dos advogados ou como magistrado oriundo do TRF da 1.ª Região, por exemplo, o impedimento não ocorrerá.

QUESTÃO 73

Assinale a opção correspondente a função dos juízes auxiliares.

- Ⓐ Aprovar a constituição da comissão apuradora das eleições.
- Ⓑ Diplomar os eleitos para os cargos de governador e vice-governador do Estado.
- Ⓒ Julgar denúncias e representações por irregularidades no serviço eleitoral que sejam capazes de comprometer as eleições em razão de abuso de poder econômico.
- Ⓓ Apreciar reclamações ou representações acerca de descumprimento de disposições relativas à propaganda eleitoral irregular, realizada antecipadamente, de forma ostensiva ou dissimulada.

QUESTÃO 74

A competência do TRE/GO pode ser originária ou recursal. Assinale a opção correspondente a hipótese de competência recursal do Tribunal.

- Ⓐ julgamento dos mandados de segurança contra ato do presidente do próprio Tribunal
- Ⓑ julgamento dos recursos interpostos dos atos do presidente da própria Corte que tenha aplicado penalidade disciplinar a servidor do Tribunal
- Ⓒ julgamento do registro e de cancelamento do registro de candidato ao cargo de governador do Estado
- Ⓓ julgamento de *habeas data*, em matéria eleitoral, contra ato de secretário do estado

QUESTÃO 75

Acerca dos atos praticados pelo Corregedor Regional Eleitoral, assinale a opção correta.

- Ⓐ Se a Corregedoria Regional Eleitoral emanar provimentos em matéria administrativa, estes passam a ser vinculantes para os seus servidores, para os juízes e para os servidores das zonas eleitorais.
- Ⓑ O Corregedor pode elaborar e alterar o Regimento Interno da Corregedoria Regional Eleitoral, sem que disso precise prestar contas ao Tribunal.
- Ⓒ Caso o Corregedor esteja impossibilitado de comparecer a uma sessão do Tribunal, por estar realizando uma correição em alguma zona eleitoral, deixa de ter direito à gratificação de presença prevista para aqueles que estão presentes nas sessões.
- Ⓓ Nos deslocamentos do Corregedor, seja naqueles que ocorrerem por determinação do TSE ou do próprio TRE, seja naqueles ocorridos a pedido dos juízes eleitorais, ou de partidos, há uma praxe de que este se faça acompanhar pelo Procurador Regional Eleitoral, mas tal acompanhamento não está previsto regimentalmente, sendo apenas um costume instituído.

QUESTÃO 76

Um promotor eleitoral do estado de Goiás levou ao Procurador Regional Eleitoral uma série de provas de que o prefeito da comarca em que o referido promotor atuava havia cometido crimes eleitorais e crimes comuns conexos àqueles. Foi instaurado um inquérito policial, por requisição do Procurador Regional Eleitoral, e em pouco tempo o inquérito foi relatado com a indicação da real existência de autoria e materialidade dos crimes. Apresentada a denúncia, a ação penal teve início.

Diante dessa situação hipotética, assinale a opção correta acerca dos dados apresentados e do rito que deve ser seguido durante a ação penal por crime eleitoral.

- Ⓐ Se o prefeito estiver preso, o prazo para oferecimento da denúncia é de 5 dias e se estiver solto, de 15 dias.
- Ⓑ Se, no curso da ação penal, o Ministério Público apresentar proposta de suspensão processual, nos termos da Lei n.º 9.099/1995, a audiência para apresentação da proposta ao acusado deve ser realizada pelo juiz eleitoral, e esta após a manifestação do acusado não será devolvida ao Tribunal.
- Ⓒ A situação narrada não apresenta dado que possa indicar a existência de competência originária do TRE/GO.
- Ⓓ Quem deve apresentar a denúncia no caso não é o Procurador Regional Eleitoral, e sim o promotor eleitoral.

QUESTÃO 77

Ainda acerca das regras processuais instituídas pelo Regimento Interno do TRE/GO para o processamento das ações penais por crime eleitoral, assinale a opção correta.

- Ⓐ As intimações nas ações penais por crime eleitoral devem sempre ser feitas pessoalmente, sendo vedada a via postal.
- Ⓑ Ao fim da instrução, na sessão de julgamento, a Procuradoria Regional Eleitoral e a defesa terão prazos sucessivos para sustentação oral. O julgamento terá ampla publicidade, sendo vedada a prática de qualquer ato que importe em restrição da presença do público ao recinto em que estiver sendo realizado o julgamento.
- Ⓒ O recebimento da denúncia é ato praticado pelo Tribunal e não pelo relator isoladamente.
- Ⓓ O interrogatório, por ser ao mesmo tempo meio de prova e de defesa, deve ser realizado pessoalmente pelo relator do caso, sendo indelegável.

QUESTÃO 78

Assinale a opção correta acerca do Procurador Regional Eleitoral que atua perante o TRE/GO.

- Ⓐ O Procurador Regional Eleitoral, da mesma forma que os advogados, não tem a faculdade de pedir preferência para o julgamento de determinados processos.
- Ⓑ O Procurador Regional Eleitoral propõe ações de competência originária do Tribunal e promove, privativamente, a ação penal pública por crime eleitoral.
- Ⓒ O procurador regional eleitoral é escolhido entre um dos membros do Ministério Público do Estado de Goiás, a ele devendo ser dispensado o mesmo tratamento dado aos juízes do tribunal.
- Ⓓ O Procurador Regional Eleitoral será substituído, em caso de impedimento, pelo membro do Ministério Público do Estado de Goiás que for designado para auxiliar o Procurador Regional Eleitoral.

QUESTÃO 79

Duas diferentes juntas eleitorais do estado de Goiás se declararam competentes para solucionar uma impugnação durante os trabalhos de contagem de votos. Como ambas as juntas, mesmo tendo ciência da deliberação uma da outra quanto à competência, não desistiam de continuar os atos de exame das impugnações realizadas, o Ministério Público Eleitoral suscitou conflito de competência perante o TRE/GO.

Com referência a essa situação hipotética, assinale a opção correta.

- Ⓐ O conflito de competência perante o TRE/GO pode ser suscitado por meio de requerimento mediante ofício, conforme o caso, sem necessidade de apresentação de petição formal.
- Ⓑ Os conflitos de competência entre juntas eleitorais, quando positivos, não podem ser suscitados pelo Ministério Público Eleitoral, mas apenas pelas próprias juntas.
- Ⓒ O relator a quem for distribuído e concluso o conflito deve sobrestar imediatamente os processos de impugnação e designar uma terceira junta eleitoral para decidir medidas urgentes e improrrogáveis relativas às demandas em curso que geraram o conflito.
- Ⓓ O Procurador Regional Eleitoral deve ser ouvido no conflito de competência, no prazo de 10 dias e, apenas após emitido o seu parecer, podem os autos serem conclusos ao relator.

QUESTÃO 80

Uma coligação política representou ao Corregedor Regional Eleitoral, antes do ato de diplomação, contra o candidato que se sagrou vencedor nas eleições para governador do Estado. A coligação alegava, para tanto, a prática de assistencialismo voltado à captação ilegal de sufrágio por parte do candidato vencedor durante o pleito eleitoral. Após a autuação da ação e a realização da fase instrutória, foi aberta vista ao Procurador Regional Eleitoral, o qual exarou seu parecer. Os autos foram, então, encaminhados ao presidente do Tribunal com pedido de inclusão do feito em pauta para julgamento na primeira sessão subsequente.

Considerando essa situação hipotética, assinale a opção correta.

- Ⓐ O Procurador Regional Eleitoral só atua nesses casos quando é parte autora da representação.
- Ⓑ A representação deveria ter sido dirigida ao Tribunal, e não ao Corregedor.
- Ⓒ Coligação não tem legitimidade para representar diante da situação narrada, apenas partidos políticos, candidatos ou o Procurador Regional Eleitoral.
- Ⓓ O fato narrado configura caso de ação de investigação judicial eleitoral para apuração de abuso de poder econômico.